

UBND QUẬN LONG BIÊN
TRƯỜNG THCS ĐÔ THỊ VIỆT HÙNG

**NỘI DUNG ÔN TẬP HỌC KỲ I
CÁC BỘ MÔN MÔ HÌNH THM**

Họ tên học sinh:.....

Lớp:.....

Chúc các con học sinh chăm chỉ rèn luyện, ôn tập hiệu quả.

**Kính mong các thầy cô giáo, các bậc phụ huynh động viên,
giúp đỡ để các con học sinh đạt kết quả tốt trong kì thi học kì I**

Giáo viên chủ nhiệm

Phụ huynh học sinh

.....

.....

NĂM HỌC 2017-2018

LỊCH KIỂM TRA HỌC KỲ I NĂM HỌC 2017-2018

Tuần	Thứ	Ngày tháng	Tiết	Khối 6	Khối 7	8A2, 8A4	Khối 8	Khối 9	Ghi chú
17	2	4/12	3	Công nghệ	Công nghệ	Công nghệ	Công nghệ	Công nghệ	- Các môn Nhạc, Thể dục , thi theo thời khóa biểu. từ tuần 16; kết thúc trước ngày 12/12/2017. - Môn Toán -Văn Anh : khối 6,7,8,9 chia thành 20 phòng thi (20 phòng học) - Các tiết không thi học kỳ HS học bình thường theo TKB
	3	5/12	2	GDCD	GDCD	GDCD	GDCD	GDCD	
			3	Mỹ thuật	Mỹ thuật	Mỹ thuật	Mỹ thuật	Mỹ thuật	
	4	6/12	3	Sử	Sử	KHXH	Sử	Sử	
			4						
	5	7/12	3	Địa	Địa	KHTN	Địa	Địa	
			4						
6	8/12	3	Lí	Lí	Học theo TKB	Lí	Lí		
7	9/12	2				Hóa	Hóa		
		3							
18	2	11/12	3	Sinh	Sinh	Học theo TKB	Sinh	Sinh	
	3	12/12	3	Tin	Tin	Tin	Học theo TKB	Học theo TKB	
		Chiều 12/12	4		Tiếng Anh(Nói)				
	4	13/12	1 - 2	Ngữ Văn	Ngữ Văn	Ngữ Văn	Ngữ Văn	Ngữ Văn	
		Chiều 13/12	3-4				Tiếng Anh(Nói) L8A1, 8A2, 8A4, 8A5		
	5	14/12	1 - 2	Toán	Toán	Toán	Toán	Toán	
	6	15/12	2	Tiếng Anh	Tiếng Anh	Tiếng Anh	Tiếng Anh	Tiếng Anh	
7	16/12	1-4	Tiếng Anh(Nói)	Tiếng Anh(Nói)	Tiếng Anh(Nói)	Tiếng Anh(Nói) L8a3	Học theo TKB		

Ghi chú:

- Các con học sinh làm đề cương ôn tập vào chung một quyển vở, ghi rõ từng môn. Riêng môn Tiếng Anh, phần trắc nghiệm, làm vào phần để trống trong quyển nội dung đề cương. Cuối đề cương mỗi môn có phần kiểm tra của thầy cô giáo bộ môn. Thầy cô giáo chủ nhiệm và cha mẹ học sinh kiểm tra toàn bộ đề cương ôn tập các môn của học sinh trong lớp.

- Các tiết không thi học kỳ HS học bình thường theo TKB

DUYỆT CỦA BAN GIÁM HIỆU

MÔ HÌNH TRƯỜNG HỌC MỚI

1. MÔN TOÁN

I. LÝ THUYẾT

1. Đại số

- Các câu hỏi ôn tập chương I (SHD trang 40)
- Các câu hỏi ôn tập chương II (SHD trang 78)

2. Hình học

- Các câu hỏi ôn tập chương I (SHD trang 150, 151)
- Các câu hỏi ôn tập chương II (SHD trang 192, 193)

II. BÀI TẬP THAM KHẢO

Dạng 1: Rút gọn các biểu thức đại số

Bài 1. Rút gọn

- a) $(x-3)(x+7) - (x+5)(x-1)$ b) $(x+8)^2 - 2(x+8)(x-2) + (x-2)^2$
c) $x^2(x-4)(x+4) - (x^2+1)(x^2-1)$ d) $(x+1)(x^2-x+1) - (x-1)(x^2+x+1)$

Bài 2. Chứng minh các biểu thức sau không phụ thuộc vào giá trị của biến

- a) $x(5x-3) - x^2(x-1) + x(x^2-6x) + 3x - 10$
b) $(2x+1)x - x^2(x+2) + x^3 - x + 3$
c) $5x(x^2-7x+2) - x^2(5x-8) + 27x^2 - 10x + 2$
d) $(x+2)^3 + (x-2)^3 - 2x(x^2+12)$

Dạng 2: Phân tích đa thức thành nhân tử

Bài 3. Phân tích các đa thức sau thành nhân tử

- a) $12x^3y - 24x^2y^2 + 12xy^3$ b) $x^2 - 6x + xy - 6y$
c) $x^2 - 6xy + 9y^2 - 25z^2$ d) $3x^2 - 7x + 2$
e) $x^4 + 8x^2 - 9$ f) $x^2 - 7xy + 10y^2$
g) $(x^2+x)^2 - (x^2+x) - 2$ h) $(x+1)(x+2)(x+3)(x+4) - 3$

Dạng 3: Tìm x

Bài 4. Tìm x

- a) $x^2 - 25 - (x-5) = 0$ b) $x^2(x^2+4) - x^2 - 4 = 0$
c) $(2x-1)^2 - (4x^2-1) = 0$ d) $3x(x+1) - 2x(x+2) = -1 - x$
e) $3(2x-1) - 5(x-3) + 6(3x-4) = 24$ f) $x^3 - 5x^2 + x - 5 = 0$
g) $(x^2+x)(x^2+x+1) = 0$ h) $(x^2-4x)^2 - 8(x^2-4x) + 15 = 0$

Dạng 4: Chia đa thức một biến đã sắp xếp

Bài 5.

- a) Cho đa thức $A(x) = x^4 + x^3 + 3x^2 + 2x + 2$ và $B(x) = x + 1$. Tìm số dư của phép chia $A(x)$ cho $B(x)$
b) Tìm n để đa thức $n^3 - 2n^2 + 3n + 3$ chia hết cho đa thức $n - 1$
c) Tìm m để $A(x) = 3x^2 + mx + 27$ chia cho $B(x) = x + 5$ có số dư bằng 2

Dạng 5: Rút gọn các phân thức đại số.**Bài 6. Rút gọn**

$$\begin{array}{lll} \text{a)} \frac{15x^2y(x-2y)^2}{35x^3y^2} & \text{b)} \frac{(2x+3)^2 - x^2}{x^2 - 1} & \text{c)} \frac{10xy^2(2x-1)^3}{12x^3y(1-2x)} \\ \text{d)} \frac{8-(x-1)^3}{x-3} & \text{e)} \frac{x^3-3x^2-x+3}{x^2-3x} & \text{f)} \frac{(2x+3)^2 + 2(4x^2-9) + (2x-3)^2}{(2x-3)^2 - 2(4x^2-9) + (2x+3)^2} \end{array}$$

Dạng 6: Cộng, trừ các phân thức đại số**Bài 7. Tính**

$$\begin{array}{ll} \text{a)} \frac{2x}{x^2+2xy} + \frac{y}{xy-2y^2} + \frac{4}{x^2-4y^2} & \text{b)} \frac{4x^2-3x+5}{x^3-1} - \frac{1-2x}{x^2+x+1} - \frac{6}{x-1} \\ \text{c)} \frac{5}{2x-3} + \frac{2}{2x+3} + \frac{2x-33}{4x^2-9} & \text{d)} \frac{x}{x-1} - \frac{2}{x+1} - \frac{2}{x^2-1} \\ \text{e)} \frac{1}{x^3-x} - \frac{1}{x(x-1)} + \frac{2}{x^2-1} & \text{f)} \frac{x+7}{x^2-x-6} + \frac{x+10}{x^2-x-2} + \frac{x-7}{x^2-4x+3} \end{array}$$

Dạng 7: Các bài toán mở rộng**Bài 8.**

1) Cho x, y thỏa mãn điều kiện $\begin{cases} x+y=3 \\ xy=-10 \end{cases}$

Hãy tính giá trị của các biểu thức sau

$$\text{a)} A = x^2 - 2xy + y^2 \quad \text{b)} B = x^2 + y^2 \quad \text{c)} C = x^3 + y^3$$

2) Tìm A, B để

$$\text{a)} \frac{4x-7}{x^2-3x+2} = \frac{A}{x-1} + \frac{B}{x-2} \quad \text{b)} \frac{x^2+2x-1}{(x-1)(x^2+1)} = \frac{A}{x-1} + \frac{Bx+C}{x^2+1}$$

3) Tìm GTLN, GTNN (nếu có)

$$\text{a)} A = x^2 + x + 1 \quad \text{b)} B = -2x^2 + 6x - 5$$

$$\text{c)} C = x^2 + y^2 - 2x + 6y + 12 \quad \text{d)} D = \frac{2x^2 + 6x + 6}{x^2 + 4x + 5}$$

4) a) Cho $\frac{1}{a} + \frac{1}{b} + \frac{1}{c} = 0$. CMR: $\frac{bc}{a^2} + \frac{ca}{b^2} + \frac{ab}{c^2} = 3$

b) Cho $\frac{a}{b+c} + \frac{b}{c+a} + \frac{c}{a+b} = 1$. CMR: $\frac{a^2}{b+c} + \frac{b^2}{c+a} + \frac{c^2}{a+b} = 0$

Dạng 8: Các bài toán về hình bình hành, hình chữ nhật, hình thoi, hình vuông. Diện tích đa giác. Các bài toán liên hệ thực tế.

Bài 9. Cho hình bình hành ABCD. Gọi E, F lần lượt là trung điểm của AB và CD.

- a) CM: AF // CE.
b) CM: AF và CE chia đường chéo BD thành ba phần bằng nhau.

Bài 10. Cho hình thoi ABCD. Gọi O là giao điểm của hai đường chéo AC và BD. Đường thẳng qua O không song song với AD cắt AB tại M và CD tại N.

- a) CMR: $\Delta AOM = \Delta CON$.

b) CM: AMCN là hình bình hành.

Bài 11. Cho ΔABC vuông tại A có đường trung tuyến AM. Gọi D là trung điểm của AB, E là điểm đối xứng với M qua D.

a) CM: AEBM là hình thoi.

b) Gọi I là trung điểm của AM. CM: E, I, C thẳng hàng.

c) ΔABC cần có thêm điều kiện gì để AEBM là hình vuông.

Bài 12. Cho hình thang ABCD ($AB \parallel CD$). Gọi E là trung điểm của AB, F là trung điểm của CD, O là trung điểm của EF. Qua O kẻ đường thẳng song song với CD, cắt AD và BC theo thứ tự tại M, N.

a) CM: M là trung điểm của AD, N là trung điểm của BC.

b) CM: $OM = ON$.

c) Tứ giác EMFN là hình gì?

Bài 13. Cho hình thoi ABCD có hai đường chéo cắt nhau tại O. Trên tia đối của tia BA lấy điểm E sao cho $BE = BA$. Nối ED cắt AC tại I và BC tại F.

a) CM: $ID = 2IF$.

b) Nối EO cắt BC ở G, đường thẳng OF cắt BC tại H. CM: A, G, H thẳng hàng.

c) Biết $\angle BAD = 60^\circ$, $AB = a$. Tính diện tích hình thoi ABCD theo a.

Bài 14.

a) Tính diện tích của tam giác vuông cân biết cạnh huyền bằng 4.

b) Tính độ dài đường cao của tam giác vuông biết hai cạnh góc vuông lần lượt có độ dài là 6cm, 8cm.

c) Hai đường chéo của một hình thang vuông góc với nhau và có độ dài là 3,6cm và 6cm. Tính diện tích của hình thang đó.

Bài 15.

Hai làng A và B ở hai phía khác nhau của một con sông có hai bờ song song. Cần bắc một cây cầu để hai làng đi qua lại. Hỏi phải bắc cầu ở vị trí nào để đường đi giữa hai làng là ngắn nhất?

2. MÔN NGỮ VĂN

A. Văn học:

I. Truyện:

1. Tóm tắt và cho biết tên tác giả, thể loại, phương thức biểu đạt, ngôi kể của một số văn bản sau:

a. Lão Hạc

c. Chiếc lá cuối cùng

b. Tức nước vỡ bờ

d. Cô bé bán diêm

e. Trong lòng mẹ

2. Từ các văn bản kể trên liên hệ thực tế về lòng nhân ái, tình yêu thương con người,...

3. Cảm nhận về một số hình ảnh chi tiết hay trong các văn bản kể trên

II. Thơ:

1. Thuộc bài thơ “Đập đá ở Côn Lôn”, “Ông đồ”

2. Nêu xuất xứ, hoàn cảnh ra đời của bài thơ

3. Thể thơ, những biện pháp tu từ được sử dụng và tác dụng của các biện pháp tu từ đó

III. Một số bài tập tham khảo:

a. Hình ảnh "ngọn lửa" trong "Cô bé bán diêm".

b. Tại sao "Chiếc lá cuối cùng" lại được gọi là kiệt tác?

c. Cảm nhận về đoạn văn miêu tả hình ảnh Lão Hạc khi kể chuyện bán chó: "*Mặt lão co rúm lại... Lão hu hu khóc.*"

d. Đoạn văn miêu tả chi tiết chị Dậu đánh nhau với tên cai lệ là tuyệt khéo? Vì Sao?

e. Cho đoạn văn: "*Phải bé lại và lặn vào lòng mẹ... êm dịu vô cùng.*"

Đoạn văn trên đã diễn tả cảm xúc của Hồng với ai? Cảm xúc đó như thế nào? Cái hay của đoạn văn?

g. Chép nguyên văn bài thơ: Đập đá ở Côn Lôn

- Cho biết hoàn cảnh ra đời của bài thơ?

- Nêu tác giả và giới thiệu nét nổi bật nhất về tác giả?

- Giới thiệu sơ lược về thể thơ mà tác giả sử dụng trong bài thơ?

- Nét nổi bật nhất về nghệ thuật của bài thơ là gì? Điều đó có ảnh hưởng như thế nào tới nội dung và tư tưởng của tác giả trong bài thơ?

- Hãy nêu cảm nhận về 2 câu thơ cuối bài thơ “ Đập đá ở Côn Lôn”?

h. Hãy nêu cảm nhận về 2 câu thơ: “*Giấy đỏ buồn không thấm/ Mực đọng trong nghiên sâu.*” (Ông đồ - Vũ Đình Liên)

B. Tiếng Việt:

1. Từ tượng hình, từ tượng thanh

2. Trợ từ, thán từ

3. Tình thái từ

4. Nói quá

5. Nói giảm, nói tránh

6. Câu ghép

* Yêu cầu:

- Học thuộc khái niệm, phân loại (Nếu có), tác dụng

- Vận dụng làm bài tập phát hiện, phân tích tác dụng, viết đoạn văn, đặt câu

C. Tập làm văn:

ĐỀ 1: Kể một lần em mắc khuyết điểm khiến thầy, cô giáo buồn.

ĐỀ 3: Thuyết minh về chiếc áo dài Việt Nam.

ĐỀ 4: Thuyết minh về một thứ đồ dùng (Cái phích nước, chiếc kính đeo mắt hay một chiếc bút bi...)

ĐỀ 5: Thuyết minh về một loài hoa mà em yêu thích.

3. MÔN CÔNG NGHỆ

Câu 1: Thế nào là phép chiếu vuông góc? Phép chiếu vuông góc được dùng làm gì?

Câu 2: Thế nào là ren ngoài, ren trong? Nêu quy ước vẽ ren ngoài, ren trong?

Câu 3: Vai trò của cơ khí trong sản xuất và đời sống ? Kể tên các máy móc, thiết bị là sản phẩm của cơ khí sử dụng trong sinh hoạt gia đình ?

Câu 4: Thế nào là kim loại đen ? Đặc điểm chung của kim loại đen là gì ? Người ta thường sơn các kết cấu công trình hoặc chi tiết làm bằng thép với mục đích chủ yếu là gì ?

Câu 5: Thế nào là mối ghép cố định ? So sánh mối ghép tháo được và mối ghép không tháo được ?

Câu 6: Tại sao máy móc thiết bị cần có cơ cấu truyền và biến đổi chuyển động ? Kể tên và nêu đặc điểm một số cơ cấu truyền chuyển động ?

Câu 7: Kể tên 3 dụng cụ, thiết bị điện và nêu tên một số bộ phận làm bằng vật liệu dẫn điện, vật liệu cách điện trong các dụng cụ đó ?

4. MÔN TIN HỌC

Câu 1: Màn hình scratch gồm các thành phần nào? Nêu ý nghĩa của các thành phần đó?

Câu 2: Hãy nêu các bước chọn nhân vật mới để đưa vào sân khấu?

Câu 3: Hãy nêu ý nghĩa của nhóm lệnh Motion, Sound, Pen, Events, Control.

Câu 4: Tìm hiểu cách điều khiển nhân vật vẽ một số hình em đã biết.

Câu 5: Tìm hiểu cách mô phỏng chuyển động trong thực tế.

Câu 6: Tìm hiểu hội thoại giữa người – máy, hội thoại và truyền tin

Câu 7: Tìm hiểu về cảm biến màu sắc, cảm biến va chạm, cảm biến chuột.

5. MÔN GDCD

Nội dung ôn tập:

Bài 4: Tình hữu nghị giữa các dân tộc

Bài 5: Tuân thủ luật

- Yêu cầu :

+ Lý thuyết : Học sinh học toàn bộ nội dung bài học.

+ Bài tập : Học sinh làm bài tập trong sách hướng dẫn học

6. MÔN KHTN

I. Lý thuyết

1, Tính chất vật lí, tính chất hoá học và ứng dụng của hiđro

2, Phản ứng thế

3, Nguyên liệu, phương pháp điều chế, cách thu khí hiđro

4, Khái niệm, cách gọi tên Oxit

5, Tính chất vật lí, tính chất hoá học và thành phần của nước

6, Dung môi, chất tan, dung dịch, dung dịch bão hoà, dung dịch chưa bão hoà

7, Các biện pháp để quá trình hoà tan chất rắn xảy ra nhanh hơn

8, Chất tan, chất không tan, độ tan, những yếu tố ảnh hưởng đến độ tan

9, Nồng độ phần trăm và nồng độ mol/lit của dung dịch

10, Môi trường là gì? có mấy loại môi trường? Nhân tố sinh thái là gì? có mấy loại nhân tố sinh thái?

11, Tác động của ánh sáng, nhiệt độ, độ ẩm lên đời sống của sinh vật?

12, Các sinh vật cùng loài và khác loài có mối quan hệ với nhau như thế nào? Cho VD?

13, Công thức tính áp suất, áp suất chất lỏng.

14, Công thức tính lực đẩy Acsimet. Điều kiện vật nổi, vật chìm.

15, Công thức tính công và công suất. Phát biểu định luật về công.

II. Bài tập

Các bài tập: C.3,C.4(Trang 146); D.3(Trang 154); C.1, C.2, C.3, C.5,C.6,C.7(Trang 161), C.2(Trang 166)

Bài 1: Vẽ sơ đồ mô tả giới hạn sinh thái của loài cá chép có nhiệt độ giới hạn từ $0^{\circ}\text{C} \rightarrow +49^{\circ}\text{C}$ trong đó điểm cực thuận là 30°C .

Bài 2: Vẽ sơ đồ mô tả giới hạn sinh thái của loài xương rồng có nhiệt độ giới hạn từ $0^{\circ}\text{C} \rightarrow +65^{\circ}\text{C}$ trong đó điểm cực thuận là 35°C .

Bài 3. Viết PTHH :

Cho H₂ pư lần lượt với : CuO, FeO, Fe₂O₃, Fe₃O₄, ZnO, HgO, PbO, O₂.


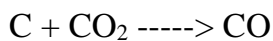
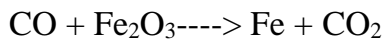

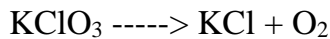
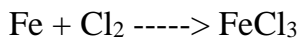
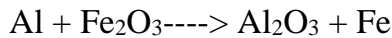
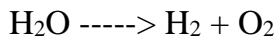
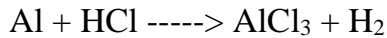
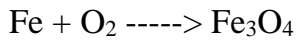
Cho HCl , H₂SO₄ pư lần lượt với Mg, Al, Zn, Fe, Ca, Na

Bài 4. Có 3,36 lít khí H₂ (đktc)

Với lượng khí H₂ này có thể khử hết bao nhiêu gam : CuO, Fe₂O₃

Tính khối lượng kim loại thu được trong mỗi trường hợp

Bài 5: Cân bằng các phản ứng dưới đây và cho biết các phản ứng đó thuộc loại phản ứng gì ?



Bài 6 : Hòa tan 10g đường vào 40g nước. Tính nồng độ phần trăm của dung dịch thu được.

Bài 7: Hòa tan 6.5g kẽm cần vừa đủ Vml dd HCl 2M

A, Viết phương trình phản ứng

B, Tính V

C, Tính thể tích khí thu được ở đktc

D, Tính khối lượng muối tạo thành sau phản ứng

E, Tính nồng độ mol của dung dịch sau phản ứng? (coi thể tích dd không thay đổi)

Bài 8: Tính khối lượng của H₂SO₄ có trong 50ml dd H₂SO₄ 2M

Bài 9: Hòa tan 4,8g Mg cần vừa đủ 200g dd HCl vừa đủ

A, Viết phương trình phản ứng?

B, Tính nồng độ phần trăm của dd HCl đã phản ứng?

C, Tính thể tích khí thu được ở đktc

D, Tính khối lượng các chất tạo thành sau phản ứng

E, Tính nồng độ phần trăm của dung dịch sau phản ứng?

Bài 10: Vì sao trước khi luộc rau muống cần cho thêm một ít muối ăn NaCl?

Bài 11: Hãy giải thích hiện tượng và nêu giải pháp để hạn chế hiện tượng ù tai khi đi máy bay lúc mới cất cánh

Bài 12:

a. Một cần cẩu nâng một tấm bê tông có khối lượng 1,2 tấn đi lên đều đặn một đoạn 5 mét trong thời gian 30 giây. Tính công mà động cơ cần trục đã thực hiện và công suất của nó.

b. Một đầu tàu hỏa kéo toa tàu chuyển động đều với lực kéo là 5000N. Trong 5 phút đã thực hiện được một công là 1200kJ. Tính vận tốc của đoàn tàu.

Bài 13:Đặt một bao gạo 60kg lên một cái ghế bốn chân có khối lượng 4 kg. Diện tích tiếp xúc với mặt đất của mỗi chân ghế là 8cm² . Tính áp suất các chân ghế tác dụng lên mặt đất.

7. MÔN KHXH

CHỦ ĐỀ - ĐỊA LÍ

1. Trắc nghiệm: Nội dung ôn các bài:

Bài 12: Khu vực Tây Nam Á và Nam Á

Bài 14: Kinh tế châu Á

2. Tự luận

Câu 1. Vẽ biểu đồ thể hiện cơ cấu kinh tế của một số quốc gia ở châu Á và nhận xét.

Câu 2: Trình bày vị trí địa lí và ý nghĩa của vị trí địa lí của khu vực Tây Nam Á?

Câu 3: Trình bày đặc điểm tự nhiên của khu vực Nam Á?

CHỦ ĐỀ - LỊCH SỬ

1. Trắc nghiệm: Nội dung ôn các bài:

Bài 3: Cách mạng công nghiệp

Bài 5: Các nước châu Á trước nguy cơ xâm lược từ các nước tư bản phương Tây

2. Tự luận

Câu 1: Kể tên các cuộc cách mạng tư sản Âu – Mĩ thế kỉ XVII-XVIII? Cuộc cách mạng nào là triệt để nhất? Vì sao?

Câu 2: Kể tên các nước Đông Nam Á. Vì sao các nước Đông Nam Á trở thành đối tượng xâm lược của các nước tư bản phương Tây? Trình bày quá trình xâm lược của tư bản phương Tây đối với các nước Đông Nam Á? Hãy liên hệ với tình hình Đông Nam Á ngày nay?

Câu 3: Tại sao trong năm 1917 ở nước Nga lại diễn ra hai cuộc cách mạng? Đó là những cuộc cách mạng nào? Kết quả và ý nghĩa lịch sử của cuộc Cách mạng Tháng Mười Nga.

8. MÔN TIẾNG ANH

PART I: LANGUAGE FOCUS.

From Unit 1 to Unit 6

1. Topic:

- Leisure activities.
- Life in the country.
- Peoples of Viet Nam
- Our customs and traditions.
- Festivals in Viet Nam.
- Folk tales.

2. Phonetics:

- Clusters: /br/ and /pr/
- Clusters: /bl/, /cl/
- Clusters: /sk/, /sp/ and /st/
- Clusters: /spr/ and /str/
- Stress of words ending in -ion and -ian

3. Grammar:

- Verbs of liking + Gerunds / to-infinitive.
- Comparative forms of adjectives/ adverbs.
- Some uses of articles.
- Question words.
- Should/ shouldn't/ have to.
- Past simple tense/ Past Continuous Tense.

- Simple sentences / Compound sentences / Complex sentences.

4. Vocabulary:

- Words related to leisure activities
- Words related to life in the country / Peoples in Viet Nam/ Our customs and traditions/ Festivals in Viet Nam/ Folk Tales.

5. Skills:

- Talking about leisure activities, life in the country, Peoples of Viet Nam. The traditions and customs in Viet Nam and around the world, festivals in Viet Nam and the folk tales.
- Writing about traditional dance, changes in the countryside, ...
- Narrating a legend/ folk tale / fairy tale/ fable...

PART II: PRACTICE EXERCISES.

I. Decide the word which has different sound in the part underlined.

1. A. present B. apricot C. broccoli D. princess
2. A. spring B. stripe C. strict D. newsprint
3. A. espresso B. pedestrian C. incense D. reflect
4. A. wicked B. satisfied C. obliged D. gathered
5. A. education B. question C. pollution D. collection

II. Choose the word with different stress pattern:

1. A. vegetarian B. librarian C. independent D. preservation
2. A. festival B. legendary C. formation D. generous
3. A. consideration B. multicultural C. recognition D. anniversary
4. A. politician B. procession C. respectful D. communicate
5. A. carnival B. tortoise C. compliment D. invader
6. A. diversity B. historian C. scenery D. minority
7. A. companion B. generation C. nomadic D. commemorate
8. A. ceremony B. speciality C. woodcutter D. fortune
9. A. dragon B. eagle C. custom D. accept
10. A. tradition B. festival C. emperor D. motherland

III. Choose the correct option for each gap to complete the sentences.

1. Lang Lieu couldn't buy any special food____he was very poor. (A. although/ B. when / C. while /D. because)
2. The toad was very_____ because he tried to find way to the heaven to sue God. (A.brave/ B. kind / C. generous / D. mean)
3. Ali Baba was very_____when he also used the words "Open sesame" to enter the cave of treasures. (A.wise/ B. cunning/ C. kind/ D. evil)
4. The Mountain Spirits (Son tinh) was very_____, but the Sea Spirit (Thuy Tinh) was _____. (A.gentle-wise/ B. Fierce-gentle/ C. Gentle-fierce/ D.wicked-ugly)
5. Nam studies Maths a little bit _____. (A. bad /B. badly /C. good /D. smartly)
6. It is the _____for Australians to eat with their fingers at barbecues or picnics outside the home. (A.habit/ B.belief / C.custom/ D. tradition)
7. _____you take the fruit, you should think of the growers. (A. Although/ B.However/ C.When /D. While)
8. The girl was crying when a fairy_____. (A. appears/ B. was appearing/ C. appeared/ D. is appearing)
9. Saint *Giong* was unable to talk, smile, or walk _____he was three years old. (A. even though/ B. because/ C. while/D. if)

10. _____does Hoa Ban festival take place?- In Lai Chau (A. What /B. When /C. How /D. Where)
11. It is typical of the cultural life of_____Thai people. (A. some /B. a /C. the /D. x)
12. The Viet people have many_____customs and crafts. (A. tradition /B. traditional /C. culture /D. customary)
13. Do you fancy_____around the West Lake with me this Sunday morning? (A. having /B.staying / C. moving/ D. going)
14. _____ nice the weather is today! (A. What / B. That / C. Which/ D. How)
15. The charity organization helped to provide food and clean water for the victims of th earthquake. _____, it trained health workers and supplied medicines. (A. Moreover / B. However / C. Nevertheless/ D. Otherwise)
16. The _____ of *quan ho* singing has been recognized as a world heritage. (A. preservation/ B. procession/ C. song/ D. performance)
17. It's a rule, so everyone _____strictly follow it. (A. doesn't have to/ B. shouldn't/ C. has to/ D. should)
18. While I_____ the performance, I met one of my old friends. (A. watched/ B. was watching/ C. watch /D. am watching)
19. Most of my friends prefer detective stories_____ cartoons. (A. than/ B. from/ C. to /D. as)
20. According to tradition, you _____ sweep the floor on the first day of Tet. (A. should / B. shouldn't / C. have to / D. don't have to)

IV. Find and correct errors.

1. Because he was old, he tried to climb up Yen Tu Mountain.
A B C D
2. We could run around the fields and shout out without disturb anybody
A B C D
3. The Muong ethnic people in Cuc Phuong live mainly in farming and bee keeping.
A B C D
4. Minh speaks English more fluently in the science class.
A B C D
5. I asked actress when the play would start, and she said seven thirty.
A B C D
6. In Australia, you mustn't to comment on a person's accent.
A B C D
7. In my family, children has to get permission before leaving the dining table.
A B C D
8. When I came, the whole family is having dinner around a big mat.
A B C D
9. Lang Lieu couldn't buy any special food while he was very poor.
A B C D
10. People should wear short shorts and tank tops. This is disrespectful.
A B C D

V. Combine each pair of sentences to make one sentence, using the words given in brackets.

1. The Hung King Temple Festival was a local festival. It has become a public holiday in Viet Nam since 2007.(however)

2. At the Mid-Autumn Festival, kids can sing, dance, and enjoy moon-cakes. Every child likes it very much.(therefore)
3. We don't celebrate the festival. It costs too much money. (If)
4. Most people book tickets long in advance. They cannot return home for Tet. (otherwise)
5. Children like Tet because it's a long holiday. They can also receive lucky money. (moreover)
6. The buffalo-fighting Festival sounds frightening. Many people come to enjoy it. (Although)
7. The Hung King Temple Festival was a local festival. It has become a public holiday in Vietnam since 2007. (nevertheless)
8. The tortoise was running. The hare was sleeping. (While)
9. The girl worked hard. Her stepmother wasn't happy. (Although)
10. The Buffalo- fighting Festival took place in Do Son last Saturday. There were so many people. (Because)

VI. Fill in the blank with the appropriate form of the word in brackets:

1. It is very.....for people in remote areas to get to hospitals. (CONVENIENT)
2. My sister doesn't like surfing the Internet, she says it is.....(BORE)
3. Our family has lived.....in the country than in the town since last year. (HAPPY)
4. The.....have a very hard life. They can not live permanently in one place. (NOMADIC)
- 5.The Tay people live mostly in theregions in the north of Viet Nam (MOUNTAIN)
6. Have you ever a buffalo? (RIDE)
7. The festival shows our love for the motherland and theof our cultural heritage. (PRESERVE)
8. Emperor Hung Vuongthat the prince who made the most delicious food would become the new emperor. (ANNOUNCEMENT)
9. British people enjoyabout house price and education. (DISCUSS)
10. During the festival, people participate in many goodwill (ACTIVE)

VII. Rearrange the words / phrases given to make sentences.

1. teenagers / on / Nowadays / more / past / rely / the / than / technology/ in ./
2. a / life / We / from / people / : / live / different / other / a nomadic life / many ./
3. long / Even though / interesting/ fable / is / easy / the / to / is / and / read / ,it/ ./
4. family / broke / spending / The / the/ with / whole / New Year's Eve/ tradition / by/ abroad ./
5. lunar / Vu Lan / from / on / day / takes / seventh / the / place / of / 15th / month ./
6. of / have/ lot / in / A / countries / tradition / of / the / ancestors / world / worshipping / the / their ./
7. people / seem / more / to / than / City / react / quickly /to/ people / changes / country/ ./
8. making / are / crafts / such / Hobbies / fun / collecting / or / as / things ./
9. Tet/ to show/Vietnamese people/ respect/ to / their /ancestors /often / during/ burn incenses.
10. your health/the computer/ as / Using/ can be/ both/ and your social life/ your hobby /harmful to.

VIII. Write the full sentences, using the words given

1. This / festival / hold / worship / Hung Kings / who / be / founders / also / first / emperors / nation.
2. Ethnic people / mountain / regions/ live / simple / people / in / city.
3. There / a/ tradition/ in/ our school / girls / wear /ao dai / the first day / school.
4. We / celebrate / grandparent/ wedding / anniversary / first/ Sunday / October.
5. Le Mat Snake / Village / be / history/ village.

6. At/ Mid-Autumn/ Festival / children / carry / beautiful / lanterns / so / it / be/ memorable / childhood / experience.

7. When / prince / see/ Cinderella / the party / she / wear / beautiful / gown.

8. While / hare / sleep / tortoise / run / the / finish / fast / he / can.

IX. Finish each of the following sentences in such a way that it is as similar as possible in meaning to the original sentences. Use the word given and other words as necessary.

- | | |
|---|-----------|
| 1. I'm obliged to finish the letter before midday. | HAVE |
| 2. You are not allowed to leave the room without permission. | MUSTN'T |
| 3. It's a good idea to follow the customs and traditions. | SHOULD |
| 4. It isn't necessary for you to take a thick coat. | DON'T |
| 5. It's not a good idea to leave a child unsupervised. | SHOULDN'T |
| 6. Technology has benefited humankind enormously; however, there are drawbacks with our reliance on it. | ALTHOUGH |
| 7. You had better watch other people first, and then follow them. | ADVISED |
| 8. It is forbidden for passengers to pass beyond this point. | NOT |

X. Choose the correct word for each blank in the following passage.

Spring is a time when there are many festivals in our country. Among them, Hoa Ban Festival is the most beautiful and interesting and it takes place in Lai Chau. It is typical of the (1).....life of the Thai people. In the second lunar month of the year, when it (2)warmer and *hoa ban* - a kind of beautiful flower in the northwest mountainous area - blossoms, Hoa Ban Festival is (3)..... This is a great time for everyone, (4) for boys and girls. The boy (4)..... the most beautiful flower and gives it to his girlfriend. This is not only a time for love but also for the Thai people to (5).....for good crops, for happiness, and express their special thanks to the Gods and (6) The festival is always full of songs and prayers.

- | | | | |
|---------------|---------------|--------------|---------------|
| 1. A .minor | B. cultural | C. custom | D. festival |
| 2. A. gets | B. goes | C. comes | D. runs |
| 3. A. seen | B. arranged | C. observed | D. celebrated |
| 4. A. largely | B. especially | C. generally | D. typically |
| 5. A. ask | B. look | C. pray | D. call |
| 6. A. fathers | B. relatives | C. families | D. ancestors |

XI. Read the fairy tale Cinderella and do the tasks below.

Once upon a time there was a young girl called Cinderella. Cinderella was living happily with her family when her mother died. Her father married an evil widow with two daughters. Cinderella's stepmother and two stepsisters mistreated her. She had to wear old clothes and work hard while the sisters wore fancy clothes and had fun. A good witch helped Cinderella. She turned Cinderella's old dress into a beautiful gown. Cinderella went to a party and a handsome prince politely invited her to dance with him. He fell in love with her and wanted to find out who she was. Cinderella left the party in a hurry and didn't tell the prince her name. but she left a glass slipper, and the prince used that to find her. They got married and lived happily ever after.

a. Answer true (T) or false (F).

	True	False
a. Cinderella was living happily with her family when her mother died.		
b. Her father married a kind woman.		
c. Her stepmother and two stepsisters were very kind to her.		
d. The prince got married to the girl who fitted the left glass slipper.		

b. Answer the questions.

1. What did Cinderella’s father do when his wife died?
2. How did Cinderella’s stepmother and two stepsisters treat her?
3. Who turned Cinderella’s old clothes into a beautiful gown?
4. What did the prince use to find Cinderella?
5. What happened in the end?

XII. Write a summary about your favourite fairy tale (about 70- 90 words).

- Title
- Main characters
- Plot: beginning – middle – end

XIII. Write a short paragraph about the changes in a rural area (about 70- 90 words).

(Lưu ý: Phần viết luận học sinh làm ra vở)

NỘI DUNG BÀI THI NÓI

ENGLISH 8

TOPICS FROM UNIT 1 TO UNIT 6

TOPICS	CONTENT	QUESTIONS
<p>1. TALK ABOUT YOUR LEISURE ACTIVITIES</p>	<ul style="list-style-type: none"> - Talk about names of activity in your free and who you do with. - Talk about “good” and “bad” sides of leisure activities. - Talk about your feelings, your future plans - ... 	<p>1. What don’t you like doing in your free time? Why?</p>
<p>2. TALK ABOUT LIFE IN THE COUNTRYSIDE</p>	<ul style="list-style-type: none"> - Talk about what you like about life in the countryside. - Talk about what you dislike about life in the countryside. - Talk about some changes in the countryside. - ... 	<p>1. Where do you like to live? In a countryside or in the city? 2. Why? 3. Are the changes in the countryside good or bad?</p>
<p>3. TALK ABOUT YOUR OWN ETHNIC GROUP</p>	<ul style="list-style-type: none"> - Talk about the name of the ethnic group. - Talk about their accommodation, their jobs, their language, their customs... - ... 	<p>1. How many ethnic groups are there in Viet Nam? 2. Which ethnic group has the largest population? 3. Where do the ethnic minorities mainly live?</p>
<p>4. TALK ABOUT YOUR FAMILY CUSTOMS AND TRADITIONS</p>	<ul style="list-style-type: none"> - Talk about some customs and traditions in your family. - Talk about the importance of these customs and traditions. - Your feelings when following these customs and traditions. - ... 	<p>1. What are the customs and traditions in your family that you like most? 2. Why is it important to continue family customs and traditions?</p>

<p>5. TALK ABOUT A FESTIVAL IN YOUR HOMETOWN</p>	<ul style="list-style-type: none"> - Name of the festival. - Where it is held. - When it is held. - Who is worshipped in this festival? - The activities in the festival. - Your feelings - ... 	<ol style="list-style-type: none"> 1. How often do you go to a festival? 2. Do you think that the festivals are important for Vietnamese? 3. Why?
<p>6. NARRATE A LEGEND/ FAIRY TALE / FOLK TALE/ FABLE YOU KNOW.</p>	<ul style="list-style-type: none"> - Talk about the name of the legend/ fairy tale/ ... - Talk about its plot: beginning / middle / end. - Your feelings -... 	<ol style="list-style-type: none"> 1 Do you like Vietnamese folk tales or foreign ones? 2. Why? 3. Do you like to watch it or read it? 4. Which character in fairy tales do you like most? Why?

9. MÔN THỂ DỤC

- Biết cách đá cầu cao chân chính diện bằng mu bàn chân 3 quả .

10. MÔN ÂM NHẠC

1.Hát: gồm các bài + Mùa thu ngày khai trường
+ Lí đĩa bánh bò
+ Tuổi hồng
+ Hồ ba lí

2. Tập đọc nhạc: gồm các bài:
+ TĐN số 1 - Chiếc đèn ông sao
+ TĐN số 2 - Trở về Su – ri – en- tô
+ TĐN số 3 - Hãy hát, chú chim nhỏ hay hát
+ TĐN số 4 - Chim hát đầu xuân

11. MÔN MĨ THUẬT

1/Xem lại tất cả các bài trang trí trong chương trình Mĩ Thuật 8 học kì I :

+ Bài 1 /SGK (Trang 79) : Trang trí quạt giấy.
+ Bài 4/ SGK (Trang 90) : Tạo dáng và trang trí chậu cảnh.
+ Bài 7/ SGK (Trang 98) : Vẽ tĩnh vật (Vẽ hình)
+ Bài 8/ SGK (Trang 100) : Vẽ tĩnh vật (Vẽ màu)
+ Bài 28 /SGK (Trang 156) : Minh họa truyện cổ tích

2/Sưu tầm 1 số tranh trang trí ứng dụng đẹp của họa sĩ, học sinh,...