

Name:

Class:

Listen and choose the best answer for each question.

Question 1. What do people usually have for breakfast?

- A. "Pho" or instant noodles
B. "Pho" or eel soup
C. "Xoi" or eel soup
D. Bread or instant noodles

Question 2. What time does lunch often start?

- A. 11:00 a.m. B. 11:13 a.m. C. 11:30 a.m. D. 11:50 a.m.

Question 3. What do people often have after dinner?

- A. some fruit and green tea.
B. some fruit and lemonade.
C. some fruit and milk.
D. some fruit and coffee.

Listen again and choose the best answer to fill in each blank.

Question 4. People in Minh's area often have _____ meals a day.

- A. two B. three C. four D. five

Question 5. _____ is the main meal of the day.

- A. Breakfast B. Brunch C. Lunch D. Dinner

Question 6. Minh thinks the food in his area is _____.

- A. sugary and delicious
B. healthy and salty
C. healthy and great
D. healthy and delicious

Mark the letter A, B, C or D on your answer sheet to indicate the word whose underlined part differs from the other three in pronunciation in each of the following questions.

Question 7. A. delicius B. control C. special D. musician

Question 8. A. enjoyed B. watched C. stopopped D. cooked

Mark the letter A, B, C or D on your answer sheet to indicate the word that differs from the other three in the position of primary stress in each of the following questions.

Question 9. A. perform B. painting C. concert D. anthem

Question 10. A. tablespoon B. mineral C. popular D. banana

Mark the letter A, B, C or D on your answer sheet to indicate the correct answer to each of the following questions.

Question 11. I don't have _____ oranges, but I have _____ apples.

- A. any/ any B. some/ any C. any/ some D. a/ some

Question 12. He is a great _____. His voice is beautiful.

- A. photographer B. singer C. poet D. dancer

Question 13. His father was born _____ 1963.

- A. on B. at C. in D. of

Question 14. She worked really hard and was happy to _____ the entrance exam.

- A. passing B. passed C. passes D. pass

Question 15. This picture is _____ the one I saw at the art museum.

- A. as B. like C. more D. different

Question 16. Lisa and Kim are talking about their community activities last summer.

Lisa: "Last summer, we provided food for homeless children in Ha Noi." - Kim: " _____ "

- A. Thank you. B. Congratulation!
C. I don't agree with you. D. Sounds like great work!



Mark the letter A, B, C or D on your answer sheet to indicate the correct answer to each of the following questions.

Question 17. Put the sentences (a-c) in the correct order, then fill in the blank to make a logical letter.

We decided to have a picnic by the lake last Sunday. Everything was perfect until something unexpected happened. _____.

- a. As soon as we finished setting up, dark clouds appeared in the sky.
- b. We packed all the food and drinks and headed to the lake early in the morning.
- c. Suddenly, it started raining heavily, and we had to rush back to the car.

A. b - a - c B. c - b - a C. a - c - b D. b - c - a

Question 18. Choose the sentences that can end the text (in Question 17) most appropriately.

- A. Luckily, the rain stopped and dark clouds disappeared.
- B. Despite the rain, we still managed to have fun indoors.
- C. At the end of the picnic, we laid out the food and drinks on a mat.
- D. Finally, we decided to drive home and have the picnic inside instead.

Read the following announcement and mark the letter A, B, C or D on your answer sheet to indicate the correct option that best fits each of the numbered blanks.

A FOUR-STEP PLAN FOR HEALTHY LIVING

- Step 1: Try to (19) _____ a wide variety of different food.
- Step 2: Reduce the quantity of sugary and high-fat food (20) _____ your diet.
- Step 3: (21) _____ more exercise.
- Step 4: Be (22) _____ to yourself! Don't get too tired and make sure you have enough sleep.

- Question 19.** A. drink B. eat C. put D. stay
- Question 20.** A. to B. at C. in D. of
- Question 21.** A. Do B. Doing C. Did D. Does
- Question 22.** A. funny B. impolite C. happy D. kind

Read the following passage and mark the letter A, B, C or D on your answer sheet to indicate the correct word or phrase that best fits each of the numbered blanks.

It's acceptable to eat fast food occasionally, but it is high in calories. So, if you (23) _____ hamburgers and chips, you can easily become obese. You should eat homemade food because it is healthier. Everybody knows that fast food is cheap and quick; however, it is not (24) _____ as homemade food. Young people prefer to eat pizzas, hamburgers and French fries, but they should eat soup instead. Fast food companies spend lots of money (25) _____ people believe that fast food is cool. Otherwise, obesity can lead to other diseases such as diabetes and heart strokes. This is why America is now starting to fight back against the fast food companies. They are (26) _____ fast food in school cafeterias, and restaurants serving traditional food are opening now.

- Question 23.** A. eat often B. eats often C. often eat D. often eats
- Question 24.** A. as tasty B. same tasty C. like tasty D. more tasty
- Question 25.** A. make B. to make C. made D. making
- Question 26.** A. stopping serves B. stopping to serve C. stopping serving D. stop serving

Mark the letter A, B, C or D on your answer sheet to indicate the sentence that is closest in meaning to the original sentence in each of the following questions

Question 27. *It's a good idea for you to study more to pass the entrance exam.*

- A. You should study more to pass the entrance exam.
- B. You should to study more to pass the entrance exam.
- C. You should studying more to pass the entrance exam.

D. You should studied more to pass the entrance exam.

Question 28. How about having pizza for dinner?

- A. Let's to have pizza for dinner.
- B. Let's having pizza for dinner.
- C. Let's have pizza for dinner.
- D. Let's had pizza for dinner.

Mark the letter A, B, C or D on your answer sheet to indicate the best sentence that is made from the words given

Question 29. The taste in music/ American/ different/ British.

- A. The taste in music of the American is different from the one of the British.
- B. The taste in music of the American is different from the British.
- C. The taste in music of the American are different from the one of the British.
- D. The taste in music of the American are different from the British.

Question 30. How many/ carton/ yogurt/ you/ need/?

- A. How many carton of yogurt do you need?
- B. How many cartons of yogurt do you need?
- C. How many cartons of yogurt does you need?
- D. How many carton of yogurt do you needs?

Read the following sign or notice and mark the letter A, B, C or D on your answer sheet to indicate the correct answer to each of the following questions.

Question 31. What does the sign say?



- A. No pedestrians allowed to cross.
- B. Pedestrians must cross the road here.
- C. Pedestrians can walk anywhere on the road.
- D. Pedestrians cannot walk on the street.

Question 32. What does the notice say?

Many children's toys
and books half price
This weekend only!

- A. Children's toys and books are free this weekend.
- B. Children's toys and books are 50% off this weekend.
- C. You can buy children's toys and books any day for half the price.
- D. Toys and books for children are not available this weekend.

Read the following passage and mark the letter A, B, C or D to indicate the correct answer to each of the questions.

Julian Beever makes his amazing pictures on the pavements of city streets. People call him "the Pavement Picasso" and perhaps you saw his pictures on the Internet. Julian made hundreds of pieces of "pavement art" in different countries. But because he draws with chalk, the drawings only stay for a short time. When people walk on them or when it rains, **they** quickly **disappear**. For Julian, this isn't a problem. The photos of his drawings are what matter most to him.

Julian's fame doesn't come from experts in the art world, but from the Internet. "The reason why my work became **well-known** is because people like it and they sent it to each other on the Internet," he says. "So, I know that what I do is popular."

Julian Beever is from Leicestershire in England, but he now lives in Belgium.

Question 33. What is the passage mainly about?

- A. Pieces of art in a gallery.
- B. A famous pavement artist.
- C. Photos on the Internet.
- D. Benefits of drawing pavement pictures.

Question 34. Where does Julian Beever make his drawings?

- A. on the pavements of city streets
- B. on his computer
- C. indoors
- D. for exhibitions in a gallery

Question 35. The word *disappear* in paragraph 1 is *OPPOSITE* in meaning to _____.
A. stay alive B. arrive C. exist D. appear

Question 36. Which of the following is *NOT* true?

- A. Julian Beaver draws his pictures with chalk. B. Julian Beaver worked in a lot of countries.
C. Julian Beaver tried to be a star in the art world. D. Julian Beaver doesn't live in England now.

Question 37. The word *well-known* in paragraph 2 is *CLOSEST* in meaning to _____.

- A. helpful B. famous C. good D. interesting

Three phrases/ sentences have been removed from the text below. For each question, mark the letter A, B or C on your answer sheet to indicate the correct option that best fits each of the numbered blanks.

Dear Mary,

Thanks for your letter. It's very interesting to know about schools in the USA. I think schools in Viet Nam are a little different. Vietnamese students usually wear uniform. Classes start at 7.30 a.m in the morning and (38) _____. Students have a 30-minute break after three periods. At break time, many students play games. (39) _____. Others talk together. Our school year lasts for 9 months, from September to May. Then we have a 3-month summer vacation. We feel too much long to (40) _____. I hope to meet you sooner in order that I can take you to visit my school.

Your friend,

Hoa.

- A. end at 4.30 p.m in the afternoon
B. come back to school to meet friends
C. Some go to the canteen and buy something to eat or drink

Question 38. _____ **Question 39.** _____ **Question 40.** _____

- THE END -



Mã đề: 701

(Đề gồm 02 trang)

HDGD: Hoạt động trải nghiệm, hướng nghiệp 7

Tiết theo KHDH: 53 - Thời gian: 45 phút

I. PHẦN TRẮC NGHIỆM (5 điểm):

Ghi vào giấy kiểm tra chữ cái đứng trước câu trả lời đúng.

Câu 1: Việc làm để giúp nhà cửa, lớp học gọn gàng, ngăn nắp, sạch sẽ là:

- A. Sắp xếp sách vở gọn gàng. B. Gấp quần áo và đồ dùng gọn gàng.
C. Quét và lau nhà. D. Tất cả các phương án trên.

Câu 2: Khi xảy ra mâu thuẫn với một bạn nào đó, em nên làm gì?

- A. Quát mắng bạn.
B. Đánh bạn.
C. Gặp bạn để trò chuyện thẳng thắn, chân thành.
D. Không chơi với bạn nữa.

Câu 3: Những cách nào sau đây có thể giải tỏa cảm xúc tiêu cực?

- A. Hít thở sâu và đi dạo
B. Chơi môn thể thao hoặc nghe bản nhạc yêu thích
C. Tâm sự với người mà mình cảm thấy tin tưởng
D. Tất cả các phương án trên

Câu 4: Để ứng phó với các tình huống nguy hiểm có thể xảy ra bất ngờ, chúng ta cần:

- A. Chủ động tìm hiểu các loại tình huống nguy hiểm.
B. Học tập các kỹ năng ứng phó các tình huống nguy hiểm.
C. Bình tĩnh, tự tin, tìm cách thoát ra khỏi nguy hiểm.
D. Tất cả các đáp án trên

Câu 5: Khi đang chơi trong nhà, A thấy có người phụ nữ lạ mặt giới thiệu là người quen của bố mẹ, muốn vào nhà A để chơi. Nếu em là A em sẽ làm như thế nào?

- A. Lễ phép mời người phụ nữ lạ mặt vào nhà
B. Chửi mắng và đuổi người phụ nữ đi
C. Không mở cửa, gọi điện báo cho bố mẹ biết.
D. Mở cửa cho người phụ nữ vào nhưng đứng xa cảnh giác

Câu 6: Nhóm của em được phân công đóng vai cho một đoạn trích khi học tập môn Ngữ văn. Nhưng một số bạn không muốn tham gia. Em sẽ làm thế nào để bạn đồng ý tham gia hoạt động?

- A. Mách cô giáo để cô giáo bắt bạn tham gia
B. Động viên và phân vai cho bạn phù hợp với sở thích, khả năng của bạn
C. Loại bạn ra khỏi nhóm và không giao nhiệm vụ gì cho bạn.
D. Tẩy chay bạn.

Câu 7: Hành vi và lời nói nào sau đây nên dùng khi ứng xử với thầy cô?

- A. Nói năng ngang ngược, cộc lốc.
- B. Lời nói lễ phép, có vai vế trên dưới. Dùng các hô từ, tình thái từ “ạ, vâng, ừ” khi xưng hô. Hành vi cẩn trọng, lễ phép.
- C. Hành vi thiếu lễ độ, chân tay vất vẻo, không nghiêm túc
- D. Không trả lời khi thầy cô hỏi, thái độ không hợp tác.

Câu 8: Hoạt động nào sau đây cần sự hợp tác với thầy cô hoặc bạn bè?

- A. Nhiệm vụ yêu cầu là sản phẩm của nhóm/nhiều người
- B. Bài kiểm tra định kì các môn của học sinh
- C. Bài tập về nhà được cô giáo giao cho
- D. Tất cả các đáp án trên.

Câu 9: Việc làm nào sau đây thể hiện sự hợp tác với thầy cô trong học tập và các hoạt động?

- A. Tuân thủ nội quy, quy định của trường lớp và những yêu cầu, hướng dẫn của thầy cô.
- B. Phản hồi với thầy cô bằng lời nói, hành vi...phù hợp
- C. Sẵn sàng chia sẻ và phối hợp với thầy cô
- D. Tất cả các việc làm trên

Câu 10: Điều không phải là cách phù hợp để gìn giữ tình bạn?

- A. Tươi cười, chan hoà với mọi người
- B. Nhờ bạn làm bài, trực nhật hộ mình
- C. Cho bạn nhiều lời khuyên tích cực
- D. Quan tâm, hỏi thăm bạn khi bạn bị ốm

II. PHẦN TỰ LUẬN (5 điểm):

Câu 1 (2 điểm)

- a) Em hãy xác định 2 điểm mạnh, 2 điểm hạn chế của bản thân mình.
- b) Em hãy lập kế hoạch để phát huy những điểm mạnh, hạn chế những điểm yếu đó trong thời gian tới. (Nêu được ít nhất 2 biện pháp phát huy điểm mạnh và 2 biện pháp khắc phục điểm yếu).

Câu 2 (2 điểm)

- a) Em hãy chia sẻ một số việc làm của em trong học tập và cuộc sống hàng ngày để rèn luyện sự chăm chỉ (Học sinh nêu ít nhất 4 việc làm).
- b) Em cảm thấy như thế nào sau khi sự cố gắng của mình đạt được kết quả tốt? (Nêu ít nhất 4 cảm nhận)

Câu 3 (1 điểm)

Nhi có giọng hát hay và có khả năng chơi đàn piano. Nhưng cô giáo chủ nhiệm không biết năng khiếu của Nhi, lại muốn Nhi tham gia đóng kịch cho lớp và giao cho bạn khác tham gia tiết mục hát. Nếu em là Nhi, em nên làm thế nào?

----- Hết -----

Mã đề: 711

(Đề gồm 03 trang)

PHẦN I: ĐỌC HIỂU (6 điểm)

Đọc văn bản sau và thực hiện các yêu cầu:

ÁO TẾT

Con bé Em cười tủm tỉm khi nghĩ tới cái áo đầm màu hồng mà má nó mới mua cho:

- Tết này, mình mà mặc cái áo đó đi chơi, đẹp như tiên cho mà coi.

Nó nghĩ và nó muốn chia sẻ với con Bích, bạn nó.

Con Bích ở trong hẻm, nhà nó nghèo, má nó đi bán bắp nướng ngoài đầu hẻm, con bé Em thích con Bích vì nó hiền, với lại ngồi kế nhau từ lớp một tới lớp năm, làm sao mà không thân cho được. Hôm hai mươi sáu, học buổi cuối năm, hai đứa nôn Tết quá trời nên tính trước, nếu mừng một con bé Em đi về ngoại thì mừng hai hai đứa đi tới nhà cô giáo. Bây giờ con bé Em tính trong đầu, tới bữa đó chắc nhiều bạn nữa, cho nên nó sẽ mặc cái áo đầm mới thật nơ, bầu viền kim tuyến cho tụi bạn lé con mắt luôn.

Con Bích đang ngồi nướng bắp thế cho má nó đi xách cần cho heo. Bé Em muốn khoe liền nhưng bày đặt nói gièm:

- Còn mấy ngày nữa Tết rồi hen, mây có đồ mới chưa?

- Có, má tao đưa vải cho cô Ba thợ cắt rồi, má tao nói gần Tết đồ nhiều, dồn đống, chắc tới hai mươi tám mới lấy được.

- Vậy mây được mấy bộ?

- Có một bộ hà.

Con bé Em trợn mắt:

- Ít quá vậy?

- Con Út Mót với Con Út Hết được hai bộ. Tao lớn rồi, nhường cho tụi nó.

- Vậy à?

Bé Em mắt húng hẩn, nó lạng khựng nửa muốn khoe, nửa muốn không. Nhưng rõ ràng là con Bích không quên nó:

- Còn mây?

- Bốn bộ. Má tao mua cho đủ mặc từ mừng một tới mừng bốn, bữa nào cũng mặc đồ mới hết tron. Trong đó có bộ đầm hồng nổi lắm, hết sảy luôn.

- Mây sướng rồi.

Con Bích nói xong vẫn cười nhưng mắt nó xịu xuống, buồn hẩn. Nhà nó nghèo, sao bì được với nhà con bé Em. Hồi nhỏ nó chuyên mặc áo con trai của anh hai nó để lại. Áo nó thì chuyển cho mấy đứa em, tới con Út Hết là đồ đã cũ mềm, mỏng tang, kéo nhẹ

cũng rách. Được cái máy chị em nó biết thân, lo học chó không so đo chuyện cũ mới. Má nó nói hoài: "Nhà mình nghèo quá hà, ráng vài năm nữa, khá giả rồi má sắm cho". Con bé Em nhìn con Bích lom lom rồi cúi xuống, trở trở trái bắp nướng: - Bộ đồ mây may chắc đẹp lắm, bữa mừng hai mây mặc bộ đó đi nhà cô hen? Rồi tới mừng một, mừng hai, bé Em lại rủ con Bích đi chơi. Hai đứa mặc đồ hơi giống nhau, chỉ khác là con Bích mặc áo trắng bầu sen, con bé Em thì mặc áo thun có in hình mèo bự. Cô giáo tụi nó khen:

- Coi hai đứa lớn hết tron rồi, cao nhòng.

Hai đứa cười. Lúc đó con bé Em nghĩ thầm, mình mà mặc bộ đầm hồng, thế nào cũng mát vui. Bạn bè phải vậy chứ. Đứa mặc áo đẹp, đứa mặc áo xấu coi gì được, vậy sao coi là bạn thân. Nhưng Bích lại nghĩ khác, bé Em thương bạn như vậy, tốt như vậy, có mặc áo gì Bích vẫn quý bé em. Thiệt đó.

(Áo Tết, Nguyễn Ngọc Tư, in trong Bánh trái mùa xưa, Nxb Văn học)

*** Trả lời từ câu 1 đến câu 8 bằng cách ghi lại chữ cái đứng đầu đáp án đúng ra giấy kiểm tra:**

Câu 1. Xác định ngôi kể - người kể chuyện trong văn bản.

- A. Ngôi thứ nhất - nhân vật bé Em. B. Ngôi thứ nhất - nhân vật cô giáo.
C. Ngôi thứ nhất - nhân vật Bích. D. Ngôi thứ ba - người kể giấu mình.

Câu 2. Câu nào sau đây là lời nhân vật?

- A. Còn mấy ngày nữa Tết rồi hen, mây có đồ mới chưa?
B. Con Bích đang ngồi nướng bắp thế cho má nó đi xách cặn cho heo.
C. Bé Em mát hứng hẳn, nó lụng khụng nửa muốn khoe, nửa muốn không.
D. Con Bích nói xong vẫn cười nhưng mắt nó xịu xuống, buồn hẳn.

Câu 3. Phương thức biểu đạt chính của văn bản trên là gì?

- A. Tự sự. B. Miêu tả. C. Biểu cảm. D. Nghị luận.

Câu 4. Văn bản trên viết về đề tài gì?

- A. Tình bạn. B. Tình cảm gia đình.
C. Tình yêu quê hương. D. Tất cả các phương án đều đúng.

Câu 5. Ý nào sau đây nói lên nội dung của truyện?

- A. Kể về chuyện may đồ Tết của bé Em và Bích cùng với đó là cách hành xử tế nhị của bé Em trong ngày hai đứa mặc đồ mới đi chúc Tết cô giáo.
B. Kể về việc bé Em được may bốn bộ đồ Tết trong khi đó Bích chỉ được mẹ may cho một bộ.
C. Kể về việc bé Em đã cố tình mặc đồ hơi giống Bích trong ngày hai đứa mặc áo mới đi thăm cô giáo.
D. Kể về cuộc trò chuyện thân mật giữa Bích và bé Em về chuyện may đồ Tết.

Câu 6. Hành động bé Em quyết định không mặc bộ đầm hồng mà mặc bộ đồ hơi giống bạn của mình khi cùng bạn đi thăm cô giáo cho thấy bé Em là một cô bé như thế nào?

- A. Là một cô bé có tâm hồn tinh tế, khiêm tốn và rất trân trọng tình bạn.
B. Là một cô bé thích thể hiện.
C. Là một cô bé khiêm tốn.
D. Là một cô bé phân biệt giàu nghèo.

Câu 7. Có mấy số từ có trong câu văn dưới đây?

“Má tao mua cho đủ mặc từ mừng một tới mừng bốn, bữa nào cũng mặc đồ mới hết tron.”

- A. 1 B. 2 C. 3 D. 4

Câu 8. Phó từ “vẫn” trong câu văn dưới đây bổ sung ý nghĩa gì?

“Con Bích nói xong vẫn cười nhưng mắt nó xịu xuống, buồn hẳn.”

- A. Bổ sung ý nghĩa về thời gian. B. Bổ sung ý nghĩa về sự phủ định.
C. Bổ sung ý nghĩa về mức độ. D. Bổ sung ý nghĩa về sự tiếp diễn tương tự.

*** Trả lời câu 9,10,11 ra giấy kiểm tra**

Câu 9 (1 điểm). Vì sao bé Em lại không mặc bộ đồ màu hồng khi cùng Bích tới gặp cô giáo mình?

Câu 10 (1,5 điểm). Chỉ ra và phân tích tác dụng của biện pháp tu từ được sử dụng trong câu văn sau:

“Tết này, mình mà mặc cái áo đỏ đi chơi, đẹp như tiên cho mà coi.”

Câu 11 (1,5 điểm). Qua văn bản trên, em rút ra được bài học gì cho bản thân (ít nhất 3 bài học).

PHẦN II. VIẾT (4 điểm).

Viết một bài văn khoảng 400 chữ phân tích đặc điểm nhân vật bé Em trong đoạn ngữ liệu trên.

===== Chúc các con làm bài tốt =====



Câu 7. Có mấy số từ có trong câu văn dưới đây?

“Má tao mua cho đủ mặc từ mùng một tới mùng bốn, bữa nào cũng mặc đồ mới hết tron.”

- A. 1 B. 2 C. 3 D. 4

Câu 8. Phó từ “vẫn” trong câu văn dưới đây bổ sung ý nghĩa gì?

“Con Bích nói xong vẫn cười nhưng mắt nó xịu xuống, buồn hẳn.”

- A. Bổ sung ý nghĩa về thời gian. B. Bổ sung ý nghĩa về sự phủ định.
C. Bổ sung ý nghĩa về mức độ. D. Bổ sung ý nghĩa về sự tiếp diễn tương tự.

*** Trả lời câu 9,10,11 ra giấy kiểm tra**

Câu 9 (1 điểm). Vì sao bé Em lại không mặc bộ đồ màu hồng khi cùng Bích tới gặp cô giáo mình?

Câu 10 (1,5 điểm). Chỉ ra và phân tích tác dụng của biện pháp tu từ được sử dụng trong câu văn sau:

“Tết này, mình mà mặc cái áo đỏ đi chơi, đẹp như tiên cho mà coi.”

Câu 11 (1,5 điểm). Qua văn bản trên, em rút ra được bài học gì cho bản thân (ít nhất 3 bài học).

PHẦN II. VIẾT (4 điểm).

Viết một bài văn khoảng 400 chữ phân tích đặc điểm nhân vật bé Em trong đoạn ngữ liệu trên.

===== Chúc các con làm bài tốt =====





Mã đề: 701

(Đề gồm 02 trang)

I. Trắc nghiệm (2,0 điểm): Ghi lại vào bài làm chữ cái đứng trước câu trả lời **đúng**:

Câu 1. Tính $|-7,5|$ ta được kết quả:

- A. 7,5. B. -7,5. C. $\pm 7,5$. D. -5,7.

Câu 2. Căn bậc hai số học của 36 là:

- A. 6 B. 36 C. -6 D. -36

Câu 3. Chọn đáp án **sai**. Nếu $\frac{a}{b} = \frac{c}{d}$ thì:

- A. $ad = bc$. B. $\frac{a}{c} = \frac{b}{d}$. C. $\frac{d}{c} = \frac{b}{a}$. D. $\frac{a}{d} = \frac{b}{c}$.

Câu 4. Cho $x = -1,9254$. Khi làm tròn với độ chính xác 0,05 thì số x bằng:

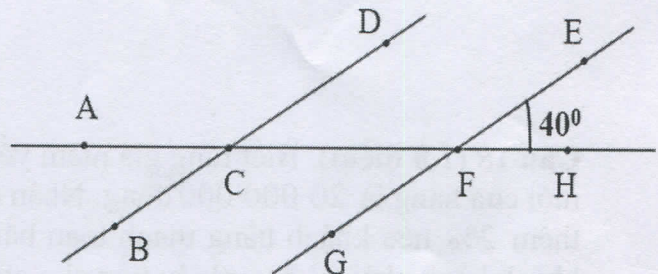
- A. -2. B. -1,93. C. -1,9. D. -1,92.

Câu 5. Cho biết đại lượng y tỉ lệ thuận với đại lượng x theo hệ số tỉ lệ 9. Biểu diễn của y theo x là:

- A. $y = -9x$ B. $y = \frac{1}{9}x$ C. $y = x$ D. $y = 9x$

Câu 6. Cho hình vẽ sau. Tính số đo góc DCF, biết $BD \parallel EG$.

- A. 150° B. 60°
C. 40° D. 120°



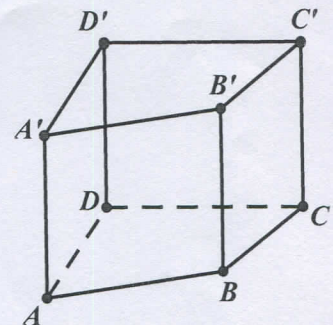
Câu 7. Số mặt của hình hộp chữ nhật là

- A. 4 B. 12 C. 6 D. 8

Câu 8. Cho lăng trụ đứng $ABCD.A'B'C'D'$ (hình bên).

Kết luận nào sau đây là **SAI**?

- A. Hai mặt đáy song song với nhau.
B. Các mặt bên là các hình bình hành.
C. Các mặt bên là các hình chữ nhật.
D. Các cạnh bên bằng nhau.



II. Tự luận (8,0 điểm):

Câu 13 (1,5 điểm). Thực hiện phép tính

a) $\frac{2}{9} : \frac{4}{3} + \frac{1}{6}$

b) $7,5 \cdot \left(\frac{-3}{10}\right) + 2,5 \cdot \left(\frac{-3}{10}\right) - 6 \cdot 2024^0$

c) $0,5 : \sqrt{\frac{1}{25}} + \frac{4}{5} \cdot |-10 + 5| - \left(\frac{-2024}{2025}\right)^0$

Câu 14 (1,5 điểm). Tìm x biết

a) $\frac{3 \cdot x}{10} = \frac{2}{5}$

b) $\left|\frac{1}{3}x + 2\right| + \frac{2}{3} = 1$

c) $\frac{3}{8} + x = \frac{2}{3}$

Câu 15 (1,5 điểm). Lớp 7A có 45 học sinh. Trong đợt sơ kết Học kỳ I, số học sinh có kết quả học tập ở các mức Tốt, Khá, Đạt tỉ lệ với ba số 3; 4; 2. Tính số học sinh có kết quả học tập ở mỗi mức, biết trong lớp không có học sinh nào ở mức Chưa đạt.

Câu 16 (1,5 điểm). Cho $\widehat{xOy} = 80^\circ$. Vẽ Ot là tia phân giác của \widehat{xOy} .

a) Tính \widehat{yOt} .

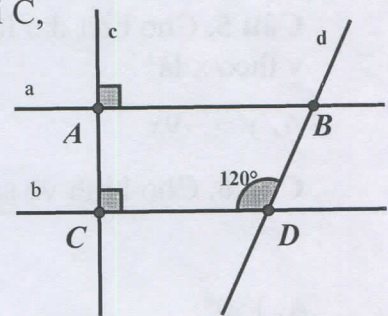
b) Vẽ Ot' là tia đối của tia Ot . Tính $\widehat{xOt'}$

Câu 17 (1,0 điểm). Cho Hình 3, biết $c \perp a$ tại A, $c \perp b$ tại C,

$\widehat{BDC} = 120^\circ$

a) Chứng minh $AB \parallel CD$.

b) Tính \widehat{ABD} ?



Hình 3

Câu 18 (1,0 điểm). Biết rằng giá niêm yết của một chiếc máy tính thương hiệu HP trong một cửa hàng là 20 000 000 đồng. Nhân dịp ngày lễ, cửa hàng giảm giá 5% và giảm giá thêm 2% nếu khách hàng thanh toán bằng tiền mặt. Hỏi khi thanh toán bằng tiền mặt, khách hàng phải trả bao nhiêu tiền cho chiếc máy tính đó?

----- HẾT -----



I. Trắc nghiệm (2,0 điểm): Ghi lại vào bài làm chữ cái đứng trước câu trả lời đúng:

Câu 1. Kết quả của $\left| \frac{-25}{11} \right|$ là:

A. $\frac{-25}{11}$

B. $\frac{25}{11}$

C. $\frac{11}{25}$

D. $\frac{-11}{25}$

Câu 2. Căn bậc hai số học của $\frac{25}{64}$ là:

A. $\frac{25}{64}$

B. $-\frac{25}{64}$

C. $\frac{5}{8}$

D. $-\frac{5}{8}$

Câu 3. Tỷ lệ thức $\frac{a}{b} = \frac{c}{d}$ ($d \neq 0, b \neq 0$) còn được viết là:

A. $a:d = c:b$

B. $a:c = b:d$

C. $a:b = c:d$

D. $a.b = c.d$

Câu 4. Biết $1 \text{ inch} = 2,54 \text{ cm}$. Vậy tivi loại 32inch thì đường chéo màn hình bằng bao nhiêu cm? (làm tròn đến hàng đơn vị)

A. 81,28 cm.

B. 81,2 cm.

C. 81 cm.

D. 81,3 cm

Câu 5. Cho biết đại lượng y tỉ lệ thuận với đại lượng x theo hệ số tỉ lệ $\frac{2}{5}$. Biểu diễn của y theo x là:

A. $y = \frac{2}{5}x$

B. $y = 2x$

C. $y = 5x$

D. $y = \frac{-2}{5}x$

Câu 6. Trong hình lập phương có

A. 8 mặt, 6 đỉnh, 12 cạnh.

B. 6 mặt, 8 đỉnh, 12 cạnh.

C. 12 mặt, 8 đỉnh, 6 cạnh.

D. 6 mặt, 12 đỉnh, 8 cạnh.

Câu 7. Hình lăng trụ đứng tứ giác có các mặt bên là:

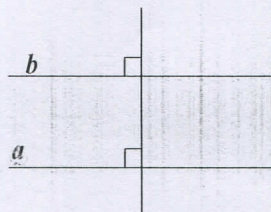
A. Hình tam giác.

B. Hình chữ nhật.

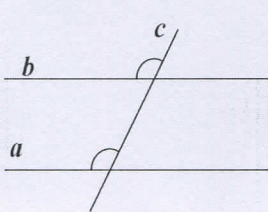
C. Hình bình hành.

D. Hình vuông

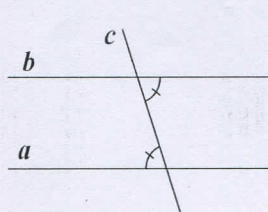
Câu 8. Trong các hình của **Hình 2** dưới đây, hình nào cho ta biết đường thẳng a không song song với đường thẳng b ?



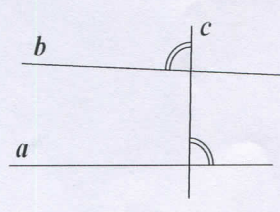
Hình a



Hình b



Hình c



Hình d

Hình 2

A. Hình a.

B. Hình b.

C. Hình c.

D. Hình d.

II. Tự luận (7,0 điểm):

Câu 13 (1,5 điểm). Thực hiện phép tính

a) $\frac{3}{10} : \frac{6}{5} + \frac{5}{4}$

b) $\frac{11}{12} \cdot \frac{-5}{12} + \frac{11}{12} \cdot \frac{-7}{12} - \frac{1}{12}$

c) $0,1 : \sqrt{\frac{1}{100}} + \frac{-5}{3} \cdot |-1+10| + \left(\frac{2024}{2025}\right)^0$

Câu 14 (1,5 điểm). Tìm x biết

a) $\frac{3x}{4} = \frac{3}{2}$

b) $\frac{5}{6} : \left| \frac{2}{3}x + 1 \right| = 5$

c) $\frac{3}{5} + x = \frac{2}{3}$

Câu 15 (1,5 điểm). Trong đợt quyên góp sách cuối năm để ủng hộ cho học sinh nghèo. Số sách ba lớp 7A1, 7A2 và 7A3 quyên góp được lần lượt tỉ lệ với ba số 4;5;6. Biết số sách lớp cả 3 quyên góp được là 105 quyển. Hỏi mỗi lớp quyên góp bao nhiêu quyển?

Câu 16 (1,5 điểm). Cho $\widehat{xOy} = 70^\circ$. Vẽ Ot là tia phân giác của \widehat{xOy} .

a) Tính \widehat{yOt} .

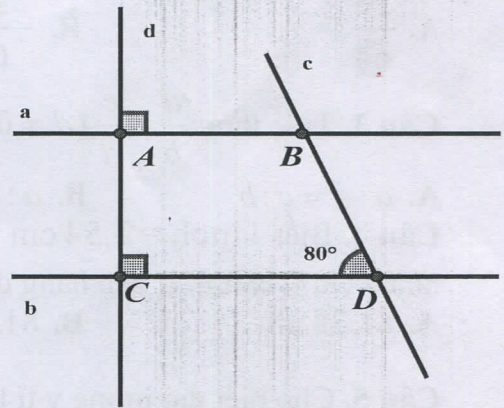
b) Vẽ Ot' là tia đối của tia Ot . Tính $\widehat{xOt'}$

Câu 17 (1,0 điểm). Cho **Hình 3**: biết $d \perp a$ tại A,

$d \perp b$ tại C, $\widehat{BDC} = 80^\circ$

a) Chứng minh $AB \parallel CD$.

b) Tính \widehat{ABD} .



Hình 3

Câu 18 (1,0 điểm). Biết rằng giá niêm yết của một chiếc máy tính thương hiệu HP trong một cửa hàng là 30 000 000 đồng. Nhân dịp ngày lễ, cửa hàng giảm giá 6% và giảm giá thêm 2% nếu khách hàng thanh toán bằng tiền mặt khi mua 1 chiếc máy tính đó. Hỏi khi thanh toán bằng tiền mặt, khách hàng phải trả bao nhiêu tiền cho chiếc máy tính đó?

----- HẾT -----

Phần I (5 điểm). Câu trắc nghiệm nhiều phương án lựa chọn:

Học sinh trả lời từ câu 1 đến câu 20. Mỗi câu chọn 1 đáp án và ghi lại chữ cái đứng trước đáp án đó ra giấy kiểm tra.

Câu 1. Công quang điện có vai trò:

- A. Điều khiển mở đồng hồ đo thời gian hiện số.
- B. Điều khiển mở/đóng đồng hồ đo thời gian hiện số.
- C. Gửi tín hiệu điện tử tới đồng hồ.
- D. Điều khiển đóng đồng hồ đo thời gian hiện số.

Câu 2. Việc lựa chọn các mẫu vật, dữ liệu có cùng đặc điểm chung giống nhau để sắp xếp các nhóm là kỹ năng gì trong học tập môn khoa học tự nhiên?

- A. Kỹ năng dự báo.
- B. Kỹ năng liên kết.
- C. Kỹ năng đo.
- D. Kỹ năng phân loại.

Câu 3. Cách biểu diễn 4 He có nghĩa là:

- A. 4 nguyên tử helium.
- B. 4 nguyên tử hydrogen.
- C. 4 nguyên tử hydrogen.
- D. 4 nguyên tử helium.

Câu 4. Nguyên tử của nguyên tố aluminium có số hiệu nguyên tử là 13. Phát biểu nào dưới đây **KHÔNG** đúng?

- A. Nguyên tử aluminium có 13 electron.
- B. Nguyên tử aluminium có số đơn vị điện tích hạt nhân là 13.
- C. Nguyên tử aluminium có 13 proton trong hạt nhân.
- D. Nguyên tử aluminium có 14 neutron trong hạt nhân.

Câu 5. Trong chu kì 2, X là nguyên tố đứng đầu chu kì, còn Y là nguyên tố đứng cuối chu kì nhưng trước khí hiếm. Nguyên tố X và Y có tính chất sau:

- A. X là kim loại mạnh, Y là phi kim yếu.
- B. X là kim loại mạnh, Y là phi kim mạnh.
- C. X là kim loại yếu, Y là phi kim yếu.
- D. X là kim loại yếu, Y là phi kim mạnh.

Câu 6. Nguyên tố X ở chu kì 3, nhóm IA, điện tích hạt nhân của nguyên tố X là:

- A. $Z = 13$
- B. $Z = 10$
- C. $Z = 12$
- D. $Z = 11$

Câu 7. Tổng số hạt trong nguyên tử X là 40, trong đó số hạt mang điện nhiều hơn số hạt không mang điện là 12. Số hạt proton trong nguyên tử X là

- A. 15.
- B. 14.
- C. 13.
- D. 16.

Câu 8. Các kim loại kiềm trong nhóm IA đều có số electron lớp ngoài cùng là

- A. 1.
- B. 2.
- C. 3
- D. 4

Câu 9. Ký hiệu hoá học của các nguyên tố Iron, Copper lần lượt là

- A. Fe, Co.
- B. I, Co.
- C. Co, Zn.
- D. Fe, Cu.



Câu 10. Dãy các nguyên tố có tính chất hóa học tương tự nhau là:

- A. B, C, N, O B. Li, Na, K, Rb C. Be, Mg, Zn, Cd D. He, Ne, F, O

Câu 11. Đơn chất là chất tạo nên từ:

- A. một chất B. một nguyên tố hóa học
C. một nguyên tử D. một phân tử.

Câu 12. Khối lượng phân tử của hợp chất H_2SO_4 là?

- A. 68 amu B. 78 amu C. 88 amu D. 98 amu

Câu 13. Liên kết giữa các nguyên tử trong phân tử muối ăn là liên kết

- A. cộng hóa trị. B. ion. C. phi kim. D. kim loại.

Câu 14. Trong các chất sau hãy cho biết dãy nào chỉ gồm toàn đơn chất?

- A. $Fe(NO_3)_2$, NO, C, S. B. Mg, K, S, C, N_2 .
C. Fe, NO_2 , H_2O . D. $Cu(NO_3)_2$, KCl, HCl.

Câu 15. Trong hợp chất có công thức hóa học là H_3PO_4 , nhóm PO_4 có hóa trị là:

- A. I. B. IV. C. II. D. III.

Câu 16. Trong hợp chất nào sau đây, nguyên tố oxygen chiếm tỉ lệ phần trăm theo khối lượng là lớn nhất?

- A. CuO. B. ZnO. C. MgO. D. FeO.

Câu 17. Công thức của hợp chất ammonia NH_3 cho biết điều gì?

- A. Chất do 2 nguyên tố là N và H tạo ra, khối lượng phân tử là 17 amu.
B. Chất có tính tan rất tốt trong nước, dễ hóa lỏng.
C. Chất do 2 nguyên tố là N và H tạo ra, khối lượng phân tử là 17 amu. Trong 1 phân tử ammonia NH_3 có 1 nguyên tử N, 3 nguyên tử H.
D. Khối lượng phân tử là 27 amu.

Câu 18. Cảnh sát giao thông muốn kiểm tra xem tốc độ của các phương tiện tham gia giao thông có vượt quá tốc độ cho phép hay không thì sử dụng thiết bị nào?

- A. Thiết bị bắn tốc độ. B. Đồng hồ bấm giây.
C. Tốc kế. D. Thước.

Câu 19. Bộ phận nào dưới đây **không** có trong thiết bị đo tốc độ bằng công quang điện?

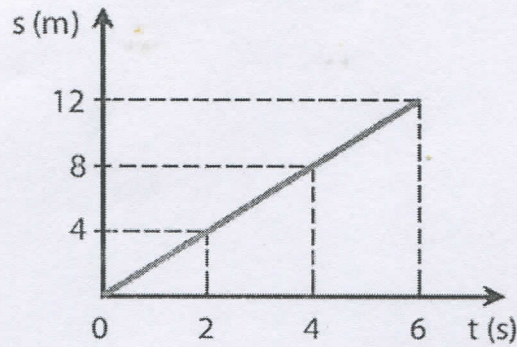
- A. Đồng hồ hiện số B. Cân đồng hồ C. Thước đo độ dài D. Công quang

Câu 20. Hợp chất của nguyên tố X với O là XO. Hợp chất của nguyên tố Y với H là YH_3 . Công thức hóa học của hợp chất của X với Y là:

- A. X_3Y_2 B. X_2Y_3 C. XY D. XY_3

Phần II (1 điểm). Câu trắc nghiệm đúng, sai. Trong mỗi ý a, b, c, d, học sinh chọn đúng hoặc sai và ghi ra giấy kiểm tra.

Câu 21: Hình dưới đây là đồ thị quãng đường – thời gian của 1 vật chuyển động. Dựa vào hình vẽ, hãy kiểm tra các thông tin sau đây là đúng hay sai.



- Tốc độ của vật là 2 m/s.
- Sau 2s, vật đi được 4 m.
- Từ giây thứ 4 đến giây thứ 6, vật đi được 12 m.
- Thời gian để vật đi được 8 m là 4 s.

Phần III (1 điểm). Câu trắc nghiệm trả lời ngắn.

Câu 22, 23: ghi câu trả lời vào giấy kiểm tra.

Câu 22: Trong hệ đo lường chính thức của nước ta, đơn vị đo tốc độ là m/s và km/h.

1 km/h =m/s; 1 m/s =km/h.

Câu 23:

- Một chiếc xe ô tô đang chuyển động với tốc độ 108 km/h trên đường thì tốc độ đó khi đổi sang đơn vị m/s sẽ là.....
- Một xe ô tô đang đi với tốc độ 10 m/s. Quãng đường xe đi được sau 10s là.....(m)

Phần IV (3 điểm). Tự luận

Câu 1 (1 điểm) Lập công thức hóa học cho các hợp chất được tạo bởi:

- Cu (II) và O
- Na (I) và SO_4 (II)

Câu 2 (1 điểm)

- Tính phần trăm các nguyên tố theo khối lượng trong hợp chất: CuSO_4
- Khối lượng phân tử của hợp chất là 64 amu. Tìm CTHH của hợp chất biết phần trăm các nguyên tố theo khối lượng như sau: 50% S, 50% O.

Câu 3 (1 điểm)

Một người đi xe máy sau khi đi được 12 km với tốc độ 36 km/h thì dừng lại để sửa xe trong 30 min, sau đó đi tiếp 20 km với tốc độ 60 km/h. Hãy vẽ đồ thị quãng đường – thời gian của người đi xe đạp.

(H = 1; O = 16; C = 12; Cu = 64; Mg = 24; Al = 27; Fe = 56; S = 32; N = 14)

----- HẾT -----



Mã đề 701
(Đề gồm 02 trang)

HDGD: Giáo dục địa phương 7
Tiết: 18 - Thời gian làm bài: 45 phút

Phần I Trắc nghiệm (5 điểm)

Em hãy ghi lại chữ cái in hoa đứng trước đáp án đúng vào giấy kiểm tra.

Câu 1. Trong các hành động dưới đây, đâu là hành động thiếu văn minh ở nơi công cộng?

- A. Chen lấn, không xếp hàng khi mua vé.
- B. Không nhường chỗ cho người già ở nhà chờ xe bus.
- C. Vứt rác bừa bãi ở công viên.
- D. Tất cả các phương án trên.

Câu 2. Hành động nào sau đây thể hiện cách ứng xử văn minh khi nói, cười nơi công cộng?

- A. Tranh luận gay gắt trong thư viện.
- B. Nói chuyện thì thầm trong rạp chiếu phim.
- C. Kể chuyện với bạn khi ngồi trên xe bus và phá lên cười rất to.
- D. Cãi nhau to tiếng khi mẹ gọi điện hỏi bao giờ đi chơi với bạn về.

Câu 3. Theo em, chúng ta sẽ nhận được gì khi có cách ứng xử đúng đắn nơi công cộng?

- A. Sự tôn trọng, quý mến của mọi người xung quanh.
- B. Sự dè bủ, xa lánh của mọi người.
- C. Sự khó chịu của mọi người.
- D. Không nhận được gì vì nơi công cộng toàn những người chúng ta không quen biết.

Câu 4. Theo em, những hành vi thiếu văn minh có thể gây ra những ảnh hưởng như thế nào?

- A. Làm mất mỹ quan đô thị.
- B. Gây ra tranh chấp, bất hoà giữa người với người.
- C. Để lại ấn tượng xấu cho mọi người xung quanh.
- D. Tất cả các phương án trên.

Câu 5. Cả gia đình chuẩn bị đi chùa vào đầu năm mới, mẹ nhắc hai chị em mặc áo dài, nhưng chị gái em không thích mặc và chọn mặc áo, váy ngắn. Em sẽ làm như thế nào trong tình huống này?

- A. Mặc kệ không quan tâm vì dù sao cũng là sở thích của chị.
- B. Khuyến chị nên lựa chọn trang phục kín đáo, nhã nhặn vì chùa là nơi linh thiêng.
- C. Xuông mách với mẹ để mẹ xử lí.
- D. Mang thêm một bộ đồ khác đề phòng trường hợp chị muốn thay.

Câu 6. Ở Hà Nội, tài nguyên khoáng sản nào là chủ yếu?

- A. Nguyên liệu than
- B. Nước khoáng
- C. Vật liệu xây dựng
- D. Kim loại

Câu 7. Làm thế nào để hạn chế sự cạn kiệt nhanh chóng nguồn tài nguyên khoáng sản trong quá trình phát triển kinh tế?

- A. Hạn chế khai thác các khoáng sản trong lòng đất, tài nguyên thiên nhiên.
- B. Hạn chế khai thác các tài nguyên thiên nhiên, nhất là tài nguyên khoáng sản.
- C. Phải sử dụng tiết kiệm, tổng hợp, đồng thời sản xuất các vật liệu thay thế.
- D. Hạn chế sử dụng các sản phẩm có nguồn gốc từ khoáng sản trong tự nhiên.

Câu 8. Hà Nội có nhóm đất chính nào?

- A. Nhóm đất phù sa, feralit (đỏ vàng)
- B. Nhóm đất phù sa, đất núi đá
- C. Nhóm đất feralit (đỏ vàng), đất núi đá
- D. Nhóm đất khác và đất núi đá

Câu 9. Khí hậu ở Hà Nội thuộc loại khí hậu nào?

- A. Khí hậu ôn đới
- B. Khí hậu nhiệt đới ẩm gió mùa
- C. Khí hậu hàn đới
- D. Khí hậu nhiệt đới gió mùa

Câu 10. Ở Hà Nội, hồ tự nhiên nào có diện tích lớn nhất?

- A. Hồ Gươm
- B. Hồ Tây
- C. Hồ Trúc Bạch
- D. Hồ Giảng Võ

Phần II. Tự luận (5 điểm)

Câu 1.(2 điểm) Em hãy nêu những tài nguyên thiên nhiên ở Hà Nội. Em hãy nêu hiểu biết của mình về tài nguyên khoáng sản ở Hà Nội.

Câu 2. (2 điểm) Em hãy giải quyết những tình huống sau:

- a. Trên đường đi học về Bình thấy một đám bạn chơi bóng đá dưới lè đường làm cản trở giao thông khiến các phương tiện giao thông di chuyển khó khăn. Nếu em là bạn Bình, em sẽ làm gì?
- b. Khi Nam đang đi chơi với đám bạn, Nam thấy một cụ già đi trên đường với dáng đi chập chạp. Nam nói: “Ông già ơi! Tránh đường cho tụi cháu đi với. Già rồi không ở nhà còn ra đường làm gì?”. Theo em, việc làm của bạn Nam như vậy có được không? Nếu là Nam, em sẽ có hành xử như thế nào?

Câu 3. (1 điểm) Em hãy chỉ ra 04 việc làm cụ thể để bảo vệ tài nguyên thiên nhiên ở Hà Nội.

----- **HẾT** -----

Mã đề: 701

(Đề gồm 03 trang)

Môn: Giáo dục công dân 7

Tiết theo KHDH: 17 - Thời gian: 45 phút

I. Trắc nghiệm chọn một phương án đúng (3 điểm):

Ghi vào giấy kiểm tra chữ cái đứng đầu trước câu trả lời đúng nhất.

Câu 1: Truyền thống nào dưới đây của các địa phương hiện nay không còn phù hợp?

- A. Tổ chức lễ hội xuống đồng. B. Tổ chức lễ hội mừng lúa mới.
C. Duy trì việc thách cưới thật to. D. Tổ chức lễ cưới văn minh.

Câu 2: Công dân biết giữ gìn phát huy truyền thống quê hương mình khi

- A. tham gia học nghề truyền thống quê hương.
B. tự ti về nghề truyền thống quê hương.
C. từ chối giới thiệu về nghề quê hương.
D. từ chối tham gia lễ hội của quê hương.

Câu 3: Di sản văn hoá là:

A. sản phẩm tinh thần, vật chất có giá trị khoa học, được lưu truyền từ thế hệ này qua thế hệ khác.

B. sản phẩm tinh thần, vật chất có giá trị lịch sử, văn hoá, khoa học, được lưu truyền từ thế hệ này qua thế hệ khác.

C. sản phẩm tinh thần có giá trị lịch sử, được lưu truyền từ thế hệ này qua thế hệ khác ở nước Cộng hoà xã hội chủ nghĩa Việt Nam.

D. sản phẩm có giá trị lịch sử, văn hoá, khoa học, được lưu truyền từ thế hệ này qua thế hệ khác ở nước Cộng hoà xã hội chủ nghĩa Việt Nam.

Câu 4: Di sản văn hoá bao gồm:

- A. di sản văn hoá tinh thần và di sản văn hoá vật thể.
B. di sản văn hoá phi vật thể và di sản văn hoá vật thể.
C. di sản văn hoá vật chất và di sản văn hoá tinh thần.
D. di sản văn hoá thể chất và di sản văn hoá tinh thần.

Câu 5: Khi mỗi cá nhân biết quan tâm, cảm thông và chia sẻ giúp cho mỗi người có thể

- A. hỗ trợ nhau. B. lợi dụng nhau. C. đấu đá nhau. D. tiêu diệt nhau.

Câu 6: Việc làm nào dưới đây thể hiện ý thức tự giác, tích cực?

- A. Tích cực dọn vệ sinh nơi công cộng.
B. Trời mưa nên không đến sinh hoạt đội.
C. Ở nhà viện lí do bị ốm để không đi lao động với lớp.
D. Tham gia buổi cắm trại nhưng không tham gia các hoạt động khác.

Câu 7: Để học tập tự giác, tích cực, mỗi cá nhân cần phải

- A. có sự giúp đỡ của người lớn. B. quyết tâm thực hiện kế hoạch.
C. thường xuyên dựa vào bạn bè. D. tranh thủ nhờ bạn bè làm giúp.

Câu 8: Coi trọng lòng tin của mọi người đối với mình, biết trọng lời hứa và tin tưởng nhau được gọi là gì?

- A. Liêm khiết. B. Công bằng. C. Lẽ phải. D. Giữ chữ tín.

Câu 9: Việc cá nhân có sự đồng cảm, san sẻ với người khác khi gặp khó khăn, hoạn nạn là biểu hiện của người biết

- A. hòa nhập. B. hướng ngoại. C. chia sẻ. D. quan tâm.

Câu 10: Biểu hiện của người giữ chữ tín là luôn

- A. hứa suông. B. bán hàng giả.
C. nói một đằng làm một nẻo. D. đã nói là làm.

Câu 11: Muốn giữ được lòng tin của mọi người đối với mình thì mỗi người cần phải làm gì?

- A. Luôn nói đi đôi với làm. B. Luôn chạy theo số đông.
C. Luôn sử dụng âm mưu. D. Luôn bỏ qua mọi câu việc.

Câu 12: Câu tục ngữ nào dưới đây nói về đức tính tiết kiệm?

- A. Cửa thiên trả địa. B. Thất lung buộc bụng.
C. Cửa chợ trả chợ. D. Còn người thì còn của.

II. Câu hỏi trắc nghiệm đúng/sai (2 điểm)

Chọn đúng/sai và ghi vào giấy kiểm tra cho các ý a), b), c), d) dưới đây:

Câu 13: Hoàn cảnh gia đình Mai không mấy dư dả, bố mẹ Mai phải làm việc quần quật suốt ngày để lo cho chị em Mai ăn học. Cuộc sống vất vả như vậy, nhưng bố mẹ vẫn luôn động viên Mai cố gắng học giỏi. Thấy các bạn trong lớp đều có xe đạp để đi học, Mai cũng xin mẹ mua cho mình một chiếc. Mẹ Mai muốn khuyến khích con gái học tập nên hứa nếu cuối năm Mai được học sinh xuất sắc mẹ sẽ mua cho Mai chiếc xe đạp mới. Mai cũng hứa với mẹ là sẽ cố gắng học để đạt kết quả tốt. Và cuối năm học Mai đã đạt được kết quả xuất sắc như mong đợi. Trên đường đi học về, cầm kết quả học tập xuất sắc trên tay, Mai vui sướng nghĩ về chiếc xe đạp mới. Mai về nhà khoe với mẹ. Mẹ xoa đầu khen Mai và nói chiều sẽ dẫn Mai đi mua xe đạp. Thấy mẹ Mai nói vậy, bố nói riêng với mẹ: “Nhà mình còn khó khăn lắm, hay để từ từ hãy mua cho con”. Mẹ nói với bố: “Mình đã nói với con rồi thì khổ mấy cũng phải mua cho con, để con khỏi nghĩ là mình nói dối”. Ngay chiều hôm đó, bố mẹ của Mai đã đưa Mai đi mua xe đạp mới.

a) Nhờ tinh thần học tập tự giác, tích cực, Mai đã đạt được kết quả xuất sắc như mong đợi.

b) Việc bố mẹ tặng cho Mai chiếc xe đạp mới mặc dù hoàn cảnh gia đình còn khó khăn cho thấy bố mẹ Mai chưa biết cách quản lý tiền hiệu quả.

c) Kết quả học tập xuất sắc cuối năm học của Mai là minh chứng cho thấy Mai là người biết giữ chữ tín.

d) Việc bố Mai chần chừ chưa mua xe đạp cho Mai là biểu hiện chưa biết giữ chữ tín.

Câu 14: Mỗi tháng, Mai được bố mẹ cho một khoản tiền nhỏ để chi tiêu cá nhân. Thời gian đầu, khi chưa hết tháng, Mai đã tiêu hết số tiền bố mẹ cho, Mai rất băn khoăn chưa biết làm thế nào để quản lí tiền hiệu quả. Một lần, Mai đọc được một bài viết về cách quản lí tiền, Mai thấy thích thú và bắt đầu làm theo. Đầu tiên, Mai xác định các khoản chi tiêu cụ thể bằng cách: lập danh sách những chi phí bắt buộc như ăn sáng, mua sách vở, đồ dùng học tập. Sau đó, Mai chia số tiền mình có theo từng khoản đã liệt kê sao cho hiệu quả nhất. Để sử dụng tiền một cách hợp lí và hiệu quả, Mai áp dụng nhiều biện pháp như lựa chọn đi xe buýt để vừa tiết kiệm tiền vừa thân thiện với môi trường; giữ gìn cẩn thận đồ dùng học tập để có thể dùng lâu dài. Mai cũng ghi chép lại nhật kí chi tiêu hằng tháng để xem mình có hoàn thành mục tiêu đề ra hay không. Đến cuối năm tổng kết lại, Mai thấy mình đã có một khoản tiền nhỏ đủ để mua sách vở ủng hộ các bạn học sinh miền núi theo phong trào mà nhà trường phát động.

a) Nhờ quản lí tiền hiệu quả mà Mai đã tiết kiệm được một khoản tiền nhỏ đủ để mua sách vở ủng hộ các bạn học sinh miền núi.

b) Việc Mai mua sách vở ủng hộ các bạn học sinh miền núi là việc làm không cần thiết và lãng phí.

c) Mai mua sách vở ủng hộ các bạn học sinh miền núi theo phong trào mà nhà trường phát động cho thấy bạn là người biết quan tâm, cảm thông và chia sẻ.

d) Một trong những biện pháp mà Mai sử dụng để quản lí tiền hiệu quả chính là chỉ mua những thứ cần thiết, phù hợp với khả năng.

III. Tự luận (5 điểm)

Câu 1 (2 điểm). Tình huống:

An học rất giỏi và luôn sẵn sàng giúp đỡ các bạn trong học tập. Khi các bạn gặp khó khăn hay băn khoăn vấn đề gì, An giảng giải để giúp bạn hiểu bài. Trong giờ kiểm tra, An rất khó xử vì các bạn ngồi cạnh muốn chép bài.

Câu hỏi:

a) Em có nhận xét gì về cách học của một số bạn ngồi cạnh An?

b) Nếu là An, em sẽ làm gì?

Câu 2 (2 điểm). Tình huống:

Ngày thứ bảy, Yến giúp mẹ bán rau. Có khách đến mua rau, họ đã trả tiền và nhờ Yến nhặt rau giúp. Nhưng đã cuối ngày mà không thấy người khách quay lại.

Câu hỏi:

a) Em hãy cho biết giữ chữ tín là gì? Tại sao trong cuộc sống mỗi người cần biết giữ chữ tín?

b) Em có lời khuyên gì cho bạn Yến trong tình huống trên?

Câu 3 (1 điểm). Có ý kiến cho rằng:

Học sinh không nên giữ tiền vì không giữ được tiền cẩn thận và hay chi vào những việc không cần thiết.

Câu hỏi: Em đồng tình hay không đồng tình với ý kiến trên? Vì sao?

----- HẾT -----

Câu 2. Vai trò của rừng sản xuất là gì?

A. Dùng để sản xuất gỗ.

C. Dùng để phòng hộ.

B. Dùng để kinh doanh gỗ.

D. Dùng để bảo tồn thiên nhiên.

Phần III. Tự luận (5 điểm)

Câu 1 (3 điểm): Nêu các vai trò của rừng.

Câu 2 (2 điểm): Kể tên một số hình thức nhân giống vô tính cây trồng. Cây con được tạo ra bằng hình thức này có đặc điểm gì?

----- HẾT -----



Mã đề: 701

(Đề gồm 02 trang)

Phần I (3 điểm). Câu trắc nghiệm nhiều phương án lựa chọn: Học sinh trả lời từ câu 1 đến câu 12. Mỗi câu chọn 1 đáp án và ghi lại chữ cái đứng trước đáp án đó ra giấy kiểm tra

Câu 1. Mạng xã hội là một cộng đồng trực tuyến để mọi người có thể làm gì?

- A. Học trực tuyến
- B. Mua hàng online
- C. Tương tác với nhau
- D. Tất cả các phương án

Câu 2. Ưu điểm của mạng xã hội là:

- A. Là môi trường lí tưởng cho việc bắt nạt và đe dọa trực tuyến.
- B. Lan truyền thông tin nhanh chóng và rộng khắp.
- C. Làm ảnh hưởng đến sức khoẻ thể chất và tinh thần của người sử dụng.
- D. Được sử dụng để lấy cắp dữ liệu.

Câu 3. Là một học sinh, chúng ta nên làm gì trên mạng xã hội?

- A. Bán hàng kém chất lượng để kiếm lời.
- B. Kết nối với bạn bè thân thiết 1 cách an toàn.
- C. Xúc phạm, miệt thị người khác.
- D. Khoe mẽ sự giàu có của bản thân.

Câu 4. Một số mạng xã hội quy định độ tuổi tối thiểu được phép tham gia tối thiểu là bao nhiêu?

- A. Từ 10 tuổi trở lên
- B. Từ 15 tuổi trở lên
- C. Từ 13 tuổi trở lên.
- D. Từ 18 tuổi trở lên

Câu 5. Nhược điểm của thẻ nhớ là gì?

- A. Dễ lây lan virus
- B. Dữ liệu dễ hỏng nếu không đúng cách
- C. Tất cả các phương án trên
- D. Dễ bị thất lạc

Câu 6. Những hạn chế của mạng xã hội đó là?

- A. Nguy cơ bị lừa đảo, đánh cắp thông tin cá nhân
- B. Đưa thông tin không chính xác hoặc tin xấu khiến chúng ta tin vào những thông tin sai lệch
- C. Có thể dễ dàng tiếp cận với những thông tin nguy hiểm, hình ảnh bạo lực
- D. Tất cả các phương án

Câu 7. Đâu không phải ưu điểm của mạng xã hội là:

- A. Tăng khả năng giao tiếp trực tiếp.
- B. Hỗ trợ người sử dụng giảng dạy và học tập.
- C. Giúp người sử dụng kết nối với người thân, bạn bè.
- D. Là nguồn cung cấp thông tin và cập nhật thông tin nhanh chóng, hiệu quả.

Câu 8. Ưu điểm của thẻ nhớ, USB là gì?

- A. Khá bền
- B. Nhỏ gọn
- C. Tiện sử dụng
- D. Tất cả các phương án

Câu 9. Các tệp chương trình thường có phần mở rộng là gì?

- A. .txt.
- B. .exe.
- C. .docx.
- D. .pptx.

Câu 10. Để đổi tên thư mục ta chọn bảng chọn nào?

- A. Rename
- B. Delete
- C. Copy
- D. Cut

Câu 11. Để bảo vệ dữ liệu em có thể sử dụng các cách nào sau đây?

- A. Tất cả các phương án.
- B. Cài đặt chương trình phòng chống virus
- C. Sao lưu dữ liệu ở bộ nhớ ngoài (ổ cứng ngoài, USB, thẻ nhớ,...) hoặc lưu trữ trên Internet nhờ công nghệ đám mây.

D. Đặt mật khẩu mạnh để truy cập vào máy tính hoặc tài khoản trên mạng.

Câu 12. Phương án nào dưới đây là tên phần mềm có thể bảo vệ máy tính tránh được virus?

A. Microsoft Word.

B. Mozilla Firefox.

C. Microsoft Windows.

D. Windows Defender.

Phần II (2 điểm). Câu trắc nghiệm đúng/sai: Trả lời câu 13,14. Trong mỗi ý A, B, C, D ở mỗi câu, chọn đúng hoặc sai và ghi ra giấy kiểm tra.

Câu 13: Mệnh đề nào sau đây đúng?

A. Một bảng tính có thể chứa nhiều trang tính.

C. Mỗi trang tính bao gồm nhiều bảng tính

B. Mỗi bảng tính chỉ chứa một trang tính.

D. Mỗi trang tính chỉ chứa một bảng tính

Câu 14: Trong phần mềm bảng tính, công thức tính nào dưới đây sai?

A. $=5^2+6*101$

C. $=2(3+4)$

B. $=6*(3+2)$

D. $=1^2+2^2$

III. Tự luận (5 điểm):

Câu 1(2 điểm). Em hãy trình bày những điểm tích cực, tiêu cực của mạng xã hội?

Câu 2(3 điểm). Trong excel, cho bảng dữ liệu sau:

	A	B	C	D	E	F
1	CÁC HÀM THỐNG KÊ					
2	18-08-17	28	Lan can	57	14/08/2017	
3	-1000		43	Lang thang		
4	19	35	11/08/17	10	Linh lan	
5	23	56	14			
6	Phong lan		-28	52		24
7	65	8	Lành mạnh	10		
8	66		51	-10	13-8-2017	

a. Viết công thức tìm Giá trị LỚN nhất của vùng trên?

b. Chuyển định dạng ô B4 thành dạng mm/dd/yyyy, kết quả là?

c. Viết công thức tìm Số ô chứa giá trị số của vùng A2:D8

Mã đề 701

(Đề này gồm 03 trang)

Môn: Lịch Sử & Địa Lí 7

Tiết theo KHDH: 22 - Thời gian làm bài: 60 phút

Phần I. Trắc nghiệm (5 điểm)

I. Trắc nghiệm nhiều phương án lựa chọn (3 điểm)

Mỗi câu hỏi chỉ lựa chọn một phương án đúng bằng cách ghi lại chữ cái đứng trước đáp án đúng vào giấy kiểm tra.

Phân môn Lịch sử

Câu 1: Quần thể kiến trúc nào ở Việt Nam chịu ảnh hưởng đậm nét từ văn hóa Hin-du của Ấn Độ?

- A. Chùa Một Cột
B. Ngọ Môn (Huế)
C. Tháp Phổ Minh
D. Thánh địa Mỹ Sơn

Câu 2 : Cuối thế kỉ XIX, Ấn Độ trở thành thuộc địa của nước nào?

- A. Anh
B. Pháp
C. Tây Ban Nha
D. Hà Lan.

Câu 3: Trong lịch sử trung đại Ấn Độ, vương triều nào được coi là giai đoạn thống nhất, phục hưng và phát triển?

- A. Vương triều Gúp-ta.
B. Vương triều Hồi giáo Đê-li.
C. Vương triều Mô-gôn.
D. Vương triều Hác-sa.

Câu 4: Đặc điểm của bộ máy nhà nước phong kiến Đông Nam Á là

- A. nền dân chủ phát triển.
B. nhà nước quân chủ lập hiến.
C. nhà nước quân chủ chuyên chế.
D. quyền lực của vua không lớn.

Câu 5: Chữ Phạn của Ấn Độ có ảnh hưởng đến chữ viết của các nước ở khu vực

- A. Bắc Phi.
B. Đông Bắc Á.
C. Đông Nam Á.
D. Tây Âu.

Câu 6: Là công trình kiến trúc Phật giáo, gồm 31 hang động, chủ yếu được xây dựng từ thế kỉ IV đến thế kỉ VIII. Năm 1983, công trình này được UNESCO công nhận là Di sản văn hóa thế giới.

- A. Đền Kha-giu-ha-rô.
B. Đền Tát-ma-han.
C. Bảo tháp San-chi.
D. Chùa hang A-gian-ta.

Phân môn Địa lí

Câu 1: Dãy Hi-ma-lay-a có ảnh hưởng như thế nào đến khí hậu Nam Á?

- A. Đón các khối khí lạnh vào mùa đông, chắn các khối khí mùa hạ vào Nam Á
B. Ngăn chặn ảnh hưởng của gió mùa ảnh hưởng tới Nam Á
C. Chặn các khối khí vào mùa đông tràn xuống, đón gió mùa hạ gây mưa cho sườn núi phía Nam
D. Gây ra hiệu ứng gió phơn khô nóng vào mùa hạ cho Nam Á

Câu 2: Hướng nghiêng chung nào của địa hình khu vực Nam Á?

- A. Hướng Tây - Đông.
B. Hướng vòng cung.
C. Hướng Tây Bắc - Đông Nam.
D. Hướng Tây Bắc.

Câu 3: Nam Á có các hệ thống sông lớn nào?

- A. Sông Ấn, sông Hằng, sông Mê-Công
B. Sông Ấn, sông Hằng, sông Ô-phrát
C. Sông Ấn, sông Hằng, sông Trường Giang
D. Sông Ấn, sông Hằng, sông Bra-ma-pút.



Câu 4: Thảm thực vật nào tiêu biểu ở khu vực Nam Á?

A. Rừng xích đạo.

B. Rừng nhiệt đới gió mùa và xa van.

C. Thảo nguyên và bán hoang mạc.

D. Rừng lá kim.

Câu 5: Phần hải đảo của Đông Á chịu ảnh hưởng của những thiên tai nào?

A. Bão tuyết

B. Động đất, núi lửa

C. Lốc xoáy

D. Hạn hán kéo dài

Câu 6: Tại sao cảnh quan tự nhiên của Tây Á phần lớn là bán hoang mạc và bán hoang mạc?

A. Do địa hình cao.

B. Nằm sâu trong nội địa.

C. Điều kiện khí hậu khô.

D. Gần dòng biển lạnh.

II. Trắc nghiệm đúng sai (2 điểm)

Trong mỗi ý: a, b, c, d ở mỗi câu mỗi câu dưới đây, học sinh chọn đúng hoặc sai và ghi vào giấy kiểm tra.

Phân môn Lịch sử

Eo biển Ma-lắc-ca, là eo biển nhộn nhịp, chiếm khoảng 30% giao dịch thương mại thế giới hàng năm. Nhiều nền kinh tế lớn như Nhật Bản, Trung Quốc, HÀN QUỐC... phụ thuộc lớn vào hoạt động thương mại thông qua eo biển này, bởi eo biển này

a. nằm giữa In-đô-nê-xi-a, Ma-lai-xi-a và Xin-ga-po.

b. nằm giữa Thái Lan và Cam-pu-chia.

c. nối Ấn Độ Dương với Thái Bình Dương.

d. nối Thái Bình Dương với Đại Tây dương.

Phân môn Địa lí

Đặc điểm tự nhiên khu vực Đông Nam Á:

a. Mạng lưới sông tương đối dày, các sông chính.

b. Phần hải đảo và phía đông phần đất liền có khí hậu gió mùa.

c. Cảnh quan chủ yếu là rừng mưa nhiệt đới.

d. Khí hậu khô hạn và nóng. Lượng mưa rất thấp, khoảng 200 - 300 mm/năm.

Phần II. Tự luận (5 điểm)

Phân môn Lịch sử

Câu 1. (1 điểm) Hãy kể tên bốn thành tựu văn hóa của các quốc gia Đông Nam Á chịu ảnh hưởng của văn hóa Ấn Độ thời phong kiến.

Câu 2. (1,5 điểm)

a. Hãy nêu thành tựu văn hóa về tín ngưỡng, tôn giáo của các quốc gia ở Đông Nam Á?

b. Từ những thành tựu trên em rút ra nhận xét gì?

Phân môn Địa lí

Câu 1. (1,5 điểm) Cho bảng số liệu

SỐ DÂN, MẬT ĐỘ DÂN SỐ CỦA CHÂU Á VÀ THẾ GIỚI NĂM 2020

Châu lục	Số dân (triệu người)	Mật độ dân số (người/km ²)
Châu Á	4641,1	150
Thế giới	7794,8	60

(Bảng số liệu này không tính số dân Liên bang Nga. Mật độ dân số châu Á không bao gồm phần dân số và diện tích của Liên bang Nga)

a. Hãy tính tỉ lệ số dân châu Á trong tổng số dân thế giới.

b. Qua bảng số liệu em hãy nhận xét về dân số và mật độ dân số của châu Á?

Câu 2. (1 điểm) Nêu một số hiểu biết của em về dân cư, xã hội ở châu Á.

.....Chúc các em làm bài tốt.....

