



Trò chơi: Bé thông minh



A





B

C

D

E

**Câu 1: Bé hãy tìm xem nhóm quả nào
có số lượng là 7?**



Hết giờ

Câu 2: Các con hãy tìm xem những số 7 và nhóm số lượng 7 có ở đâu trong phòng nhé?



- A. Số 7 trên đồng hồ
- B. Bức tranh lọ hoa sen có 7 bông hoa sen
- C. Bức tranh có 7 người
- D. Số 7 phía sau ghế sofa
- E. Tất cả các đáp án trên

Câu 3: Đố bé số còn thiếu trong ô trống là số nào?



Đáp án:

A. 5; 7

B. 2; 6

C. 3; 4

D. 1; 7