

**PHÒNG GIÁO DỤC VÀ ĐÀO TẠO QUẬN LONG BIÊN**  
**TRƯỜNG MẦM NON SƠN CA**



# **LĨNH VỰC PHÁT TRIỂN NHẬN THỨC**

## **ĐẾM VÀ NHẬN BIẾT NHÓM CÓ SỐ LƯỢNG 4**

Lứa tuổi: Mẫu giáo bé (3 - 4 tuổi)

Giáo viên: Lê Thị Giang



Năm học: 2022 - 2023

# MỤC ĐÍCH - YÊU CẦU

## \*Kiến thức:

- Trẻ đếm và nhận biết đúng nhóm đối tượng có số lượng là 4.
- Trẻ biết cách chơi trò chơi.

## \* Kỹ năng:

- Trẻ có kỹ năng đếm theo hàng ngang từ trái sang phải, từ trên xuống dưới, đếm không bỏ sót, đếm không lặp lại các đối tượng có số lượng là 4.
- Luyện kỹ năng quan sát, nhận xét và ghi nhớ cho trẻ.

## \* Thái độ:

- Trẻ hứng thú tham gia vào hoạt động.





Tham vọng ngàn năm

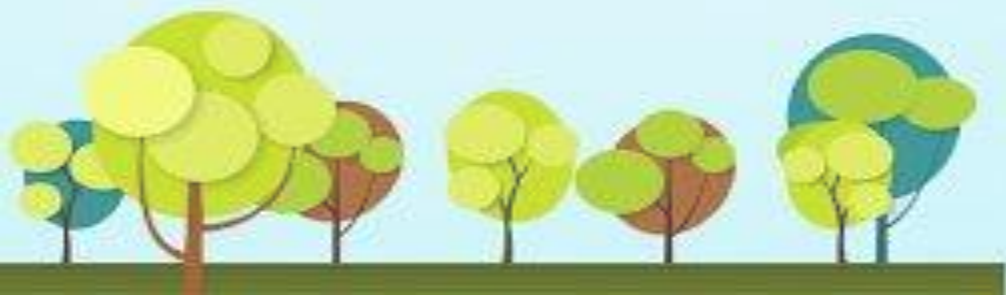
Bố làm

Cô sỹ






**Các con vừa hát bài hát gì?**





# ÔN NHẬN BIẾT NHÓM CÓ SỐ LƯỢNG 3


















**ĐẾM VÀ NHẬN BIẾT NHÓM  
CÓ SỐ LƯỢNG 4**


























A decorative banner with a light brown, scroll-like background. It is adorned with green leaves and pink flowers with yellow centers. A colorful butterfly is in the top right corner. The banner is set against a background of brown stone blocks.

**TRÒ CHƠI**

**THI XEM AI NHANH**





- 
- **Cách chơi:** Trên màn hình xuất hiện hình ảnh các nhóm con vật. Nhiệm vụ của các con là nghe câu hỏi và lựa chọn đáp án đúng. Thời gian suy nghĩ là 3 giây.
  - **Luật chơi:** Sau 3 giây suy nghĩ, các con hãy tìm nhanh và đúng nhóm con vật có số lượng theo yêu cầu nhé.





**Câu 1: Bé hãy tìm nhóm con vật có số lượng 4?**



**a. Nhóm con cá**



**b. Nhóm con cua**




**c. Nhóm con tôm**


**3**




**Câu 2:** Đố bé nhóm nào có 4 con vịt?



**Nhóm a**



**Nhóm b**




**Nhóm c**

**3**




**Câu 3:** Bé hãy tìm thẻ chấm tròn để hiện thị số lượng con voi?


a.



b.




c.







**Câu 4:** Trong các nhóm sau, nhóm nào có số lượng là 4?



a. Nhóm con ong



b. Nhóm con chim



c. Nhóm con bướm

**3**



**THANK YOU**