



LĨNH VỰC PHÁT TRIỂN NHẬN THỨC

LQVT: ĐẾM VÀ NHẬN BIẾT NHÓM CÓ SỐ LƯỢNG 5

Lứa tuổi: Mẫu giáo bé (3 - 4 tuổi)

Giáo viên: Thẩm Thu Trang



Năm học: 2022 - 2023

MỤC ĐÍCH - YÊU CẦU

* Kiến thức:

- Trẻ đếm và nhận biết đúng nhóm đối tượng có số lượng là 5.
- Trẻ biết cách chơi trò chơi.

* Kỹ năng:

- Trẻ có kỹ năng đếm theo hàng ngang từ trái sang phải, từ trên xuống dưới, đếm không bỏ sót, đếm không lặp lại các đối tượng có số lượng là 5.
- Luyện kỹ năng quan sát, nhận xét và ghi nhớ cho trẻ.

* Thái độ:

- Trẻ hứng thú tham gia vào hoạt động.



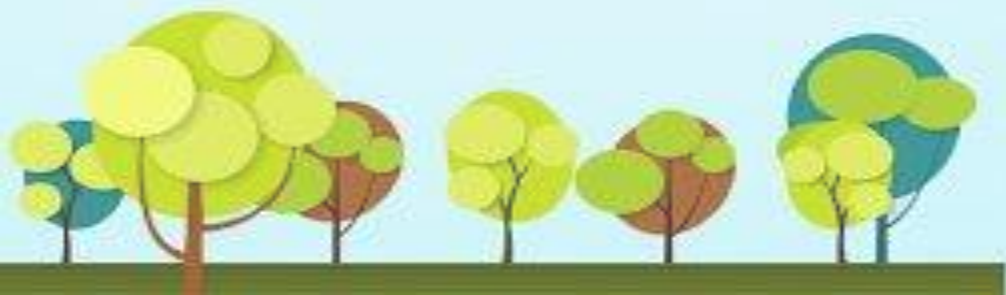


Bạn

ơì cò biết





Các con vừa hát bài hát gì?




ÔN NHẬN BIẾT NHÓM CÓ SỐ LƯỢNG 4











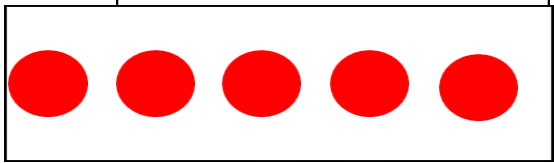


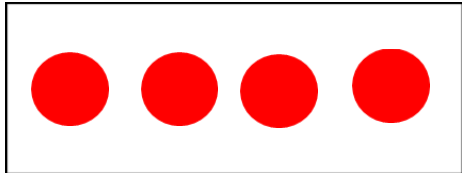

**ĐẾM VÀ NHẬN BIẾT NHÓM
CÓ SỐ LƯỢNG 5**




















A decorative banner with a light brown, scroll-like background. It is adorned with green leaves and pink flowers with yellow centers. A colorful butterfly is in the top right corner. The banner is set against a background of brown stone blocks.

TRÒ CHƠI

THI XEM AI NHANH



- 
- The illustration shows a boy and a girl sitting on a thick brown tree branch. The boy is on the left, wearing a red shirt and white overalls, with his arms raised. The girl is on the right, wearing a white shirt and a pink headband, pointing towards the text. A small yellow and blue bee is sitting between them. The background is a light blue sky with green leaves and a small scene of a palm tree and a bee near yellow flowers.
- **Cách chơi:** Trên màn hình xuất hiện hình ảnh các nhóm con vật. Nhiệm vụ của các con là nghe câu hỏi và lựa chọn đáp án đúng. Thời gian suy nghĩ là 3 giây.
 - **Luật chơi:** Sau 3 giây suy nghĩ, các con hãy tìm nhanh và đúng nhóm con vật có số lượng theo yêu cầu nhé.



Câu 1: Bé hãy tìm nhóm có số lượng 5?



a. Nhóm xe đạp



b. Nhóm xe máy




c. Nhóm xe ô tô

3



Câu 2: Đố bé nhóm nào có 5 cái ca nô?



Nhóm a



Nhóm b




Nhóm c

3




Câu 3: Bé hãy tìm thẻ chấm tròn để hiện thị số lượng máy bay?


a.



b.



c.





Câu 4: Trong các nhóm sau, nhóm nào có số lượng là 5?



a. Nhóm tàu thủy



b. Nhóm máy bay



c. Nhóm xe xích lô

3



THANK YOU