

**PHÒNG GIÁO DỤC VÀ ĐÀO TẠO QUẬN LONG BIÊN
TRƯỜNG MẦM NON SƠN CA**



Lĩnh vực: Phát triển nhận thức.

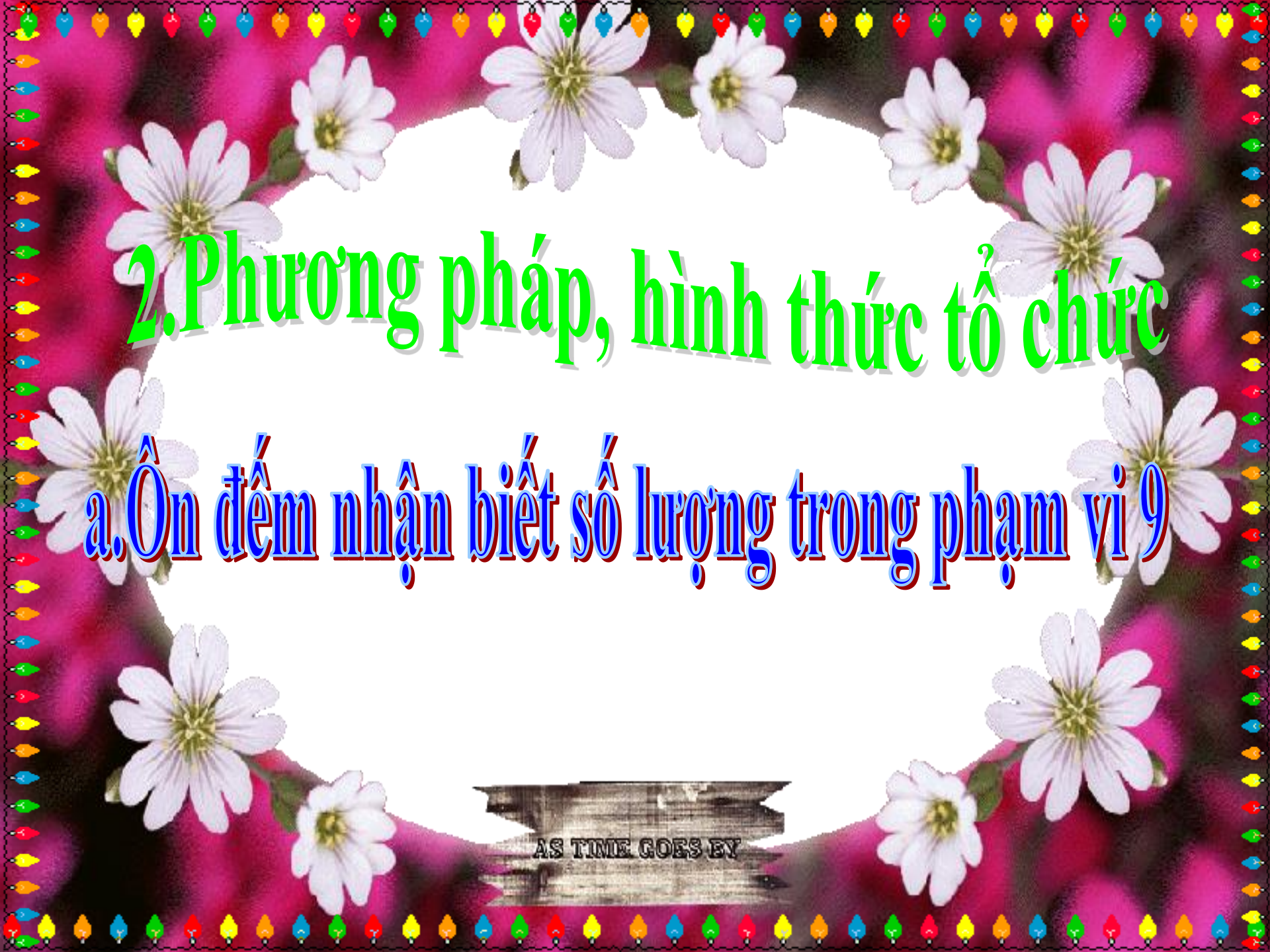
Đề tài: Nhận biết ý nghĩa của các con số trong cuộc sống hàng ngày.

Lứa tuổi: Mẫu giáo nhỡ

Giáo viên: Hoàng Thị Bích Hương

1. Ôn định tổ chức





2. Phương pháp, hình thức tổ chức

a. Ôn đếm nhận biết số lượng trong phạm vi 9

AS TIME GOES BY



Câu hỏi số 1: Con hãy đếm xem có bao nhiêu toa tàu hỏa ?

- a) 4 toa tàu
- b) 5 toa tàu
- c) 6 toa tàu
- d) 7 toa tàu



Submit

Clear





Câu hỏi số 2: Có bao nhiêu chiếc xe máy? Con hãy đếm và tìm thẻ số tương ứng ?


- a) 6 chiếc xe máy
- b) 7 chiếc xe máy
- d) 9 chiếc xe máy
- c) 8 chiếc xe máy

Submit

Clear







Câu hỏi số 3: Có bao nhiêu chiếc xe đạp?
Con hãy đếm và tìm thẻ số tương ứng

- a) 6 chiếc xe đạp
- b) 7 chiếc xe đạp
- c) 8 chiếc xe đạp
- d) 9 chiếc xe đạp

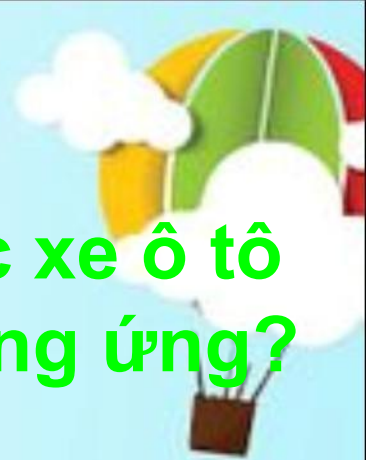



Submit

Clear







Câu hỏi số 4: Thỏ em có bao nhiêu chiếc xe ô tô đồ chơi? Con hãy đếm và tìm thẻ số tương ứng?

a) 3 chiếc ô tô

b) 5 chiếc ô tô

c) 7 chiếc ô tô

d) 9 chiếc ô tô



Submit

Clear





**b. Ý nghĩa của các con số
trong cuộc sống hàng ngày**







113









114









115









19 5



T2

T3

T4

T5

T6

T7

CN

1

20/11

2

21

3

22

4

23

5

24

6

25

7

26

8

27

9

28

10

29

11

30

12

1/12

13

2

14

3

15

4

16

5

17

6

18

7

19

8

20

9

21

10

22

11

23

12

24

13

25

14

26

15

27

16

28

17

29

18

30

19

31

20







Trò chơi



The background features a bright yellow sun in the top left, a green bee with antennae on the left, and a green spotted turtle on the right, all set against a backdrop of green grass and a blue sky with white clouds. The entire scene is framed by a decorative border of pink cherry blossoms and green leaves. The text is centered in a large, blue, sans-serif font.

Trò chơi 1: Ai nhanh hơn



Thứ 2, Thứ 3, Thứ 4, Thứ 5... Thứ 7, Chủ nhật

Câu hỏi số 1: Các con hãy tìm ngày trong tuần còn thiếu ?

a) Thứ 2

b) Thứ 3

c) Thứ 5

d) Thứ 6

Submit

Clear



Thứ 2, Thứ 3, Thứ 4, Thứ 5, Thứ 6, Thứ 7, Chủ nhật



Câu hỏi số 2: Con hãy tìm những số còn thiếu trên bàn phím điện thoại?

a) 1 và 3

b) 2 và 4

c) 5 và 7

d) 6 và 8

Submit

Clear







Câu hỏi số 3: Con hãy tìm những số còn thiếu trên đồng hồ nhé?

- a) 1, 3, 5 và 7
- b) 1,3,6 và 8
- c) 1, 3,6 và 9
- d) 1,3,7 và 9


Submit

Clear









Trò chơi 2: Chung sức

Câu hỏi số 1: Số điện thoại khẩn cấp 113 là số của ai?

- a) Xe cứu thương
- b) Cảnh sát
- c) Xe cứu hỏa



Submit

Clear

Câu hỏi số 2: Số điện thoại khẩn cấp 115 sẽ gọi đến ai?



- a) Xe cứu thương
- b) Cảnh sát
- c) Xe cứu hỏa



Submit

Clear

Câu hỏi số 3: Số điện thoại khẩn cấp 114 gọi đến đâu?

a) Cảnh sát

b) Xe cứu hỏa

c) Xe cứu thương



Submit

Clear

3. Kết thúc:

Chúng mình cùng đếm

