

**Phần I: Trắc nghiệm (3 điểm):** Chọn câu trả lời đúng:

**Câu 1.** Cho tập hợp  $A = \{-3; 2; 0; -1; 5; 7\}$ . Tập hợp  $B$  gồm các phần tử là số đối của các phần tử trong tập hợp  $A$  là:

A.  $B = \{3; -2; 0; 1; -5; 7\}$ .

C.  $B = \{3; -2; 0; 1; -5; -7\}$ .

B.  $B = \{3; -2; 0; -5; -7\}$ .

D.  $B = \{-3; 2; 0; 1; -5; -7\}$ .

**Câu 2.** Cách sắp xếp các số:  $-2022; 5; 0; -12$  theo thự tăng dần là:

A.  $-2022; 5; 0; -12$

C.  $-2022; -12; 5; 0$

B.  $-2022; 0; 5; -12$

D.  $-2022; -12; 0; 5$

**Câu 3.** Phân tích số 54 ra thừa số nguyên tố được:

A.  $54 = 2.3^2$

B.  $54 = 3.2^3$

C.  $54 = 2.3^3$

D.  $54 = 3.2^2$

**Câu 4.** ƯCLN(12,36) bằng:

A. 15

B. 30

C. 6

D. 12

**Câu 5.** Chữ số thích hợp ở dấu \* để số  $\overline{2*}$  là số nguyên tố là:

A. 1

B. 3

C. 5

D. 7

**Câu 6.** Kết quả phép tính nào sau đây đúng?

A.  $2^5 : 2^2 = 2^3$ .

C.  $2^5 : 2^2 = 2^{10}$ .

B.  $2^5 : 2^2 = 2^7$ .

D.  $2^5 : 2^2 = 2$ .

**Câu 7.** Tập hợp các bội của 12 là :

A.  $\{1; 12; 24; 36; \dots\}$

B.  $\{0; 12; 24; 36\}$

C.  $\{0; 12; 24; 36; \dots\}$

D.  $\{0; 24; 36; 48; \dots\}$

**Câu 8.** Cho  $\overline{630*}$  chia hết cho 5 và 9 thì \* là:

A. 9

B. 0

C. 5

D. 3

**Câu 9.** Bác Mai cần dùng bao nhiêu mét dây thép để uốn thành một móc treo đồ có dạng hình thoi với độ dài một cạnh là 25cm?

A. 1m

B. 10m

C. 25cm

D. 25m

**Câu 10:** Hình bình hành có diện tích  $50\text{cm}^2$  và có độ dài một cạnh là 10cm thì độ dài đường cao tương ứng với cạnh đó là:

A. 15cm

B. 10cm

C. 5cm

D. 20cm

**Câu 11.** Chọn phát biểu đúng:

A. Hình thang cân có các cạnh bên song song.

B. Hình thoi có hai đường chéo vuông góc.

C. Hình bình hành có bốn góc bằng nhau.

D. Hình chữ nhật có bốn cạnh bằng nhau.

Câu 12. Hình nào dưới đây không có trục đối xứng?



A



B



C



D

**Phần II: Tự luận (7 điểm)**

**Bài 1 (1,5 điểm)** Thực hiện phép tính:

a)  $-152 + 163 + 152 - 63$

b)  $51.85 + 51.34 - 51.19$

c)  $(-2)^2 \cdot (2022^0 + 24) - 123$

**Bài 2 (1,5 điểm)** Tìm x:

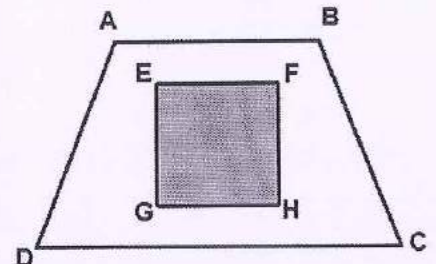
a)  $85 - x = 126$

b)  $76 - (x - 87) = 47$

c)  $584 - (x - 1)^3 = -416$

**Bài 3 (1,5 điểm)** Để đóng gói đồ chuẩn bị cho việc sửa chữa, thư viện trường đã đóng gói số sách tham khảo thành từng bó. Nếu xếp mỗi bó 12 quyển, 15 quyển hoặc 18 quyển thì đều vừa đủ. Tìm số sách tham khảo có trong thư viện biết số sách trong khoảng 600 đến 800 quyển.

**Bài 4 (2 điểm)** Một khu đất hình thang cân  $ABCD$  có độ dài các cạnh đáy lần lượt là 30m và 36m và chiều cao là 25m. Trong khu đất đó, người ta đào một cái ao hình vuông  $EFHG$  (phần màu xanh) như hình vẽ; phần đất còn lại trồng hoa.



a) Tính diện tích phần đất trồng hoa? Biết rằng  $EF = 15m$

b) Để giữ bờ, người ta trồng cây xung quanh bờ ao, biết rằng cây đầu tiên trồng ở điểm E và cứ 3m thì người ta trồng một cây. Hỏi quanh bờ ao, trồng được bao nhiêu cây?

**Bài 5 (0,5 điểm)**

Chứng minh:  $5n + 7$  và  $3n + 4$  là hai số nguyên tố cùng nhau.

----- Chúc các em làm bài tốt! -----

**Phần I: Trắc nghiệm (3 điểm):** Chọn câu trả lời đúng:

**Câu 1.** Cho tập hợp  $X = \{7; -8; -2; 0; 6; 11\}$ . Tập hợp  $Y$  gồm các phần tử là số đối của các phần tử trong tập hợp  $X$  là:

- A.  $Y = \{7; -8; 2; 0; -6; 11\}$ .  
B.  $Y = \{7; -8; 2; 0; -6\}$ .  
C.  $Y = \{-7; 8; 2; 0; -6; -11\}$ .  
D.  $Y = \{-7; 8; 2; 1; -6; 11\}$ .

**Câu 2.** Cách sắp xếp các số:  $-2022; 0; 6; -7$  theo thứ tăng dần là:

- A.  $-2022; 6; 0; -7$   
B.  $-2022; 0; 6; -7$   
C.  $-2022; -7; 6; 0$   
D.  $-2022; -7; 0; 6$

**Câu 3.** Phân tích số 48 ra thừa số nguyên tố được:

- A.  $48 = 2^3 \cdot 3$   
B.  $48 = 3 \cdot 2^2$   
C.  $48 = 2^4 \cdot 3$   
D.  $48 = 3^2 \cdot 2$

**Câu 4.** ƯCLN(18,48) bằng:

- A. 18  
B. 34  
C. 3  
D. 6

**Câu 5.** Chữ số thích hợp ở dấu \* để số  $\overline{4*}$  là số nguyên tố là:

- A. 2  
B. 4  
C. 7  
D. 5

**Câu 6.** Kết quả phép tính nào sau đây đúng?

- A.  $6^7 : 6^5 = 6^2$ .  
B.  $6^7 : 6^5 = 6^{12}$ .  
C.  $6^5 : 6^2 = 6^{10}$ .  
D.  $6^5 : 6^2 = 6$ .

**Câu 7.** Tập hợp các bội của 11 là :

- A.  $\{1; 11; 22; 33; \dots\}$   
B.  $\{0; 11; 22; 33\}$   
C.  $\{0; 11; 22; 33; \dots\}$   
D.  $\{0; 22; 33; 44; \dots\}$

**Câu 8.** Cho  $\overline{610*}$  chia hết cho 3 và 5 thì \* là:

- A. 4  
B. 0  
C. 5  
D. 3

**Câu 9.** Bác Loan cần dùng bao nhiêu mét dây thép để uốn thành một khung ảnh có dạng hình thoi với độ dài một cạnh là 30dm?

- A. 120m  
B. 12m  
C. 30dm  
D. 30m


**Câu 10:** Hình thang cân có một đáy bằng 10cm, cạnh bên là 5cm và chu vi của hình thang cân đó là 28cm. Độ dài cạnh đáy còn lại là:

- A. 5cm  
B. 10cm  
C. 8cm  
D. 13cm

**Câu 11.** Chọn phát biểu đúng:

- A. Hình thang cân có các cạnh bên vuông góc.  
B. Hình chữ nhật có bốn góc bằng nhau.  
C. Hình bình hành có bốn cạnh bằng nhau.  
D. Hình thoi có hai đường chéo song song.

**Câu 12.** Hình nào dưới đây không có trục đối xứng?



A



B



C



D

**Phần II: Tự luận (7 điểm)**

**Bài 1 (1,5 điểm)** Thực hiện phép tính:

a)  $-263 + 177 + 263 - 77$

b)  $26.75 + 26.37 - 26.12$

c)  $(-2)^2 \cdot (2023^0 + 49) - 254$

**Bài 2 (1,5 điểm)** Tìm x:

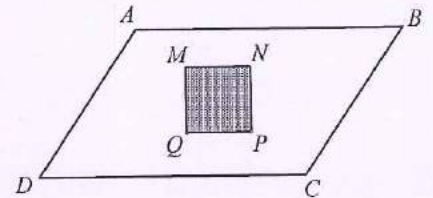
a)  $78 - x = 99$

b)  $98 - (x - 66) = 54$

c)  $20 - (x - 5)^3 = -44$

**Bài 3 (1,5 điểm)** Học sinh khối 6 khi xếp hàng 9, hàng 10, hàng 15 đều vừa đủ. Biết số học sinh khối 6 trong khoảng từ 150 đến 200 học sinh. Tính số học sinh khối 6?

**Bài 4 (2 điểm)** Một khu vườn hình bình hành  $ABCD$  có độ dài cạnh  $AB$  là 20m và chiều cao tương ứng là 12m. Trong khu vườn đó, người ta đào một cái ao hình vuông  $MNPQ$  (phần màu xanh) như hình vẽ; phần đất còn lại trồng hoa.



a) Tính diện tích phần đất trồng hoa? Biết rằng  $MN = 10m$

b) Để giữ bờ, người ta trồng cây xung quanh bờ ao, biết rằng cây đầu tiên trồng ở điểm  $M$  và cứ 2m thì người ta trồng một cây. Hỏi quanh bờ ao, trồng được bao nhiêu cây?

**Bài 5 (0,5 điểm)**

Chứng minh:  $2n + 3$  và  $3n + 4$  là hai số nguyên tố cùng nhau.

----- Chúc các em làm bài tốt! -----

**Phần I: Trắc nghiệm (4 điểm): Chọn chữ cái đứng trước đáp án đúng**

**Câu 1:** Thao tác ghi nhớ và cất giữ tài liệu của con người được xếp vào hoạt động nào trong quá trình xử lí thông tin?

- A. Thu nhận                                      B. Xử lí  
C. Lưu trữ                                        D. Truyền thông tin

**Câu 2:** Đặc điểm nào sau đây không thuộc về máy tính?

- A. Thực hiện nhanh và chính xác                                      B. Lưu trữ lớn  
C. Suy nghĩ sáng tạo    D. Hoạt động bền bỉ

**Câu 3:** Thiết bị nào sau đây là thiết bị kết nối?

- A. Bộ định tuyến                                      B. Máy in  
C. Máy tính    D. Máy quét

**Câu 4:** Mạng máy tính gồm các thành phần:

- A. Máy tính và thiết bị kết nối  
B. Thiết bị đầu cuối, thiết bị kết nối và phần mềm mạng  
C. Thiết bị đầu cuối và thiết bị kết nối  
D. Máy tính và phần mềm mạng

**Câu 5:** Để kết nối với Internet, máy tính phải được cài đặt và cung cấp dịch vụ bởi:

- A. Nhà cung cấp dịch vụ Internet.                                      B. Người quản trị mạng xã hội.  
C. Người quản trị mạng máy tính.                                      D. Một máy tính khác.

**Câu 6:** Phần mềm giúp người sử dụng truy cập các trang web trên Internet gọi là gì?

- A. Trình duyệt web                                      B. Địa chỉ web  
C. Công cụ tìm kiếm                                      D. Website

**Câu 7:** Để tìm kiếm thông tin về lớp vỏ Trái Đất, em sử dụng từ khóa nào sau đây để thu hẹp phạm vi tìm kiếm?

- A. Trái Đất.    B. "lớp vỏ Trái Đất".  
C. Lớp vỏ Trái Đất.                                      D. "lớp vỏ".

**Câu 8:** Địa chỉ thư điện tử bắt buộc phải có kí tự nào?

- A. &    B. \$  
C. #    D. @

**Phần II: Tự luận (6 điểm):**

**Bài 1 (3 điểm):** Thư điện tử là gì? Nêu ưu và nhược điểm của thư điện tử?

**Bài 2 (2 điểm):** Máy tìm kiếm là gì? Từ khóa là gì?

**Bài 3 (1 điểm):** Hãy nêu 4 địa chỉ website có nội dung phục vụ việc học tập mà em biết.

**Phần I: Trắc nghiệm (4 điểm): Chọn chữ cái đứng trước đáp án đúng**

**Câu 1:** Để tìm kiếm thông tin về lớp vỏ Trái Đất, em sử dụng từ khóa nào sau đây để thu hẹp phạm vi tìm kiếm?

- A. "lớp vỏ Trái Đất".                      B. Trái Đất.  
C. Lớp vỏ Trái Đất.                        D. "lớp vỏ".

**Câu 2:** Địa chỉ thư điện tử bắt buộc phải có kí tự nào?

- A. &    B. \$  
C. @    D. #

**Câu 3:** Thao tác ghi nhớ và cất giữ tài liệu của con người được xếp vào hoạt động nào trong quá trình xử lí thông tin?

- A. Thu nhận                                    B. Xử lí  
C. Truyền thông tin                        D. Lưu trữ

**Câu 4:** Để kết nối với Internet, máy tính phải được cài đặt và cung cấp dịch vụ bởi:

- A. Người quản trị mạng máy tính.                      B. Người quản trị mạng xã hội.  
C. Nhà cung cấp dịch vụ Internet.                      D. Một máy tính khác.

**Câu 5:** Phần mềm giúp người sử dụng truy cập các trang web trên Internet gọi là gì?

- A. Trình duyệt web                        B. Địa chỉ web  
C. Công cụ tìm kiếm                        D. Website

**Câu 6:** Đặc điểm nào sau đây không thuộc về máy tính?

- A. Thực hiện nhanh và chính xác                      B. Lưu trữ lớn  
C. Suy nghĩ sáng tạo                        D. Hoạt động bền bỉ

**Câu 7:** Thiết bị nào sau đây là thiết bị kết nối?

- A. Máy quét                                    B. Máy in  
C. Máy tính                                    D. Bộ định tuyến

**Câu 8:** Mạng máy tính gồm các thành phần:

- A. Máy tính và thiết bị kết nối  
B. Thiết bị đầu cuối, thiết bị kết nối và phần mềm mạng  
C. Thiết bị đầu cuối và thiết bị kết nối  
D. Máy tính và phần mềm mạng

**Phần II: Tự luận (6 điểm):**

**Bài 1 (3 điểm):** Nêu một số đặc điểm và lợi ích của internet?

**Bài 2 (2 điểm):** Trình duyệt là gì? Máy tìm kiếm là gì?

**Bài 3 (1 điểm):** Hãy nêu 4 địa chỉ website có nội dung phục vụ việc học tập mà em biết.

**Phần I: Trắc nghiệm (4 điểm): Chọn chữ cái đứng trước đáp án đúng**

**Câu 1:** Để kết nối với Internet, máy tính phải được cài đặt và cung cấp dịch vụ bởi:

- A. Nhà cung cấp dịch vụ Internet.
- B. Người quản trị mạng xã hội.
- C. Người quản trị mạng máy tính.
- D. Một máy tính khác.

**Câu 2:** Phần mềm giúp người sử dụng truy cập các trang web trên Internet gọi là gì?

- A. Trình duyệt web
- B. Địa chỉ web
- C. Công cụ tìm kiếm
- D. Website

**Câu 3:** Để tìm kiếm thông tin về lớp vỏ Trái Đất, em sử dụng từ khóa nào sau đây để thu hẹp phạm vi tìm kiếm?

- A. Trái Đất.
- B. "lớp vỏ Trái Đất".
- C. Lớp vỏ Trái Đất.
- D. "lớp vỏ".

**Câu 4:** Địa chỉ thư điện tử bắt buộc phải có kí tự nào?

- A. &
- B. \$
- C. #
- D. @

**Câu 5:** Thao tác ghi nhớ và cất giữ tài liệu của con người được xếp vào hoạt động nào trong quá trình xử lí thông tin?

- A. Thu nhận
- B. Xử lí
- C. Lưu trữ
- D. Truyền thông tin

**Câu 6:** Đặc điểm nào sau đây không thuộc về máy tính?

- A. Thực hiện nhanh và chính xác
- B. Lưu trữ lớn
- C. Suy nghĩ sáng tạo
- D. Hoạt động bèn bí

**Câu 7:** Thiết bị nào sau đây là thiết bị kết nối?

- A. Bộ định tuyến
- B. Máy in
- C. Máy tính
- D. Máy quét

**Câu 8:** Mạng máy tính gồm các thành phần:

- A. Máy tính và thiết bị kết nối
- B. Thiết bị đầu cuối, thiết bị kết nối và phần mềm mạng
- C. Thiết bị đầu cuối và thiết bị kết nối
- D. Máy tính và phần mềm mạng

**Phần II: Tự luận (6 điểm):**

**Bài 1 (3 điểm):** Internet là gì? Nêu đặc điểm của internet? Hãy kể tên 4 trình duyệt mà em biết?

**Bài 2 (2 điểm):** Thư điện tử là gì? Từ khóa là gì?

**Bài 3 (1 điểm):** Hãy nêu 4 địa chỉ website có nội dung phục vụ việc học tập mà em biết.

**Phần I: Trắc nghiệm (4 điểm): Chọn chữ cái đứng trước đáp án đúng****Câu 1:** Mạng máy tính gồm các thành phần:

- A. Máy tính và thiết bị kết nối
- B. Máy tính và phần mềm mạng
- C. Thiết bị đầu cuối và thiết bị kết nối
- D. Thiết bị đầu cuối, thiết bị kết nối và phần mềm mạng

**Câu 2:** Để kết nối với Internet, máy tính phải được cài đặt và cung cấp dịch vụ bởi:

- A. Người quản trị mạng máy tính.
- B. Người quản trị mạng xã hội.
- C. Nhà cung cấp dịch vụ Internet.
- D. Một máy tính khác.

**Câu 3:** Thao tác ghi nhớ và cất giữ tài liệu của con người được xếp vào hoạt động nào trong quá trình xử lí thông tin?

- A. Thu nhận
- B. Lưu trữ
- C. Xử lí
- D. Truyền thông tin

**Câu 4:** Địa chỉ thư điện tử bắt buộc phải có kí tự nào?

- A. &
- B. \$
- C. @
- D. #

**Câu 5:** Đặc điểm nào sau đây không thuộc về máy tính?

- A. Suy nghĩ sáng tạo
- B. Lưu trữ lớn
- C. Thực hiện nhanh và chính xác
- D. Hoạt động bền bỉ

**Câu 6:** Để tìm kiếm thông tin về lớp vỏ Trái Đất, em sử dụng từ khóa nào sau đây để thu hẹp phạm vi tìm kiếm?

- A. Trái Đất.
- B. "lớp vỏ".
- C. Lớp vỏ Trái Đất.
- D. "lớp vỏ Trái Đất".

**Câu 7:** Thiết bị nào sau đây là thiết bị kết nối?

- A. Máy in
- B. Bộ định tuyến
- C. Máy tính
- D. Máy quét

**Câu 8:** Phần mềm giúp người sử dụng truy cập các trang web trên Internet gọi là gì?

- A. Trình duyệt web
- B. Địa chỉ web
- C. Công cụ tìm kiếm
- D. Website

**Phần II: Tự luận (6 điểm):****Bài 1 (3 điểm):** Thư điện tử là gì? Nêu ưu và nhược điểm của thư điện tử?**Bài 2 (2 điểm):** Trình duyệt là gì? Hãy kể tên 4 trình duyệt mà em biết.**Bài 3 (1 điểm):** Hãy nêu 4 địa chỉ website có nội dung phục vụ việc học tập mà em biết.



**Phần I: Trắc nghiệm (7 điểm):**

*Viết lại chữ cái đứng trước câu trả lời đúng vào giấy kiểm tra:*

**Câu 1. Phương pháp bảo quản thực phẩm bằng phương pháp đông lạnh không áp dụng với thực phẩm nào sau đây?**

- A. Thịt.                      B. Thịt và cá.                      C. Cá.                      D. Rau củ.

**Câu 2. Thực phẩm nào sau đây được bảo quản bằng phương pháp sấy khô?**

- A. Sò ốc.                      B. Cua.                      C. Tôm.                      D. Rau cải.

**Câu 3. Ăn đúng bữa là ăn mỗi ngày ba bữa chính, các bữa chính cách nhau khoảng:**

- A. 7 giờ.                      B. 3 giờ.                      C. Không quy định.                      D. 4 – 5 giờ

**Câu 4. Đối với phương pháp làm lạnh, thực phẩm được bảo quản ở nhiệt độ nào?**

- A. Trên 7°C                      B. Từ 1°C đến 7°C                      C. Dưới 0°C                      D. -1°C

**Câu 5. Việc làm nào sau đây cho thấy ăn không đúng cách?**

- A. Tạo bầu không khí thân mật, vui vẻ trong bữa ăn.  
B. Tập trung cho việc ăn uống  
C. Vừa ăn vừa xem tivi  
D. Nhai kĩ.

**Câu 6. Phần nào sau đây của ngôi nhà có nằm sâu dưới mặt đất?**

- A. Móng nhà.                      B. Cột nhà.                      C. Dầm nhà.                      D. Sàn nhà.

**Câu 7. Muốn cơ thể phát triển một cách cân đối và khỏe mạnh, chúng ta cần có thói quen ăn uống khoa học ra sao?**

- A. Ăn nhiều thức ăn giàu chất đạm, ăn đúng giờ.  
B. Ăn nhiều bữa, ăn đủ chất dinh dưỡng.  
C. Ăn thật no, ăn nhiều thực phẩm cung cấp chất béo.  
D. Ăn đúng bữa, ăn đúng cách, đảm bảo an toàn vệ sinh thực phẩm, uống đủ nước.

**Câu 8. Hoạt động phơi khô áo quần ngoài trời sử dụng năng lượng gì?**

- A. Chát đốt.                      B. Mặt trời.                      C. Điện.                      D. Khác.

**Câu 9. Phương pháp chế biến thực phẩm nào dưới đây có sử dụng nhiệt?**

- A. Trộn dầu giấm.                      B. Trộn hỗn hợp.                      C. Muối chua.                      D. Kho

**Câu 10. Món ăn nào không thuộc phương pháp làm chín thực phẩm trong nước?**

- A. Rau luộc.                      B. Tôm nướng.                      C. Canh chua.                      D. Thịt kho.

**Câu 11. Vì sao nước không phải là chất dinh dưỡng nhưng lại có vai trò rất quan trọng đối với đời sống con người?**

- A. Nước là thành phần chủ yếu của cơ thể giúp chuyển hóa và trao đổi chất của cơ thể.  
B. Nước là môi trường cho mọi chuyển hóa và trao đổi chất của cơ thể.

**Câu 20. Vật liệu nào sau đây không dùng để dựng tường?**

- A. Xi măng                      B. Gạch                      C. Ngói                      D. Cát

**Câu 21. Nêu chức năng dinh dưỡng của chất béo?**

- A. Cung cấp vitamin.  
B. Là dung môi hòa tan các vitamin.  
C. Chuyển hóa một số vitamin cần thiết cho cơ thể.  
D. Tăng sức đề kháng cho cơ thể.

**Câu 22. Nêu biện pháp không đảm bảo an toàn thực phẩm?**

- A. Tránh để lẫn lộn thực phẩm sống với thực phẩm cần nấu chín.  
B. Rau quả, thịt, cá ... phải mua tươi hoặc ướp lạnh.  
C. Để lẫn lộn thực phẩm sống và đã nấu chín.  
D. Thực phẩm đóng hộp phải chú ý hạn sử dụng.

**Câu 23. Những món ăn nào phù hợp buổi sáng?**

- A. Cơm, rau xào, cá sốt cà chua.                      B. Cơm, thịt kho, canh rau, dưa hấu.  
C. Cơm, thịt rang, canh.                      D. Bánh mì, trứng ốp, sữa tươi.

**Câu 24. Thực phẩm hư hỏng do những nguyên nhân nào?**

- A. Không bảo quản thực phẩm kỹ.  
B. Để thực phẩm lâu ngày.  
C. Thực phẩm hết hạn sử dụng.  
D. Để thực phẩm lâu ngày, không bảo quản thực phẩm kỹ, thực phẩm hết hạn sử dụng.

**Câu 25. Biểu hiện nào dưới đây thể hiện tiết kiệm năng lượng?**

- A. Không tắt điều hoà khi không có người sử dụng.  
B. Không đóng tủ lạnh sau khi dùng xong.  
C. Tắt điện, quạt, tivi khi đi ra ngoài.  
D. Không tắt điện, quạt, tivi khi đi ra ngoài.

**Câu 26. Loại chất khoáng nào sau đây tham gia vào quá trình cấu tạo và là thành phần của hồng cầu trong máu?**

- A. Sắt.                      B. Canxi.                      C. Iốt                      D. Vitamin A

**Câu 27. Phương pháp làm chín thực phẩm trong chất béo ở nhiệt độ cao đó là:**

- A. Hấp.                      B. Rán.                      C. Rang.                      D. Luộc.

**Câu 28. Loại thực phẩm nào sau đây cần ăn hạn chế nhất theo tháp dinh dưỡng cân đối?**

- A. Hoa quả.                      B. Rau củ.                      C. Muối.                      D. Thịt.

**Phần II: Tự luận (3 điểm)**

**Câu 1 (2 điểm): Thế nào chế biến thực phẩm? Em hãy nêu khái niệm, ưu, nhược điểm của phương pháp chế biến luộc?**

**Câu 2 (1 điểm): Vận dụng kiến thức đã học, em hãy lựa chọn và nêu quy trình chế biến một món ăn?**

----- HẾT -----

**Phần I: Trắc nghiệm (7 điểm):**

*Viết lại chữ cái đứng trước câu trả lời đúng vào giấy kiểm tra:*

**Câu 1. Mô tả nào sau đây không chính xác khi nói về ngôi nhà thông minh?**

- A. Đèn tự động tắt khi không còn người trong phòng.
- B. Cửa ra vào tự động mở khi chủ nhà đứng ở cửa.
- C. Đèn bàn tự động sáng khi có người ngồi vào bàn.
- D. Quạt điện chạy khi có người mở công tắc của quạt.

**Câu 2. Ăn đúng bữa là ăn mỗi ngày ba bữa chính, các bữa chính cách nhau khoảng:**

- A. Không quy định.
- B. 4 – 5 giờ
- C. 7 giờ.
- D. 3 giờ.

**Câu 3. Phương pháp bảo quản thực phẩm bằng phương pháp đông lạnh không áp dụng với thực phẩm nào sau đây?**

- A. Rau củ.
- B. Thịt.
- C. Cá.
- D. Thịt và cá.

**Câu 4. Trang phục có vai trò nào sau đây?**

- A. Che chở cho con người.
- B. Góp phần tôn lên vẻ đẹp của con người.
- C. Che chở cho con người; bảo vệ cơ thể con người khỏi tác hại của thời tiết; góp phần tôn lên vẻ đẹp của con người.
- D. Bảo vệ cơ thể con người khỏi tác hại của thời tiết.

**Câu 5. Thực phẩm hư hỏng do những nguyên nhân nào?**

- A. Thực phẩm hết hạn sử dụng.
- B. Để thực phẩm lâu ngày, không bảo quản thực phẩm kỹ, thực phẩm hết hạn sử dụng.
- C. Để thực phẩm lâu ngày.
- D. Không bảo quản thực phẩm kỹ.

**Câu 6. Phần nào sau đây của ngôi nhà có nằm sâu dưới mặt đất?**

- A. Móng nhà.
- B. Cột nhà.
- C. Sàn nhà.
- D. Dầm nhà.

**Câu 7. Cách làm nào dưới đây giúp tiết kiệm điện khi sử dụng tủ lạnh?**

- A. Hạn chế số lần và thời gian mở cửa tủ lạnh.
- B. Cất thức ăn còn nóng vào tủ lạnh.
- C. Không đóng chặt cửa tủ lạnh khiến hơi lạnh thất thoát ra ngoài.
- D. Sử dụng tủ lạnh có dung tích lớn cho gia đình ít người.

**Câu 8. Muốn cơ thể phát triển một cách cân đối và khỏe mạnh, chúng ta cần có thói quen ăn uống khoa học ra sao?**

- A. Ăn thật no, ăn nhiều thực phẩm cung cấp chất béo.
- B. Ăn nhiều bữa, ăn đủ chất dinh dưỡng.
- C. Ăn nhiều thức ăn giàu chất đạm, ăn đúng giờ.

D. Ăn đúng bữa, ăn đúng cách, đảm bảo an toàn vệ sinh thực phẩm, uống đủ nước.

**Câu 9. *Nêu chức năng dinh dưỡng của chất béo?***

A. Chuyển hóa một số vitamin cần thiết cho cơ thể.

B. Cung cấp vitamin.

C. Là dung môi hòa tan các vitamin.

D. Tăng sức đề kháng cho cơ thể.

**Câu 10. *Món ăn nào không thuộc phương pháp làm chín thực phẩm trong nước?***

A. Tôm nướng.

B. Canh chua.

C. Rau luộc.

D. Thịt kho.

**Câu 11. *Ý nghĩa của việc lắp đặt hệ thống năng lượng mặt trời trên mái nhà là:***

A. Tạo ra nguồn năng lượng sạch.

B. Tạo ra nguồn năng lượng thân thiện với môi trường.

C. Tiết kiệm tiền điện

D. Tạo ra nguồn năng lượng sạch, thân thiện với môi trường và tiết kiệm tiền điện.

**Câu 12. *Vật liệu nào sau đây không dùng để dựng tường?***

A. Xi măng

B. Gạch

C. Cát

D. Gạch

**Câu 13. *Phương pháp làm chín thực phẩm trong chất béo ở nhiệt độ cao đó là:***

A. Hấp.

B. Rán.

C. Rang.

D. Luộc.

**Câu 14. *Loại thực phẩm nào sau đây cần ăn hạn chế nhất theo tháp dinh dưỡng cân đối?***

A. Hoa quả.

B. Muối.

C. Thịt.

D. Rau củ.

**Câu 15. *Nêu biện pháp không đảm bảo an toàn thực phẩm?***

A. Để lẫn lộn thực phẩm sống và đã nấu chín.

B. Rau quả, thịt, cá ... phải mua tươi hoặc ướp lạnh.

C. Thực phẩm đóng hộp phải chú ý hạn sử dụng.

D. Tránh để lẫn lộn thực phẩm sống với thực phẩm cần nấu chín.

**Câu 16. *Chúng ta tiết kiệm năng lượng bằng cách?***

A. Tận dụng năng lượng mặt trời.

B. Tận dụng năng lượng gió

C. Tận dụng năng lượng gió, năng lượng mặt trời.

D. Không sử dụng năng lượng gió, năng lượng mặt trời

**Câu 17. *Thực phẩm nào sau đây được bảo quản bằng phương pháp sấy khô?***

A. Tôm.

B. Cua.

C. Sò ốc.

D. Rau cải.

**Câu 18. *Những món ăn nào phù hợp buổi sáng?***

A. Bánh mì, trứng ốp, sữa tươi.

B. Cơm, thịt kho, canh rau, dưa hấu.

C. Cơm, rau xào, cá sốt cà chua.

D. Cơm, thịt rang, canh.

**Câu 19. *Nhóm thực phẩm nào sau đây cung cấp nhiều chất đạm?***

A. Thịt nạc, cá, tôm, trứng.

B. Ớt chuông, cà rốt, cần tây.

C. Ngũ cốc, bánh mì, khoai, sữa.

D. Mỡ động vật, dầu thực vật, bơ.

**Câu 20. *Phương pháp chế biến thực phẩm nào dưới đây có sử dụng nhiệt?***

A. Muối chua.

B. Trộn dầu giấm.

C. Kho

D. Trộn hỗn hợp.

- Câu 21. Đối với phương pháp làm lạnh, thực phẩm được bảo quản ở nhiệt độ nào?  
 A.  $-1^{\circ}\text{C}$                       B. Dưới  $0^{\circ}\text{C}$                       C. Trên  $7^{\circ}\text{C}$                       D. Từ  $1^{\circ}\text{C}$  đến  $7^{\circ}\text{C}$
- Câu 22. Loại chất khoáng nào sau đây tham gia vào quá trình cấu tạo và là thành phần của hồng cầu trong máu?  
 A. Sắt.                      B. Iốt                      C. Canxi.                      D. Vitamin A
- Câu 23. Việc làm nào sau đây cho thấy ăn không đúng cách?  
 A. Nhai kĩ.  
 B. Tạo bầu không khí thân mật, vui vẻ trong bữa ăn.  
 C. Vừa ăn vừa xem tivi  
 D. Tập trung cho việc ăn uống
- Câu 24. Vì sao nước không phải là chất dinh dưỡng nhưng lại có vai trò rất quan trọng đối với đời sống con người?  
 A. Nước là thành phần chủ yếu của cơ thể giúp chuyển hóa và trao đổi chất của cơ thể.  
 B. Nước là thành phần chủ yếu của cơ thể, là môi trường cho mọi chuyển hóa và trao đổi chất của cơ thể giúp cơ thể điều hòa thân nhiệt.  
 C. Nước là môi trường cho mọi chuyển hóa và trao đổi chất của cơ thể.  
 D. Giúp cơ thể điều hòa thân nhiệt.
- Câu 25. Hoạt động phơi khô áo quần ngoài trời sử dụng năng lượng gì?  
 A. Chất đốt.                      B. Mặt trời.                      C. Điện.                      D. Khác.
- Câu 26. Biểu hiện nào dưới đây thể hiện tiết kiệm năng lượng?  
 A. Không đóng tủ lạnh sau khi dùng xong.  
 B. Không tắt điều hoà khi không có người sử dụng.  
 C. Tắt điện, quạt, tivi khi đi ra ngoài.  
 D. Không tắt điện, quạt, tivi khi đi ra ngoài.
- Câu 27. Món ăn nào dưới đây được chế biến bằng phương pháp không sử dụng nhiệt?  
 A. Rau muống luộc.                      B. Canh cua mồng toi.  
 C. Trứng tráng.                      D. Dưa cải chua.
- Câu 28. Chất dinh dưỡng nào là nguồn cung cấp năng lượng chủ yếu cho mọi hoạt động của cơ thể?  
 A. Chất béo.                      B. Chất đạm.  
 C. Vitamin.                      D. Chất tinh bột, chất đường và chất xơ.

**Phần II: Tự luận (3 điểm)**

Câu 1 (2 điểm): Thế nào chế biến thực phẩm? Em hãy nêu khái niệm, ưu, nhược điểm của phương pháp chế biến kho?

Câu 2 (1 điểm): Vận dụng kiến thức đã học, em hãy lựa chọn và nêu quy trình chế biến một món ăn?

----- HẾT -----

**Phần I: Trắc nghiệm (7 điểm):**

*Viết lại chữ cái đứng trước câu trả lời đúng vào giấy kiểm tra:*

**Câu 1. Loại thực phẩm nào sau đây cần ăn hạn chế nhất theo tháp dinh dưỡng cân đối?**

- A. Muối.                      B. Rau củ.                      C. Hoa quả.                      D. Thịt.

**Câu 2. Những món ăn nào phù hợp buổi sáng?**

- A. Cơm, rau xào, cá sốt cà chua.                      B. Cơm, thịt rang, canh.  
C. Cơm, thịt kho, canh rau, dưa hấu.                      D. Bánh mì, trứng ốp, sữa tươi.

**Câu 3. Muốn cơ thể phát triển một cách cân đối và khỏe mạnh, chúng ta cần có thói quen ăn uống khoa học ra sao?**

- A. Ăn nhiều bữa, ăn đủ chất dinh dưỡng.  
B. Ăn đúng bữa, ăn đúng cách, đảm bảo an toàn vệ sinh thực phẩm, uống đủ nước.  
C. Ăn nhiều thức ăn giàu chất đạm, ăn đúng giờ.  
D. Ăn thật no, ăn nhiều thực phẩm cung cấp chất béo.

**Câu 4. Phương pháp chế biến thực phẩm nào dưới đây có sử dụng nhiệt?**

- A. Muối chua.                      B. Kho                      C. Trộn dầu giấm.                      D. Trộn hỗn hợp.

**Câu 5. Vật liệu nào sau đây không dùng để dựng tường?**

- A. Xi măng                      B. Cát                      C. Gạch                      D. Ngói

**Câu 6. Chất dinh dưỡng nào là nguồn cung cấp năng lượng chủ yếu cho mọi hoạt động của cơ thể?**

- A. Chất béo.                      B. Chất tinh bột, chất đường và chất xơ.  
C. Vitamin.                      D. Chất đạm.

**Câu 7. Phương pháp làm chín thực phẩm trong chất béo ở nhiệt độ cao đó là:**

- A. Hấp.                      B. Rang.                      C. Rán.                      D. Luộc.

**Câu 8. Mô tả nào sau đây không chính xác khi nói về ngôi nhà thông minh?**

- A. Đèn tự động tắt khi không còn người trong phòng.  
B. Quạt điện chạy khi có người mở công tắc của quạt.  
C. Cửa ra vào tự động mở khi chủ nhà đứng ở cửa.  
D. Đèn bàn tự động sáng khi có người ngồi vào bàn.

**Câu 9. Phần nào sau đây của ngôi nhà có nằm sâu dưới mặt đất?**

- A. Cột nhà.                      B. Sàn nhà.                      C. Móng nhà.                      D. Dầm nhà.

**Câu 10. Món ăn nào dưới đây được chế biến bằng phương pháp không sử dụng nhiệt?**

- A. Canh cua mồng toi.                      B. Trứng tráng.  
C. Dưa cải chua.                      D. Rau muống luộc.

**Câu 11. Việc làm nào sau đây cho thấy ăn không đúng cách?**

- A. Tạo bầu không khí thân mật, vui vẻ trong bữa ăn.
- B. Vừa ăn vừa xem tivi
- C. Nhai kĩ.
- D. Tập trung cho việc ăn uống

**Câu 12. Thực phẩm hư hỏng do những nguyên nhân nào?**

- A. Không bảo quản thực phẩm kỹ.
- B. Để thực phẩm lâu ngày, không bảo quản thực phẩm kỹ, thực phẩm hết hạn sử dụng.
- C. Thực phẩm hết hạn sử dụng.
- D. Để thực phẩm lâu ngày.

**Câu 13. Nêu biện pháp không đảm bảo an toàn thực phẩm?**

- A. Thực phẩm đóng hộp phải chú ý hạn sử dụng.
- B. Tránh để lẫn lộn thực phẩm sống với thực phẩm cần nấu chín.
- C. Rau quả, thịt, cá ... phải mua tươi hoặc ướp lạnh.
- D. Để lẫn lộn thực phẩm sống và đã nấu chín.

**Câu 14. Ý nghĩa của việc lắp đặt hệ thống năng lượng mặt trời trên mái nhà là:**

- A. Tạo ra nguồn năng lượng thân thiện với môi trường.
- B. Tạo ra nguồn năng lượng sạch.
- C. Tạo ra nguồn năng lượng sạch, thân thiện với môi trường và tiết kiệm tiền điện.
- D. Tiết kiệm tiền điện

**Câu 15. Nêu chức năng dinh dưỡng của chất béo?**

- A. Tăng sức đề kháng cho cơ thể.
- B. Cung cấp vitamin.
- C. Chuyển hóa một số vitamin cần thiết cho cơ thể.
- D. Là dung môi hòa tan các vitamin.

**Câu 16. Phương pháp bảo quản thực phẩm bằng phương pháp đông lạnh không áp dụng với thực phẩm nào sau đây?**

- A. Thịt và cá.
- B. Cá.
- C. Thịt.
- D. Rau củ.

**Câu 17. Hoạt động phơi khô áo quần ngoài trời sử dụng năng lượng gì?**

- A. Chất đốt.
- B. Mặt trời.
- C. Khác.
- D. Điện.

**Câu 18. Món ăn nào không thuộc phương pháp làm chín thực phẩm trong nước?**

- A. Thịt kho.
- B. Rau luộc.
- C. Tôm nướng.
- D. Canh chua.

**Câu 19. Đối với phương pháp làm lạnh, thực phẩm được bảo quản ở nhiệt độ nào?**

- A. Từ 1°C đến 7°C
- B. Dưới 0°C
- C. Trên 7°C
- D. -1°C

**Câu 20. Chúng ta tiết kiệm năng lượng bằng cách?**

- A. Không sử dụng năng lượng gió, năng lượng mặt trời
- B. Tận dụng năng lượng gió, năng lượng mặt trời.
- C. Tận dụng năng lượng mặt trời.
- D. Tận dụng năng lượng gió

**Câu 21. Cách làm nào dưới đây giúp tiết kiệm điện khi sử dụng tủ lạnh?**

- A. Cất thức ăn còn nóng vào tủ lạnh.
- B. Hạn chế số lần và thời gian mở cửa tủ lạnh.
- C. Không đóng chặt cửa tủ lạnh khiến hơi lạnh thất thoát ra ngoài.
- D. Sử dụng tủ lạnh có dung tích lớn cho gia đình ít người.

**Câu 22. Vì sao nước không phải là chất dinh dưỡng nhưng lại có vai trò rất quan trọng đối với đời sống con người?**

- A. Nước là môi trường cho mọi chuyển hóa và trao đổi chất của cơ thể.
- B. Nước là thành phần chủ yếu của cơ thể giúp chuyển hóa và trao đổi chất của cơ thể.
- C. Nước là thành phần chủ yếu của cơ thể, là môi trường cho mọi chuyển hóa và trao đổi chất của cơ thể giúp cơ thể điều hòa thân nhiệt.
- D. Giúp cơ thể điều hòa thân nhiệt.

**Câu 23. Ăn đúng bữa là ăn mỗi ngày ba bữa chính, các bữa chính cách nhau khoảng:**

- A. 7 giờ.
- B. 4 – 5 giờ
- C. Không quy định.
- D. 3 giờ.

**Câu 24. Trang phục có vai trò nào sau đây?**

- A. Che chở cho con người.
- B. Góp phần tôn lên vẻ đẹp của con người.
- C. Bảo vệ cơ thể con người khỏi tác hại của thời tiết.
- D. Che chở cho con người; bảo vệ cơ thể con người khỏi tác hại của thời tiết; góp phần tôn lên vẻ đẹp của con người.

**Câu 25. Nhóm thực phẩm nào sau đây cung cấp nhiều chất đạm?**

- A. Thịt nạc, cá, tôm, trứng.
- B. Ngũ cốc, bánh mì, khoai, sắn.
- C. Ớt chuông, cà rốt, cần tây.
- D. Mỡ động vật, dầu thực vật, bơ.

**Câu 26. Loại chất khoáng nào sau đây tham gia vào quá trình cấu tạo và là thành phần của hồng cầu trong máu?**

- A. Iốt
- B. Canxi.
- C. Sắt.
- D. Vitamin A

**Câu 27. Thực phẩm nào sau đây được bảo quản bằng phương pháp sấy khô?**

- A. Rau cải.
- B. Sò ốc.
- C. Tôm.
- D. Cua.

**Câu 28. Biểu hiện nào dưới đây thể hiện tiết kiệm năng lượng?**

- A. Tắt điện, quạt, tivi khi đi ra ngoài.
- B. Không tắt điều hoà khi không có người sử dụng.
- C. Không đóng tủ lạnh sau khi dùng xong.
- D. Không tắt điện, quạt, tivi khi đi ra ngoài.

### **Phần II: Tự luận (3 điểm)**

**Câu 1 (2 điểm): Thế nào chế biến thực phẩm? Em hãy nêu khái niệm, ưu, nhược điểm của phương pháp chế biến luộc?**

**Câu 2 (1 điểm): Vận dụng kiến thức đã học, em hãy lựa chọn và nêu quy trình chế biến một món ăn?**

----- HẾT -----



D. Thực phẩm hết hạn sử dụng.

**Câu 10. Thực phẩm nào sau đây được bảo quản bằng phương pháp sấy khô?**

A. Sò ốc.

B. Tôm.

C. Cua.

D. Rau cải.

**Câu 11. Việc làm nào sau đây cho thấy ăn không đúng cách?**

A. Tạo bầu không khí thân mật, vui vẻ trong bữa ăn.

B. Vừa ăn vừa xem tivi

C. Tập trung cho việc ăn uống

D. Nhai kĩ.

**Câu 12. Phương pháp chế biến thực phẩm nào dưới đây có sử dụng nhiệt?**

A. Trộn hỗn hợp.

B. Trộn dầu giấm.

C. Kho

D. Muối chua.

**Câu 13. Nêu biện pháp không đảm bảo an toàn thực phẩm?**

A. Để lẫn lộn thực phẩm sống và đã nấu chín.

B. Tránh để lẫn lộn thực phẩm sống với thực phẩm cần nấu chín.

C. Rau quả, thịt, cá ... phải mua tươi hoặc ướp lạnh.

D. Thực phẩm đóng hộp phải chú ý hạn sử dụng.

**Câu 14. Trang phục có vai trò nào sau đây?**

A. Che chở cho con người; bảo vệ cơ thể con người khỏi tác hại của thời tiết; góp phần tôn lên vẻ đẹp của con người.

B. Góp phần tôn lên vẻ đẹp của con người.

C. Bảo vệ cơ thể con người khỏi tác hại của thời tiết.

D. Che chở cho con người.

**Câu 15. Loại chất khoáng nào sau đây tham gia vào quá trình cấu tạo và là thành phần của hồng cầu trong máu?**

A. Sắt.

B. Vitamin A

C. Canxi.

D. Iốt

**Câu 16. Phần nào sau đây của ngôi nhà có nằm sâu dưới mặt đất?**

A. Móng nhà.

B. Cột nhà.

C. Dầm nhà.

D. Sàn nhà.

**Câu 17. Loại thực phẩm nào sau đây cần ăn hạn chế nhất theo tháp dinh dưỡng cân đối?**

A. Thịt.

B. Hoa quả.

C. Muối.

D. Rau củ.

**Câu 18. Nêu chức năng dinh dưỡng của chất béo?**

A. Là dung môi hòa tan các vitamin.

B. Tăng sức đề kháng cho cơ thể.

C. Cung cấp vitamin.

D. Chuyển hóa một số vitamin cần thiết cho cơ thể.

**Câu 19. Vật liệu nào sau đây không dùng để dựng tường?**

A. Gạch

B. Ngói

C. Cát

D. Xi măng

**Câu 20. Chúng ta tiết kiệm năng lượng bằng cách?**

A. Không sử dụng năng lượng gió, năng lượng mặt trời

B. Tận dụng năng lượng mặt trời.

C. Tận dụng năng lượng gió, năng lượng mặt trời.

D. Tận dụng năng lượng gió

**Câu 21. Những món ăn nào phù hợp buổi sáng?**

A. Cơm, thịt kho, canh rau, dưa hấu.

B. Cơm, thịt rang, canh.

C. Cơm, rau xào, cá sốt cà chua.

D. Bánh mì, trứng ốp, sữa tươi.

**Câu 22. Vì sao nước không phải là chất dinh dưỡng nhưng lại có vai trò rất quan trọng đối với đời sống con người?**

A. Giúp cơ thể điều hòa thân nhiệt.

B. Nước là thành phần chủ yếu của cơ thể, là môi trường cho mọi chuyển hóa và trao đổi chất của cơ thể giúp cơ thể điều hòa thân nhiệt.

C. Nước là thành phần chủ yếu của cơ thể giúp chuyển hóa và trao đổi chất của cơ thể.

D. Nước là môi trường cho mọi chuyển hóa và trao đổi chất của cơ thể.

**Câu 23. Muốn cơ thể phát triển một cách cân đối và khỏe mạnh, chúng ta cần có thói quen ăn uống khoa học ra sao?**

A. Ăn nhiều thức ăn giàu chất đạm, ăn đúng giờ.

B. Ăn thật no, ăn nhiều thực phẩm cung cấp chất béo.

C. Ăn đúng bữa, ăn đúng cách, đảm bảo an toàn vệ sinh thực phẩm, uống đủ nước.

D. Ăn nhiều bữa, ăn đủ chất dinh dưỡng.

**Câu 24. Mô tả nào sau đây không chính xác khi nói về ngôi nhà thông minh?**

A. Đèn bàn tự động sáng khi có người ngồi vào bàn.

B. Quạt điện chạy khi có người mở công tắc của quạt.

C. Đèn tự động tắt khi không còn người trong phòng.

D. Cửa ra vào tự động mở khi chủ nhà đứng ở cửa.

**Câu 25. Phương pháp bảo quản thực phẩm bằng phương pháp đông lạnh không áp dụng với thực phẩm nào sau đây?**

A. Rau củ.

B. Cá.

C. Thịt.

D. Thịt và cá.

**Câu 26. Đối với phương pháp làm lạnh, thực phẩm được bảo quản ở nhiệt độ nào?**

A.  $-1^{\circ}\text{C}$

B. Từ  $1^{\circ}\text{C}$  đến  $7^{\circ}\text{C}$

C. Trên  $7^{\circ}\text{C}$

D. Dưới  $0^{\circ}\text{C}$

**Câu 27. Ăn đúng bữa là ăn mỗi ngày ba bữa chính, các bữa chính cách nhau khoảng:**

A. 7 giờ.

B. 4 – 5 giờ

C. Không quy định.

D. 3 giờ.

**Câu 28. Hoạt động phơi khô áo quần ngoài trời sử dụng năng lượng gì?**

A. Mặt trời.

B. Điện.

C. Khác.

D. Chất đốt.

**Phần II: Tự luận (3 điểm)**

**Câu 1 (2 điểm): Thế nào chế biến thực phẩm? Em hãy nêu khái niệm, ưu, nhược điểm của phương pháp chế biến nướng?**

**Câu 2 (1 điểm): Vận dụng kiến thức đã học, em hãy lựa chọn và nêu quy trình chế biến một món ăn?**

----- HẾT -----

**PHẦN I: ĐỌC – HIỂU (6 ĐIỂM)**

Đọc văn bản và trả lời các câu hỏi từ 1 đến 8 bằng cách ghi lại chữ cái của câu trả lời đúng vào giấy kiểm tra:

*Mẹ*  
*Lặng rồi cả tiếng con ve,*  
*Con ve cũng mệt vì hè nắng oi.*  
*Nhà em vẫn tiếng ạ òi,*  
*Kêu cả tiếng vông mẹ ngồi mẹ ru.*  
*Lời ru có gió mùa thu,*  
*Bàn tay mẹ quạt mẹ đưa gió về.*  
*Những ngôi sao thức ngoài kia,*  
*Chẳng bằng mẹ đã thức vì chúng con.*  
*Đêm nay con ngủ giấc tròn,*  
*Mẹ là ngọn gió của con suốt đời.*

(Trần Quốc Minh)

**Câu 1: Bài thơ trên được viết theo thể thơ nào?**

- A. Tám chữ. B. Tự do.  
C. Lục bát biến thể. D. Lục bát.

**Câu 2: Phương thức biểu đạt chính trong bài thơ là:**

- A. Tự sự B. Miêu tả  
C. Biểu cảm D. Tự sự và biểu cảm

**Câu 3: Hai câu đầu bài thơ gieo vần ở những chữ:**

- A. ve - hè B. lặng - nắng  
C. ve - oi D. hè - oi

**Câu 4: Chủ đề chính của bài thơ là gì?**

- A. Giấc mơ của con. B. Bàn tay mẹ chăm sóc con.  
C. Tình yêu mẹ dành cho con. D. Thiên nhiên mùa hè.

**Câu 5: Tình cảm nào của người viết được thể hiện xuyên suốt và đậm nét nhất trong bài thơ?**

- A. Ấn tượng về tiếng ve mùa hè. B. Yêu thích bức tranh mùa hè.  
C. Thương chú ve mệt mỏi vì nắng hè. D. Yêu thương và biết ơn mẹ.

**Câu 6: Các biện pháp tu từ được sử dụng trong hai câu thơ sau là:**

“*Những ngôi sao thức ngoài kia*  
*Chẳng bằng mẹ đã thức vì chúng con*”

- A. So sánh. B. So sánh, nhân hóa.  
C. So sánh, nhân hóa, ẩn dụ. D. So sánh, nhân hóa, điệp ngữ.

**Câu 7: Thông điệp tác giả muốn gửi gắm qua 2 câu thơ trên (câu 6) là:**

- A. Miêu tả hành động chăm sóc của mẹ dành cho các con.  
B. Gọi sự hi sinh thầm lặng của mẹ.

- C. So sánh những đêm mẹ thức để chăm sóc con với với ngôi sao .  
D. Ngợi ca tình yêu thương, sự hi sinh của mẹ dành cho các con.

**Câu 8:** Trong dòng thơ: “*Những ngôi sao thức ngoài kia*” có mấy cụm danh từ?

- A. Một                      B. Hai                      C. Ba                      D. Bốn

**Câu 9:** (2 điểm)

Tìm và nêu ngắn gọn tác dụng của biện pháp tu từ trong 2 câu thơ:

“*Đêm nay con ngủ giấc tròn*”  
*Mẹ là ngọn gió của con suốt đời*”

**Câu 10:** (2 điểm)

Từ nội dung bài thơ, em hãy chia sẻ về tình yêu thương mà em đã nhận được từ một người thân trong gia đình. Em đã làm gì để đáp lại những tình cảm ấy?

**PHẦN II. VIẾT (4 điểm)**

Gia đình là nơi in dấu bao kỉ niệm thân thương.

Em hãy viết bài văn (khoảng 1,5 trang giấy thi) kể về một kỉ niệm của em với gia đình mình.

*Chúc các em làm bài tốt!*

**PHẦN I: ĐỌC – HIỂU (6 ĐIỂM)**

Đọc văn bản và trả lời các câu hỏi từ 1 đến 8 bằng cách ghi lại chữ cái của câu trả lời đúng vào giấy kiểm tra:

... “Bao nhiêu khổ nhọc cam go  
Đời cha chờ nặng chuyển đồ gian nan!  
Nhưng chưa một tiếng thở than  
Mong cho con khỏe, con ngoan vui rồi.  
Cha như biển rộng, mây trời  
Bao la nghĩa nặng đời đời con mang!...”

(Trích “Ngày của Cha” - Phan Thanh Tùng)

**Câu 1:** Bài thơ trên được viết theo thể thơ nào?

- A. Tám chữ. B. Tự do.  
C. Lục bát biến thể. D. Lục bát.

**Câu 2:** Phương thức biểu đạt chính trong bài thơ là?

- A. Tự sự. B. Miêu tả.  
C. Biểu cảm. D. Tự sự và biểu cảm.

**Câu 3:** Hai câu đầu bài thơ gieo vần ở những chữ:

- B. Go – nan. B. go – ðò.  
C. cam – nan. D. nhọc – ðò.

**Câu 4:** Chủ đề chính của bài thơ là gì?

- A. Tình cảm gia đình. B. Tình phụ tử.  
C. Tình yêu thiên nhiên. D. Tình yêu quê hương đất nước.

**Câu 5:** Tình cảm nào của người viết được thể hiện xuyên suốt và đậm nét nhất trong bài thơ?

- A. Ấn tượng về trời biển. B. Yêu thích bức tranh thiên nhiên.  
C. Thương chuyển đồ gian nan. D. Yêu thương và biết ơn cha.

**Câu 6:** Hai câu thơ sau sử dụng biện pháp tu từ nổi bật nào?

Bao nhiêu khổ nhọc cam go  
Đời cha chờ nặng chuyển đồ gian nan!

- A. So sánh. B. Hoán dụ.  
C. Ẩn dụ. D. Nhân hóa.

**Câu 7:** Thông điệp tác giả muốn gửi gắm qua 2 câu thơ trên (Câu 6) là:

- A. Người cha muốn dành hết tình yêu thương cho con, nhận hết về mình cả hành trình gian nan vất vả để con được sống thật tốt.  
B. Người cha mong con sống tốt.  
C. Người cha mong con sống ngoan, vui khỏe.  
D. Người cha luôn quan tâm con.

**Câu 8:** Trong dòng thơ: “Đời cha chờ nặng chuyển đồ gian nan!” có mấy cụm danh từ?

- A. Một. B. Hai.

C. Ba.

D. Bốn.

**Câu 9: (2 điểm)**

Tìm và nêu ngắn gọn tác dụng của biện pháp tu từ trong 2 câu thơ:

*“Cha như biển rộng, mây trời*

*Bao la nghĩa nặng đời đời con mang!...”*

**Câu 10: (2 điểm)**

Từ thông điệp của bài thơ, hãy chia sẻ những cảm nhận của em về gia đình mình?

**PHẦN II. VIẾT (4 điểm)**

Em hãy viết bài văn (khoảng 1,5 trang giấy thi) kể về một kỉ niệm sâu sắc của em với một người mà em yêu quý trong gia đình mình.

*Chúc các em làm bài tốt!*

**I. TRẮC NGHIỆM: (5.0 điểm): Em hãy chọn và ghi lại chữ cái đứng trước đáp án đúng nhất vào giấy kiểm tra**

**Phân môn: Lịch sử**

**Câu 1. Ở Ai Cập, người đứng đầu nhà nước được gọi là**

- A. Pha-ra-ông.                      B. En-xi.                      C. Thiên tử.                      D. Thiên hoàng.

**Câu 2. Nhà nước Ai Cập cổ đại được hình thành trên lưu vực dòng sông nào?**

- A. Trường Giang.                      B. Nin.                      C. Ti-gơ.                      D. Ô-phrát.

**Câu 3. Quốc gia Ai Cập và Lưỡng Hà cổ đại được xây dựng trên nền tảng kinh tế là**

- A. nông nghiệp trồng lúa nước                      B. thủ công nghiệp và thương nghiệp.  
C. mậu dịch hàng hải quốc tế.                      D. thủ công nghiệp hàng hóa

**Câu 4. Công trình nào dưới đây là một trong bảy kỳ quan thế giới cổ đại?**

- A. Tượng Nhân sư ở Ai Cập.                      B. Thành Ba-bi-lon ở Lưỡng Hà.  
C. Công I-sơ-ta ở Lưỡng Hà.                      D. Khu lăng mộ Gi-za ở Ai Cập.

**Câu 5. Các công trình kiến trúc ở Ai Cập và Lưỡng Hà thường đồ sộ vì muốn thể hiện**

- A. sức mạnh của đất nước                      B. sức mạnh của thần thánh.  
C. sức mạnh và uy quyền của nhà vua                      D. tình đoàn kết dân tộc

**Câu 6. Điều kiện tự nhiên ở lưu vực sông Ấn và sông Hằng thuận lợi cho Ấn Độ phát triển kinh tế**

- A. thủ công nghiệp.                      B. nông nghiệp.                      C. thương nghiệp.                      D. dịch vụ.

**Câu 7. Thời cổ đại, cư dân Trung Quốc tập trung chủ yếu ở lưu vực hai con sông lớn là**

- A. Nin.                      B. Ti-gơ và Ô-phrát.                      C. Hằng và Ấn.                      D. Trường Giang và Hoàng Hà.

**Câu 8. Điều kiện tự nhiên của La Mã cổ đại thuận lợi cho sự phát triển của nền kinh tế nào sau đây?**

- A. Nông nghiệp trồng lúa nước                      B. Khai thác lâm sản  
C. Buôn bán qua đường biển                      D. Nông nghiệp trồng các cây gia vị như: hồ tiêu, gừng...

**Câu 9. Vạn Lí Trường Thành được người Trung Quốc xây dựng nhằm mục đích gì?**

- A. Ngăn chặn các cuộc tấn công từ bên ngoài.  
B. Ngăn chặn dòng nước lũ từ thượng nguồn tràn về.  
C. Thuận lợi cho việc giao thông đi lại giữa các vùng.  
D. Thể hiện sức mạnh của các nhà nước phong kiến.

**Câu 10. Một trong những biểu tượng của nền văn minh Trung Quốc là**

- A. Vạn Lí Trường Thành.                      B. Lăng mộ Tần Thủy Hoàng.  
C. Kim chỉ nam.                      D. Sử kí của Tư Mã Thiên.

## Phân môn Địa lí

**Câu 11.** Dựa vào công dụng, khoáng sản được chia thành mấy nhóm?

- A. 3 nhóm                      B. 4 nhóm                      C. 2 nhóm                      D. 5 nhóm

**Câu 12.** Các khoáng sản như dầu mỏ, khí đốt, than đá thuộc nhóm khoáng sản nào sau đây?

- A. Nhiên liệu                      B. Kim loại đen.                      C. Kim loại màu.                      D. Phi kim loại.

**Câu 13.** Cấu tạo bên trong của Trái Đất gồm mấy lớp?

- A. 3 lớp                      B. 4 lớp                      C. 5 lớp                      D. 6 lớp

**Câu 14.** Trái Đất chuyển động một vòng quanh Mặt Trời trên quỹ đạo hết bao nhiêu thời gian?

- A. 365 ngày 12 giờ                      B. 365 ngày 6 giờ                      C. 365 ngày                      D. 30 ngày

**Câu 15.** Nấm đá là dạng địa hình được hình thành do tác động của

- A. sóng biển.                      B. băng hà.                      C. nước chảy.                      D. gió.

**Câu 16.** Lãnh thổ Việt Nam nằm trong địa mảng nào?

- A. Mảng Ấn Độ - Ôxtrâyliia                      B. Mảng Á -Âu                      C. Mảng Thái Bình Dương                      D. Mảng Phi

**Câu 17.** Bề mặt Trái Đất được chia thành mấy khu vực giờ?

- A. 20 khu vực giờ                      B. 24 khu vực giờ                      C. 15 khu vực giờ                      D. 12 khu vực giờ

**Câu 18.** Một quốc gia được biết đến là nơi thường xuyên xảy ra động đất, núi lửa là

- A. Nhật Bản                      B. Việt Nam                      C. Trung Quốc                      D. Thái Lan

**Câu 19.** Đất đỏ ba dan màu mỡ được hình thành do quá trình phong hóa các sản phẩm phun trào núi lửa tập trung chủ yếu ở khu vực nào của nước ta?

- A. Đồng bằng sông Hồng                      B. Miền núi Tây Bắc                      C. Tây Nguyên                      D. Bắc Trung Bộ

**Câu 20.** Các địa điểm nằm ở cực Bắc và cực Nam có hiện tượng

- A. Ngày, đêm dài 12 giờ                      B. ngày dài hơn đêm  
C. ngày dài 24 giờ                      D. ngày, đêm dài suốt 6 tháng

## II. TỰ LUẬN (5.0 điểm)

### Phân môn Lịch sử

**Câu 1.** (1.5 điểm) Điều kiện tự nhiên của Hy Lạp cổ đại có những thuận lợi và khó khăn gì đối với sự hình thành và phát triển của nền văn minh nơi đây?

**Câu 2.** (1.0 điểm) Kể tên những thành tựu chủ yếu của nền văn minh Trung Quốc thời cổ đại. Giới thiệu một thành tựu văn minh Trung Quốc cổ đại mà em thích nhất?

### Phân môn Địa lí

**Câu 3.** (1.5 điểm) Nêu đặc điểm quá trình nội lực? (Nguồn gốc hình thành, biểu hiện, kết quả tác động đến bề mặt trái đất)?

**Câu 4.** (1.0 điểm) Phân tích đặc điểm của dạng địa hình núi? Cho ví dụ cụ thể?



**I. TRẮC NGHIỆM: (5.0 điểm): Em hãy chọn và ghi lại chữ cái đứng trước đáp án đúng nhất vào giấy kiểm tra**

**Phân môn: Lịch sử**

**Câu 1. Điều kiện tự nhiên ở lưu vực sông Ấn và sông Hằng thuận lợi cho Ấn Độ phát triển nền kinh tế**

- A. thủ công nghiệp.      B. nông nghiệp.      C. thương nghiệp.      D. dịch vụ.

**Câu 2. Thời cổ đại, cư dân Trung Quốc tập trung chủ yếu ở lưu vực hai con sông lớn là**

- A. Nin.      B. Ti-grơ và Ô-phrát.      C. Hằng và Ấn      D. Trường Giang và Hoàng Hà.

**Câu 3. Điều kiện tự nhiên của La Mã cổ đại thuận lợi cho sự phát triển của nền kinh tế nào sau đây?**

- A. Nông nghiệp trồng lúa nước      B. Khai thác lâm sản  
C. Buôn bán qua đường biển      D. Nông nghiệp trồng các cây gia vị như: hồ tiêu, gừng...

**Câu 4. Vạn Lí Trường Thành được người Trung Quốc xây dựng nhằm mục đích gì?**

- A. Ngăn chặn các cuộc tấn công từ bên ngoài.  
B. Ngăn chặn dòng nước lũ từ thượng nguồn tràn về.  
C. Thuận lợi cho việc giao thông đi lại giữa các vùng.  
D. Thể hiện sức mạnh của các nhà nước phong kiến.

**Câu 5. Một trong những biểu tượng của nền văn minh Trung Quốc là**

- A. Vạn Lí Trường Thành.      B. Lăng mộ Tần Thủy Hoàng.  
C. Kim chỉ nam.      D. Sử kí của Tư Mã Thiên.

**Câu 6. Ở Ai Cập, người đứng đầu nhà nước được gọi là**

- A. Pha-ra-ông.      B. En-xi.      C. Thiên tử.      D. Thiên hoàng.

**Câu 7. Nhà nước Ai Cập cổ đại được hình thành trên lưu vực dòng sông nào?**

- A. Trường Giang.      B. Nin.      C. Ti-grơ.      D. Ô-phrát.

**Câu 8. Quốc gia Ai Cập và Lưỡng Hà cổ đại được xây dựng trên nền tảng kinh tế là**

- A. nông nghiệp trồng lúa nước      B. thủ công nghiệp và thương nghiệp.  
C. mậu dịch hàng hải quốc tế.      D. thủ công nghiệp hàng hóa

**Câu 9. Công trình nào dưới đây là một trong bảy kỳ quan thế giới cổ đại?**

- A. Tượng Nhân sư ở Ai Cập.      B. Thành Ba-bi-lon ở Lưỡng Hà.  
C. Cổng I-sơ-ta ở Lưỡng Hà.      D. Khu lăng mộ Gi-za ở Ai Cập.

**Câu 10. Các công trình kiến trúc ở Ai Cập và Lưỡng Hà thường đồ sộ vì muốn thể hiện**

- A. sức mạnh của đất nước      B. sức mạnh của thần thánh.  
C. sức mạnh và uy quyền của nhà vua      D. tình đoàn kết dân tộc

## Phân môn Địa lí

**Câu 11. Dựa vào công dụng, khoáng sản được chia thành mấy nhóm?**

- A. 5 nhóm                      B. 3 nhóm                      C. 4 nhóm                      D. 2 nhóm

**Câu 12. Một quốc gia được biết đến là nơi thường xuyên xảy ra động đất, núi lửa là**

- A. Nhật Bản                      B. Việt Nam                      C. Thái Lan                      D. Trung Quốc

**Câu 13. Các địa điểm nằm ở cực Bắc và cực Nam có hiện tượng**

- A. ngày dài 24 giờ                      B. Ngày, đêm dài 12 giờ  
C. ngày dài hơn đêm                      D. ngày, đêm dài suốt 6 tháng

**Câu 14. Các khoáng sản như dầu mỏ, khí đốt, than đá thuộc nhóm khoáng sản nào sau đây?**

- A. Nhiên liệu                      B. Phi kim loại.                      C. Kim loại màu.                      D. Kim loại đen

**Câu 15. Trái Đất chuyển động một vòng quanh Mặt Trời trên quỹ đạo hết bao nhiêu thời gian?**

- A. 365 ngày 6 giờ                      B. 30 ngày                      C. 365 ngày                      D. 365 ngày 12 giờ

**Câu 16. Cấu tạo bên trong của Trái Đất gồm mấy lớp?**

- A. 6 lớp                      B. 5 lớp                      C. 4 lớp                      D. 3 lớp

**Câu 17. Ngọn núi được mệnh danh là “Nóc nhà Đông Dương” nằm trên lãnh thổ nước ta có tên là**

- A. Tây Côn Lĩnh                      B. Pu Tha Ca                      C. Phan-xi-păng                      D. Ngọc Linh

**Câu 18. Đất đỏ ba dan màu mỡ được hình thành do quá trình phong hóa các sản phẩm phun trào núi lửa tập trung chủ yếu ở khu vực nào của nước ta?**

- A. Đồng bằng sông Hồng                      B. Bắc Trung Bộ  
C. Tây Nguyên                      D. Miền núi Tây Bắc

**Câu 19. Bề mặt Trái Đất được chia thành mấy khu vực giờ?**

- A. 12 khu vực giờ                      B. 15 khu vực giờ                      C. 20 khu vực giờ                      D. 24 khu vực giờ

**Câu 20. Dấu hiệu trước khi động đất xảy ra không phải là**

- A. động vật tìm chỗ trú ẩn                      B. cây cối nghiêng ngã  
C. mực nước giếng thay đổi.                      D. mặt nước có nổi bong bóng

## II. TỰ LUẬN(5.0 điểm)

### Phân môn Lịch sử

**Câu 1. (1.5 điểm)** Điều kiện tự nhiên của La Mã cổ đại có những thuận lợi và khó khăn gì đối với sự hình thành và phát triển của nền văn minh nơi đây?

**Câu 2. (1.0 điểm)** Kể tên những thành tựu chủ yếu của nền văn minh Trung Quốc thời cổ đại. Giới thiệu một thành tựu văn minh Trung Quốc cổ đại mà em thích nhất?

### Phân môn Địa lí

**Câu 3. (1.5 điểm)** Nêu đặc điểm quá trình ngoại lực (Nguồn gốc hình thành, biểu hiện, kết quả tác động đến bề mặt trái đất)?

**Câu 4. (1.0 điểm)** Phân tích đặc điểm của dạng địa hình đồng bằng ? Cho ví dụ cụ thể?



**Câu 12. Nấm đá là dạng địa hình được hình thành do tác động của**

- A. nước chảy.                      B. gió.                      C. sóng biển                      D. băng hà.

**Câu 13. Đất đỏ ba dan màu mỡ được hình thành do quá trình phong hóa các sản phẩm phun trào núi lửa tập trung chủ yếu ở khu vực nào của nước ta?**

- A. Tây Nguyên    B. Miền núi Tây Bắc    C. Đồng bằng sông Hồng    D. Bắc Trung Bộ

**Câu 14. Cấu tạo bên trong của Trái Đất gồm mấy lớp?**

- A. 5 lớp                      B. 3 lớp                      C. 4 lớp                      D. 6 lớp

**Câu 15. Trái Đất chuyển động một vòng quanh Mặt Trời trên quỹ đạo hết bao nhiêu thời gian?**

- A. 365 ngày                      B. 365 ngày 6 giờ                      C. 30 ngày                      D. 365 ngày 12 giờ

**Câu 16. Lãnh thổ Việt Nam nằm trong địa mảng nào?**

- A. Mảng Thái Bình Dương                      B. Mảng Ấn Độ - Ôxtrâyli  
C. Mảng Phi                      D. Mảng Á - Âu

**Câu 17. Dấu hiệu trước khi động đất xảy ra không phải là**

- A. mực nước giếng thay đổi.                      B. cây cối nghiêng ngã  
C. động vật tìm chỗ trú ẩn.                      D. mặt nước có nổi bong bóng.

**Câu 18. Dựa vào công dụng, khoáng sản được chia thành mấy nhóm?**

- A. 2 nhóm                      B. 3 nhóm                      C. 4 nhóm                      D. 5 nhóm

**Câu 19. Một quốc gia được biết đến là nơi thường xuyên xảy ra động đất, núi lửa là**

- A. Việt Nam                      B. Thái Lan                      C. Nhật Bản                      D. Trung Quốc

**Câu 20. Các khoáng sản như dầu mỏ, khí đốt, than đá thuộc nhóm khoáng sản nào sau đây?**

- A. Phi kim loại.                      B. Kim loại đen.                      C. Nhiên liệu                      D. Kim loại màu.

## **II. TỰ LUẬN (5.0 điểm)**

### **Phân môn Lịch sử**

**Câu 1. (1,5 điểm)** Trong sự hình thành và phát triển của nền văn minh Hy Lạp điều kiện tự nhiên có thuận lợi và khó khăn gì?

**Câu 2. (1,0 điểm)** Kể tên những thành tựu chủ yếu của nền văn minh Trung Quốc thời cổ đại. Giới thiệu một thành tựu văn minh Trung Quốc cổ đại mà em thích nhất?

### **Phân môn Địa lí**

**Câu 3. (1,5 điểm)** Nêu đặc điểm quá trình nội lực? (Nguồn gốc hình thành, biểu hiện, kết quả tác động đến bề mặt trái đất)?

**Câu 4. (1,0 điểm)** Phân tích đặc điểm của dạng địa hình đồng bằng? Cho ví dụ cụ thể?

**I. TRẮC NGHIỆM: (5.0 điểm): Em hãy chọn và ghi lại chữ cái đứng trước đáp án đúng nhất vào giấy kiểm tra**

**Phân môn: Lịch sử**

**Câu 1. Thời cổ đại, cư dân Trung Quốc tập trung chủ yếu ở lưu vực hai con sông lớn là**

A. Nin.      B. Ti-grơ và O-phrát.      C. Hằng và Ấn.      D. Trường Giang và Hoàng Hà.

**Câu 2. Điều kiện tự nhiên của La Mã cổ đại thuận lợi cho sự phát triển của nền kinh tế nào sau đây?**

A. Nông nghiệp trồng lúa nước      B. Khai thác lâm sản  
C. Buôn bán qua đường biển      D. Nông nghiệp trồng các cây gia vị như: hồ tiêu, gừng...

**Câu 3. Vạn Lí Trường Thành được người Trung Quốc xây dựng nhằm mục đích gì?**

A. Ngăn chặn các cuộc tấn công từ bên ngoài.  
B. Ngăn chặn dòng nước lũ từ thượng nguồn tràn về.  
C. Thuận lợi cho việc giao thông đi lại giữa các vùng.  
D. Thể hiện sức mạnh của các nhà nước phong kiến.

**Câu 4. Một trong những biểu tượng của nền văn minh Trung Quốc là**

A. Vạn Lí Trường Thành.      B. Lăng mộ Tần Thủy Hoàng.  
C. Kim chỉ nam.      D. Sử kí của Tư Mã Thiên.

**Câu 5. Ở Ai Cập, người đứng đầu nhà nước được gọi là**

A. Pha-ra-ông.      B. En-xi.      C. Thiên tử.      D. Thiên hoàng.

**Câu 6. Nhà nước Ai Cập cổ đại được hình thành trên lưu vực dòng sông nào?**

A. Trường Giang.      B. Nin.      C. Ti-grơ.      D. O-phrát.

**Câu 7. Quốc gia Ai Cập và Lưỡng Hà cổ đại được xây dựng trên nền tảng kinh tế là**

A. nông nghiệp trồng lúa nước      B. thủ công nghiệp và thương nghiệp.  
C. mậu dịch hàng hải quốc tế.      D. thủ công nghiệp hàng hóa

**Câu 8. Công trình nào dưới đây là một trong bảy kỳ quan thế giới cổ đại?**

A. Tượng Nhân sư ở Ai Cập.      B. Thành Ba-bi-lon ở Lưỡng Hà.  
C. Công I-sơ-ta ở Lưỡng Hà.      D. Khu lăng mộ Gi-za ở Ai Cập.

**Câu 9. Các công trình kiến trúc ở Ai Cập và Lưỡng Hà thường đồ sộ vì muốn thể hiện**

A. sức mạnh của đất nước      B. sức mạnh của thần thánh.  
C. sức mạnh và uy quyền của nhà vua      D. tình đoàn kết dân tộc

**Câu 10. Điều kiện tự nhiên ở lưu vực sông Ấn và sông Hằng thuận lợi cho Ấn Độ phát triển kinh tế**

A. thủ công nghiệp.      B. nông nghiệp.      C. thương nghiệp.      D. dịch vụ.

**Phân môn Địa lí**

**Câu 11. Dạng địa hình nào sau đây được hình thành do quá trình ngoại lực?**

A. Vực thẳm, hẻm vực      B. Núi lửa, động đất.  
C. Các đỉnh núi cao.      D. Hang động caxtơ.

**Câu 12.** Ngon núi được mệnh danh là “Nóc nhà Đông Dương” nằm trên lãnh thổ nước ta có tên là

- A. Phan-xi-păng                      B. Pu Tha Ca                      C. Tây Côn Lĩnh                      D. Ngọc Linh

**Câu 13.** Đất đỏ ba dan màu mỡ được hình thành do quá trình phong hóa các sản phẩm phun trào núi lửa tập trung chủ yếu ở khu vực nào của nước ta?

- A. Bắc Trung Bộ                      B. Tây Nguyên  
C. Đồng bằng sông Hồng                      D. Miền núi Tây Bắc

**Câu 14.** Dấu hiệu trước khi động đất xảy ra *không* phải là

- A. mực nước giếng thay đổi.                      B. động vật tìm chỗ trú ẩn.  
C. mặt nước có nổi bong bóng.                      D. cây cối nghiêng ngã

**Câu 15.** Các khoáng sản như dầu mỏ, khí đốt, than đá thuộc nhóm khoáng sản nào sau đây?

- A. Phi kim loại.                      B. Nhiên liệu                      C. Kim loại màu.                      D. Kim loại đen.

**Câu 16.** Bề mặt Trái Đất được chia thành mấy khu vực giờ?

- A. 24 khu vực giờ                      B. 20 khu vực giờ                      C. 15 khu vực giờ                      D. 12 khu vực giờ

**Câu 17.** Cấu tạo bên trong của Trái Đất gồm mấy lớp?

- A. 6 lớp                      B. 3 lớp                      C. 4 lớp                      D. 5 lớp

**Câu 18.** Dựa vào công dụng, khoáng sản được chia thành mấy nhóm?

- A. 5 nhóm                      B. 4 nhóm                      C. 2 nhóm                      D. 3 nhóm

**Câu 19.** Một quốc gia được biết đến là nơi thường xuyên xảy ra động đất, núi lửa là

- A. Thái Lan                      B. Trung Quốc                      C. Nhật Bản                      D. Việt Nam

**Câu 20.** So với mặt phẳng quỹ đạo, trục Trái Đất nghiêng một góc

- A.  $56^{\circ}27'$                       B.  $23^{\circ}27'$                       C.  $32^{\circ}27'$                       D.  $66^{\circ}33'$

## II. TỰ LUẬN(5.0 điểm)

### Phân môn Lịch sử

**Câu 1.** (1,5 điểm) Trong sự hình thành và phát triển của nền văn minh La Mã điều kiện tự nhiên có thuận lợi và khó khăn gì?

**Câu 2.** (1,0 điểm) Kể tên những thành tựu chủ yếu của nền văn minh Trung Quốc thời cổ đại. Giới thiệu một thành tựu văn minh Trung Quốc cổ đại mà em thích nhất?

### Phân môn Địa lí

**Câu 3.** (1,5 điểm) Nêu đặc điểm quá trình ngoại lực? (Nguồn gốc hình thành, biểu hiện, kết quả tác động đến bề mặt trái đất)?

**Câu 4.** (1,0 điểm) Phân tích đặc điểm của dạng địa hình núi? Cho ví dụ cụ thể?

**I. Trắc nghiệm: (5 điểm)**

Ghi lại chữ cái trước câu trả lời đúng vào giấy kiểm tra:

**Câu 1. Câu tục ngữ: “Tự lực cánh sinh” nói đến điều gì?**

- A. Trung thực.                      B. Tiết kiệm.                      C. Tự lập.                      D. Đoàn kết.

**Câu 2. Mỗi buổi tối, cứ ăn cơm xong là bạn E giúp mẹ dọn dẹp, rửa bát sau đó lấy sách vở ra học bài.**

**Việc làm đó thể hiện:**

- A. E là người ý lại.                      B. E là người tự lập.  
C. E là người tự ti.                      D. E là người tự tin.

**Câu 3. Biểu hiện nào dưới đây không phải của tính tự lập?**

- A. Đợi ba mẹ nhắc mới đi học                      B. Tự mình đi học.  
C. Tự giặt quần áo.                      D. Tự mình làm bài tập.

**Câu 4: Biểu hiện nào dưới đây thể hiện tính tự lập?**

- A. Sự tự tin.                      B. Nhút nhát.                      C. Nói nhiều.                      D. Thích thể hiện.

**Câu 5. Bản chất của tự lập là:**

- A. Dựa vào người khác                      B. Đợi sắp xếp mới làm  
C. Tự làm việc                      D. Ý lại vào người khác

**Câu 6. Nick Vujicic - người đàn ông không tay không chân nhưng nổi tiếng với nghị lực phi thường đã truyền niềm tin, sức mạnh cho hàng triệu người trên thế giới. Câu chuyện của Nick nói lên đức tính gì?**

- A. Tự tin.                      B. Tự lập.                      C. Dũng cảm.                      D. Tự chủ.

**Câu 7: Câu tục ngữ: “Muốn ăn phải lặn vào bếp” nói đến điều gì?**

- A. Đoàn kết.                      B. Trung thực.                      C. Tự lập.                      D. Tiết kiệm.

**Câu 8: Tự nhận thức đúng về bản thân không phải là điều dễ dàng, mà cần phải qua**

- A. rèn luyện.                      B. học tập.                      C. thực hành.                      D. lao động.

**Câu 9: Điểm quan trọng nhất để tự hoàn thiện bản thân là cần xác định được**

- A. khả năng của bản thân.                      B. vẻ đẹp tâm hồn của bản thân.  
C. điểm mạnh, điểm yếu của bản thân.                      D. sức mạnh của bản thân.

**Câu 10: Biểu hiện nào dưới đây không phải là tự hoàn thiện bản thân?**

- A. Tự cao, tự đại.                      B. Tự tin vào bản thân.  
C. Rèn luyện sức khỏe.                      D. Ham hỏi hỏi.

**Câu 11: Yêu thương con người sẽ nhận được điều gì?**

- A. Mọi người yêu quý và kính trọng.                      B. Mọi người kính nể và yêu quý.  
C. Mọi người coi thường.                      D. Mọi người xa lánh.

**Câu 12: Bảo vệ lẽ phải, đấu tranh, phê phán những việc làm sai trái thể hiện điều gì?**

- A. xa hoa, lãng phí.                      B. cần cù, siêng năng.  
C. tiết kiệm, khiêm tốn.                      D. tôn trọng sự thật.

**Câu 13: Tự nhận thức bản thân để hiểu đúng về mình, đưa ra những quyết định đúng đắn là một**

- A. điều tất yếu của con người.
- B. giá trị sống cơ bản.
- C. kĩ năng sống cơ bản.
- D. năng lực của cá nhân.

**Câu 14. Hành vi, việc làm nào dưới đây là biểu hiện tự nhận thức bản thân?**

- A. Luôn đề cao bản thân.
- B. Khắc phục khuyết điểm.
- C. Tự quyết định mọi việc làm.
- D. Luôn làm theo ý người khác.

**Câu 15. Để tự hoàn thiện bản thân, mỗi người cần phải làm gì?**

- A. Tích cực lao động hằng ngày để có cuộc sống tốt hơn.
- B. Có kế hoạch và quyết tâm phấn đấu, rèn luyện bản thân.
- C. Có nhiệt huyết với công việc.
- D. Có tinh thần trách nhiệm.

**Câu 16: Những gì có thật trong cuộc sống và phản ánh đúng hiện thực cuộc sống được gọi là**

- A. sự thật.
- B. dũng cảm.
- C. khiêm tốn.
- D. tự trọng.

**Câu 17: Biểu hiện của tôn trọng sự thật là**

- A. suy nghĩ, nói và làm theo đúng sự thật.
- B. chỉ cần trung thực với cấp trên của mình.
- C. có thể nói không đúng sự thật khi không ai biết.
- D. chỉ nói thật trong những trường hợp cần thiết.

**Câu 18: Ngày mai, lớp của T đi dã ngoại nhưng bạn không tự chuẩn bị mà nhờ chị gái chuẩn bị đồ dùng mang đi. Việc làm đó của T thể hiện điều gì?**

- A. T là người tự lập.
- B. T là người ỷ lại.
- C. T là người tự tin.
- D. T là người tự ti.

**Câu 19: Việc làm nào dưới đây thể hiện hành vi của người luôn tôn trọng sự thật?**

- A. Đặt điều nói xấu bạn trong lớp.
- B. Không coi cốp bài trong giờ kiểm tra.
- C. Làm sai thì tìm cách đổ lỗi.
- D. Nói dối mẹ để đi chơi game.

**Câu 20: Sau mỗi lần cô giáo trả bài kiểm tra, A thường dành thời gian so sánh, đối chiếu với bài của các bạn được điểm cao để tìm ra những điểm chưa đúng, chưa hay và nhờ các bạn giải thích những điều mà A chưa hiểu. Việc làm này thể hiện A là người**

- A. tự nhận thức bản thân.
- B. mặc cảm với bản thân.
- C. chú ý đến điểm số.
- D. dựa dẫm vào người khác.

## **II. Tự luận: (5 điểm)**

**Câu 1. (3 điểm)** Thế nào là yêu thương con người? Nêu ý nghĩa của lòng yêu thương con người đối với con người và xã hội? Em đã làm gì để thể hiện lòng yêu thương con người?

**Câu 2. (2 điểm)** Nhà Hương ở gần trường nhưng bạn rất hay đi học muộn. Khi lớp trưởng hỏi lí do, Hương luôn trả lời: “Tại bố mẹ không gọi mình dậy sớm”.

Câu hỏi:

a/ Em có đồng tình với Hương không? Vì sao?

b/ Nếu là bạn của Hương thì em sẽ khuyên bạn điều gì?.



**I. Trắc nghiệm: (5 điểm)**

Ghi lại chữ cái trước câu trả lời đúng vào giấy kiểm tra:

**Câu 1: Luôn nói thật với người thân, thầy cô, bạn bè bằng thái độ như thế nào?**

- A. Dũng cảm, khéo léo, tinh tế và nhân ái.      B. Nói thô tục nhưng đúng sự thật là được.  
C. Khéo léo, tinh tế và tránh sự thật.      D. Không nói sự thật.

**Câu 2: Ý kiến nào sau đây là đúng khi nói về ý nghĩa của việc tôn trọng sự thật?**

- A. Thường làm mất lòng người khác.      B. Làm cho tâm hồn thanh thản.  
C. Người nói thật thường thua thiệt.      D. Sự thật luôn làm đau lòng người.

**Câu 3: Ngay từ nhỏ B có tật nói lắt. Nhưng bạn chịu khó tập luyện và cuối cùng đã trở thành một nhà diễn thuyết nổi tiếng thế giới. Việc B thấy được điểm yếu của mình để rèn luyện là thể hiện**

- A. mặc cảm bản thân.      B. sự tự phê bình mình.  
C. tự nhận thức bản thân.      D. sự thay đổi tính cách.

**Câu 4: Ý kiến nào sau đây là đúng khi nói về ý nghĩa của việc tôn trọng sự thật?**

- A. Cuộc sống trở nên tốt đẹp hơn.      B. Thường làm mất lòng người khác.  
C. Người nói thật sẽ mất lòng bạn bè.      D. Cuộc sống trở nên tồi tệ hơn trước.

**Câu 5: Việc làm nào dưới đây thể hiện hành vi của người luôn tôn trọng sự thật?**

- A. Đặt điều nói xấu bạn trong lớp.      B. Không coi cốp bài trong giờ kiểm tra.  
C. Làm sai thì tìm cách đổ lỗi.      D. Nói dối mẹ để đi chơi game.

**Câu 6: Câu “Bầu ơi thương lấy bí cùng/Tuy rằng khác giống nhưng chung một giàn” nói đến điều gì?**

- A. Đoàn kết.      B. Lòng yêu thương con người.      C. Yêu nước.      D. Tiết kiệm.

**Câu 7: Yêu thương con người sẽ nhận được điều gì?**

- A. Mọi người yêu quý và kính trọng.      B. Mọi người kính nể và yêu quý.  
C. Mọi người coi thường.      D. Mọi người xa lánh.

**Câu 8: Gia đình bạn H là gia đình nghèo, bố bạn bị bệnh hiểm nghèo. Nhà trường miễn học phí cho bạn, lớp tổ chức đi thăm hỏi, động viên bạn. Hành động đó thể hiện điều gì?**

- A. Lòng yêu thương.      B. Đoàn kết.      C. Yêu nước.      D. Lòng trung thành.

**Câu 9: Bảo vệ lẽ phải, đấu tranh, phê phán những việc làm sai trái thể hiện điều gì?**

- A. xa hoa, lãng phí.      B. cần cù, siêng năng.  
C. tiết kiệm, khiêm tốn.      D. tôn trọng sự thật.

**Câu 10: Phát hiện bạn C đã tung tin không đúng sự thật trên mạng xã hội, mục đích gây sốc để nhận được nhiều lượt yêu thích và bình luận. Trong tình huống đó, nếu em là bạn của C thì em sẽ làm gì?**

- A. Khuyến bạn không nên làm như vậy.      B. Không biết, không phải việc của mình.  
C. Bắt chước bạn, để mình nổi tiếng.      D. Nhờ bạn chỉ cách viết sao để câu nhiều like.

**Câu 11: Câu tục ngữ: “Tự lực cánh sinh” nói đến điều gì?**

A. Trung thực.                      B. Tiết kiệm.                      C. Tự lập.                      D. Đoàn kết.

**Câu 12: Tự nhận thức đúng về bản thân không phải là điều dễ dàng, mà cần phải qua**

A. rèn luyện.                      B. học tập.                      C. thực hành.                      D. lao động.

**Câu 13: Tự nhận thức bản thân để hiểu đúng về mình, đưa ra những quyết định đúng đắn là một**

A. điều tất yếu của con người.                      B. giá trị sống cơ bản.  
C. kĩ năng sống cơ bản.                      D. năng lực của cá nhân.

**Câu 14. Hành vi, việc làm nào dưới đây là biểu hiện tự nhận thức bản thân?**

A. Luôn đề cao bản thân.                      B. Khắc phục khuyết điểm.  
C. Tự quyết định mọi việc làm.                      D. Luôn làm theo ý người khác.

**Câu 15. Điểm quan trọng nhất để tự hoàn thiện bản thân là cần xác định được**

A. khả năng của bản thân.                      B. vẻ đẹp tâm hồn của bản thân.  
C. điểm mạnh, điểm yếu của bản thân.                      D. sức mạnh của bản thân.

**Câu 16: Những gì có thật trong cuộc sống và phản ánh đúng hiện thực cuộc sống được gọi là**

A. sự thật.                      B. dũng cảm.                      C. khiêm tốn.                      D. tự trọng.

**Câu 17: Biểu hiện nào dưới đây thể hiện tính tự lập?**

A. Sự tự tin.                      B. Nhút nhát.                      C. Nói nhiều.                      D. Thích thể hiện.

**Câu 18: Ngày mai, lớp của T đi dã ngoại nhưng bạn không tự chuẩn bị mà nhờ chị gái chuẩn bị đồ dùng mang đi. Việc làm đó của T thể hiện điều gì?**

A. T là người tự lập.                      B. T là người ỷ lại.  
C. T là người tự tin.                      D. T là người tự ti.

**Câu 19: Biểu hiện nào dưới đây không phải là tự hoàn thiện bản thân?**

A. Tự cao, tự đại.                      B. Tự tin vào bản thân.  
C. Rèn luyện sức khỏe.                      D. Ham hỏi hỏi.

**Câu 20: Sau mỗi lần cô giáo trả bài kiểm tra, A thường dành thời gian so sánh, đối chiếu với bài của các bạn được điểm cao để tìm ra những điểm chưa đúng. Việc làm này thể hiện A là người**

A. tự nhận thức bản thân.                      B. mặc cảm với bản thân.  
C. chú ý đến điểm số.                      D. dựa dẫm vào người khác.

## **II. Tự luận: (5 điểm)**

**Câu 1. (2 điểm)** Dù mong muốn cố gắng học giỏi nhưng Nga luôn nghĩ rằng đó là điều rất khó với mình bởi theo Nga, những người học giỏi là những người thông minh. Vì vậy, Nga có cố gắng mấy cũng không thể học giỏi được.

a/ Nga suy nghĩ vậy là đúng hay sai? Vì sao?

b/ Nếu là bạn của Nga, em khuyên bạn điều gì?

**Câu 2. (3 điểm)** Thế nào là tự lập? Vì sao cần phải tự lập? Bản thân em đã rèn luyện tính tự lập như thế nào?

**I. Trắc nghiệm: (5 điểm)**

Ghi lại chữ cái trước câu trả lời đúng vào giấy kiểm tra:

**Câu 1.** Câu tục ngữ: “*Tự lực cánh sinh*” nói đến điều gì?

- A. Trung thực.                      B. Tiết kiệm.                      C. Tự lập.                      D. Đoàn kết.

**Câu 2.** Mỗi buổi tối, cứ ăn cơm xong là bạn E giúp mẹ dọn dẹp sau đó lấy sách vở ra học bài.

Việc làm đó thể hiện bạn là người:

- A. ý lại.                      B. tự lập.                      C. tự ti.                      D. tự tin.

**Câu 3.** Biểu hiện nào dưới đây **không phải** của tính tự lập?

- A. Đợi ba mẹ nhắc mới đi học                      B. Tự mình đi học.  
C. Tự giặt quần áo.                      D. Tự mình làm bài tập.

**Câu 4:** Biểu hiện nào dưới đây thể hiện tính tự lập?

- A. Sự tự tin.                      B. Nhút nhát.                      C. Nói nhiều.                      D. Thích thể hiện.

**Câu 5.** Bản chất của tự lập là:

- A. Dựa vào người khác                      B. Đợi sắp xếp mới làm  
C. Tự làm việc                      D. Ý lại vào người khác

**Câu 6.** Nick Vujicic - người đàn ông không tay không chân nhưng có nghị lực phi thường đã truyền niềm tin, sức mạnh cho hàng triệu người trên thế giới. Câu chuyện của Nick nói lên đức tính gì?

- A. Tự tin.                      B. Tự lập.                      C. Dũng cảm.                      D. Tự chủ.

**Câu 7:** Câu tục ngữ: “*Muốn ăn phải lặn vào bếp*” nói đến điều gì?

- A. Đoàn kết.                      B. Trung thực.                      C. Tự lập.                      D. Tiết kiệm.

**Câu 8:** Tự nhận thức đúng về bản thân không phải là điều dễ dàng, mà cần phải qua

- A. rèn luyện.                      B. học tập.                      C. thực hành.                      D. lao động.

**Câu 9:** Điểm quan trọng nhất để tự hoàn thiện bản thân là cần xác định được

- A. khả năng của bản thân.                      B. vẻ đẹp tâm hồn của bản thân.  
C. điểm mạnh, điểm yếu của bản thân.                      D. sức mạnh của bản thân.

**Câu 10:** Biểu hiện nào dưới đây **không phải** là tự hoàn thiện bản thân?

- A. Tự cao, tự đại.                      B. Tự tin vào bản thân.  
C. Rèn luyện sức khỏe.                      D. Ham hỏi hỏi.

**Câu 11:** Luôn nói thật với người thân, thầy cô, bạn bè bằng thái độ như thế nào?

- A. Dũng cảm, khéo léo, tinh tế và nhân ái.                      B. Nói thô tục nhưng đúng sự thật là được.  
C. Khéo léo, tinh tế và tránh sự thật.                      D. Không nói sự thật.

**Câu 12:** Ý kiến nào sau đây là đúng khi nói về ý nghĩa của việc tôn trọng sự thật?

- A. Thường làm mất lòng người khác.                      B. Làm cho tâm hồn thanh thản.

C. Người nói thật thường thua thiệt. D. Sự thật luôn làm đau lòng người.

**Câu 13:** Ngay từ nhỏ B có tật nói lắp. Nhưng bạn chịu khó tập luyện và cuối cùng đã trở thành một nhà diễn thuyết nổi tiếng. Việc B thấy được điểm yếu của mình để rèn luyện là thể hiện

- A. mặc cảm bản thân. B. sự tự phê bình mình.  
C. tự nhận thức bản thân. D. sự thay đổi tính cách.

**Câu 14:** Nhận xét nào sau đây là đúng khi nói về ý nghĩa của việc tôn trọng sự thật?

- A. Cuộc sống trở nên tốt đẹp hơn. B. Thường làm mất lòng người khác.  
C. Người nói thật sẽ mất lòng bạn bè. D. Cuộc sống trở nên tồi tệ hơn trước.

**Câu 15:** Việc làm nào dưới đây thể hiện hành vi của người luôn tôn trọng sự thật?

- A. Đặt điều nói xấu bạn trong lớp. B. Không coi cốp bài trong giờ kiểm tra.  
C. Làm sai thì tìm cách đổ lỗi. D. Nói dối mẹ để đi chơi game.

**Câu 16:** Câu tục ngữ: “Bầu ơi thương lấy bí cùng/Tuy rằng khác giống nhưng chung một giàn” nói đến điều gì?

- A. Đoàn kết. B. Lòng yêu thương con người. C. Yêu nước. D. Tiết kiệm.

**Câu 17:** Yêu thương con người sẽ nhận được điều gì?

- A. Mọi người yêu quý và kính trọng. B. Mọi người kính nể và yêu quý.  
C. Mọi người coi thường. D. Mọi người xa lánh.

**Câu 18:** Gia đình bạn H là gia đình nghèo, bố bạn bị bệnh hiểm nghèo. Nhà trường miễn học phí cho bạn, lớp tổ chức đi thăm hỏi, động viên bạn. Hành động đó thể hiện điều gì?

- A. Lòng yêu thương. B. Đoàn kết. C. Yêu nước. D. Lòng trung thành.

**Câu 19:** Bảo vệ lẽ phải, đấu tranh, phê phán những việc làm sai trái thể hiện điều gì?

- A. xa hoa, lãng phí. B. cần cù, siêng năng.  
C. tiết kiệm, khiêm tốn. D. tôn trọng sự thật.

**Câu 20:** Phát hiện bạn C đã tung tin không đúng sự thật trên mạng xã hội, mục đích gây sốc để nhận được nhiều lượt yêu thích và bình luận. Trong tình huống đó, nếu em là bạn của C thì em sẽ làm gì?

- A. Khuyên bạn không nên làm như vậy. B. Không biết, không phải việc của mình.  
C. Bắt chước bạn, để mình nổi tiếng. D. Nhờ bạn chỉ cách viết sao để câu nhiều like.

## **II. Tự luận: (5 điểm)**

**Câu 1.** (3 điểm) Thế nào là sự thật? Vì sao cần phải tôn trọng sự thật? Bản thân em đã tôn trọng sự thật như thế nào?

**Câu 2.** (3 điểm) Dù mong muốn cố gắng học giỏi nhưng Nga luôn nghĩ rằng đó là điều rất khó với mình bởi theo Nga, những người học giỏi là những người thông minh. Vì vậy, Nga có cố gắng mấy cũng không thể học giỏi được.

a/ Nga suy nghĩ vậy là đúng hay sai? Vì sao?

b/ Nếu là bạn của Nga, em khuyên bạn điều gì?

**I. Trắc nghiệm: (5 điểm)**

*Ghi lại chữ cái trước câu trả lời đúng vào giấy kiểm tra:*

**Câu 1: Luôn nói thật với người thân, thầy cô, bạn bè và người có trách nhiệm bằng thái độ như thế nào?**

- A. Dũng cảm, khéo léo, tinh tế và nhân ái.      B. Nói thô tục nhưng đúng sự thật là được.  
C. Khéo léo, tinh tế và tránh sự thật.      D. Không nói sự thật.

**Câu 2: Ý kiến nào sau đây là đúng khi nói về ý nghĩa của việc tôn trọng sự thật?**

- A. Thường làm mất lòng người khác.      B. Làm cho tâm hồn thanh thản.  
C. Người nói thật thường thua thiệt.      D. Sự thật luôn làm đau lòng người.

**Câu 3: Tự nhận thức bản thân để hiểu đúng về mình, đưa ra những quyết định đúng đắn là một**

- A. điều tất yếu của con người.      B. giá trị sống cơ bản.  
C. kĩ năng sống cơ bản.      D. năng lực của cá nhân.

**Câu 4. Hành vi, việc làm nào dưới đây là biểu hiện tự nhận thức bản thân?**

- A. Luôn đề cao bản thân.      B. Khắc phục khuyết điểm.  
C. Tự quyết định mọi việc làm.      D. Luôn làm theo ý người khác.

**Câu 5. Bảo vệ lẽ phải, đấu tranh, phê phán những việc làm sai trái thể hiện điều gì?**

- A. xa hoa, lãng phí.      B. cần cù, siêng năng.  
C. tiết kiệm, khiêm tốn.      D. tôn trọng sự thật.

**Câu 6: Những gì có thật trong cuộc sống và phản ánh đúng hiện thực cuộc sống được gọi là**

- A. sự thật.      B. dũng cảm.      C. khiêm tốn.      D. tự trọng.

**Câu 7: Việc làm nào dưới đây thể hiện hành vi của người luôn tôn trọng sự thật?**

- A. Đặt điều nói xấu bạn trong lớp.      B. Không coi cốp bài trong giờ kiểm tra.  
C. Làm sai thì tìm cách đổ lỗi.      D. Nói dối mẹ để đi chơi game.

**Câu 8: Ngày mai, lớp của T đi dã ngoại nhưng bạn không tự chuẩn bị mà nhờ chị gái chuẩn bị đồ dùng mang đi. Việc làm đó của T thể hiện điều gì?**

- A. ỷ lại.      B. tự lập.      C. tự ti.      D. tự tin.

**Câu 9: Nhận xét nào sau đây là đúng khi nói về ý nghĩa của việc tôn trọng sự thật?**

- A. Cuộc sống trở nên tốt đẹp hơn.      B. Thường làm mất lòng người khác.  
C. Người nói thật sẽ mất lòng bạn bè.      D. Cuộc sống trở nên tồi tệ hơn trước.

**Câu 10: Sau mỗi lần cô giáo trả bài kiểm tra, A thường dành thời gian so sánh, đối chiếu với bài của các bạn được điểm cao để tìm ra những điểm chưa đúng. Việc làm này thể hiện A là người**

A. tự nhận thức bản thân.

B. mặc cảm với bản thân.

C. chú ý đến điểm số.

D. dựa dẫm vào người khác.

**Câu 11. Câu tục ngữ: “Tự lực cánh sinh” nói đến điều gì?**

A. Trung thực.

B. Tiết kiệm.

C. Tự lập.

D. Đoàn kết.

**Câu 12. Mỗi buổi tối, cứ ăn cơm xong là bạn E giúp mẹ dọn dẹp, rửa bát sau đó lấy sách vở ra học bài. Việc làm đó thể hiện:**

A. ỷ lại.

B. tự lập.

C. tự ti.

D. tự tin.

**Câu 13. Biểu hiện nào dưới đây không phải của tính tự lập?**

A. Đợi ba mẹ nhắc mới đi học

B. Tự mình đi học.

C. Tự giặt quần áo.

D. Tự mình làm bài tập.

**Câu 14: Biểu hiện nào dưới đây thể hiện tính tự lập?**

A. Sự tự tin.

B. Nhút nhát.

C. Nói nhiều.

D. Thích thể hiện.

**Câu 15. Bản chất của tự lập là:**

A. Dựa vào người khác

B. Đợi sắp xếp mới làm

C. Tự làm việc

D. Ỗ ỷ lại vào người khác

**Câu 16. Nick Vujicic - người đàn ông không tay không chân nhưng có nghị lực phi thường đã truyền niềm tin, sức mạnh cho hàng triệu người trên thế giới. Câu chuyện của Nick nói lên đức tính gì?**

A. Tự tin.

B. Tự lập.

C. Dũng cảm.

D. Tự chủ.

**Câu 17: Câu tục ngữ: “Muốn ăn phải lặn vào bếp” nói đến điều gì?**

A. Đoàn kết.

B. Trung thực.

C. Tự lập.

D. Tiết kiệm.

**Câu 18: Tự nhận thức đúng về bản thân không phải là điều dễ dàng, mà cần phải qua**

A. rèn luyện.

B. học tập.

C. thực hành.

D. lao động.

**Câu 19: Điểm quan trọng nhất để tự hoàn thiện bản thân là cần xác định được**

A. khả năng của bản thân.

B. vẻ đẹp tâm hồn của bản thân.

C. điểm mạnh, điểm yếu của bản thân.

D. sức mạnh của bản thân.

**Câu 20: Biểu hiện nào dưới đây không phải là tự hoàn thiện bản thân?**

A. Tự cao, tự đại.

B. Tự tin vào bản thân.

C. Rèn luyện sức khỏe.

D. Ham hỏi hỏi.

## **II. Tự luận: (5 điểm)**

**Câu 1. (2 điểm). Tình huống:** Nhà Hương ở gần trường nhưng bạn rất hay đi học muộn. Khi lớp trường hỏi lí do, Hương luôn trả lời: “Tại bố mẹ không gọi mình dậy sớm”.

Câu hỏi:

a/ Em có đồng tình với Hương không? Vì sao?

b/ Nếu là bạn của Hương thì em sẽ khuyên bạn điều gì?.

**Câu 2. (3 điểm)** Thế nào là yêu thương con người? Yêu thương con người có ý nghĩa như thế nào? Bản thân em đã thể hiện lòng thương của mình với bố mẹ, thầy cô giáo như thế nào?

Name: .....

School year: 2022 – 2023

Class: 6A .....

Time allowed: 60'

A601

PART I: MULTIPLE CHOICE

*Listen and circle the letter A, B, C or D to indicate the correct word that best fits each of the following sentences.*

**Question 1:** Vy lives in the \_\_\_\_\_ of Ho Chi Minh City.

- A. mountains  
 C. tourist attraction
- B. suburbs  
 D. centre

**Question 2:** There are NOT any \_\_\_\_\_ in her neighbourhood.

- A. squares  
 B. shops  
 C. restaurants  
 D. art galleries

**Question 3:** The people here are \_\_\_\_\_.

- A. active  
 B. shy  
 C. helpful  
 D. confident

**Question 4:** Vy dislikes \_\_\_\_\_ in her neighbourhood.

- A. the dirty air  
 B. the restaurants  
 C. the people  
 D. the wide streets

*Listen and circle the letter A, B, C or D to indicate the correct answer to each of the following questions.*

**Question 5:** What can tourists visit when they are in Phu Quoc?

- A. cathedrals  
 B. national parks  
 C. deserts  
 D. ancient towns

**Question 6:** What are the people in Phu Quoc like ?

- A. They're interesting.  
 B. They're friendly.  
 C. They're delicious.  
 D. They're beautiful.

**Question 7:** What are popular water sports in Phu Quoc?

- A. swimming and surfing  
 B. sailing and fishing  
 C. fishing and surfing  
 D. swimming and sailing

**Question 8:** Where can you buy interesting things on the island?

- A. at the airports  
 B. at the markets  
 C. at the resorts  
 D. at the hotels

*Circle the letter A, B, C or D to indicate the word whose underlined part differs from the other three in pronunciation in each of the following questions*

**Question 9:** A. study                    B. active                    C. furniture                    D. plaster

**Question 10:** A. expensive                    B. fireworks                    C. confident                    D. scissors

*Circle the letter A, B, C or D to indicate the word that differs from the other three in the position of primary STRESS in each of the following questions*

**Question 11:** A. island                    B. behind                    C. desert                    D. kitchen

**Question 12:** A. amazing                    B. beautiful                    C. uniform                    D. scenery

*Circle the letter A, B, C or D to indicate the correct answer to complete each of the following questions*

**Question 13:** They are talking about some man-made and natural \_\_\_\_\_ of Viet Nam.

- A. wonderful                    B. wonder                    C. wonderfully                    D. wonders

**Question 14:** Our teacher \_\_\_\_\_ strict when he \_\_\_\_\_ a lesson.

- A. is always - has                    B. is always - have                    C. always is – has                    D. always is - have

**Question 15:** In Viet Nam, Tet is a good time for family \_\_\_\_\_.

- A. fireworks                    B. gatherings                    C. lucky money                    D. relatives

**Question 16:** Students must \_\_\_\_\_ to school on time.

- A. goes                    B. to go                    C. going                    D. go

**Question 17:** Do you know the address of \_\_\_\_\_ house?

- A. Mrs. Hoa                    B. Mrs. Hoas?                    C. Mrs. Hoa's                    D. Mrs. Hoa'

Circle the letter A, B, C or D to indicate the underlined part that needs correction in each of the following questions

Question 18: That building is more tall than this one.

A B C D

Question 19: There are many visitor in Ha Long Bay every year.

A B C D

Circle the letter A, B, C or D to indicate the most suitable response to the following exchange.

Question 20: - "Let's go to the cinema this Saturday."

- "\_\_\_\_\_ What time can we meet?"

A. That's fine. B. Oh no! C. Are you sure? D. You're welcome!

Circle the letter A, B, C or D to indicate the word CLOSEST in meaning to the underlined word(s) in the following question.

Question 21: Living in a city is more exciting than living in the countryside.

A. interesting B. peaceful C. crowded D. boring

Circle the letter A, B, C or D to indicate the word OPPOSITE in meaning to the underlined word(s) in the following questions.

Question 22: I can't see the screen because of the person in front of me.

A. next to B. between C. on D. behind

Read the following passage and circle the letter A, B, C or D to indicate the correct word that best fits each of the numbered blanks.

My name's Sandra and I live (23) \_\_\_\_\_ Hill town. It is a small town of England. There are (24) \_\_\_\_\_ shops and three supermarkets here. You can buy everything you need. In the town centre, there (25) \_\_\_\_\_ a park where children can play freely. You can find some restaurants and cafés in my town. My favorite café is Icecave. It's on Park Street and I think the ice cream here is (26) \_\_\_\_\_ than in other places. I like living in Hilltown (27) \_\_\_\_\_ it is a convenient place and the people here are friendly.

Question 23: A. from B. in C. next D. on

Question 24: A. much B. any C. a little D. many

Question 25: A. are B. am C. is D. be

Question 26: A. better B. good C. bad D. worse

Question 27: A. because B. but C. and D. or

Read the following passage and circle the letter A, B, C or D to indicate the correct answer to each of the questions

Hi. I am Minh. I live in Ha Noi but I am having a good time at Nha Trang Beach now. The beach is more beautiful than the beaches in Sam Son. The sun is shining brightly. The weather is cooler and drier than that in Ha Noi. The houses are smaller and the buildings are older than the buildings in Ha Noi. The streets are wider with less traffic. I love the seafood here. It is more delicious and cheaper than the seafood in Ha Noi. The people here are really nice. I like Nha Trang very much.

Question 28: Which of the following statements is TRUE ?

- A. The writer doesn't like Nha Trang.
- B. The streets in Nha Trang are narrower than those in Ha Noi.
- C. The writer is having a bad time at Nha Trang Beach
- D. Nha Trang Beach is beautiful.

Question 29: Where does the writer live ?

A. In Nha Trang B. In Ha Noi C. In Sam Son D. In Da Nang

Question 30: How is the weather in Nha Trang?

A. It's rainy. B. It's wet. C. It's cool. D. It's cold.



**Question 31:** Are houses in Nha Trang bigger than those in Ha Noi?

- A. No, they aren't.      B. Yes, they are.      C. Yes, they do.      D. No, they don't.

**Question 32:** What does the word 'it' in *line 4* mean?

- A. the seafood      B. the sun      C. the weather      D. the beach

**PART II: WRITING**

*Reorder the words/phrases to make meaningful sentences.*

**Question 33:** do/ You/ before/ must/ to school/ your homework/ going/.

⇒ .....

**Question 34:** volleyball / David /right now / and his friends/ playing/ are /.

⇒ .....

**Question 35:** many / does / have / How / Ha Long Bay / islands / ?

⇒ .....

**Question 36:** is/ and/ My/ hard-working/ cousin / creative/.

⇒ .....

*Finish the second sentence so that it has a similar meaning to the first one, beginning with the given words.*

**Question 37:** A car is more expensive than a motorbike.

⇒ A motorbike .....

**Question 38:** He has curly and blond hair.

⇒ His .....

**Question 39:** There is no water in the bottle.

⇒ There is not.....

**Question 40:** It is not good for children to eat lots of sweets at Tet.

⇒ Children should .....

----- **THE END** -----



people here are friendly.

- Question 13: A. on B. next C. from D. in  
Question 14: A. a little B. much C. any D. many  
Question 15: A. be B. are C. am D. is  
Question 16: A. good B. better C. worse D. bad  
Question 17: A. but B. because C. or D. and

Circle the letter A, B, C or D to indicate the correct answer to complete each of the following questions

- Question 18: They are talking about some man-made and natural \_\_\_\_\_ of Viet Nam.  
A. wonder B. wonderfully C. wonders D. wonderful  
Question 19: Our teacher \_\_\_\_\_ strict when he \_\_\_\_\_ a lesson.  
A. always is - have B. is always - has C. is always - have D. always is - has  
Question 20: In Viet Nam, Tet is a good time for family \_\_\_\_\_.  
A. gatherings B. relatives C. fireworks D. lucky money  
Question 21: Students must \_\_\_\_\_ to school on time.  
A. go B. to go C. goes D. going  
Question 22: Do you know the address of \_\_\_\_\_ house?  
A. Mrs. Hoa's B. Mrs. Hoa' C. Mrs. Hoas' D. Mrs. Hoa

Read the following passage and circle the letter A, B, C or D to indicate the correct answer to each of the following questions

Hi. I am Minh. I live in Ha Noi but I am having a good time at Nha Trang Beach now. The beach is more beautiful than the beaches in Sam Son. The sun is shining brightly. The weather is cooler and drier than that in Ha Noi. The houses are smaller and the buildings are older than the buildings in Ha Noi. The streets are wider with less traffic. I love the seafood here. It is more delicious and cheaper than the seafood in Ha Noi. The people here are really nice. I like Nha Trang very much.

- Question 23: How is the weather in Nha Trang?  
A. It's wet. B. It's cold. C. It's cool. D. It's rainy.  
Question 24: Where does the writer live?  
A. In Ha Noi B. In Nha Trang C. In Sam Son D. In Da Nang  
Question 25: What does the word 'it' in line 4 mean?  
A. the weather B. the sun C. the seafood D. the beach  
Question 26: Are houses in Nha Trang bigger than those in Ha Noi?  
A. Yes, they do. B. Yes, they are. C. No, they aren't. D. No, they don't.  
Question 27: Which of the following statements is **TRUE** ?  
A. The streets in Nha Trang are narrower than those in Ha Noi.  
B. The writer is having a bad time at Nha Trang Beach  
C. Nha Trang Beach is beautiful.  
D. The writer doesn't like Nha Trang.

Circle the letter A, B, C or D to indicate the underlined part that needs correction in each of the following questions

- Question 28: That building is more tall than this one.  
A B C D  
Question 29: There are many visitor in Ha Long Bay every year.  
A B C D

Circle the letter A, B, C or D to indicate the word **OPPOSITE** in meaning to the underlined word(s) in the following question.

- Question 30: I can't see the screen because of the person in front of me.  
A. on B. behind C. next to D. between

Circle the letter A, B, C or D to indicate the word whose underlined part differs from the other three in pronunciation in each of the following questions

- Question 31: A. expensive      B. confident      C. fireworks      D. scissors  
Question 32: A. plaster      B. study      C. active      D. furniture

**PART II: WRITING**

Finish the second sentence so that it has a similar meaning to the first one, beginning with the given words.

- Question 33: There is no water in the bottle.  
⇒ There is not.....  
Question 34: A car is more expensive than a motorbike.  
⇒ A motorbike .....
- Question 35: He has curly and blond hair.  
⇒ His .....
- Question 36: It is not good for children to eat lots of sweets at Tet.  
⇒ Children should .....

Reorder the words/phrases to make meaningful sentences.

- Question 37: is/ and/ My/ hard-working/ cousin / creative/.  
⇒ .....
- Question 38: do/ You/ before/ must/ to school/ your homework/ going/.  
⇒ .....
- Question 39: volleyball / David /right now / and his friends/ playing/ are /.  
⇒ .....
- Question 40: many / does / have / How / Ha Long Bay / islands /?  
⇒ .....

----- THE END -----

**PART I: MULTIPLE CHOICE**

*Listen and circle the letter A, B, C or D to indicate the correct word that best fits each of the following sentences.*

**Question 1:** Vy lives in the \_\_\_\_\_ of Ho Chi Minh City.

- A. tourist attraction
- B. mountains
- C. centre
- D. suburbs

**Question 2:** There are NOT any \_\_\_\_\_ in her neighbourhood.

- A. squares
- B. art galleries
- C. restaurants
- D. shops

**Question 3:** The people here are \_\_\_\_\_.

- A. confident
- B. shy
- C. active
- D. helpful

**Question 4:** Vy dislikes \_\_\_\_\_ in her neighbourhood.

- A. the people
- B. the restaurants
- C. the dirty air
- D. the wide streets

*Listen and circle the letter A, B, C or D to indicate the correct answer to each of the following questions.*

**Question 5:** What can tourists visit when they are in Phu Quoc?

- A. deserts
- B. cathedrals
- C. ancient towns
- D. national parks

**Question 6:** What are the people in Phu Quoc like ?

- A. They're beautiful.
- B. They're friendly.
- C. They're delicious.
- D. They're interesting

**Question 7:** What are popular water sports in Phu Quoc?

- A. swimming and surfing
- B. fishing and surfing
- C. swimming and sailing
- D. sailing and fishing

**Question 8:** Where can you buy interesting things on the island?

- A. at the hotels
- B. at the resorts
- C. at the airports
- D. at the markets

*Circle the letter A, B, C or D to indicate the most suitable response to the following exchange.*

**Question 9:** - "Let's go to the cinema this Saturday."

- "\_\_\_\_\_ What time can we meet?"

- A. Are you sure ?
- B. That's fine.
- C. Oh no!
- D. You're welcome!

*Circle the letter A, B, C or D to indicate the word CLOSEST in meaning to the underlined word(s) in the following question.*

**Question 10:** Living in a city is more exciting than living in the countryside.

- A. peaceful
- B. crowded
- C. boring
- D. interesting

*Read the following passage and circle the letter A, B, C or D to indicate the correct word that best fits each of the numbered blanks.*

My name's Sandra and I live (11) \_\_\_\_\_ Hill town. It is a small town of England. There are (12) \_\_\_\_\_ shops and three supermarkets here. You can buy everything you need. In the town centre, there (13) \_\_\_\_\_ a park where children can play freely. You can find some restaurants and cafés in my town. My favorite café is Icecave. It's on Park Street and I think the ice cream here is (14) \_\_\_\_\_ than in other places. I like living in Hilltown (15) \_\_\_\_\_ it is a convenient place and the people here are friendly.

- Question 11:** A. from                      B. next                      C. on                      D. in
- Question 12:** A. a little                      B. any                      C. much                      D. many
- Question 13:** A. are                      B. is                      C. be                      D. am
- Question 14:** A. good                      B. worse                      C. better                      D. bad
- Question 15:** A. and                      B. but                      C. because                      D. or

Circle the letter A, B, C or D to indicate the correct answer to complete each of the following questions

Question 16: In Viet Nam, Tet is a good time for family \_\_\_\_\_.

- A. gatherings                      B. relatives                      C. lucky money                      D. fireworks

Question 17: Students must \_\_\_\_\_ to school on time.

- A. to go                      B. go                      C. goes                      D. going

Question 18: They are talking about some man-made and natural \_\_\_\_\_ of Viet Nam.

- A. wonderful                      B. wonder                      C. wonders                      D. wonderfully

Question 19: Our teacher \_\_\_\_\_ strict when he \_\_\_\_\_ a lesson.

- A. always is - has                      B. is always - have                      C. is always - has                      D. always is - have

Question 20: Do you know the address of \_\_\_\_\_ house?

- A. Mrs. Hoa                      B. Mrs. Hoas'                      C. Mrs. Hoa's                      D. Mrs. Hoa'

Circle the letter A, B, C or D to indicate the underlined part that needs correction in each of the following questions

Question 21: There are many visitor in Ha Long Bay every year.

- A                      B                      C                      D

Question 22: That building is more tall than this one.

- A                      B                      C                      D

Circle the letter A, B, C or D to indicate the word that differs from the other three in the position of primary STRESS in each of the following questions

Question 23: A. scenery                      B. uniform                      C. amazing                      D. beautiful

Question 24: A. desert                      B. island                      C. behind                      D. kitchen

Read the following passage and circle the letter A, B, C or D to indicate the correct answer to each of the questions

Hi. I am Minh. I live in Ha Noi but I am having a good time at Nha Trang Beach now. The beach is more beautiful than the beaches in Sam Son. The sun is shining brightly. The weather is cooler and drier than that in Ha Noi. The houses are smaller and the buildings are older than the buildings in Ha Noi. The streets are wider with less traffic. I love the seafood here. It is more delicious and cheaper than the seafood in Ha Noi. The people here are really nice. I like Nha Trang very much.

Question 25: Which of the following statements is TRUE ?

- A. Nha Trang Beach is beautiful.  
B. The writer is having a bad time at Nha Trang Beach  
C. The streets in Nha Trang are narrower than those in Ha Noi.  
D. The writer doesn't like Nha Trang.

Question 26: Are houses in Nha Trang bigger than those in Ha Noi?

- A. No, they aren't.                      B. No, they don't.                      C. Yes, they do.                      D. Yes, they are.

Question 27: Where does the writer live ?

- A. In Sam Son                      B. In Da Nang                      C. In Ha Noi                      D. In Nha Trang

Question 28: What does the word 'it' in line 4 mean?

- A. the sun                      B. the beach                      C. the seafood                      D. the weather

Question 29: How is the weather in Nha Trang?

- A. It's cool.                      B. It's wet.                      C. It's cold.                      D. It's rainy.

Circle the letter A, B, C or D to indicate the word OPPOSITE in meaning to the underlined word(s) in the following question.

Question 30: I can't see the screen because of the person in front of me.

- A. next to                      B. on                      C. behind                      D. between

Circle the letter A, B, C or D to indicate the word whose underlined part differs from the other three in pronunciation in each of the following questions

Question 31: A. study                      B. active                      C. furniture                      D. plaster

Question 32: A. scissors                      B. fireworks                      C. confident                      D. expensive

**PART II: WRITING**

Reorder the words/phrases to make meaningful sentences.

Question 33: many / does / have / How / Ha Long Bay / islands / ?

⇒ .....

Question 34: do/ You/ before/ must/ to school/ your homework/ going/.

⇒ .....

Question 35: is/ and/ My/ hard-working/ cousin / creative/.

⇒ .....

Question 36: volleyball / David /right now / and his friends/ playing/ are /.

⇒ .....

Finish the second sentence so that it has a similar meaning to the first one, beginning with the given words.

Question 37: It is not good for children to eat lots of sweets at Tet.

⇒ Children should.....

Question 38: He has curly and blond hair.

⇒ His .....

Question 39: There is no water in the bottle.

⇒ There is not.....

Question 40: A car is more expensive than a motorbike.

⇒ A motorbike .....

----- THE END -----

**PART I: MULTIPLE CHOICE**

*Listen and circle the letter A, B, C or D to indicate the correct word that best fits each of the following sentences.*

**Question 1:** Vy lives in the \_\_\_\_\_ of Ho Chi Minh City.

- A. suburbs
- B. tourist attraction
- C. centre
- D. mountains

**Question 2:** There are NOT any \_\_\_\_\_ in her neighbourhood.

- A. shops
- B. restaurants
- C. art galleries
- D. squares

**Question 3:** The people here are \_\_\_\_\_.

- A. confident
- B. helpful
- C. active
- D. shy

**Question 4:** Vy dislikes \_\_\_\_\_ in her neighbourhood.

- A. the wide streets
- B. the dirty air
- C. the people
- D. the restaurants

*Listen and circle the letter A, B, C or D to indicate the correct answer to each of the following questions.*

**Question 5:** What can tourists visit when they are in Phu Quoc?

- A. national parks
- B. deserts
- C. cathedrals
- D. ancient towns

**Question 6:** What are the people in Phu Quoc like ?

- A. They're beautiful.
- B. They're interesting
- C. They're delicious.
- D. They're friendly.

**Question 7:** What are popular water sports in Phu Quoc?

- A. sailing and fishing
- B. fishing and surfing
- C. swimming and sailing
- D. swimming and surfing

**Question 8:** Where can you buy interesting things on the island?

- A. at the markets
- B. at the airports
- C. at the hotels
- D. at the resorts

*Circle the letter A, B, C or D to indicate the underlined part that needs correction in each of the following questions*

**Question 9:** That building is more tall than this one.

- A
- B
- C
- D

**Question 10:** There are many visitor in Ha Long Bay every year.

- A
- B
- C
- D

*Circle the letter A, B, C or D to indicate the correct answer to complete each of the following questions*

**Question 11:** Students must \_\_\_\_\_ to school on time.

- A. to go
- B. go
- C. goes
- D. going

**Question 12:** They are talking about some man-made and natural \_\_\_\_\_ of Viet Nam.

- A. wonderful
- B. wonder
- C. wonderfully
- D. wonders

**Question 13:** Do you know the address of \_\_\_\_\_ house?

- A. Mrs. Hoa's
- B. Mrs. Hoas'
- C. Mrs. Hoa'
- D. Mrs. Hoa

**Question 14:** In Viet Nam, Tet is a good time for family \_\_\_\_\_.

- A. gatherings
- B. lucky money
- C. fireworks
- D. relatives

**Question 15:** Our teacher \_\_\_\_\_ strict when he \_\_\_\_\_ a lesson.

- A. always is – has
- B. is always - has
- C. always is - have
- D. is always - have

*Circle the letter A, B, C or D to indicate the most suitable response to the following exchange.*

**Question 16:** - "Let's go to the cinema this Saturday."

- "\_\_\_\_\_ What time can we meet?"

- A. You're welcome!
- B. That's fine.
- C. Oh no!
- D. Are you sure ?



Circle the letter A, B, C or D to indicate the word whose underlined part differs from the other three in pronunciation in each of the following questions

- Question 17: A. furniture      B. sudy      C. plaster      D. aive  
Question 18: A. scissors      B. expensive      C. confident      D. fireworks

Circle the letter A, B, C or D to indicate the word CLOSEST in meaning to the underlined word(s) in the following question.

- Question 19: Living in a city is more exciting than living in the countryside.  
A. peaceful      B. interesting      C. crowded      D. boring

Circle the letter A, B, C or D to indicate the word OPPOSITE in meaning to the underlined word(s) in the following question.

- Question 20: I can't see the screen because of the person in front of me.  
A. between      B. behind      C. on      D. next to

Circle the letter A, B, C or D to indicate the word that differs from the other three in the position of primary STRESS in each of the following questions

- Question 21: A. beautiful      B. scenery      C. amazing      D. uniform  
Question 22: A. kitchen      B. desert      C. island      D. behind

Read the following passage and circle the letter A, B, C or D to indicate the correct word that best fits each of the numbered blanks.

My name's Sandra and I live (23) \_\_\_\_\_ Hill town. It is a small town of England. There are (24) \_\_\_\_\_ shops and three supermarkets here. You can buy everything you need. In the town centre, there (25) \_\_\_\_\_ a park where children can play freely. You can find some restaurants and cafés in my town. My favorite café is Icecave. It's on Park Street and I think the ice cream here is (26) \_\_\_\_\_ than in other places. I like living in Hilltown (27) \_\_\_\_\_ it is a convenient place and the people here are friendly.

- Question 23: A. next      B. in      C. on      D. from  
Question 24: A. many      B. any      C. a little      D. much  
Question 25: A. are      B. is      C. be      D. am  
Question 26: A. good      B. better      C. worse      D. bad  
Question 27: A. and      B. or      C. because      D. but

Read the following passage and circle the letter A, B, C or D to indicate the correct answer to each of the following questions

Hi. I am Minh. I live in Ha Noi but I am having a good time at Nha Trang Beach now. The beach is more beautiful than the beaches in Sam Son. The sun is shining brightly. The weather is cooler and drier than that in Ha Noi. The houses are smaller and the buildings are older than the buildings in Ha Noi. The streets are wider with less traffic. I love the seafood here. It is more delicious and cheaper than the seafood in Ha Noi. The people here are really nice. I like Nha Trang very much.

- Question 28: Are houses in Nha Trang bigger than those in Ha Noi?  
A. No, they aren't.      B. Yes, they do.      C. Yes, they are.      D. No, they don't.  
Question 29: What does the word 'it' in line 4 mean?  
A. the seafood      B. the weather      C. the sun      D. the beach  
Question 30: Where does the writer live ?  
A. In Da Nang      B. In Ha Noi      C. In Nha Trang      D. In Sam Son  
Question 31: Which of the following statements is TRUE ?  
A. The writer is having a bad time at Nha Trang Beach  
B. The writer doesn't like Nha Trang.  
C. The streets in Nha Trang are narrower than those in Ha Noi.  
D. Nha Trang Beach is beautiful.

**Question 32:** How is the weather in Nha Trang?

A. It's wet.

B. It's cool.

C. It's cold.

D. It's rainy.

**PART II: WRITING**

*Finish the second sentence so that it has a similar meaning to the first one, beginning with the given words.*

**Question 33:** There is no water in the bottle.

⇒ There is not.....

**Question 34:** A car is more expensive than a motorbike.

⇒ A motorbike .....

**Question 35:** He has curly and blond hair.

⇒ His .....

**Question 36:** It is not good for children to eat lots of sweets at Tet.

⇒ Children should .....

*Reorder the words/phrases to make meaningful sentences.*

**Question 37:** many / does / have / How / Ha Long Bay / islands / ?

⇒ .....

**Question 38:** volleyball / David /right now / and his friends/ playing/ are /.

⇒ .....

**Question 39:** is/ and/ My/ hard-working/ cousin / creative/.

⇒ .....

**Question 40:** do/ You/ before/ must/ to school/ your homework/ going/.

⇒ .....

----- **THE END** -----

a, Dùng tay phải cầm thân nhiệt kế, đặt bầu nhiệt kế vào nách trái, kẹp cánh tay vào giữ nhiệt kế.

b, Chờ khoảng 2-3 phút, lấy nhiệt kế ra và đọc nhiệt độ.

c, Dùng bông lau sạch thân và bầu nhiệt kế.

d, Vẩy mạnh cho thủy ngân bên trong nhiệt kế tụt xuống.

**Hãy sắp xếp các thao tác trên theo trình tự đúng?**

A. d, c, a, b

B. a, b, c, d

C. b, a, c, d

D. c, d, a, b

**Câu 7: Nhũ tương là**

A. các giọt chất lỏng lơ lửng trong 1 chất lỏng khác.

B. các hạt chất rắn lơ lửng trong 1 chất lỏng khác.

C. các giọt chất lỏng lơ lửng trong chất khí.

D. sự hòa tan của chất rắn trong chất lỏng.

**Câu 8: Phát biểu nào sau đây là đúng về khí oxygen?**

A. Khí oxygen không tan trong nước

B. Khí oxygen sinh ra trong quá trình hô hấp của cây xanh

C. Ở điều kiện thường, khí oxygen là chất khí, không màu, không mùi, không vị.

D. Cần cung cấp khí oxygen để dập tắt đám cháy

**Câu 9: Khí carbon dioxide (CO<sub>2</sub>) cần thiết cho quá trình nào sau đây?**

A. Hô hấp

B. Thoát hơi nước

C. Sự vận chuyển nước trong thân

D. Quang hợp

**Câu 10: Trong các vật liệu sau đây, vật liệu nào có khả năng dẫn điện tốt?**

A. Kim loại

B. Thủy tinh

C. Gốm

D. Cao su

**Câu 11: Nguyên liệu nào sau đây được sử dụng trong lò nung vôi?**

A. Sắt

B. Cát

C. Gạch

D. Đá vôi

**Câu 12: Nhiên liệu hóa thạch là**

A. nguồn nguyên liệu tái tạo.

B. đá chứa ít nhất 50% xác động và thực vật.

C. chỉ bao gồm dầu mỏ, than đá.

D. nhiên liệu hình thành từ xác sinh vật bị phân hủy và biến đổi hàng triệu năm trước

**Câu 13. Kí hiệu bên có ý nghĩa gì?**

A. Vật liệu nhựa sử dụng được nhiều lần

B. Vật liệu thủy tinh chỉ sử dụng một lần

C. Vật liệu thủy tinh sử dụng được nhiều lần

D. Vật liệu nhựa chỉ sử dụng một lần



**Câu 14: Cây trồng nào sau đây không được xem là cây lương thực?**

A. Lúa mì.

B. Ngô.

C. Mía.

D. Lúa nước.

**Câu 15: Loại vitamin nào sau đây tan trong nước?**

A. Vitamin A.

B. Vitamin D

C. Vitamin E.

D. Vitamin B

**Câu 16: Thế nào là nhiên liệu?**

A. Nhiên liệu là những vật liệu dùng cho quá trình xây dựng.

- B. Nhiên liệu là những chất oxi hóa để cung cấp năng lượng cho cơ thể sống.
- C. Nhiên liệu là một số chất hoặc hỗn hợp chất được dùng làm nguyên liệu đầu vào cho các quá trình sản xuất hoặc chế tạo.
- D. Nhiên liệu là những chất cháy được và khi cháy tỏa ra nhiều nhiệt

**Câu 17: Để củi dễ cháy khi đun nấu, người ta không dùng biện pháp nào sau đây?**

- A. Cung cấp đầy đủ oxygen cho quá trình cháy.
- B. Chẻ nhỏ củi.
- C. Xếp củi chồng lên nhau, càng sát càng tốt.
- D. Phơi củi cho thật khô.

**Câu 18: Dung dịch nào sau đây chỉ chứa 1 chất tan?**

- A. Nước mắm
- B. Nước mưa
- C. Nước khoáng
- D. Nước đường

**Câu 19: Chất nào sau đây tan nhiều trong nước nóng**

- A. Muối ăn
- B. Nến
- C. Cát
- D. Xăng

**Câu 20: Dung dịch là**

- A. hỗn hợp không đồng nhất.
- B. chất tinh khiết.
- C. hỗn hợp không đồng nhất của chất rắn và chất lỏng.
- D. hỗn hợp đồng nhất của dung môi và chất tan.

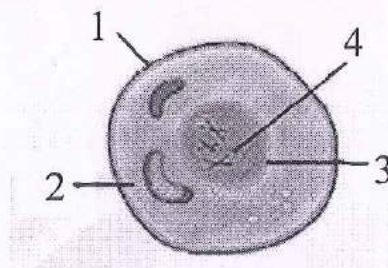
**Câu 21: Nhận định nào sau đây là đúng khi nói về hình dạng và kích thước của tế bào?**

- A. Các loại tế bào đều có chung hình dạng và kích thước.
- B. Các loại tế bào thường có hình dạng khác nhau nhưng kích thước giống nhau
- C. Các loại tế bào khác nhau thì có hình dạng và kích thước khác nhau.
- D. Các loại tế bào chỉ khác nhau về kích thước, chúng giống nhau về hình dạng.

**Câu 22: Trong tế bào, màng sinh chất (màng tế bào) có chức năng gì?**

- A. Tham gia trao đổi chất với môi trường
- B. Là trung tâm điều khiển mọi hoạt động của tế bào
- C. Là nơi diễn ra các hoạt động sống của tế bào
- D. Là nơi tạo ra năng lượng cung cấp cho mọi hoạt động của tế bào

**Câu 23: Chú thích đúng cho sơ đồ cấu tạo của tế bào như sau:**



- A. 1-nhân, 2-tế bào chất, 3-vật chất di truyền, 4-màng tế bào.
- B. 1-nhân, 2-tế bào chất, 3-màng tế bào, 4-vật chất di truyền.
- C. 1-tế bào chất, 2-nhân, 3-màng tế bào, 4-vật chất di truyền.
- D. 1-màng tế bào, 2- tế bào chất, 3-nhân, 4- vật chất di truyền.

**Câu 24: Loại bào quan nào sau đây không có ở tế bào động vật?**

- A. Ti thể                      B. Không bào                      C. Ribosome                      D. Lục lạp

**Câu 25: Một tế bào mẹ sau thực hiện phân chia (sinh sản) liên tiếp 3 lần sẽ tạo ra bao nhiêu tế bào con?**

- A. 4                              B. 6                              C. 8                              D. 10

**Câu 26: Điều gì sẽ xảy ra với cơ thể nếu không kiểm soát được quá trình phân chia của tế bào?**

- A. Cơ thể lớn lên thành người khổng lồ.  
B. Xuất hiện các khối u ở nơi phân chia mất kiểm soát.  
C. Cơ thể phát triển mất cân đối (bộ phận to, bộ phận nhỏ không bình thường).  
D. Cơ vẫn thể phát triển bình thường.

**Câu 27. Đặc điểm nào dưới đây chỉ có ở cơ thể đa bào?**

- A. Có thể sinh sản                      B. Có thể di chuyển  
C. Có thể cảm ứng                      D. Có nhiều tế bào trong cùng một cơ thể.

**Câu 28. Trong các loài sinh vật dưới đây, loài nào là sinh vật đơn bào?**

- A. Cây cam                      B. Con lợn                      C. Cây ngô                      D. Trùng roi

**PHẦN II: TỰ LUẬN: (3,0 điểm)**

**Câu 1: (1,5 điểm)** Trình bày thí nghiệm tách nước ra khỏi hỗn hợp gồm nước và cát.

**Câu 2: (1,0 điểm)**

a. Tại sao cần phải lau chùi, vệ sinh kính lúp thường xuyên bằng khăn mềm và sử dụng nước rửa kính chuyên dụng (nếu có).

b. Tại sao nói “Tế bào là đơn vị cơ bản của sự sống”?

**Câu 3: (0,5 điểm):** Nêu những hiểu biết của em về tác hại của việc khai thác đá vôi đối với môi trường?

----- Chúc các em làm bài đạt kết quả cao -----

TRƯỜNG THCS NGỌC LÂM

Năm học: 2022 - 2023

Tổ: Khoa học tự nhiên

ĐỀ KIỂM TRA CUỐI KÌ I

MÔN: KHOA HỌC TỰ NHIÊN - KHỐI: 6

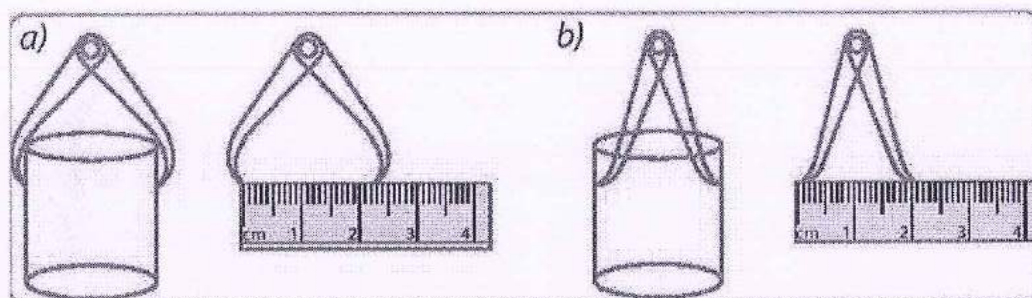
Thời gian làm bài: 90 phút

- Mã đề: KHTN 602 -

**PHẦN I: TRẮC NGHIỆM: (7 điểm)**

Chọn chữ cái đứng trước câu trả lời đúng và ghi vào giấy kiểm tra

**Câu 1. Khi dùng compa và thước thẳng để đo đường kính ngoài của miệng cốc (hình a) và đường kính trong của cốc (hình b).**



**Kết quả nào sau đây là đúng về đường kính ngoài của miệng cốc và đường kính trong của cốc.**

- A. Đường kính ngoài 2,0 cm; đường kính trong 2,0 cm
- B. Đường kính ngoài 2,3 cm; đường kính trong 2,1 cm
- C. Đường kính ngoài 2,0 cm; đường kính trong 2,4 cm
- D. Đường kính ngoài 2,5 cm; đường kính trong 2,0 cm

**Câu 2. Tế bào thịt quả cà chua có đường kính khoảng 0,55mm. Để quan sát tế bào thịt quả cà chua thì chọn kính hiển vi có độ phóng đại nào dưới đây là phù hợp?**

- A. 16 lần
- B. 10 lần
- C. 40 lần
- D. 4 lần

**Câu 3. Dung dịch là**

- A. hỗn hợp không đồng nhất của chất rắn và chất lỏng.
- B. hỗn hợp không đồng nhất.
- C. hỗn hợp đồng nhất của dung môi và chất tan.
- D. chất tinh khiết.

**Câu 4. Để xác định thành tích của vận động viên chạy 100m người ta sử dụng loại đồng hồ nào sau đây?**

- A. Đồng hồ hẹn giờ
- B. Đồng hồ đeo tay
- C. Đồng hồ bấm giây
- D. Đồng hồ quả lắc

**Câu 5. Hệ thống phóng đại của kính hiển vi bao gồm?**

- A. Chân kính, bàn kính, kẹp giữ mẫu.
- B. Đèn chiếu sáng, gương, màn chắn sáng.
- C. Thị kính, vật kính.
- D. Ốc to (núm chỉnh thô), núm nhỏ (núm chỉnh tinh).

**Câu 6. Kí hiệu bên có ý nghĩa gì?**

- A. Vật liệu nhựa sử dụng được nhiều lần
- B. Vật liệu nhựa chỉ sử dụng một lần
- C. Vật liệu thủy tinh sử dụng được nhiều lần
- D. Vật liệu thủy tinh chỉ sử dụng một lần



**Câu 7. Trong các vật liệu sau đây, vật liệu nào có khả năng dẫn điện tốt?**

- A. Gốm
- B. Kim loại
- C. Cao su
- D. Thủy tinh

**Câu 8. Cây trồng nào sau đây không được xem là cây lương thực?**

- A. Lúa mì.
- B. Ngô.
- C. Mía.
- D. Lúa nước.

**Câu 9. Phát biểu nào sau đây là đúng về khí oxygen?**

- A. Ở điều kiện thường, khí oxygen là chất khí, không màu, không mùi, không vị.
- B. Khí oxygen không tan trong nước
- C. Khí oxygen sinh ra trong quá trình hô hấp của cây xanh
- D. Cần cung cấp khí oxygen để dập tắt đám cháy

**Câu 10. Trên vỏ hộp bánh có ghi khối lượng tịnh 350g. Hỏi trong túi chứa bao nhiêu kg bánh?**

- A. 3,5kg
- B. 0,35kg
- C. 35kg
- D. 3500kg

**Câu 11. Chất nào sau đây tan nhiều trong nước nóng**

- A. Muối ăn
- B. Cát
- C. Xăng
- D. Nến

**Câu 12. Thế nào là nhiên liệu?**

- A. Nhiên liệu là những chất oxi hóa để cung cấp năng lượng cho cơ thể sống.
- B. Nhiên liệu là những chất cháy được và khi cháy tỏa ra nhiều nhiệt
- C. Nhiên liệu là một số chất hoặc hỗn hợp chất được dùng làm nguyên liệu đầu vào cho các quá trình sản xuất hoặc chế tạo.
- D. Nhiên liệu là những vật liệu dùng cho quá trình xây dựng.

**Câu 13. Nhũ tương là**

- A. sự hòa tan của chất rắn trong chất lỏng.
- B. các giọt chất lỏng lơ lửng trong 1 chất lỏng khác.
- C. các hạt chất rắn lơ lửng trong 1 chất lỏng khác.
- D. các giọt chất lỏng lơ lửng trong chất khí.

**Câu 14. Cho các thao tác phải thực hiện khi dùng nhiệt kế thủy ngân để đo nhiệt độ của chính cơ thể mình, gồm:**

a, Dùng tay phải cầm thân nhiệt kế, đặt bầu nhiệt kế vào nách trái, kẹp cánh tay vào giữ nhiệt kế.

b, Chờ khoảng 2-3 phút, lấy nhiệt kế ra và đọc nhiệt độ.

c, Dùng bông lau sạch thân và bầu nhiệt kế.

d, Vẩy mạnh cho thủy ngân bên trong nhiệt kế tụt xuống.

**Hãy sắp xếp các thao tác trên theo trình tự đúng?**

- A. d, c, a, b
- B. a, b, c, d
- C. b, a, c, d
- D. c, d, a, b

**Câu 15. Loại vitamin nào sau đây tan trong nước?**

- A. Vitamin B
- B. Vitamin A.
- C. Vitamin E
- D. Vitamin D

**Câu 16. Để củi dễ cháy khi đun nấu, người ta không dùng biện pháp nào sau đây?**

- A. Xếp củi chồng lên nhau, càng sít càng tốt.

- B. Cung cấp đầy đủ oxygen cho quá trình cháy.
- C. Phơi củi cho thật khô.
- D. Chẻ nhỏ củi.

**Câu 17. Nguyên liệu nào sau đây được sử dụng trong lò nung vôi?**

- A. Đá vôi
- B. Cát
- C. Sắt
- D. Gạch

**Câu 18. Dung dịch nào sau đây chỉ chứa 1 chất tan?**

- A. Nước khoáng
- B. Nước đường
- C. Nước mắm
- D. Nước mưa

**Câu 19. Nhiên liệu hóa thạch là**

- A. nguồn nguyên liệu tái tạo.
- B. nhiên liệu hình thành từ xác sinh vật bị phân hủy và biến đổi hàng triệu năm trước
- C. chỉ bao gồm dầu mỏ, than đá.
- D. đá chứa ít nhất 50% xác động và thực vật.

**Câu 20. Khí carbon dioxide ( $\text{CO}_2$ ) cần thiết cho quá trình nào sau đây?**

- A. Hô hấp
- B. Quang hợp
- C. Thoát hơi nước
- D. Sự vận chuyển nước trong thân

**Câu 21. Điều gì sẽ xảy ra với cơ thể nếu không kiểm soát được quá trình phân chia của tế bào?**

- A. Cơ thể phát triển mất cân đối (bộ phận to, bộ phận nhỏ không bình thường).
- B. Xuất hiện các khối u ở nơi phân chia mất kiểm soát.
- C. Cơ thể lớn lên thành người khổng lồ.
- D. Cơ vẫn thể phát triển bình thường.

**Câu 22. Trong các loài sinh vật dưới đây, loài nào là sinh vật đơn bào?**

- A. Cây cam
- B. Trùng roi
- C. Cây ngô
- D. Con lợn

**Câu 23. Một tế bào mẹ sau thực hiện phân chia (sinh sản) liên tiếp 3 lần sẽ tạo ra bao nhiêu tế bào con?**

- A. 10
- B. 8
- C. 4
- D. 6

**Câu 24. Trong tế bào, màng sinh chất (màng tế bào) có chức năng gì?**

- A. Là nơi diễn ra các hoạt động sống của tế bào
- B. Là nơi tạo ra năng lượng cung cấp cho mọi hoạt động của tế bào
- C. Là trung tâm điều khiển mọi hoạt động của tế bào
- D. Tham gia trao đổi chất với môi trường

**Câu 25. Nhận định nào sau đây là đúng khi nói về hình dạng và kích thước của tế bào?**

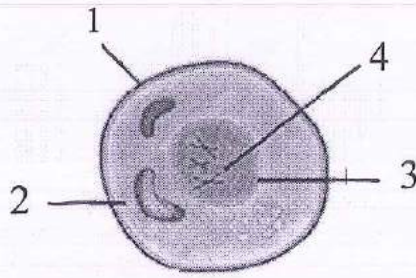
- A. Các loại tế bào đều có chung hình dạng và kích thước.
- B. Các loại tế bào chỉ khác nhau về kích thước, chúng giống nhau về hình dạng.
- C. Các loại tế bào thường có hình dạng khác nhau nhưng kích thước giống nhau
- D. Các loại tế bào khác nhau thì có hình dạng và kích thước khác nhau.

**Câu 26. Đặc điểm nào dưới đây chỉ có ở cơ thể đa bào?**

- A. Có thể di chuyển
- B. Có thể sinh sản
- C. Có thể cảm ứng
- D. Có nhiều tế bào trong cùng một cơ thể.

**Câu 27. Chú thích đúng cho sơ đồ cấu tạo của tế bào như sau:**





- A. 1-màng tế bào, 2- tế bào chất, 3-nhân, 4- vật chất di truyền.
- B. 1-tế bào chất, 2-nhân, 3-màng tế bào, 4-vật chất di truyền.
- C. 1-nhân, 2-tế bào chất, 3-vật chất di truyền, 4-màng tế bào.
- D. 1-nhân, 2-tế bào chất, 3-màng tế bào, 4-vật chất di truyền.

**Câu 28. Loại bào quan nào sau đây không có ở tế bào động vật?**

- A. Ti thể
- B. Không bào
- C. Ribosome
- D. Lục lạp

**PHẦN II: TỰ LUẬN: (3,0 điểm)**

**Câu 1: (1,5 điểm)** Trình bày thí nghiệm tách dầu ăn ra khỏi hỗn hợp gồm dầu ăn và nước.

**Câu 2: (1,0 điểm)**

a. Tại sao cần phải lau chùi, vệ sinh kính lúp thường xuyên bằng khăn mềm và sử dụng nước rửa kính chuyên dụng (nếu có).

b. Tại sao nói “Tế bào là đơn vị cơ bản của sự sống”?

**Câu 3: (0,5 điểm):** Nêu những hiểu biết của em về tác hại của việc khai thác đá vôi đối với môi trường?

----- Chúc các em làm bài đạt kết quả cao -----

**TRƯỜNG THCS NGỌC LÂM**

**Năm học: 2022 - 2023**

**Tổ: Khoa học tự nhiên**

**ĐỀ KIỂM TRA CUỐI KÌ I**

**MÔN: KHOA HỌC TỰ NHIÊN - KHỐI: 6**

**Thời gian làm bài: 90 phút**

**- Mã đề: KHTN 603 -**

**PHẦN I: TRẮC NGHIỆM: (7 điểm)**

Chọn chữ cái đúng trước câu trả lời đúng và ghi vào giấy kiểm tra

**Câu 1. Khí carbon dioxide (CO<sub>2</sub>) cần thiết cho quá trình nào sau đây?**

- A. Hô hấp  
B. Quang hợp  
C. Sự vận chuyển nước trong thân  
D. Thoát hơi nước

**Câu 2. Phát biểu nào sau đây là đúng về khí oxygen?**

- A. Ở điều kiện thường, khí oxygen là chất khí, không màu, không mùi, không vị.  
B. Khí oxygen không tan trong nước  
C. Cần cung cấp khí oxygen để dập tắt đám cháy  
D. Khí oxygen sinh ra trong quá trình hô hấp của cây xanh

**Câu 3. Nhiên liệu hóa thạch là**

- A. nhiên liệu hình thành từ xác sinh vật bị phân hủy và biến đổi hàng triệu năm trước  
B. đá chứa ít nhất 50% xác động và thực vật.  
C. nguồn nguyên liệu tái tạo.  
D. chỉ bao gồm dầu mỏ, than đá.

**Câu 4. Cho các thao tác phải thực hiện khi dùng nhiệt kế thủy ngân để đo nhiệt độ của chính cơ thể mình, gồm:**

- a, Dùng tay phải cầm thân nhiệt kế, đặt bầu nhiệt kế vào nách trái, kẹp cánh tay vào giữ nhiệt kế.  
b, Chờ khoảng 2-3 phút, lấy nhiệt kế ra và đọc nhiệt độ.  
c, Dùng bông lau sạch thân và bầu nhiệt kế.  
d, Vẩy mạnh cho thủy ngân bên trong nhiệt kế tụt xuống.

**Hãy sắp xếp các thao tác trên theo trình tự đúng?**

- A. c, d, a, b  
B. a, b, c, d  
C. d, c, a, b  
D. b, a, c, d

**Câu 5. Trong các vật liệu sau đây, vật liệu nào có khả năng dẫn điện tốt?**

- A. Gốm  
B. Thủy tinh  
C. Cao su  
D. Kim loại

**Câu 6. Dung dịch là**

- A. hỗn hợp không đồng nhất của chất rắn và chất lỏng.  
B. chất tinh khiết.  
C. hỗn hợp không đồng nhất.  
D. hỗn hợp đồng nhất của dung môi và chất tan.

**Câu 7. Trên vỏ hộp bánh có ghi khối lượng tịnh 350g. Hỏi trong túi chứa bao nhiêu kg bánh?**

- A. 35kg  
B. 3,5kg  
C. 0,35kg  
D. 3500kg

**Câu 8. Thế nào là nhiên liệu?**

- A. Nhiên liệu là những chất oxi hóa để cung cấp năng lượng cho cơ thể sống.  
B. Nhiên liệu là những vật liệu dùng cho quá trình xây dựng.

C. Nhiên liệu là một số chất hoặc hỗn hợp chất được dùng làm nguyên liệu đầu vào cho các quá trình sản xuất hoặc chế tạo.

D. Nhiên liệu là những chất cháy được và khi cháy tỏa ra nhiều nhiệt

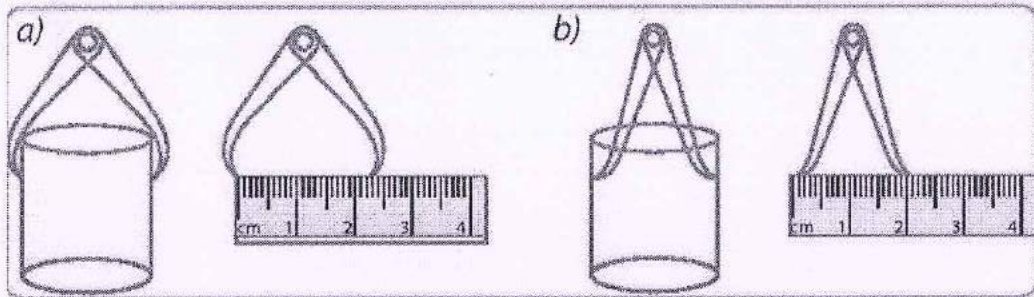
**Câu 9. Nguyên liệu nào sau đây được sử dụng trong lò nung vôi?**

- A. Đá vôi                      B. Cát                      C. Gạch                      D. Sắt

**Câu 10. Hệ thống phóng đại của kính hiển vi bao gồm?**

- A. Thị kính, vật kính.  
B. Chân kính, bàn kính, kẹp giữ mẫu.  
C. Đèn chiếu sáng, gương, màn chắn sáng.  
D. Ốc to (núm chỉnh thô), núm nhỏ (núm chỉnh tinh).

**Câu 11. Khi dùng compa và thước thẳng để đo đường kính ngoài của miệng cốc (hình a) và đường kính trong của cốc (hình b).**



**Kết quả nào sau đây là đúng về đường kính ngoài của miệng cốc và đường kính trong của cốc.**

- A. Đường kính ngoài 2,3 cm; đường kính trong 2,1 cm  
B. Đường kính ngoài 2,5 cm; đường kính trong 2,0 cm  
C. Đường kính ngoài 2,0 cm; đường kính trong 2,0 cm  
D. Đường kính ngoài 2,1 cm; đường kính trong 2,4 cm

**Câu 12. Nhũ tương là**

- A. các giọt chất lỏng lơ lửng trong 1 chất lỏng khác.  
B. sự hòa tan của chất rắn trong chất lỏng.  
C. các hạt chất rắn lơ lửng trong 1 chất lỏng khác.  
D. các giọt chất lỏng lơ lửng trong chất khí.

**Câu 13. Để xác định thành tích của vận động viên chạy 100m người ta sử dụng loại đồng hồ nào sau đây?**

- A. Đồng hồ bấm giây                      B. Đồng hồ đeo tay  
C. Đồng hồ hẹn giờ                      D. Đồng hồ quả lắc

**Câu 14. Dung dịch nào sau đây chỉ chứa 1 chất tan?**

- A. Nước mắm                      B. Nước đường                      C. Nước mưa                      D. Nước khoáng

**Câu 15. Chất nào sau đây tan nhiều trong nước nóng**

- A. Muối ăn                      B. Cát                      C. Xăng                      D. Nến

**Câu 16. Loại vitamin nào sau đây tan trong nước?**

- A. Vitamin A                      B. Vitamin D  
C. Vitamin B                      D. Vitamin E

**Câu 17. Để củi dễ cháy khi đun nấu, người ta không dùng biện pháp nào sau đây?**

- A. Xếp củi chồng lên nhau, càng sát càng tốt.
- B. Chẻ nhỏ củi.
- C. Cung cấp đầy đủ oxygen cho quá trình cháy.
- D. Phơi củi cho thật khô.

**Câu 18. Kí hiệu bên có ý nghĩa gì?**

- A. Vật liệu nhựa sử dụng được nhiều lần
- B. Vật liệu nhựa chỉ sử dụng một lần
- C. Vật liệu thủy tinh sử dụng được nhiều lần
- D. Vật liệu thủy tinh chỉ sử dụng một lần



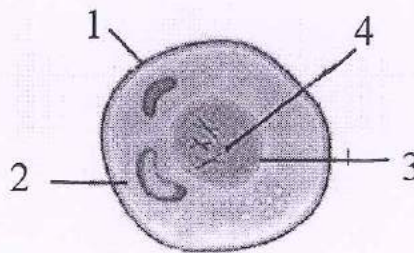
**Câu 19. Cây trồng nào sau đây không được xem là cây lương thực?**

- A. Ngô.
- B. Lúa mì.
- C. Lúa nước.
- D. Mía.

**Câu 20. Tế bào thịt quả cà chua có đường kính khoảng 0,55mm. Để quan sát tế bào thịt quả cà chua thì chọn kính hiển vi có độ phóng đại nào dưới đây là phù hợp?**

- A. 10 lần
- B. 40 lần
- C. 4 lần
- D. 16 lần

**Câu 21. Chú thích đúng cho sơ đồ cấu tạo của tế bào như sau:**



- A. 1-nhân, 2-tế bào chất, 3-vật chất di truyền, 4-màng tế bào.
- B. 1-màng tế bào, 2- tế bào chất, 3-nhân, 4- vật chất di truyền.
- C. 1-tế bào chất, 2-nhân, 3-màng tế bào, 4-vật chất di truyền.
- D. 1-nhân, 2-tế bào chất, 3-màng tế bào, 4-vật chất di truyền.

**Câu 22. Trong các loài sinh vật dưới đây, loài nào là sinh vật đơn bào?**

- A. Cây cam
- B. Trùng roi
- C. Con lợn
- D. Cây ngô

**Câu 23. Loại bào quan nào sau đây không có ở tế bào động vật?**

- A. Lục lạp
- B. Không bào
- C. Ti thể
- D. Ribosome

**Câu 24. Nhận định nào sau đây là đúng khi nói về hình dạng và kích thước của tế bào?**

- A. Các loại tế bào thường có hình dạng khác nhau nhưng kích thước giống nhau
- B. Các loại tế bào đều có chung hình dạng và kích thước.
- C. Các loại tế bào khác nhau thì có hình dạng và kích thước khác nhau.
- D. Các loại tế bào chỉ khác nhau về kích thước, chúng giống nhau về hình dạng.

**Câu 25. Đặc điểm nào dưới đây chỉ có ở cơ thể đa bào?**

- A. Có nhiều tế bào trong cùng một cơ thể.
- B. Có thể sinh sản
- C. Có thể cảm ứng
- D. Có thể di chuyển

**Câu 26. Điều gì sẽ xảy ra với cơ thể nếu không kiểm soát được quá trình phân chia của tế bào?**

- A. Cơ vẫn thể phát triển bình thường.
- B. Cơ thể phát triển mất cân đối (bộ phận to, bộ phận nhỏ không bình thường).
- C. Xuất hiện các khối u ở nơi phân chia mất kiểm soát.
- D. Cơ thể lớn lên thành người khổng lồ.

**Câu 27. Trong tế bào, màng sinh chất (màng tế bào) có chức năng gì?**

- A. Là nơi tạo ra năng lượng cung cấp cho mọi hoạt động của tế bào
- B. Tham gia trao đổi chất với môi trường
- C. Là nơi diễn ra các hoạt động sống của tế bào
- D. Là trung tâm điều khiển mọi hoạt động của tế bào

**Câu 28. Một tế bào mẹ sau thực hiện phân chia (sinh sản) liên tiếp 3 lần sẽ tạo ra bao nhiêu tế bào con?**

- A. 4                                      B. 6                                      C. 8                                      D. 10

**PHẦN II: TỰ LUẬN: (3,0 điểm)**

**Câu 1: (1,5 điểm)** Trình bày thí nghiệm tách nước ra khỏi hỗn hợp gồm nước và cát.

**Câu 2: (1,0 điểm)**

a. Tại sao khi di chuyển kính phải dùng cả 2 tay, 1 tay đỡ chân kính, 1 tay cầm chắc chân kính và không được để tay ướt hay bắn lên mặt kính?

b. Tại sao mỗi loại tế bào có hình dạng và kích thước khác nhau?

**Câu 3 (0,5 điểm):** Nêu những hiểu biết của em về tác hại của việc khai thác đá vôi đối với môi trường?

----- Chúc các em làm bài đạt kết quả cao -----

TRƯỜNG THCS NGỌC LÂM

Năm học: 2022 - 2023

Tổ: Khoa học tự nhiên

ĐỀ KIỂM TRA CUỐI KÌ I

MÔN: KHOA HỌC TỰ NHIÊN - KHỐI: 6

Thời gian làm bài: 90 phút

- Mã đề: KHTN 604 -

**PHẦN I: TRẮC NGHIỆM: (7 điểm)**

Chọn chữ cái đứng trước câu trả lời đúng và ghi vào giấy kiểm tra

**Câu 1. Khí carbon dioxide (CO<sub>2</sub>) cần thiết cho quá trình nào sau đây?**

- A. Thoát hơi nước  
B. Quang hợp  
C. Hô hấp  
D. Sự vận chuyển nước trong thân

**Câu 2. Phát biểu nào sau đây là đúng về khí oxygen?**

- A. Khí oxygen không tan trong nước  
B. Khí oxygen sinh ra trong quá trình hô hấp của cây xanh  
C. Ở điều kiện thường, khí oxygen là chất khí, không màu, không mùi, không vị.  
D. Cần cung cấp khí oxygen để dập tắt đám cháy

**Câu 3. Cây trồng nào sau đây không được xem là cây lương thực?**

- A. Lúa mì.                      B. Lúa nước.                      C. Ngô.                      D. Mía.

**Câu 4. Thế nào là nhiên liệu?**

- A. Nhiên liệu là những vật liệu dùng cho quá trình xây dựng.  
B. Nhiên liệu là những chất oxi hóa để cung cấp năng lượng cho cơ thể sống.  
C. Nhiên liệu là một số chất hoặc hỗn hợp chất được dùng làm nguyên liệu đầu vào cho các quá trình sản xuất hoặc chế tạo.  
D. Nhiên liệu là những chất cháy được và khi cháy tỏa ra nhiều nhiệt

**Câu 5. Dung dịch nào sau đây chỉ chứa 1 chất tan?**

- A. Nước mắm                      B. Nước khoáng                      C. Nước mưa                      D. Nước đường

**Câu 6. Chất nào sau đây tan nhiều trong nước nóng**

- A. Nến                      B. Muối ăn                      C. Xăng                      D. Cát

**Câu 7. Nhiên liệu hóa thạch là**

- A. chỉ bao gồm dầu mỏ, than đá.  
B. đá chứa ít nhất 50% xác động và thực vật.  
C. nhiên liệu hình thành từ xác sinh vật bị phân hủy và biến đổi hàng triệu năm trước  
D. nguồn nguyên liệu tái tạo.

**Câu 8. Nhũ tương là**

- A. các giọt chất lỏng lơ lửng trong 1 chất lỏng khác.  
B. sự hòa tan của chất rắn trong chất lỏng.  
C. các hạt chất rắn lơ lửng trong 1 chất lỏng khác.  
D. các giọt chất lỏng lơ lửng trong chất khí.

**Câu 9. Trên vỏ hộp bánh có ghi khối lượng tịnh 350g. Hỏi trong túi chứa bao nhiêu kg bánh?**

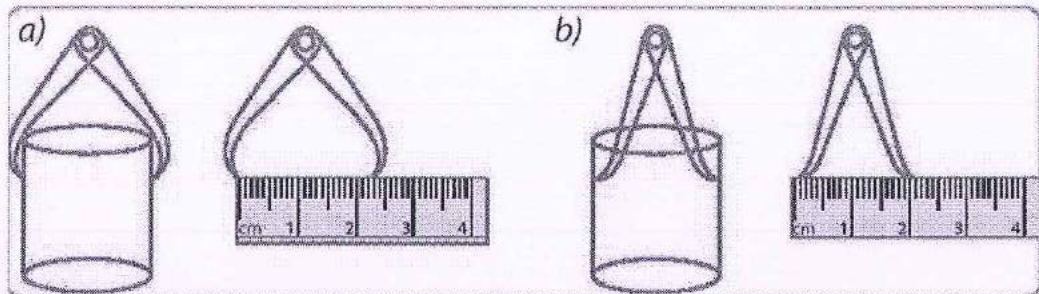
- A. 0,35kg                      B. 3,5kg                      C. 3500kg                      D. 35kg

**Câu 10. Để củi dễ cháy khi đun nấu, người ta không dùng biện pháp nào sau đây?**

- A. Xếp củi chồng lên nhau, càng sít càng tốt.  
B. Phơi củi cho thật khô.

- C. Cung cấp đầy đủ oxygen cho quá trình cháy.
- D. Ché nhỏ củi.

**Câu 11.** Khi dùng compa và thước thẳng để đo đường kính ngoài của miệng cốc (hình a) và đường kính trong của cốc (hình b).



**Kết quả nào sau đây là đúng về đường kính ngoài của miệng cốc và đường kính trong của cốc.**

- A. Đường kính ngoài 2,5 cm; đường kính trong 2,0 cm
- B. Đường kính ngoài 2,0 cm; đường kính trong 2,4 cm
- C. Đường kính ngoài 2,3 cm; đường kính trong 2,1 cm
- D. Đường kính ngoài 2,0 cm; đường kính trong 2,0 cm

**Câu 12.** Tế bào thịt quả cà chua có đường kính khoảng 0,55mm. Để quan sát tế bào thịt quả cà chua thì chọn kính hiển vi có độ phóng đại nào dưới đây là phù hợp?

- A. 4 lần
- B. 10 lần
- C. 40 lần
- D. 16 lần

**Câu 13.** Trong các vật liệu sau đây, vật liệu nào có khả năng dẫn điện tốt?

- A. Cao su
- B. Gôm
- C. Thủy tinh
- D. Kim loại

**Câu 14.** Nguyên liệu nào sau đây được sử dụng trong lò nung vôi?

- A. Cát
- B. Đá vôi
- C. Gạch
- D. Sắt

**Câu 15.** Loại vitamin nào sau đây tan trong nước?

- A. Vitamin B
- B. Vitamin D
- C. Vitamin E
- D. Vitamin A.

**Câu 16.** Hệ thống phóng đại của kính hiển vi bao gồm?

- A. Thị kính, vật kính.
- B. Chân kính, bàn kính, kẹp giữ mẫu.
- C. Ốc to (núm chỉnh thô), núm nhỏ (núm chỉnh tinh).
- D. Đèn chiếu sáng, gương, màn chắn sáng.

**Câu 17.** Dung dịch là

- A. hỗn hợp đồng nhất của dung môi và chất tan.
- B. chất tinh khiết.
- C. hỗn hợp không đồng nhất của chất rắn và chất lỏng.
- D. hỗn hợp không đồng nhất.

**Câu 18.** Cho các thao tác phải thực hiện khi dùng nhiệt kế thủy ngân để đo nhiệt độ của chính cơ thể mình, gồm:

a, Dùng tay phải cầm thân nhiệt kế, đặt bầu nhiệt kế vào nách trái, kẹp cánh tay vào giữ nhiệt kế.

b, Chờ khoảng 2-3 phút, lấy nhiệt kế ra và đọc nhiệt độ.

c, Dùng bông lau sạch thân và bầu nhiệt kế.

d, Vẩy mạnh cho thủy ngân bên trong nhiệt kế tụt xuống.

**Hãy sắp xếp các thao tác trên theo trình tự đúng?**

A. a, b, c, d

B. d, c, a, b

C. b, a, c, d

D. c, d, a, b

**Câu 19. Kí hiệu bên có ý nghĩa gì?**

A. Vật liệu nhựa sử dụng được nhiều lần

B. Vật liệu thủy tinh chỉ sử dụng một lần

C. Vật liệu thủy tinh sử dụng được nhiều lần

D. Vật liệu nhựa chỉ sử dụng một lần



**Câu 20. Để xác định thành tích của vận động viên chạy 100m người ta sử dụng loại đồng hồ nào sau đây?**

A. Đồng hồ bấm giây

B. Đồng hồ hẹn giờ

C. Đồng hồ đeo tay

D. Đồng hồ quả lắc

**Câu 21. Điều gì sẽ xảy ra với cơ thể nếu không kiểm soát được quá trình phân chia của tế bào?**

A. Cơ thể phát triển mất cân đối (bộ phận to, bộ phận nhỏ không bình thường).

B. Cơ vẫn thể phát triển bình thường.

C. Cơ thể lớn lên thành người khổng lồ.

D. Xuất hiện các khối u ở nơi phân chia mất kiểm soát.

**Câu 22. Nhận định nào sau đây là đúng khi nói về hình dạng và kích thước của tế bào?**

A. Các loại tế bào chỉ khác nhau về kích thước, chúng giống nhau về hình dạng.

B. Các loại tế bào thường có hình dạng khác nhau nhưng kích thước giống nhau

C. Các loại tế bào đều có chung hình dạng và kích thước.

D. Các loại tế bào khác nhau thì có hình dạng và kích thước khác nhau.

**Câu 23. Trong tế bào, màng sinh chất (màng tế bào) có chức năng gì?**

A. Là nơi tạo ra năng lượng cung cấp cho mọi hoạt động của tế bào

B. Tham gia trao đổi chất với môi trường

C. Là trung tâm điều khiển mọi hoạt động của tế bào

D. Là nơi diễn ra các hoạt động sống của tế bào

**Câu 24. Trong các loài sinh vật dưới đây, loài nào là sinh vật đơn bào?**

A. Cây ngô

B. Con lợn

C. Trùng roi

D. Cây cam

**Câu 25. Loại bào quan nào sau đây không có ở tế bào động vật?**

A. Ti thể

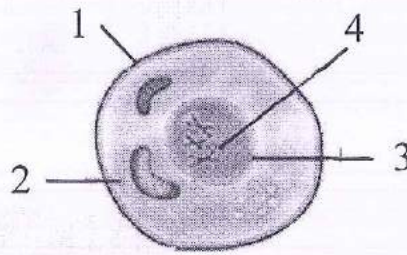
B. Ribosome

C. Không bào

D. Lục lạp

**Câu 26. Chú thích đúng cho sơ đồ cấu tạo của tế bào như sau:**





- A. 1-nhân, 2-tế bào chất, 3-màng tế bào, 4-vật chất di truyền.
- B. 1-tế bào chất, 2-nhân, 3-màng tế bào, 4-vật chất di truyền.
- C. 1-màng tế bào, 2- tế bào chất, 3-nhân, 4- vật chất di truyền.
- D. 1-nhân, 2-tế bào chất, 3-vật chất di truyền, 4-màng tế bào.

**Câu 27. Đặc điểm nào dưới đây chỉ có ở cơ thể đa bào?**

- A. Có thể sinh sản
- B. Có nhiều tế bào trong cùng một cơ thể.
- C. Có thể cảm ứng
- D. Có thể di chuyển

**Câu 28. Một tế bào mẹ sau thực hiện phân chia (sinh sản) liên tiếp 3 lần sẽ tạo ra bao nhiêu tế bào con?**

- A. 6
- B. 10
- C. 8
- D. 4

**PHẦN II: TỰ LUẬN: (3,0 điểm)**

**Câu 1: (1,5 điểm)** Trình bày thí nghiệm tách dầu ăn ra khỏi hỗn hợp gồm dầu ăn và nước.

**Câu 2: (1,0 điểm)**

- a. Tại sao khi di chuyển kính phải dùng cả 2 tay, 1 tay đỡ chân kính, 1 tay cầm chắc chân kính và không được để tay ướt hay bẩn lên mặt kính?
- b. Tại sao mỗi loại tế bào có hình dạng và kích thước khác nhau?

**Câu 3: (0,5 điểm):** Nêu những hiểu biết của em về tác hại của việc khai thác đá vôi đối với môi trường?

----- Chúc các em làm bài đạt kết quả cao -----

Thời gian làm bài: 45 phút

Mã đề 601

**Phần I: Trắc nghiệm (5 điểm):**

*Viết lại chữ cái đứng trước câu trả lời đúng vào giấy kiểm tra:*

**Câu 1. Vùng đất Hà Nội thời Bắc thuộc được gọi bằng những địa danh nào?**

- A. Thăng Long, Hà Nội  
B. Thăng Long, Hoa Lư  
C. Tống Bình, Đại La  
D. Hoa Lư, Cổ Loa

**Câu 2. Năm bao nhiêu di tích lịch sử, kiến trúc nghệ thuật và khảo cổ Cổ Loa được công nhận là di tích quốc gia đặc biệt?**

- A. Năm 2012  
B. Năm 2010  
C. Năm 2011  
D. Năm 2013

**Câu 3. Di tích thành Cổ Loa hiện nay nằm ở huyện nào của thành phố Hà Nội?**

- A. Hà Đông  
B. Thạch Thất  
C. Đông Anh  
D. Quốc Oai

**Câu 4. Có bao nhiêu tiêu chuẩn để xác định là một gia đình văn hóa?**

- A. 4  
B. 3  
C. 2  
D. 5

**Câu 5. Kể tên các di chỉ khảo cổ học ở Hà Nội liên quan đến các nền văn hóa thời đại đồ đồng?**

- A. Di chỉ Thành Dền, Đình Tràng.  
B. Di chỉ Thành Dền, Cổ Loa, Đình Tràng, Vườn Chuối  
C. Di chỉ Đình Tràng  
D. Di chỉ Cổ Loa, Thành Dền, Vườn Chuối

**Câu 6. Thành Cổ Loa gắn liền với mối tình bi thương và cảm động của ai?**

- A. Sơn Tinh – Mị Nương  
B. Thủy Tinh – Mị Nương  
C. Âu Cơ – Lạc Long Quân  
D. Mị Châu – Trọng Thủy

**Câu 7. Cổ Loa được chọn làm kinh đô vào thời kì nào?**

- A. Đại Việt  
B. Âu Lạc  
C. Đại Ngu  
D. Việt Nam

**Câu 8. Khởi nghĩa Lí Bí diễn ra vào năm nào?**

- A. Năm 644 – 654  
B. Năm 327 – 330  
C. Năm 542 – 544  
D. Năm 198 – 224

**Câu 9. Thành Cổ Loa hiện nay gồm mấy vòng thành?**

- A. Hai vòng thành.  
B. Ba vòng thành  
C. Một vòng thành  
D. Bốn vòng thành

**Câu 10. Khi nào cư dân trên vùng đất Hà Nội biết sử dụng đồ đồng và đồ sắt?**

- A. Cách đây khoảng 4000 năm  
B. Cách đây khoảng 3000 năm  
C. Cách đây khoảng 5000 năm  
D. Cách đây khoảng 2000 năm

**Câu 11. Khoảng năm 766 -779, Phùng Hưng dựng cờ khởi nghĩa ở đâu?**

- A. Đường Lâm (Sơn Tây)
- B. Đông Anh
- C. Hoa Lư
- D. Sóc Sơn

**Câu 12. Vào thời kì Bắc thuộc Hà Nội thuộc:**

- A. Quận Cửu Chân
- B. Quận Nhật Nam
- C. Quận Giao Chỉ
- D. Quận Giao Châu

**Câu 13. Ngày Gia đình Việt Nam là ngày nào?**

- A. 26/8
- B. 18/6
- C. 16/8
- D. 28/6

**Câu 14. Kể tên các nền văn hóa thời đại đồ đồng, sắt ở Hà Nội.**

- A. Phùng Nguyên, Đông Đậu, Gò Mun
- B. Đông Đậu, Đông Sơn.
- C. Phùng Nguyên, Gò Mun, Đông Sơn
- D. Phùng Nguyên, Đông Đậu, Gò Mun và Đông Sơn

**Câu 15. Trống đồng Đông Sơn là thành tựu của giai đoạn văn hóa nào?**

- A. Giai đoạn văn hóa Đại Việt
- B. Giai đoạn văn hóa thời kì chống Bắc thuộc
- C. Giai đoạn văn hóa tiền sử
- D. Giai đoạn văn hóa Văn Lang – Âu Lạc

**Câu 16. Khởi nghĩa Hai Bà Trưng diễn ra vào năm nào?**

- A. Năm 248
- B. Năm 90
- C. Năm 40
- D. Năm 367

**Câu 17. Tòa thành đất nào cổ nhất, qui mô lớn nhất Đông Nam Á?**

- A. Thành nhà Hồ
- B. Thành Cổ Loa
- C. Thành cổ Sơn Tây
- D. Hoàng thành Thăng Long

**Câu 18. Thành phố Hà Nội thuộc khu vực đồng bằng nào?**

- A. Đồng bằng Trung du và miền núi phía Bắc
- B. Đồng bằng Sông Cửu Long
- C. Đồng bằng Sông Hồng
- D. Đồng bằng Đông Nam Bộ.

**Câu 19. Hà Nội đã trải qua bao nhiêu lần thay đổi phạm vi hành chính?**

- A. 4
- B. 2
- C. 3
- D. 5

**Câu 20. Vùng đất nào của Hà Nội được mệnh danh là đất hai vua?**

- A. Xuân Mai – Chương Mỹ
- B. Tân Lĩnh – Ba Vì
- C. Đường Lâm – Sơn Tây
- D. Ngọc Tảo – Phúc Thọ

**Phần II: Tự luận (5 điểm)**

**Câu 1 (2 điểm):** Thủ đô Hà Nội tiếp giáp với những tỉnh nào?

**Câu 2 (3 điểm):** Thế nào là một gia đình văn hóa? Là một học sinh thủ đô, em nên làm gì để góp phần xây dựng gia đình văn hóa.

----- HẾT -----

**Phần I: Trắc nghiệm (5 điểm):**

*Viết lại chữ cái đứng trước câu trả lời đúng vào giấy kiểm tra:*

**Câu 1. Kể tên các di chỉ khảo cổ học ở Hà Nội liên quan đến các nền văn hóa thời đại đồ đồng?**

- A. Di chỉ Thành Dền, Đình Tràng.
- B. Di chỉ Đình Tràng
- C. Di chỉ Cổ Loa, Thành Dền, Vườn Chuối
- D. Di chỉ Thành Dền, Cổ Loa, Đình Tràng, Vườn Chuối

**Câu 2. Vùng đất nào của Hà Nội được mệnh danh là đất hai vua?**

- A. Đường Lâm – Sơn Tây
- B. Tân Lĩnh – Ba Vì
- C. Ngọc Tảo – Phúc Thọ
- D. Xuân Mai – Chương Mỹ

**Câu 3. Vào thời kì Bắc thuộc Hà Nội thuộc:**

- A. Quận Giao Chỉ
- B. Quận Nhật Nam
- C. Quận Giao Châu
- D. Quận Cửu Chân

**Câu 4. Kể tên các nền văn hóa thời đại đồ đồng, sắt ở Hà Nội.**

- A. Đồng Đậu, Đông Sơn.
- B. Phùng Nguyên, Gò Mun, Đông Sơn
- C. Phùng Nguyên, Đồng Đậu, Gò Mun
- D. Phùng Nguyên, Đồng Đậu, Gò Mun và Đông Sơn

**Câu 5. Năm bao nhiêu di tích lịch sử, kiến trúc nghệ thuật và khảo cổ Cổ Loa được công nhận là di tích quốc gia đặc biệt?**

- A. Năm 2013
- B. Năm 2012
- C. Năm 2011
- D. Năm 2010

**Câu 6. Thành Cổ Loa hiện nay gồm mấy vòng thành?**

- A. Ba vòng thành
- B. Hai vòng thành.
- C. Một vòng thành
- D. Bốn vòng thành

**Câu 7. Vùng đất Hà Nội thời Bắc thuộc được gọi bằng những địa danh nào?**

- A. Hoa Lư, Cổ Loa
- B. Tống Bình, Đại La
- C. Thăng Long, Hà Nội
- D. Thăng Long, Hoa Lư

**Câu 8. Hà Nội đã trải qua bao nhiêu lần thay đổi phạm vi hành chính?**

- A. 3
- B. 5
- C. 2
- D. 4

**Câu 9. Khởi nghĩa Hai Bà Trưng diễn ra vào năm nào?**

- A. Năm 40
- B. Năm 367
- C. Năm 90
- D. Năm 248

**Câu 10. Cổ Loa được chọn làm kinh đô vào thời kì nào?**

- A. Văn Lang
- B. Nhà Ngô

C. Âu Lạc và nhà Ngô

D. Văn Lang – Âu Lạc

**Câu 11. Di tích thành Cổ Loa hiện nay nằm ở huyện nào của thành phố Hà Nội?**

A. Đông Anh

B. Thạch Thất

C. Quốc Oai

D. Hà Đông

**Câu 12. Khoảng năm 766 -779, Phùng Hưng dựng cờ khởi nghĩa ở đâu?**

A. Hoa Lư

B. Sóc Sơn

C. Đông Anh

D. Đường Lâm (Sơn Tây)

**Câu 13. Ngày Gia đình Việt Nam là ngày nào?**

A. 28/6

B. 16/8

C. 26/8

D. 18/6

**Câu 14. Trống đồng Đông Sơn là thành tựu của giai đoạn văn hóa nào?**

A. Giai đoạn văn hóa Văn Lang – Âu Lạc

B. Giai đoạn văn hóa thời kì chống Bắc thuộc

C. Giai đoạn văn hóa Đại Việt

D. Giai đoạn văn hóa tiền sử

**Câu 15. Thành phố Hà Nội thuộc khu vực đồng bằng nào?**

A. Đồng bằng Đông Nam Bộ.

B. Đồng bằng Sông Hồng

C. Đồng bằng Trung du và miền núi phía Bắc

D. Đồng bằng Sông Cửu Long

**Câu 16. Có bao nhiêu tiêu chuẩn để xác định là một gia đình văn hóa?**

A. 2

B. 3

C. 5

D. 4

**Câu 17. Tòa thành đất nào cổ nhất, qui mô lớn nhất Đông Nam Á?**

A. Thành nhà Hồ

B. Thành cổ Sơn Tây

C. Thành Cổ Loa

D. Hoàng thành Thăng Long

**Câu 18. Thành Cổ Loa gắn liền với mối tình bi thương và cảm động của ai?**

A. Âu Cơ – Lạc Long Quân

B. Thủy Tinh – Mị Nương

C. Sơn Tinh – Mị Nương

D. Mị Châu – Trọng Thủy

**Câu 19. Khởi nghĩa Lí Bí diễn ra vào năm nào?**

A. Năm 542 – 544

B. Năm 327 – 330

C. Năm 198 – 224

D. Năm 644 – 654

**Câu 20. Khi nào cư dân trên vùng đất Hà Nội biết sử dụng đồ đồng và đồ sắt?**

A. Cách đây khoảng 3000 năm

B. Cách đây khoảng 4000 năm

C. Cách đây khoảng 2000 năm

D. Cách đây khoảng 5000 năm

**Phần II: Tự luận (5 điểm)**

**Câu 1 (2 điểm):** Diện tích tự nhiên của thành phố Hà Nội là khoảng bao nhiêu km<sup>2</sup>? Tính đến năm 2021, thành phố Hà Nội có bao nhiêu quận, huyện, thị xã?

**Câu 2 (3 điểm):** Thế nào là một gia đình văn hóa? Là một học sinh thủ đô, em không nên làm gì để góp phần xây dựng gia đình văn hóa. (từ 4 điều trở lên)

----- HẾT -----

**Phần I: Trắc nghiệm (5 điểm):**

*Viết lại chữ cái đứng trước câu trả lời đúng vào giấy kiểm tra:*

**Câu 1. Trường THCS Ngọc Lâm được thành lập năm bao nhiêu?**

- A. 1946.                                      B. 1968.                                      C. 1964.                                      D. 1978.

**Câu 2. Em nghe thấy có bạn trong lớp nói bạn A hay nói xấu về em. Khi nghe thấy các bạn trong lớp nói như vậy em sẽ giải quyết như thế nào?**

- A. Gặp bạn A, tâm sự với bạn để hai người hiểu nhau hơn.  
B. Xa lánh và không chơi với A nữa.  
C. Tìm ra điểm xấu của A để nói xấu lại bạn.  
D. Nhờ một anh lớp trên bắt nạt A cho bỏ tức.

**Câu 3. Điểm khác biệt cơ bản giữa trường THCS và trường Tiểu học là gì?**

- A. Trường THCS rộng hơn và đẹp hơn.  
B. Trường có nhiều phòng học hơn.  
C. Trường có nhiều cô giáo hơn.  
D. Trường có nhiều môn học mới, nhiều thầy cô phụ trách các môn học, kiến thức khó hơn.

**Câu 4. Em sẽ làm gì nếu được giao một bài tập/dự án trong học tập thuộc vào điểm yếu của mình?**

- A. Xin cô giáo/ thầy giáo đổi cho mình một đề bài/ dự án khác đúng theo sở trường của bản thân.  
B. Thử tiếp cận đề bài/ đề tài của dự án theo nhiều cách khác mà trước đây chưa từng thử qua, cố gắng tìm cách để cải thiện tốt nhất hiệu quả làm bài.  
C. Tìm cách tránh né bài tập/ dự án hoặc đẩy sang cho bạn khác trong nhóm, trong lớp làm.  
D. Nhờ các bạn làm hộ bài tập/ dự án đó.

**Câu 5. Trong giờ học, chúng ta cần làm gì để tập trung học tập?**

- A. Bàn bạc trao đổi liên tục với bạn ngồi cùng.  
B. Nghe nhạc bằng tai nghe.  
C. Cô giáo nói cái gì thì ghi ngay cái đó vào vở.  
D. Chú ý quan sát, lắng nghe, không làm việc riêng, thực hiện nghiêm túc các nhiệm vụ học tập.

**Câu 6. Mỗi ngày chúng ta cần ngủ bao nhiêu thời gian để có sức khỏe tốt**

- A. Ngủ trung bình từ 7 đến 8 tiếng, nghỉ trưa khoảng 30 phút.  
B. Ngủ trung bình từ 8 – 10 tiếng, không cần ngủ trưa.  
C. Ngủ trung bình từ 3 – 4 tiếng, ngủ trưa 2 tiếng.  
D. Ngủ càng nhiều càng tốt cho sức khỏe.

**Câu 6. Gần đến kì thi, một số bạn tỏ ra rất lo lắng và căng thẳng. Vậy em sẽ làm gì để giúp đỡ các bạn ấy?**

- A. Cho các bạn mượn sách để học.  
B. Khuyến bạn nên đọc truyện cười để bớt căng thẳng.  
C. Chia sẻ kinh nghiệm học tập của mình cho các bạn, khuyên các bạn phải có phương pháp học tập

phù hợp để chủ động chiếm lĩnh kiến thức.

D. Rủ các bạn đi chơi đá bóng cho bớt căng thẳng

**Câu 7. Em cần làm gì để góc học tập luôn gọn gàng, sạch sẽ?**

A. Thường xuyên sắp xếp sách vở, đồ dùng cá nhân ngăn nắp, gọn gàng, đúng chỗ quy định.

B. Khi nào ba mẹ kiểm tra hoặc có khách đến nhà thì mới dọn dẹp cho ngăn nắp, sạch sẽ.

C. Để những vật dùng hay được dùng ở vị trí dễ nhìn thấy, dễ lấy. Còn những thứ ít được dùng có thể sắp xếp ở vị trí nào cũng được.

D. Để vật dụng khắp mọi nơi để dễ dàng lấy bất cứ lúc nào.

**Câu 8. Đầu là biểu hiện của cách thức giao tiếp phù hợp?**

A. Chê bai bạn, kẻ xấu người khác.

B. Có lời nói, thái độ, hành vi phù hợp để tạo sự hài lòng, hoặc tránh làm tổn thương người khác.

C. Lôi kéo bạn khác cùng trêu bạn.

D. Mặc kệ bạn, ai có thân người ấy lo.

**Câu 9. Em đã rèn luyện tính kiên trì, chăm chỉ trong lao động và cuộc sống hằng ngày như thế nào?**

A. Chỉ làm những việc nhẹ nhàng, né tránh những việc khó khăn, nặng nhọc.

B. Chỉ làm những việc nhẹ nhàng khi có thời gian.

C. Chỉ bắt tay vào làm việc khi có hứng thú.

D. Thường xuyên tự giác tham gia làm việc nhà. Không ngại những việc khó. Luôn cố gắng, kiên trì để hoàn thành mọi công việc đã nhận.

**Câu 10. Những việc làm nào sau đây thể hiện mối quan hệ hoà đồng với thầy cô và bạn bè?**

A. Chỉ xin ý kiến hoặc nhờ thầy cô chỉ bảo thêm về những vấn đề liên quan tới việc học tập ở trường lớp.

B. Giúp đỡ những bạn có hoàn cảnh khó khăn cả trong và ngoài lớp tùy theo khả năng của mình.

C. Chỉ tham gia hoạt động với các bạn khi được thầy cô yêu cầu.

D. Chỉ chia sẻ, nói chuyện với những bạn chơi thân trong lớp.

**Phần II: Tự luận (5 điểm)**

**Câu 1 (2 điểm):** Em hãy nêu ít nhất 4 việc nên làm để có một góc học tập gọn gàng ngăn nắp, khoa học?

**Câu 2 (2 điểm):** Em hãy chia sẻ cách ít nhất 4 sự thay đổi tích cực của bản thân so với khi còn là học sinh tiểu học

**Câu 3 (1 điểm):** Kể tên một số loại thiên tai mà em biết. (từ 4 trở lên)

----- HẾT -----

**Phần I: Trắc nghiệm (5 điểm):**

*Viết lại chữ cái đứng trước câu trả lời đúng vào giấy kiểm tra:*

**Câu 1. Gần đến kì thi, một số bạn tỏ ra rất lo lắng và căng thẳng. Vậy em sẽ làm gì để giúp đỡ các bạn ấy?**

- A. Cho các bạn mượn sách để học.
- B. Khuyến bạn nên đọc truyện cười để bớt căng thẳng.
- C. Chia sẻ kinh nghiệm học tập của mình cho các bạn, khuyến các bạn phải có phương pháp học tập phù hợp để chủ động chiếm lĩnh kiến thức.
- D. Rủ các bạn đi chơi đá bóng cho bớt căng thẳng

**Câu 2. Mỗi ngày chúng ta cần ngủ bao nhiêu thời gian để có sức khỏe tốt**

- A. Ngủ trung bình từ 7 đến 8 tiếng, nghỉ trưa khoảng 30 phút.
- B. Ngủ trung bình từ 8 – 10 tiếng, không cần ngủ trưa.
- C. Ngủ trung bình từ 3 – 4 tiếng, ngủ trưa 2 tiếng.
- D. Ngủ càng nhiều càng tốt cho sức khỏe.

**Câu 3. Em cần làm gì để góc học tập luôn gọn gàng, sạch sẽ?**

- A. Thường xuyên sắp xếp sách vở, đồ dùng cá nhân ngăn nắp, gọn gàng, đúng chỗ quy định.
- B. Khi nào ba mẹ kiểm tra hoặc có khách đến nhà thì mới dọn dẹp cho ngăn nắp, sạch sẽ.
- C. Để những vật dùng hay được dùng ở vị trí dễ nhìn thấy, dễ lấy. Còn những thứ ít được dùng có thể sắp xếp ở vị trí nào cũng được.
- D. Để vật dụng khắp mọi nơi để dễ dàng lấy bất cứ lúc nào.

**Câu 4. Trường THCS Ngọc Lâm được thành lập năm bao nhiêu?**

- A. 1962.
- B. 1964.
- C. 1946.
- D. 1978.

**Câu 5. Trong giờ học, chúng ta cần làm gì để tập trung học tập?**

- A. Bàn bạc trao đổi liên tục với bạn ngồi cùng.
- B. Nghe nhạc bằng tai nghe.,
- C. Cô giáo nói cái gì thì ghi ngay cái đó vào vở.
- D. Chú ý quan sát, lắng nghe, không làm việc riêng, thực hiện nghiêm túc các nhiệm vụ học tập.

**Câu 6. Điểm khác biệt cơ bản giữa trường THCS và trường Tiểu học là gì?**

- A. Trường THCS rộng hơn và đẹp hơn.
- B. Trường có nhiều phòng học hơn.
- C. Trường có nhiều cô giáo hơn.
- D. Trường có nhiều môn học mới, nhiều thầy cô phụ trách các môn học, kiến thức khó hơn.

**Câu 7. Em sẽ làm gì nếu được giao một bài tập/dự án trong học tập thuộc vào điểm yếu của mình?**

- A. Xin cô giáo/ thầy giáo đổi cho mình một đề bài/ dự án khác đúng theo sở trường của bản thân.
- B. Thử tiếp cận đề bài/ đề tài của dự án theo nhiều cách khác mà trước đây chưa từng thử qua, cố gắng tìm cách để cải thiện tốt nhất hiệu quả làm bài.



- C. Tìm cách tránh né bài tập/ dự án hoặc đẩy sang cho bạn khác trong nhóm, trong lớp làm.  
D. Nhờ các bạn làm hộ bài tập/ dự án đó.

**Câu 8. Em nghe thấy có bạn trong lớp nói bạn A hay nói xấu về em. Khi nghe thấy các bạn trong lớp nói như vậy em sẽ giải quyết như thế nào?**

- A. Gặp bạn A, tâm sự với bạn để hai người hiểu nhau hơn.  
B. Xa lánh và không chơi với A nữa.  
C. Tìm ra điểm xấu của A để nói xấu lại bạn.  
D. Nhờ một anh lớp trên bắt nạt A cho bỏ tức.

**Câu 9. Em đã rèn luyện tính kiên trì, chăm chỉ trong lao động và cuộc sống hằng ngày như thế nào?**

- A. Chỉ làm những việc nhẹ nhàng, né tránh những việc khó khăn, nặng nhọc.  
B. Chỉ làm những việc nhẹ nhàng khi có thời gian.  
C. Chỉ bắt tay vào làm việc khi có hứng thú.  
D. Thường xuyên tự giác tham gia làm việc nhà. Không ngại những việc khó. Luôn cố gắng, kiên trì để hoàn thành mọi công việc đã nhận.

**Câu 10. Những việc làm nào sau đây thể hiện mối quan hệ hoà đồng với thầy cô và bạn bè?**

- A. Chỉ xin ý kiến hoặc nhờ thầy cô chỉ bảo thêm về những vấn đề liên quan tới việc học tập ở trường lớp.  
B. Giúp đỡ những bạn có hoàn cảnh khó khăn cả trong và ngoài lớp tuỳ theo khả năng của mình.  
C. Chỉ tham gia hoạt động với các bạn khi được thầy cô yêu cầu.  
D. Chỉ chia sẻ, nói chuyện với những bạn chơi thân trong lớp.

## **Phần II: Tự luận (5 điểm)**

**Câu 1 (2 điểm):** Em hãy nêu ít nhất 4 việc nên làm để có một góc học tập gọn gàng ngăn nắp, khoa học ?

**Câu 2 (2 điểm):** Em hãy chia sẻ cách ít nhất 4 sự thay đổi tích cực của bản thân so với khi còn là học sinh tiểu học

**Câu 3 (1 điểm):** Tình huống: Nam đi học muộn nên cổng trường đã đóng. Đang lung túng không biết làm thế nào thì Nam thấy bóng dáng bác bảo vệ. Nam vội gọi bác và nói: “Bác mở cửa nhanh đi, muộn cháu rồi”. theo em cách giao tiếp như Nam là đúng hay sai? Nếu là Nam, em sẽ làm gì?

----- HẾT -----