





Chào mừng các em đến
với tiết Toán





Khởi động



Ong non học việc



The little bee

Viết phép nhân tương ứng với tổng sau:
 $2 + 2 + 2$



A. 2×3

B. 2×2

C. 3×2

D. 2×6

Viết phép nhân tương ứng với mỗi tổng sau: $3 + 3 + 3 + 3 + 3$



A. 3×3

B. 3×5

C. 3×4

D. 5×3

Gọi tên thành phần của phép nhân: 2×3



A. 2 là thừa số
 2×3 là tích

B. 2 và 3 là thừa số
 2×3 là tích

C. 2×3 là tích

CHỦ ĐỀ 8

PHÉP NHÂN, PHÉP CHIA




BÀI 38

THỪA SỐ - TÍCH



YÊU CẦU CẦN ĐẠT



Ôn tập về phép nhân



Thực hiện tìm tích, so sánh số



Thực hiện giải toán.



LUYỆN TẬP





Vở
Coán

Thứ năm ngày 20 tháng 01 năm 2022

Coán

Bài 38- Tiết 2- Luyện tập



luyện tập

1 Tìm tích, biết:

a) Hai thừa số là 2 và 4.

$$\text{Mẫu: } 2 \times 4 = 2 + 2 + 2 + 2 = 8$$

$$2 \times 4 = 8$$



b) Hai thừa số là 8 và 2.

$$8 \times 2 = 8 + 8 = 16$$

$$8 \times 2 = 16$$

c) Hai thừa số là 4 và 5.

$$4 \times 5 = 4 + 4 + 4 + 4 + 4 = 20$$

$$4 \times 5 = 20$$

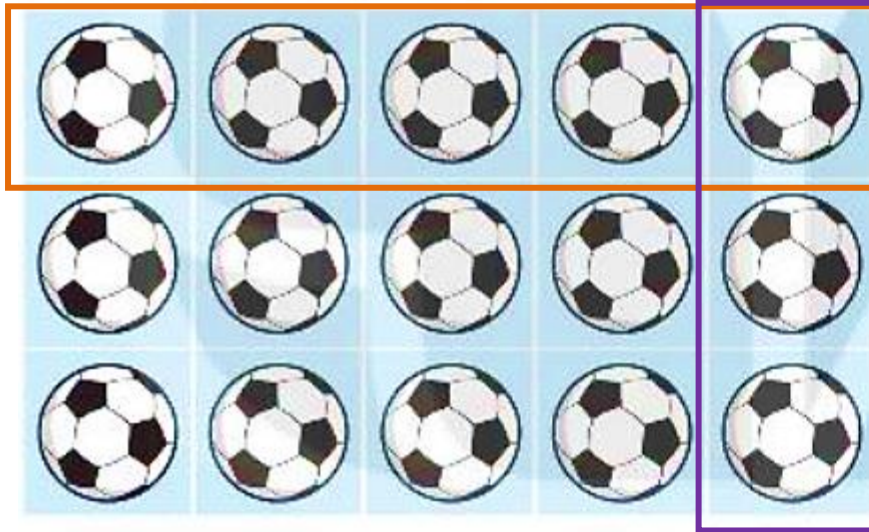
2 Số ?

Thừa số	5	2	2	3
Thừa số	4	3	5	5
Tích	20	6	10	15



luyện tập

3



a) Mỗi hàng có 5 quả bóng.
Hỏi 3 hàng có tất cả bao nhiêu quả bóng?

Bài giải

Số quả bóng ở cả 3 hàng là:

$$5 \times 3 = 15 \text{ (quả)}$$

Đáp số: 15 quả bóng.

b) Mỗi cột có 3 quả bóng.
Hỏi 5 cột có tất cả bao nhiêu quả bóng?

Bài giải

Số quả bóng ở cả 5 cột là:

$$3 \times 5 = 15 \text{ (quả)}$$

Đáp số: 15 quả bóng.

* Nhận xét: $5 \times 3 = 3 \times 5$



luyện tập

4

> ; < ; = ?




a) 2×4 4×2
8 8

b) 2×4 7
8

c) 4×2 9
8

YÊU CẦU CẦN ĐẠT



Ôn tập về phép nhân



Thực hiện tìm tích, so sánh số




Thực hiện giải toán.



Định hướng tiếp theo

- Về nhà đọc và trả lời bài.
- Chuẩn bị bài sau: Bài 39- Tiết 1:
Bảng nhân 2





Chúc các em chăm ngoan

