



**TRƯỜNG TIỂU HỌC LONG BIÊN**

**MÔN : TOÁN – LỚP 5**

**BÀI : LUYỆN TẬP**






# Toán





# Toán





## Toán

# Luyện tập

Bài 1: Viết số thập phân thích hợp vào chỗ chấm :

a)  $35\text{m } 23\text{cm} = \dots\dots\text{m}$

b)  $35\text{m } 23\text{cm} = 35 \frac{23}{100}\text{m} = 35,23 \text{ m}$

c)  $51\text{m } 9\text{cm} = \dots\dots\dots\text{dm}$

c)  $14\text{m } 7 \text{ cm} = \dots\dots\dots\text{m}$





## Toán

# Luyện tập

Bài 2: Viết số thập phân thích hợp vào chỗ chấm (theo mẫu):

$$315 \text{ cm} = \dots\dots\text{m}$$

$$315 \text{ cm} = 300 \text{ cm} + 15 \text{ cm} = 3\text{m } 15 \text{ cm}$$

$$506 \text{ cm} = 3 \frac{15}{100} \text{ m} = 3,15 \text{ cm}$$

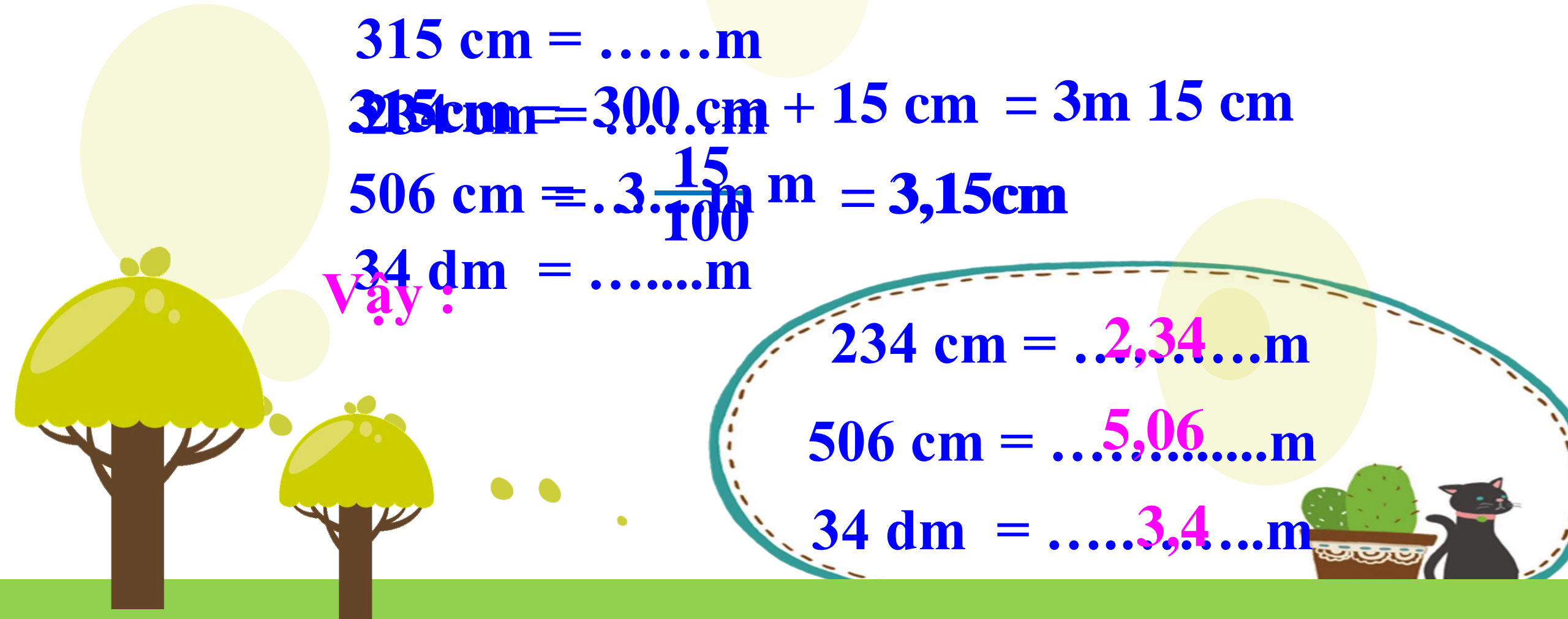
$$34 \text{ dm} = \dots\dots\text{m}$$

Vậy:


$$234 \text{ cm} = \dots 2,34 \dots \text{m}$$

$$506 \text{ cm} = \dots 5,06 \dots \text{m}$$

$$34 \text{ dm} = \dots 3,4 \dots \text{m}$$







## Toán

# Luyện tập

Bài 3 : Viết các số đo sau dưới dạng số thập phân có đơn vị đo là ki – lô – mét :

a) 3km 245m

b) 5km 34m


c) 307m



## Toán

# Luyện tập

Bài 3 : Viết các số đo sau dưới dạng số thập phân có đơn vị đo là ki – lô – mét :



$$\text{a) } 3\text{km } 245\text{m} = 3,245 \text{ km}$$

$$\text{b) } 5\text{km } 34\text{m} = 5,034 \text{ km}$$

$$\text{c) } 307 \text{ m} = 0,307 \text{ km}$$



# Toán

## Luyện tập

Bài 4 : Viết số thích hợp vào chỗ chấm :

a)  $12,44\text{m} = \dots12\dots\text{m}\dots44\dots\text{cm}$

c)  $3,45\text{ km} = \dots3450\dots\text{m}$







**Chào các em,  
hẹn gặp các em ở tiết học sau.**

