

Họ và tên:.....

**BÀI KIỂM TRA CUỐI HỌC KÌ II**

Lớp: 2A....

Năm học: 2022- 2023

Môn: TOÁN – Lớp 2

(Thời gian : 40 phút)

<u>Điểm</u>	<u>Nhận xét của giáo viên</u>
	.....
	.....
	.....

**Bài 1: (1 điểm) Đặt tính rồi tính:**

$625 + 155$

$946 - 581$

$170 + 586$

$864 - 436$

.....

.....

.....

.....

.....

.....

.....

.....

.....

.....

.....

.....

**Bài 2: (1 điểm) Tính:**

$584 - 39 + 127$

$525\text{km} + 83\text{km} - 256\text{km}$

$= \text{.....}$

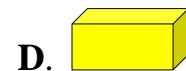

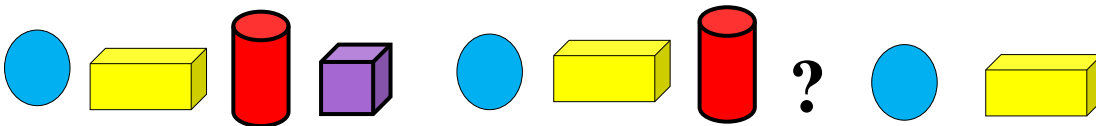
$= \text{.....}$

$= \text{.....}$

$= \text{.....}$

**Bài 3: (1 điểm) Khoanh tròn chữ cái trước câu trả lời đúng**

a) Hình thích hợp đặt và dấu “?” trong dãy hình khối sau là:



b) Nếu tính lần lượt từ trái sang phải, khối trụ thứ tư trong dãy hình khối trên sẽ đứng ở vị trí thứ bao nhiêu trong cả dãy ?

A. 3

B. 11

C. 15

D. 18

**Bài 4: (1 điểm) >, <, =?**

$525 - 217 \square 245 + 83$

$10\text{m} : 2 \square 340\text{cm} + 160\text{cm}$

**Bài 5: (1 điểm) Số ?**

$5 \times \square + 3 = 28$

$5 \times 9 = 345 - \square$



## HƯỚNG DẪN CHẤM TOÁN CUỐI KÌ 2 LỚP 2

Năm học 2022 – 2023

Bài 1 ( 1 điểm )

- Đặt tính và tính đúng mỗi phép tính cho 0,25 điểm
- Thiếu gạch ngang, đặt tính không thẳng cột không cho điểm

Bài 2( 1 điểm )

- Tính đúng mỗi dãy tính cho 0,5 điểm
- Mỗi bước tính đúng cho 0,25 điểm
- Thiếu tên đơn vị không cho điểm

Bài 3 ( 1 điểm )

- Phần a khoanh chữ B cho 0,5 điểm
- Phần b khoanh chữ C cho 0,5 điểm

Bài 4 ( 1 điểm )

- Điền đúng mỗi dấu cho 0,5 điểm
- + Phép tính 1: dấu <
- + Phép tính 2: dấu =

Bài 5( 1 điểm )

- Điền đúng mỗi số cho 0,5 điểm
- + Phép tính 1: số 5
- + Phép tính 2: số 300

Bài 6( 1 điểm )

- Điền đúng mỗi dòng cho 0,5 điểm
- + Phần a : 156
- + Phần b : 2 bao và 6 giỏ

Bài 7 ( 1 điểm )

- Viết đúng lời giải cho 0,25 điểm
- Viết đúng phép tính cho 0,5 điểm
- Viết đúng đáp số cho 0,25 điểm

Bài 8( 1 điểm )

- Khoanh đúng đáp án C cho 1 điểm

Bài 9( 1 điểm )

- Điền đúng mỗi dòng cho 0,25 điểm

Bài 10( 1 điểm )

- Viết đúng mỗi số theo yêu cầu cho 0,25 điểm
- Viết được phép trừ và tính đúng hiệu cho 0,5 điểm
- + Số lớn nhất: 963
- + Số bé nhất: 136
- + Hiệu hai số là:  $936 - 136 = 800$

