



**Phòng Giáo dục và Đào tạo quận Long Biên
Trường Tiểu học Phúc Lợi**

LỊCH SỬ VÀ ĐỊA LÍ 4

**Bài 1: Làm quen với phương tiện học tập
Môn Lịch sử và Địa lí (Tiết 1)**

Năm học 2023 - 2024

YÊU CẦU CẦN ĐẠT



Kể được tên một số phương tiện hỗ trợ học tập môn Lịch sử và Địa lí.



Sử dụng được một số phương tiện vào học tập môn Lịch sử và Địa lí

LỊCH SỬ & ĐỊA LÝ 4



KHỞI ĐỘNG



KHOẺ ĐỘNG

Hai bạn trong hình đang trao đổi về nội dung gì? Hãy kể tên một số phương tiện học tập môn Lịch sử và Địa lí mà em biết.

LƯỢC ĐỒ TRẬN CHIẾN HAI BÀ TRƯNG NĂM 40



BẢNG DIỆN TÍCH VÀ SỐ DÂN CỦA MỘT SỐ TỈNH, THÀNH PHỐ NƯỚC TA NĂM 2020

STT	Tỉnh, thành phố	Diện tích (km ²)	Dân số (nghìn người)
1	Hà Nội	3 359	8 247
2	Đà Nẵng	1 285	1 170
3	Lâm Đồng	9 783	1 310
4	TP Hồ Chí Minh	2 061	9 228
5	Cần Thơ	1 439	1 241



Đây là một số phương tiện học tập môn Lịch sử và Địa lí.

Chúng mình sẽ sử dụng các phương tiện như thế nào nhỉ?



LỊCH SỬ & ĐỊA LÝ 4



KHÁM PHÁ

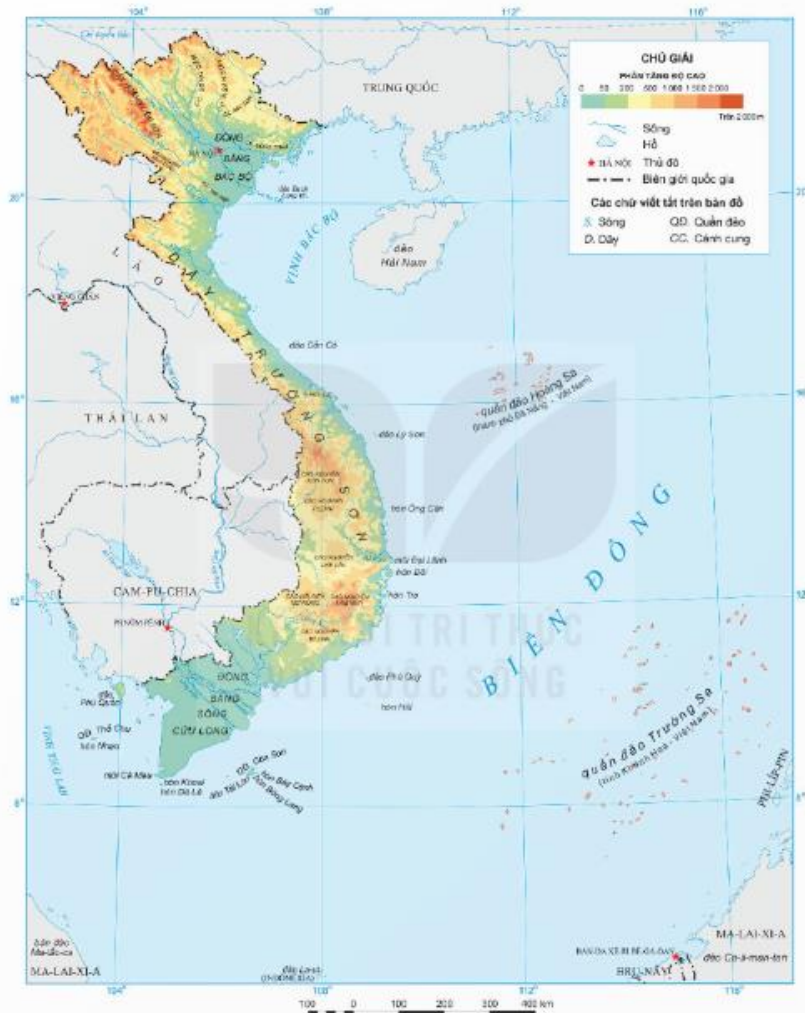




1. Bản đồ, lược đồ

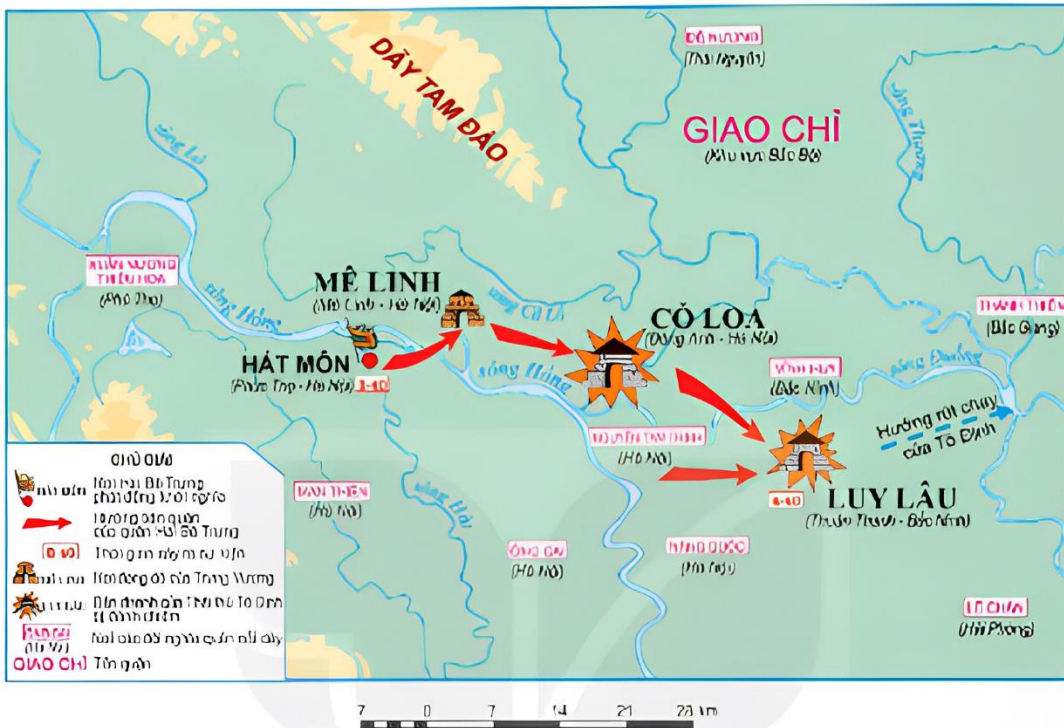
Quan sát các hình 1, 2, em hãy:

- Đọc tên bản đồ, lược đồ và cho biết những đối tượng được thể hiện trong bảng chú giải.
- Chỉ một nơi có độ cao trên 1 500 m ở hình 1
- Chỉ hướng tiến quân của Hai Bà Trưng ở hình 2.



Bản đồ là hình vẽ thu nhỏ một khu vực hay toàn bộ bề mặt Trái Đất theo một một tỉ lệ nhất định.

Hình 1. Bản đồ địa hình phần đất liền Việt Nam

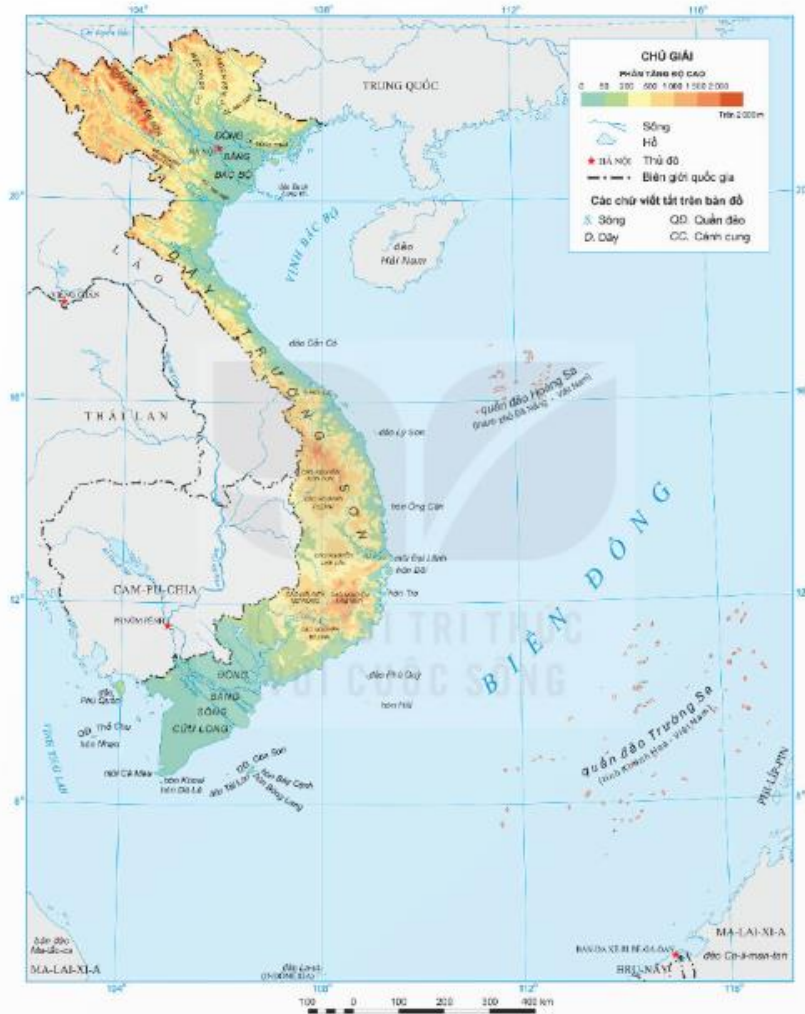


Hình 2. Lược đồ khởi nghĩa Hai Bà Trưng năm 40

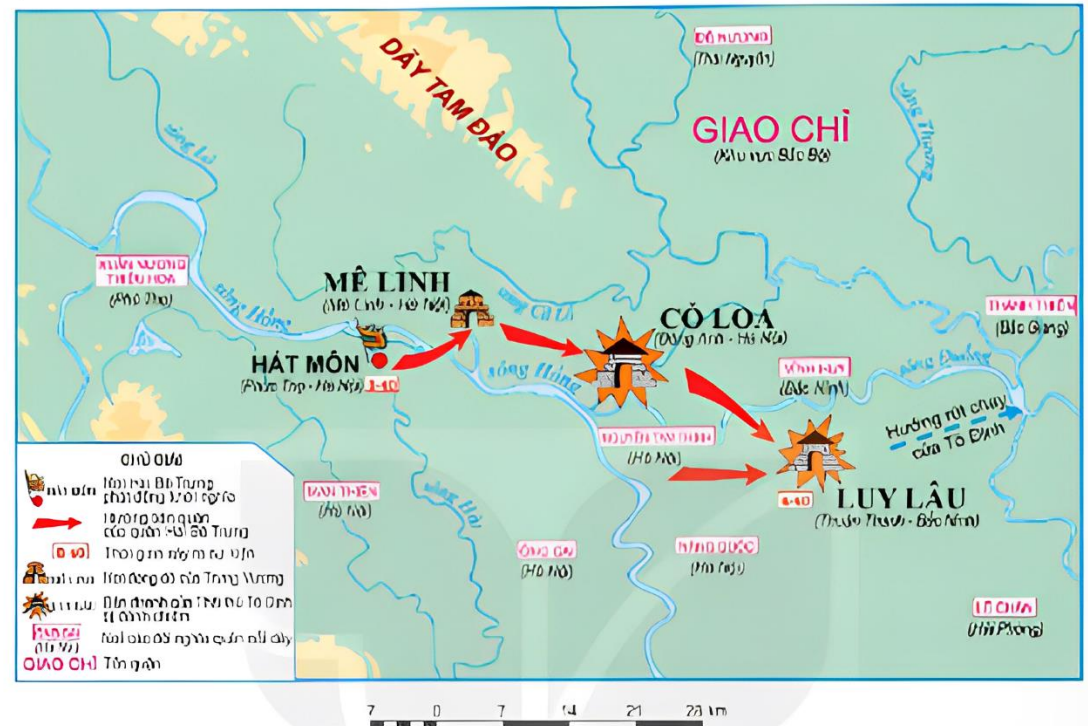
Lược đồ là hình vẽ thu nhỏ một khu vực theo một tỉ lệ nhất định, có nội dung giản lược hơn bản đồ.



KHÁM PHÁ



Hình 1. Bản đồ địa hình phần đất liền Việt Nam



Hình 2. Lược đồ khởi nghĩa Hai Bà Trưng năm 40

Các bước sử dụng bản đồ, lược đồ:

Bước

1

Đọc tên bản đồ, lược đồ để biết phương tiện thể hiện nội dung gì.

Bước

2

Xem chú giải để biết kí hiệu của các đối tượng lịch sử hoặc địa lí.

Bước

3

Tìm đối tượng lịch sử hoặc địa lí dựa vào kí hiệu.



2. Bảng số liệu, biểu đồ, trục thời gian

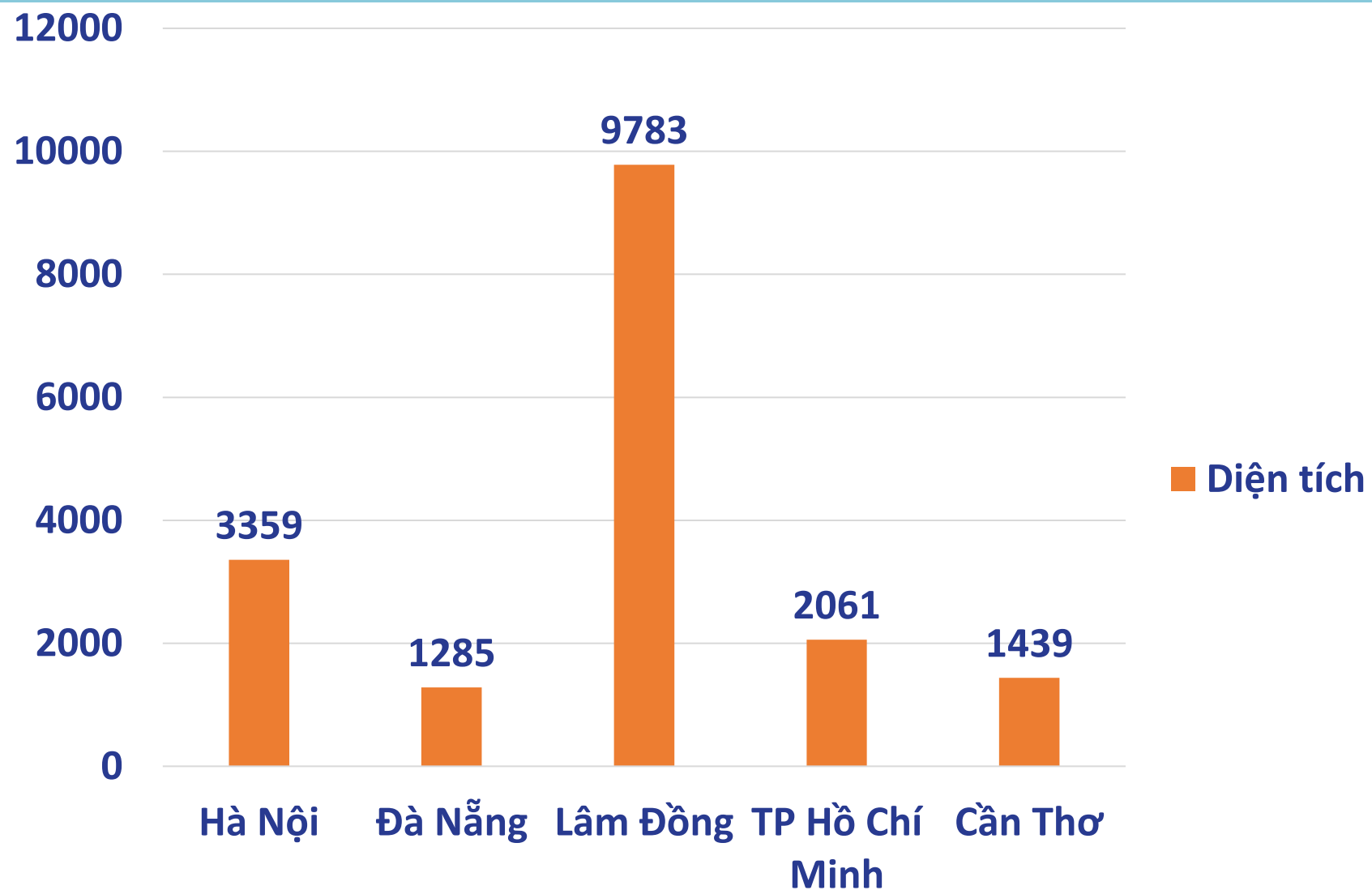
1. Em hãy đọc bảng diện tích và số dân của một số tỉnh, thành phố nước ta năm 2020.
2. Quan sát hình 4, em hãy cho biết tỉnh hoặc thành phố có diện tích lớn nhất.
3. Quan sát hình 5, em hãy giới thiệu các mốc thời gian gắn liền với sự kiện lịch sử tương ứng của Việt Nam từ năm 1945 đến năm 1975.

Bảng số liệu là tập hợp các số liệu về các đối tượng được sắp xếp một cách khoa học.

BẢNG DIỆN TÍCH VÀ SỐ DÂN CỦA MỘT SỐ TỈNH, THÀNH PHỐ NƯỚC TA NĂM 2020

STT	Tỉnh, thành phố	Diện tích (km^2)	Dân số (nghìn người)
1	Hà Nội	3 359	8 247
2	Đà Nẵng	1 285	1 170
3	Lâm Đồng	9 783	1 310
4	Thành phố Hồ Chí Minh	2 061	9 228
5	Cần Thơ	1 439	1 241

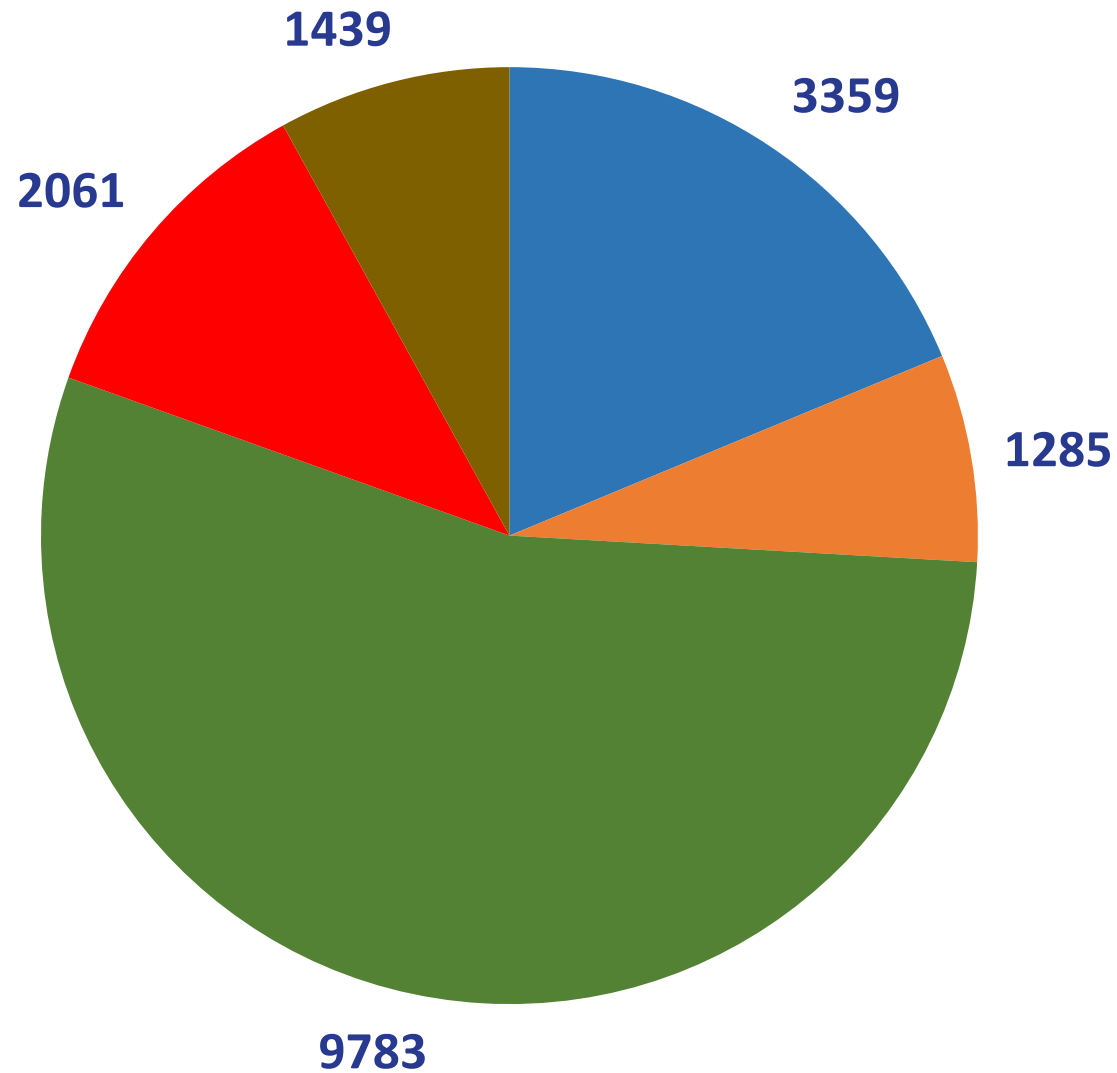
Biểu đồ là hình vẽ thể hiện trực quan các số liệu.



Hình 4. Biểu đồ diện tích của một số tỉnh, thành phố nước ta năm 2020



*Các loại biểu đồ
là biểu đồ cột
nhóm, biểu đồ
hình tròn*

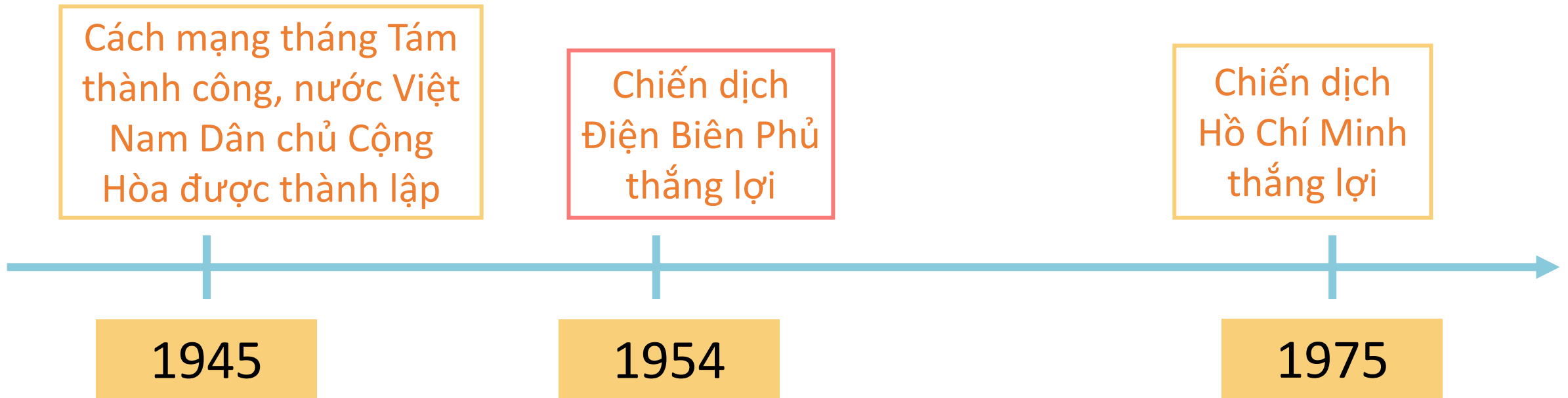


- Hà Nội
- Đà Nẵng
- Lâm Đồng
- TP Hồ Chí Minh
- Cần Thơ



KHÁM PHÁ

Trục thời gian là một đường thẳng thể hiện chuỗi các sự kiện lịch sử theo trình tự thời gian.



Hình 5. Trục thời gian thể hiện một số sự kiện tiêu biểu của lịch sử Việt Nam từ năm 1945 đến năm 1975

Các bước sử dụng bảng số liệu, biểu đồ, trục thời gian:

Bước

1

Đọc tên bảng số liệu, biểu đồ, trục thời gian để biết phương tiện thể hiện nội dung gì.

Bước

2

Đọc nội dung các cột, hàng của bảng số liệu; chú giải của biểu đồ hoặc các sự kiện trên trục thời gian để biết sự sắp xếp thông tin của các đối tượng

Bước

3

Tìm các số liệu trong bảng hoặc mô tả nội dung cụ thể của biểu đồ, trục thời gian theo yêu cầu của bài học.