



**BÀI TẬP TUẦN 3 THÁNG 10**  
(Từ ngày 18/10 đến ngày 22/10/2021)



Ba mẹ hãy dạy bé đọc bài thơ:  
“ Chia bánh” của tác giả  
- Trương Hữu Lợi nhé!

**BÀI THƠ: CHIA BÁNH**

Mẹ mua chiếc bánh  
Bảo chị em ăn  
Thoáng chút bản khoăn  
Chia phần sao nhỉ  
Chị nhận nửa bé  
Dành em nửa to  
Em cười: “Ơ hơ  
Chị sai rồi nhé

Chị lớn ăn khỏe  
Phải nhận phần hơn  
Em chẳng dỗi hờn  
Bé ăn nửa bé”  
Mẹ cười vui vẻ  
Phép chia nhiệm màu  
Mẹ khẽ xoa đầu  
“ Các con ngoan quá”.





## BÀI TẬP TUẦN 3 THÁNG 10

(Từ ngày 18/10 đến ngày 22/10/2021)

### 1 Giới thiệu

Bé giới thiệu gia đình bé ( tên, tuổi, công việc, tính cách, sở thích... của những người thân trong gia đình bé) Bé hãy nhờ ba mẹ gửi video lại cho cô giáo nhé!

### 2 Thử tài

Bé hãy chọn hình ảnh thể hiện gia đình bạn nhỏ có 2 thế hệ nhé!



Nhắc bé:

Bé hãy ấn vào đường link sau để làm bài tập nhé!  
<https://www.liveworksheets.com/4-pb620690dh>



**BÀI TẬP TUẦN 3 THÁNG 10**  
(Từ ngày 18/10 đến ngày 22/10/2021)

Bé hãy tick vào đáp án đúng nhé!



Bé hãy chọn hình ảnh thể hiện gia đình lớn có nhiều thế hệ.



A



B




C

Bé hãy chọn hình ảnh thể hiện gia đình nhỏ có 2 thế hệ.



A



B



C

Nhắc bé:

Bé hãy ấn vào đường link sau để làm bài tập nhé  
<https://www.liveworksheets.com/4-eo620678cq>





## BÀI TẬP TUẦN 3 THÁNG 10

(Từ ngày 18/10 đến ngày 22/10/2021)

### 1 Bé cùng đón xem quy tắc 5 ngón tay

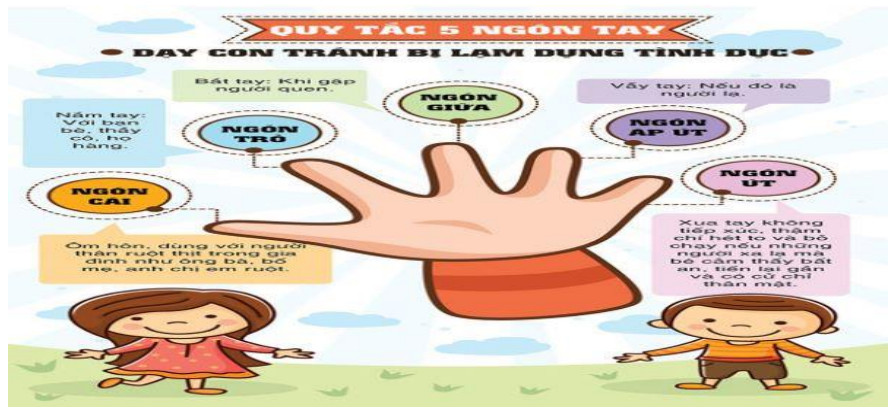
<https://www.youtube.com/watch?v=BRAk341no9k>



Kỹ năng sống

2

Bé cùng trả lời



Ngón cái gần mình nhất thể hiện cho những ai?



Ngón trỏ thể hiện cho những ai?



Nhắc bé:

Bé hãy ấn vào đường link sau để làm bài tập nhé  
<https://www.liveworksheets.com/4-bp620736uc>



**BÀI TẬP TUẦN 3 THÁNG 10**  
(Từ ngày 18/10 đến ngày 22/10/2021)



Bé hãy chọn vào hình ảnh đúng nhé!

**Ngón giữa thể hiện cho những ai?**



**Ngón áp út thể hiện cho những ai**



**Ngón út xa mình nhất thể hiện cho những ai?**



**Nhắc bé:**

Bé hãy ấn vào đường link sau để làm bài tập nhé  
<https://www.liveworksheets.com/4-sg621919vf>



**BÀI TẬP TUẦN 3 THÁNG 10**  
(Từ ngày 18/10 đến ngày 22/10/2021)

Bé hãy đếm hình ảnh trong mỗi ô và  
khoanh tròn đáp án đúng nhé!

1	2	3

3	2	6

2	5	4

4	1	3

6	5	2

6	3	1





Bé hãy ấn vào đường link sau để làm bài tập nhé  
<https://www.liveworksheets.com/4-bk620759er>






## BÀI TẬP TUẦN 3 THÁNG 10

(Từ ngày 18/10 đến ngày 22/10/2021)

Bạn  có 6 quả cam, bạn muốn chia số cam thành 2 phần. Các bé hãy giúp bạn  chọn đáp án đúng nhé!



A: 1 - 5

C: 4 - 3

B: 2 - 4

D: 3 - 3

Nhắc bé:

Bé hãy ấn vào đường link sau để làm bài tập nhé  
<https://www.liveworksheets.com/4-yz620788pu>



**BÀI TẬP TUẦN 3 THÁNG 10**  
(Từ ngày 18/10 đến ngày 22/10/2021)



Bé hãy kích vào link để tham khảo cách làm rối ngón tay này nhé!

<https://www.youtube.com/watch?v=leLrfKUkKdc>



**Chúc các bé làm bài tập thật vui vẻ!**