



TRƯỜNG MẦM NON GIA THƯƠNG

Bài tập tách gộp, thêm bớt

Lứa tuổi: mẫu giáo lớn 5 – 6 tuổi



Họ và tên trẻ: .....

Lớp:.....

Con hãy đếm gộp tất cả quả bí ngô trong 1 ô và viết vào dấu gạch ngang, sau đó con hãy tô màu thật đẹp cho những quả bí ngô nhé!

Name \_\_\_\_\_


## Pumpkin Addition Up to 10



$4 + 5 = \underline{\quad}$




$3 + 4 = \underline{\quad}$




$3 + 3 = \underline{\quad}$



$2 + 6 = \underline{\quad}$



$5 + 5 = \underline{\quad}$



$5 + 3 = \underline{\quad}$



$4 + 3 = \underline{\quad}$



$3 + 2 = \underline{\quad}$