











Bé hãy đếm số lượng của các nhóm đồ dùng và ghi số tương ứng vào ô vuông bên cạnh nhé:

 <input data-bbox="598 593 774 739" type="text"/>	 <input data-bbox="1284 593 1460 739" type="text"/>
 <input data-bbox="598 907 774 1052" type="text"/>	 <input data-bbox="1276 907 1452 1052" type="text"/>
 <input data-bbox="598 1243 774 1388" type="text"/>	 <input data-bbox="1284 1243 1460 1388" type="text"/>
 <input data-bbox="598 1556 774 1702" type="text"/>	 <input data-bbox="1284 1556 1460 1702" type="text"/>
 <input data-bbox="598 1881 774 2027" type="text"/>	 <input data-bbox="1284 1881 1460 2027" type="text"/>

