



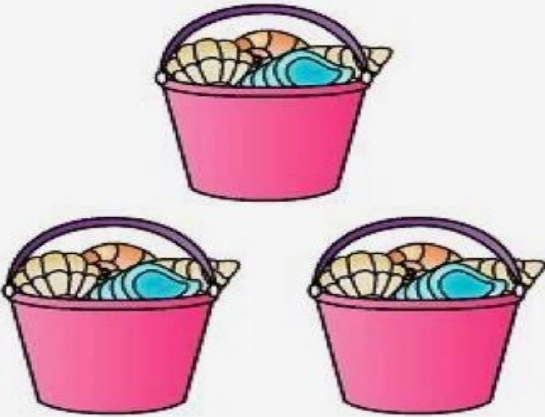
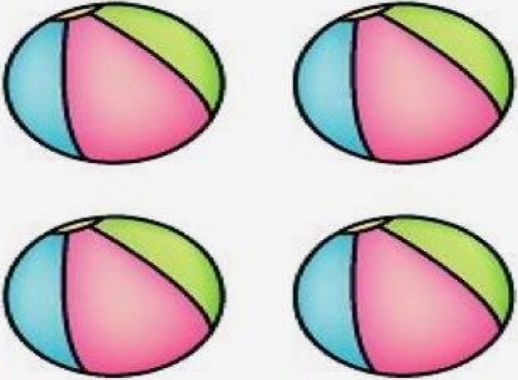


Họ và tên:

Lớp:

Bài tập phát triển tư duy

Bài 1: Bé hãy đếm số lượng các vật sau và khoanh vào ô số lượng tương ứng.

							
<table border="1"><tr><td>1</td><td>2</td><td>0</td></tr></table>	1	2	0	<table border="1"><tr><td>3</td><td>2</td><td>1</td></tr></table>	3	2	1
1	2	0					
3	2	1					
							
<table border="1"><tr><td>5</td><td>4</td><td>3</td></tr></table>	5	4	3	<table border="1"><tr><td>4</td><td>3</td><td>5</td></tr></table>	4	3	5
5	4	3					
4	3	5					