

















**Trường Mầm Non Thượng Thanh**

**Bài của bé.....**

**Bài tập 1:** Đếm số lượng chó có trong mỗi nhóm và nối với chữ số tương ứng.

# Trường Mầm Non Thượng Thanh

## Bài của bé.....

Bài tập 2: Bé hãy nối các bức tranh với số tương ứng để chỉ đúng thứ tự của việc trồng cây



1



2



3



4



5