




BÀI TẬP TUẦN 4 THÁNG 10



**BÉ LÀM QUEN
VỚI TOÁN**

Bé hãy tìm nhóm đối tượng có số lượng nhiều nhất và tích vào ô cho đúng nhé!





Bé hãy nhờ bố mẹ ấn vào đường link dưới đây để làm bài nhé!

<https://www.liveworksheets.com/kv2559272gf>



**BÉ LÀM QUEN
VỚI TOÁN**


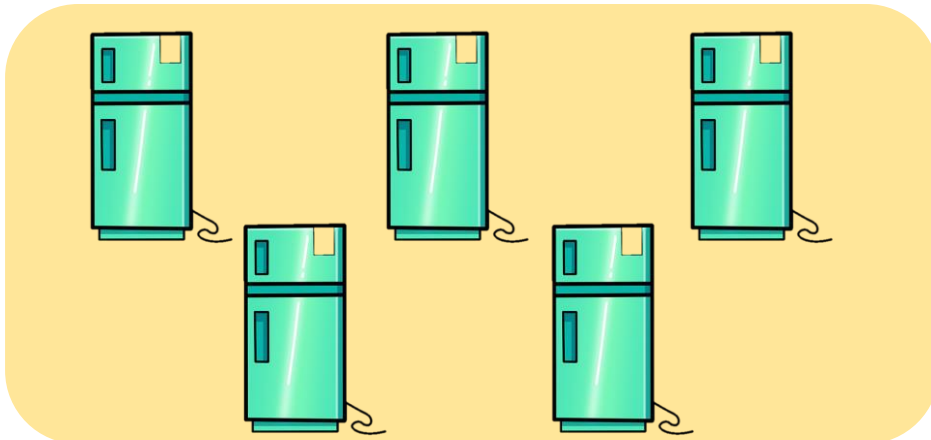

Bé hãy tìm nhóm đối tượng có số lượng ít hơn
và tích vào ô cho đúng nhé!





**BÉ LÀM QUEN
VỚI TOÁN**

Bé hãy tìm nhóm đối tượng có số lượng ít nhất và tích vào ô cho đúng nhé!





BÉ LÀM QUEN
VỚI TOÁN

Bé hãy chọn số quả cam và quả dưa hấu
thêm vào 2 nhóm quả cam và dưa hấu để
bằng nhóm quả táo nhé!

