

TRƯỜNG TIỂU HỌC ÁI MỘ B

Họ và tên:.....

Lớp: 4A.....

BÀI KIỂM TRA ĐỊNH KÌ CUỐI HỌC KÌ II**MÔN: TIN HỌC - LỚP 4****Năm học 2021 - 2022***(Thời gian làm bài: 35 phút)*

Điểm TN		<u><i>Nhận xét của giáo viên</i></u>
Điểm TH		

.....

.....

.....

A. TRẮC NGHIỆM: (4 điểm) – (15 phút)

Câu 1. (0,5 điểm) Em hãy cho biết phím hoặc tổ hợp phím nào dưới đây giúp di chuyển nhanh đến ô A1?

- A. Ctrl + Home B. PgUp C. Ctrl + Up arrow D. Home


Câu 2. (0,5 điểm) Em hãy cho biết kí hiệu sau cho phép ta làm gì trong Microsoft

Excel?



- A. Cho phép kéo thả chuột để hiệu chỉnh độ rộng của cột H và cột I
 B. Cho phép kéo thả chuột để hiệu chỉnh độ rộng của cột I
 C. Cho phép kéo thả chuột để hiệu chỉnh độ rộng của cột H
 D. Cho phép chèn cột mới vào giữa cột I và cột H

Câu 3. (0,5 điểm) Theo mặc định, mỗi sổ tính (Workbook) có 3 trang tính Sheet1, Sheet2, Sheet3. Để chèn một trang tính mới giữa Sheet1 và Sheet2 có kết quả như hình dưới đây, tùy chọn nào dưới đây là thao tác sẽ được sử dụng?



- A. Nhấp chuột phải trên Sheet3 và chọn Insert
 B. Nhấp chuột phải trên Sheet2 và chọn Insert
 C. Nhấp chuột phải trên Sheet1 và chọn Insert
 D. Không có thao tác nào đúng

Câu 4. (0,5 điểm) Kí hiệu nào dưới đây được sử dụng để đặt trước một công thức trong Micosoft Excel?

- A. “ B. * C. = D. /

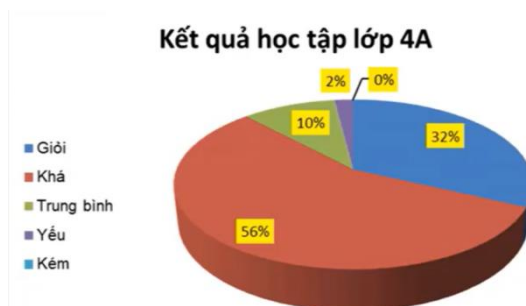
Câu 5. (0,5 điểm) Em có 5 slide trong bài trình chiếu. Bằng cách nào có thể di chuyển Slide 1 thành Slide cuối cùng?

- A. Chọn Slide 1 và sử dụng phím Enter cho đến khi nó là Slide cuối cùng.
- B. Chọn Slide 1 rồi kéo nó bằng chuột và thả sau Slide cuối cùng.
- C. Chọn Slide 1 và nhấn phím mũi tên xuống cho đến khi nó là Slide cuối cùng.
- D. Chọn Slide 1, sao chép và dán Slide sau Slide cuối cùng.

Câu 6. (0,5 điểm) Em hãy cho biết nhóm nào tại Ribbon của thẻ Insert trong Microsoft PowerPoint cho phép chèn Video hoặc Audio vào trang chiếu?

- A. Tables.
- B. Images.
- C. Illustrations.
- D. Media.

Câu 7. (0,5 điểm) Thành phần tô màu vàng trong biểu đồ được gọi là gì?



- A. Bảng dữ liệu
- B. Ô lưới
- C. Tiêu đề cột
- D. Nhãn dữ liệu

Câu 8. (0,5 điểm) Trong dự án hỗ trợ thư viện ở trường, tớ vừa được phân công làm bản thống kê, phân loại sách trong thư viện theo nhà xuất bản và số lượt sách được đọc của các nhà xuất bản đó. Sau đó, tớ cũng cần lập biểu đồ cột để so sánh số lượt đọc sách giữa các nhà xuất bản nữa. Theo các bạn thì mình nên lựa chọn phần mềm ứng dụng nào dưới đây hỗ trợ công việc trên được tốt nhất?

- A. Microsof Word
- B. Microsof PowerPoint
- C. Microsof Excel
- D. Microsof OneNote

B. THỰC HÀNH: (6 điểm) – (25 phút)

Học sinh làm bài tập trên máy tính (Có đề riêng)

TRƯỜNG TIỂU HỌC ÁI MỘ B

HƯỚNG DẪN

CHẤM ĐIỂM BÀI KIỂM TRA HỌC KÌ II – MÔN TIN HỌC – LỚP 4

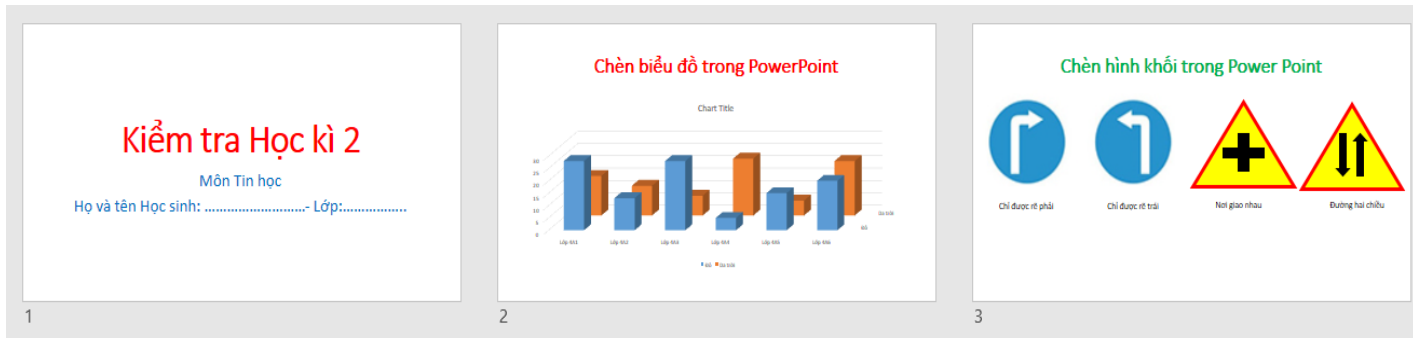
Năm học 2021 – 2022

A. TRẮC NGHIỆM (4 điểm)

Câu	Câu 1	Câu 2	Câu 3	Câu 4	Câu 5	Câu 6	Câu 7	Câu 8
Đáp án	A	C	B	C	B	D	D	C

ĐỀ KIỂM TRA THỰC HÀNH – KHỐI 4

Sử dụng phần mềm PowerPoint em hãy tạo bài trình chiếu có 3 Slide theo mẫu sau:



Bảng dữ liệu của biểu đồ trong Slide 2, em nhập như bảng dưới đây:

	A	B	C	D	E	F	G
1	Column1	Đỏ	Da trời	Column2			
2	Lớp 4A1	28	16				
3	Lớp 4A2	13	12				
4	Lớp 4A3	28	8				
5	Lớp 4A4	5	23				
6	Lớp 4A5	15	6				
7	Lớp 4A6	20	22				
8							

HƯỚNG DẪN CHẤM

Học sinh làm đủ 3 slide, định dạng đẹp, đúng: 6 điểm

- Slide 1: 1 điểm
- Slide 2: 2 điểm
- Slide 3: 3 điểm

Thiếu Slide nào trừ điểm Slide đó