

ĐỀ CƯƠNG ÔN TẬP KIỂM TRA GIỮA KỲ II NĂM HỌC 2021-2022 MÔN TIẾNG ANH

A. VOCABULARY AND GRAMMAR

- *It* indicating distance
- *Used to*
- *-ed* and *-ing* adjectives
- Connectors: *although, despite/ in spite of, however/ nevertheless*
- H/WH-questions: review
- Adverbial phrases
- Sound: /e/ and /ei/; /t/, /d/ and /id/
- Word stress (2-syllable word)
- Vocabulary in Unit 7 – Unit 9

B. EXERCISES

I. Choose the words whose underlined part is pronounced differently from that of the others

- | | | | |
|------------------|------------|-----------------|--------------|
| 1. A. ended | B. shocked | C. laughed | D. missed |
| 2. A. talked | B. needed | C. cooked | D. booked |
| 3. A. played | B. closed | C. filled | D. waited |
| 4. A. frightened | B. amazed | C. disappointed | D. terrified |
| 5. A. parade | B. waste | C. later | D. gravy |
| 6. A. listened | B. cooked | C. booked | D. walked |
| 7. A. ahead | B. bread | C. pleasant | D. seat-belt |
| 8. A. ways | B. days | C. says | D. stays |
| 9. A. obey | B. key | C. grey | D. survey |
| 10. A. left | B. centre | C. enter | D. frighten |

II. Choose the word whose main stressed syllable is placed differently from that of the others

- | | | | |
|----------------|-------------|-------------|-------------|
| 1. A. silent | B. noisy | C. pretty | D. polite |
| 2. A. station | B. season | C. police | D. sandal |
| 3. A. agree | B. hurry | C. enter | D. visit |
| 4. A. degree | B. student | C. funny | D. widen |
| 5. A. traffic | B. dancer | C. cycling | D. balloon |
| 6. A. central | B. gripping | C. complete | D. boring |
| 7. A. obey | B. enter | C. answer | D. listen |
| 8. A. station | B. healthy | C. safety | D. alone |
| 9. A. order | B. receive | C. perform | D. rehearse |
| 10. A. combine | B. invite | C. circle | D. discuss |

III. Choose the best answer to fill in the blank

- Easter is a/an _____ festival which is celebrated in many countries.
A. interested B. interest C. amused D. joyful
- Tet is a high time for all people to clean and _____ their houses.
A. go out B. decorate C. enjoy D. prepare
- People put pumpkin _____ outside the homes during Halloween.
A. lights B. lanterns C. neon signs D. bulbs
- It is _____ to watch elephants racing in Dak Lak in the festival.
A. amazing B. amazed C. amaze D. amazement
- Various _____ and cultural activities are held in Da Lat in the Flower Festival
A. art B. artistic C. artist D. arts
- The festival _____ annually at the end of August.
A. occurs B. holds C. takes place D. are held
- “_____ are you going to Phu Yen?” - “To attend Hoi Mua Festival.
A. How B. What C. When D. Why

8. During Tet holiday, the _____ atmosphere is felt around the country.
 A. local B. ethnic C. thankful D. festive
9. Mai's dad usually drives her to school _____ her school is very far from her house.
 A. but B. though C. because D. or
10. Traffic accidents can be prevented if people _____ the rules.
 A. remember B. obey C. go after D. take care of
11. Does your bike ever _____ down on the way to school?
 A. break B. take C. do D. turn
12. Give a _____ before you turn left or right.
 A. sign B. turn C. sound D. signal
13. Linda used to _____ morning exercise when she got up early.
 A. did B. does C. doing D. do
14. My father _____ the bus to work every day, but I cycle.
 A. catches B. drives C. goes D. runs
15. You should look right and left when you go _____ the road.
 A. down B. across C. up D. along
16. Bus is the main public _____ in Viet Nam.
 A. travel B. tricycle C. transport D. vehicle
17. The play was so boring. _____, An saw it from beginning to end.
 A. Therefore B. Despite C. However D. Although
18. _____ is not very far from here to the city centre.
 A. That B. This C. It D. There
19. When there is a traffic jam, it _____ me a very long time to go home.
 A. costs B. takes C. lasts D. spends
20. She's sure that they will find the film _____.
 A. entertaining B. entertain C. entertainment D. entertained
21. - "Do you like seeing a film?" - " _____"
 A. No, I don't like it at all. B. What film shall we see?
 C. Who is in it? D. I'm sorry, I can't.
22. _____ being frightened by the images, Lan still liked the film so much.
 A. In spite B. Despite C. Although D. Nevertheless
23. During the _____, there are thousands of samba dancers with very beautiful costumes performing on the streets.
 A. Mid-autumn festival B. Carnival
 C. Easter D. Halloween
24. _____ is part of the Thai New Year. People throw buckets of water on each other to wish for luck.
 A. Mid-autumn festival B. Easter
 C. Thanksgiving D. Water Festival
25. What I like about festivals is that they show the _____ values of different communities.
 A. carnival B. culture C. cultural D. parade
26. Turkey is one of the _____ foods at Thanksgiving in the US.
 A. Easter B. serious C. culture D. traditional
27. Many Vietnamese people are very _____ and there are lots of things to do and not to do during Lunar New Year.
 A. superstitious B. seasonal C. celebratory D. festive
28. In America, Halloween is one of the two most important _____ holidays of the year.
 A. celebratory B. religious C. culture D. parade
29. After the _____, people often stay at home to play cards or chat together.
 A. feast B. cranberry C. jet D. lantern
30. British farmers celebrated the end of the _____ with a big meal to give thanks to God.
 A. cranberry B. chaos C. highlight D. harvest

IV. Choose the word or phrase that is CLOSEST in meaning to the underlined part in each of the following sentences.

1. "Captain America: Civil War" is so amazing. We couldn't take our eyes off the screen.
A. couldn't stop watching B. couldn't go to sleep
C. couldn't see the screen clearly D. couldn't close the eyes
2. Critics say the film is shocking but it is must-see.
A. a boring movie B. a highly-recommended movie
C. a successful movie D. an interesting movie
3. Tet Holiday is the most important festival in Vietnam which takes place in late January or early February.
A. appears B. occurs C. brings D. holds

V. Choose the word or phrase that is OPPOSITE in meaning to the underlined part in each of the following sentences.

1. The Glastonbury Festival is the most well-known festival in the UK.
A. famous B. unpopular C. common D. favourite
2. Hanoi is clean and peaceful.
A. quite B. restless C. noisy D. gentle
3. Mr. Huy used to ride his motorbike dangerously.
A. riskily B. safely C. carelessly D. annoyingly

VI. Choose the underlined part that needs correcting in each sentence below.

1. There used to was much traffic in this area.
A B C D
2. Did you used to go to school on foot?
A B C D
3. It takes me 30 minutes riding from home to school.
A B C D
4. Not many people went to see the film however good reviews from critics.
A B C D
5. The boy was so frightening by the film that he couldn't go to sleep last night.
A B C D
6. In spite of they were tired, they wanted to watch the film.
A B C D
7. He didn't used to be a doctor, he used to be a manager of a computer company.
A B C D
8. Because there was an accident, everyone was fine.
A B C D
9. It's about 500 meters at my house to school.
A B C D
10. The distance between Hanoi to Can Tho is about 1.877 kilometres.
A B C D

VII. Read the passage and decide which answer A, B, C best fits each space

Yesterday, Carlos went (1)_____ La Tomatina. The festival is held on the last Wednesday of August every year in Bñol, Spain. (2)_____ were thousands of people there. In the morning, many people tried (3)_____ up the pole to get the ham. At 11 a.m, they (4)_____ a jet from the water cannons and the chaos began. Bags of tomatoes from trucks were (5)_____ to the crowds, and they began throwing tomatoes at one another. They all had to wear goggles (6)_____ their eyes. After one hour, they saw another jet and stopped (7)_____. The whole town square (8) _____ red with rivers of tomato juice. Finally, they tried tomato Paella, a (9)_____ Spanish rice dish. Together with local people and tourists, they enjoyed the (10)_____ food and drinks.

- 1 A. at B. to C. in D. on
2 A. They B. That C. There D. It

- | | | | | |
|----|----------------|------------------|---------------|---------------|
| 3 | A. to climb | B. climbing | C. climb | D. climbed |
| 4 | A. saw | B. see | C. seen | D. sees |
| 5 | A. thrown | B. threw | C. throw | D. throws |
| 6 | A. protect | B. protected | C. to protect | D. protecting |
| 7 | A. throwing | B. throw | C. to throw | D. threw |
| 8 | A. was | B. are | C. is | D. were |
| 9 | A. traditional | B. traditionally | C. tradition | D. traditions |
| 10 | A. well | B. better | C. good | D. best |

VIII. Read the following text and choose the best answer for the questions below

Visit the Edinburgh Festival

Every year, thousands of people come to Edinburgh, the capital city of Scotland, to be part of the Edinburgh Festival. For three weeks every August and September the city is filled with actors and artists from all over the world. They come to Edinburgh for the biggest arts festival in Britain. During this time, the streets of the city are alive with music and dance from early in the morning until late at night. You can even see artists painting pictures on the streets.

Tens of thousands of tourists come to the festival to see new films and plays and to hear music played by famous musicians. This year, you can see over five hundred performances with actors from more than forty countries.

The tickets for these performances are quite cheap, and it is usually easier to see your favourite star in Edinburgh than it is in London. So come to Edinburgh next summer!

- How many people come to attend the Edinburgh Festival every year?
A. Few people B. Thousand people C. Thousands of people D. Some people
- How long does the Edinburgh Festival last?
A. Two months B. Three weeks
C. For 3 weeks every August and September D. Three months
- What can you even see artists doing on the streets?
A. Painting pictures on the streets B. Playing the guitar on the streets
C. Singing songs on the streets D. Dancing on the streets
- How many performances can people see this year?
A. Tens of thousands B. Thousands C. Over five hundreds D. Some people
- How much are the tickets for these performances?
A. Not cheap B. Very cheap C. Not quite expensive D. Very expensive

IX. Choose the word or phrase among A, B, C or D that best fits the blank space in the following passage.

Running of The Bulls - Pamplona, Spain

The Running of the Bulls is a (1)_____ of the famous San Fermin festival - a practice that involves running in front of a small group of bulls (typically a dozen) that have been let loose on a course of a town's streets. A first firework is set off at 8 a.m to alert the runners that the corral gate is (2) _____. A second firework signals that all six bulls have (3) _____released. The third and fourth fireworks are signals that all of the herd has entered the bullring, marking the end of the event. Every year between 200 and 300 people (4)_____ injured during the run (5) _____ most injuries are due to falls and are not serious. So you think you support it?

- | | | | | |
|----|-------------|-----------|--------------|-------------|
| 1. | A. part | B. whole | C. section | D. piece |
| 2. | A. to close | B. closed | C. open | D. opening |
| 3. | A. be | B. been | C. being | D. to be |
| 4. | A. are | B. were | C. have been | D. had been |
| 5. | A. because | B. so | C. although | D. but |

X. Complete the second sentences so that it has a similar meaning to the first

- I usually stayed up late to watch football matches last year, but now I don't.
→ I used.....
- Anna doesn't live with her parents any more.

- Anna used.....
3. He is not a poor man any more, but he becomes a rich businessman.
→ He used.....
4. Although Tom was a poor student, he studied very well.
→ In spite of
5. Although the weather was bad, she went to school on time.
→ Despite
6. My mother told me to go to school although I was sick.
→ In spite of
7. I find watching football matches on TV interesting.
→ I am interested
8. The end of the film was moving.
→ We were
9. My hair now is much longer than that in the past.
→ In the past my hair used
10. Mary doesn't work in this company any more.
→ Mary used.....

XI. Make questions for the underlined parts

1. La Tomatina in Brunol near Valencia happens every year.
.....
2. La Tomatina takes place on the last Wednesday in August.
.....
3. The highlight of the festival is the tomato flight.
.....
4. Burning Man lasts one week.
.....
5. The festival began in San Francisco's Baker Beach in 1986.
.....
6. It takes its name from the ritual burning of a large wooden model of a hated person.
.....
7. Tomorrowland is an electronic dance music festival.
.....
8. Vietnamese people go to pagodas at Tet to pray for a year of good luck and happiness.
.....
9. During Tet, children and the elderly receive lucky money put in red envelopes.
.....
10. It cost about £400 to go to Glastonbury Festival last year.
.....

SPEAKING TOPICS

Topic 1:

1. How do you go to school every day?
2. What are some road safety rules for pedestrians?
3. What are some traffic problems in your city?

Topic 2:

1. What are some road safety rules for drivers?
2. What are some traffic problems in your city?
3. Give some solutions to the traffic problems in your city.

Topic 3:

1. Is there traffic jam in your neighbourhood?
2. What are some road safety rules for cyclists and motorists?
3. Give some solutions to the traffic problems in your city.

Topic 4:

Talk about one of your favourite films, using the questions below as clue:

1. What is the name of the film? What type of film is it?
2. Who does the film star? Who is the director of the film?
3. What happens in the film? How is the film? What about the ending?
4. How are other aspects of the film (the acting, the music, the visual, the special effects)?
5. What have critics said about the film? How do you feel about it?

Topic 5:

Talk about your favourite festival, using the questions below as clue:

1. What is the name of the festival?
2. When/ Where/ How often is it held?
3. How is the festival held?
4. What do you often do at the festival?
5. How do people feel after the festival?

ĐỀ CƯƠNG ÔN TẬP KIỂM TRA GIỮA KỲ II NĂM HỌC 2021-2022 MÔN ÂM NHẠC

1. Ôn tập bài hát:
 - + Đi cấy lúa
 - + Khúc ca bốn mùa
2. Ôn tập TĐN số 6,7.

ĐỀ CƯƠNG ÔN TẬP KIỂM TRA GIỮA KỲ II NĂM HỌC 2021-2022 MÔN MỸ THUẬT**I. NỘI DUNG ÔN TẬP:**

HS ôn tập các thể loại tranh theo đề tài.

II. ĐỀ TÀI:

1. *Tranh đề tài phong cảnh*
2. *Tranh đề tài học tập*
3. *Tranh đề tài an toàn giao thông*
4. *Tranh tĩnh vật*
5. *Vẽ trang trí*
6. *Tranh đề tài tự do*
7. *Tranh đề tài gia đình*

ĐỀ CƯƠNG ÔN TẬP KIỂM TRA GIỮA KỲ II NĂM HỌC 2021-2022 MÔN THỂ DỤC

Nội dung ôn tập kiểm tra : **Đội hình – Đội ngũ**

+ Học sinh biết cách thực hiện biến đổi đội hình 0-2-4 và 0-3-6-9

Mức độ ĐẠT: Học sinh hô to rõ ràng và thực hiện được cách thức biến đổi đội hình.

ĐỀ CƯƠNG ÔN TẬP KIỂM TRA GIỮA KỲ II NĂM HỌC 2021-2022 MÔN NGỮ VĂN
Ôn tập kiến thức đã học từ tuần 1 đến hết tuần 23 (SGK Ngữ văn 7 tập II)

A. KIẾN THỨC TRỌNG TÂM:

Phần I. Văn bản:

1. Văn học dân gian: Tục ngữ

Tục ngữ về con người xã hội (Câu 1,3,5,8,9)

2. Văn bản nghị luận.

- Tinh thần yêu nước của nhân dân ta
- Đức tính giản dị của Bác Hồ
- Ý nghĩa văn chương

*** Yêu cầu chung:**

+ Nắm được tác giả, tác phẩm: thể loại, hoàn cảnh sáng tác, bố cục, luận điểm, luận cứ trong văn bản nghị luận; thuộc tục ngữ.

+ Nắm được nội dung, nghệ thuật, biết khai thác tín hiệu nghệ thuật trong văn bản để làm nổi bật nội dung.

Phần II. Tiếng Việt:

1. Rút gọn câu
2. Câu đặc biệt
3. Thêm trạng ngữ cho câu

*** Yêu cầu:**

- Nhận diện được đơn vị kiến thức tiếng Việt cơ bản trong văn bản.
- Nêu vai trò, tác dụng của các đơn vị kiến thức trong văn bản.
- Vận dụng kiến thức trong thực hành nói và viết.

Phần III: Tập làm văn:

1. Nghị luận chứng minh về một sự việc, hiện tượng trong đời sống.

2. Nghị luận chứng minh về một tư tưởng, một đạo lí

* **Yêu cầu:** HS viết được bài văn chứng minh hoàn chỉnh, có cách lập luận chặt chẽ, luận điểm rõ ràng, dẫn chứng cụ thể, lí lẽ sắc bén để làm sáng tỏ vấn đề.

B. MỘT SỐ DẠNG BÀI TẬP:

I. BT trắc nghiệm: Đọc đoạn văn sau và trả lời câu hỏi:

“Người ta kể chuyện đời xưa, một nhà thi sĩ Ấn Độ trông thấy một con chim bị thương rơi xuống bên chân mình. Thi sĩ thương hại quá, khóc nức lên, quả tim cùng hoà một nhịp với sự run rẩy của con chim sắp chết. Tiếng khóc ấy, dịp đau thương ấy chính là nguồn gốc của thi ca.

Câu chuyện có lẽ chỉ là câu chuyện hoang đường, song không phải không có ý nghĩa. Nguồn gốc cốt yếu của văn chương là lòng thương người và rộng ra thương cả muôn vật, muôn loài.”

(SGK Ngữ văn 7, tập 1)

Câu 1: Đoạn văn trên trích trong tác phẩm nào, tác giả là ai?

- A. Tinh thần yêu nước của nhân dân ta - Hồ Chí Minh.
- B. Sự giàu đẹp của tiếng việt - Đặng Thai Mai.
- C. Đức tính giản dị của Bác Hồ - Phạm Văn Đồng.
- D. Ý nghĩa văn chương - Hoài Thanh

Câu 2: Cho biết tác phẩm đó được viết theo thể loại nào?

- A. Văn miêu tả
- B. Văn tự sự
- C. Văn nghị luận
- D. Văn biểu cảm

Câu 3: Phương thức biểu đạt chính của tác phẩm đó là gì?

- A. Tự sự
- B. Miêu tả
- C. Biểu cảm
- D. Nghị luận

Câu 4: Theo tác giả, nguồn gốc cốt yếu của văn chương là gì?

- A. Cuộc sống lao động của con người.
- B. Tình yêu lao động của con người.
- C. Lòng thương người và rộng ra thương cả muôn vật, muôn loài.
- D. Do lực lượng thần thánh tạo ra.

Câu 5: Từ “cốt yếu” (trong câu “Nguồn gốc cốt yếu của văn chương là lòng thương người và rộng ra thương cả muôn vật, muôn loài”) được tác giả dùng với ý nghĩa nào khi nói về nguồn gốc của văn chương?

- A. Tất cả.
- B. Một phần.
- C. Đa số.
- D. Cái chính, cái quan trọng nhất.

Câu 6: Trong câu văn: “Tiếng khóc ấy, dịp đau thương ấy chính là nguồn gốc của thi ca.”, tác giả đã sử dụng biện pháp tu từ nào?

- A. So sánh
- B. Nhân hóa
- C. Liệt kê
- D. Ẩn dụ

Câu 7: Từ “quả tim” trong đoạn văn được hiểu như thế nào?

- A. Quả tim của người thi sĩ B. Tình yêu thương của người thi sĩ
C. Trái tim của con người D. Những tình cảm được thi sĩ gửi gắm

Câu 8: Nêu nội dung chính của đoạn văn trên?

- A. Bàn về nguồn gốc của văn chương.
B. Bàn về nhiệm vụ của văn chương
C. Bàn về công dụng của văn chương
D. Bàn về vẻ đẹp của văn chương

II. Bài tập tự luận

Bài tập 1: Nêu nội dung, ý nghĩa của những câu tục ngữ sau:

1. *Đói cho sạch, rách cho thơm.*
2. *Không thầy đố mày làm nên.*
3. *Ăn quả nhớ kẻ trồng cây.*
4. *Một cây làm chẳng nên non/ Ba cây chụm lại nên hòn núi cao.*

Bài tập 2. Cho đoạn văn:

“Tinh thần yêu nước cũng như các thứ của quý. Có khi được trưng bày trong tủ kính, trong bình pha lê, rõ ràng dễ thấy. Nhưng cũng có khi cất giấu kín đáo trong rương, trong hòm. Bổn phận của chúng ta là làm cho những của quý kín đáo ấy đều được đưa ra trưng bày. Nghĩa là phải ra sức giải thích, tuyên truyền, tổ chức, lãnh đạo, làm cho tinh thần yêu nước của tất cả mọi người đều được thực hành vào công cuộc yêu nước, công việc kháng chiến.”

(SGK Ngữ văn lớp 7, tập 2)

Câu 1: Đoạn văn trên được trích từ văn bản nào? Tác giả là ai? Và được viết theo phương thức biểu đạt chính nào?

Câu 2: Qua việc đọc, hiểu văn bản của đoạn trích trên, em cảm nhận được điều gì về nội dung, nghệ thuật của văn bản đó?

Câu 3: Xác định các câu rút gọn có trong đoạn trích trên và cho biết rút gọn thành phần nào?

Câu 4: Qua việc đọc, hiểu văn bản “Tinh thần yêu nước của nhân dân ta” và sự hiểu biết về lịch sử dân tộc, em hãy viết bài văn chứng minh khoảng $\frac{3}{4}$ trang giấy làm rõ câu nói của Chủ tịch Hồ Chí Minh: “Dân ta có một lòng nồng nàn yêu nước. Đó là truyền thống quý báu của dân tộc ta”.

Bài tập 3. Đọc đoạn trích sau và trả lời câu hỏi:

“Dân ta có một lòng nồng nàn yêu nước. Đó là truyền thống quý báu của ta. Từ xưa đến nay, mỗi khi Tổ quốc bị xâm lăng, thì tinh thần ấy lại sôi nổi, nó kết thành một làn sóng vô cùng mạnh mẽ, to lớn, nó lướt qua mọi sự nguy hiểm, khó khăn, nó nhấn chìm tất cả bè lũ bán nước và lũ cướp nước.”

Câu 1. Đoạn văn trích từ tác phẩm nào? Của tác giả nào?

Câu 2. Nêu phương thức biểu đạt chính?

Câu 3. Câu cuối đoạn văn sử dụng hình ảnh nào thể hiện cụ thể sức mạnh của tinh thần yêu nước? Nêu giá trị của việc sử dụng hình ảnh ấy?

Câu 4. Dựa vào văn bản “Đức tính giản dị của Bác Hồ”, em hãy viết đoạn văn từ 8-10 câu chứng minh luận điểm: “Bác Hồ sống thật giản dị”.

Bài tập 4: Chỉ rõ và khôi phục thành phần câu bị rút gọn trong những trường hợp sau đây:

a. Bước tới Đèo Ngang bóng xế tà/ Cỏ cây chen đá, lá chen hoa. (*Bà Huyện Thanh Quan*)

b. Tiếng hát ngừng. Cả tiếng cười. (*Nam Cao*)

c. Mong các cháu mai sau lớn lên thành những người dân xứng đáng với nước độc lập, tự do. (*Hồ Chí Minh*)

d. Tinh thần yêu nước cũng như các thứ của quý. Có khi được trưng bày trong tủ kính, trong bình pha lê, rõ ràng dễ thấy. Nhưng cũng có khi cất giấu kín đáo trong rương, trong hòm. (*Hồ Chí Minh*)

Bài tập 5: Em hãy chỉ ra câu đặc biệt có trong những đoạn văn sau và cho biết tác dụng của chúng.

a. Đám người nhón nháo lên. Tiếng reo, tiếng vỗ tay (*Nam Cao*)

b. Đứng trước tổ dế, ong xanh khẽ vỗ cánh, uốn mình, giương cặp răng rộng và nhọn như đôi gọng kìm, rồi thoát cái lao nhanh xuống hang sâu. Ba giây...Bốn giây...Năm giây...Lâu quá! (*Vũ Tú Nam*)

c.

Ôi Tổ quốc! Ta yêu như máu thịt

Như mẹ cha ta, như vợ, như chồng

(Chế Lan Viên)

Bài tập 6: Hãy đặt 6 câu văn có sử dụng trạng ngữ chỉ thời gian, nơi chốn, nguyên nhân, mục đích, phương tiện, cách thức.

III. Bài tập ngữ liệu mở

Bài 1: Đọc đoạn trích sau và trả lời các câu hỏi:

“*Khi nói đến nhiệm vụ của toàn Đảng trong lúc này, Bác bồng rút trong túi áo giơ ra một chiếc đồng hồ và hỏi các đồng chí cán bộ trong hội trường từng câu hỏi về chức năng của từng bộ phận trong chiếc đồng hồ. Ai ai cũng đồng thanh trả lời đúng hết các câu hỏi của Bác.*

Đến câu hỏi: Trong cái đồng hồ, bộ phận nào là quan trọng?

Khi mọi người còn đang suy nghĩ thì Bác lại hỏi:

- Trong cái đồng hồ, bỏ một bộ phận đi có được không?

Mọi người đồng thanh đáp thưa Bác không ạ.

Nghe mọi người trả lời, Bác bèn giơ cao chiếc đồng hồ lên và nói:

- Các chú ạ, các bộ phận của một chiếc đồng hồ cũng ví như các cơ quan của một Nhà nước, như các nhiệm vụ của cách mạng. Đã là nhiệm vụ của cách mạng thì đều là quan trọng, đều cần phải làm. Các chú thử nghĩ xem: trong một chiếc đồng hồ mà anh kim đòi làm anh chữ số, anh máy lại đòi ra ngoài làm cái mặt đồng hồ...cứ tranh nhau chỗ đứng như thế thì có còn là cái đồng hồ được không?"

(Câu chuyện cái đồng hồ)

Câu 1: (0,5 điểm) Thông qua câu chuyện về cái đồng hồ, Bác Hồ muốn gửi gắm bài học gì đến những đồng chí cán bộ và nhân dân?

Câu 2: (0,5 điểm) Xác định trạng ngữ trong câu: “*Khi nói đến nhiệm vụ của toàn Đảng trong lúc này, Bác bồng rút trong túi áo giơ ra một chiếc đồng hồ và hỏi các đồng chí cán bộ trong hội trường từng câu hỏi về chức năng của từng bộ phận trong chiếc đồng hồ*”

Câu 3: (2 điểm) Tinh thần tương thân tương ái là một trong những truyền thống tốt đẹp của dân tộc. Em hãy viết một đoạn văn khoảng 5 – 7 câu nêu suy nghĩ về tinh thần tương thân tương ái của con người Việt Nam ta.

Bài 2: Đọc đoạn trích sau và trả lời các câu hỏi:

ĐỪNG SỢ VẤP NGÃ

Bất cứ ai cũng đã từng thất bại, đã từng vấp ngã ít nhất một lần trong đời như một quy luật bất biến của tự nhiên. Có nhiều người có khả năng vực dậy, đứng lên rồi nhẹ nhàng bước tiếp như thể chẳng có chuyện gì xảy ra, nhưng cũng có nhiều người chỉ có thể ngồi một chỗ và vẫn luôn tự hỏi lí do vì sao bản thân lại có thể dễ dàng “mắc bẫy” đến như thế...

Bất kì vấp ngã nào trong cuộc sống cũng đều mang lại cho ta một bài học đáng giá: về một bài toán đã áp dụng cách giải sai, về lòng tốt đã gửi nhầm chủ nhân hay về một tình yêu lâu dài bỗng phát hiện đã trao nhầm đối tượng,...

Đừng để khi tia nắng ngoài kia đã lên, mà con tim vẫn còn băng lạnh. Đừng để khi cơn mưa kia đã tạnh, mà những giọt lệ trên mi mắt vẫn còn tuôn rơi. Thời gian làm tuổi trẻ đi qua nhanh lắm, không gì là mãi mãi, nên hãy sống hết mình để không nuối tiếc những gì chỉ còn lại trong quá khứ mà thôi...

(Trích *Hãy học cách đứng lên sau vấp ngã*, theo <http://www.vietgiaitri.com>, 4/6/2015)

Câu 1. Hãy chỉ ra phương thức biểu đạt chính của đoạn trích. (0,5 điểm)

Câu 2. Hãy giải thích vì sao tác giả lại cho rằng “Bất kì vấp ngã nào trong cuộc sống cũng đều mang lại cho ta một bài học đáng giá”. (0,5 điểm)

Câu 3. Có ý kiến cho rằng: “Chiến thắng bản thân là chiến thắng hiển hách nhất”. Em hãy viết một đoạn văn (khoảng 3/4 trang giấy) trình bày suy nghĩ của mình về ý kiến trên. (2 điểm)

ĐỀ CƯƠNG ÔN TẬP KIỂM TRA GIỮA KỲ II NĂM HỌC 2021-2022 MÔN ĐỊA LÝ

I. Phần lý thuyết

1. Khái quát châu Mỹ
2. Thiên nhiên Bắc Mỹ

3. Dân cư Bắc Mỹ
4. Kinh tế Bắc Mỹ
5. Kinh tế Bắc Mỹ (tiếp theo)
6. Tìm hiểu thiên nhiên, dân cư và xã hội Trung và Nam Mỹ.
7. Tìm hiểu về kinh tế Trung và Nam Mỹ
8. Tìm hiểu về kinh tế Trung và Nam Mỹ

II. Phần trắc nghiệm

Câu 1. Châu Mỹ có những nền văn minh cổ đại nào sau đây?

- | | |
|-----------------------------------|-------------------------------|
| A. In-ca, Mai-an, sông Nin. | C. Mai-a, In-ca, A-xơ-tếch. |
| B. Hoàng Hà, A-xơ-tếch, sông Nin. | D. Mai-a, sông Nin, Đông Sơn. |

Câu 2. Diện tích của Châu Mỹ là

- | | |
|-----------------------------|-----------------------------|
| A. 41 triệu km ² | B. 43 triệu km ² |
| C. 44 triệu km ² | D. 42 triệu km ² |

Câu 3. Người Anh-điêng sống chủ yếu bằng nghề gì?

- | | |
|-----------------------------|---------------------------------------|
| A. Săn bắt và chăn nuôi. | C. Săn bắn và trồng trọt. |
| B. Chăn nuôi và trồng trọt. | D. Chăn nuôi và trồng cây lương thực. |

Câu 4. “Tân thế giới” là tên gọi khác của châu lục nào?

- | | |
|-------------|--------------|
| A. Châu Mỹ. | C. Châu Âu. |
| B. Châu Á. | D. Châu Phi. |

Câu 5. Dãy núi cao, đồ sộ nhất Bắc Mỹ là dãy núi nào dưới đây?

- | | |
|---------------|-----------|
| A. Cooc-di-e. | C. Atlas. |
| B. Apalat. | D. Andet. |

Câu 6. Hệ thống núi Cooc-đi-ê theo hướng nào dưới đây?

- | | |
|------------------------|------------------------|
| A. Đông – Tây. | C. Bắc – Nam. |
| B. Tây Bắc – Đông Nam. | D. Đông Bắc – Tây Nam. |

Câu 7. Vùng đất Bắc Mỹ thường bị các khối khí nóng ẩm xâm nhập gây bão, lũ lớn là:

- | | |
|------------------------------|--------------------------------|
| A. Miền núi phía tây. | C. Đồng bằng ven vịnh Mê-hi-cô |
| B. Ven biển Thái Bình Dương. | D. Khu vực phía bắc Hồ Lớn. |

Câu 8. Hai khu vực thưa dân nhất Bắc Mỹ là:

- | | |
|------------------------------|----------------------------|
| A. Bắc Canada và Tây Hoa Kỳ. | C. Mê-hi-cô và Alaxca. |
| B. Alaxca và Bắc Canada. | D. Tây Hoa Kỳ và Mê-hi-cô. |

Câu 9. Các đô thị nào có trên 10 triệu dân ở Bắc Mỹ?

- | |
|---|
| A. Niu-I-oc, Lốt-An-giơ-lét và Xan-di-a-gô. |
| B. Niu-I-oc, Mê-hi-cô City và Lốt-An-giơ-lét. |
| C. Lốt-An-giơ-lét, Mê-hi-cô City và Si-ca-gô. |
| D. Niu-I-oc, Mê-hi-cô City và Xan-di-a-gô. |

Câu 10. Nước nào có binh quân lương thực đầu người cao nhất trong các nước Bắc Mỹ?

- | | |
|------------|--------------|
| A. Hoa Kỳ. | C. Ca-na-đa. |
|------------|--------------|

B. Mê-hi-cô.

D. Bra-xin.

Câu 11. Trên các sơn nguyên của Mê-hi-cô, người dân trồng các loại cây nào?

- A. Cây hoa màu và các cây công nghiệp nhiệt đới.
- B. Cây hoa màu và cây công nghiệp ôn đới.
- C. Ngô và các cây công nghiệp nhiệt đới.
- D. Lúa gạo và các cây công nghiệp cận nhiệt đới.

Câu 12. Trên các sơn nguyên của Mê-hi-cô, người dân trồng các loại cây nào?

- A. Cây hoa màu và các cây công nghiệp nhiệt đới.
- B. Cây hoa màu và cây công nghiệp ôn đới.
- C. Ngô và các cây công nghiệp nhiệt đới.
- D. Lúa gạo và các cây công nghiệp cận nhiệt đới.

Câu 13. Điều **không phải** hạn chế của nền nông nghiệp của khu vực Bắc Mỹ?

- A. Ô nhiễm môi trường.
- C. Giá thành cao.
- B. Nền nông nghiệp tiên tiến
- D. Nhiều phân hóa học, thuốc hóa học.

Câu 14. Hiệp định mậu dịch tự do Bắc Mỹ (NAFTA) được thành lập nhằm mục đích gì?

- A. Cạnh tranh với các nước Tây Âu
- B. Cạnh tranh với các khối kinh tế ASEAN.
- C. Không chế các nước Mĩ La-tinh
- D. Tăng sức cạnh tranh trên thị trường thế giới

Câu 15. Hướng thay đổi cấu trúc công nghiệp của vùng Hồ Lớn và ven Đại Tây Dương hiện nay là tập trung phát triển ngành nào?

- A. Các ngành dịch vụ.
- B. Các ngành công nghiệp kỹ thuật cao.
- C. Các ngành công nghiệp truyền thống.
- D. Cân đối giữa nông - công và dịch vụ.

Câu 16. Ngành công nghiệp phát triển mạnh ở vùng công nghiệp "Vành đai Mặt Trời" là:

- A. Dệt và thực phẩm.
- C. Luyện kim và cơ khí.
- B. Khai thác than, sắt, dầu mỏ.
- D. Điện tử và hàng không vũ trụ.

Câu 17. Ngành công nghiệp nào của Mê-hi-cô có ưu thế phát triển nhất?

- A. Dệt, thực phẩm,
- C. Cơ khí và điện tử.
- B. Khai khoáng, luyện kim.
- D. Khai khoáng và chế biến lọc dầu.

Câu 18. Hãng máy bay Boing là hãng máy bay của quốc gia nào?

- A. Nhật Bản.
- C. Trung Quốc.
- B. Hoa Kỳ.
- D. Liên Bang Nga.

Câu 19. Điểm khác biệt về địa hình giữa hai hệ thống Coóc-đi-e và An-đét là:

- A. Hướng phân bố núi.
- C. Chiều rộng và độ cao của núi.
- B. Tính chất trẻ của núi.
- D. Thứ tự sắp xếp địa hình.

Câu 20. Dãy núi nào dưới đây cao, đồ sộ nhất Nam Mĩ?

- A. Cooc-di-e.
- B. Himalaya.
- C. Atlat.
- D. Andet.

Câu 21. Các đồng bằng theo thứ tự từ Bắc xuống Nam ở lục địa Nam Mĩ lần lượt là:

- A. La-pla-ta, Pam-pa, A-ma-dôn
- B. A-ma-dôn, La-pla-ta, Pam-pa
- C. Ô-ri-nô-cô, A-ma-dôn, Pam-pa
- D. Pam-pa, A-ma-dôn, La-pla-t

Câu 22. Ở eo đất Trung Mĩ và quần đảo Ăng-ti có rừng nào phát triển nhất?

A. Rừng rậm nhiệt đới. C. Xích đạo.

B. Rừng ôn đới. D. Cận xích đạo.

Câu 23. Nơi có nhiều núi lửa và động đất thường xuất hiện ở Trung và Nam Mỹ là khu vực nào dưới đây?

A. Eo đất Trung Mỹ. C. Quần đảo Ăng-ti.

B. Sơn nguyên Bra-xin. D. Vùng núi An-đét.

Câu 24. Đặc điểm *không đúng* với đồng bằng A-ma-dôn:

A. Thảm thực vật chủ yếu là ở rừng rậm xích đạo.

B. Có mạng lưới sông ngòi rất phát triển.

C. Đất đai rộng và bằng phẳng.

D. Vùng nông nghiệp trù phú nhất Nam Mỹ.

Câu 25. Khu vực Trung và Nam Mỹ có các đới khí hậu nào dưới đây?

A. Xích đạo, nhiệt đới, ôn đới, cực đới.

B. Xích đạo, nhiệt đới, cận nhiệt đới, cực đới.

C. Xích đạo, cận xích đạo, nhiệt đới, cận nhiệt đới, ôn đới.

D. Xích đạo, cận xích đạo, cận nhiệt đới, ôn đới.

Câu 26. Kiểu khí hậu nào chiếm diện tích lớn nhất ở Nam Mỹ?

A. Ôn đới C. Núi cao.

B. Cận xích đạo D. Xích đạo

Câu 27. Bộ tộc người bản địa của Trung và Nam Mỹ là bộ tộc nào?

A. Người Mai-a. C. Người In-ca.

B. Người A-xơ-tếch. D. Người Anh-điêng.

Câu 28. Những quốc gia nào ở Nam Mỹ xuất khẩu lúa mì?

A. Cô-lôm-bi-a, U-ru-goay C. U-ru-goay, Chi-le

B. Bra-xin, Ac-hen-ti-na D. Bra-xin, Chi-le

Câu 29. Khu vực Trung và Nam Mỹ có những hình thức canh tác chủ yếu nào?

A. Quảng canh - độc canh. C. Thâm canh.

B. Quảng canh. D. Du canh.

Câu 30. Các nước công nghiệp mới ở khu vực Trung và Nam Mỹ là:

A. Bra-xin, Vê-nê-xu-ê-la, Pa-na-ma. C. Bra-xin, Pa-na-ma, Chi-lê.

B. Bra-xin, Chi-lê, Vê-nê-xu-ê-la. D. Chi-lê, U-ru-goay, Pa-ra-goay.

ĐỀ CƯƠNG ÔN TẬP KIỂM TRA GIỮA KỲ II NĂM HỌC 2021-2022 MÔN GDCD

A. NỘI DUNG ÔN TẬP: Ôn các bài từ tuần 18 đến tuần 23 trong đó trọng tâm kiến thức:

- Bài 12: *Sống và làm việc có kế hoạch*

- Bài 13: *Quyền được bảo vệ, chăm sóc và giáo dục của trẻ em Việt Nam*

- Bài 14: *Bảo vệ môi trường và tài nguyên thiên nhiên*

B. YÊU CẦU ÔN TẬP:

- Khái niệm, biểu hiện, ý nghĩa, cách rèn luyện liên quan các đơn vị kiến thức
- Suu tầm các câu ca dao, tục ngữ thể hiện nội dung kiến thức đã học.
- Làm các bài tập tình huống trong SGK, SBT phát triển năng lực GDCD Lớp 7
- Vận dụng các kiến thức đã học vào giải quyết các tình huống trong thực tế.

C. HÌNH THỨC RA ĐỀ: Trắc nghiệm 100% (25 câu): Lý thuyết + Tình huống

D. MỘT SỐ DẠNG CÂU HỎI TRẮC NGHIỆM:

Câu 1. Những người biết sắp xếp công việc hàng ngày một cách hợp lí để mọi việc được thực hiện một cách đầy đủ, có hiệu quả là người sống và làm việc có

- A. kỉ luật. B. trách nhiệm. C. kế hoạch. D. lương tâm.

Câu 2. Khi nhiệm vụ, công việc trong thực tế thay đổi, chúng ta cần

- A. giữ nguyên kế hoạch ban đầu. B. điều chỉnh kế hoạch cho phù hợp.
C. bỏ hẳn kế hoạch cũ. D. lập lại kế hoạch từ đầu.

Câu 3 Em đồng tình với quan điểm nào sau đây?

- A. Làm việc theo kế hoạch là tự gò bó, cứng nhắc và làm mất tính sáng tạo.
B. Chỉ cần xây dựng kế hoạch học tập, các kế hoạch khác thì không cần.
C. Phải giữ nguyên kế hoạch đã đề ra trong mọi hoàn cảnh.
D. Kế hoạch đề ra cần đảm bảo cân đối giữa các hoạt động.

Câu 4. Trường hợp nào sau đây là biểu hiện của người sống và làm việc có kế hoạch?

- A. Buổi tối, An chỉ ngồi vào bàn học bài khi được bố mẹ nhắc nhở.
B. Sáng nào Hoàng cũng dậy sát giờ và vội vàng đạp xe đến trường.
C. Lan thường bày quần áo, sách vở ra giường và để mẹ phải dọn dẹp.
D. Hoa luôn tự giác học tập và dành thời gian rảnh rỗi phụ giúp bố mẹ việc nhà.

Câu 5. Biểu hiện của sống và làm việc không có kế hoạch là

- A. Chuẩn bị bài trước khi đến lớp.
B. Sắp xếp thời gian học và chơi hợp lí.
C. Nghe nhạc tiếng anh để học từ mới.
D. Chỉ ôn bài ngay trước khi có bài kiểm tra.

Câu 6. Biểu hiện của người làm việc có kế hoạch là

- A. Chơi trước học sau.
- B. Vừa ăn cơm vừa lướt facebook.
- C. Chỉ học bài cũ khi bố mẹ nhắc nhở.
- D. Lên thời khóa biểu làm việc hàng tuần.

Câu 7. Ngoài thời khóa biểu trên lớp, D tự lập cho mình 1 thời khóa biểu ở nhà và ghi chi tiết các việc phải làm vào thời gian rảnh rỗi. Việc làm đó của D thể hiện điều gì?

- A. D là người sống và làm việc có kế hoạch.
- B. D là người tính toán.
- C. D là người rỗi rãi.
- D. D là người có học.

Câu 8. Khi đã lên kế hoạch, nếu muốn đạt được hiệu quả cao thì chúng ta cần phải làm gì?

- A. thực hiện kế hoạch theo cảm hứng
- B. kiên trì thực hiện kế hoạch
- C. không cần thực hiện thường xuyên
- D. để sau một thời gian dài mới thực hiện

Câu 9. Kỳ thi học kì sắp đến, bạn Lan đã lên lịch học và thời gian ôn tập cho từng môn học. Bạn Lan đang ...

- A. tự học
- B. tự giác
- C. học tập có kế hoạch
- D. làm rất tốt

Câu 10. Một trong những tác nhân khiến việc quản lí thời gian của giới trẻ không hiệu quả chính là:

- A game, mạng xã hội
- B. bạn bè
- C. người thân
- D. đồ ăn

Câu 11. Công ước Liên hợp quốc về Quyền trẻ em ra đời năm nào?

- A. 1989
- B. 1990
- C. 1986
- D. 1987

Câu 12. Theo Công ước Liên hợp quốc về Quyền trẻ em quy định: Trẻ em là người có độ tuổi bao nhiêu?

- A. Dưới 18 tuổi
- B. Dưới 17 tuổi
- C. Dưới 16 tuổi
- D. Dưới 15 tuổi

Câu 13. Công ước Liên hợp quốc về quyền trẻ em có bao nhiêu điều và bao nhiêu quyền?

- A. 55 điều, 29 quyền
- B. 54 điều, 29 quyền
- C. 53 điều, 30 quyền
- D. 52 điều, 30 quyền

Câu 14. Việc làm nào dưới đây vi phạm quyền được bảo vệ, chăm sóc và giáo dục của trẻ em?

- A. Làm giấy khai sinh cho trẻ em.
- B. Không cho con thức khuya để chơi game.

- C. Không cho con gái đến trường học.
- D. Đưa trẻ em hư vào trường giáo dưỡng.

Câu 15. "Trẻ em có quyền khai sinh và có quốc tịch" thuộc quyền nào?

- A. Quyền được giáo dục của trẻ em Việt Nam.
- B. Quyền phát triển của trẻ em Việt Nam.
- C. Quyền được bảo vệ của trẻ em Việt Nam.
- D. Quyền được chăm sóc của trẻ em Việt Nam

Câu 16. "Trẻ em được chung sống với bố mẹ và được hưởng sự chăm sóc của các thành viên trong gia đình" là thuộc quyền nào?

- A. Quyền được giáo dục của trẻ em Việt Nam.
- B. Quyền phát triển của trẻ em Việt Nam.
- C. Quyền được bảo vệ của trẻ em Việt Nam.
- D. Quyền được chăm sóc của trẻ em Việt Nam.

Câu 17. Việc làm nào dưới đây là thực hiện đúng bổn phận của trẻ em?

- A. Sau giờ học, Lâm vui chơi thoải mái, không làm việc gì.
- B. Bình thỉnh thoảng hút thuốc lá khi có người rủ.
- C. Hải luôn tôn trọng thầy cô giáo và đoàn kết với bạn bè.
- D. Hà chăm làm việc nhà và giúp đỡ cha mẹ nhưng rất ngại học.

Câu 18. "Trẻ em có quyền được vui chơi, giải trí, tham gia các hoạt động văn hóa, thể thao" là nội dung của quyền nào sau đây?

- A. Quyền có tài sản của trẻ em Việt Nam.
- B. Quyền được giáo dục của trẻ em Việt Nam.
- C. Quyền được học tập của trẻ em Việt Nam.
- D. Quyền được chăm sóc của trẻ em Việt Nam.

Câu 19. Những hành vi nào sau đây vi phạm quyền được bảo vệ của trẻ em?

- A. Không làm tham gia các hoạt động vui chơi, giải trí
- B. Không cho trẻ đi học đúng độ tuổi.
- C. Bóc lột sức lao động của trẻ.
- D. Cho trẻ đi cai nghiện game.

Câu 20. Bạn N là hàng xóm nhà em. Đạo gần đây, em thấy trên người N có nhiều vết bầm tím không rõ nguyên nhân. Một hôm, em sang nhà N và nhìn thấy bố bạn đang đánh bạn. Trong trường hợp đó, em sẽ làm gì?

- A. Mặc kệ, bỏ về nhà vì sợ mình sẽ bị bố N đánh.
- B. Nhảy vào can ngăn.
- C. Hô to, để hàng xóm vào can ngăn và báo lên Tổng đài quốc gia bảo vệ trẻ em.
- D. Đứng nhìn bạn N bị bố đánh.

Câu 21. Toàn bộ các điều kiện tự nhiên, nhân tạo bao quanh con người, có tác động đến đời sống, sự tồn tại, phát triển của con người và thiên nhiên được gọi là?

- A. Tài nguyên thiên nhiên.
- B. Thiên nhiên.
- C. Tự nhiên.
- D. Môi trường.

Câu 22. Những của cải có sẵn trong tự nhiên mà con người có thể khai thác, chế biến, sử dụng phục vụ cuộc sống của con người được gọi là?

- A. Tài nguyên thiên nhiên.
- B. Thiên nhiên.
- C. Tự nhiên.
- D. Môi trường.

Câu 23. Hành động vứt rác thải xuống dòng sông là thể hiện điều gì?

- A. nếp sống văn minh, giữ vệ sinh nơi cư trú.
- B. tính tiết kiệm đỡ tốn tiền đồ rác.
- C. ý thức bảo vệ môi trường kém.
- D. thói quen gặp đâu vứt rác đó cho khỏe

Câu 24. Biện pháp nào dưới đây có tác dụng bảo vệ môi trường?

- A. Dùng than tổ ong để đốt thay củi nhằm tiết kiệm tiền.
- B. Bón nhiều phân bón hóa học để cây trồng được xanh tốt.
- C. Diệt hết các loại côn trùng để bảo vệ cây trồng.
- D. Xử lý nước thải công nghiệp trước khi đổ vào nguồn nước.

Câu 25. Rừng bị chặt phá trên thượng nguồn sẽ gây ra tác động gì?

- A. Cân bằng sinh thái.
- B. Dễ dàng gây mưa.
- C. Môi trường sạch đẹp trong lành.
- D. Lụt lội, xói mòn, sạt lở đất.

Câu 26. Yếu tố nào sau đây không phải là tài nguyên thiên nhiên?

- A. Dung dịch HCl được điều chế trong phòng thí nghiệm.

- B. Rừng.
- C. San hô.
- D. Cá voi.

Câu 27. Nhà máy B xả nước thải ra ngoài khu dân cư gây ô nhiễm môi trường. Trước việc làm đó em cần báo với ai?

- A. Chính quyền địa phương.
- B. Trưởng thôn.
- C. Trưởng công an xã.
- D. Gia đình.

Câu 28. Biện pháp nào sau đây giúp bảo vệ môi trường?

- A. Vứt rác xuống dòng sông.
- B. Khai thác nước ngầm bừa bãi.
- C. Đổ nhớt xả vào đường thoát nước.
- D. Giữ gìn vệ sinh xung quanh nhà ở, nơi công cộng.

Câu 29. Các hành vi vứt, thải, bỏ rác thải sinh hoạt không đúng nơi quy định tại khu chung cư, thương mại, dịch vụ hoặc nơi công cộng bị phạt bao nhiêu tiền?

- A. 1.000.000đ – 2.000.000đ.
- B. 2.000.000đ – 3.000.000đ.
- C. 3.000.000đ – 4000.000.đ.
- D. 3.000.000đ – 5.000.000đ.

Câu 30. Hôm nay, lớp em tổ chức liên hoan tại lớp. Sau khi kết thúc, bạn H trực tiếp vứt vỏ bánh kẹo trên sàn lớp. Trong trường hợp đó, em sẽ làm gì?

- A. Mặc kệ bạn vì không phải việc của mình.
- B. Nhắc nhở bạn không nên xả rác bừa bãi.
- C. Quát mắng bạn vì hành vi không văn minh.
- D. Quay video bạn xả rác và đăng lên mạng.

ĐỀ CƯƠNG ÔN TẬP KIỂM TRA GIỮA KỲ II NĂM HỌC 2021-2022 MÔN LỊCH SỬ

I. Nội dung ôn tập:

Học sinh ôn tập những kiến thức Lịch sử đã học từ tuần 19 đến tuần 23, với nội dung kiến thức sau:

Bài 19: Cuộc khởi nghĩa Lam Sơn (1418-1427)

Bài 20: Nước Đại Việt thời Lê sơ (1428-1527)

Bài 22: Sự suy yếu của nhà nước phong kiến tập quyền (thế kỉ XVI đến XVIII)

II. Một số dạng câu hỏi

Câu 1: Lê Lợi dựng cờ khởi nghĩa vào thời gian:

A. Ngày 7/2/1418. B. Ngày 7/3/1418.

C. Ngày 2/7/1418. D. Ngày 3/7/1418.

Câu 2: Tháng 9/1426, Lê Lợi và bộ chỉ huy quyết định mở cuộc tiến quân:

A. Vào miền Trung. B. Ra miền Bắc.

C. Vào miền Nam. D. Đánh ra Thăng Long.

Câu 3: Thời Lê sơ, tôn giáo chiếm địa vị độc tôn trong xã hội:

A. Phật giáo. B. Đạo giáo.

C. Nho giáo. D. Thiên Chúa giáo.

Câu 4: Thời Lê sơ (1428-1527), tổ chức bao nhiêu khoa thi tiến sĩ:

A. 62 khoa thi tiến sĩ. B. 16 khoa thi tiến sĩ.

C. 12 khoa thi tiến sĩ. D. 26 khoa thi tiến sĩ.

Câu 5: Vua Lê Thánh Tông cho biên soạn và ban hành bộ luật có tên là

A. Hình thư. B. Hình luật.

C. Quốc triều hình luật. D. Hoàng triều luật lệ.

Câu 6: Văn học dưới thời Lê sơ thể hiện nội dung

A. thể hiện tình yêu quê hương. B. có nội dung yêu nước sâu sắc.

C. đề cao giá trị con người. D. đề cao tính nhân văn.

Câu 7: Dưới thời Lê sơ, việc định lại chính sách chia ruộng đất công làng xã gọi là

A. phép quân điền. B. phép tịch điền.

C. phép phân điền. D. phép lộc điền.

Câu 8: Đầu thế kỉ XVI mâu thuẫn nào diễn ra gay gắt nhất?

- A. Mâu thuẫn giữa nông dân với địa chủ.
- B. Mâu thuẫn giữa các phe phái phong kiến.
- C. Mâu thuẫn giữa bọn quan lại với nhân dân địa phương.
- D. Mâu thuẫn giữa nhân dân với nhà nước phong kiến.

Câu 9: Cuộc khởi nghĩa Lam Sơn thắng lợi đã kết thúc bao nhiêu năm đô hộ của nhà Minh?

- A. 10 năm
- B. 20 năm
- C. 30 năm
- D. 40 năm

Câu 10: Vì sao từ thế kỉ XVI nhà Lê suy thoái?

- A. Thiên tai, mất mùa, đói kém xảy ra thường xuyên
- B. Quan lại cậy thế hà hiếp, bóc lột nhân dân
- C. Nhà Lê không được nhân dân ủng hộ
- D. Vua quan ăn chơi xa xỉ, nội bộ triều đình chia thành phe phái, tranh giành quyền lực

Câu 11: Cuộc khởi nghĩa tiêu biểu nhất trong phong trào khởi nghĩa nông dân đầu thế kỉ XVI là:

- A. khởi nghĩa Trần Tuân.
- B. khởi nghĩa Lê Hy.
- C. khởi nghĩa Phùng Chương.
- D. khởi nghĩa Trần Cao.

Câu 12: Ý nghĩa của các cuộc khởi nghĩa nông dân đầu thế kỉ XVI là gì?

- A. Lật đổ nhà Lê sơ.
- B. Bị dập tắt nhanh chóng nên không có ý nghĩa gì.
- C. Góp phần làm cho triều đình nhà Lê mau chóng sụp đổ.
- D. Tiêu diệt tất cả các thế lực cát cứ ở địa phương.

Câu 13: Chiến tranh Nam – Bắc triều diễn ra giữa các thế lực phong kiến nào?

- A. Nhà Mạc với nhà Nguyễn.
- B. Nhà Mạc với nhà Lê.
- C. Nhà Lê với nhà Nguyễn.
- D. Nhà Trịnh với nhà Mạc

Câu 14: Chiến tranh Nam – Bắc triều đã ảnh hưởng như thế nào đối với đời sống nhân dân?

- A. Mùa màng bị tàn phá nặng nề, ruộng đồng bị bỏ hoang, nhiều người chết đói.
- B. Đất nước bị chia cắt.
- C. Nông dân không tham gia vào chiến tranh nên không bị ảnh hưởng gì.
- D. Nông dân nhân cơ hội này đứng lên lật đổ chính quyền nhà Mạc.

Câu 15: Chiến tranh Trịnh – Nguyễn diễn ra trong thời gian nào?

- A. Từ năm 1545 đến năm 1592.
- B. Từ năm 1545 đến năm 1627.

C. Từ năm 1627 đến năm 1672. D. Từ năm 1627 đến năm 1692.

Câu 16: Thời Lê sơ các công xưởng do nhà nước quản lý gọi là gì?

A. Phường hội B. Quan xưởng

C. Làng nghề D. Cục bách tác

Câu 17: Thời Lê sơ, bia tiến sĩ được xây dựng để làm gì?

A. Ghi chép lại tình hình giáo dục của đất nước qua từng năm.

B. Tôn vinh những người đỗ tiến sĩ trở lên.

C. Quy định việc thi cử, tuyển chọn tiến sĩ của nhà nước.

D. Ghi chép lại tình hình thi cử của đất nước qua từng năm.

Câu 18: Tình hình nghĩa quân Lam Sơn trong những năm đầu hoạt động (1418 – 1423) diễn ra như thế nào?

A. Gặp rất nhiều khó khăn, nguy nan và phải ba lần rút lên núi Chí Linh để chống lại sự vây quét của quân giặc.

B. Đánh bại các cuộc vây quét của quân Minh và làm chủ vùng đất từ Thanh Hóa đến Thuận Hóa.

C. Liên tiếp tiến công quân Minh ở Đông Quan.

D. Nghĩa quân nhanh chóng đầu hàng quan địch để bảo toàn lực lượng.

Câu 19: Nghĩa quân Lam Sơn phải rút lên núi Chí linh bao nhiêu lần?

A. 1 B. 2

C. 3 D. 4

Câu 20: Hai trận đánh lớn nhất trong khởi nghĩa Lam Sơn là:

A. trận Hạ Hồi và trận Ngọc Hồi – Đống Đa.

B. trận Rạch Gầm – Xoài Mút và trận Bạch Đằng.

C. trận Tây Kết và trận Đông Bộ Đầu.

D. trận Tốt Động – Chúc Động và trận Chi Lăng – Xương Giang.

ĐỀ CƯƠNG ÔN TẬP KIỂM TRA GIỮA KỲ II NĂM HỌC 2021-2022 MÔN TOÁN

I, LÝ THUYẾT

1, Đại số

-Dấu hiệu là gì? Tần số của một giá trị của dấu hiệu là gì?

-Công thức tính số trung bình cộng của dấu hiệu, ý nghĩa số trung bình cộng của dấu hiệu, khi nào số trung bình cộng của dấu hiệu có thể làm đại diện cho dấu hiệu

-Mốt của dấu hiệu là gì

2, Hình học

-Phát biểu định lí về tổng ba góc của một tam giác, tính chất góc ngoài của tam giác.

-Phát biểu ba trường hợp bằng nhau của hai tam giác.

-Phát biểu các trường hợp bằng nhau của hai tam giác vuông.

-Phát biểu định nghĩa tam giác cân, tính chất của tam giác cân. Nêu các cách chứng minh một tam giác là tam giác cân.

-Phát biểu định nghĩa tam giác đều, tính chất của tam giác đều. Nêu các cách chứng minh một tam giác là tam giác đều.

II, BÀI TẬP

TRẮC NGHIỆM

Chọn đáp án đúng rồi ghi vào bài làm (Từ câu 1 đến câu 4)

Điểm kiểm tra môn Toán của 15 học sinh được liệt kê trong bảng sau:

Giá trị (x)	4	5	6	7
Tần số (n)	2	3	6	4

Câu 1: Số các giá trị của dấu hiệu là

- A, 10 B, 7 C, 20 D, 15

Câu 2: Số các giá trị khác nhau của dấu hiệu là:

- A, 5 B, 6 C, 20 D, 8

Câu 3: Giá trị có tần số nhỏ nhất là:

- A, 4 B, 7 C, 8 D, 9

Câu 4: Số trung bình cộng của dấu hiệu là:

- A, 7,4 B, 6,4 C, 5,8 D, 6,8

Câu 5: $\triangle ABC$ cân tại A có góc $A = 60^\circ$. Số đo góc C là:

- A, 80° B, 70° C, 60° D, 50°

Câu 6: Các tam giác vuông MNP và EFG có $M = E = 90^\circ$. $MN = EF$. Hai tam giác bằng nhau nếu có thêm điều kiện nào? Chọn khẳng định SAI:

- A, $N = F$ B, $P = G$ C, $N = G$ D, $MP = EG$

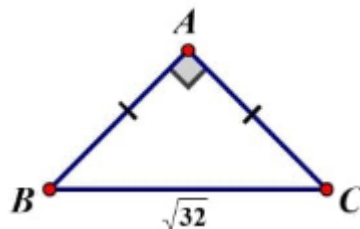
Câu 7: Đường chéo của một mặt bàn hình chữ nhật có chiều dài 12dm, chiều rộng 5dm là:

- A, 15dm B, 12dm C, 13dm D, 14dm

Câu 8: Cho $\triangle ABC$ và $\triangle MNP$ có $AB = NM$, $\angle B = \angle PNM$. Cần thêm điều kiện gì để $\triangle ABC = \triangle MNP$ theo trường hợp cạnh-góc-cạnh?

- A, $BC = NP$ B, $BC = MP$ C, $BC = MN$ D, $AB = MP$

Câu 9: Cho hình vẽ. Tổng độ dài của hai cạnh góc vuông là:



- A, 4 B, 8 C, 16 D, $\sqrt{18}$

Câu 10: Cho tam giác ABC cân tại A, kẻ AH vuông góc với BC tại H. Khẳng định nào sau đây là SAI?

A, H là trung điểm của cạnh BC

B, AH là tia phân giác của $\angle BAC$

C, $\triangle AHB = \triangle AHC$ theo trường hợp cạnh huyền - góc vuông.

D, $AB^2 = AH^2 + HC^2$

**TỰ LUẬN
ĐẠI SỐ**

Bài 1: Điểm thi môn Toán của 20 bạn học sinh lớp 7A được ghi lại trong bảng dưới đây:

8	9	10	7	8	9	6	7	8	9
7	10	10	9	10	10	8	8	9	7

- a, Dấu hiệu cần tìm hiểu ở đây là gì? Số các giá trị của dấu hiệu? Số các giá trị khác nhau của dấu hiệu?
- b, Lập bảng tần số và nêu nhận xét
- c, Tính số trung bình cộng của dấu hiệu và tìm một của dấu hiệu
- d, Vẽ biểu đồ đoạn thẳng

Bài 2: Số lần tăng cầu của các bạn nữ lớp 7B được ghi lại trong bảng sau:

1	2	4	5	3
2	10	7	2	8
2	8	5	3	11
3	3	4	4	2

- a, Dấu hiệu cần tìm hiểu ở đây là gì? Lớp 7B có bao nhiêu bạn học sinh nữ? Số các giá trị của dấu hiệu? Số các giá trị khác nhau của dấu hiệu?
- b, Lập bảng tần số và nêu nhận xét
- c, Tính số trung bình cộng của dấu hiệu và tìm một của dấu hiệu
- d, Vẽ biểu đồ đoạn thẳng

Bài 3: Số áo sơ mi được bán ra của một cửa hàng trong 30 ngày được ghi lại trong bảng sau:

5	5	4	1	8	1	1	3	6	8	7	8	9	5	6
3	6	1	1	1	8	9	8	9	8	7	8	9	1	1

- a, Dấu hiệu cần tìm hiểu ở đây là gì? Số các giá trị của dấu hiệu? Số các giá trị khác nhau của dấu hiệu?
- b, Lập bảng tần số và nêu nhận xét. Tháng đó cửa hàng bán được tổng cộng tất cả bao nhiêu áo sơ mi?
- c, Tính số trung bình cộng của dấu hiệu và tìm một của dấu hiệu
- d, Vẽ biểu đồ đoạn thẳng

Bài 4: Cho bảng thống kê sau, tìm các số còn thiếu trong bảng trên và điền kết quả vào bảng:

Điểm số	Tần số	Các tích	Giá trị trung bình
5	2	10	$\bar{X} = \frac{140}{20} = 7$
6	
7	
9	3	27	
	N = 20	Tổng: 140	

Bài 5: Cho bảng tần số sau:

a, CMR: $\triangle ADE$ cân

b, Gọi M là trung điểm của BC. CMR: AM là tia phân giác của $\angle DAE$ và $AM \perp DE$.

c, Từ B và C kẻ BH, CK theo thứ tự vuông góc với AD, AE. CMR: $BH = CK$

d, CMR: $HK \parallel BC$

e, Cho HB cắt CK ở N. CMR: A, M, N thẳng hàng

Bài 9: Cho $\triangle ABC$ vuông cân tại A có M là trung điểm cạnh BC. Điểm E nằm giữa M và C. Vẽ $BH \perp AE$ tại H, $CK \perp AE$ tại K. Chứng minh rằng:

$$BAH = ACK$$

$$BH = AK$$

$$c, \triangle HBM = \triangle KAM \quad \triangle MHK \text{ vuông cân.}$$

Bài 10: Cho $\triangle ABC$ có $A = 120^\circ$, phân giác AD. Kẻ $DE \perp AB, DF \perp AC$. Trên các đoạn thẳng BE, FC đặt $EK = FI$

CMR: $\triangle DEF$ đều

b, CMR: $\triangle DIK$ cân

c, Từ C kẻ đường thẳng song song với AD, cắt AB tại M. CMR: $\triangle AMC$ đều

d, Cho $CM = a, CF = b$. Tính AD theo a và b

ĐỀ CƯƠNG ÔN TẬP KIỂM TRA GIỮA KỲ II NĂM HỌC 2021-2022 MÔN TIN HỌC

I. Nội dung ôn tập

1. Định dạng trang tính
2. Trình bày và in trang tính
3. Sắp xếp và lọc dữ liệu

II. Bài tập

Khoanh tròn vào chữ cái đứng trước ý trả lời đúng.

Câu 1: Nút lệnh dùng để kẻ đường biên và tô màu nền là:



Câu 2: Để định dạng về phông chữ, cỡ chữ, kiểu chữ và màu chữ. Em sử dụng các nút lệnh tương ứng trong dải lệnh nào sau đây?

- A. Home B. Insert C. View D. Data

Câu 3: Nút lệnh để tăng chữ số thập phân trong chương trình bảng tính là:



Câu 4: Xem trang tính trước khi in nhằm mục đích

- A. cho phép kiểm tra trước những gì sẽ in ra.
B. kiểm tra lỗi chính tả trước khi in.
C. kiểm tra việc trình bày đã hợp lý chưa
D. để xem việc điều chỉnh ngắt trang có hợp lý chưa.

Câu 5: Để điều chỉnh ngắt trang, Em sẽ hiển thị trang tính ở chế độ:

- A. Normal B. Page layout
C. Page Break Preview D. Full Screen

Câu 6: Nút lệnh dùng để sắp xếp dữ liệu theo thứ tăng dần trong bảng tính excel







Câu 7: Thao tác để lọc dữ liệu

- A. View/Filter
- B. Data/Sort Descending
- C. Data/Sort Ascending
- D. Data/Filter

Câu 8: Phát biểu nào sau đây là đúng?

- A. Sắp xếp dữ liệu là hoán đổi vị trí của các hàng với nhau, để dữ liệu được sắp xếp theo thứ tự tăng dần hoặc giảm dần.
- B. Sắp xếp dữ liệu là hoán đổi vị trí của các cột với nhau, để dữ liệu được sắp xếp theo thứ tự tăng dần hoặc giảm dần.
- C. Sắp xếp dữ liệu là chỉ chọn và hiển thị những hàng thoả mãn các tiêu chuẩn nhất định nào đó.
- D. Sắp xếp dữ liệu là chỉ chọn và hiển thị những cột thoả mãn các tiêu chuẩn nhất định nào đó.





Câu 9: Để căn dữ liệu vào giữa nhiều ô tính ta sử dụng nút lệnh:


- A. 
- B. 
- C. 
- D. 

Câu 10: Giả sử ô A2 có nền màu xanh và chữ màu vàng. Ô B2 có nền màu trắng và chữ màu đen. Nếu sao chép ô A2 vào ô B2 thì ô B2 sẽ có:

- A. Nền màu trắng và chữ màu đen
- B. Nền màu xanh và chữ màu đen
- C. Nền màu xanh và chữ màu vàng
- D. Tất cả đều sai





Câu 11: Để giảm bớt một chữ số thập phân ta nháy vào nút lệnh:

- A. 
- B. 
- C. 
- D. 

Câu 12: Trong ô B3 có chứa số 7.75, chọn ô B3 và nháy hai lần vào nút lệnh  thì kết quả trong ô B3 là:


- A. 8
- B. 7.7500
- C. 7.8
- D. 7.7

Câu 13: Để tăng thêm một chữ số thập phân ta nháy vào nút lệnh:

- A. 
- B. 
- C. 
- D. 

Câu 14: Câu nào sau đây sai. Khi nhập dữ liệu vào bảng tính thì:

- A. Dữ liệu kiểu số sẽ mặc nhiên căn thẳng lề trái
- B. Dữ liệu kiểu kí tự sẽ mặc nhiên căn thẳng lề trái
- C. Dữ liệu kiểu thời gian sẽ mặc nhiên căn thẳng lề phải
- D. Dữ liệu kiểu ngày tháng sẽ mặc nhiên căn thẳng lề phải

Câu 15: Trong ô B3 có chứa số 7.15, chọn ô B3 và nháy hai lần vào nút lệnh  thì kết quả trong ô B3 là:

A. 8

B. 7.1500

C. 7.20

D. 7.200

Câu 16: Để kẻ đường biên cho các ô tính ta dùng:

A. Lệnh Borders trong nhóm Font trên dải Home.

B. Lệnh Fill Color trong nhóm Font trên dải Home.

C. Lệnh Borders trong nhóm Font trên dải Insert.

D. Tất cả đều sai

Câu 17: Ô A1 của trang tính có số 1.753. Sau khi chọn ô A1, nháy chuột 1 lần vào nút Decrease Decimal.

Kết quả hiển thị ở ô A1 sẽ là:

A. 1.753

B. 1.75

C. 1.76

D. Một kết quả khác

Câu 18: Trong ô tính xuất hiện ##### vì:

A. Tính toán ra kết quả sai

B. Công thức nhập sai

C. Độ rộng của hàng quá nhỏ không hiển thị hết dãy số quá dài

D. Độ rộng của cột quá nhỏ không hiển thị hết dãy số quá dài

Câu 19: Chọn đáp án sai

A. Các trang in luôn được đặt kích thước lề ngầm định.

B. Hướng giấy luôn mặc định là hướng ngang.

C. Xem trước khi in với mục đích kiểm tra dữ liệu được in ra.

D. Chương trình trang tính luôn tự động phân chia trang tính ra thành các trang nhỏ.

Câu 20: Trong các thao tác sau, đâu là thao tác đặt hướng giấy in thẳng đứng?

A. View / Page Break Preview

B. Page Layout / Page setup / Page / Portrait

C. File / Page setup / Margins

D. File / Print / Page

Câu 21: Trong các thao tác sau, đâu là thao tác để đặt lề giấy in?

A. View / Page Break Preview

B. File / Page Setup / Page

C. Page Layout / Page Setup / Margins

D. File / Print

Câu 22: Trong các thao tác sau, đâu là thao tác mở hộp thoại để In trang tính?

A. View / Page Break Preview

B. File / Page setup / Page

C. File / Page setup / Margins

D. File / Print/ nháy chuột vào biểu tượng Print

Câu 23: Trong các thao tác sau, đâu là thao tác đặt hướng giấy nằm ngang?

A. View / Page Break Preview

B. Page Layout / Page setup / Page / Landscape

C. File / Page setup / Margins

D. File / Print / Margins

Câu 24: Trong chương trình bảng tính, muốn sắp xếp danh sách dữ liệu theo thứ tự tăng (giảm), ta thực hiện:





A. Tools / Sort & Filter/  hoặc 

B. File / Sort & Filter/  hoặc 

C. Data / Sort & Filter/  hoặc 

D. Format / Sort & Filter/  hoặc 

Câu 25: Trong Excel, để sắp xếp danh sách dữ liệu giảm dần, em làm thế nào?

- A. Nháy chọn 1 ô trong cột cần sắp xếp rồi nháy nút  trên dải lệnh Data
- B. Nháy chọn 1 ô trong cột cần sắp xếp rồi nháy nút  trên dải lệnh Data
- C. Nháy nút  trên dải lệnh Data
- D. Nháy nút  trên dải lệnh Data

Câu 26: Sắp xếp danh sách dữ liệu để làm gì?

- A. Để danh sách dữ liệu đẹp hơn
- B. Để danh sách dữ liệu có thứ tự
- C. Để dễ tra cứu
- D. Cả B và C

Câu 27: Theo em lọc dữ liệu để làm gì?

- A. Để danh sách dữ liệu đẹp hơn
- B. Để danh sách dữ liệu có thứ tự
- C. Để chọn và chỉ hiển thị các hàng thỏa mãn các tiêu chuẩn nhất định nào đó
- D. Không để làm gì cả.

Câu 28: Để hiển thị tất cả các dòng dữ liệu sau khi lọc, em chọn lệnh gì?

- A. Show All
- B. Advanced Filter
- C. AutoFilter
- D. Select All

ĐỀ CHƯƠNG ÔN TẬP KIỂM TRA GIỮA KỲ II NĂM HỌC 2021-2022 MÔN CÔNG NGHỆ

Phần 1. Nội dung kiến thức cần ôn tập

1. Các đơn vị kiến thức đã học từ tuần 19 đến hết tuần 23

Bài 20: Thu hoạch, bảo quản và chế biến nông sản

Bài 21: Luân canh, xen canh, tăng vụ

Bài 22: Vai trò của rừng và nhiệm vụ của trồng rừng

Bài 24: Gieo hạt và chăm sóc vườn gieo vòm cây rừng

2. Một số câu hỏi trong tâm

Câu 1: Có những phương pháp chế biến nông sản nào? Cho ví dụ

Câu 2: Trình bày khái niệm luân canh, xen canh, tăng vụ, cho ví dụ

Câu 3: Trình bày vai trò của rừng và nhiệm vụ của trồng rừng

Câu 4: Có những biện pháp chăm sóc vườn gieo vòm cây rừng nào và nêu tác dụng của từng biện pháp

Phần 2. Hình thức ra đề:

50 % trắc nghiệm, 50% tự luận

Phần 3. Một số câu hỏi trắc nghiệm

Câu 1. Với những loại cây có củ nằm dưới đất như cây khoai tây, cây khoai lang, cây sắn tây thì cần dùng phương pháp thu hoạch phù hợp nào?

A. Nhỏ

- B.Cắt
- C.Hái
- D.Đào

Câu 2. Có mấy loại hình luân canh?

- A.1
- B.2
- C.3
- D.4

Câu 3. Tạo nền đất gieo ươm cây rừng bằng bầu đất thì vỏ bầu có hình gì?

- A.Hình vuông
- B.Hình tròn
- C.Hình ống
- D.Hình chữ nhật

Câu 4: Mùa gieo hạt cây rừng ở các tỉnh miền nam là:

- A.Từ tháng 2 đến tháng 3
- B.Từ tháng 3 đến tháng 5
- C.Từ tháng 11 đến tháng 2
- D.Từ tháng 1 đến tháng 2

Câu 5: Quy trình gieo hạt?

- A.Bảo vệ luống gieo, gieo hạt, lấp đất, che phủ, tưới, phun thuốc trừ sâu, bệnh
- B.Gieo hạt, tưới, lấp đất, phun thuốc trừ sâu, bệnh, che phủ, bảo vệ luống gieo
- C.Lấp đất, gieo hạt, tưới, phun thuốc trừ sâu, bệnh, bảo vệ luống gieo, che phủ
- D.Gieo hạt, lấp đất, che phủ, tưới, phun thuốc trừ sâu, bệnh, bảo vệ luống gieo

Câu 6: Thời vụ trồng rừng thay đổi theo?

- A.Mùa
- B.Vùng khí hậu
- C.Năm
- D.Cây trồng

Câu 7: Quy trình kĩ thuật trồng rừng bằng cây con theo thứ tự nào?

- A.Tạo lỗ trong hố, lấp đất, đặt cây vào lỗ trong hố đất, vun kín gốc cây, nén chặt
- B.Tạo lỗ trong hố, đặt cây vào lỗ trong hố đất nén chặt, lấp đất, vun kín gốc cây
- C.Tạo lỗ trong hố, đặt cây vào lỗ trong hố đất, lấp đất, nén chặt, vun kín gốc cây
- D.Tạo lỗ trong hố, lấp đất, vun kín gốc cây, nén đất, đặt cây vào lỗ trong hố đất

Câu 8: Hướng luống đất theo hướng nào để cây con nhận được nhiều ánh sáng nhất?

- A.Bắc nam
- B.Đông tây
- C.Đông bắc
- D.Tây bắc

Câu 9: Tình hình rừng ở nước ta từ năm 1943 đến 1995 là:

- A.Diện tích đồi trọc giảm
- B.Độ che phủ của rừng tăng
- C.Diện tích đất hoang tăng
- D.Diện tích rừng tự nhiên tăng

Câu 10: Làm cho sản phẩm lên men nhờ hoạt động của vi sinh vật là phương pháp chế biến nào?

- A.Sấy khô
- B.Đóng hộp
- C.Muối chua

D.Chế biến thành bột mịn

Câu 11: Tưới cho nước ngập tràn mặt ruộng là phương pháp tưới nào?

A.Tưới ngập

B.Tưới thấm

C.Tưới theo hàng, vào gốc cây

D.Tưới phun mưa

Câu 12: Với cây khoai tây, người ta tiến hành trồng bằng phương pháp nào?

A.Trồng bằng cây con

B.Trồng bằng hạt

C.Trồng bằng củ

D.Trồng bằng cách giâm cành

Câu 13: Có mấy biện pháp chăm sóc cây trồng?

A.3

B.4

C.5

D.6

Câu 14: Củ nào được chế biến thành tinh bột hoặc bột mịn?

A.Su hào

B.Cà rốt

C.Sắn

D.Khoai lang

Câu 15: Sau khi trồng cây rừng bao lâu phải tiến hành chăm sóc cây?

A. 1 đến 3 tháng

B. 2 đến 4 tháng

C. 3 đến 5 tháng

D. 4 đến 6 tháng

ĐỀ CƯƠNG ÔN TẬP KIỂM TRA GIỮA KỲ II NĂM HỌC 2021-2022 MÔN SINH HỌC

PHẦN I: NỘI DUNG

- Lớp Lưỡng cư: Bài 35; 37.

- Lớp Bò sát: Bài 38; 40

- Lớp chim: Bài 41; 44

- Lớp Thú: Bài 46; 48; 49

PHẦN II. MỘT SỐ CÂU HỎI THAM KHẢO

A. CÂU HỎI TRẮC NGHIỆM

Câu 1: Hình thức sinh sản của ếch đồng là

A. Để trứng, thụ tinh trong

B. Để trứng, thụ tinh ngoài

C. Để con, thụ tinh trong

D. Để trứng, trứng có vỏ dai

Câu 2: Các di chuyển của ếch đồng là

A. Nhảy cóc

B. Bơi

C. Co duỗi cơ thể

D. Nhảy cóc và bơi

Câu 3: Quá trình biến thái hoàn toàn của ếch diễn ra

- A. Trứng – nòng nọc - ếch trưởng thành
- B. Nòng nọc – trứng - ếch trưởng thành
- C. Ếch trưởng thành – nòng nọc – trứng
- D. Trứng - ếch trưởng thành – nòng nọc

Câu 4: Phát biểu nào sau đây về thằn lằn bóng đuôi dài là đúng?

- A. Không có mi mắt thứ ba. B. Không có đuôi.
- C. Da khô, có vảy sừng bao bọc. D. Vành tai lớn.

Câu 5: Yếu tố nào dưới đây giúp thằn lằn bóng đuôi dài bảo vệ mắt, giữ nước mắt để màng mắt không bị khô?

- A. Mắt có mi cử động, có nước mắt.
- B. Màng nhĩ nằm trong một hốc nhỏ bên đầu.
- C. Da khô và có vảy sừng bao bọc.
- D. Bàn chân có móng vuốt.

Câu 6: Đặc điểm nào dưới đây đúng khi nói về sinh sản của thằn lằn bóng đuôi dài?

- A. Thụ tinh trong, đẻ con.
- B. Thụ tinh trong, đẻ trứng.
- C. Con đực không có cơ quan giao phối chính thức.
- D. Thụ tinh ngoài, đẻ trứng

Câu 7. Trứng của thằn lằn bóng đuôi dài được thụ tinh ở

- A. trong cát. B. trong nước.
- C. trong buồng trứng của con cái. D. trong ống dẫn trứng của con cái.

Câu 8. Đặc điểm nào dưới đây có ở các đại diện của bộ Cá sấu?

- A. Có mai và yếm.
- B. Hàm rất dài, có nhiều răng lớn mọc trong lỗ chân răng.
- C. Trứng có màng dai bao bọc.
- D. Da ẩm ướt, không có vảy sừng.

Câu 9. Hình dạng thân của chim bồ câu hình thoi có ý nghĩa như thế nào?

- A. Giúp giảm trọng lượng khi bay.
- B. Giúp tạo sự cân bằng khi bay.
- C. Giúp giảm sức cản của không khí khi bay.
- D. Giúp tăng khả năng trao đổi khí của cơ thể khi bay.

Câu 10. Lông ống ở chim bồ câu có vai trò gì?

- A. Giữ nhiệt.
- B. Làm cho cơ thể chim nhẹ.
- C. Làm cho đầu chim nhẹ.
- D. Làm cho cánh chim khi dang ra có diện tích rộng.

Câu 11. Trong các loại chim sau, loài chim nào điển hình cho kiểu bay lượn?

- A. Bồ câu. B. Mòng biển. C. Gà rừng. D. Vẹt

Câu 12. Ở thỏ, bộ phận nào có vai trò đưa chất dinh dưỡng từ cơ thể mẹ vào phôi?

- A. Tử cung. B. Buồng trứng. C. Âm đạo. D. Nhau thai.

Câu 13. Hiện tượng thai sinh là

- A. hiện tượng đẻ con có nhau thai.
- B. hiện tượng đẻ trứng có nhau thai.
- C. hiện tượng đẻ trứng có dây rốn.
- D. hiện tượng đẻ con có dây rốn.

Câu 14. Phát biểu nào dưới đây về kanguru là đúng?

- A. Con non bú sữa chủ động trong lỗ sinh dục.
- B. Có chi sau và đuôi to khỏe.
- C. Con cái có vú nhưng chưa có tuyến sữa.
- D. Vừa sống ở nước ngọt, vừa sống ở trên cạn.

Câu 15. Thú mỏ vịt thường làm tổ ấp trứng

- A. ở trong cát.
- B. bằng lông nhô ra từ quanh vú.
- C. bằng đất khô.
- D. bằng lá cây mục.

B. CÂU HỎI TỰ LUẬN

Câu 1: Trình bày sự sinh sản và phát triển có biến thái ở ếch

Câu 2: Nêu vai trò của lưỡng cư đối với con người.

Câu 3: Trình bày đặc điểm sinh sản của chim bồ câu.

Câu 4: Hãy nêu ưu điểm của sự thai sinh so với đẻ trứng và noãn thai sinh

Câu 5: Trình bày đặc điểm cấu tạo của cá voi thích nghi với đời sống trong nước.

Câu 6: Chú thích H46.2; H49.1A; H49.2B

ĐỀ CƯƠNG ÔN TẬP KIỂM TRA GIỮA KỲ II NĂM HỌC 2021-2022 MÔN VẬT LÝ

I/ LÝ THUYẾT:

1. Nêu một hiện tượng hay một thí nghiệm chứng tỏ vật bị nhiễm điện do cọ xát?
2. Kể tên hai loại điện tích? Cho biết sự tương tác giữa các điện tích khi đặt chúng gần nhau.
3. Dòng điện là gì? Tác dụng của của nguồn điện?
4. Chất dẫn điện, chất cách điện là gì? Cho một vài ví dụ về chất dẫn điện, chất cách điện? Cho biết bản chất dòng điện trong kim loại?
5. Cho biết quy ước về chiều của dòng điện?

II/ BÀI TẬP:

1. Bài tập trắc nghiệm: Xem các bài trong SBT
2. Bài tập giải thích: Vận dụng kiến thức về cấu tạo chất để giải thích một số hiện tượng trong thực tế như các bài C1, C2, C3 – SGK (tr49), C6 – SGK (tr54)
3. Vẽ mạch điện và dung kí hiệu để chỉ ra dòng điện chạy trong mạch.

III/ MỘT SỐ BÀI TẬP VÍ DỤ

*** TRẮC NGHIỆM:**

Câu 1: Có 4 vật a, b, c, d đã được nhiễm điện. Nếu vật a hút b, b đẩy c, c đẩy d thì:

- A. Vật b và d có điện tích cùng dấu.
- B. Vật a và d có điện tích cùng dấu.
- C. Vật a và c có điện tích cùng dấu.
- D. Vật b và c có điện tích trái dấu.

Câu 2: Trong những cách sau đây, cách nào làm cho thước nhựa nhiễm điện?

- A. Thả thước nhựa vào cốc nước nóng.
- B. Chạm thước nhựa vào cục pin.
- C. Hơ nóng thước nhựa.
- D. Chà xát thước nhựa.

Câu 3: Phát biểu nào sau đây đúng khi nói về vật dẫn điện?

- A. Vật dẫn điện không chứa các hạt mang điện.
- B. Vật dẫn điện là vật có khối lượng riêng lớn.
- C. Vật dẫn điện là vật có khả năng nhiễm điện.
- D. Vật dẫn điện là vật có thể cho dòng điện chạy qua.

Câu 4: Trong chiếc cầu chì, bộ phận nào là vật dẫn điện?

- A. Dây chì, vỏ sứ.
- B. Dây chì, hai lá đồng.
- C. Dây chì, vỏ sứ, hai lá đồng.
- D. Vỏ sứ, hai lá đồng.

Câu 5: Vật liệu nào sau đây là vật dẫn điện:

- A. Dây đồng
- B. Giấy
- C. Nhựa
- D. Thủy tinh

Câu 6: Electron tự do có trong vật nào dưới đây?

- A. Một đoạn ống thủy tinh
- B. Một đoạn dây nhựa.
- C. Một đoạn dây nhôm.
- D. Một đoạn gỗ khô.

Câu 7: Dòng điện chạy qua vật nào dưới đây?

- A. Đồng hồ chạy pin lúc kim của nó đứng yên
- B. Bóng đèn điện đang sáng.
- C. Thước nhựa đang bị nhiễm điện âm.
- D. Một cái bút chì.

Câu 8: Chất nào dẫn điện tốt nhất trong số các chất dưới đây?

- A. Nhôm
- B. Đồng
- C. Sắt
- D. Vàng

Câu 9: Vật nào không có dòng điện chạy qua?

- A. Quạt điện đang quay liên tục.
- B. Đèn điện đang sáng.
- C. Ra dio đang nói.
- D. Thước nhựa bị nhiễm điện.

Câu 10: Electron tự do có trong vật nào dưới đây?

- A. Mảnh vải khô.
- B. Mảnh đồng.
- C. Mảnh nhựa.
- D. Một mảnh ni lông.

Câu 11: Đưa hai quả cầu nhựa nhiễm điện cùng loại lại gần nhau thì giữa chúng có sự tương tác như thế nào?

- A. Lúc đầu hút, lúc sau đẩy.
- B. Có lúc hút, có lúc đẩy.
- C. Hút nhau.
- D. Đẩy nhau.

Câu 12: Vật nào sau đây được coi là vật cách điện:

- A. Một đoạn ruột bút chì
- B. Một đoạn dây thép.
- C. Một đoạn dây nhôm
- D. Một đoạn gỗ khô

Câu 13: Nói kim loại là chất dẫn điện tốt vì?

- A. Kim loại được sản xuất nhiều.
- B. Kim loại là vật liệu đắt tiền.
- C. Trong kim loại có nhiều electron tự do.
- D. Kim loại có khối lượng riêng lớn.

Câu 14: Chiều dòng điện được quy ước là chiều:

- A. Từ cực dương qua dây dẫn và dụng cụ điện tới cực âm của nguồn.
- B. Chuyển dời có hướng của các điện tích.
- C. Dịch chuyển của các electron.
- D. Từ cực âm qua dây dẫn và dụng cụ điện tới cực dương của nguồn.

Câu 15: Trong mạch điện, chiều dòng điện và chiều dịch chuyển của các electron tự do có mối quan hệ gì với nhau? Chọn câu trả lời đúng.

- A. Cùng chiều
- B. Ban đầu thì cùng chiều, sau một thời gian lại ngược chiều

C. Chuyển động theo hướng vuông góc

D. Ngược chiều

* **TỰ LUẬN:**

Câu 1: Vì sao vào những ngày hanh khô, khi chải tóc khô bằng lược nhựa thì nhiều sợi tóc bị lược nhựa hút kéo thẳng ra

Câu 2. Tại sao các dụng cụ để sửa chữa của thợ điện (kìm, tuốc nơ vít...) ở chỗ tay cầm thường có bọc nhựa hoặc cao su?

Câu 3: Vì sao sau một thời gian hoạt động thường xuyên, cánh quạt lại dính nhiều bụi?

Câu 4: a/Vẽ sơ đồ mạch điện của đèn pin bao gồm: hai nguồn điện nối tiếp, một công tắc đóng, một bóng đèn.

b/ Dùng mũi tên xác định chiều dòng điện trong mạch khi công tắc đóng.