

## NỘI DUNG ÔN TẬP THI CUỐI KỲ II MÔN ANH 6

### A. GRAMMAR & VOCABULARY

- Articles
- Preposition of place
- Preposition of time
- Imperatives
- Past simple tense
- Modals "should", "can"
- Compound sentences with "so"
- Future simple tense
- Indefinite quantifiers
- "Might" for future possibilities
- First conditional sentences
- Comparative and superlative adjectives
- Vocabulary in Unit 6-10

### B. EXERCISES

#### I. Choose the word whose underlined part is pronounced differently from others.

- |                          |                          |                     |                       |
|--------------------------|--------------------------|---------------------|-----------------------|
| 1. A. parents <u>g</u>   | B. tables <u>g</u>       | C. chairs <u>g</u>  | D. boys <u>g</u>      |
| 2. A. clo <u>s</u> e     | B. hou <u>s</u> e        | C. dan <u>c</u> e   | D. sens <u>i</u> tive |
| 3. A. shou <u>l</u> ders | B. cou <u>ch</u> es      | C. bus <u>e</u> s   | D. hou <u>s</u> es    |
| 4. A. pho <u>n</u> es    | B. stud <u>e</u> nts     | C. gard <u>e</u> ns | D. bedroo <u>m</u> s  |
| 5. A. rea <u>s</u> on    | B. oppo <u>s</u> ite     | C. sea <u>s</u> on  | D. <u>s</u> tress     |
| 6. A. is <u>l</u> and    | B. <u>s</u> ilent        | C. dec <u>i</u> de  | D. po <u>s</u> ter    |
| 7. A. pag <u>o</u> da    | B. co <u>m</u> b         | C. so <u>f</u> a    | D. cho <u>s</u> e     |
| 8. A. Dec <u>e</u> mber  | B. <u>c</u> entury       | C. <u>c</u> ook     | D. <u>c</u> inema     |
| 9. A. kno <u>w</u>       | B. clo <u>s</u> e        | C. <u>t</u> own     | D. so <u>f</u> a      |
| 10. A. hou <u>s</u> es   | B. toothbr <u>u</u> shes | C. stor <u>e</u> s  | D. gl <u>a</u> sses   |

#### II. Choose the word which has a different stress pattern from the others.

- |                  |                 |                |                |
|------------------|-----------------|----------------|----------------|
| 1. A. palace     | B. houseboat    | C. motorhome   | D. machine     |
| 2. A. fantastic  | B. exciting     | C. interesting | D. polluted    |
| 3. A. expensive  | B. useful       | C. costly      | D. noisy       |
| 4. A. decorate   | B. celebrate    | C. fascinate   | D. unfortunate |
| 5. A. delicious  | B. exciting     | C. beautiful   | D. reliable    |
| 6. A. eraser     | B. neighborhood | C. religion    | D. apartment   |
| 7. A. furniture  | B. relative     | C. apricot     | D. tradition   |
| 8. A. cathedral  | B. opera        | C. office      | D. hospital    |
| 9. A. piano      | B. blanket      | C. pillow      | D. towel       |
| 10. A. apartment | B. wardrobe     | C. kitchen     | D. bungalow    |

#### III. Choose the best answer A, B, C or D to complete the sentence.

1. "\_\_\_\_\_ is the film "Harry Potter?" – "It is very mysterious and thrilling."  
A. Who                      B. What                      C. When                      D. How
2. There are many chairs in the kitchen, \_\_\_\_\_ there is only one in my bedroom.  
A. so                          B. because                      C. but                          D. in
3. \_\_\_\_\_ draw on the walls and tables, please.  
A. Do                          B. Don't                          C. Should                      D. Shouldn't
4. I last \_\_\_\_\_ her at the market two \_\_\_\_\_ ago.  
A. see/ days                  B. see/ hour                      C. saw/ day                      D. saw/ hours
5. Her shirt is white, and \_\_\_\_\_ is blue.  
A. I                              B. me                              C. my                              D. mine
6. "Some experts say robots will be smarter than humans within two decades."  
"\_\_\_\_\_". A robot is just a machine, I think."  
A. Not for me.                  B. I totally disagree.              C. Never mind                      D. I agree

7. I'm still not sure where to go for my holiday. I \_\_\_\_\_ go to Da Lat.  
A. should                      B. will                      C. might                      D. must
8. Danny wanted \_\_\_\_\_ unique present for Christmas  
A. a                      B. an                      C. the                      D. some
9. If the train is late, we \_\_\_\_\_ to the office.  
A. walk                      B. walked                      C. is walking                      D. will walk
10. Many people are interested in living \_\_\_\_\_ the planet Mars.  
A. on                      B. in                      C. at                      D. of
11. Do you watch *Frozen*, the popular \_\_\_\_\_ for children?  
A. game show                      B. viewer                      C. character                      D. animated film
12. There's something wrong with the car. We'd better stop \_\_\_\_\_ the next garage.  
A. in                      B. at                      C. on                      D. up
13. It \_\_\_\_\_ rain this evening. Why don't you take an umbrella?  
A. had better                      B. might                      C. could be                      D. should
14. Diana is in the sports club. She likes doing karate and practices one hour a day. She is very \_\_\_\_\_.  
A. shy                      B. sporty                      C. funny                      D. creative
15. "Will robots be more and more expensive?" – " \_\_\_\_\_ Prices will become cheaper over time."  
A. Sure.                      B. Sounds great!                      C. Not at all                      D. I think so.
16. To \_\_\_\_\_ waste we should avoid buying products with a lot of packaging.  
A. reduce                      B. reuse                      C. recycle                      D. remake
17. "My dream house will have 20 rooms and a solar energy system to create electricity!"  
" \_\_\_\_\_"  
A. Sounds great!                      B. What a shame!                      C. Yes, you're right!                      D. It looks very useful!
18. He \_\_\_\_\_ tomatoes before because of the smell. But now, he enjoys eating it.  
A. like                      B. liked                      C. didn't like                      D. did like
19. Jane has already finished her meal, but I'm saving \_\_\_\_\_ for later.  
A. hers                      B. her                      C. mine                      D. my
20. I'm going to the grocery store. I think I \_\_\_\_\_ a turkey.  
A. bought                      B. buy                      C. am buying                      D. will buy
21. Our school's final test is \_\_\_\_\_ than the midterm test.  
A. difficult                      B. not as difficult as                      C. more difficult                      D. the most difficult
22. Mermaids' house is \_\_\_\_\_ the ocean; they can play with the fish whenever they want.  
A. in                      B. at                      C. above                      D. on
23. There are billions of stars in \_\_\_\_\_ space.  
A. a                      B. an                      C. the                      D. some
24. If the class \_\_\_\_\_ full, we will find another one.  
A. are                      B. is                      C. will be                      D. was
25. Which city is \_\_\_\_\_, Ha Noi or Ho Chi Minh City?  
A. large                      B. larger                      C. largest                      D. the largest
26. Don't forget to bring a \_\_\_\_\_. It will keep you warm when you sleep at the campsite.  
A. flashlight                      B. towel                      C. sleeping bag                      D. battery
27. \_\_\_\_\_ is special clothing to wear when astronauts work outside in space.  
A. Space station                      B. Gravity                      C. Spaceship                      D. Spacesuit
28. In the future, automatic food machines \_\_\_\_\_ all our food.  
A. might make                      B. will be                      C. have                      D. prepares
29. Your parents \_\_\_\_\_ angry if you \_\_\_\_\_ playing computer games.  
A. are/ won't stop                      B. will be/ don't stop  
C. will be/ won't stop                      D. will be/ stop
30. You \_\_\_\_\_ eat so many sweets. They aren't good for you.

- A. have to                      B. need                      C. can                      D. shouldn't
31. \_\_\_\_\_ is a piece of land with water all around it.  
A. An island                      B. A bay                      C. A waterfall                      D. A mountain
32. We should \_\_\_\_\_ some books so we have something to read  
A. bringing                      B. bring                      C. to bring                      D. to bringing
33. The weather was really nice, \_\_\_\_\_ we went out for a walk in the park.  
A. but                      B. so                      C. or                      D. and
34. What does the sign mean?



- A. You can't drop litter here.  
B. You need to drop litter here.  
C. You might drop litter here.  
D. There is litter here.

35. What does the sign mean?



- A. You don't have to touch anything here.  
B. Please don't touch anything here.  
C. There isn't anything here.  
D. You can't see anything here.

**IV. Choose A, B, C or D to indicate the word(s) CLOSEST in meaning to the underlined word(s) in each of the following questions.**

1. Phu Quoc island and Lang Co bay are famous for their delicious seafood.  
A. beautiful                      B. well-known                      C. great                      D. good
2. Mary likes being close to stores, movie theatre and schools, so she should live in a megacity.  
A. big city                      B. big town                      C. big countryside                      D. small city
3. We have to protect our rainforests.  
A. keep safe                      B. make bigger                      C. make smaller                      D. keep unsafe

**V. Mark the letter A, B, C or D on your answer sheet to indicate the underlined part that needs correction in each of the following questions.**

1. I thinks a lot of people will live underground in the future.  
A                      B                      C                      D
2. You can go swimming and build sandcastles at the mountain.  
A                      B                      C                      D
3. My parents was in the movie theatre yesterday.  
A                      B                      C                      D
4. Don't throws away glass jars and old newspapers.  
A                      B                      C                      D
5. We need to bring flashlights, but we can see at night.  
A                      B                      C                      D

**VI. Choose A, B, C or D to indicate the word(s) OPPOSITE in meaning to the underlined word(s) in each of the following questions.**

1. The train station is far from the post office.  
A. near                      B. opposite                      C. between                      D. under
2. I like science fiction movies. It's so interesting .  
A. wonderful                      B. boring                      C. great                      D. sad
3. We need to bring sleeping bags so we don't get cold at night.

- A. go                                      B. feel                                      C. make                                      D. think

**VII. Mark the letter A, B, C or D on your answer sheet to indicate the most suitable response to complete each of the following exchanges.**

- Tom: "How do you use a toilet in space?" – Toby: "....."  
 A. I have to use a special toilet.  
 B. The toilet is beautiful.  
 C. No, I don't use it.  
 D. Yes, it's great.
- Hoang: "Where should I go for my vacation?" – Linh: "....."  
 A. I should go for my vacation.  
 B. You went to Phu Quoc island last week.  
 C. Yes, I will go to Lang Co bay.  
 D. You should go to Ha Long bay. It's very beautiful.
- Quan: "What are you doing on Saturday?" – Phong: "....."  
 A. I am visiting Thu Le zoo in the morning.  
 B. I love Saturday.  
 C. No, I don't like it.  
 D. Yes, I will go to Thu Le zoo.
- Mary: "Do you like science fiction movies?" – Toby: "....."  
 A. Yeah, I do.                                      B. Thank you.  
 C. It's my pleasure.                                      D. No, I like science fiction movies so much.
- Linda: "I think they will be earthscrapers." - Tom: "....."  
 A. It's great.  
 B. It's a good idea.  
 C. Sorry, I don't understand.  
 D. Earthscrapers are big apartment buildings under the ground.

**VIII. READING**

**Ex 1: Read the passage, then choose the correct answer.**

People need to breath. If they don't breath, they (1)..... die. But how clean is the air people breathe? If they breathe (2)..... air, they will have breathing problems. Plant and animals need (3)..... air, too. A lot of things in our lives create harmful gases and (4)..... the air dirty, like cars, motorbikes, and factories. Dirty air is called polluted air. Air pollution can also make our Earth warmer.

- |             |          |            |             |
|-------------|----------|------------|-------------|
| 1. A. must  | B. are   | C. will    | D. won't    |
| 2. A. fresh | B. clean | C. cleaner | D. dirty    |
| 3. A. clean | B. safe  | C. dirty   | D. polluted |
| 4. A. get   | B. make  | C. give    | D. made     |

**Ex 2: Read and fill in the blanks.**

**Tom:** Hi there.

**Ben:** Hello Tom. Did you enjoy your holiday?

**Tom:** Yes, It (1. be) ..... great. I (2. visit) ..... many interesting places, but I (3. not have) ..... much time to buy souvenirs. I went to the beach and sunbathed at weekend. How about your trip to England?

**Ben:** Oh, It (4. not be) ..... so good

- |                  |                |            |                |
|------------------|----------------|------------|----------------|
| 1. A. was        | B. were        | C. is      | D. be          |
| 2. A. visit      | B. was visit   | C. visited | D. has visited |
| 3. A. don't have | B. didn't have | C. not had | D. didn't has  |
| 4. A. wasn't     | B. weren't     | C. am not  | D. not was     |

**Ex 3: Read the passage and answer the below questions.**

My name is Smith and fishing is my favorite sport. I often go fishing for hours without catching anything. But this doesn't worry me. Some fishermen are unlucky. Instead of catching anything, not even old boots. After spending the whole morning on the river, I always go home with an empty bag. "You should give up fishing", my friends said. "It's a waste of time". But they don't know that I'm not really interested in fishing. I'm only interested in sitting in a boat and doing nothing at all!

1. When he was fishing, he often catches .....  
A. old boots            B. rubbish            C. a lot of fish            D. nothing
2. When does he usually go fishing?  
A. in the morning    B. in the evening    C. in the afternoon    D. at noon
3. What do Smith's friends advise him?  
A. go fishing at night            B. stop fishing  
C. spend more time on fishing    D. spend less time on fishing
4. Where does Smith sit to fish?  
A. on the river bank            B. in a boat  
C. at a large lake            D. in the sea
5. What does Smith do when he fishes?  
A. Read books            B. Listen to music  
C. Does nothing            D. Talks to other fishermen

**Ex 4: Read the passage, and then choose the correct answers.**

San Francisco, a very hilly city, is in the Francisco Bay. Although there are many modern skyscrapers in the city center, houses in the suburbs are in the styles of the 19<sup>th</sup> century.

The celebration of the Chinese New Year in San Francisco's Chinatown is one thing that you should not miss.

You can find the best food from around the world: Brazilian, Indian, Japanese, Korean, Mexican, Russian, Thai, Chinese and much more. Don't forget to visit a jazz club or an outdoor coffee shop to enjoy good coffee and fresh air. You should visit Mission Dolores, an old church built by the Spanish in the 18<sup>th</sup> century.

1. Which of the following sentences is true about San Francisco?  
A. San Francisco is not a very hilly city.  
B. San Francisco is not in the San Francisco Bay.  
C. San Francisco has only old houses.  
D. San Francisco is a city with modern skyscrapers in the city center.
2. What is the second paragraph about?  
A. nightlife            B. festivals            C. scenery            D. architecture
3. Where can we have coffee and enjoy fresh air?  
A. Chinatown            B. Old houses            C. Churches            D. Outdoor coffee shops
4. Which of the following sentences is NOT true about San Francisco?  
A. San Francisco is in the San Francisco Bay.  
B. The celebration of the Chinese New Year in San Francisco's Chinatown is very interesting.  
C. You can only enjoy American and Chinese food in San Francisco.  
D. You should enjoy jazz at a jazz club in San Francisco.
5. By whom was Mission Dolores built in the 18<sup>th</sup> century?  
A. By people from Germany.            B. By people from Spain  
C. By people from Brazil.            D. By people from Europe.

**IX. Write the questions for the underlined words.**

1. \_\_\_\_\_?

Mount Everest is the highest mountain in the world.

2. \_\_\_\_\_ ?

The Grand Canyon is in Arizona, USA.

3. \_\_\_\_\_ ?

The Eiffel Tower first opened on 6<sup>th</sup> May 1889.

4. \_\_\_\_\_ ?

I went to London in my last vacation.

5. \_\_\_\_\_ ?

The weather in London was very cloudy and windy.

**X. Circle the correct option.**

1. My mother / make / a big meal / tonight.
  - A. My mother will make a big meal tonight.
  - B. My mother will to make a big meal tonight.
  - C. My mother will makes a big meal tonight.
  - D. My mother will make a big meal at tonight.
2. Our / future houses / use / solar energy.
  - A. Our future houses probably might use solar energy.
  - B. Our future houses might use solar energy.
  - C. Our future houses might to use solar energy.
  - D. Our future houses might to not use solar energy.
3. With / smart TV / you / see / friends / other / countries.
  - A. With smart TV, you can see friends from other countries.
  - B. With smart TV, you can to see friends from other countries.
  - C. With smart TV, you can sees friends from other countries.
  - D. With smart TV, you can see friends from other countries.
4. She/ tired/ but/ she/ come/ class/ yesterday.
  - A. She was tired, but she came to class yesterday.
  - B. She was tired but came to class yesterday.
  - C. She were tired, but she came to class yesterday.
  - D. She were tired but came to class yesterday.
5. He /angry /her/ so/ he/ not/ say a word.
  - A. He was angry her, so he didn't say a word.
  - B. He was angry with her, so he say a word.
  - C. He was angry with her, so he not say a word.
  - D. He was angry with her, so he didn't say a word.
6. You press this button to stop the machine.
  - A. If you want to stop the machine, press this button.
  - B. If you wants to stop the machine, press this button.
  - C. If you want to stop the machine, presses this button.
  - D. If you want stop the machine, press this button.
7. In Vietnam, April is hotter than any other months of the year.
  - A. In Vietnam, April is the hottest months of the year.
  - B. In Vietnam, April is the hottest month of the year.
  - C. In Vietnam, April is the hottest month of the year.
  - D. In Vietnam, April is hottest month of the year.
8. Tokyo is among the largest cities in the world.
  - A. Tokyo is one of the largest cities in the world.

- B. Tokyo is one of the largest city in the world.  
 C. Tokyo is one of the large cities on the world.  
 D. Tokyo is one of the largest cities on the world.
9. I want to have a great teacher. I will learn better.  
 A. If I have a great teacher, I will learn better.  
 B. If I have a great teacher, I learn better.  
 C. If I had a great teacher, I will learn better.  
 D. If I had a great teacher, I learn better.
10. Maybe he will participate in this recycling campaign.  
 A. He probably participated in this recycling campaign.  
 B. He will participates in this recycling campaign.  
 C. He will probably participate in this recycling campaign.  
 D. He will probably to participate in this recycling campaign.

### SPEAKING

**Topic 1:**

What movie genre do you like? Why?  
 What is your least favourite movie genre?  
 What is your favourite movie? Why?  
 Who is your favourite character? Why?

**Topic 2:**

Do you play any sport? What is it?  
 What do you need to play football?  
 What is the most popular sport in Vietnam?

**Topic 3:**

What continent do you live on?  
 Can you name 2 continents?  
 Can you name 2 countries in Asia?  
 What is the weather like in Africa?

**Topic 4:**

Which type of home do you like?  
 What smart appliances can we have in our homes?

### NỘI DUNG ÔN TẬP THI CUỐI KỲ II MÔN ÂM NHẠC 6

1. Ôn tập bài hát:
  - + Mùa xuân em tới trường
  - + Lá thuyền ước mơ
  - + ước mơ xanh
  - +Đi cắt lúa
2. Ôn tập đọc nhạc số 4,5,6,7.

### NỘI DUNG ÔN TẬP THI CUỐI KỲ II MÔN CÔNG NGHỆ 6

**Phần 1. Nội dung kiến thức cần ôn tập**

**1. Các đơn vị kiến thức đã học từ tuần 19 đến hết tuần 31**

- Bài 8: Sử dụng và bảo quản trang phục
- Bài 9: Thời trang

- Bài 10: Khái quát về đồ dùng điện trong gia đình
- Bài 11: Đèn điện
- Bài 12: Nồi cơm điện
- Bài 13: Bếp hồng ngoại

## **2. Một số câu hỏi trong tâm**

Câu 1. Trình bày các nguyên tắc phối hợp trang phục dựa trên vòng màu. Nếu quần màu xanh lục thì nên lựa chọn áo màu gì cho phù hợp.

Câu 2. Nêu khái niệm đồ dùng điện trong gia đình. Kể tên một số đồ dùng điện

Câu 3. Thông số kỹ thuật của đồ dùng điện là gì? Lấy ví dụ các đại lượng cụ thể cho từng thông số.

Câu 4. Khi sử dụng đồ dùng điện trong gia đình cần lưu ý những gì để đảm bảo an toàn cho người sử dụng

Câu 5. Trình bày cấu tạo của nồi cơm điện. Nêu nguyên lý hoạt động của nồi cơm điện.

Câu 6. Trình bày những bước cơ bản khi sử dụng bếp hồng ngoại.

## **Phần 2. Hình thức ra đề:**

50 % trắc nghiệm; 50% tự luận.

## **Phần 3. Một số câu hỏi trắc nghiệm**

**Câu 1. Vị trí số 2 là bộ phận nào của bếp hồng ngoại?**

- A. Mặt bếp
- B. Bảng điều khiển
- C. Thân bếp
- D. Mâm nhiệt hồng ngoại

**Câu 2. Để tạo cảm giác béo ra, thấp xuống cho người mặc, không lựa chọn chất liệu vải nào đây?**

- A. Vải cứng
- B. Vải dãn
- C. Vải mềm vừa phải
- D. Vải mềm mỏng

**Câu 3. Loại trang phục nào có kiểu dáng đơn giản, gọn gàng, dễ mặc, dễ hoạt động; có màu sắc hài hòa; thường được may từ vải sợi pha?**

- A. Trang phục đi học
- B. Trang phục lao động
- C. Trang phục dự lễ hội
- D. Trang phục ở nhà

**Câu 3. “Cần phối hợp trang phục một cách đồng bộ, hài hòa về ... của quần áo cùng với một số vật dụng khác”. Chọn đáp án cần điền vào chỗ trống?**

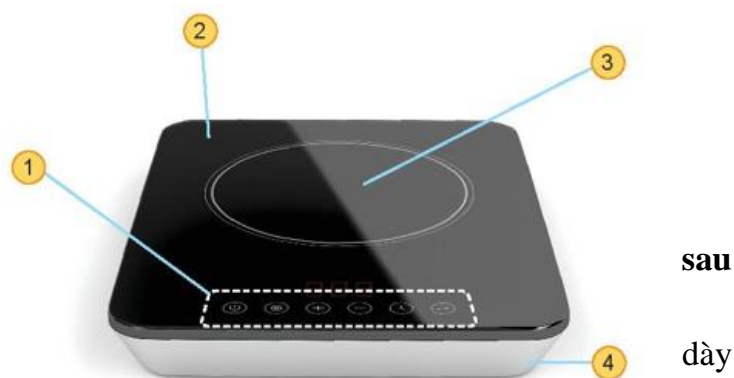
- A. Màu sắc
- B. Họa tiết
- C. Kiểu dáng
- D. Màu sắc, họa tiết, kiểu dáng

**Câu 4. Sử dụng bếp hồng ngoại theo mấy bước?**

- A. 1
- B. 2
- C. 3
- D. 4

**Câu 5. Ta sẽ ấn nút nguồn trên bếp hồng ngoại khi thực hiện bước nào sau đây?**

- A. Chuẩn bị
- B. Bật bếp





C. Tắt bếp  
D. Bật bếp và tắt bếp

**Câu 6. Ý nghĩa của phong cách thời trang là:**

- A. Tạo nên vẻ đẹp cho từng cá nhân
- B. Tạo nên nét độc đáo cho từng cá nhân
- C. Tạo nên vẻ đẹp hoặc nét độc đáo cho từng cá nhân
- D. Tạo nên vẻ đẹp và nét độc đáo riêng cho từng cá nhân

**Câu 7. Căn cứ để lựa chọn phong cách thời trang là gì?**

- A. Căn cứ vào tính cách người mặc.
- B. Căn cứ vào sở thích người mặc.
- C. Căn cứ vào tính cách hoặc sở thích người mặc
- D. Căn cứ vào tính cách và sở thích người mặc.

**Câu 8. Phong cách thể thao được sử dụng cho:**

- A. Nhiều đối tượng khác nhau
- B. Nhiều lứa tuổi khác nhau
- C. Nhiều đối tượng và lứa tuổi khác nhau
- D. Chỉ sử dụng cho người có điều kiện.

**Câu 9. Phong cách dân gian:**

- A. Mang vẻ hiện đại
- B. Đậm nét văn hóa của mỗi dân tộc
- C. Vừa mang vẻ đẹp hiện đại, vừa đậm nét văn hóa của mỗi dân tộc.
- D. Cổ hủ, lỗi thời.

**Câu 10. Phong cách dân gian mang đặc trưng về:**

- A. Hoa văn
- B. Chất liệu
- C. Kiểu dáng
- D. Hoa văn, chất liệu, kiểu dáng

**Câu 11. Phát biểu sau đây nói về phong cách nào?**

***“Trang phục có hình thức giản dị, nghiêm túc, lịch sự”***

- A. Phong cách cổ điển
- B. Phong cách thể thao
- C. Phong cách dân gian
- D. Phong cách lãng mạn

**Câu 12. Thông số kĩ thuật của đồ dùng điện được chia làm mấy loại?**

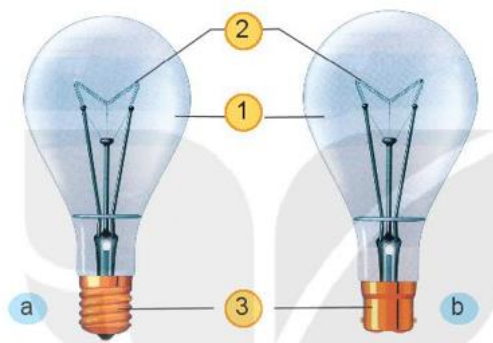
- A. 1
- B. 2
- C. 3
- D. 4

**Câu 13. Đại lượng điện định mức chung của đồ dùng điện thường có mấy đại lượng?**

- A. 1
- B. 2
- C. 3
- D. 4

**Câu 14. Đại lượng điện định mức chung của đồ dùng điện là:**

- A. Điện áp định mức
- B. Công suất định mức
- C. Điện áp hoặc công suất định mức
- D. Điện áp định mức và công suất định mức



**Câu 15. Theo em, tại sao phải lưu ý đến các thông số thuật?**

- A. Để lựa chọn đồ dùng điện cho phù hợp
- B. Sử dụng đúng yêu cầu kỹ thuật
- C. Lựa chọn đồ dùng điện phù hợp và sử dụng đúng yêu cầu kỹ thuật.
- D. Không cần phải chú ý đến thông số kỹ thuật.

**Câu 16. An toàn khi sử dụng đồ dùng điện phải đảm bảo mấy yếu tố?**

- A. 1
- B. 2
- C. 3
- D. 4

**Câu 17. Để đảm bảo an toàn cho đồ dùng điện, cần:**

- A. Đặt đồ dùng điện trên bề mặt ổn định
- B. Cố định chắc chắn
- C. Đặt đồ dùng điện trên bề mặt ổn định hoặc cố định chắc chắn.
- D. Vận hành đồ dùng điện theo cảm tính.

**Câu 18. Tại sao phải xử lý đúng cách đối với các đồ dùng điện khi không sử dụng nữa?**

- A. Tránh tác hại ảnh hưởng đến môi trường.
- B. Tránh ảnh hưởng đến sức khỏe con người.
- C. Tránh ảnh hưởng đến môi trường và sức khỏe con người.
- D. Không cần thiết.

**Câu 19. Bóng đèn sợi đốt cấu tạo gồm mấy bộ phận chính?**

- A. 1
- B. 2
- C. 3
- D. 4

**Câu 20. Hãy cho biết tên của vị trí số 1 trong hình sau:**

- A. Bóng thủy tinh
- B. Sợi đốt
- C. Đuôi đèn
- D. Dây điện

**Câu 21. Cấu tạo của bóng đèn huỳnh quang gồm mấy bộ phận chính?**

- A. 1
- B. 2
- C. 3
- D. 4

**Câu 22. Hình dạng của bóng đèn compact là:**

- A. Hình chữ U
- B. Hình dạng ống xoắn
- C. Hình chữ U hoặc hình dạng ống xoắn
- D. Hình tròn

**Câu 23. Một bóng đèn LED có thông số kỹ thuật như sau: 110V – 5W. Hỏi bóng đèn đó có công suất định mức là bao nhiêu?**

- A. 110 W
- B. 5 W
- C. 110 W hoặc 5 W
- D. 100W và 5 W

**Câu 24. Cấu tạo của nồi cơm điện gồm mấy bộ phận chính?**

kĩ  
câu

- A. 3                      B. 4                      C. 5                      D. 6

**Câu 25. Khi lựa chọn nồi cơm điện cần quan tâm đến:**

- A. Dung tích nồi    B. Chức năng của nồi  
C. Dung tích và chức năng của nồi                      D. Sở thích

**Câu 26. Nấu cơm bằng nồi cơm điện ta thực hiện mấy bước?**

- A. 1                      B. 2                      C. 3                      D. 4

**Câu 27. Khi nấu cơm cần lưu ý gì?**

- A. Không dùng vật cứng lau chùi nồi nấu  
B. Không dùng vật nhọn chà sát trong nồi nấu  
C. Không dùng vật cứng, nhọn chà sát, lau chùi bên trong nồi nấu.  
D. Không lưu ý gì.

**Câu 28. Khi sử dụng nồi cơm điện tránh việc làm nào sau đây?**

- A. Đặt nồi cơm điện nơi khô ráo.  
B. Dùng tay che van thoát hơi của nồi cơm điện khi đang nấu  
C. Không dùng tay che van thoát hơi của nồi cơm điện khi đang nấu  
D. Không mở nắp nồi để kiểm tra cơm khi đang nấu

**Câu 29. Bộ phận nào của nồi cơm điện được phủ lớp chống dính?**

- A. Nắp nồi                      B. Thân nồi  
C. Nồi nấu                      D. Bộ phận điều khiển

**Câu 30. Sử dụng bếp hồng ngoại không được làm việc nào sau đây?**

- A. Đặt bếp nơi thoáng mát  
B. Có thể chạm tay lên mặt bếp khi vừa nấu xong  
C. Sử dụng khăn mềm để lau bề mặt bếp  
D. Sử dụng chất tẩy rửa phù hợp để lau mặt bếp

---

### NỘI DUNG ÔN TẬP THI CUỐI KỲ II MÔN TIN HỌC 6

**Câu 1:** Sơ đồ tư duy là gì?

- A. Một sơ đồ trình bày thông tin trực quan bằng cách sử dụng từ ngữ ngắn gọn, hình ảnh, các đường nối để thể hiện các khái niệm và ý tưởng  
B. Văn bản của một vở kịch, bộ phim hoặc chương trình phát sóng  
C. Bản vẽ kiến trúc một ngôi nhà  
D. Một sơ đồ hướng dẫn đường đi

**Câu 2:** Để tạo sơ đồ tư duy em cần phải:

- A. vẽ chủ đề chính ở bên phải tờ giấy để tiện kết nối chủ đề chính với các chủ đề phụ  
B. tạo nhánh từ các chủ đề phụ  
C. thêm từ khóa, tạo các nhánh và chọn màu khác nhau

D. xác định chủ đề chính, tạo nhánh, thêm từ khóa và chọn màu khác nhau cho nhánh.

**Câu 3:** Phát biểu nào không phải là ưu điểm của việc tạo sơ đồ tư duy bằng phần mềm máy tính?

- A. Có thể sắp xếp, bố trí với không gian rộng mở, dễ sửa chữa, thêm bớt nội dung
- B. Có thể chia sẻ được cho nhiều người
- C. Có thể làm ở bất cứ đâu, không cần công cụ hỗ trợ
- D. Có thể kết hợp và chia sẻ để sử dụng cho các phần mềm máy tính khác

**Câu 4:** Sơ đồ tư duy gồm các thành phần:

- A. Bút, giấy, mực
- B. Phần mềm máy tính
- C. Từ ngữ ngắn gọn, hình ảnh, đường nối, màu sắc, ...
- D. Con người, đồ vật, khung cảnh, ...

**Câu 5:** Nhược điểm của việc tạo sơ đồ tư duy theo cách thủ công là gì?

- A. Khó sắp xếp, bố trí nội dung
- B. Hạn chế khả năng sáng tạo
- C. Không linh hoạt để có thể làm ở bất cứ đâu, đòi hỏi công cụ khó tìm kiếm
- D. Không dễ dàng trong việc mở rộng, sửa chữa và chia sẻ cho nhiều người

**Câu 6:** Phát biểu nào sai về việc tạo sơ đồ tư duy tốt?

- A. Các đường kẻ càng ở gần hình ảnh trung tâm thì càng nên tô màu đậm hơn và kích thước dày hơn
- B. Nên dùng các đường kẻ cong thay vì các đường thẳng
- C. Nên bố trí thông tin đều quanh hình ảnh trung tâm
- D. Không nên sử dụng màu sắc trong sơ đồ tư duy vì màu sắc làm người xem mất tập trung vào vấn đề chính

**Câu 7:** Trong sơ đồ tư duy sau:



Trong sơ đồ trên có bao nhiêu chủ đề nhánh:

- A. 2
- B. 3
- C. 4
- D. 5

**Câu 8:** World Wide Web là gì ?

- A. Một trò chơi máy tính.
- B. Một phần mềm máy tính.

C. Một hệ thống các website trên Internet cho phép người sử dụng xem và chia sẻ thông tin qua các trang web được liên kết với nhau.

- D. Tên khác của Internet

**Câu 9:** Phần mềm giúp người sử dụng truy cập các trang web trên Internet gọi là gì ?

- A. Trình duyệt web
- B. Địa chỉ web
- C. Website
- D. Công cụ tìm kiếm

**Câu 10:** Cách nhanh nhất để tìm thông tin trên WWW mà không biết địa chỉ là

- A. Hỏi địa chỉ người khác rồi ghi ra giấy, sau đó nhập địa chỉ vào thanh địa chỉ
- B. Nhờ người khác tìm hộ
- C. Di chuyển lần theo đường liên kết của các trang web
- D. Sử dụng máy tìm kiếm để tìm kiếm với từ khóa

**Câu 11:** Tên nào sau đây là tên của máy tìm kiếm ?

- A. Word
- B. Excel
- C. Internet
- D. Google

**Câu 12:** Để tìm kiếm thông tin về virus Corona, em sử dụng từ khóa nào sau đây để thu hẹp phạm vi tìm kiếm nhất ?

- A. Corona
- B. Virus Corona
- C. "Virus Corona"
- D. "Virus"

**Câu 13:** Đâu không phải là thành phần trên trình duyệt:

- A. Nhập trên thông tin trên thanh địa chỉ
- B. Thanh lệnh đơn điều khiển
- C. Ô tìm kiếm thông tin;
- D. Nút Turn on

**Câu 14:** Cuốn sách của các em được gọi là?

- A. Dữ liệu;
- B. Vật mang tin;
- C. Không phân biệt được;
- D. Thông tin

**Câu 15:** Quá trình xử lý thông tin của con người gồm mấy bước?

- A. 1
- B. 2
- C. 3
- D. 4

**Câu 16:** Quá trình xử lý thông tin của máy tính gồm mấy bước?

- A. 1
- B. 2
- C. 3
- D. 4

**Câu 17:** Em hãy cho biết Internet là gì?

- A. Mạng nội bộ
- B. Mạng liên kết các mạng máy tính trên khắp thế giới.
- C. Mạng xã hội
- D. Zalo

**Câu 18:** Thư điện tử còn được gọi là gì?

- A. Email
- B. Tin nhắn
- C. Trang web
- D. Máy tìm kiếm

**Câu 19:** Đơn vị nào dưới đây dùng để đo lường thông tin?

- A. KG
- B. KB
- C. HB
- D. DB

**Câu 20:** Biểu diễn thông tin trong máy tính bằng:

- A. Chữ; B. Ký tự đặc biệt;  
C. Bảng dãy chữ số thập phân 0 và 1; D. Bảng hình ảnh

**Câu 21:** Tại sao phải dùng đơn vị đo thông tin trong máy tính:

- A. Để xem cho biết; B. Để so sánh các tệp với nhau;  
C. Không có ý nghĩa; D. Để chọn thiết bị lưu trữ phù hợp.

**Câu 22:** Thông tin về dung lượng ổ cứng trong máy tính có ý nghĩa gì?

- A. Ổ đĩa sắp đầy; B. Dọn dẹp máy tính;  
C. Chép dữ liệu qua ổ cứng khác; D. Cả A,B,C đúng

**Câu 23:** Địa chỉ thư điện tử bắt buộc phải có kí tự nào ?

- A. \$ B. & C. @ D. #

**Câu 24:** Đặc điểm nào sau đây không phải là ưu điểm của thư điện tử?

- A. Gửi và nhận thư nhanh chóng  
B. Vận chuyển hàng hóa tiện lợi  
C. Ít tốn kém  
D. Có thể gửi kèm tệp

**Câu 25:** Để kết nối với internet, máy tính phải được cài đặt và cung cấp dịch vụ bởi:

- A. Người quản trị mạng máy tính  
B. Người quản lí mạng xã hội  
C. Nhà cung cấp dịch vụ Internet  
D. Một máy tính khác

**Câu 26:** Phát biểu nào sau đây không phải là đặc điểm của Internet?

- A. Phạm vi hoạt động trên toàn cầu  
B. Có nhiều dịch vụ đa dạng và phong phú.  
C. Không thuộc quyền sở hữu của ai  
D. Thông tin chính xác tuyệt đối.

**Câu 27:** Thiết bị nào sau đây không phải là thiết bị đầu cuối?

- A. Máy tính B. Máy in C. Bộ định tuyến D. Máy quét.

**Câu 28:** 1KB = ? byte

- A. 8 B. 64 C. 128 D. 1024

**Câu 29:** Một thẻ nhớ 4GB có thể lưu trữ được bao nhiêu hình ảnh kích thước 512KB

- A. 2 nghìn ảnh B. 4 nghìn ảnh C. 8 nghìn ảnh D. 16 nghìn ảnh

**Câu 30:** Một công ty vận tải muốn truyền tải đến khách hàng lịch trình di chuyển của con tàu của họ nên họ đã đặt tấm biển bên ngoài văn phòng của họ như sau:

HÀ TIÊN - PHÚ QUỐC						
Giờ đi	Giờ đến	Người lớn	Trẻ em	Cảng đi	Cảng đến	Tên tàu
07:30	08:45	230.000	160.000	Hà Tiên	Bãi Vòng	Superdong
07:45	09:00	215.000	150.000	Hà Tiên	Bãi Vòng	Ngọc Thành
08:00	09:15	230.000	160.000	Hà Tiên	Bãi Vòng	Superdong
13:15	14:30	230.000	160.000	Hà Tiên	Bãi Vòng	Superdong

Vậy tấm biển này được gọi là gì?

- A. Dữ liệu; B. Vật mang tin; C. Không phân biệt được; D. Thông tin

**Câu 31:** Một công ty A khi thực hiện lắp đặt và mở rộng kết nối, để tránh được những sự cố đường dây bị hư hại, thuận tiện di chuyển và địa hình khó khăn... Họ sẽ chọn lắp đặt kiểu nào?

- A. Kết nối có dây.  
 B. Kết nối không dây.  
 C. Không quan trọng, loại nào cũng được.  
 D. Miễn wifi có là sử dụng được, không nên kết nối.

## II. Tự luận

**Câu 1:** Em hãy nêu các bước thực hiện tìm kiếm trong Word?

**Câu 2:** Em hãy nêu các bước thực hiện thay thế trong Word?

**Câu 3:** Em hãy sắp xếp lại các bước sau theo thứ tự đúng để thực hiện thao tác thay một từ hoặc cụm từ trong phần mềm soạn văn bản.

- Gõ từ, cụm từ cần thay thế.
- Nháy chuột vào thẻ Home.
- Trong nhóm lệnh Editing, chọn Replace.
- Gõ từ, cụm từ cần tìm.
- Nháy chuột vào nút Replace để thay thế lượt từ hoặc cụm từ.

**Câu 4:** Em hãy nêu khái niệm và các phần của Thuật toán.

**Câu 5:** Bạn An đã sửa công thức làm kem chua dựa hầu thành công thức làm kem chua xoài như hình 6.5.

- Phần hướng dẫn làm kem sữa chua xoài bước là 1 thuật toán. Em hãy xác định đầu đầu ra của thuật toán làm kem sữa chua
- Em hãy dùng sơ đồ khối để thể hiện toán đó

**Kem sữa chua xoài**

**Nguyên liệu**

Xoài: 250 g  
 Sữa chua: 100 g  
 Mật ong: 1 thìa cà phê

**Dụng cụ**

1 tô to  
 4 khuôn làm kem

**Hướng dẫn**

- ➊ Cho xoài vào tô.
- ➋ Nghiền nát xoài.
- ➌ Cho sữa chua và mật ong vào tô.
- ➍ Trộn đều hỗn hợp.
- ➎ Cho hỗn hợp vào khuôn làm kem.
- ➏ Đặt khuôn kem vào ngăn đá tủ lạnh trong thời gian ít nhất 4 tiếng.
- ➐ Lấy kem ra thưởng thức.

Hình 6.5. Công thức làm kem sữa chua xoài

đây  
thể  
thảo

lần

thành

sữa  
sữa

gồm 7  
vào và  
xoài.  
thuật

## I. Phân môn Lịch sử

### 1. Nội dung ôn tập: HS ôn tập các kiến thức trọng tâm sau:

- Bài 14: Nhà nước Văn Lang, Âu Lạc
- Bài 15: Đời sống của người Việt thời kì Văn Lang, Âu Lạc
- Bài 16: Chính sách cai trị của phong kiến phương Bắc và sự chuyển biến của Việt Nam thời kì Bắc thuộc
- Bài 17: Đấu tranh bảo tồn và phát triển văn hoá dân tộc thời Bắc thuộc.
- Bài 18: Cuộc đấu tranh giành độc lập trước thế kỉ X
- Bài 19: Bước ngoặt lịch sử đầu thế kỉ X

### 2. Một số dạng câu hỏi:

#### 2.1. Đề ôn tập bài 19 (hệ thống hanoistudy.edu.vn)

#### 2.2. Một số câu hỏi bổ sung

##### a. Trắc nghiệm

**Câu 1.** Về mặt tín ngưỡng, cư dân Văn Lang – Âu Lạc có tục

- A. thờ cúng tổ tiên.
- B. thờ thần – vua.
- C. ướp xác.
- D. thờ phụng Chúa Giê-su.

**Câu 2.** Nhà nước cổ đại đầu tiên xuất hiện trên lãnh thổ Việt Nam là

- A. Chăm-pa.
- B. Phù Nam.
- C. Văn Lang.
- D. Lâm Ấp.

**Câu 3.** Nhà nước Văn Lang chia làm bao nhiêu bộ?

- A. 15 bộ.
- B. 16 bộ.
- C. 17 bộ.
- D. 18 bộ.

**Câu 4:** Cư dân Văn Lang đi lại chủ yếu bằng

- A. thuyền.
- B. ngựa.
- C. lừa.
- D. voi.

**Câu 5:** Sự tích Trầu cau và Bánh chưng, bánh giầy phản ánh phong tục gì của cư dân Văn Lang, Âu Lạc?

- A. Ăn trầu, gói bánh chưng, bánh giầy trong ngày lễ hội.
- B. Nhảy múa, hát ca, đua thuyền trong ngày lễ hội.
- C. Lễ hội, vui chơi được tổ chức thường xuyên.
- D. Trồng lúa nước và lấy đó làm lương thực chính

**Câu 6:** Đặc điểm đời sống tinh thần của cư dân Văn Lang, Âu Lạc là

- A. chịu ảnh hưởng từ tôn giáo.
- B. phụ thuộc hoàn toàn với tự nhiên.
- C. giản dị, hoà hợp với tự nhiên.
- D. chịu ảnh hưởng từ Trung Quốc.

**Câu 7:** Dưới thời thuộc Đường, chức quan đứng đầu An Nam đô hộ phủ được gọi là gì?

- A. Thái Thú.
- B. Bò Chính.
- C. Tiết độ sứ.
- D. Tể tướng.

**Câu 8:** Sau khởi nghĩa Hai Bà Trưng, chính quyền đô hộ phương Bắc đã áp đặt chính quyền cai trị đến tận cấp

- A. xã.
- B. châu.
- C. quận.
- D. huyện.

**Câu 9:** Đặc điểm nổi bật của tình hình nước Việt Nam từ năm 179 TCN đến thế kỉ X là gì?

- A. Bị các triều đại phong kiến phương Bắc đô hộ.



- B. Sự hình thành và phát triển của nhà nước Âu Lạc.
- C. Quá trình mở rộng lãnh thổ về phía Nam của người Việt.
- D. Chế độ phong kiến Việt Nam được hình thành và phát triển.

**Câu 10:** Các triều đại phong kiến phương Bắc bắt người Việt phải thay đổi phong tục theo người Hán nhằm mục đích gì?

- A. Khai hóa văn minh cho người Việt.
- B. Giúp người Việt được mở mang tri thức.
- C. Nô dịch, đồng hóa dân tộc Việt về văn hóa.
- D. Bảo tồn và phát triển tinh hoa văn hóa phương Đông.

**Câu 11:** Nhận xét nào sau đây **không đúng** khi đánh giá về chính sách cai trị của các triều đại phong kiến phương Bắc?

- A. Hà khắc, tàn bạo, thâm độc.
- B. Được tiến hành trên tất cả các lĩnh vực.
- C. Thúc đẩy sự phát triển của kinh tế Việt Nam.
- D. Nhằm thôn tính lãnh thổ và đồng hóa dân tộc Việt.

**Câu 12:** Tôn giáo nào **không** được các triều đại phong kiến phương Bắc truyền vào Việt Nam?

- A. Phật giáo.
- B. Nho giáo.
- C. Thiên Chúa giáo.
- D. Đạo giáo

**Câu 13:** Yếu tố tích cực nào của văn hoá Trung Hoa được truyền bá vào Việt Nam trong thời Bắc thuộc?

- A. Nhuộm răng đen.
- B. Làm bánh chưng.
- C. Chữ viết.
- D. Tôn trọng phụ nữ.

**Câu 14:** Dưới thời kì Bắc thuộc, người Việt vẫn gìn giữ được những phong tục tập quán và tiếng nói của tổ tiên, vì

- A. văn hóa Hán còn lạc hậu, kém phát triển.
- B. người Việt có lòng yêu nước và tự tôn dân tộc.
- C. chính quyền đô hộ nói lỏng chính sách cai trị.
- D. văn hóa của người Việt phát triển hơn văn hóa Hán.

**Câu 15:** Những biểu hiện nào cho thấy chính sách đồng hoá của phong kiến phương Bắc đối với Việt Nam đã thất bại?

- A. Lễ hội diễn ra thường xuyên.
- B. Đứng đầu là xã là tù trưởng, hào trưởng người Việt.
- C. Những cuộc đấu tranh chống lại phong kiến phương Bắc.
- D. Tiếng Việt, tín ngưỡng và các phong tục tập quán vẫn được bảo tồn.

**Câu 16:** Đây là loại chữ viết được người Việt sáng tạo ra dựa trên việc học tập chữ Hán của Trung Quốc?

- A. Chữ Nôm.
- B. Chữ Nôm.
- C. Chữ Quốc ngữ.
- D. Chữ Phạn.

**Câu 17:** Tác giả của câu nói dưới đây là ai?

“Tôi muốn cưỡi cơn gió mạnh, đạp luồng sóng dữ, chém cá kình biển khơi, đánh đuổi quân Ngô giành lại giang sơn, cởi ách nô lệ, đâu chịu khom lưng làm tì thiếp cho người”.

A. Trung Trắc.                      B. Trung Nhị.                      C. Bà Triệu.                      D. Lê Chân.

**Câu 18:** Sau khi lên ngôi Hoàng đế, Lý Bí đặt tên nước là gì?

A. Đại Cồ Việt.                      B. Đại Việt.                      C. Đại Ngu.                      D. Vạn Xuân.

**Câu 19:** Nhân dân Việt Nam lập đền thờ Hai Bà Trưng thể hiện điều gì?

A. Tinh thần đoàn kết và yêu nước của người Việt Nam.  
B. Nhân dân kính trọng và ghi nhớ công lao của Hai Bà Trưng.  
C. Sự phát triển của tín ngưỡng sùng bái tự nhiên của người Việt.  
D. Thể hiện vai trò của người phụ nữ trong lịch sử dân tộc.

**Câu 20:** Năm 713, Mai Thúc Loan lại kêu gọi nhân dân đứng lên khởi nghĩa, vì

A. nhà Đường bắt người Việt tiến cống quả vải.  
B. nhà Đường đã suy yếu, đứng trước nguy cơ sụp đổ.  
C. chính sách cai trị hà khắc và thuế khóa nặng nề của nhà Đường.  
D. ách cai trị của nhà Ngô khiến nhân dân Việt Nam bần cùng, khổ cực.

### **b. Phân tự luận**

**Câu 1:** Trình bày đời sống vật chất của người Việt thời kì Văn Lang, Âu Lạc

**Câu 2:** Em hãy xác định những chuyển biến của kinh tế nước ta trong thời Bắc thuộc?

**Câu 3:** Trình bày nguyên nhân, diễn biến của cuộc khởi nghĩa Bà Triệu? Là một học sinh em sẽ làm gì xứng đáng với sự hi sinh bảo vệ đất nước của ông cha ta?

## **II. Phân môn Địa lý**

**1. Nội dung ôn tập:** HS ôn tập các kiến thức trọng tâm sau:

### **Chương VI: Đất và sinh vật trên Trái Đất**

Bài 19: Lớp đất và các nhân tố hình thành đất. Một số nhóm đất điển hình.

Bài 20: Sinh vật và sự phân bố các đới thiên nhiên. Rừng nhiệt đới.

### **Chương VII: Con người và thiên nhiên**

Bài 22: Dân số và phân bố dân cư

Bài 23: Con người và thiên nhiên

### **2. Một số dạng câu hỏi:**

**2.1. Đề ôn tập bài 19 ( hệ thống Hanoistudy.edu.vn)**

**2.2. Một số dạng câu hỏi bổ sung**

#### **a. Trắc nghiệm**

**Câu 1:** Lớp đất là gì?

A. Lớp vật chất vụn bở trên bề mặt lục địa, hình thành từ quá trình phong hóa.  
B. Lớp vật chất tối xốp ở bề mặt lục địa và các đảo, được đặc trưng bởi độ phì.  
C. Lớp vật chất vụn bở, trên đó con người tiến hành các hoạt động trồng trọt.  
D. Lớp vật chất tự nhiên, được con người cải tạo đưa vào sản xuất nông nghiệp.

**Câu 2:** Các thành phần chính của lớp đất là

- A. không khí, nước, chất hữu cơ và vô cơ.
- B. cơ giới, không khí, chất vô cơ và mùn
- C. chất hữu cơ, nước, không khí và sinh vật.
- D. nước, không khí, chất hữu cơ và độ phì.

**Câu 3:** Khí hậu ôn đới lục địa có nhóm đất chính nào sau đây?

- A. Đất pôtdôn.      B. Đất đen.      C. Đất đỏ vàng.      D. Đất nâu đỏ.

**Câu 4:** Đặc điểm nào sau đây **không** đúng với thành phần hữu cơ trong đất?

- A. Thành phần quan trọng nhất của đất.      B. Chiếm một tỉ lệ nhỏ trong lớp đất.
- C. Đá mẹ là sinh ra thành phần hữu cơ.      D. Thường ở tầng trên cùng của đất.

**Câu 5:** Đất **không** có tầng nào sau đây?

- A. Hữu cơ.      B. Đá mẹ.      C. Vô cơ.      D. Tích tụ.

**Câu 6:** Loại đất nào sau đây thường được dùng để trồng cây lúa nước?

- A. Đất phù sa.      B. Đất đỏ badan.
- C. Đất feralit.      D. Đất đen, xám.

**Câu 7:** Đới nóng phân bố ở vĩ độ nào?

- A. 30<sup>0</sup>N đến 30<sup>0</sup>B      B. 30<sup>0</sup>B đến 60<sup>0</sup>B
- B. 30<sup>0</sup>N đến 60<sup>0</sup>N      D. 60<sup>0</sup>B đến 90<sup>0</sup>B

**Câu 8:** Rừng nhiệt đới được chia thành hai kiểu chính nào sau đây?

- A. Rừng mưa nhiệt đới và rừng nhiệt đới gió mùa.
- B. Rừng mưa nhiệt đới và rừng cận nhiệt đới mùa.
- C. Rừng nhiệt đới ẩm và rừng nhiệt đới xích đạo.
- D. Rừng nhiệt đới khô và rừng cận nhiệt đới gió mùa.

**Câu 9:** Rừng nào sau đây được mệnh danh là “lá phổi xanh” của Trái Đất?

- A. Rừng cận nhiệt đới.      B. Rừng ôn đới.
- C. Rừng nhiệt đới.      D. Rừng lá kim.

**Câu 10:** Rừng mưa nhiệt đới phân bố chủ yếu ở nơi có khí hậu

- A. nóng, khô, lượng mưa nhỏ.      B. mưa nhiều, ít nắng, ẩm lớn.
- C. nóng, ẩm, lượng mưa lớn.      D. ít mưa, khô ráo, nhiều nắng.

**Câu 11:** Nhân tố tự nhiên nào sau đây có ảnh hưởng đến sự phân bố sinh vật trên Trái Đất rõ nhất?

- A. Khí hậu.      B. Thổ nhưỡng.      C. Địa hình.      D. Nguồn nước.

**Câu 12:** Năm 2018 dân số thế giới khoảng

- A. 6,7 tỉ người.      B. 7,2 tỉ người.      C. 7,6 tỉ người.      D. 6,9 tỉ người.

**Câu 13:** Dân cư trên thế giới thường tập trung đông ở đồng bằng là do

- A. ít chịu ảnh hưởng của thiên tai (bão, hạn hán).

- B. có nhiều khoáng sản, nguồn nước phong phú.
- C. thuận lợi cho cư trú, giao lưu phát triển kinh tế.
- D. khí hậu mát mẻ, ổn định và tài nguyên đa dạng.

**Câu 14:** Châu lục nào sau đây tập trung đông dân nhất thế giới?

- A. Châu Á.
- B. Châu Mỹ.
- C. Châu Âu.
- D. Châu Phi.

**Câu 15:** Tháng 4/2021, dân số nước ta là 98,1 triệu người và nước ta có diện tích 331212 km<sup>2</sup>. Vậy mật độ dân số ở nước ta vào thời điểm trên là

- A. 269 người/km<sup>2</sup>.
- B. 298 người/km<sup>2</sup>.
- C. 296 người/km<sup>2</sup>.
- D. 289 người/km<sup>2</sup>.

**Câu 16:** Siêu đô thị Bắc Kinh thuộc quốc gia nào dưới đây?

- A. Nhật Bản.
- B. Trung Quốc.
- C. Hàn Quốc.
- D. Triều Tiên.

**Câu 17:** Tài nguyên thiên nhiên bị suy thoái là do

- A. chiến tranh, thiên tai.
- B. khai thác quá mức.
- C. phát triển nông nghiệp.
- D. dân số đông và trẻ.

**Câu 18:** Tác động tiêu cực của con người đến phân bố động, thực vật trên Trái Đất **không** phải là

- A. lai tạo ra nhiều giống.
- B. đốt rừng làm nương rẫy.
- C. tăng cường phá rừng.
- D. săn bắn động vật rừng.

**Câu 19:** Các điều kiện tự nhiên có ảnh hưởng đến đời sống hằng ngày của con người là

- A. địa hình, sinh vật, nguồn vốn và khí hậu.
- B. khí hậu, địa hình, nguồn nước và đất đai.
- C. nguồn nước, dân số, khí hậu và địa hình.
- D. đất đai, nguồn vốn, dân số và chính sách.

**Câu 20:** Hoạt động nào sau đây của con người **không** tác động xấu đến tính chất đất?

- A. Canh tác quá nhiều vụ trong một năm.
- B. Luân canh, xen canh các loại cây trồng.
- C. Phá rừng và đốt rừng làm nương rẫy.
- D. Bón nhiều phân, sử dụng chất hóa học

### **b. Phần tự luận**

**Câu 1:** Có bao nhiêu tầng đất chính? Trình bày đặc điểm các tầng đất ?

**Câu 2:** Trình bày đặc điểm của rừng nhiệt đới?

**Câu 3:** Trình bày đặc điểm phân bố dân cư trên Thế Giới? Cho biết vì sao dân cư trên Thế giới phân bố không đồng đều?

### **NỘI DUNG ÔN TẬP THI CUỐI KỲ II MÔN GDCD 6**

**A. NỘI DUNG ÔN TẬP:** Ôn các bài từ tuần 19 đến tuần 31, trong đó trọng tâm kiến thức:

- Bài 7: *Ứng phó với tình huống nguy hiểm*

- Bài 8: Tiết kiệm
- Bài 9: Công dân nước Cộng hòa xã hội chủ nghĩa Việt Nam
- Bài 10: Quyền và nghĩa vụ cơ bản của công dân Việt Nam
- Bài 11: Quyền cơ bản của trẻ em

**B. YÊU CẦU ÔN TẬP:**

- Khái niệm, biểu hiện, ý nghĩa, cách rèn luyện liên quan các đơn vị kiến thức
- Sưu tầm các câu ca dao, tục ngữ thể hiện nội dung kiến thức đã học.
- Làm các bài tập tình huống trong SGK, SBT môn GDCD Lớp 6
- Vận dụng các kiến thức đã học vào giải quyết các tình huống trong thực tế.

**C. HÌNH THỨC RA ĐỀ:** Trắc nghiệm 50% (20 câu), Tự luận 50%

**D. MỘT SỐ DẠNG CÂU HỎI TRẮC NGHIỆM:**

**Câu 1:** Trong các tình huống sau đây, đâu là tình huống nguy hiểm?

- A. Bị người lạ mặt rủ đi chơi.
- B. Đi học nhóm với các bạn.
- C. Đi du lịch với bố mẹ
- D. Sang nhà ông bà chơi

**Câu 2:** Tình huống nguy hiểm nào sau đây là do con người gây ra?

- A. Sấm sét
- B. Mưa đá
- C. Đánh nhau
- D. Nước lũ

**Câu 3:** Để đảm bảo an toàn cho bản thân khi xảy ra lũ quét, sạt lở đất chúng ta không nên:

- A. thường xuyên xem dự báo thời tiết
- B. chủ động chuẩn bị đồ phòng chống
- C. đi qua sông, suối khi có lũ
- D. tìm hiểu về những điều cần làm khi xảy ra lũ quét, sạt lở

**Câu 4:** Giữa buổi trưa nắng nóng, khi vừa tan học, bạn A đang bước thật nhanh để về nhà, thì có một người phụ nữ ăn mặc rất sang trọng, tự giới thiệu là bạn của mẹ và được mẹ nhờ đưa A về nhà. Trong trường hợp này, nếu là A, em sẽ làm như thế nào?

- A. Vui vẻ lên xe để về nhà nhanh và không bị nắng.
- B. Khéo léo gọi điện cho bố mẹ để xác nhận thông tin.
- C. Từ chối ngay và chửi mắng người đó là kẻ bắt cóc.
- D. Đi khắp nơi điều tra rõ xem người phụ nữ đó là ai

**Câu 5:** Hành động nào sau đây thể hiện tính tiết kiệm?

- A. Ăn chơi xa hoa, lãng phí
- B. Vứt đồ còn ăn được ra thùng rác

- C. Dành dụm tiền mua đồ dùng học tập
- D. Khai thác tài nguyên khoáng sản không hợp lí

**Câu 6.** Việc làm của bạn nào dưới đây chưa thể hiện sự tiết kiệm?

- A. Được mẹ cho đi siêu thị, Nam cùng em mua nhiều đồ chơi, vật dụng mặc dù nhà ở nhà đã có.
- B. Khi năm học kết thúc, Loan thường soạn lại những quyển vở cũ, các trang giấy trắng để năm sau làm nháp
- C. Khi cùng mẹ dọn dẹp nhà cửa đón tết, Linh thường cất cẩn thận quần áo cũ không dùng để gửi tặng những người có hoàn cảnh khó khăn.
- D. Bình luôn tiết kiệm tiền tiêu vặt để dùng khi thật cần thiết.

**Câu 7.** Bạn Q đỗ đại học nên gia đình bạn quyết định sẽ tổ chức liên hoan thật to để mọi người trong làng biết và đến mừng. Gia đình không đủ tiền mua lợn để tổ chức liên hoan mời dân làng nên bố mẹ bạn Q quyết định đi vay tiền về để tổ chức cho mát mặt. Em có nhận xét gì về việc làm của gia đình Q?

- A. Gia đình Q làm như vậy là lãng phí, không phù hợp với hoàn cảnh gia đình.
- B. Gia đình Q làm như vậy là hợp lí.
- C. Gia đình Q làm như vậy là phù hợp với hoàn cảnh gia đình.
- D. Gia đình Q làm như vậy là vi phạm pháp luật.

**Câu 8:** Câu thành ngữ, tục ngữ nói về đức tính tiết kiệm là:

- A. Vung tay quá trán
- B. Con nhà lính, tính nhà quan
- C. Ném tiền qua cửa sổ
- D. Tích tiểu thành đại

**Câu 9.** Công dân nước Cộng hòa xã hội chủ nghĩa Việt Nam là:

- A. tất cả những người sinh sống trên lãnh thổ Việt Nam
- B. tất cả những người có quốc tịch Việt Nam
- C. tất cả những người Việt dù sinh sống ở quốc gia nào
- D. tất cả những người có quyền và nghĩa vụ do nhà nước Việt Nam quy định

**Câu 10.** Căn cứ vào đâu để xác định công dân của một nước?

- A. Màu da
- B. Ngôn ngữ
- C. Trang phục
- D. Quốc tịch

**Câu 11.** Trường hợp nào dưới đây là công dân nước cộng hòa xã hội chủ nghĩa Việt Nam?

- A. Bố mẹ H là người Nga đến Việt Nam làm ăn sinh sống.
- B. Trẻ sơ sinh bị bỏ rơi ở Việt Nam mà không rõ cha mẹ là ai.
- C. Ông X là chuyên gia nước ngoài làm việc lâu năm tại Việt Nam.

D. Con của bà Z có quốc tịch Mỹ sống ở Việt Nam, bố chưa rõ là ai.

**Câu 12.** Trường hợp nào dưới đây mà trẻ em **không phải** là công dân nước cộng hòa XHCN Việt Nam?

A. Trẻ em sinh ra có cha và mẹ là công dân Việt Nam.

B. Trẻ em bị bỏ rơi tại Việt Nam không rõ cha mẹ là ai.

C. Trẻ em sinh ra trên lãnh thổ Việt Nam có cha mẹ là người không quốc tịch nhưng có nơi thường trú tại Việt Nam.

D. Trẻ em sinh ra ngoài lãnh thổ Việt Nam mà khi sinh ra có cha mẹ đều là người nước ngoài.

**Câu 13.** Đâu không phải là quyền cơ bản của công dân Việt Nam?

A. Bất khả xâm phạm về thân thể.

B. Trung thành với Tổ quốc.

C. Tự do ngôn luận.

D. Có nơi ở hợp pháp.

**Câu 14:** Quyền cơ bản của công dân là những ..... cơ bản mà người công dân được hưởng và được luật pháp bảo vệ.

A. quy định

B. yêu cầu

C. lợi ích

D. nhu cầu

**Câu 15.** Nghĩa vụ cơ bản của công dân là:

A. yêu cầu của nhà nước mà chỉ một hay nhóm người thực hiện.

B. yêu cầu của nhà nước mà công dân thực hiện hoặc không thực hiện.

C. yêu cầu bắt buộc của nhà nước mà mọi công dân phải thực hiện.

D. yêu cầu của nhà nước mà mọi người phải thực hiện trong một thời gian nhất định.

**Câu 16.** Công dân bình đẳng về quyền và nghĩa vụ có nghĩa là công dân:

A. đều có quyền như nhau

B. đều có nghĩa vụ ngang nhau

C. đều có quyền và nghĩa vụ giống nhau trong mọi trường hợp

D. đều bình đẳng về quyền và làm nghĩa vụ theo quy định của pháp luật.

**Câu 17:** Việc làm nào dưới đây thực hiện đúng quyền trẻ em?

A. Chú H nhận M làm con nuôi nhưng bắt em phải làm việc nặng nhọc.

B. Bố bạn A không cho bạn đi học, vì bạn bị khuyết tật từ nhỏ.

C. Bố mẹ bắt M nghỉ học để làm việc nhà giúp gia đình.

D. H có năng khiếu hội họa nên mẹ H đã cho bạn đi học thêm môn vẽ.

**Câu 18:** Những quyền nhằm bảo vệ trẻ em khỏi mọi hình thức phân biệt đối xử, bị bỏ rơi, bị bóc lột, xâm hại,... thuộc nhóm quyền được:

A. tham gia của trẻ em.

B. phát triển của trẻ em.

C. bảo vệ của trẻ em.

D. sống còn của trẻ em.

**Câu 19:** Theo Công ước quốc tế của Liên hợp quốc về quyền trẻ em năm 1989, quyền trẻ em được chia làm mấy nhóm cơ bản?

A. Năm nhóm cơ bản.

B. Sáu nhóm cơ bản.

C. Bốn nhóm cơ bản.

D. Ba nhóm cơ bản.

**Câu 20:** Việc làm nào dưới đây thực hiện đúng quyền trẻ em?

A. Nghiêm cấm trẻ em phát biểu trong cuộc họp.

B. Bắt trẻ em nghỉ học để làm việc kiếm tiền.

C. Cha mẹ li hôn, không ai chăm sóc con cái.

D. Bảo vệ trẻ em khỏi hành vi xâm hại

### **E. DẠNG CÂU HỎI TỰ LUẬN**

#### **\* Câu hỏi lý thuyết**

**Câu 1:** Hãy liệt kê một số tình huống nguy hiểm thường gặp trong cuộc sống. Nêu cách ứng phó với các tình huống nguy hiểm?

**Câu 2:** Thế nào là tiết kiệm? Hãy nêu một số cách thực hiện tiết kiệm của bản thân em?

**Câu 3:** Công dân là gì? Căn cứ để xác định công dân nước Cộng hòa xã hội chủ nghĩa Việt Nam là gì?

**Câu 4** Thế nào là quyền và nghĩa vụ cơ bản của công dân? Nêu một số quyền và nghĩa vụ cơ bản của công dân mà em biết?

**Câu 5.** Công ước của Liên hợp quốc về quyền trẻ em năm 1989 đã ghi nhận mấy nhóm quyền cơ bản của trẻ em? Em hãy nêu nội dung của các nhóm quyền đó?

#### **\* Bài tập tình huống:**

- **Bài 1.** Đọc tình huống sau và trả lời các câu hỏi:

Nhà Lan và nhà bác Hiệp chung nhau hành lang. Khi đang ngồi chơi trong nhà thì Lan phát hiện khói đen bay ra từ đám cháy nhà bác Hiệp. Lan vội chạy tới cầu thang máy để nhanh chóng thoát khỏi đám cháy.

*Câu hỏi:*

a. Em có nhận xét gì về cách ứng phó với tình huống trên của Lan?

b. Nếu là Lan, em sẽ ứng phó như thế nào trong tình huống trên?

- **Bài 2.** Hãy đọc tình huống sau và trả lời các câu hỏi:

Ngày nào Hùng cũng được mẹ cho tiền ăn quà sáng nhưng bạn ấy thường không ăn, để dành tiền chơi điện tử. Sau khi tan học, Hùng đi chơi điện tử đến tối muộn mới về. Biết hành động đó của Hùng, mẹ mắng và cấm Hùng không được chơi điện tử. Nếu còn tiếp tục, mẹ Hùng sẽ không cho tiền ăn sáng nữa. Hùng tỏ thái độ giận dữ, bực tức với mẹ vì cho rằng mẹ đã vi phạm quyền trẻ em của Hùng.

*Câu hỏi:*

- Em có nhận xét gì về hành động và thái độ của Hùng?

- Nếu là bạn của Hùng, em sẽ khuyên Hùng như thế nào?



## I/ LÝ THUYẾT

1. Nguyên sinh vật thường sống ở môi trường nào? Lấy ví dụ.
2. Lập bảng phân biệt đặc điểm cơ bản của các nhóm: Rêu, Dương xỉ, Hạt trần, Hạt kín.
3. Đa dạng sinh học là gì? Em hãy nhận xét về số loài sinh vật trong các môi trường sống khác nhau.
4. Nêu khái niệm về lực. Kí hiệu, đơn vị đo lực.  
Nêu cách biểu diễn lực.
5. Nêu các tác dụng của lực. Lấy ví dụ.
6. Nêu khái niệm về khối lượng, lực hấp dẫn, trọng lực, trọng lượng của vật.
7. Khi nào xuất hiện lực tiếp xúc, lực không tiếp xúc? Lấy ví dụ.
8. Nêu mối quan hệ giữa độ dẫn của lò xo với khối lượng vật treo.
9. Nêu khái niệm lực ma sát, lực ma sát trượt, lực ma sát nghỉ. Lấy ví dụ.  
Nêu tác dụng và ảnh hưởng của lực ma sát.
10. Năng lượng được phân loại theo các tiêu chí nào? Đặc trưng của năng lượng là gì?  
Nhiên liệu là gì? Năng lượng tái tạo là gì? Lấy ví dụ.
11. Lấy ví dụ về:
  - sự truyền năng lượng giữa các vật.
  - sự chuyển hoá giữa các dạng năng lượng.

## II/ BÀI TẬP:

### 1. Ôn các bài tập trong SGK (Cả dạng trắc nghiệm và tự luận)

### 2. Một vài bài tập tham khảo

#### \* Trắc nghiệm:

**Câu 1.** Khi đi tham quan tìm hiểu sinh vật ngoài thiên nhiên em thường sử dụng loại kính nào sau đây?

- A. Kính hiển vi.      B. Kính lúp cầm tay.      C. Kính thiên văn.      D. Kính hồng ngoại.

**Câu 2.** Tập hợp các loài nào sau đây thuộc lớp Động vật có vú (Thú)?

- A. Tôm, muỗi, lợn, cừu                      B. Bò, châu chấu, sư tử, voi  
C. Gấu, mèo, dê, cá heo                      D. Cá voi, vịt trời, rùa, thỏ

**Câu 3. Giới Động vật được chia thành hai nhóm lớn là**

- A. động vật bậc thấp và động vật bậc cao.  
B. động vật đơn bào và động vật đa bào.  
C. động vật tự dưỡng và động vật dị dưỡng.  
D. động vật không xương sống và động vật có xương sống.

**Câu 4.** Trong các sinh cảnh sau, sinh cảnh nào có độ đa dạng thấp nhất?

- A. Rừng mưa nhiệt đới      B. Thảo nguyên      C. Hoang mạc      D. Rừng ôn đới

**Câu 5.** Hành động nào dưới đây là hành động bảo vệ đa dạng sinh học?

- A. Khai thác tối đa nguồn lợi từ rừng                      C. Săn bắt động vật quý hiếm  
B. Đánh bắt cá bằng lưới có mắt với kích thước nhỏ                      D. Bảo tồn động vật hoang dã

**Câu 6:** Để biểu diễn lực tác dụng vào vật ta cần biểu diễn các yếu tố nào?

- A. gốc, chiều                      B. gốc, phương, chiều  
C. gốc, phương, chiều và độ lớn                      D. gốc, phương, độ lớn

**Câu 7:** Đơn vị nào sau đây là đơn vị lực?

- A. kilôgam (kg)                      B. mét (m)                      C. mét khối ( $m^3$ )                      D. niuton (N)

**Câu 8:** Quan sát hình dưới đây và cho biết, vận động viên đã tác dụng lực gì vào quả tạ?



C. nhiệt năng và quang năng                      D. năng lượng âm và hóa năng

**Câu 19:** Dạng năng lượng nào không phải năng lượng tái tạo?

A. Năng lượng nước.

B. Năng lượng gió.

C. Năng lượng Mặt Trời.

D. Năng lượng từ than đá.

**Câu 20:** Khi sử dụng nồi cơm điện, năng lượng điện đã chuyển hóa thành năng lượng chủ yếu nào?

A. năng lượng ánh sáng

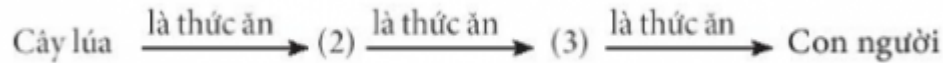
B. cơ năng

C. năng lượng nhiệt

D. năng lượng âm

**\* Tự luận**

**Câu 1:** Cho sơ đồ sau:



a) Em hãy lựa chọn các sinh vật phù hợp với các số trong sơ đồ trên.

b) Từ sơ đồ trên, em có nhận xét gì về vai trò của thực vật.

**Câu 2:** Nêu vai trò của đa dạng sinh học trong tự nhiên và thực tiễn, lấy ví dụ.

**Câu 3:** Hãy biểu diễn các lực sau:

a. Kéo một vật bằng một lực theo hướng nằm ngang từ trái sang phải, độ lớn là 1500N. Tỉ xích 1cm ứng với 500N.

b. Một người nâng 1 thùng hàng theo phương thẳng đứng với lực có độ lớn 100N. Tỉ xích 1cm ứng với 50N.

**Câu 4:** Giải thích các hiện tượng sau:

a. Tại sao các vận động viên bơi lội khi bơi lại phải mặc đồ bơi?

b. Tại sao ở đế giày, đế dép lại có các rãnh?

c. Người ta tra dầu mỡ vào ổ trục động cơ, ổ khoá để làm gì?

**Câu 5:** Một lò xo có chiều dài tự nhiên 15cm. Khi treo vật có trọng lượng 0,5N thì lò xo có chiều dài 16cm.

a. Tính độ dãn của lò xo.

b. Khi treo vật có trọng lượng 1N thì chiều dài của lò xo là bao nhiêu?

---

## NỘI DUNG ÔN TẬP THI CUỐI KỲ II MÔN MỸ THUẬT 6

### I. NỘI DUNG ÔN TẬP:

HS ôn tập các thể loại tranh theo đề tài.

### II. ĐỀ TÀI:

1. Tranh đề tài phong cảnh

2. Tranh đề tài học tập

3. Tranh vẽ theo giai điệu âm nhạc

4. Tranh tĩnh vật

5. Thảm trang trí với họa tiết trống đồng

6. Tranh vẽ chân dung

## 7. Trang phục Lễ Hội

---

### NỘI DUNG ÔN TẬP THI CUỐI KỲ II MÔN TOÁN 6

#### I. LÝ THUYẾT

Toàn bộ nội dung trong sách giáo khoa toán tập 2.

#### II. BÀI TẬP.

##### A. TRẮC NGHIỆM

**Câu 1.** Phân số nào dưới đây là phân số tối giản?

- A.  $\frac{7}{42}$                       B.  $\frac{-17}{34}$                       C.  $\frac{-11}{96}$                       D.  $\frac{-5}{-15}$

**Câu 2.** Tìm số nguyên x biết  $\frac{35}{15} = \frac{x}{3}$

- A. x = 6                      B. x = 5                      C. x = 7                      D. x = 1

**Câu 3.** Chọn số thích hợp điền vào chỗ trống sau  $\frac{17}{19} < \frac{\dots}{19} < 1$

- A. 16                      B. 17                      C. 18                      D. 19

**Câu 4.** Viết hỗn số  $2\frac{3}{5}$  dưới dạng phân số

- A.  $\frac{6}{5}$                       B.  $\frac{10}{3}$                       C.  $\frac{13}{5}$                       D.  $\frac{15}{3}$

**Câu 5.** Số đối của  $-(-\frac{45}{47})$  là

- A.  $\frac{45}{47}$                       B.  $\frac{47}{45}$                       C.  $\frac{45}{-47}$                       D.  $\frac{-47}{45}$

**Câu 6.** Tìm giá trị của x thỏa mãn  $\frac{15}{20} - x = \frac{7}{16}$  là

- A.  $x = \frac{5}{16}$                       B.  $x = \frac{19}{16}$                       C.  $x = \frac{-19}{16}$                       D.  $x = \frac{-5}{16}$

**Câu 7.** Viết phân số  $\frac{259}{10000}$  dưới dạng số thập phân ta được

- A. 0,259                      B. 2,95                      C. 0,0259                      D. Đáp án khác

**Câu 8.** Viết các số sau theo thứ tự giảm dần: -120,341; 36,095; 36,1; -120,34

- A. 36,095; 36,1; -120,34; -120,341                      C. 36,1; 36,095; -120,341; -120,34  
B. 36,095; 36,1; -120,341; -120,34                      D. 36,1; 36,095; -120,34; -120,341

**Câu 9.** Tìm x thỏa mãn x:  $3,4 = 92$ ,  $58 - 11,46$

- A. x = 275,808                      B. x = 808,275                      C. x = 81,12                      D. x = -81,12

**Câu 10.** Thực hiện phép tính  $(4,375 + 5,2) - (6,452 - 3,55)$  rồi làm tròn kết quả đến chữ số thập phân thứ hai, ta được kết quả là

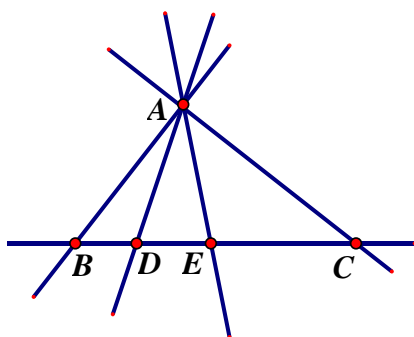
A. 6,674

B. 6,68

C. 6,63

D. 6,67

Trả lời câu hỏi 11, 13. Cho hình vẽ sau.



Câu 13. Có bao nhiêu đường thẳng trong hình vẽ sau?

A. 2

A. 3

B. 4

C. 5

Câu 14. Hai đường thẳng AB và DE cắt nhau tại điểm nào?

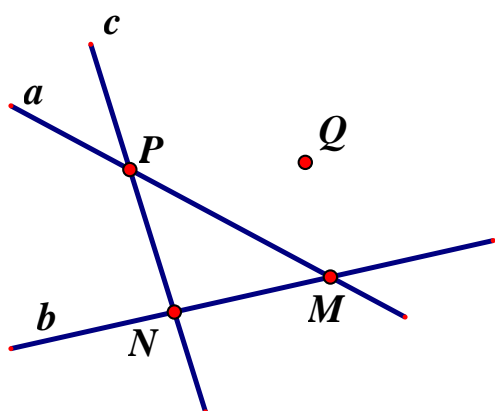
A. A

B. B

C. C

D. D

Câu 15. Khẳng định nào sau đây sai?



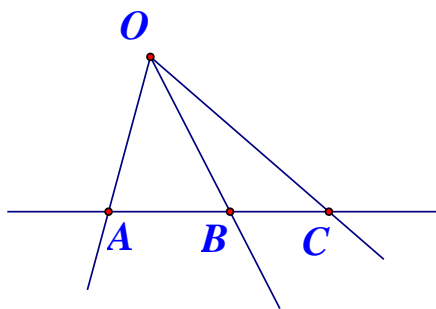
A. Điểm Q không thuộc các đường thẳng b, c và a

B. Điểm N nằm trên các đường thẳng b và c

C. Điểm P không nằm trên các đường thẳng c và a

D. Điểm M nằm trên các đường thẳng b và a

Câu 16. Quan sát hình vẽ bên, khẳng định nào là đúng ?



A. Trong hình chỉ có 3 tia OA, OB, OC .

B. Hai tia BA và BC đối nhau .

C. Điểm B và C nằm cùng phía so với điểm O .

D. Điểm O nằm giữa hai điểm A và C .

Câu 17. Trong hình bên, có bao nhiêu tia phân biệt?



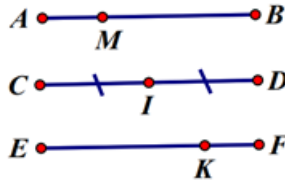
A. 4 tia.

B. 3 tia.

C. 2 tia.

D. 6 tia .

Câu 18. Cho hình vẽ, chọn đáp án đúng:



A. M là trung điểm của AB

B. I là trung điểm của CD

C. K là trung điểm của EF

D. C là trung điểm của ID

**Câu 19.** Nếu  $P$  là trung điểm của đoạn thẳng  $MN$  thì  $P$  nằm giữa hai điểm  $M, N$  và:

A.  $PM = NM$

B.  $PM = PN$

C.  $PN = MN$

D.  $PM > PN$

**Câu 20.** Nếu  $M$  là trung điểm của  $AB = 5\text{cm}$  thì độ dài  $MA$  là:

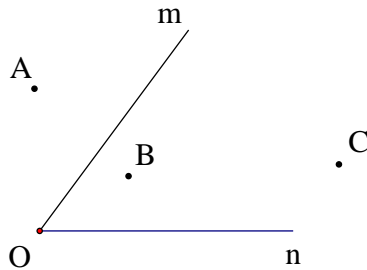
A.  $2\text{cm}$

B.  $2,5\text{cm}$

C.  $5\text{cm}$

D.  $2,2\text{cm}$

**Câu 21.** Điểm nào nằm trong  $\widehat{mOn}$  ở hình bên?



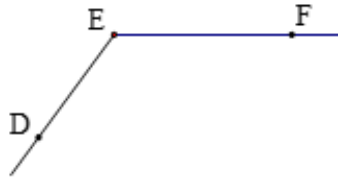
A. A

B. B

C. C

D. B và C

**Câu 22.** Đọc tên góc trong hình vẽ sau:



A. Góc DFE

B. Góc DEF

C. Góc EDF

D. Góc EFD

**Câu 23.** Gọi  $I$  là một điểm của đoạn thẳng  $MN$ . Biết  $MN = 8\text{cm}$ ;  $IN = 4\text{cm}$ . So sánh  $IM$  và  $IN$ ?


A.  $IM = IN$

B.  $IM > IN$

C.  $IM < IN$

D.  $IM \neq IN$

**Câu 24.** Có bao nhiêu biển báo **không** có trục đối xứng?



- A.1      B.2      C.3      D.4

**Câu 25.** Hình nào dưới đây có trục đối xứng?



Hình 1

Hình 2

Hình 3

Hình 4

- A. Hình 1,2    B. Hình 2,3    C. Hình 1,2,3    D. Hình 4

**Câu 26.** Hình vuông có bao nhiêu trục đối xứng?

- A.1      B. 2      C. 3      D. 4

**Câu 27.** Trong các chữ cái dưới đây, chữ cái có hai trục đối xứng?



- A. A, H, E      B. A, E      C. A      D. H

**Câu 28.** Hình nào dưới đây **không** có trục đối xứng

- A. Hình bình hành      C. Hình tam giác đều  
B. Hình thang cân      D. Hình vuông

**Câu 29.** Hình nào dưới đây có tâm đối xứng



- Hình 1      Hình 2      Hình 3      Hình 4

- A. Hình 1      B. Hình 2      C. Hình 3      D. Hình 4

**Câu 30.** Hình nào dưới đây **không** có tâm đối xứng

- A. Hình chữ nhật      B. Hình tam giác      C. Hình vuông      D. Hình tròn

**Câu 31.** Tâm đối xứng của hình bình hành là

- A. Trung điểm của một cạnh  
B. Giao điểm của hai đường chéo  
C. Một điểm bất kì thuộc vào một cạnh  
D. Một điểm bất kì thuộc vào đường chéo

**B. BÀI TẬP TỰ LUẬN**

## Dạng 1: Thực hiện phép tính

**Bài 1:** Thực hiện phép tính (tính hợp lí nếu có thể)

a)  $\frac{2}{7} + \frac{1}{9} + \frac{3}{7} + \frac{5}{9} + \frac{-5}{6}$

d)  $\frac{-5}{12} : \frac{19}{4} + \frac{-7}{12} : \frac{19}{4} - \frac{40}{57}$

b)  $\left(\frac{1}{4} + \frac{-5}{13}\right) - \left(\frac{2}{11} + \frac{8}{13} - \frac{3}{4}\right)$

e)  $\left(\frac{-1}{2}\right)^3 : 1\frac{3}{8} - 25\% \cdot \left(-6\frac{2}{11}\right)$

c)  $\frac{-7}{25} \cdot \frac{39}{-14} \cdot \frac{50}{78}$

f)  $\frac{-1}{9} \cdot \frac{-3}{5} + \frac{5}{-6} \cdot \frac{-3}{5} - \frac{7}{2} \cdot \frac{3}{5}$

**Bài 2:** Tính hợp lí

a)  $(-12,5) + 17,55 + (-3,5) - (-2,45)$       c)  $(-0,4) \cdot (-2,5) \cdot (-0,8)$

b)  $(3,07 + 7,005) - (23,005 - 5,23)$       d)  $4,34 \cdot (-23,68) - 4,34 \cdot 45,12 + (-31,2) \cdot 4,34$

## Dạng 2: Tìm x

a)  $\frac{3}{5} \cdot x - \frac{1}{3} = \frac{1}{4}$

b)  $\frac{1}{3} + \frac{2}{3} : x = -7$

c)  $-4 \left(x - \frac{1}{3}\right) = \frac{-8}{3}$

d)  $\left(\frac{3}{15} - x\right) \cdot \frac{1}{3} = \frac{2}{5}$

e)  $2 \cdot \left(\frac{1}{2}x - \frac{1}{3}\right) - \frac{3}{2} = \frac{1}{4}$

f)  $(2,8x - 32) : \frac{2}{3} = -90$

g)  $(2,8x - 32) : \frac{2}{3} = -90$

h)  $3 \cdot x + 25\% \cdot x = 0,75$

i)  $\frac{1}{2}x + \frac{2}{3}x - 1 = -3\frac{1}{3}$

k)  $\frac{x+1}{3} = \frac{-3}{-9}$

## Dạng 3: Toán có lời văn

**Bài 1.** Một đội thiếu niên phải trồng 30 cây xanh. Sau 1 tiếng đội trồng được  $\frac{1}{6}$  số cây. Đội còn phải trồng số cây là bao nhiêu?

**Bài 2.** Bác Hoa gửi tiết kiệm 15.000.000 đồng với lãi suất 0,6% một tháng thì sau một tháng bác thu được số tiền lãi là bao nhiêu?

**Bài 3.** Lớp 6A có 42 học sinh gồm 3 loại: giỏi, khá và trung bình. Số học sinh giỏi chiếm  $\frac{1}{6}$  số học sinh cả lớp, số học sinh trung bình bằng  $\frac{3}{7}$  số học sinh còn lại.

a) Tính số học sinh mỗi loại.

b) Tính tỉ số % của số học sinh giỏi với số học sinh khá của lớp?

**Bài 4.** Lan đọc một quyển truyện trong 3 ngày. Ngày đầu Lan đọc được  $\frac{1}{4}$  số trang. Ngày

thứ hai Lan đọc được  $\frac{2}{3}$  số trang. Ngày thứ 3 còn 28 trang cuối cùng

a) Quyển truyện có bao nhiêu trang và mỗi ngày Lan đọc được bao nhiêu trang?

b) Khi mua quyển truyện Lan được giảm 5% nên chi phí phải trả 38000đ. Hỏi nếu không giảm giá thì quyển truyện đó giá bao nhiêu?

**Bài 5.** Chiều dài của một mảnh vườn hình chữ nhật là 60m, chiều rộng bằng  $\frac{3}{5}$  chiều dài.

a) Tính diện tích mảnh vườn;



b) Người ta lấy một phần đất để đào ao. Biết 5/6 diện tích ao là  $360m^2$ . Tính diện tích ao.

c) Phần còn lại người ta trồng rau. Hỏi diện tích ao bằng bao nhiêu phần trăm diện tích trồng rau

#### Dạng 4: Hình học

**Bài 1.** Vẽ hình theo cách diễn đạt sau:

- Vẽ hai tia phân biệt Ox và Oy chung gốc nhưng không đối nhau, không trùng nhau
- Vẽ đường thẳng aa' cắt hai tia Ox, Oy theo thứ tự tại A và B (khác O)
- Vẽ điểm C nằm giữa hai điểm A và B sau đó vẽ tia Oz đi qua C
- Có bao nhiêu tia phân biệt trên hình vẽ thu được?

**Bài 2.** Vẽ hình theo diễn đạt sau:

- Vẽ góc  $ABC = 80^\circ$ . Lấy điểm M nằm trong góc ABC. Qua M kẻ một đường thẳng cắt cạnh BA và BC lần lượt tại D và E.
- Vẽ góc  $xOt = 90^\circ$
- Vẽ góc  $xOy = 130^\circ$ . Lấy điểm A nằm trong góc xOy. Kẻ tia OA. Kể tên các góc có trong hình.

**Bài 3.** Cho đoạn thẳng  $AC = 8cm$ . Trên tia AC lấy điểm M sao cho  $AM = 4cm$

- Tính độ dài đoạn thẳng MC?
- Điểm M có là trung điểm của đoạn thẳng AC không? Vì sao?

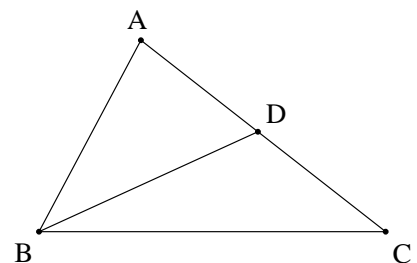
**Bài 4:** Cho I là trung điểm của đoạn thẳng AB, biết  $IA = 2cm$ . Tính độ dài đoạn thẳng AB.

**Bài 5:** Trên tia Ox lấy hai điểm A và B sao cho  $OA = 4cm$ ,  $OB = 8cm$ .

- Tính độ dài đoạn thẳng AB.
- Điểm A có là trung điểm của đoạn OB không? Vì sao?

**Bài 6:** Nhà Tùng cách trường học  $2500m$ . Hàng ngày, trên đường đến trường, Tùng phải đi qua một Trạm xăng, sau đó đến một cửa hàng sách nằm cách trường khoảng  $700m$ . Hỏi quãng đường từ trạm xăng đến cửa hàng sách dài bao nhiêu mét? Biết rằng trạm xăng nằm ở chính giữa nhà Tùng và trường học.

**Bài 7:** Hãy kể tên các góc (khác góc bẹt) có trong hình dưới đây:



**Bài 8:** Cho tia Oa. Hãy vẽ góc aOb có số đo bằng  $50^\circ$ .

Em vẽ được mấy tia Ob như vậy?

#### Dạng 5: Một số dạng bài tập nâng cao

**Bài 1.** Cho  $S = \frac{1}{11} + \frac{1}{12} + \frac{1}{13} + \frac{1}{14} + \frac{1}{15} + \frac{1}{16} + \frac{1}{17} + \frac{1}{18} + \frac{1}{19} + \frac{1}{20}$ .

Hãy so sánh S và  $\frac{1}{2}$

**Bài 2.** Cho  $S = \frac{3}{10} + \frac{3}{11} + \frac{3}{12} + \frac{3}{13} + \frac{3}{14}$ . Chứng minh rằng  $1 < S < 2$ .

**Bài 3.** Chứng minh rằng các phân số sau là tối giản ( $n \in \mathbb{N}^*$ )

a)  $\frac{n+1}{2n+3}$

b)  $\frac{2n+3}{4n+8}$

c)  $\frac{3n+1}{4n+1}$ .

**Bài 4.** Cho phân số  $A = \frac{2n+3}{6n+4}$  ( $n \in \mathbb{N}^*$ ). Với giá trị nào của  $n$  thì  $A$  rút gọn được.

**Bài 5.** Tìm tất cả các số nguyên  $n$  sao cho các phân số sau có giá trị là số nguyên

a)  $\frac{12}{3n-1}$

b)  $\frac{2n+3}{7}$

c)  $\frac{2n+5}{n-3}$

**Bài 6.** Giá vé xem ca nhạc là 50 000 đồng/vé. Sau khi giảm giá vé, số khán giả tăng thêm 25%, do đó doanh thu tăng thêm 12,5%. Hỏi giá vé sau khi giảm là bao nhiêu?

---

## NỘI DUNG ÔN TẬP THI CUỐI KỲ II MÔN NGỮ VĂN 6

**Ôn tập kiến thức đã học từ tuần 19 đến tuần 31 (SGK Ngữ văn 6 tập 2)**

### **I. Kiến thức trọng tâm:**

#### **1. Văn bản:**

- Truyện truyền thuyết
- Truyện cổ tích
- Văn nghị luận
- Văn bản thông tin

\* Yêu cầu nắm được nội dung, các chi tiết nghệ thuật tiêu biểu, ý nghĩa của văn bản, tóm tắt được truyện theo các sự việc chính.

#### **2. Tiếng Việt:**

Học sinh ôn lại các kiến thức tiếng Việt đã học: Nghĩa của từ ngữ; cụm từ; từ ghép và từ láy; các biện pháp tu từ; dấu câu, trạng ngữ, lựa chọn từ ngữ, từ mượn, lựa chọn cấu trúc câu...

\* Yêu cầu:

- Nhận biết được các đơn vị kiến thức tiếng Việt cơ bản.
- Nêu vai trò, tác dụng của các đơn vị kiến thức.
- Vận dụng kiến thức trong thực hành nói và viết

#### **3. Tập làm văn:** Văn tự sự, văn thuyết minh, văn nghị luận

\* Yêu cầu:

- Nắm vững thể loại văn tự sự, văn thuyết minh, văn nghị luận.
- Lập dàn ý và viết bài văn tự sự, văn thuyết minh, văn nghị luận hoàn chỉnh.

Lưu ý: GV ra các dạng bài tập vận dụng kiến thức đã học vào việc giải quyết vấn đề thực tiễn.

**II. Cấu trúc đề kiểm tra:** 80% tự luận; 20% trắc nghiệm (8 câu).

**III. Một số bài tập tham khảo.**

**Bài tập 1. Đọc văn bản và trả lời các câu hỏi sau:**

### **BÀN TAY YÊU THƯƠNG**

Trong một tiết dạy vẽ, cô giáo bảo các em học sinh lớp một vẽ về điều gì làm cho em thích nhất trong đời.

Cô giáo thăm nghĩ "Rồi các em cũng lại vẽ những gói quà, những ly kem hoặc những món đồ chơi, quyển truyện tranh". Thế nhưng cô đã hoàn toàn ngạc nhiên trước một bức tranh lạ của một em học sinh Douglas: bức tranh vẽ một bàn tay.

Nhưng đây là bàn tay của ai? Cả lớp bị lôi cuốn bởi một hình ảnh đầy biểu tượng này. Một em phán đoán:

- "Đó là bàn tay của bác nông dân".

Một em khác cự lại:

- "Bàn tay thon thả thế này phải là bàn tay của một bác sĩ phẫu thuật....".

Cô giáo đợi cả lớp bớt xôn xao dần rồi mới hỏi tác giả. Douglas cười ngượng ngịu:

- "Thưa cô, đó là bàn tay của cô ạ!".

Cô giáo ngẩn ngơ. Cô nhớ lại những phút ra chơi thường dùng bàn tay để dắt Douglas ra sân, bởi em là một cô bé khuyết tật, khuôn mặt không được xinh xắn như những đứa trẻ khác, gia cảnh từ lâu lâm vào tình cảnh ngặt nghèo. Cô chợt hiểu ra rằng tuy cô vẫn làm điều tương tự với các em khác, nhưng hóa ra đối với Douglas bàn tay cô lại mang ý nghĩa sâu xa, một biểu tượng của tình yêu thương.

*(Quà tặng cuộc sống – Bài học yêu thương của thầy, Mai Hương)*

**1. Trắc nghiệm:** Chọn đáp án đúng nhất.

**Câu 1.** Văn bản trên được viết theo phương thức biểu đạt nào?

A. Tự sự                      B. Miêu tả                      C. Biểu cảm                      D. Nghị luận

**Câu 2.** Văn bản được kể theo ngôi thứ mấy?

A. Thứ nhất                      B. Thứ ba                      C. Thứ hai                      D. Cả A và B

**Câu 3.** Câu văn "Cô nhớ lại những phút ra chơi thường dùng bàn tay để dắt Douglas ra sân, bởi em là một cô bé khuyết tật, khuôn mặt không được xinh xắn như những đứa trẻ khác, gia cảnh từ lâu lâm vào tình cảnh ngặt nghèo" có bao nhiêu từ láy?

A. Một từ                      B. Hai từ                      C. Ba từ                      D. Bốn từ

**Câu 4.** Trong câu "Rồi các em cũng lại vẽ những gói quà, những ly kem hoặc những món đồ chơi, quyển truyện tranh" có mấy cụm danh từ?

A. Một cụm      B. Hai cụm      C. Ba cụm      D. Bốn cụm

**Câu 5.** Trọng ngữ trong câu “Trong một tiết dạy vẽ, có giáo viên bảo các em học sinh lớp một vẽ về điều gì làm cho em thích nhất trong đời” có chức năng gì?

A. Chỉ thời gian      B. Chỉ mục đích  
C. Chỉ nguyên nhân      D. Liên kết với câu trước

**Câu 6.** Thông điệp nào mà tác giả không gửi gắm đến bạn đọc?

A. Tình yêu thương, sự đồng cảm, giúp đỡ trong cuộc sống bắt nguồn từ những điều rất đời bình thường nhưng có ý nghĩa vô cùng to lớn.

B. Tình yêu thương khi xuất phát từ tấm lòng chân thành, không toan tính sẽ giúp mọi người xích lại gần nhau hơn.

C. Tình yêu thương mang lại nghị lực sống, giúp họ vươn lên, vượt qua những bất hạnh trong cuộc đời.

D. Tình yêu thiên nhiên xuất phát từ tấm lòng chân thành.

**Câu 7.** Trong câu: Cô giáo trầm nghĩ "Rồi các em cũng lại vẽ những gói quà, những ly kem hoặc những món đồ chơi, quyển truyện tranh." dấu ngoặc kép dùng để làm gì?

A. Đánh dấu lời nói trực tiếp của nhân vật.  
B. Đánh dấu ý nghĩ của nhân vật  
C. Đánh dấu từ ngữ dùng với ý nghĩa đặc biệt.  
D. Dấu ngoặc kép dùng phía cuối câu hỏi.

**Câu 8.** Trong câu: "Bàn tay thon thả thế này phải là bàn tay của một bác sĩ phẫu thuật...." Từ tay là:

A. Từ đồng âm      B. Từ đa nghĩa      C. Từ đơn nghĩa      D. Từ trái nghĩa

## 2. Tự luận:

**Câu 1:** Trong câu chuyện trên, cô giáo đã yêu cầu học sinh vẽ theo chủ đề nào?

**Câu 2:** Tại sao cô giáo lại ngạc nhiên khi Douglas vẽ một bàn tay?

**Câu 3:** Douglas vẽ bàn tay ai? Điều đó có ý nghĩa gì?

**Câu 4:** Nếu em gặp một bạn như Douglas em sẽ nói gì với bạn ấy?

## Bài tập 2: Đọc văn bản và trả lời các câu hỏi sau:

Đầu tiên, đó chính là sự thiếu ý thức nghiêm trọng và thờ ơ của người dân. Nhiều người cho rằng những việc mình làm là quá nhỏ bé, không đủ để làm hại môi trường. Một số người lại cho rằng việc bảo vệ môi trường là trách nhiệm của nhà nước, của các cấp chính quyền...trong khi số khác lại nghĩ rằng việc môi trường đã bị ô nhiễm thì có làm gì cũng "*chẳng ăn thua*", và ô nhiễm môi trường cũng không ảnh hưởng đến mình nhiều. Và chính những suy nghĩ này sẽ ảnh hưởng không nhỏ đến việc giáo dục cũng như tư duy bảo vệ môi trường của các thế hệ trẻ về sau.

Thật vậy, người lớn không làm gương để giáo dục trẻ em, mà mình chứng cụ thể đầu tiên là hành động vứt rác bừa bãi ra môi trường thay vì vứt đúng nơi quy định. Theo quan

sát, tại các trường học, chúng tôi nhiều lần chứng kiến phụ huynh đưa con đi học đến cổng trường dừng lại ăn sáng và sau khi ăn xong, thay vì bỏ hộp xôi, hộp bánh, túi nylon vào thùng rác thì họ lại vứt ngay tại chỗ. Mặc dù, các trường học có treo rất nhiều tấm biển, khẩu hiệu cấm xả rác bừa bãi nhưng phụ huynh vẫn thân nhiên xả rác nơi công cộng thì rất khó hình thành ý thức tốt cho thế hệ trẻ.

Nói cách khác, *thực trạng ô nhiễm môi trường nước* tại Việt Nam có sự đóng góp rất lớn từ chính ý thức kém của một bộ phận người dân. Tình trạng này thậm chí còn tồi tệ hơn ở các bãi biển tự nhiên. Theo thống kê mới nhất của Bộ Tài nguyên và Môi trường, tại Việt Nam rác thải nhựa chiếm 7% tổng lượng chất thải rắn thải ra, tương đương gần 2.500 tấn/ngày. Bạn có biết rằng Việt Nam đang đứng thứ 4 trên thế giới về lượng chất thải nhựa xả ra đại dương hàng năm lên đến 0,28 - 0,73 triệu tấn rác thải nhựa (chiếm 6% toàn thế giới), chỉ đứng sau Trung Quốc, Indonesia và Philippines.

( Nguồn internet)

**1. Trắc nghiệm:** Chọn đáp án đúng nhất.

**Câu 1:** Phương thức biểu đạt chính của văn bản trên là gì ?

A. Tự sự                      B. Miêu tả                      C. Nghị luận                      D. Thuyết minh

**Câu 2:** Nghĩa của từ “môi trường” là:

A. tập hợp tất cả các yếu tố tự nhiên và nhân tạo bao quanh con người, ảnh hưởng tới con người và tác động đến các hoạt động sống của con người

B. nơi sinh sống của con người

C. nơi sinh sống của các loài vật.

D. nơi sinh sống của con người và muôn loài.

**Câu 3:** Từ nào trong dãy từ sau được mượn từ ngôn ngữ châu Âu?

A. Khẩu hiệu

B. Nylon

C. Tấm biển

D. Đại dương

**Câu 4 :** Cụm từ “ vứt ngay tại chỗ” là cụm từ gì?

A. Cụm danh từ

B. Cụm động từ

C. Cụm tính từ

D. Cụm chủ vị

**Câu 5:** Theo tác giả : Nhiều người cho rằng những việc mình làm là:

A. rất quan trọng

B. bình thường

C. nhỏ bé

D. quá nhỏ bé, không đủ làm hại môi trường

**Câu 6 :** Thực trạng ô nhiễm môi trường nước chủ yếu là do đâu?

A. Ý thức kém của con người

B. Xác động vật phân huỷ

C. Lượng dư thừa thuốc trừ sâu

D. Tai nạn tàu thuyền làm loang dầu

**2. Tự luận:**

**Câu 1:** Chủ đề của văn bản trên là gì? Tìm những chi tiết kể về hành động thiếu ý thức bảo vệ môi trường của con người trong văn bản trên?

**Câu 2:** Nêu thông điệp mà văn bản muốn gửi tới chúng ta?

### Bài tập 3: Đọc đoạn thơ và trả lời các câu hỏi sau:

Cây dừa xanh toả nhiều tàu  
Dang tay đón gió, gật đầu gọi trăng  
Thân dừa bạc phéch thẳng năm  
Quả dừa – đàn lợn con nằm trên cao

Đêm hè hoa nở cùng sao  
Tàu dừa – chiếc lược chải vào mây xanh  
Ai mang nước ngọt, nước lạnh  
Ai đeo bao hũ rượu quanh cổ dừa

Tiếng dừa làm dịu nắng trưa  
Gọi đàn gió đến cùng dừa múa reo  
Trời trong đầy tiếng rì rào  
Đàn cò đánh nhịp bay vào bay ra...

Đứng canh trời đất bao la  
Mà dừa đứng đĩnh như là đứng chơi

(Trần Đăng Khoa)

#### 1. Trắc nghiệm: Chọn đáp án đúng nhất.

**Câu 1:** Bài thơ trên được viết theo thể thơ nào?

- A. Tự do                      B. Ngũ ngôn                      C. Lục bát                      D. Tứ tuyệt

**Câu 2:** Từ “*bạc phéch*” thuộc từ loại nào?

- A. Danh từ                      B. Động từ                      C. Tính từ                      D. Số từ

**Câu 3:** Xét theo cấu tạo, câu thơ “*Đêm hè hoa nở cùng sao*” là kiểu câu gì?

- A. Câu đơn                      B. Câu cảm thán                      C. Câu trần thuật                      D. Câu ghép

**Câu 4:** Trong bài thơ có mấy từ láy?

- A. Bốn                      B. Ba                      C. Hai                      D. Một

**Câu 5:** Từ “*đứng đĩnh*” có nghĩa là:

- A. Chậm rãi, tỏ ra không vội vã                      B. Không cần quan tâm đến điều gì  
C. Chậm chạp quá mức                      D. Luôn đi sau mọi người

**Câu 6:** Nhận định nào đúng nhất về từ “*trời đất*” ?

- A. Là từ láy                      B. Là từ ghép                      C. Là từ phức                      D. Là từ đơn

**Câu 7:** Câu thơ “*Dang tay đón gió, gật đầu gọi trăng.*” có mấy cụm động từ ?

- A. Một cụm                      B. Hai cụm                      C. Ba cụm                      D. Bốn cụm

**Câu 8:** Trong câu: “*Đêm hè hoa nở cùng sao*” đâu là trạng ngữ?

- A. Đêm hè                      B. hoa nở                      C. cùng sao                      D. không có trạng ngữ

#### 2. Tự luận:

**Câu 1.** Nêu nội dung của bài thơ?

**Câu 2.** Trong bài thơ trên, tác giả đã sử dụng rất thành công biện pháp tu từ nhân hóa. Em hãy chỉ ra biện pháp tu từ ấy trong bài thơ và nêu tác dụng?

**Câu 3.** Qua bài thơ, tác giả gợi liên tưởng đến ai? Với những phẩm chất cao đẹp gì?

#### **Bài tập 4: Đọc văn bản và trả lời các câu hỏi sau:**

(1) Năm 2009, Tổ chức Giáo dục, Khoa học và Văn hoá của Liên hợp quốc (UNESCO) đã chính thức lấy ngày 22 tháng 4 hằng năm làm Ngày Trái Đất. Từ mốc thời gian ấy, Ngày Trái Đất được coi là một sự kiện thường niên của các quốc gia trên thế giới, hướng tới mục tiêu bảo vệ môi trường, bảo vệ hành tinh xanh. Điều gì đang diễn ra với môi trường sống trên Trái Đất và vì sao vấn đề bảo vệ môi trường lại trở nên cấp thiết đến thế?

(2) Cần nhìn thẳng vào một sự thực: môi trường trên Trái Đất đang bị huỷ hoại và xuống cấp nghiêm trọng. Những nghiên cứu và cảnh báo về môi trường hiện nay tập trung vào các vấn đề: biến đổi khí hậu; hiệu ứng nhà kính; tình trạng ô nhiễm không khí; rác thải nhựa; sự cạn kiệt các tài nguyên thiên nhiên; sự suy giảm tính đa dạng sinh học;... Nói riêng về sự suy giảm tính đa dạng sinh học, theo báo cáo của Liên đoàn Bảo tồn thế giới (IUCN), kể từ năm 1500, đã có 953 loài động vật, thực vật biến mất trên Trái Đất. Trung bình mỗi năm hành tinh của chúng ta chứng kiến từ 1 đến 5 loài tuyệt chủng. Không chỉ thế, theo ước tính của các nhà khoa học, tốc độ biến mất của các loài có thể diễn ra nhanh hơn, gấp 1 000 lần, thậm chí gấp 10 000 lần so với tốc độ bình thường. Nhìn chung, tất cả các vấn đề này đều có quan hệ với nhau và đều liên quan (tùy mức độ) tới những hoạt động của con người như: phát triển sản xuất công nghiệp và nông nghiệp thiếu bền vững; khai thác và sử dụng tài nguyên lãng phí; đánh bắt bừa bãi thủy hải sản và động vật hoang dã; xả khí thải, xả rác vô độ;...

(3) Trái Đất là “mẹ” của muôn loài. Phải nói rằng chúng ta đang làm “mẹ” đau đớn, đồng thời đẩy những “người anh em” của mình tới tình trạng diệt vong. Một khi những “người anh em” trong tự nhiên đã ra đi, loài người liệu còn được bao nhiêu cơ hội sống sót? Mỗi chúng ta có thể và cần phải làm gì để bảo vệ môi trường sống của muôn loài và cũng là của chính mình?

(Theo Trần Dương (tổng hợp), báo điện tử Đất Việt - Diễn đàn của Liên hiệp các Hội Khoa học và Kỹ thuật Việt Nam, tháng 10/2020)

#### **1. Trắc nghiệm**

**Câu 1:** Vấn đề chính của đoạn (1) đã được tác giả nêu lên theo cách nào?

- A. Nêu bằng cách dẫn một ý kiến, nhận định tiêu biểu
- B. Nêu bằng cách đặt câu hỏi gợi mở
- C. Nêu bằng cách đưa ra những thông tin cụ thể về ngày tháng
- D. Nêu trực tiếp trong câu đầu tiên, có dẫn tên một tổ chức quốc tế lớn

**Câu 2:** Các số liệu được nêu trong đoạn (2) của văn bản cho biết điều gì?

- A. Số lượng các loài sinh vật bị tuyệt chủng và tốc độ biến mất của chúng
- B. Sự cạn kiệt tài nguyên thiên nhiên trên Trái Đất
- C. Sự xuống cấp của môi trường sống trên Trái Đất

D. Tốc độ biến mất ngày càng nhanh của các loài động vật hoang dã

**Câu 3:** Câu “Cần nhìn thẳng vào một sự thực: môi trường trên Trái Đất đang bị huỷ hoại và xuống cấp nghiêm trọng” được dùng để:

- A. Nêu bằng chứng về sự tổn thương của Trái Đất
- B. Nêu cảm xúc của người viết về vấn đề cần bàn luận
- C. Nêu lí do cần có Ngày Trái Đất
- D. Nêu ý kiến về vấn đề cần bàn luận trong đoạn văn

**Câu 4:** Biện pháp tu từ nào được sử dụng trong câu sau: “Phải nói rằng chúng ta đang làm “mẹ” đau đớn, đồng thời đẩy những “người anh em” của mình tới tình trạng diệt vong”?

- A. Ẩn dụ
- B. Điệp ngữ
- C. Hoán dụ
- D. So sánh

**Câu 5:** Các dấu ngoặc kép trong đoạn văn 3 dùng để làm gì?

- A. Đánh dấu từ ngữ đoạn dẫn trực tiếp
- B. Đánh dấu lời đối thoại
- C. Đánh dấu tên tác phẩm, tờ báo....
- D. Đánh dấu từ ngữ được hiểu theo nghĩa đặc biệt

**Câu 6:** Câu văn : “Năm 2009, Tổ chức Giáo dục, Khoa học và Văn hoá của Liên hợp quốc (UNESCO) đã chính thức lấy ngày 22 tháng 4 hằng năm làm Ngày Trái Đất” có mấy trạng ngữ?

- A. Một
- B. Hai
- C. Ba
- D. Bốn

**Câu 7:** Phương thức biểu đạt chính của văn bản là gì?

- A. Miêu tả
- B. Nghị luận
- C. Biểu cảm
- D. Tự sự

**Câu 8:** Câu văn sau sử dụng biện pháp tu từ nào? “Những nghiên cứu và cảnh báo về môi trường hiện nay tập trung vào các vấn đề: biến đổi khí hậu; hiệu ứng nhà kính; tình trạng ô nhiễm không khí; rác thải nhựa; sự cạn kiệt các tài nguyên thiên nhiên; sự suy giảm tính đa dạng sinh học;...”

- A. So sánh
- B. Nhân hóa
- C. Ẩn dụ
- D. Liệt kê

## 2. Tự luận

**Câu 1:** Tìm trong văn bản:

- a. Một câu nêu thông tin cụ thể
- b. Một câu giải thích hoặc bàn luận về vấn đề

**Câu 2:** Một khi những “người anh em” trong tự nhiên đã ra đi, loài người liệu còn được bao nhiêu cơ hội sống sót? Dựa vào nội dung bài đọc, hãy viết câu trả lời cho câu hỏi trên đây.

**Câu 3:** Đọc câu “*Các thảm hoạ môi trường nói trên không chỉ đe dọa huỷ diệt các loài động vật, thực vật mà còn gây ảnh hưởng nghiêm trọng đến sự sống của con người.*” và thực hiện các yêu cầu sau:

- a. Xác định các từ Hán Việt trong câu trên.



- b. Giải thích nghĩa của yếu tố “huỷ” trong từ “huỷ diệt”.
- c. Tìm ba từ có yếu tố “huỷ” với nghĩa được giải thích ở câu b.

**Bài 5: Xác định trạng ngữ và cho biết ý nghĩa của trạng ngữ trong mỗi câu sau:**

- a. Khi mùa thu sang, khắp nơi, hoa cúc nở vàng.
- b. Những ngày giáp Tết, trong các chợ hoa, mọi người mua sắm rất nhiều.
- c. Vì chủ quan, nhiều bạn làm bài kiểm tra chưa tốt.
- d. Để đạt thành tích xuất sắc, chúng tôi đã cố gắng rất nhiều.
- e. Bằng đôi cánh của mình, gà mẹ bảo vệ cả đàn gà con.
- g. Với tình thương vô bờ bến, người mẹ chăm sóc tận tình cho đứa con đang ốm.

**Bài 6. Thêm trạng ngữ cho các câu sau:**

- a. Lớp chúng tôi có bài kiểm tra môn Ngữ văn
- b. Trăm hoa đua nhau khoe sắc
- c. Chúng em phải học trực tuyến một khoảng thời gian dài
- d. Tôi luôn phấn đấu học tập và rèn luyện bản thân thật tốt
- e. Chúng ta cần giữ gìn sự trong sáng của tiếng Việt

**Phần II: Tập làm văn**

Đề 1: Kể lại một truyện truyền thuyết hoặc cổ tích mà em đã đọc hoặc nghe kể.

Đề 2: Hãy viết bài văn trình bày ý kiến về một hiện tượng (vấn đề) mà em quan tâm.

---

**NỘI DUNG ÔN TẬP THI CUỐI KỲ II MÔN THỂ CHẤT 6**

Nội dung ôn tập kiểm tra : **Chạy cự li trung bình.**

+ Các động tác hỗ trợ kĩ thuật chạy cự li trung bình.

Mức độ ĐẠT: Học sinh thực hiện đúng kĩ thuật động tác.

