

I. PHẦN TRẮC NGHIỆM (5 điểm): Học sinh tô vào đáp đúng trong phiếu trả lời trắc nghiệm:**Câu 1:** Sóng biển là

- A. dòng chuyển động trên biển và đại dương.
- B. hình thức dao động tại chỗ của nước biển và đại dương.
- C. hình thức dao động dưới đáy biển sinh ra.
- D. hiện tượng nước biển có lúc dâng lên, lúc sâu vào đất liền.

Câu 2: Các hồ móng ngựa được hình thành do

- A. núi lửa.
- B. di tích khúc sông cũ.
- C. sụt đất.
- D. băng hà.

Câu 3: Thành phần hữu cơ của lớp đất có đặc điểm

- A. chiếm một tỉ lệ lớn trong lớp đất.
- B. có nguồn gốc sinh ra là đá mẹ.
- C. gồm những hạt có màu sắc loang lổ và kích thước to nhỏ khác nhau.
- D. tồn tại chủ yếu trong tầng trên cùng của lớp đất.

Câu 4: Nguyên nhân sinh ra thủy triều là do

- A. động đất ngầm ở đáy biển.
- B. núi lửa phun.
- C. gió thổi.
- D. sức hút Mặt Trăng và Mặt Trời.

Câu 5: Độ muối trung bình của nước biển và đại dương là bao nhiêu?

- A. 35%.
- B. 35‰.
- C. 25‰.
- D. 25%.

Câu 6: Thành phần khoáng của lớp đất có đặc điểm

- A. chiếm phần lớn trọng lượng của đất.
- B. có màu xám thẫm hoặc đen.
- C. có nguồn gốc sinh ra là sinh vật.
- D. tồn tại trên cùng của lớp đất đá.

Câu 7: Nguồn gốc sinh ra thành phần hữu cơ trong đất là

- A. đá mẹ.
- B. địa hình.
- C. khí hậu.
- D. sinh vật.

*Sử dụng biểu đồ nhiệt độ lượng mưa trả lời từ câu 8 đến câu 11:***Câu 8:** Tháng có nhiệt độ cao nhất là

- A. tháng 7.
- B. tháng 1.
- C. tháng 12.
- D. tháng 9.

Câu 9: Tháng có nhiệt độ thấp nhất là

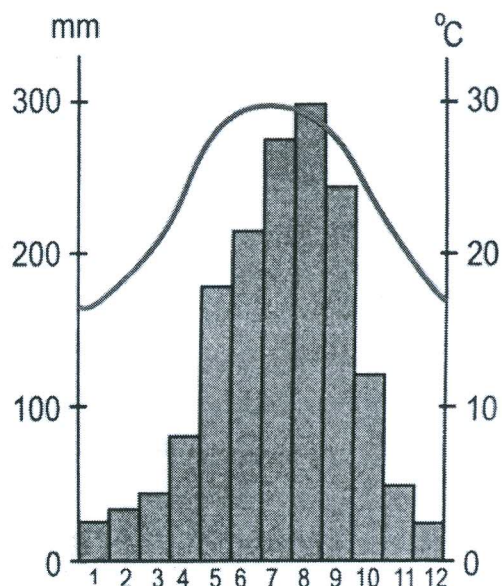
- A. tháng 1.
- B. tháng 11.
- C. tháng 12.
- D. tháng 2.

Câu 10: Tháng có lượng mưa cao nhất là

- A. tháng 8.
- B. tháng 9.
- C. tháng 7.
- D. tháng 10.

Câu 11: Mùa mưa bắt đầu từ

- A. tháng 6 đến tháng 9.
- B. tháng 4 đến tháng 10.
- C. tháng 5 đến tháng 10.
- D. tháng 11 đến tháng 4 năm sau.



Câu 12: Dựa vào Tập bản đồ Địa lí 6 trang 28 – 29, cho biết các dòng biển nào dưới đây là dòng biển lạnh?

- A. Pêru, Canari, Benghêla.
- B. Alaxca, Gonxtorim, Mũi Kim.
- C. Phônlen, Bắc Xích Đạo, Currôsiô.
- D. Xômali, Nam Xích Đạo, Braxin.

Câu 13: Trong sản xuất nông nghiệp, loại đất tốt nhất để trồng cây lúa là

- A. đất cát pha.
- B. đất xám.
- C. đất đỏ badan.
- D. đất phù sa.

Câu 14: Dựa vào Tập bản đồ Địa lí 6 trang 24 – 25, cho biết Việt Nam nằm trong khu vực có lượng mưa trung bình năm là bao nhiêu?

- A. 1000 – 2000 mm.
- B. Dưới 200 mm.
- C. 500 – 1000 mm.
- D. 2000 – 3000 mm.

Câu 15: Nguyên nhân chủ yếu sinh ra sóng là do

- A. động đất.
- B. gió thổi.
- C. núi lửa phun.
- D. thủy triều.

Dựa vào bảng sau trả lời câu hỏi 16, 17:

Lượng mưa các tháng trong năm 2018 tại Hà Nội (mm)

Tháng	1	2	3	4	5	6	7	8	9	10	11	12
Hà Nội	16,6	10,0	34,0	58,8	209,0	188,5	428,1	313,4	229,7	94,4	28,2	84,2

Câu 16: Tổng lượng mưa trong các tháng mùa mưa (tháng 5, 6, 7, 8, 9, 10) ở thành phố Hà Nội là

- A. 1.687,3 mm.
- B. 1694,9 mm.
- C. 1463,1 mm.
- D. 1.570,3 mm.

Câu 17: Tổng lượng mưa trong năm 2018 ở Hà Nội là

- A. 1.093,9 mm.
- B. 1694,9 mm.
- C. 1.570,3 mm.
- D. 1.687,3 mm.

Câu 18: Dòng biển nóng ảnh hưởng đến khí hậu những vùng ven biển mà chúng đi qua làm cho

- A. nhiệt độ giảm mạnh.
- B. lượng mưa giảm mạnh.
- C. khí hậu ẩm, ấm hơn.
- D. khí hậu trở nên khô, nóng.

Câu 19: Hai thành phần chính của lớp đất là

- A. nước và không khí.
- B. hữu cơ và nước.
- C. cơ giới và không khí.
- D. khoáng và hữu cơ.

Câu 20: Hồ nước mặn thường có ở những nơi

- A. gần biển do có nước ngầm mặn.
- B. có nhiều sinh vật phát triển trong hồ.
- C. khí hậu khô hạn ít mưa, độ bốc hơi lớn.
- D. khí hậu nóng ẩm mưa nhiều nhưng có độ bốc hơi lớn.

II. PHẦN TỰ LUẬN (5 điểm):

Câu 1:

a, (2 điểm) Thế nào là sông, lưu vực sông?

b, (2 điểm) Sông ngòi có ảnh hưởng như thế nào đến đời sống và sản xuất của con người?

Câu 2: (1 điểm) Liên hệ kiến thức bản thân, em hãy trình bày một số biện pháp bảo vệ đất đai và làm tăng độ phì nhiêu cho đất?

.....**HẾT**.....

Ghi chú:

* Học sinh làm bài vào phiếu kiểm tra.

* Học sinh được sử dụng Tập bản đồ Địa lí 6 do NXB Giáo dục Việt Nam phát hành.

I. PHẦN TRẮC NGHIỆM (5 điểm): Học sinh tô vào đáp đúng trong phiếu trả lời trắc nghiệm:

Câu 1: Độ muối trung bình của nước biển và đại dương là bao nhiêu?

- A. 35%. B. 25‰. C. 25%. D. 35‰.

Câu 2: Hồ nước mặn thường có ở những nơi

- A. gần biển do có nước ngầm mặn.
B. có nhiều sinh vật phát triển trong hồ.
C. khí hậu khô hạn ít mưa, độ bốc hơi lớn.
D. khí hậu nóng ẩm mưa nhiều nhưng có độ bốc hơi lớn.

Câu 3: Dựa vào Tập bản đồ Địa lí 6 trang 28 – 29, cho biết các dòng biển nào dưới đây là dòng biển lạnh?

- A. Alaxca, Gonxtorim, Mũi Kim.
B. Pêru, Canari, Benghêla.
C. Xômalì, Nam Xích Đạo, Braxin.
D. Phônlen, Bắc Xích Đạo, Curôsiô.

Sử dụng biểu đồ nhiệt độ lượng mưa trả lời từ câu 4 đến câu 7:

Câu 4: Mùa mưa bắt đầu từ

- A. tháng 5 đến tháng 10.
B. tháng 11 đến tháng 4 năm sau.
C. tháng 4 đến tháng 10.
D. tháng 6 đến tháng 9.

Câu 5: Tháng có nhiệt độ thấp nhất là

- A. tháng 2. B. tháng 11.
C. tháng 12. D. tháng 1.

Câu 6: Tháng có nhiệt độ cao nhất là

- A. tháng 9. B. tháng 1.
C. tháng 12. D. tháng 7.

Câu 7: Tháng có lượng mưa cao nhất là

- A. tháng 8. B. tháng 9.
C. tháng 7. D. tháng 10.

Câu 8: Hai thành phần chính của lớp đất là

- A. hữu cơ và nước. B. nước và không khí.
C. cơ giới và không khí. D. khoáng và hữu cơ.

Câu 9: Dựa vào Tập bản đồ Địa lí 6 trang 24 – 25, cho biết Việt Nam nằm trong khu vực có lượng mưa trung bình năm là bao nhiêu?

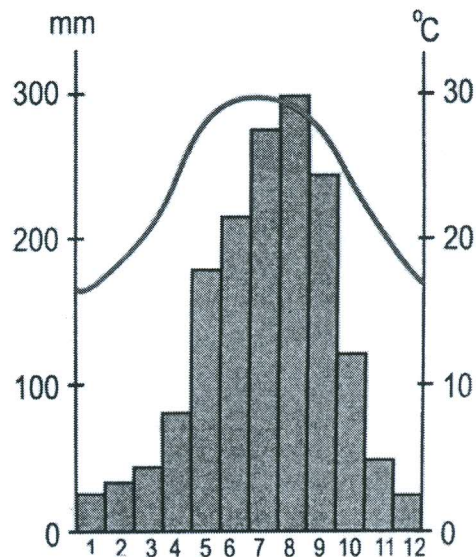
- A. Dưới 200 mm. B. 1000 – 2000 mm.
C. 500 – 1000 mm. D. 2000 – 3000 mm.

Câu 10: Các hồ móng ngựa được hình thành do

- A. sụt đất. B. băng hà.
C. núi lửa. D. di tích khúc sông cũ.

Câu 11: Sóng biển là

- A. dòng chuyển động trên biển và đại dương.



- B. hiện tượng nước biển có lúc dâng lên, lấn sâu vào đất liền.
 C. hình thức dao động tại chỗ của nước biển và đại dương.
 D. hình thức dao động dưới đáy biển sinh ra.
- Câu 12:** Trong sản xuất nông nghiệp, loại đất tốt nhất để trồng cây lúa là
 A. đất đỏ badan. B. đất phù sa. C. đất cát pha. D. đất xám.
- Câu 13:** Nguyên nhân sinh ra thủy triều là do
 A. sức hút Mặt Trăng và Mặt Trời. B. núi lửa phun.
 C. gió thổi. D. động đất ngầm ở đáy biển.
- Câu 14:** Dòng biển nóng ảnh hưởng đến khí hậu những vùng ven biển mà chúng đi qua làm cho
 A. nhiệt độ giảm mạnh. B. lượng mưa giảm mạnh.
 C. khí hậu ẩm, ấm hơn. D. khí hậu trở nên khô, nóng.
- Câu 15:** Nguyên nhân chủ yếu sinh ra sóng là do
 A. gió thổi. B. động đất. C. núi lửa phun. D. thủy triều.
- Dựa vào bảng sau trả lời câu hỏi 16, 17:

Lượng mưa các tháng trong năm 2018 tại Hà Nội (mm)

Tháng	1	2	3	4	5	6	7	8	9	10	11	12
Hà Nội	16,6	10,0	34,0	58,8	209,0	188,5	428,1	313,4	229,7	94,4	28,2	84,2

- Câu 16:** Tổng lượng mưa trong các tháng mùa mưa (tháng 5, 6, 7, 8, 9, 10) ở thành phố Hà Nội là
 A. 1.687,3 mm. B. 1694,9 mm. C. 1463,1 mm. D. 1.570,3 mm.
- Câu 17:** Tổng lượng mưa trong năm 2018 ở Hà Nội là
 A. 1.093,9 mm. B. 1694,9 mm. C. 1.570,3 mm. D. 1.687,3 mm.
- Câu 18:** Thành phần khoáng của lớp đất có đặc điểm
 A. chiếm phần lớn trọng lượng của đất.
 B. có nguồn gốc sinh ra là sinh vật.
 C. tồn tại trên cùng của lớp đất đá.
 D. có màu xám thẫm hoặc đen.
- Câu 19:** Thành phần hữu cơ của lớp đất có đặc điểm
 A. chiếm một tỉ lệ lớn trong lớp đất.
 B. tồn tại chủ yếu trong tầng trên cùng của lớp đất.
 C. gồm những hạt có màu sắc loang lổ và kích thước to nhỏ khác nhau.
 D. có nguồn gốc sinh ra là đá mẹ.
- Câu 20:** Nguồn gốc sinh ra thành phần hữu cơ trong đất là
 A. đá mẹ. B. địa hình. C. khí hậu. D. sinh vật.

II. PHẦN TỰ LUẬN (5 điểm):

Câu 1:

a, (2 điểm) Thế nào là sông, lưu vực sông?

b, (2 điểm) Sông ngòi có ảnh hưởng như thế nào đến đời sống và sản xuất của con người?

Câu 2: (1 điểm) Liên hệ kiến thức bản thân, em hãy trình bày một số biện pháp bảo vệ đất đai và làm tăng độ phì nhiêu cho đất?

.....**HẾT**.....

Ghi chú:

* Học sinh làm bài vào phiếu kiểm tra.

* Học sinh được sử dụng Tập bản đồ Địa lí 6 do NXB Giáo dục Việt Nam phát hành.

I. PHẦN TRẮC NGHIỆM (5 điểm): Học sinh tô vào đáp đúng trong phiếu trả lời trắc nghiệm:

Câu 1: Nguồn gốc sinh ra thành phần hữu cơ trong đất là

- A. đá mẹ. B. sinh vật. C. địa hình. D. khí hậu.

Câu 2: Các hồ móng ngựa được hình thành do

- A. băng hà. B. sụt đất.
C. di tích khúc sông cũ. D. núi lửa.

Câu 3: Hai thành phần chính của lớp đất là

- A. khoáng và hữu cơ. B. nước và không khí.
C. hữu cơ và nước. D. cơ giới và không khí.

Câu 4: Hồ nước mặn thường có ở những nơi

- A. khí hậu nóng ẩm mưa nhiều nhưng có độ bốc hơi lớn.
B. có nhiều sinh vật phát triển trong hồ.
C. gần biển do có nước ngầm mặn.
D. khí hậu khô hạn ít mưa, độ bốc hơi lớn.

Câu 5: Trong sản xuất nông nghiệp, loại đất tốt nhất để trồng cây lúa là

- A. đất đỏ badan. B. đất xám.
C. đất cát pha. D. đất phù sa.

Câu 6: Dựa vào Tập bản đồ Địa lí 6 trang 24 – 25, cho biết Việt Nam nằm trong khu vực có lượng mưa trung bình năm là bao nhiêu?

- A. Dưới 200 mm. B. 1000 – 2000 mm.
C. 500 – 1000 mm. D. 2000 – 3000 mm.

Sử dụng biểu đồ nhiệt độ lượng mưa trả lời từ câu 7 đến câu 10:

Câu 7: Mùa mưa bắt đầu từ

- A. tháng 4 đến tháng 10.
B. tháng 11 đến tháng 4 năm sau.
C. tháng 5 đến tháng 10.
D. tháng 6 đến tháng 9.

Câu 8: Tháng có nhiệt độ cao nhất là

- A. tháng 9. B. tháng 1.
C. tháng 12. D. tháng 7.

Câu 9: Tháng có lượng mưa cao nhất là

- A. tháng 8. B. tháng 9.
C. tháng 7. D. tháng 10.

Câu 10: Tháng có nhiệt độ thấp nhất là

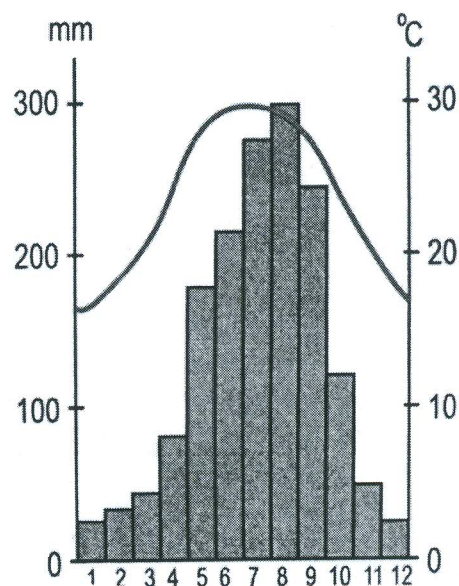
- A. tháng 1. B. tháng 2.
C. tháng 12. D. tháng 11.

Câu 11: Nguyên nhân sinh ra thủy triều là do

- A. sức hút Mặt Trăng và Mặt Trời. B. núi lửa phun.
C. gió thổi. D. động đất ngầm ở đáy biển.

Câu 12: Nguyên nhân chủ yếu sinh ra sóng là do

- A. gió thổi. B. động đất. C. núi lửa phun. D. thủy triều.



Câu 13: Dòng biển nóng ảnh hưởng đến khí hậu những vùng ven biển mà chúng đi qua làm cho

- A. nhiệt độ giảm mạnh. B. lượng mưa giảm mạnh.
C. khí hậu trở nên khô, nóng. D. khí hậu ẩm, ẩm hơn.

Câu 14: Dựa vào Tập bản đồ Địa lí 6 trang 28 – 29, cho biết các dòng biển nào dưới đây là dòng biển lạnh?

- A. Alaxca, Gonxtorim, Mũi Kim.
B. Phônlen, Bắc Xích Đạo, Curôsiô.
C. Pêru, Canari, Benghêla.
D. Xômali, Nam Xích Đạo, Braxin.

Dựa vào bảng sau trả lời câu hỏi 15, 16:

Lượng mưa các tháng trong năm 2018 tại Hà Nội (mm)

Tháng	1	2	3	4	5	6	7	8	9	10	11	12
Hà Nội	16,6	10,0	34,0	58,8	209,0	188,5	428,1	313,4	229,7	94,4	28,2	84,2

Câu 15: Tổng lượng mưa trong các tháng mùa mưa (tháng 5, 6, 7, 8, 9, 10) ở thành phố Hà Nội là

- A. 1.687,3 mm. B. 1694,9 mm. C. 1463,1 mm. D. 1.570,3 mm.

Câu 16: Tổng lượng mưa trong năm 2018 ở Hà Nội là

- A. 1.093,9 mm. B. 1694,9 mm. C. 1.570,3 mm. D. 1.687,3 mm.

Câu 17: Thành phần khoáng của lớp đất có đặc điểm

- A. chiếm phần lớn trọng lượng của đất.
B. có nguồn gốc sinh ra là sinh vật.
C. tồn tại trên cùng của lớp đất đá.
D. có màu xám thẫm hoặc đen.

Câu 18: Thành phần hữu cơ của lớp đất có đặc điểm

- A. chiếm một tỉ lệ lớn trong lớp đất.
B. tồn tại chủ yếu trong tầng trên cùng của lớp đất.
C. gồm những hạt có màu sắc loang lổ và kích thước to nhỏ khác nhau.
D. có nguồn gốc sinh ra là đá mẹ.

Câu 19: Độ muối trung bình của nước biển và đại dương là bao nhiêu?

- A. 25‰. B. 25%. C. 35%. D. 35‰.

Câu 20: Sóng biển là

- A. hiện tượng nước biển có lúc dâng lên, lặn sâu vào đất liền.
B. hình thức dao động tại chỗ của nước biển và đại dương.
C. hình thức dao động dưới đáy biển sinh ra.
D. dòng chuyển động trên biển và đại dương.

II. PHẦN TỰ LUẬN (5 điểm):

Câu 1:

a, (2 điểm) Thế nào là sông, lưu vực sông?

b, (2 điểm) Sông ngòi có ảnh hưởng như thế nào đến đời sống và sản xuất của con người?

Câu 2: (1 điểm) Liên hệ kiến thức bản thân, em hãy trình bày một số biện pháp bảo vệ đất đai và làm tăng độ phì nhiêu cho đất?

.....**HẾT**.....

Ghi chú:

* Học sinh làm bài vào phiếu kiểm tra.

* Học sinh được sử dụng Tập bản đồ Địa lí 6 do NXB Giáo dục Việt Nam phát hành.

ĐỀ CHÍNH THỨC

Mã đề 04

I. PHẦN TRẮC NGHIỆM (5 điểm): Học sinh tô vào đáp đúng trong phiếu trả lời trắc nghiệm:

Câu 1: Thành phần hữu cơ của lớp đất có đặc điểm

- A. chiếm một tỉ lệ lớn trong lớp đất.
- B. tồn tại chủ yếu trong tầng trên cùng của lớp đất.
- C. gồm những hạt có màu sắc loang lổ và kích thước to nhỏ khác nhau.
- D. có nguồn gốc sinh ra là đá mẹ.

Câu 2: Dựa vào Tập bản đồ Địa lí 6 trang 28 – 29, cho biết các dòng biển nào dưới đây là dòng biển lạnh?

- A. Alaxca, Gonxtorim, Mũi Kim.
- B. Phônlen, Bắc Xích Đạo, Curôsiô.
- C. Pêru, Canari, Benghêla.
- D. Xômali, Nam Xích Đạo, Braxin.

Câu 3: Nguyên nhân chủ yếu sinh ra sóng là do

- A. gió thổi.
- B. động đất.
- C. núi lửa phun.
- D. thủy triều.

Câu 4: Thành phần khoáng của lớp đất có đặc điểm

- A. chiếm phần lớn trọng lượng của đất.
- B. có nguồn gốc sinh ra là sinh vật.
- C. tồn tại trên cùng của lớp đất đá.
- D. có màu xám thẫm hoặc đen.

Sử dụng biểu đồ nhiệt độ lượng mưa trả lời từ câu 5 đến câu 8:

Câu 5: Mùa mưa bắt đầu từ

- A. tháng 4 đến tháng 10.
- B. tháng 11 đến tháng 4 năm sau.
- C. tháng 5 đến tháng 10.
- D. tháng 6 đến tháng 9.

Câu 6: Tháng có lượng mưa cao nhất là

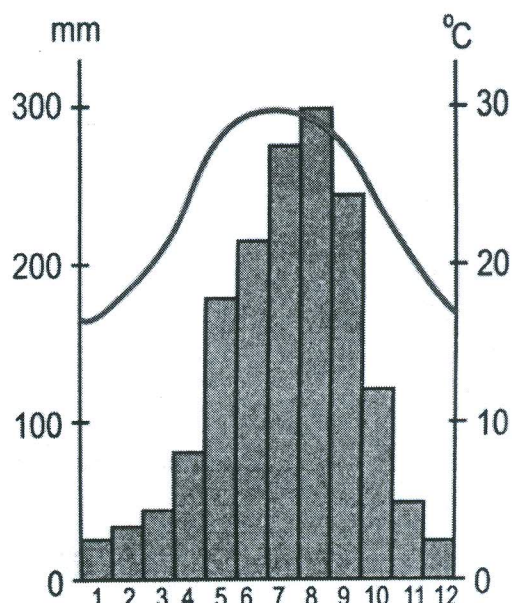
- A. tháng 10.
- B. tháng 9.
- C. tháng 7.
- D. tháng 8.

Câu 7: Tháng có nhiệt độ thấp nhất là

- A. tháng 12.
- B. tháng 2.
- C. tháng 1.
- D. tháng 11.

Câu 8: Tháng có nhiệt độ cao nhất là

- A. tháng 1.
- B. tháng 7.
- C. tháng 9.
- D. tháng 12.



Dựa vào bảng sau trả lời câu hỏi 9, 10:

Lượng mưa các tháng trong năm 2018 tại Hà Nội (mm)

Tháng	1	2	3	4	5	6	7	8	9	10	11	12
Hà Nội	16,6	10,0	34,0	58,8	209,0	188,5	428,1	313,4	229,7	94,4	28,2	84,2

Câu 9: Tổng lượng mưa trong các tháng mùa mưa (tháng 5, 6, 7, 8, 9, 10) ở thành phố Hà Nội là

- A. 1.687,3 mm.
- B. 1.570,3 mm.
- C. 1.694,9 mm.
- D. 1.463,1 mm.

- Câu 10:** Tổng lượng mưa trong năm 2018 ở Hà Nội là
 A. 1.093,9 mm. B. 1.570,3 mm. C. 1694,9 mm. D. 1.687,3 mm.
- Câu 11:** Dựa vào Tập bản đồ Địa lí 6 trang 24 – 25, cho biết Việt Nam nằm trong khu vực có lượng mưa trung bình năm là bao nhiêu?
 A. 2000 – 3000 mm. B. 500 – 1000 mm.
 C. Dưới 200 mm. D. 1000 – 2000 mm.
- Câu 12:** Hồ nước mặn thường có ở những nơi
 A. có nhiều sinh vật phát triển trong hồ.
 B. khí hậu nóng ẩm mưa nhiều nhưng có độ bốc hơi lớn.
 C. gần biển do có nước ngầm mặn.
 D. khí hậu khô hạn ít mưa, độ bốc hơi lớn.
- Câu 13:** Dòng biển nóng ảnh hưởng đến khí hậu những vùng ven biển mà chúng đi qua làm cho
 A. nhiệt độ giảm mạnh. B. khí hậu ẩm, ấm hơn.
 C. khí hậu trở nên khô, nóng. D. lượng mưa giảm mạnh.
- Câu 14:** Trong sản xuất nông nghiệp, loại đất tốt nhất để trồng cây lúa là
 A. đất xám. B. đất phù sa. C. đất đỏ badan. D. đất cát pha.
- Câu 15:** Hai thành phần chính của lớp đất là
 A. khoáng và hữu cơ. B. nước và không khí.
 C. hữu cơ và nước. D. cơ giới và không khí.
- Câu 16:** Nguyên nhân sinh ra thủy triều là do
 A. sức hút Mặt Trăng và Mặt Trời. B. gió thổi.
 C. động đất ngầm ở đáy biển. D. núi lửa phun.
- Câu 17:** Các hồ móng ngựa được hình thành do
 A. núi lửa. B. di tích khúc sông cũ.
 C. sụt đất. D. băng hà.
- Câu 18:** Độ muối trung bình của nước biển và đại dương là bao nhiêu?
 A. 25‰. B. 25%. C. 35%. D. 35‰.
- Câu 19:** Sóng biển là
 A. hiện tượng nước biển có lúc dâng lên, lúc sâu vào đất liền.
 B. hình thức dao động dưới đáy biển sinh ra.
 C. hình thức dao động tại chỗ của nước biển và đại dương.
 D. dòng chuyển động trên biển và đại dương.
- Câu 20:** Nguồn gốc sinh ra thành phần hữu cơ trong đất là
 A. đá mẹ. B. địa hình. C. sinh vật. D. khí hậu.

II. PHẦN TỰ LUẬN (5 điểm):

Câu 1:

a, (2 điểm) Thế nào là sông, lưu vực sông?

b, (2 điểm) Sông ngòi có ảnh hưởng như thế nào đến đời sống và sản xuất của con người?

Câu 2: (1 điểm) Liên hệ kiến thức bản thân, em hãy trình bày một số biện pháp bảo vệ đất đai và làm tăng độ phì nhiêu cho đất?

.....**HẾT**.....

Ghi chú:

* Học sinh làm bài vào phiếu kiểm tra.

* Học sinh được sử dụng Tập bản đồ Địa lí 6 do NXB Giáo dục Việt Nam phát hành.