

TRƯỜNG THCS NGỌC THỤY  
NHÓM TIN 7

ĐỀ CHÍNH THỨC

ĐỀ KIỂM TRA HỌC KÌ I  
MÔN TIN HỌC 7

Năm học 2020 – 2021

Ngày kiểm tra: 22/12/2020

Thời gian: 45 phút

**A. TRẮC NGHIỆM (5 điểm)**

Em hãy chọn chữ cái đứng trước câu trả lời đúng nhất sau đó ghi vào giấy kiểm tra.

**Câu 1: Phần mềm bảng tính là:**

- A. MicroSoft Word  
B. MicroSoft Excel  
C. MicroSoft Power Point  
D. MicroSoft Access

**Câu 2:** Thông tin được lưu dưới dạng bảng có ưu điểm gì?

- A. Tính toán nhanh chóng  
B. Dễ theo dõi, tính toán nhanh chóng  
C. Dễ sắp xếp  
D. Dễ sắp xếp, dễ theo dõi, tính toán nhanh chóng

**Câu 3:** Khối là tập hợp các ô kề nhau tạo thành hình chữ nhật. Địa chỉ khối được thể hiện như câu nào sau đây là đúng

- A. H1...H5  
B. H1:H5  
C. H1 - H5  
D. H1->H5

**Câu 4:** Hộp tên cho biết thông tin:

- A. Tên của cột  
B. Tên của hàng  
C. Địa chỉ ô tính được chọn  
D. Tên trang tính

**Câu 5:** Trong ô xuất hiện ##### vì:

- A. Độ rộng của cột quá nhỏ, không hiển thị hết dãy số quá dài  
B. Độ rộng của hàng quá nhỏ, không hiển thị hết dãy số quá dài  
C. Tính toán ra kết quả sai  
D. Công thức nhập sai

**Câu 6:** Công thức nào viết sai:

- A. =Average(A1:A5)  
B. =SUM(A1:A5)/5  
C. = Average(A1:A5)/5  
D. =(A1+A2+A3+A4)/5

**Câu 7:** Công thức nào viết đúng:

- A. =Sum(A1;A2;A3;A4)  
B. =SUM(A1:A4)  
C. =sum(A1;A4)  
D. =Sum(A1-A4)

**Câu 8:** Để tính tổng giá trị các ô E3 và F7, sau đó nhân với 10% ta thực hiện bằng công thức nào sau đây?

- A. E3 + F7 \* 10%.  
B. =(E3 + F7) \* 10%  
C. (E3 + F7) \* 10%  
D. =E3 + (F7 \* 10%)

**Câu 9:** Phần mềm Typing Master dùng để:

- A. Luyện gõ phím nhanh bằng 10 ngón tay  
B. Học địa lý thế giới  
C. Học toán học  
D. Học vẽ




**Câu 10:** Để thoát khỏi màn hình EXCEL ta chọn cách nào đây?

- A. File/Open      B. File/Save      C. File/Exit      D. File/Print

**Câu 11:** Địa chỉ ô B3 nằm ở :

- A. Cột B, cột 3      B. Hàng B, cột 3  
C. Hàng B, hàng 3      D. Cột B, hàng 3

**Câu 12:** Trong các nút lệnh     nút lệnh nào dùng để lưu bảng tính

- A.       B.       C.       D. 

**Câu 13:** Để tính giá trị lớn nhất ta sử dụng hàm:

- A. MAX      B. SUM      C. MIN      D. AVERAGE

**Câu 14:** Địa chỉ của một ô là:





- A. Tên cột mà ô đó nằm trên đó  
B. Cặp tên cột và tên hàng mà ô đó nằm trên  
C. Tên hàng mà ô đó nằm trên đó  
D. Cặp tên hàng và tên cột mà ô đó nằm trên đó

**Câu 15:** Để thêm cột trên trang tính ta thực hiện như sau:

- A. Insert / Rows;      B. Insert / Columns;      C. Table / Columns;      D. Table / Rows


**Câu 16:** Muốn nhập công thức vào bảng tính, cách nhập nào là đúng?

- A.  $15^2 + 4 : 2$       B.  $= 15^2 + 4 : 2$       C.  $= 15^2 + 4/2$       D.  $= 15^2 + 4:2$

**Câu 17:** Trong các nút lệnh     nút lệnh nào dùng để mở bảng tính cũ:

- A.       B.       C.       D. 

**Câu 18:** Bạn Hồng đang mở bảng tính *Danh sách lớp em*, bạn ấy muốn lưu lại với tên *Bang diem lop em*. Nếu em là Hồng, em sẽ thực hiện:

- A. Nháy vào nút lệnh       B. File → Save as      C. Ctrl + V      D. File → Save

**Câu 19:** Để chọn đồng thời nhiều khối khác nhau, ta chọn khối đầu tiên rồi nhấn phím gì để chọn các khối tiếp theo?

- A. Shift      B. Ctrl      C. Enter      D. Delete

**Câu 20:** Earth Explorer là phần mềm:

- A. Học vẽ      B. Xem và tra cứu bản đồ  
C. Luyện gõ 10 ngón      D. Học toán

### **B. TỰ LUẬN (5 điểm)**

**Câu 1:**(2 điểm) Chương trình bảng tính là gì? Đặc trưng chung của chương trình bảng tính?

**Câu 2:**(2 điểm) Kể ra các phép toán cơ bản và kí hiệu của các phép toán đó trong chương trình bảng tính?

**Câu 5:** (1 điểm) Dữ liệu trên trang tính gồm những gì?

*Học sinh làm bài ra giấy kiểm tra.*

*Chúc các con làm bài tốt!*