


TRƯỜNG THCS NGỌC THỤY
NHÓM TIN 7



ĐỀ CHÍNH THỨC

ĐỀ KIỂM TRA CUỐI HỌC KÌ II
MÔN TIN HỌC 7

Năm học 2020 – 2021

Ngày kiểm tra: 29/04/2021

Thời gian: 45 phút

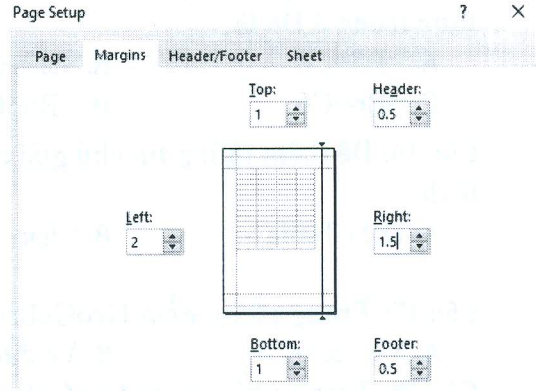
Đề 1

A. TRẮC NGHIỆM (5 điểm)

Chọn chữ cái đứng trước câu trả lời đúng và ghi vào bài làm:

Câu 1: Quan sát hộp thoại page setup như hình dưới, em hãy cho biết lề trái của bảng tính là bao nhiêu?

- A. 1 B. 1.5
C. 2 D. 0.5



Câu 2: Nút lệnh Merge & Center dùng để:

- A. Gộp và căn trái
B. Căn giữa nhiều ô
C. Gộp và căn giữa
D. Gộp nhiều ô thành 1 ô

Câu 3: Các dạng biểu đồ phổ biến thường dùng là:

- A. Đường gấp khúc, hình tròn. B. Biểu đồ hình cột, đường gấp khúc.
C. Biểu đồ hình cột, đường gấp khúc, hình tròn. D. Biểu đồ hình cột, hình tròn.

Câu 4: Trong định dạng bảng tính có mấy hướng trang?

- A. 2 B. 3 C. 4 D. 1

Câu 5: Nhóm lệnh Sort & Filter thuộc dải lệnh:

- A. Home và Data B. Home và View C. Data và View D. Home và Design

Câu 6: Lệnh Axis Titles trong nhóm lệnh Labels dùng để:

- A. Thêm hoặc ẩn tiêu đề của trục tọa độ B. Thêm hoặc ẩn tiêu đề của biểu đồ.
C. Thêm hoặc ẩn chú giải của biểu đồ. D. Thêm hoặc ẩn giá trị của trục tọa độ.

Câu 7: Chọn phát biểu đúng:

- A. Khi dữ liệu thay đổi, phải xây dựng lại biểu đồ từ đầu.
B. Chỉ có thể trình bày từng loại dữ liệu bằng duy nhất một dạng biểu đồ phù hợp.
C. Không thể thay đổi được dạng biểu đồ đối với một biểu đồ đã được tạo.
D. Biểu đồ cột minh họa các số liệu trong bảng dưới dạng các cột.

Câu 8: Để in trang tính em chọn:

- A. File\ Open B. File\ Edit C. File\ Print D. File\ Save

Câu 9: Để vẽ biểu đồ em chọn nhóm lệnh:

- A. Add-Ins B. Charts C. Insert D. Table

Câu 10: Ô C5 có màu vàng, chữ màu đỏ; ô A3 có màu trắng, chữ đen. Nếu sao chép nội dung ô C5 sang ô A3 thì:

- A. Ô A3 màu vàng, chữ đỏ. B. Ô A3 màu trắng, chữ đỏ.
C. Ô A3 màu trắng, chữ đen. D. Ô A3 màu vàng, chữ đen.

Câu 11: Cho dữ liệu như hình 2a, để định dạng được như hình 2b, em nhấn chọn nút lệnh:

Kiểm tra (Hình 2a)

- A. **B** , U , *I*

- B. U và *I*

Kiểm tra (Hình 2b)

- C. **B** và U

- D. **B** và *I*

Câu 12: Để lọc dữ liệu em sử dụng lệnh:

- A. Select B. Filter C. Fill D. Sort

Câu 13: Nút lệnh để thực hiện sắp xếp theo thứ tự tăng dần là:

- A.  B.  C.  D. 

Câu 14: Muốn tính tổng các giá trị trong ô A2 và D3, sau đó lấy kết quả nhân với giá trị trong ô E4. Em nhập công thức:

- A. = (A2 + D3) E4 B. (A2 + D3) * E4 C. = (A2 + D3) x E4 D. = (A2 + D3) * E4

Câu 15: Cho bảng như hình:

Nếu di chuyển công thức ở ô D5 sang ô D6 thì công thức trong ô D6 là:

- A. =B5+C6 B. =B5+C5
C. =B6+C6 D. =B6+C5

D5	=B5+C5				
	A	B	C	D	E
1	SỐ HỌC SINH GIỎI KHỐI 7				
2	LỚP	NAM	NỮ	TỔNG	
3	7A1	20	15	35	
4	7A2	14	8	22	
5	7A3	6	12	18	
6	7A4	8	10	18	
7	7A5	5	6	11	

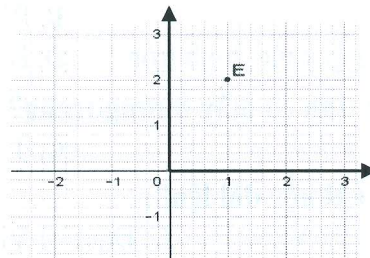
Câu 16: Để thêm thông tin chú giải cho biểu đồ em chọn lệnh:

- A. Data Table B. Chart Title C. Data Lable D. Legend

Câu 17: Trong phần mềm GeoGebra, biểu tượng dùng để:



- A. Vẽ véc tơ B. Vẽ đường thẳng C. Vẽ tia D. Vẽ đoạn thẳng

Câu 18: Trong phần mềm GeoGebra, để tạo điểm E trên mặt phẳng tọa độ như hình em nhập lệnh:



- A. E = (1,2) B. E := (2,1) C. E =: (1,2) D. E = (2,1)

Câu 19: Nút lệnh dùng để kẻ đường biên cho bảng:

- A.  B.  C.  D. 

Câu 20: Trong ô A1 đang có số 1.59, nếu nhấn nút lệnh Decrease Decimal thì kết quả hiển thị ở ô A1 là:

- A. 1 B. 1.6 C. 1.5 D. 2

B. TỰ LUẬN (5 điểm)

Câu 1 (1điểm) : Hãy nêu lợi ích của việc xem trang tính trước khi in bằng lệnh PrintPreview?

Câu 2 (2.5 điểm). Em có thể minh họa bảng dữ liệu bên bằng biểu đồ hình tròn không? Vì sao? Hãy nêu các bước vẽ biểu đồ đường gấp khúc để minh họa bảng dữ liệu này.

Câu 3 (1.5 điểm). Em hãy nêu các bước để sắp xếp các lớp theo thứ tự giảm dần của số học sinh Trung bình.

	A	B	C	D	E	F	G
1	BẢNG THỐNG KÊ HỌC LỰC HỌC SINH CÁC LỚP						
2	STT	LỚP	GIỚI	KHẢ	TB	YẾU	KÉM
3	1	6A	6	12	5	0	1
4	2	6B	7	15	8	0	0
5	3	6C	9	19	7	3	0
6	4	6D	8	21	9	1	0
7	5	7A	5	17	4	0	0
8	6	7B	9	22	7	5	0
9	7	7C	10	20	9	3	0