

**I. MỤC TIÊU**

Đánh giá việc lĩnh hội kiến thức của học sinh về .

**1. Kiến thức .**

- Vị trí, đặc điểm khí hậu của các môi trường: Đới nóng, đới ôn hòa, đới lạnh, hoang mạc, vùng núi
- Các đặc điểm khác của môi trường: Đới nóng, đới ôn hòa, đới lạnh, hoang mạc, vùng núi

**2. Kỹ năng .**

- Rèn kỹ năng làm bài kiểm tra địa lý.
- Phát triển cách tư duy địa lý theo mối quan hệ nhân quả.
- Hệ thống hoá kiến thức theo sơ đồ.

**3. Thái độ**

- Có tinh thần học tập, nghiêm túc, độc lập khi làm bài kiểm tra.

**II. MA TRẬN.**

**MA TRẬN ĐỀ KIỂM TRA**

Nội dung	Mức độ nhận thức								Tổng điểm	
	Biết ( 40 % )		Hiểu ( 30 % )		Vận dụng ( 20 % )		Vận dụng cao ( 10 % )			
	TN	TL	TN	TL	TN	TL	TN	TL		
Môi trường đới nóng	6 câu 1,5 đ					2 câu 0,5đ		2 câu 0,5 đ		<b>2,5 điểm</b>
Môi trường đới ôn hòa		1 câu 1,5 đ	4 câu 1 đ				1 câu 1,5 đ			<b>4 điểm</b>
Môi trường đới lạnh, môi trường hoang mạc , môi trường vùng núi	4 câu 1 đ			1 câu 2 đ				2 câu 0,5		<b>3,5 điểm</b>
<b>Tổng</b>	<b>4 điểm</b>		<b>3 điểm</b>		<b>2 điểm</b>		<b>1 điểm</b>		<b>10 điểm</b>	

ĐỀ 1

I. TRẮC NGHIỆM (5 điểm) Chọn chữ cái trước đáp án đúng

Câu 1: Xavan là cảnh quan tiêu biểu của môi trường:

- A. Môi trường nhiệt đới  
B. Môi trường nhiệt đới gió mùa  
C. Môi trường xích đạo ẩm  
D. Môi trường hoang mạc

Câu 2: Đặc điểm của môi trường nhiệt đới gió mùa.

- A. Nhiệt độ cao, lượng mưa rất lớn.  
B. Thời tiết diễn biến thất thường.  
C. Thời tiết diễn biến khá ổn định, ít thay đổi thất thường  
D. Nhiệt độ và lượng mưa thay đổi theo mùa và thời tiết diễn biến thất thường.

Câu 3: Kiểu môi trường nào rừng cây rậm rạp, xanh quanh năm?

- A. Môi trường nhiệt đới  
B. Môi trường xích đạo ẩm  
C. Môi trường nhiệt đới gió mùa  
D. Môi trường hoang mạc

Câu 4: Đặc điểm chính về khí hậu của môi trường xích đạo ẩm

- A. Nền nhiệt cao  
B. Lượng mưa lớn  
C. Chênh lệch nhiệt độ giữa tháng cao nhất với tháng thấp nhất rất lớn  
D. Nóng, ẩm quanh năm; lượng mưa trung bình năm lớn từ 1500 đến 2500mm

Câu 5: Ý nào sau đây **không đúng** với đặc điểm ở đới lạnh:

- A. Thực vật rất nghèo nàn  
B. Nơi tập trung nhiều đô thị trên thế giới.  
C. Băng tuyết bao phủ quanh năm  
D. Là nơi có ít người sinh sống nhất trên Trái Đất

Câu 6: Giới hạn của đới ôn hòa là:

- A. Từ chí tuyến về hai vòng cực  
B. Từ xích đạo về hai chí tuyến  
C. Khu vực chí tuyến  
D. Hai vòng cực mỗi bán cầu

Câu 7: Sự khác biệt lớn nhất giữa môi trường xích đạo ẩm và môi trường nhiệt đới gió mùa là gì

- A. Lượng mưa trung bình năm ở môi trường xích đạo ẩm lớn hơn rất nhiều  
B. Độ ẩm ở môi trường nhiệt đới gió mùa không bằng môi trường xích đạo ẩm  
C. Hệ động thực vật ở môi trường xích đạo ẩm phong phú hơn hẳn  
D. Môi trường xích đạo ẩm có tự nhiên phong phú với nền nhiệt ẩm cao trong khi tự nhiên của môi trường nhiệt đới gió mùa phân hóa sâu sắc theo mùa

Câu 8: Rừng xuất hiện nhiều tại các vùng ven cửa biển cửa sông là

- A. Rừng đước  
B. Rừng sú, vẹt  
C. Rừng cây nước lợ  
D. Rừng ngập mặn

Câu 9: Sự khác biệt lớn nhất giữa môi trường nhiệt đới và nhiệt đới gió mùa là

- A. Nền nhiệt ở môi trường nhiệt đới cao hơn nhiệt đới gió mùa

- B. Môi trường nhiệt đới nhiều xa van hơn
- C. Lượng mưa ở môi trường nhiệt đới ít hơn nhiệt đới gió mùa
- D. Cũng là phân hóa khí hậu theo mùa nhưng môi trường nhiệt đới có sự phân hóa rõ rệt hơn

**Câu 10:** Khu vực gió mùa điển hình của thế giới là

- A. Đông Nam Á
- B. Nam Á
- C. Đông Á và Nam Á
- D. Đông Nam Á và Nam Á

**Câu 11:** Đới ôn hòa có những loại môi trường như:

- A. Môi trường ôn đới lục địa và môi trường nhiệt đới
- B. Môi trường ôn đới hải dương và môi trường nhiệt đới
- C. Môi trường ôn đới lục địa, môi trường ôn đới hải dương
- D. Môi trường ôn đới hải dương và môi trường xích đạo ẩm

**Câu 12:** Người dân vùng núi cư trú trên các địa bàn như:

- A. Sườn núi và các thung lũng
- B. Các đỉnh núi cao
- C. Hang động
- D. Vách núi

**Câu 13:** Các hoang mạc trên thế giới thường phân bố ở?

- A. Dọc hai bên đường chí tuyến
- B. Gần các dòng biển nóng.
- C. Gần xích đạo
- D. Rìa đại lục Á-Âu

**Câu 14:** Nguồn nước chính ở các ốc đảo trong hoang mạc giúp cho thực vật phát triển được là?

- A. Nước mưa.
- B. Nước hồ.
- C. Nước ngầm.
- D. Nước biển.

**Câu 15:** Loài nào sau đây có lớp lông dày để thích nghi với khí hậu đới lạnh?

- A. Gấu trắng.
- B. Hải cẩu
- C. Cá voi xanh
- D. Chim cánh cụt

**Câu 16:** Việt Nam thuộc đới khí hậu?

- A. Hàn đới
- B. Ôn đới.
- C. Nhiệt đới gió mùa.
- D. Cận nhiệt đới.

**Câu 17:** Đới lạnh nằm trong khoảng từ

- A. Vĩ tuyến 5<sup>0</sup> đến chí tuyến ở hai bán cầu
- B. Hai vòng cực đến hai cực
- C. Chí tuyến đến vòng cực ở cả hai bán cầu
- D. Xích đạo đến hai cực

**Câu 18:** Cảnh quan rừng lá rộng là cảnh quan tiêu biểu của môi trường nào ở đới Ôn hòa?

- A. Ôn đới lục địa
- B. Địa Trung Hải
- C. Ôn đới hải dương
- D. Ôn đới gió mùa

**Câu 19:** Môi trường tự nhiên chiếm diện tích nhiều nhất ở đới ôn hòa là:

- A. Ôn đới lục địa
- B. Ôn đới hải dương
- C. Địa trung hải
- D. Hoang mạc ôn đới

**Câu 20:** Ý kiến thức nào sau đây **không đúng** với đặc điểm ở vùng núi?

- A. Là địa bàn cư trú của các dân tộc ít người
- B. Thực vật khác nhau giữa sườn đón nắng và đón gió
- C. Khí hậu thay đổi theo độ cao
- D. Dân cư tập trung đông đúc

## II. TỰ LUẬN (5 điểm).

**Câu 1 (1,5 điểm):** Đới ôn hòa mang tính chất trung gian giữa đới nóng và đới lạnh, thời tiết thay đổi thất thường. Tính chất trung gian của khí hậu và thất thường của thời tiết được thể hiện như thế nào ở đới ôn hòa?

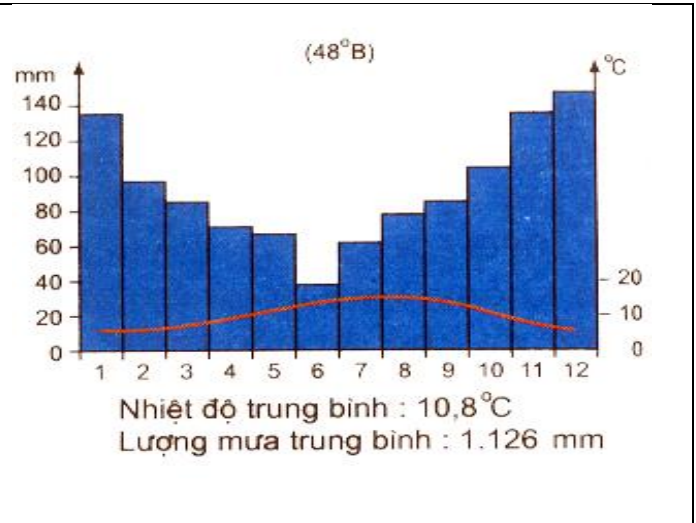
**Câu 2 (2 điểm):** Nêu các đặc điểm của khí hậu hoang mạc. Thực vật và động vật thích nghi với môi trường khắc nghiệt, khô hạn như thế nào?

**Câu 3 (1,5 điểm):**

Cho biểu đồ nhiệt độ và lượng mưa của địa điểm A dưới đây .

a, Hãy phân tích chế độ nhiệt độ và lượng mưa trong năm ở địa điểm A.

b, Từ những phân tích phía trên hãy cho biết địa điểm A thuộc kiểu môi trường nào của đới ôn hòa.



ĐỀ 2

I. TRẮC NGHIỆM (5 điểm) Chọn chữ cái trước đáp án đúng

Câu 1: Giới hạn của đới ôn hòa là:

- A. Từ chí tuyến về hai vòng cực  
B. Từ xích đạo về hai chí tuyến  
C. Khu vực chí tuyến  
D. Hai vòng cực mỗi bán cầu

Câu 2: Sự khác biệt lớn nhất giữa môi trường xích đạo ẩm và môi trường nhiệt đới gió mùa là gì

- A. Lượng mưa trung bình năm ở môi trường xích đạo ẩm lớn hơn rất nhiều  
B. Độ ẩm ở môi trường nhiệt đới gió mùa không bằng môi trường xích đạo ẩm  
C. Hệ động thực vật ở môi trường xích đạo ẩm phong phú hơn hẳn  
D. Môi trường xích đạo ẩm có tự nhiên phong phú với nền nhiệt ẩm cao trong khi tự nhiên của môi trường nhiệt đới gió mùa phân hóa sâu sắc theo mùa

Câu 3: Rừng xuất hiện nhiều tại các vùng ven cửa biển cửa sông là

- A. Rừng đước  
B. Rừng sù, vẹt  
C. Rừng cây nước lợ  
D. Rừng ngập mặn

Câu 4: Xavan là cảnh quan tiêu biểu của môi trường:

- A. Môi trường nhiệt đới  
B. Môi trường nhiệt đới gió mùa  
C. Môi trường xích đạo ẩm  
D. Môi trường hoang mạc

Câu 5: Đặc điểm của môi trường nhiệt đới gió mùa.

- A. Nhiệt độ cao, lượng mưa rất lớn.  
B. Thời tiết diễn biến thất thường.  
C. Thời tiết diễn biến khá ổn định, ít thay đổi thất thường  
D. Nhiệt độ và lượng mưa thay đổi theo mùa và thời tiết diễn biến thất thường.

Câu 6: Loài nào sau đây có lớp lông dày để thích nghi với khí hậu đới lạnh?

- A. Gấu trắng.  
B. Hải cẩu  
C. Cá voi xanh  
D. Chim cánh cụt

Câu 7: Việt Nam thuộc đới khí hậu?

- A. Hàn đới  
B. Ôn đới.  
C. Nhiệt đới gió mùa.  
D. Cận nhiệt đới.

Câu 8: Đới lạnh nằm trong khoảng từ

- A. Vĩ tuyến 5<sup>0</sup> đến chí tuyến ở hai bán cầu  
B. Hai vòng cực đến hai cực  
C. Chí tuyến đến vòng cực ở cả hai bán cầu  
D. Xích đạo đến hai cực

Câu 9: Cảnh quan rừng lá rộng là cảnh quan tiêu biểu của môi trường nào ở đới Ôn hòa?

- A. Ôn đới lục địa  
B. Địa Trung Hải  
C. Ôn đới hải dương  
D. Ôn đới gió mùa

Câu 10: Môi trường tự nhiên chiếm diện tích nhiều nhất ở đới ôn hòa là:

- A. Ôn đới lục địa  
B. Ôn đới hải dương  
C. Địa trung hải  
D. Hoang mạc ôn đới

**Câu 11:** Ý kiến thức nào sau đây **không đúng** với đặc điểm ở vùng núi?

- A. Là địa bàn cư trú của các dân tộc ít người
- B. Thực vật khác nhau giữa sườn đón nắng và đón gió
- C. Khí hậu thay đổi theo độ cao
- D. Dân cư tập trung đông đúc

**Câu 12:** Kiểu môi trường nào rừng cây rậm rạp, xanh quanh năm?

- A. Môi trường nhiệt đới
- B. Môi trường xích đạo ẩm
- C. Môi trường nhiệt đới gió mùa
- C. Môi trường hoang mạc

**Câu 13:** Đặc điểm chính về khí hậu của môi trường xích đạo ẩm

- A. Nền nhiệt cao
- B. Lượng mưa lớn
- C. Chênh lệch nhiệt độ giữa tháng cao nhất với tháng thấp nhất rất lớn
- D. Nóng, ẩm quanh năm; lượng mưa trung bình năm lớn từ 1500 đến 2500mm

**Câu 14:** Ý nào sau đây **không đúng** với đặc điểm ở đới lạnh:

- A. Thực vật rất nghèo nàn
- B. Nơi tập trung nhiều đô thị trên thế giới.
- C. Băng tuyết bao phủ quanh năm
- D. Là nơi có ít người sinh sống nhất trên Trái Đất

**Câu 15:** Sự khác biệt lớn nhất giữa môi trường nhiệt đới và nhiệt đới gió mùa là

- A. Nền nhiệt ở môi trường nhiệt đới cao hơn nhiệt đới gió mùa
- B. Môi trường nhiệt đới nhiều xa van hơn
- C. Lượng mưa ở môi trường nhiệt đới ít hơn nhiệt đới gió mùa
- D. Cũng là phân hóa khí hậu theo mùa nhưng môi trường nhiệt đới có sự phân hóa rõ rệt hơn

**Câu 16:** Khu vực gió mùa điển hình của thế giới là

- A. Đông Nam Á
- B. Nam Á
- C. Đông Á và Nam Á
- D. Đông Nam Á và Nam Á

**Câu 17:** Đới ôn hòa có những loại môi trường như:

- A. Môi trường ôn đới lục địa và môi trường nhiệt đới
- B. Môi trường ôn đới hải dương và môi trường nhiệt đới
- C. Môi trường ôn đới lục địa, môi trường ôn đới hải dương
- D. Môi trường ôn đới hải dương và môi trường xích đạo ẩm

**Câu 18:** Người dân vùng núi cư trú trên các địa bàn như:

- A. Sườn núi và các thung lũng
- B. Các đỉnh núi cao
- C. Sườn núi
- D. Vách núi

**Câu 19:** Các hoang mạc trên thế giới thường phân bố ở?

- A. Dọc hai bên đường chí tuyến
- B. Gần các dòng biển nóng.
- C. Gần xích đạo
- D. Rìa đại lục Á-Âu

**Câu 20:** Nguồn nước chính ở các ốc đảo trong hoang mạc giúp cho thực vật phát triển được là?

- A. Nước mưa.
- B. Nước hồ.
- C. Nước ngầm.
- D. Nước biển.

## II. TỰ LUẬN (5 điểm).

**Câu 1 (1,5 điểm):** Đới ôn hòa mang tính chất trung gian giữa đới nóng và đới lạnh, thời tiết thay đổi thất thường. Tính chất trung gian của khí hậu và thất thường của thời tiết được thể hiện như thế nào ở đới ôn hòa?

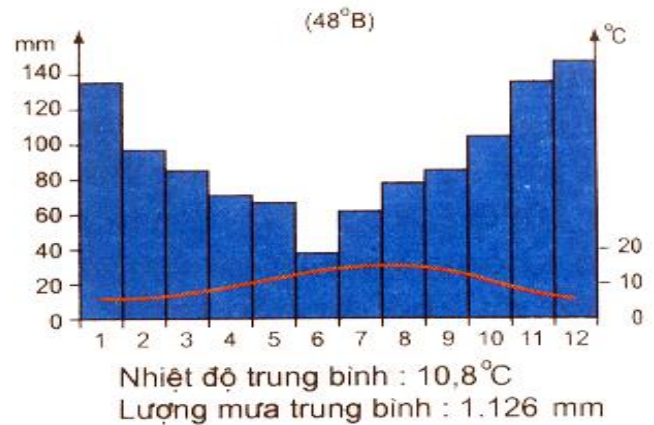
**Câu 2 (2 điểm):** Nêu các đặc điểm của khí hậu hoang mạc. Thực vật và động vật thích nghi với môi trường khắc nghiệt, khô hạn như thế nào?

**Câu 3 (1,5 điểm):**

Cho biểu đồ nhiệt độ và lượng mưa của địa điểm A dưới đây .

a, Hãy phân tích chế độ nhiệt độ và lượng mưa trong năm ở địa điểm A.

b, Từ những phân tích phía trên hãy cho biết địa điểm A thuộc kiểu môi trường nào của đới ôn hòa.



ĐỀ 3

I. TRẮC NGHIỆM (5 điểm) Chọn chữ cái trước đáp án đúng

Câu 1: Đới ôn hòa có những loại môi trường như:

- A. Môi trường ôn đới lục địa và môi trường nhiệt đới
- B. Môi trường ôn đới hải dương và môi trường nhiệt đới
- C. Môi trường ôn đới lục địa, môi trường ôn đới hải dương
- D. Môi trường ôn đới hải dương và môi trường xích đạo ẩm

Câu 2: Người dân vùng núi cư trú trên các địa bàn như:

- A. Sườn núi và các thung lũng
- B. Các đỉnh núi cao
- C. Hang động
- D. Vách núi

Câu 3: Ý nào sau đây **không đúng** với đặc điểm ở đới lạnh:

- A. Thực vật rất nghèo nàn
- B. Nơi tập trung nhiều đô thị trên thế giới.
- C. Băng tuyết bao phủ quanh năm
- D. Là nơi có ít người sinh sống nhất trên Trái Đất

Câu 4: Giới hạn của đới ôn hòa là:

- A. Từ chí tuyến về hai vòng cực
- B. Từ xích đạo về hai chí tuyến
- C. Khu vực chí tuyến
- D. Hai vòng cực mỗi bán cầu

Câu 5: Sự khác biệt lớn nhất giữa môi trường xích đạo ẩm và môi trường nhiệt đới gió mùa là gì

- A. Lượng mưa trung bình năm ở môi trường xích đạo ẩm lớn hơn rất nhiều
- B. Độ ẩm ở môi trường nhiệt đới gió mùa không bằng môi trường xích đạo ẩm
- C. Hệ động thực vật ở môi trường xích đạo ẩm phong phú hơn hẳn
- D. Môi trường xích đạo ẩm có tự nhiên phong phú với nền nhiệt ẩm cao trong khi tự nhiên của môi trường nhiệt đới gió mùa phân hóa sâu sắc theo mùa

Câu 6: Rừng xuất hiện nhiều tại các vùng ven cửa biển cửa sông là

- A. Rừng đước
- B. Rừng sù, vẹt
- C. Rừng cây nước lợ
- D. Rừng ngập mặn

Câu 7: Các hoang mạc trên thế giới thường phân bố ở?

- A. Dọc hai bên đường chí tuyến
- B. Gần các dòng biển nóng.
- C. Gần xích đạo
- D. Rìa đại lục Á-Âu

Câu 8: Nguồn nước chính ở các ốc đảo trong hoang mạc giúp cho thực vật phát triển được là?

- A. Nước mưa.
- B. Nước hồ.
- C. Nước ngầm.
- D. Nước biển.

Câu 9: Loài nào sau đây có lớp lông dày để thích nghi với khí hậu đới lạnh?

- A. Gấu trắng.
- B. Hải cẩu
- C. Cá voi xanh
- D. Chim cánh cụt

Câu 10: Việt Nam thuộc đới khí hậu?

- A. Hàn đới
- B. Ôn đới.
- C. Nhiệt đới gió mùa.
- D. Cận nhiệt đới.



**Câu 11:** Đới lạnh nằm trong khoảng từ

- A. Vĩ tuyến  $5^0$  đến chí tuyến ở hai bán cầu
- B. Hai vòng cực đến hai cực
- C. Chí tuyến đến vòng cực ở cả hai bán cầu
- D. Xích đạo đến hai cực

**Câu 12:** Cảnh quan rừng lá rộng là cảnh quan tiêu biểu của môi trường nào ở đới Ôn hòa?

- A. Ôn đới lục địa
- B. Địa Trung Hải
- C. Ôn đới hải dương
- D. Ôn đới gió mùa

**Câu 13:** Môi trường tự nhiên chiếm diện tích nhiều nhất ở đới ôn hòa là:

- A. Ôn đới lục địa
- B. Ôn đới hải dương
- C. Địa trung hải
- D. Hoang mạc ôn đới

**Câu 14:** Ý kiến thức nào sau đây **không đúng** với đặc điểm ở vùng núi?

- A. Là địa bàn cư trú của các dân tộc ít người
- B. Thực vật khác nhau giữa sườn đón nắng và đón gió
- C. Khí hậu thay đổi theo độ cao
- D. Dân cư tập trung đông đúc

**Câu 15:** Xavan là cảnh quan tiêu biểu của môi trường:

- A. Môi trường nhiệt đới
- B. Môi trường nhiệt đới gió mùa
- C. Môi trường xích đạo ẩm
- D. Môi trường hoang mạc

**Câu 16:** Đặc điểm của môi trường nhiệt đới gió mùa.

- A. Nhiệt độ cao, lượng mưa rất lớn.
- B. Thời tiết diễn biến thất thường.
- C. Thời tiết diễn biến khá ổn định, ít thay đổi thất thường
- D. Nhiệt độ và lượng mưa thay đổi theo mùa và thời tiết diễn biến thất thường.

**Câu 17:** Kiểu môi trường nào rừng cây rậm rạp, xanh quanh năm?

- A. Môi trường nhiệt đới
- B. Môi trường xích đạo ẩm
- C. Môi trường nhiệt đới gió mùa
- D. Môi trường hoang mạc

**Câu 18:** Đặc điểm chính về khí hậu của môi trường xích đạo ẩm

- A. Nền nhiệt cao
- B. Lượng mưa lớn
- C. Chênh lệch nhiệt độ giữa tháng cao nhất với tháng thấp nhất rất lớn
- D. Nóng, ẩm quanh năm; lượng mưa trung bình năm lớn từ 1500 đến 2500mm

**Câu 19:** Sự khác biệt lớn nhất giữa môi trường nhiệt đới và nhiệt đới gió mùa là

- A. Nền nhiệt ở môi trường nhiệt đới cao hơn nhiệt đới gió mùa
- B. Môi trường nhiệt đới nhiều xa van hơn
- C. Lượng mưa ở môi trường nhiệt đới ít hơn nhiệt đới gió mùa
- D. Cũng là phân hóa khí hậu theo mùa nhưng môi trường nhiệt đới có sự phân hóa rõ rệt hơn

**Câu 20:** Khu vực gió mùa điển hình của thế giới là

- A. Đông Nam Á
- B. Nam Á
- C. Đông Á và Nam Á
- D. Đông Nam Á và Nam Á

## II. TỰ LUẬN (5 điểm).

**Câu 1 (1,5 điểm):** Đới ôn hòa mang tính chất trung gian giữa đới nóng và đới lạnh, thời tiết thay đổi thất thường. Tính chất trung gian của khí hậu và thất thường của thời tiết được thể hiện như thế nào ở đới ôn hòa?

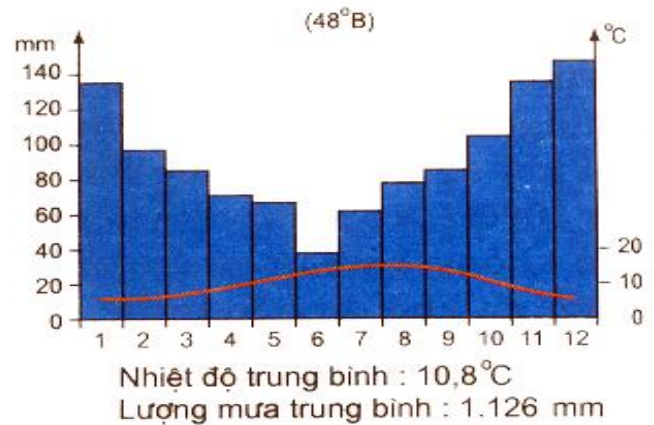
**Câu 2 (2 điểm):** Nêu các đặc điểm của khí hậu hoang mạc. Thực vật và động vật thích nghi với môi trường khắc nghiệt, khô hạn như thế nào?

**Câu 3 (1,5 điểm):**

Cho biểu đồ nhiệt độ và lượng mưa của địa điểm A dưới đây .

a, Hãy phân tích chế độ nhiệt độ và lượng mưa trong năm ở địa điểm A.

b, Từ những phân tích phía trên hãy cho biết địa điểm A thuộc kiểu môi trường nào của đới ôn hòa.



ĐỀ 4

**I. TRẮC NGHIỆM (5 điểm) Chọn chữ cái trước đáp án đúng**

**Câu 1:** Sự khác biệt lớn nhất giữa môi trường xích đạo ẩm và môi trường nhiệt đới gió mùa là gì

- A. Lượng mưa trung bình năm ở môi trường xích đạo ẩm lớn hơn rất nhiều
- B. Độ ẩm ở môi trường nhiệt đới gió mùa không bằng môi trường xích đạo ẩm
- C. Hệ động thực vật ở môi trường xích đạo ẩm phong phú hơn hẳn
- D. Môi trường xích đạo ẩm có tự nhiên phong phú với nền nhiệt ẩm cao trong khi tự nhiên của môi trường nhiệt đới gió mùa phân hóa sâu sắc theo mùa

**Câu 2:** Rừng xuất hiện nhiều tại các vùng ven cửa biển cửa sông là

- A. Rừng đước
- B. Rừng sù, vẹt
- C. Rừng cây nước lợ
- D. Rừng ngập mặn

**Câu 3:** Sự khác biệt lớn nhất giữa môi trường nhiệt đới và nhiệt đới gió mùa là

- A. Nền nhiệt ở môi trường nhiệt đới cao hơn nhiệt đới gió mùa
- B. Môi trường nhiệt đới nhiều xa van hơn
- C. Lượng mưa ở môi trường nhiệt đới ít hơn nhiệt đới gió mùa
- D. Cũng là phân hóa khí hậu theo mùa nhưng môi trường nhiệt đới có sự phân hóa rõ rệt hơn

**Câu 4:** Xavan là cảnh quan tiêu biểu của môi trường:

- A. Môi trường nhiệt đới
- B. Môi trường nhiệt đới gió mùa
- C. Môi trường xích đạo ẩm
- D. Môi trường hoang mạc

**Câu 5:** Đặc điểm của môi trường nhiệt đới gió mùa.

- A. Nhiệt độ cao, lượng mưa rất lớn.
- B. Thời tiết diễn biến thất thường.
- C. Thời tiết diễn biến khá ổn định, ít thay đổi thất thường
- D. Nhiệt độ và lượng mưa thay đổi theo mùa và thời tiết diễn biến thất thường.

**Câu 6:** Kiểu môi trường nào rừng cây rậm rạp, xanh quanh năm?

- A. Môi trường nhiệt đới
- B. Môi trường xích đạo ẩm
- C. Môi trường nhiệt đới gió mùa
- D. Môi trường hoang mạc

**Câu 7:** Đặc điểm chính về khí hậu của môi trường xích đạo ẩm

- A. Nền nhiệt cao
- B. Lượng mưa lớn
- C. Chênh lệch nhiệt độ giữa tháng cao nhất với tháng thấp nhất rất lớn
- D. Nóng, ẩm quanh năm; lượng mưa trung bình năm lớn từ 1500 đến 2500mm

**Câu 8:** Ý nào sau đây **không đúng** với đặc điểm ở đới lạnh:

- A. Thực vật rất nghèo nàn
- B. Nơi tập trung nhiều đô thị trên thế giới.
- C. Băng tuyết bao phủ quanh năm

D. Là nơi có ít người sinh sống nhất trên Trái Đất

**Câu 9:** Giới hạn của đới ôn hòa là:

- A. Từ chí tuyến về hai vòng cực                      B. Từ xích đạo về hai chí tuyến  
C. Khu vực chí tuyến                                      D. Hai vòng cực mỗi bán cầu

**Câu 10:** Khu vực gió mùa điển hình của thế giới là

- A. Đông Nam Á    B. Nam Á  
C. Đông Á và Nam Á                                      D. Đông Nam Á và Nam Á

**Câu 11:** Đới ôn hòa có những loại môi trường như:

- A. Môi trường ôn đới lục địa và môi trường nhiệt đới  
B. Môi trường ôn đới hải dương và môi trường nhiệt đới  
C. Môi trường ôn đới lục địa, môi trường ôn đới hải dương  
D. Môi trường ôn đới hải dương và môi trường xích đạo ẩm

**Câu 12:** Việt Nam thuộc đới khí hậu?

- A. Hàn đới      B. Ôn đới.                      C. Nhiệt đới gió mùa.      D. Cận nhiệt đới.

**Câu 13:** Đới lạnh nằm trong khoảng từ

- A. Vĩ tuyến 5<sup>0</sup> đến chí tuyến ở hai bán cầu                      B. Hai vòng cực đến hai cực  
C. Chí tuyến đến vòng cực ở cả hai bán cầu                      D. Xích đạo đến hai cực

**Câu 14:** Cảnh quan rừng lá rộng là cảnh quan tiêu biểu của môi trường nào ở đới Ôn hòa?

- A. Ôn đới lục địa      B. Địa Trung Hải      C. Ôn đới hải dương      D. Ôn đới gió mùa

**Câu 15:** Môi trường tự nhiên chiếm diện tích nhiều nhất ở đới ôn hòa là:

- A. Ôn đới lục địa    B. Ôn đới hải dương  
C. Địa trung hải    D. Hoang mạc ôn đới

**Câu 16:** Ý kiến thức nào sau đây **không đúng** với đặc điểm ở vùng núi?

- A. Là địa bàn cư trú của các dân tộc ít người  
B. Thực vật khác nhau giữa sườn đón nắng và đón gió  
C. Khí hậu thay đổi theo độ cao  
D. Dân cư tập trung đông đúc

**Câu 17:** Người dân vùng núi cư trú trên các địa bàn như:

- A. Sườn núi và các thung lũng      B. Các đỉnh núi cao      C. Hang động      D. Vách núi

**Câu 18:** Các hoang mạc trên thế giới thường phân bố ở?

- A. Dọc hai bên đường chí tuyến                      B. Gần các dòng biển nóng.  
C. Gần xích đạo    D. Rìa đại lục Á-Âu

**Câu 19:** Nguồn nước chính ở các ốc đảo trong hoang mạc giúp cho thực vật phát triển được là?

- A. Nước mưa.                      B. Nước hồ.                      C. Nước ngầm.                      D. Nước biển.

**Câu 20:** Loài nào sau đây có lớp lông dày để thích nghi với khí hậu đới lạnh?

- A. Gấu trắng.    B. Hải cẩu  
C. Cá voi xanh    D. Chim cánh cụt

**II. TỰ LUẬN (5 điểm).**

**Câu 1 (1,5 điểm):** Đới ôn hòa mang tính chất trung gian giữa đới nóng và đới lạnh, thời tiết thay đổi thất thường. Tính chất trung gian của khí hậu và thất thường của thời tiết được thể hiện như thế nào ở đới ôn hòa?

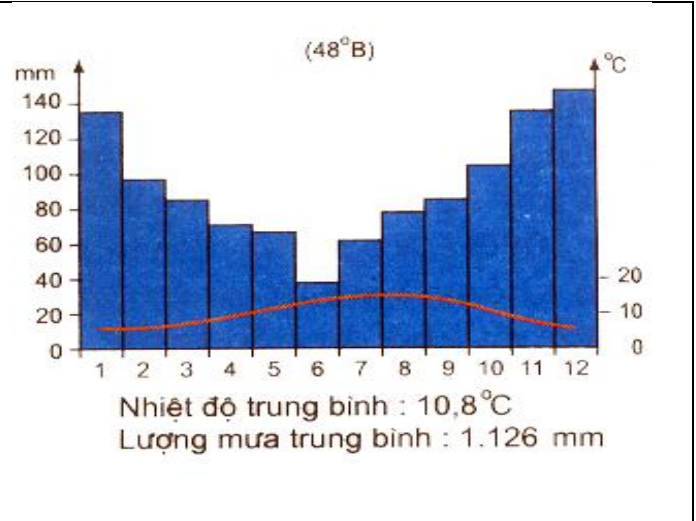
**Câu 2 (2 điểm):** Nêu các đặc điểm của khí hậu hoang mạc. Thực vật và động vật thích nghi với môi trường khắc nghiệt, khô hạn như thế nào?

**Câu 3 (1,5 điểm):**

Cho biểu đồ nhiệt độ và lượng mưa của địa điểm A dưới đây .

a, Hãy phân tích chế độ nhiệt độ và lượng mưa trong năm ở địa điểm A.

b, Từ những phân tích phía trên hãy cho biết địa điểm A thuộc kiểu môi trường nào của đới ôn hòa.



**I. TRẮC NGHIỆM: (5 điểm) Mỗi câu trả lời đúng được 0,25 điểm**

Câu	Đề 1	Đề 2	Đề 3	Đề 4
1	A	A	C	D
2	D	D	A	D
3	B	D	B	D
4	D	A	A	A
5	B	D	D	D
6	A	A	D	B
7	D	C	A	D
8	D	B	C	B
9	D	C	A	A
10	D	A	C	D
11	C	D	B	C
12	A	B	C	C
13	A	D	A	B
14	C	B	D	C
15	A	D	A	A
16	C	D	D	D
17	B	C	B	A
18	C	A	D	A
19	A	A	D	C
20	D	C	D	A

**II. TỰ LUẬN: (5 điểm)**

**Câu 1 (1,5 điểm):** Đới ôn hòa mang tính chất trung gian giữa đới nóng và đới lạnh, thời tiết thay đổi thất thường. Tính chất trung gian của khí hậu và thất thường của thời tiết được thể hiện là:

- Tính chất trung gian:

+ Nhiệt độ: Đới ôn hòa có nhiệt độ cao hơn nhiệt độ ở đới lạnh và thấp hơn nhiệt độ ở đới nóng

+ Lượng mưa: Lượng mưa ở đới ôn hòa nhiều hơn lượng mưa ở đới lạnh và ít hơn lượng mưa ở đới nóng

- Tính chất thất thường: Các đợt khí nóng ở chí tuyến và các đợt khí lạnh ở vùng cực có thể tràn xuống bất thường. Nhiệt độ có thể tăng hoặc giảm 10-15<sup>0</sup>C trong vòng vài giờ. Gió Tây ôn đới và các khối khí từ đại dương thổi tới làm cho thời tiết biến động rất khó dự báo

**Câu 2 ( 2 điểm ):**

- **Các đặc điểm của khí hậu hoang mạc.**

+ Nhiệt độ: Chênh lệch nhiệt độ trong năm rất lớn (30-40<sup>0</sup>C), sự chênh lệch nhiệt độ giữa ngày và đêm còn lớn hơn rất nhiều

+ Lượng mưa: Lượng mưa rất thấp trong khi lượng bốc hơi rất lớn. Khí hậu vô cùng khô hạn

- **Thực vật và động vật thích nghi với môi trường khắc nghiệt, khô hạn như thế nào?**

+ Thực vật: Hạn chế sự thoát hơi nước, tăng cường dự trữ nước và chất dinh dưỡng trong cơ thể, rút ngắn chu kỳ sinh trưởng cho phù hợp với thời kỳ có mưa, lá biến thành gai hoặc lá bọc sáp, thân lùn thấp, bộ rễ rất to và dài

+ Động vật: sống trong các hốc đá, vùi mình trong cát, chỉ ra ngoài kiếm ăn vào ban đêm, tăng khả năng chịu đói khát.

**Câu 3 (1,5 điểm) :**

- **Phân tích biểu đồ nhiệt độ, lượng mưa**

+ Nhiệt độ: Cao nhất: 18<sup>0</sup>C, thấp nhất 8<sup>0</sup>C, biên độ nhiệt 10<sup>0</sup>C

+ Lượng mưa: Tổng lượng mưa 1126mm. Tháng nào cũng có mưa

→ Mùa hạ mát mẻ, mùa đông không lạnh lắm, biên độ nhiệt trung bình. Lượng mưa khá lớn, mưa đều quanh năm

- **Biểu đồ A thuộc kiểu môi trường ôn đới hải dương**

**GV BỘ MÔN**

**NT/TTCM DUYỆT**

**BGH DUYỆT**

*Trần Thị Ngoan*

*Hoàng Thu Hiền*

*Đặng Thị Tuyết Nhung*

ĐỀ 5

I. TRẮC NGHIỆM (5 điểm) Chọn chữ cái trước đáp án đúng

Câu 1: Ý nào sau đây **không đúng** với đặc điểm ở đới lạnh:

- A. Thực vật rất nghèo nàn
- B. Nơi tập trung nhiều đô thị trên thế giới.
- C. Băng tuyết bao phủ quanh năm
- D. Là nơi có ít người sinh sống nhất trên Trái Đất

Câu 2: Giới hạn của đới ôn hòa là:

- A. Từ chí tuyến về hai vòng cực
- B. Từ xích đạo về hai chí tuyến
- C. Khu vực chí tuyến
- D. Hai vòng cực mỗi bán cầu

Câu 3: Khu vực gió mùa điển hình của thế giới là

- A. Đông Nam Á
- B. Nam Á
- C. Đông Á và Nam Á
- D. Đông Nam Á và Nam Á

Câu 4: Sự khác biệt lớn nhất giữa môi trường xích đạo ẩm và môi trường nhiệt đới gió mùa là gì

- A. Lượng mưa trung bình năm ở môi trường xích đạo ẩm lớn hơn rất nhiều
- B. Độ ẩm ở môi trường nhiệt đới gió mùa không bằng môi trường xích đạo ẩm
- C. Hệ động thực vật ở môi trường xích đạo ẩm phong phú hơn hẳn
- D. Môi trường xích đạo ẩm có tự nhiên phong phú với nền nhiệt ẩm cao trong khi tự nhiên của môi trường nhiệt đới gió mùa phân hóa sâu sắc theo mùa

Câu 5: Rừng xuất hiện nhiều tại các vùng ven cửa biển cửa sông là

- A. Rừng đước
- B. Rừng sù, vẹt
- C. Rừng cây nước lợ
- D. Rừng ngập mặn

Câu 6: Môi trường tự nhiên chiếm diện tích nhiều nhất ở đới ôn hòa là:

- A. Ôn đới lục địa
- B. Ôn đới hải dương
- C. Địa trung hải
- D. Hoang mạc ôn đới

Câu 7: Ý kiến thức nào sau đây **không đúng** với đặc điểm ở vùng núi?

- A. Là địa bàn cư trú của các dân tộc ít người
- B. Thực vật khác nhau giữa sườn đón nắng và đón gió
- C. Khí hậu thay đổi theo độ cao
- D. Dân cư tập trung đông đúc

Câu 8: Người dân vùng núi cư trú trên các địa bàn như:

- A. Sườn núi và các thung lũng
- B. Các đỉnh núi cao
- C. Hang động
- D. Vách núi

Câu 9: Các hoang mạc trên thế giới thường phân bố ở?

- A. Dọc hai bên đường chí tuyến
- B. Gần các dòng biển nóng.
- C. Gần xích đạo
- D. Rìa đại lục Á-Âu



**Câu 10:** Sự khác biệt lớn nhất giữa môi trường nhiệt đới và nhiệt đới gió mùa là

- A. Nền nhiệt ở môi trường nhiệt đới cao hơn nhiệt đới gió mùa
- B. Môi trường nhiệt đới nhiều xa van hơn
- C. Lượng mưa ở môi trường nhiệt đới ít hơn nhiệt đới gió mùa
- D. Cũng là phân hóa khí hậu theo mùa nhưng môi trường nhiệt đới có sự phân hóa rõ rệt hơn

**Câu 11:** Xavan là cảnh quan tiêu biểu của môi trường:

- A. Môi trường nhiệt đới
- B. Môi trường nhiệt đới gió mùa
- C. Môi trường xích đạo ẩm
- D. Môi trường hoang mạc

**Câu 12:** Đặc điểm của môi trường nhiệt đới gió mùa.

- A. Nhiệt độ cao, lượng mưa rất lớn.
- B. Thời tiết diễn biến thất thường.
- C. Thời tiết diễn biến khá ổn định, ít thay đổi thất thường
- D. Nhiệt độ và lượng mưa thay đổi theo mùa và thời tiết diễn biến thất thường.

**Câu 13:** Kiểu môi trường nào rừng cây rậm rạp, xanh quanh năm?

- A. Môi trường nhiệt đới
- B. Môi trường xích đạo ẩm
- C. Môi trường nhiệt đới gió mùa
- D. Môi trường hoang mạc

**Câu 14:** Đặc điểm chính về khí hậu của môi trường xích đạo ẩm

- A. Nền nhiệt cao
- B. Lượng mưa lớn
- C. Chênh lệch nhiệt độ giữa tháng cao nhất với tháng thấp nhất rất nhỏ
- D. Nóng, ẩm quanh năm; lượng mưa trung bình năm lớn từ 1500 đến 2500mm

**Câu 15:** Đới ôn hòa có những loại môi trường như:

- A. Môi trường ôn đới lục địa và môi trường nhiệt đới
- B. Môi trường ôn đới hải dương và môi trường nhiệt đới
- C. Môi trường ôn đới lục địa, môi trường ôn đới hải dương
- D. Môi trường ôn đới hải dương và môi trường xích đạo ẩm

**Câu 16:** Việt Nam thuộc đới khí hậu?

- A. Hàn đới
- B. Ôn đới.
- C. Nhiệt đới gió mùa.
- D. Cận nhiệt đới.

**Câu 17:** Đới lạnh nằm trong khoảng từ

- A. Vĩ tuyến 5<sup>0</sup> đến chí tuyến ở hai bán cầu
- B. Hai vòng cực đến hai cực
- C. Chí tuyến đến vòng cực ở cả hai bán cầu
- D. Xích đạo đến hai cực

**Câu 18:** Cảnh quan rừng lá rộng là cảnh quan tiêu biểu của môi trường nào ở đới Ôn hòa?

- A. Ôn đới lục địa
- B. Địa Trung Hải
- C. Ôn đới hải dương
- D. Ôn đới gió mùa

**Câu 19:** Nguồn nước chính ở các ốc đảo trong hoang mạc giúp cho thực vật phát triển được là?

- A. Nước mưa.
- B. Nước hồ.
- C. Nước ngầm.
- D. Nước biển.

**Câu 20:** Loài nào sau đây có lớp lông dày để thích nghi với khí hậu đới lạnh?

- A. Gấu trắng.
- B. Hải cẩu
- C. Cá voi xanh
- D. Chim cánh cụt

## II. TỰ LUẬN (5 điểm).

**Câu 1 (1,5 điểm):** Đới ôn hòa mang tính chất trung gian giữa đới nóng và đới lạnh, thời tiết thay đổi thất thường. Tính chất trung gian của khí hậu và thất thường của thời tiết được thể hiện như thế nào ở đới ôn hòa?

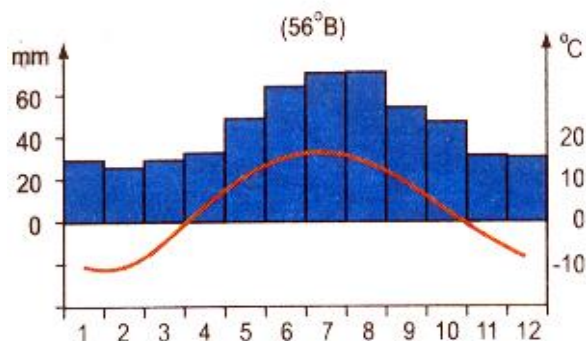
**Câu 2 (1,5 điểm):** Tính chất khắc nghiệt của khí hậu đới lạnh được thể hiện như thế nào? Thực vật, động vật thích nghi với khí hậu lạnh giá như thế nào?

**Câu 3 (2 điểm):**

Cho biểu đồ nhiệt độ và lượng mưa của địa điểm B dưới đây .

**a,** Hãy phân tích chế độ nhiệt độ và lượng mưa trong năm ở địa điểm **B**.

**b,** Từ những phân tích phía trên hãy cho biết địa điểm B thuộc kiểu môi trường nào của đới ôn hòa



Nhiệt độ trung bình : 4°C  
Lượng mưa trung bình : 560 mm

**I. TRẮC NGHIỆM: (5 điểm) Mỗi câu trả lời đúng được 0,25 điểm**

Câu 1	Câu 2	Câu 3	Câu 4	Câu 5	Câu 6	Câu 7	Câu 8	Câu 9	Câu 10
B	A	D	D	D	A	D	A	A	D
Câu 11	Câu 12	Câu 13	Câu 14	Câu 15	Câu 16	Câu 17	Câu 18	Câu 19	Câu 20
A	D	B	D	C	C	B	C	C	A

**II. TỰ LUẬN: (5 điểm)**

**Câu 1 (1,5 điểm):** Đới ôn hòa mang tính chất trung gian giữa đới nóng và đới lạnh, thời tiết thay đổi thất thường. Tính chất trung gian của khí hậu và thất thường của thời tiết được thể hiện là:

- Tính chất trung gian:

+ Nhiệt độ: Đới ôn hòa có nhiệt độ cao hơn nhiệt độ ở đới lạnh và thấp hơn nhiệt độ ở đới nóng

+ Lượng mưa: Lượng mưa ở đới ôn hòa nhiều hơn lượng mưa ở đới lạnh và ít hơn lượng mưa ở đới nóng

- Tính chất thất thường: Các đợt khí nóng ở chí tuyến và các đợt khí lạnh ở vùng cực có thể tràn xuống bất thường. Nhiệt độ có thể tăng hoặc giảm 10-15<sup>0</sup>C trong vòng vài giờ. Gió Tây ôn đới và các khối khí từ đại dương thổi tới làm cho thời tiết biến động rất khó dự báo

**Câu 2 ( 2 điểm ):**

- Các đặc điểm của khí hậu hoang mạc.

+ Nhiệt độ: Chênh lệch nhiệt độ trong năm rất lớn (30-40<sup>0</sup>C), sự chênh lệch nhiệt độ giữa ngày và đêm còn lớn hơn rất nhiều

+ Lượng mưa: Lượng mưa rất thấp trong khi lượng bốc hơi rất lớn. Khí hậu vô cùng khô hạn

- Thực vật và động vật thích nghi với môi trường khắc nghiệt, khô hạn như thế nào?

+ Thực vật: Hạn chế sự thoát hơi nước, tăng cường dự trữ nước và chất dinh dưỡng trong cơ thể, rút ngắn chu kỳ sinh trưởng cho phù hợp với thời kỳ có mưa, lá biến thành gai hoặc lá bọc sấp, thân lùn thấp, bộ rễ rất to và dài

+ Động vật: sống trong các hốc đá, vùi mình trong cát, chỉ ra ngoài kiếm ăn vào ban đêm, tăng khả năng chịu đói khát.

**Câu 3 (1,5 điểm) :**

- Phân tích biểu đồ nhiệt độ, lượng mưa

+ Nhiệt độ: Cao nhất: 16<sup>0</sup>C, thấp nhất -9<sup>0</sup>C, biên độ nhiệt 25<sup>0</sup>C

+ Lượng mưa: Tổng lượng mưa 560mm. Tháng nào cũng có mưa. Mưa nhiều tháng 6,7,8

→ Mùa hạ mát mẻ, mùa đông rất lạnh, biên độ nhiệt lớn. Lượng mưa trung bình, mưa đều quanh năm. Mưa nhiều hơn vào mùa hạ

- **Biểu đồ A thuộc kiểu môi trường ôn đới lục địa**

**GV BỘ MÔN**

**NT/TTCM DUYỆT**

**BGH DUYỆT**

*Trần Thị Ngoan*

*Hoàng Thu Hiền*

*Đặng Thị Tuyết Nhung*