

**PHÒNG GD & ĐT QUẬN LONG BIÊN
TRƯỜNG THCS THANH AM**

**NỘI DUNG ÔN TẬP MÔN VẬT LÝ LỚP 6
(Từ ngày 23/3 – 29/3/2020)**

I. TRẮC NGHIỆM

Câu 1: Dụng cụ nào dưới đây được dùng để đo độ dài:

- A. com pa B. Thước thẳng C. Ê.ke D. Bình chia độ

Câu 2: Độ chia nhỏ nhất của một thước đo độ dài là:

- A. Độ dài giữa hai vạch liên tiếp chia trên thước.
B. Độ dài nhỏ nhất mà thước đo được.
C. Độ dài lớn nhất ghi trên thước.
D. Độ dài của cái thước đó.

Câu 3: Niu ton là đơn vị của:

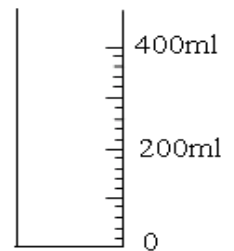
- A. Trọng lượng riêng B. Độ dài C. Khối lượng riêng. D. Trọng lực

Câu 4: Người ta dùng một bình chia độ chứa 75 cm³ nước để đo thể tích của một viên bi thủy tinh. Khi thả viên bi vào bình, bi ngập hoàn toàn trong nước và mực nước trong bình dâng lên tới vạch 100 cm³. Thể tích của viên bi là

- A. 125 cm³ B. 175 cm³ C. 135 cm³ D. 25 cm³

Câu 5: Cho bình chia độ như hình vẽ. Giới hạn đo và độ chia nhỏ nhất của bình lần lượt là .

- A. 400 ml và 200 ml.
B. 400 ml và 2 ml .
C. 400 ml và 20 ml
D. 400 ml và 0 ml.



Câu 6: Gió thổi căng phồng một cánh buồm. Gió đã tác dụng lên cánh buồm một lực nào trong số các lực sau?

- A. Lực đẩy. B. Lực hút. C. Lực căng. D. Lực kéo.

Câu 7: Hai lực cân bằng là hai lực:

- A. Đặt vào một vật, cùng phương, cùng chiều, cùng cường độ.
B. Đặt vào một vật, cùng phương, ngược chiều, cùng cường độ.
C. Đặt vào hai vật, cùng phương, cùng chiều, cùng cường độ.
D. Đặt vào hai vật, cùng phương, ngược chiều, cùng cường độ.

Câu 8: Trong các dụng cụ dưới đây, dụng cụ nào **không phải** là ứng dụng của máy cơ đơn giản?

- A. Búa nhổ đinh B. Bập bênh C. Kéo cắt giấy. D. Dao cắt giấy

Câu 9: Ở mặt đất, một quả nặng có trọng lượng 10N thì khối lượng của quả nặng gần bằng:

- A. 1kg B. 100g C. 10g D. 1g

Câu 10: Trọng lượng riêng của nước là 10000 $\frac{N}{m^3}$ thì khối lượng riêng của nước là

- A. 100000 $\frac{kg}{m^3}$ B. 100 $\frac{kg}{m^3}$ C. 1000 $\frac{kg}{m^3}$ D. 10 $\frac{kg}{m^3}$

Câu 11: Một lít dầu hoả có khối lượng 800g, khối lượng của 1,5m³ dầu hoả là

A. 120kg

B. 400kg

C. 1500kg

D. 1200kg

Câu 12: Ở mặt đất, cân nặng của An là 30kg, cân nặng của Bình gấp 1,8 lần cân nặng của An. Vậy, trọng lượng của Bình là

A. 54 N

B. 540N

C. 300N

D. 5400N

II. TỰ LUẬN

Câu 1: Trình bày cách đo thể tích chất lỏng?

Câu 2: Máy cơ đơn giản có tác dụng gì ? Kể tên các loại máy cơ đơn giản mà em được học? Lấy ví dụ về những đồ dùng có máy cơ đơn giản quanh em và chỉ rõ đó là loại máy cơ đơn giản nào?

Câu 3:

a. Nói khối lượng riêng của nhôm là $2700 \frac{kg}{m^3}$ có nghĩa là gì ?

b. Một quả cầu bằng nhôm có thể tích là $50 dm^3$. Tính khối lượng và trọng lượng của quả cầu?

NỘI DUNG ÔN TẬP MÔN TIẾNG ANH LỚP 6

(Từ ngày 23/3 – 29/3/2020)

I. VOCABULARY (Từ vựng)

Học sinh viết các từ sau mỗi từ 3 dòng vào vở (ghi cả nghĩa tiếng Việt)

1. achievement	/ə'tʃi:vmənt/	thành tựu
2. aerobics	/eə'rəʊbɪks/	môn thể dục nhịp điệu
3. athlete	/'æθli:t/	vận động viên
4. badminton	/'bædmɪntən/	môn cầu lông
5. basketball	/'bɑ:skɪtbɔ:l/	môn bóng rổ
6. bat	/bæt/	gậy đánh bóng chày
7. blind man's bluff	/blaɪnd mænz blʌf/	trò bịt mắt bắt dê
8. boat	/bəʊt/	con thuyền
9. boxing	/'bɒksɪŋ/	môn đấm bốc
10. breaststroke	/'breɪststrəʊk/	bơi ếch
11. career	/kə'riə(r)/	nghề nghiệp, sự nghiệp
12. chess	/tʃes/	cờ vua
13. chew	/tʃu:/	nhai
14. congratulations	/kɒŋgrætʃu'leɪʃn/	lời chúc mừng
15. court	/kɔ:t/	sân (quần vợt)

II. EXERCISE (Bài tập)

Bài 1. Tìm từ mà phần gạch chân được phát âm khác so với những từ còn lại

1. A. red B. tent C. end D. forest
2. A. lake B. bag C. take D. nature
3. A. island B. plaster C. coast D. longest
4. A. map B. area C. hat D. plan
5. A. post B. cost C. question D. coast

Bài 2. Chọn đáp án phù hợp

1. Which city is , Ha Noi or Ho Chi Minh City?
A. large B. larger C. largest D. the largest
2. It is often rainy in Hue remember to bring an umbrella.
A. but B. so C. or D. must
3. You must remember to bring a..... It's very useful when you go into a cave because it's very dark there.
A. torch B. clock C. scissors D. compass
4. The boat trip to Ca Mau, the southern tip of Viet Nam, was..... experience of my life.
A. good B. better C. best D. the best
5. The Amazone is in Brazil.

- A. rain forest B. rainy forest C. wet forest D. wetter forest
6. Tra Co beach is..... beach in VietNam.
A. long B. longer C. longest D. the longest
7. The islands in Ha Long Bay are named _____ things around us.
A. in B. for C. after D. at
8. Mount Everest is the highest mountain _____ the world.
A. in B. on C. at D. of
9. If we had a _____, we wouldn't get lost.
A. backpack B. ruler C. compass D. painkiller
10. You _____ travel alone to the mountain. Always go in group.
A. must B. mustn't C. do D. don't
11. People think Ayers rock is _____ in the evening when it red.
A. good B. better C. best D. the best
12. You _____ all necessary things along with you before you start your trip.
A. takes B. won't take C. must take D. mustn't take
13. You _____ be late for school. It's against the school regulations.
A. must B. mustn't C. can D. can't
14. You _____ take a lot of warm clothes when you go to Sapa in winter.
A. must B. mustn't C. can D. can't
15. Ba Be lake is the _____ lake in Viet Nam.
A. large B. larger C. largest D. tallest

Bài 3. Khoanh tròn vào đáp án có chứa lỗi sai và sửa

1. My school has five flour.
A B C D
2. My classroom are on the third floor.
A B C D
3. Which grade are your in?
A B C D
4. Are yours school big?
A B C D
5. How many people are there on your family?
A B C D
6. Lan's sister and her friends travel to Singapore in Plane.
A B C D
6. There is a vegetable garden next my house.
A B C D
7. How does Mr. and Mrs. Smith get to work?
A B C D
8. There isn't any flowers in the garden.
A B C D
10. My friend lives in a apartment in town.
A B C D

Bài 4. Chọn động từ phù hợp rồi điền vào chỗ trống, sử dụng thì quá khứ đơn

teach	cook	want	spend	ring
be	sleep	study	go	write

1. She _____ out with her boyfriend last night.
2. Laura _____ a meal yesterday afternoon.
3. Mozart _____ more than 600 pieces of music.
4. I _____ tired when I came home.
5. The bed was very comfortable so they _____ very well.
6. Jamie passed the exam because he _____ very hard.
7. My father _____ the teenagers to drive when he was alive.
8. Dave _____ to make a fire but there was no wood.
9. The little boy _____ hours in his room making his toys.
10. The telephone _____ several times and then stopped before I could answer it.

Bài 5. Cho dạng đúng của các động từ trong ngoặc ở thì quá khứ đơn

1. _____ you (live) _____ here five years ago?
2. We (drive) _____ around the parking lot for 20 minutes to find a parking space.
3. When we (arrive) _____ at the restaurant, the place (be) _____ full.
4. I (say) _____ he would come.
5. The waiters (tell) _____ us to come back in two hours.
6. We (stop) _____ in the grocery store and (buy) _____ some cakes.
7. My sister (get) _____ married last month.
8. Daisy (come) _____ to her grandparents' house 3 days ago.
9. My computer (be) _____ broken yesterday.
10. My children (not do) _____ their homework last night.

Bài 6. Đọc đoạn văn sau và trả lời câu hỏi

My last Sports Day occurred on the 8th of September in 2016. On that day, the school was beautifully decorated with colorful flags. Parents were invited to watch their children participate in many events.

In the morning, our class was divided into four groups and they competed against one another. The children used balls, hoops, skipping-ropes and bags in the competition. The parents cheered them very much.

In the afternoon, we had more interesting events. The Upper Primary students competed in many sports such as hurdles, relay races, short distance races, high jump and long jump. Every participant tried their best to win as many trophies as possible for their team.

The prize-giving ceremony marked the end of the exciting day. The winners were cheered and carried on their classmates' shoulders. Though we were very tired, we had enjoyed ourselves very much.

1. When did her last Sports Day take place?

-
2. What was the school decorated with?

3. Who were invited to watch her children participate in many events?

4. What did the children use in the competition?

5. What sports did the Upper Primary student compete in?

6. Why did the participants try their best?

Bài 7. Đọc đoạn văn sau và chọn câu trả lời đúng nhất

Experts think that it is a good idea for children to learn not just one, but two foreign languages. **They** say that learning two foreign languages develops children's minds and increases their knowledge of other cultures.

The experts also believe that the two foreign languages children learn should be completely different from one another, for example English and Chinese, or French and Japanese. In addition, they say that children should start to learn foreign languages as early as possible, from the age of about six.

1. According to experts, children_____.

A. shouldn't learn more than two languages

B. should learn just one foreign language

C. should learn two foreign languages

D. shouldn't learn foreign languages

2. What does the word "**they**" in line 2 refer to?

A. experts

B. children

C. languages

D. cultures

3. Children should learn_____.

A. two foreign languages which are the same

B. one language

C. two foreign languages which are completely different from one another

D. all are correct

4. Which of the following is not true?

A. Children should start to learn foreign languages early.

B. Children should start to learn foreign languages from the age of about six.

C. Children should start to learn foreign languages late.

D. Learning foreign languages is good for children.

Bài 8. Chọn đáp án đúng điền vào chỗ trống

Nam usually (1)_____his lesson in the early morning. After learning the lesson he does (2)_____homework then he listens (3)_____music. He goes to school 4)_____his friend, Tuan at 6.30. Tuan's house is (5)_____to his house. When the class (6)_____they go home. In the afternoon they often (7)_____football with their friends. In the evening Nam usually watches (8)_____after studying, and he goes to bed at ten.

1. A. listens

B. does

C. learns

2. A. a

B. his

C. my

3. A. for
4. A. by
5. A. next
6. A. starts
7. A. do
8. A. music

- B. in
- B. with
- B. in front
- B. finishes
- B. play
- B. television

- C. to
- C. on
- C. near
- C. opens
- C. work
- C. stereo

PHIẾU BÀI TẬP NGỮ VĂN 6 TUẦN TỪ 23/3 ĐẾN 29/3

Bài tập 1: cho đoạn văn sau và trả lời câu hỏi:

“Chợ Năm Căm nằm sát bên bờ sông, ồn ào, đông vui, tấp nập. ...Những cái bến vận hà nhộn nhịp, dọc dài theo sông; những lò than hầm gỗ được sản xuất loại than củi nổi tiếng nhất của miền Nam; những ngôi nhà bè ban đêm ánh đèn măng – sông chiếu rọi trên mặt nước như những khu phố nổi, và nơi đây người ta có thể cập thuyền lại, bước sang gọi một món xào, món nấu Trung Quốc hoặc một đĩa thịt rừng nướng ướp kiểu địa phương kèm theo vài chút rượu, ngoài ra có thể mua từ cây kim cuộn chỉ, những vật dụng cần thiết, một bộ quần áo may sẵn hay một món nữ trang đắt giá chẳng hạn, mà không cần phải bước ra khỏi thuyền.”

- Đoạn trích trên được trích từ văn bản nào? Tác giả là ai?
- Tìm những tính từ trong đoạn trích trên và cho biết các tính từ đó có tác dụng gì?
- Tìm những chi tiết, hình ảnh thể hiện được sự tấp nập, đông vui, trù phú và độc đáo của chợ vùng Cà Mau?
- Viết đoạn văn từ 6- 8 câu trình bày cảm nhận của mình về Cà Mau- vùng đất cực Nam của Tổ Quốc.

Bài tập 2: Tìm các cụm danh từ trong các câu sau:

- Ngày xưa, ở đất Lạc Việt, cứ như bây giờ là Bắc Bộ nước ta, có một vị thần thuộc nòi rồng, con trai thần Long Nữ, tên là Lạc Long Quân.
- Bấy giờ ở vùng núi cao Phương Bắc, có nàng Âu Cơ thuộc dòng họ Thần Nông, xinh đẹp tuyệt trần.
- Chú bé vùng đây, vươn vai một cái bỗng biến thành một tráng sĩ mình cao hơn trượng, oai phong lẫm liệt.
- Chẳng bao lâu, tôi đã trở thành một chàng dế thanh niên cường tráng.

Bài tập 3: Tìm các chỉ từ trong các câu sau đây và cho biết ý nghĩa của chúng.

- Có một con ếch sống lâu ngày trong một cái giếng nọ. Xung quanh nó chỉ có vài con nhái, cua, ốc bé nhỏ. Hằng ngày nó cất tiếng kêu ồm ộp làm vang động cả giếng, khiến các con vật kia rất hoảng sợ.
- Quan thâm nghĩ, nhất định nhân tài ở đây rồi, chả phải tìm đâu cho mất công.
- Bà mẹ về nói với Sọ Dừa, nghĩ là con thôi hẳn việc đòi lấy vợ. Không ngờ Sọ Dừa bảo với mẹ rằng sẽ có đủ những thứ ấy.
- Năm ấy, đến lượt Lí Thông nộp mình, Mẹ con hẳn nghĩ kẻ lừa Thạch Sanh chết thay.

NỘI DUNG ÔN TẬP MÔN TOÁN

(Từ ngày 23/3 – 29/3/2020)

Năm học 2019 – 2020

SỐ HỌC

A. Trắc nghiệm

Câu 1. Khoanh tròn ký tự đầu câu em cho là đúng nhất trong các câu từ 1 – 4 sau :

1/ Khi bỏ dấu ngoặc của biểu thức $(95 - 4) - (12 + 3)$ ta được:

- A. $95 - 4 - 12 + 3$ B. $94 - 4 + 12 + 3$ C. $95 - 4 - 12 - 3$ D. $95 - 4 + 12 - 3$

2/ Trong tập hợp Z các ước của -12 là:

- A. {1, 3, 4, 6, 12} B. {-1; -2; -3; -4; -6; -12; 1; 2; 3; 4; 6; 12}
C. {-1; -2; -3; -4; -6} D. {-2; -3; -4; -6; -12}

3/ Giá trị x thoả mãn $x + 4 = -12$ là:

- A. 8 B. -8 C. -16 D. 16

4/ Số đối của (-18) là :

- A. 81 B. 18 C. (-18) D. (-81)

Câu 2: Điền dấu (<, =, >) thích hợp vào mỗi chỗ trống sau:

- a) $5 \dots -9$ b) $-8 \dots -3$ c) $-12 \dots 13$ d) $25 \dots |-25|$

Câu 3. Đánh dấu “X” vào ô thích hợp :

Khẳng định	Đúng	Sai
a/ Tích của hai số nguyên âm là một số nguyên dương		
b/ Tổng của hai số nguyên âm là một số nguyên dương		
c/ Tích của hai số nguyên dương là một số nguyên dương		
d/ Số 0 là số nguyên dương nhỏ nhất.		

B. Tự luận

Bài 1. Tính:

- a. $-168 + (-332) - (+600)$; f. $(-12) \cdot 15$
b. $17 + (-12) + 25 - 17$ g. $(-12) \cdot 13 + 13 \cdot (-22)$
c. $-212 + (-88) - (-591) + 391$; h. $\{[14 : (-2)] + 7\} : 2012$
d. $-187 + (-1907) + 619 - 1706 + 581$ i. $(17 - 229) + (17 - 25 + 229)$
e. $100 + 430 + 2145 + (-530)$ j. $(125 - 679 + 145) - (125 - 679)$

Bài 2. Tính nhanh các tổng sau :

- a. $(-2020) - (26 - 2020)$
b. $512 - 87 + (-12) - (-487)$
c. $[53 + (-76)] - [(-76) - (-53)]$
d. $-23 \cdot 63 + 23 \cdot 21 - 58 \cdot 23$
e. $-37 + 54 + (-70) + (-163) + 246$
f. $-69 + 53 + 46 + (-94) + (-14) + 78$
g. $-359 + 181 + (-123) + 350 + (-172)$
h. $13 - 12 + 11 + 10 - 9 + 8 - 7 - 6 + 5 - 4 + 3 + 2 - 1$

Bài 3: Tìm x, biết:

a. $x - 5 = -1$

b. $x + 30 = -4$

c. $x - (12 - 25) = -8$

d. $22 - (-x) = 12$

e. $15 - (4 - x) = 6$

f. $-30 + (25 - x) = -1$

g. $x + (12 - 25) = -8$

h. $(x - 29) - (17 - 38) = -9$

i. $(x + 5) + (x - 9) = x + 2$

j. $(27 - x) + (15 + x) = x - 24$

Bài 4: Tìm x, y biết:

a. $(x - 2).(5 - y) = 0$

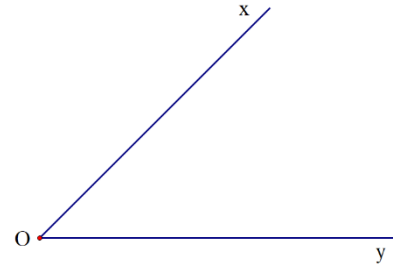
b. $(x - 3).(2y + 1) = 5$

HÌNH HỌC

A. Trắc nghiệm:

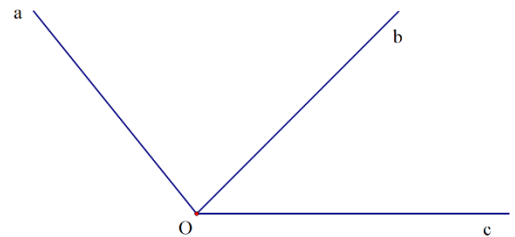
Câu 1: Cho hình vẽ bên, chọn câu đúng:

- A. Góc xOy có đỉnh O, cạnh Ox và Oy
- B. Góc xyO có đỉnh O, cạnh Ox và Oy
- C. Góc Oxy có đỉnh O, cạnh Ox và Oy
- D. Góc xOy có đỉnh y, cạnh Ox và Oy



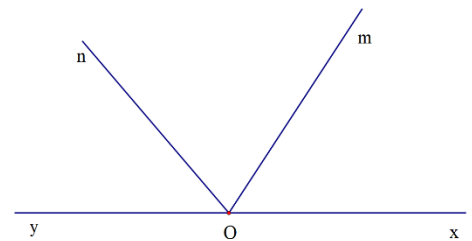
Câu 2: Kể tên các góc có trong hình vẽ bên

- A. aOb
- B. aOb, bOc, aOc
- C. aOc, bOc
- D. aOc



Câu 3: Kể tên tất cả các góc có cạnh là tia Om trong hình vẽ bên:

- A. xOm, mOn
- B. mOn
- C. xOm, mOn, mOy, xOy
- D. xOm, mOn, mOy



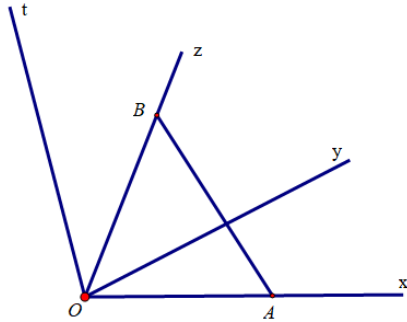
Câu 4: Chọn câu sai:

- A. Góc là hình gồm hai tia chung gốc
- B. Hai tia chung gốc tạo thành góc bẹt
- C. Hai góc bằng nhau thì có số đo bằng nhau
- D. Hai góc có số đo bằng nhau thì bằng nhau

B. Tự luận:

Bài 1:

- a) Trên hình vẽ có bao nhiêu góc? Viết tên các góc đó.
b) Điểm A trên tia Ox (A khác O), điểm B trên tia Oz (B khác O). Đoạn thẳng AB cắt những tia nào?



Bài 2:

Trên mặt phẳng cho tia Ax. Có thể vẽ được mấy tia Ay sao cho $\angle Ay = 50^\circ$.

HƯỚNG DẪN

SỐ HỌC

Bài 1.

- | | |
|----------|---------|
| a. -1100 | f. -180 |
| b. 13 | g. -442 |
| c. 682 | h. 0 |
| d. -2600 | i. 9 |
| e. 2145 | j. 145 |

Bài 2:

- a. -26
b. 900
c. 0
d. -2300
e. 30
f. 0
g. -123
h. 13

Bài 3:

- a. $x = 4$
b. $x = -34$
c. $x = -5$
d. $x = -10$
e. $x = -5$
f. $x = -4$
g. $x = 5$
h. $x = -1$
i. $x = 6$
j. $x = 66$

Bài 4:

- a. $x = 2$ hoặc $y = 5$
b. TH1: $x = 4$ và $y = 2$
TH2: $x = 8$ và $y = 0$
TH3: $x = 2$ và $y = -3$
TH4: $x = -2$ và $y = -1$