

TRƯỜNG TIỂU HỌC GIANG BIÊN

ĐỀ CƯƠNG ÔN TẬP CUỐI KÌ MÔN TIN HỌC KHỐI 3

Thời gian thi: Tuần 16 (Theo lịch của nhà trường)

Hình thức thi: Trực tuyến

CHỦ ĐỀ 1: LÀM QUEN VỚI MÁY TÍNH

Câu 1: Máy tính để bàn gồm có mấy bộ phận chính?

- A. 1
- B. 2
- B. 3
- D. 4

Câu 2: Nội chức năng tương ứng với bộ phận của máy tính?


Thân máy tính	là nơi hiển thị kết quả làm việc của máy tính
Màn hình máy tính	là hộp chứa nhiều chi tiết tinh vi, trong đó có bộ xử lý của máy tính.
Bàn phím máy tính	có nhiều phím. Khi gõ các phím ta gửi tín hiệu vào máy tính
Chuột máy tính	dùng để điều khiển máy tính thuận tiện và dễ dàng.





Câu 3: Khi ngồi làm việc với máy tính khoảng cách nào là tốt nhất cho đôi mắt của em?

- A. Từ mắt đến màn hình là: 30cm - 50cm
- B. Từ mắt đến màn hình là: 50cm - 80cm
- C. Từ mắt đến màn hình là: 60cm - 80 cm
- D. Từ mắt đến màn hình là: 80cm - 100cm

Câu 4: Nên đứng dậy và đi lại sau khi đã sử dụng máy tính trong khoảng thời gian bao nhiêu để đảm bảo cho sức khỏe?

- A. 15 phút
- B. 30 phút
- C. 60 phút
- D. 90 phút

Câu 5: Để tắt máy tính, em thực hiện thao tác nào sau khi nháy chuột vào nút Start  ?

- A. 
- B. 
- C. 
- D. 

Câu 7: Chuột máy tính có mấy bộ phận cơ bản?

- A. 1
- B. 2
- B. 3
- D. 4

Câu 8: Khi sử dụng chuột máy tính, em cầm chuột bằng tay phải và ngón trỏ đặt vào..... và ngón giữa đặt vào

- A. nút trái chuột, nút phải chuột
- B. nút phải chuột, nút trái chuột
- C. bánh lăn

Câu 9: Hàng phím dưới đây là hàng phím gì?

- D. 

A. Hàng phím cơ sở

C. Hàng phím trên

B. Hàng phím

D. Hàng phím dưới

Câu 9: Nối các phát biểu sau với thao tác sử dụng chuột tương ứng?

Thay đổi vị trí của chuột trên mặt phẳng.		Nháy nút phải chuột
Nhấn nút chuột phải rồi thả ngón tay ra.		Nháy đúp chuột
Nhấn và giữ nút trái chuột trong khi di chuyển chuột đến một vị trí khác rồi thả ngón tay ra.		Di chuyển chuột
Nhấn nút chuột trái liên tiếp hai lần rồi thả ngón tay ra.		Kéo thả chuột

Câu 11: Khi đặt tay trên hàng phím cơ sở, hai ngón tay trỏ đặt tại vị trí nào?

A. Hai phím H và F

B. Hai phím có gai (F và J)

C. Hai phím F và G

Câu 12: Trên bàn phím có phím dài nhất, gọi là phím cách. Phím cách nằm ở hàng phím nào?

A. Hàng phím cơ sở

B. Hàng phím trên

C. Hàng phím dưới cùng

Câu 13: Ngón tay cái đặt ở phím nào khi đặt tay trên bàn phím máy tính?

A. Đặt tại vị trí phím G, H

B. Đặt ở hàng phím cơ sở

C. Đặt trên phím cách

Câu 14: Để tập luyện gõ bàn phím bằng 10 ngón tay, em phải đặt tay trên hàng phím nào của bàn phím máy tính?

A. Hàng phím trên

B. Hàng phím cơ sở

C. Hàng phím dưới

D. Hàng phím số

Câu 15: Đây là biểu tượng của thư mục?



Câu 16: Chọn đáp án Đúng, Sai cho các phát biểu dưới đây.

Thư mục là nơi lưu trữ các sản phẩm khi làm việc với máy tính.	
Không thể tạo thư mục trên màn hình máy tính.	
Trong mỗi thư mục có thể tạo ra các thư mục con.	

Câu 17: Sắp xếp các thao tác sau để tạo được một thư mục mới:

1. Nhập tên thư mục và nhấn Enter.

2. Chọn vị trí cần tạo thư mục

3. Nhấp phải chuột vào khu vực trống rồi chọn New chọn Folder

A. 1-2-3

B. 2-1-3

C. 3-2-1

D. 2-3-1

Câu 18: Để mở thư mục, sau khi nhấn chuột phải vào thư mục muốn mở, em chọn ?

A. Delete

C. Cut

B. Rename

D. Open

Câu 19: Để xóa thư mục Hoa, em làm cách nào dưới đây?

A. Nháy chuột phải vào thư mục Hoa, sau đó chọn Open.

B. Nháy chuột phải vào thư mục Hoa, sau đó chọn Delete.

C. Nháy chuột trái chọn thư mục Hoa rồi nhấn phím Enter.

Câu 20: Đây là biểu tượng của trình duyệt web?



CHỦ ĐỀ 2: EM TẬP VẼ

Câu 1: Đây là biểu tượng của phần mềm Paint?

A	B	C	D

Câu 2: Để khởi động Paint em thực hiện thao tác nào sau đây?


A. Di chuyển chuột vào biểu tượng Paint trên màn hình nền.

B. Nháy nút phải chuột vào biểu tượng Paint trên màn hình nền.

C. Nháy đúp chuột vào biểu tượng Paint trên màn hình nền.

D. Nháy chuột trái vào biểu tượng Paint trên màn hình nền.

Câu 3: Quan sát hình sau và cho biết đây là công cụ gì? *



A. Công cụ tô màu


B. Công cụ bút vẽ

C. Công cụ vẽ đường thẳng

D. Công cụ bút mực

Câu 4: Sắp xếp các thao tác sau đây để được thứ tự các bước đúng khi lưu một bài vẽ trong Paint?

1. Em chọn thư mục để lưu bài vẽ.

2. Nháy chọn  ở phía trên góc trái phần mềm Paint, chọn **Save**.

3. Đặt tên cho bài vẽ bằng cách nháy vào ô **File name** rồi gõ tên bài vẽ.

4. Nháy chọn **Save** để lưu bài vẽ.

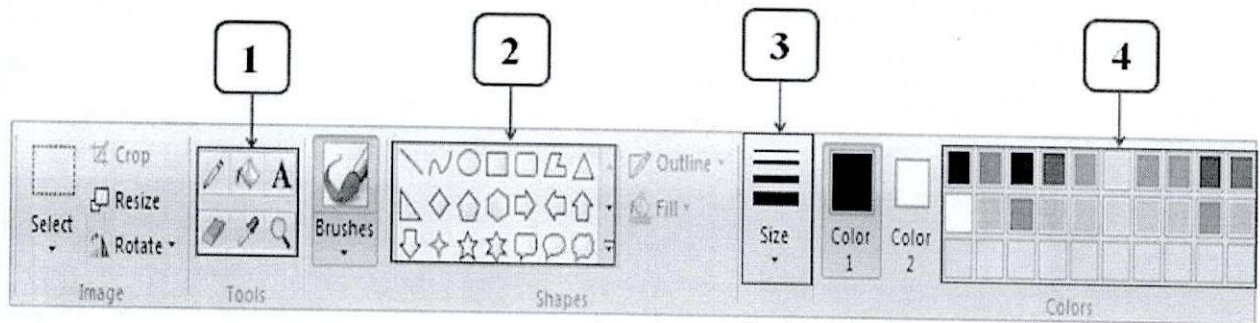
A. 1 - 2 - 3 - 4

B. 2 - 1 - 4 - 3

C. 2 - 1 - 3 - 4

D. 1 - 2 - 4 - 3

Câu 5: Em hãy quan sát hình và ghép nối tên đúng của các hộp dưới đây trong bảng chọn của Paint:






	Hộp hình mẫu	Hộp hình mẫu	Hộp hình mẫu	Hộp hình mẫu
Vị trí 1				
Vị trí 2				
Vị trí 3				
Vị trí 4				





Câu 6: Em hãy ghép nối tên tổ hợp phím với chức năng đúng tương ứng của nó?

	Mở một trang vẽ mới.	Mở một trang vẽ mới.
CTRL + S		
CTRL + N		

Câu 7: Để chọn độ dày nét vẽ em sử dụng công cụ nào sau đây?

A.	B.	C.
		


Câu 8: Để vẽ hình e-líp hoặc hình tròn em sử dụng công cụ nào trong các công cụ sau đây?

A.	B.	C.	D.
			

Câu 9: Để vẽ được hình tròn, hình vuông em nhấn giữ phím.....?

- A. Nhấn giữ phím CTRL trong khi vẽ
- B. Nhấn giữ phím SHIFT trong khi vẽ.
- C. Nhấn giữ phím CAPS LOCK trong khi vẽ
- D. Nhấn giữ phím TAB trong khi vẽ

Câu 10: Em hãy chọn và sắp xếp các bước dưới đây để được thao tác đúng khi “Vẽ đường cong”:

1. Chọn màu vẽ và độ dày nét vẽ.
2. Đưa con trỏ chuột lên đoạn thẳng vừa vẽ. Nhấn giữ nút trái chuột và kéo cong đoạn thẳng đến khi nào vừa ý thì thả nút chuột và nhấp chuột lên trang vẽ.
3. Nhấp chuột lên công cụ vẽ đường cong .
4. Đưa con trỏ chuột vào vùng trang vẽ, nhấn giữ nút trái chuột rồi kéo một đoạn dài tùy ý, sau đó thả nút chuột.



Thao tác đúng để thực hiện “vẽ đường cong” là:

- A. 1 – 2 – 3 - 4
- B. 2– 3 – 1 - 4
- C. 3 – 1 – 4 - 2
- D. 1 – 3 – 4 - 2

Câu 11: Để vẽ được đường thẳng nằm ngang hoặc thẳng đứng đẹp hơn, em nhấn giữ phím nào?

- A. Shift
- B. Ctrl
- C. Alt
- D. Enter

Câu 12: Nếu không may em vẽ bị sai một chi tiết, để quay lại thao tác trước đó em nhấn tổ hợp phím:

- A. Ctrl + N
- B. Ctr + O
- C. Ctrl +A
- D. Ctrl+ Z

Câu 13: Sau khi chọn chi tiết tranh vẽ, muốn xóa chi tiết đó em nhấn phím nào dưới đây?

- A. Delete
- B. Ctrl
- C. Alt
- D. Enter





Câu 14: Sau khi chọn hình vẽ, muốn sao chép hình vẽ thành nhiều hình giống nhau em nhấn phím nào dưới đây?

- A. Shift
- B. Ctrl
- C. Alt
- D. Enter






Câu 15: Để thay đổi kích thước của công cụ tẩy em sử dụng biểu tượng nào dưới đây:

- A. 
- B. 
- C. 
- D. 

Câu 16: Để thay đổi kích thước của công cụ tẩy em sử dụng biểu tượng nào dưới đây?

A.	B.	C.	D.
			


Câu 17: Em hãy ghép nối các biểu tượng sau với chức năng tương ứng của nó sao cho đúng

Hình 1	Hình 2	Hình 3	Hình 4	Hình 5
				

Vẽ đường cong		Hình 1
Vẽ đường thẳng		Hình 2
Tẩy chi tiết tranh vẽ		Hình 3
Công cụ chọn hình dạng hình chữ nhật		Hình 4
Công cụ chọn tự do		Hình 5

Câu 18: Sau khi chọn công cụ Select, để chọn hình cần sao chép, em thực hiện thao tác nào sau đây?

- A. Nháy chuột vào hình cần sao chép.
- B. Nháy đúp chuột vào hình cần sao chép.
- C. Kéo thả chuột bao quanh hình cần sao chép.
- D. Di chuyển chuột vào hình cần sao chép.

Câu 19: Khi sao chép để hình ở trên không che khuất hình ở dưới, em thực hiện thao tác chọn  rồi chọn?

- A.
- B.
- C.
- D.

Câu 20: Em hãy sắp xếp các bước thực hiện tô màu cho tranh đã vẽ?

A. Chọn vùng muốn tô màu, nháy chuột để tô

B. Chọn màu tô trong hộp màu



C. Chọn công cụ tô màu 

- A. A-B-C
- B. B-C-A
- C. C-B-A