

**CHÀO MỪNG CÁC BẠN HỌC SINH**

**đến với buổi học trực tuyến**

đến với buổi học trực tuyến

**LỚP 3A6**





# KHỞI ĐỘNG

## ĐẶC ĐIỂM CỦA HÌNH VUÔNG - HÌNH CHỮ NHẬT

Hình vuông là hình có:

A. Có 4 góc vuông.

B. Có 4 góc vuông và 2 cạnh bằng nhau.

C. Có 4 góc vuông và 4 cạnh bằng nhau.

D. Có 2 cạnh bằng nhau.

10





# KHỞI ĐỘNG

## ĐẶC ĐIỂM CỦA HÌNH VUÔNG - HÌNH CHỮ NHẬT

Hình chữ nhật là hình có:

10

A. Có 4 góc vuông.

B. Có 2 cạnh dài bằng nhau.


C. Có 2 cạnh ngắn bằng nhau.

**D.** Hình chữ nhật là hình có 4 góc vuông, có 2 cạnh dài bằng nhau, có 2 cạnh ngắn dài bằng nhau.



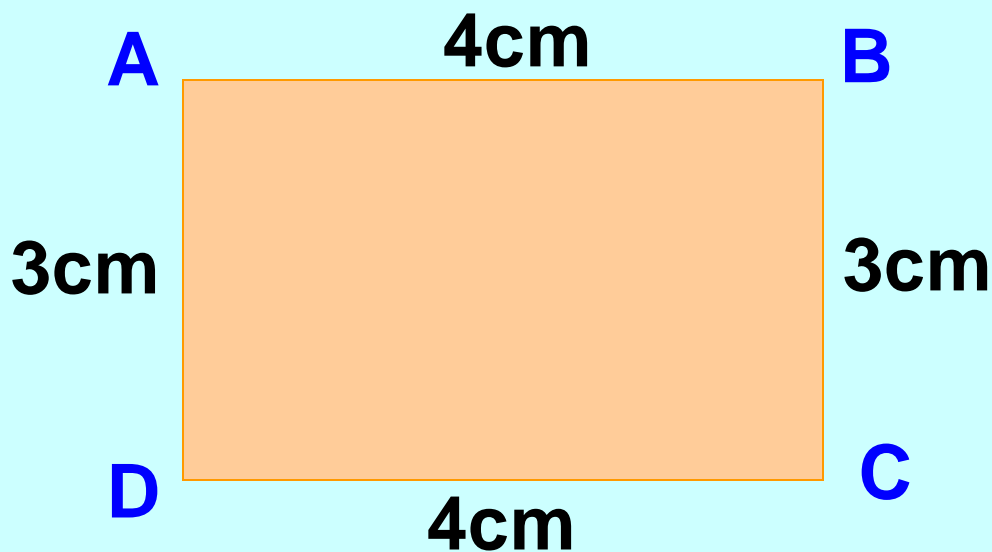
**Thứ ba ngày 4 tháng 1 năm 2022**  
**Toán**

**Chu vi hình chữ nhật (trang 87)**



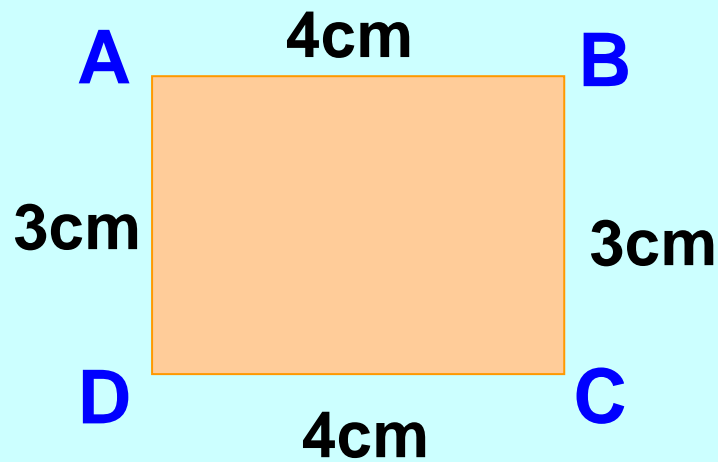


**Hình chữ nhật ABCD  
có chiều dài 4cm, chiều rộng 3cm.**



**Tính chu vi hình chữ nhật ABCD?**





Chu vi hình chữ nhật ABCD là:

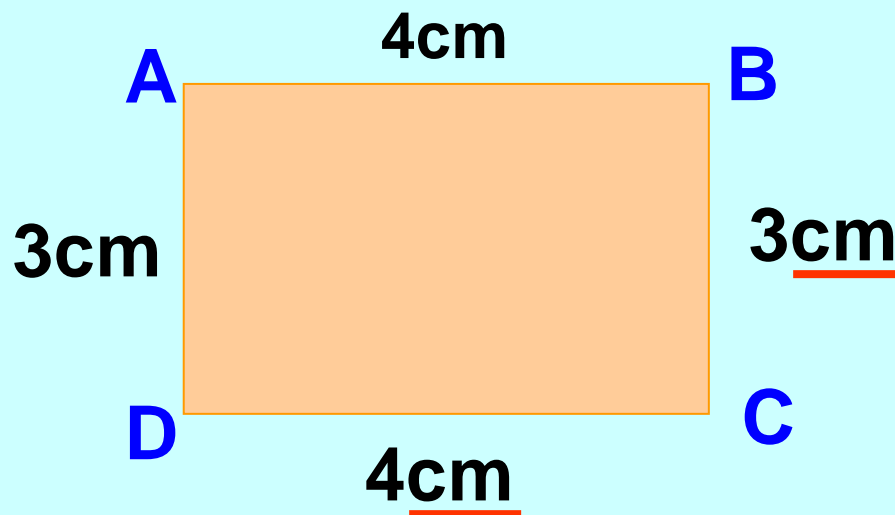
$$\underline{4 + 3} + \underline{4 + 3} = 14 \text{ (cm)}$$

Hoặc

Tìm cách viết gọn phép tính chu vi hình chữ nhật ABCD?.

$$(4 + 3) \times 2 = 14 \text{ (cm)}$$





**Muốn tính chu vi hình chữ nhật ABCD em làm sao?**

**Muốn tính chu vi hình chữ nhật ta lấy chiều dài cộng với chiều rộng ( cùng đơn vị đo ) rồi nhân với 2.**

**Lưu ý: Số đo chiều dài và chiều rộng phải được tính theo cùng một đơn vị đo.**





## Luyện tập:

**Bài 1** Tính chu vi hình chữ nhật có:

a) Chiều dài 10 cm, chiều rộng 5 cm;

Bài giải

a) Chu vi hình chữ nhật là:

$$(10 + 5) \times 2 = 30 \text{ ( cm )}$$

Đáp số: 30 cm







## Luyện tập:

**Bài 1:** Tính chu vi hình chữ nhật có:

b). Chiều dài 2 dm, chiều rộng 13 cm.

Bài giải

b) Chu vi hình chữ nhật là:

$$2 \text{ dm} = 20 \text{ cm}$$

$$(20 + 13) \times 2 = 66 \text{ ( cm )}$$

Đáp số: 66 cm





Chiều dài: 35 m  
Chiều rộng: 20 m  
Chu vi: ... m?

Bài giải

Chu vi của mảnh đất hình chữ nhật:

$$( 35 + 20 ) \times 2 = 110 ( m )$$

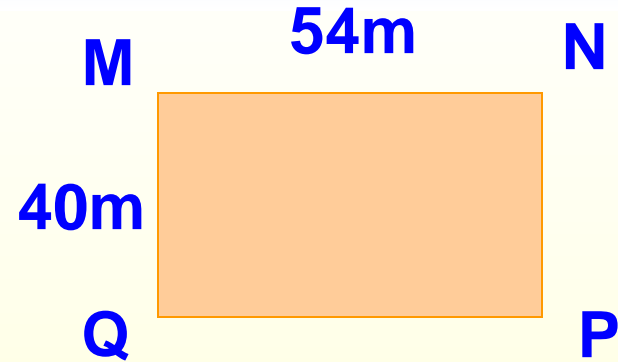
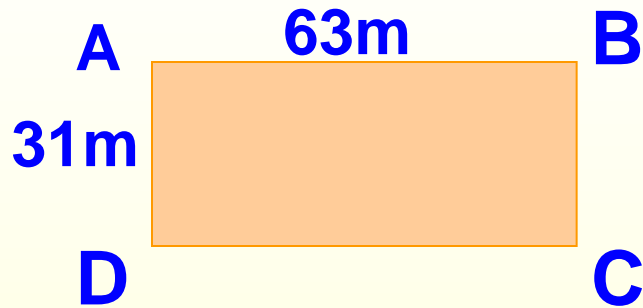
Đáp số: 110 m .

**MR:** Nếu tăng chiều dài lên 5m và giảm chiều rộng đi 5m thì chu vi hình chữ nhật bằng bao nhiêu?  
(chu vi hình chữ nhật không thay đổi)





### 3. Khoanh vào chữ đặt trước câu trả lời đúng:




A. Chu vi hình chữ nhật ABCD lớn hơn chu vi hình chữ nhật MNPQ.

B. Chu vi hình chữ nhật ABCD bé hơn chu vi hình chữ nhật MNPQ.

**C.** Chu vi hình chữ nhật ABCD bằng chu vi hình chữ nhật MNPQ.





# Củng cố kiến thức

**Nêu quy tắc tính chu vi hình chữ nhật?**

**Muốn tính chu vi hình chữ nhật ta lấy chiều dài cộng với chiều rộng ( cùng đơn vị đo ) rồi nhân với 2.**





# DẶN DÒ:



- Hoàn thành bài 1,2 (trang 87) vào vở Toán.
- Ghi nhớ quy tắc tính chu vi hình chữ nhật.
- Đọc trước bài: Chu vi hình vuông ( trang 88).

