

**CHÀO MỪNG  
CÁC CON ĐẾN VỚI TIẾT HỌC  
MÔN TOÁN LỚP 1**



**BÀI:**  
**SỐ SÁNH SỐ CÓ HAI CHỮ SỐ**

(Tiết 2)



**Khởi động**



# Đúng hay sai?

$$78 > 87$$

YOUTUBE TRỌ GIẢNG

**Sai**

YOUTUBE TRỌ GIẢNG



# Số nào lớn nhất?

0, 16, 62, 72

YOUTUBE TRỢ GIẢNG

72

YOUTUBE TRỢ GIẢNG



# Số nào lớn hơn 60?

0, 16, 62, 72

YOUTUBE TRỢ GIẢNG

62, 72

YOUTUBE TRỢ GIẢNG



# Sắp xếp dãy số theo thứ tự giảm dần

35, 62, 72, 8, 15

YOUTUBE TRỢ GIẢNG

72, 62, 35, 15, 8

YOUTUBE TRỢ GIẢNG



# Nối chỗ chấm với dấu thích hợp

80... 89

20... 12

>

<

=




72... 27

56 ... 56





# Bài 1: Số nào lớn hơn trong mỗi cặp?



## Bài 2: Số nào bé hơn trong mỗi cặp ?

19

15

81

80

29

30



# THƯ GIẢN



# Bài 3: Đổi chỗ hai chiếc xe để các số trên xe sắp xếp theo thứ tự từ bé đến lớn:

a)



b)




# Bài 4: Đổi chỗ hai chiếc xe để các số trên xe sắp xếp theo thứ tự từ lớn đến bé:

a)




b)



### Cầu thang – Cầu trượt

Cách chơi:

- Chơi theo nhóm.
- Người chơi bắt đầu từ ô **xuất phát**. Khi đến lượt, người chơi gieo xúc xắc. Đếm số chấm ở mặt trên xúc xắc rồi di chuyển số ô bằng số chấm nhận được. Đọc số bé hơn trong ô đó. Khi đến cầu thang, em leo lên. Khi đến cầu trượt, em trượt xuống.
- Trò chơi kết thúc khi có người về đến **đích**.



A colorful illustration featuring the cartoon characters Tom and Jerry. Tom is on the top left, peeking over a horizontal line. Jerry is on the bottom right, holding a vertical line. The background is light green with stylized white and pink flowers. The text is centered in a decorative font.

**TIẾT HỌC ĐẾN ĐÂY LÀ  
KẾT THÚC !**