

HƯỚNG DẪN HỌC LỚP 4



Trường Tiểu học Long Biên

Thứ ba ngày 15 tháng 3 năm 2022

Hướng dẫn học (Tiết 1)

Tuần 26



Mục tiêu

Hoàn thành bài tập trong ngày

01

Rèn kĩ năng thực hiện phép tính cộng, trừ, nhân, chia phân số.

02

Vận dụng phép nhân phân số để giải những bài toán có lời văn.

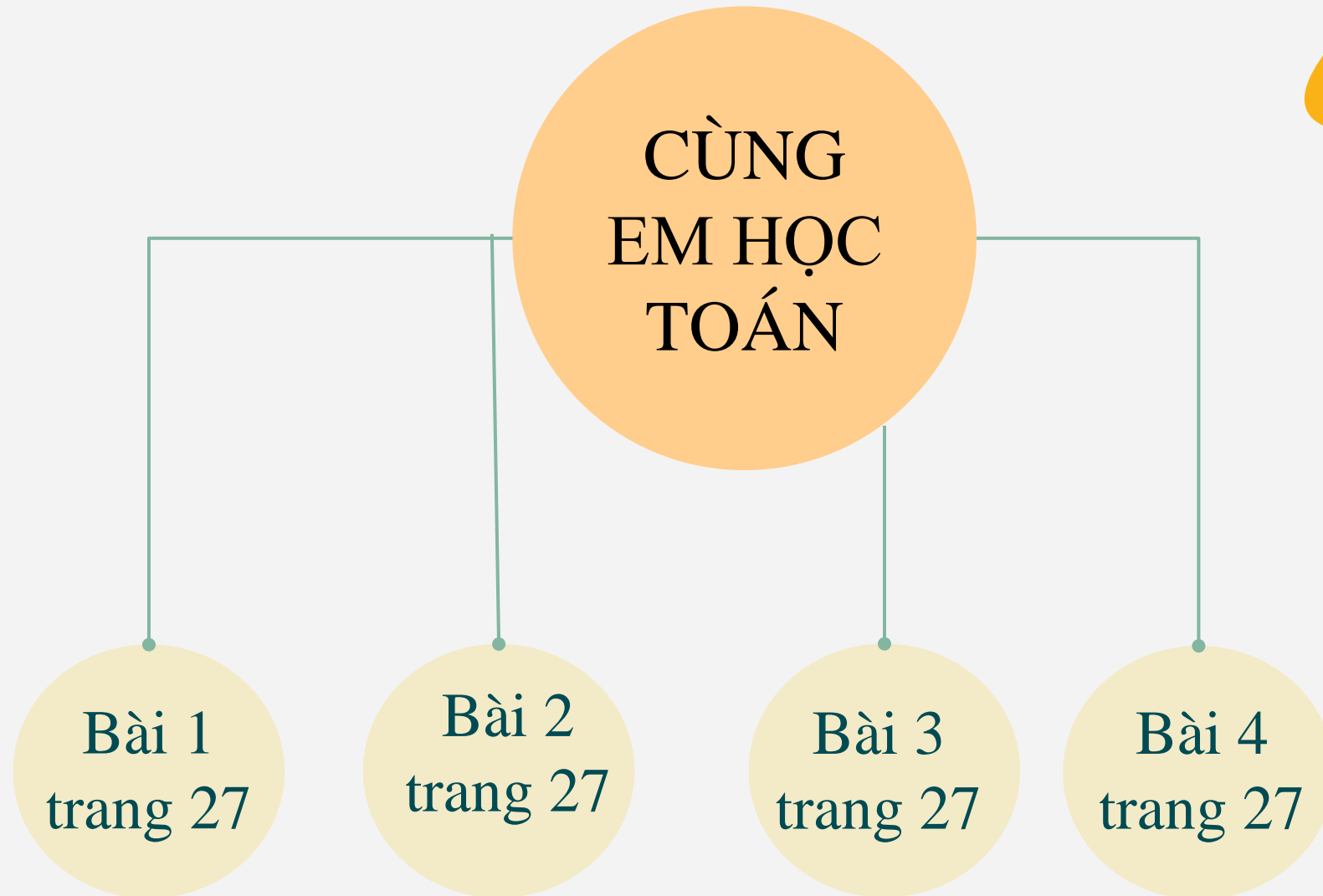
03

Rèn kĩ năng đọc hiểu.

CÙNG EM HỌC TOÁN
CÙNG EM HỌC TIẾNG VIỆT
LỚP 4



CÙNG EM HỌC TOÁN (TUẦN 26)



Bài 1: Tính

$$a, \frac{3}{4} : \frac{2}{5}$$

$$\frac{1}{8} : 7$$

$$b, 3 : \frac{4}{5}$$

$$\frac{4}{5} : 3$$



Bài 1: Tính

$$a, \frac{4}{3} : \frac{2}{5} = \frac{4}{3} \times \frac{5}{2} = \frac{10}{3} ; \quad \frac{1}{8} : 7 = \frac{1}{8} \times \frac{1}{7} = \frac{1}{56}$$

$$b, 3 : \frac{4}{5} = \frac{3}{1} \times \frac{5}{4} = \frac{15}{4} ; \quad \frac{4}{5} : 3 = \frac{4}{5} \times \frac{1}{3} = \frac{4}{15}$$





**Muốn chia hai phân số ta
làm thế nào?**



**Muốn chia 2 phân số
ta lấy phân số thứ nhất
nhân với phân số thứ
hai đảo ngược.**



Bài 2: Tìm x

$$a. \frac{3}{10} \times x = \frac{2}{5}$$

$$b. \frac{1}{8} : x = \frac{1}{2}$$





$$a. \frac{3}{10} \times x = \frac{2}{5}$$


$$b. \frac{1}{8} : x = \frac{1}{2}$$

$$x = \frac{2}{5} : \frac{3}{10}$$

$$x = \frac{1}{8} : \frac{1}{2}$$

$$x = \frac{4}{3}$$

$$x = \frac{1}{4}$$




Bài 3: Viết tiếp vào chỗ chấm cho thích hợp:

Một con kênh dài 15km. Người ta đã kè được hai bên bờ của con kênh với độ dài bằng $\frac{2}{5}$ độ dài của toàn con kênh.


a) Độ dài phần được kè của con kênh là $15 \times \frac{2}{5} = 6(\text{km})$

b) Độ dài phần chưa được kè của con kênh là $15 - 6 = 9(\text{km})$



Bài 4: Viết tiếp vào chỗ chấm để được đáp số đúng:

Mẹ cho Minh 100 000 đồng để mua đồ dùng học tập. Minh mua bút hết $\frac{1}{4}$ số tiền và mua vở hết $\frac{3}{5}$ số tiền. Hỏi Minh còn lại bao nhiêu tiền?





Lời giải:

Minh mua bút hết số tiền là:

$$100\ 000 \times \frac{1}{4} = 25\ 000 \text{ (đồng)}$$

Minh mua vở hết số tiền là:

$$100\ 000 \times \frac{3}{5} = 60\ 000 \text{ (đồng)}$$

Minh còn lại số tiền là:

$$100\ 000 - 25\ 000 - 60\ 000 = 12\ 000 \text{ (đồng)}$$

Đáp số: 12 000 đồng



CÙNG EM HỌC TIẾNG VIỆT (TUẦN 26)



Hoàn thành
cùng em học
Tiếng Việt

Yêu cầu

1

Đọc bài văn

2

Trả lời câu hỏi

3

Liên hệ

Bài 1
trang 28

Đọc bài sau và trả lời câu hỏi:

Quả cầu tuyết

Tuyết rơi ngày càng dày.

Một đám học sinh vừa ra khỏi cổng trường, chúng nắm những quả cầu bằng thứ tuyết ẩm, cứng và nặng như đá, ném vào nhau. Vừa hè rất đông người qua lại. Bỗng người ta nghe một tiếng hét to bên kia đường và thấy một cụ già đang lão đảo, hai tay úp lấy mặt. Bên cạnh cụ, một em bé kêu: “Cứu ông cháu với!”.

Lập tức, mọi người từ tứ phía đổ tới. Cụ già tội nghiệp bị một quả cầu tuyết đập trúng mắt. Cụ đeo kính, kính vỡ, mảnh vỡ đâm vào mắt cụ. Đám học trò hoảng sợ bỏ chạy.

Đám đông vây quanh cụ già. Một người qua đường thét hỏi: “Đứa nào ném?”

Đứa nào? Nói mau!”. Người ta khám tay đám trẻ để xem có ướt vì tuyết không. Ga-rốp-phi run lẩy bẩy, mặt nhợt nhạt.

Ga-rô-nê bảo Ga-rốp-phi:

Câu thú nhện đi. Để một người khác bị bắt thì thật hèn nhát!

Đọc bài sau và trả lời câu hỏi:

- Mình không cố ý mà! – Ga-rốp-phi trả lời và run như một tàu lá.
- Nhưng cậu vẫn phải làm! – Ga-rô-nê nói.
- Mình không đủ can đảm.
- Đừng sợ. Mình sẽ bảo vệ cậu. – Ga-rô-nê nói một cách quả quyết, nắm cánh tay bạn, dìu bạn đi như một người bệnh.

Vừa trông thấy Ga-rốp-phi, người ta biết rằng chính cậu là thủ phạm. Vài người bước tới, giơ cánh tay lên. Nhưng Ga-rô-nê đã đứng chắn ngay trước mặt bạn và nói:

- Các bác định đánh một đứa trẻ à?

Những nắm tay đều bỏ xuống. Một người dẫn Ga-rốp-phi đến nơi người ta đã đưa cụ già bị thương vào.

Cụ già ngồi trên ghế, tay bung mắt kính.

Ga-rốp-phi khóc òa lên và ôm hôn đôi bàn tay của cụ già. Cụ già quàng tìm cái đầu của cậu bé biết hối hận và xoa tóc nó:

- Cháu là một cậu bé dũng cảm.

(Theo **A-mi-xi**)

Câu hỏi:

a) Câu chuyện có những nhân vật nào?

Trả lời:

Câu chuyện có những nhân vật: cụ già, cháu của cụ già, Ga-rô-nê, Ga-rốp-phi

Câu hỏi:

b) Ai vô tình ném quả cầu tuyết trúng cụ già?

Trả lời:

Người vô tình ném quả cầu tuyết trúng cụ già là Ga-rốp-phi.

Câu hỏi:

c) Quả cầu tuyết làm cụ già bị thương ở đâu?

Trả lời:

Quả cầu tuyết đã làm cụ già bị thương ở mắt.

Câu hỏi:

d) Ai đã động viên cậu bé nhận lỗi?

Trả lời:

Người động viên cậu bé nhận lỗi là bạn của cậu ấy Ga-rô-nê.

Câu hỏi:


e) Vì sao cụ già khen cậu bé dũng cảm?

Trả lời:

Vì cậu bé đã dám dũng cảm nhận lỗi.



CỦNG
CỔ



DẶN DÒ

KTUTS

- Xem lại bài
- Làm bài 1, 2, 3, 4 vào vở CEHT
- Làm bài 1 vào vở CEHTV
- Chuẩn bị các bài tập tiếp theo
(tuần 26)

