

HƯỚNG DẪN HỌC LỚP 4

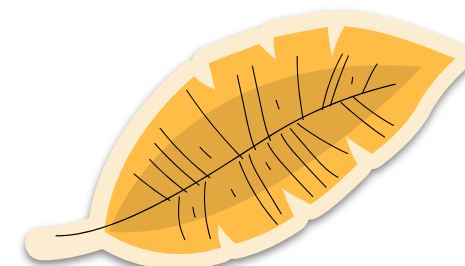




Trường Tiểu học Long Biên

Thứ năm ngày 24 tháng 2 năm 2022

Hướng dẫn học (Tiết 2)

Tuần 23



Mục tiêu

Hoàn thành bài tập trong ngày

01

Biết cách cộng hai phân số cùng mẫu số, hai phân số khác mẫu số.

02

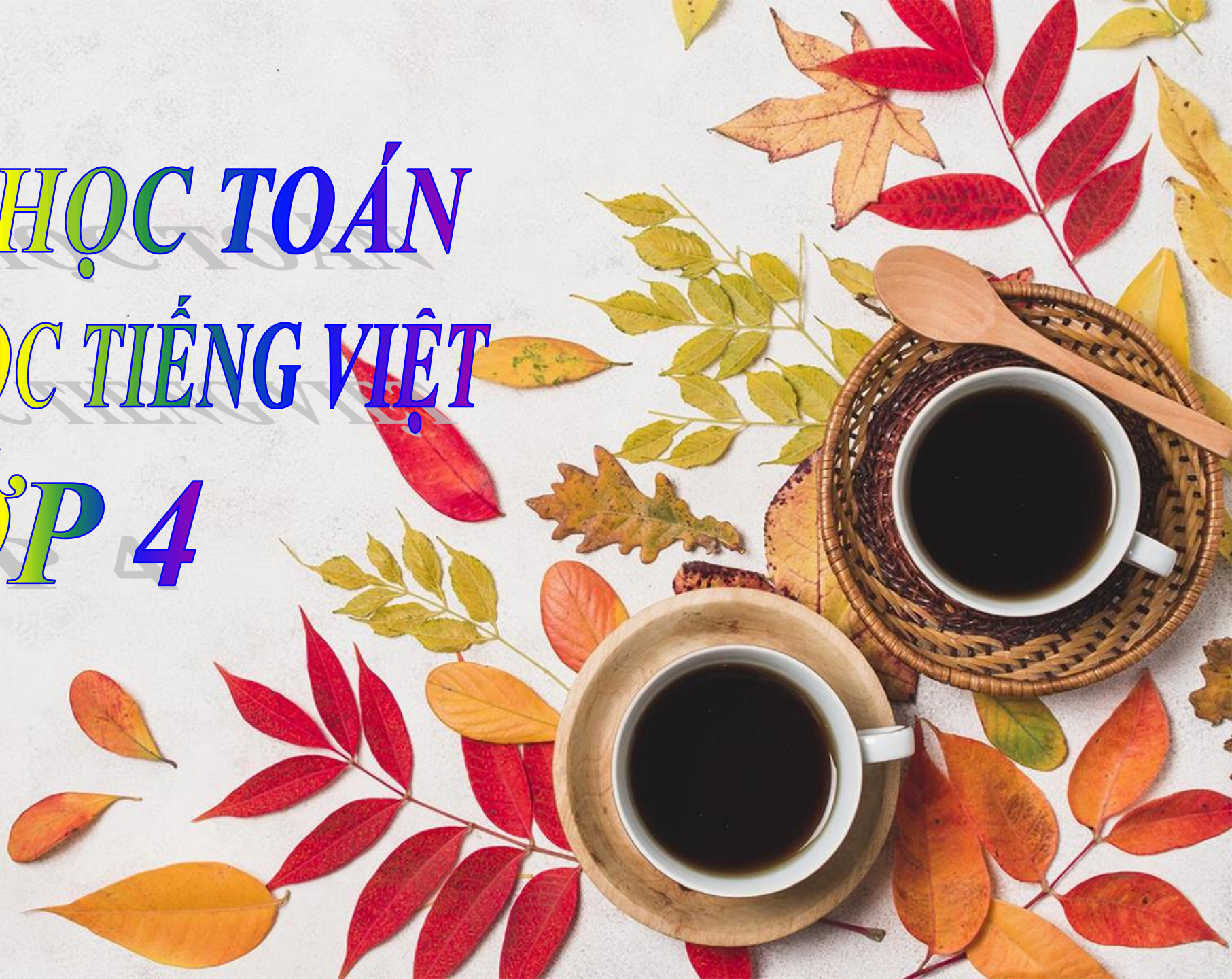
Vận dụng giải những bài toán có liên quan.

03

Hiểu được tác dụng của dấu gạch ngang. Luyện tập mở rộng vốn từ: Cái đẹp.



CÙNG EM HỌC TOÁN
CÙNG EM HỌC TIẾNG VIỆT
LỚP 4



CÙNG EM HỌC TOÁN (TUẦN 23)

Hoàn
thành
bài tập

Bài 5

Bài 6

Bài 7


Bài 8

Bài Vui học


5/ Tính:

$$\frac{1}{3} + \frac{2}{3} = \frac{1+2}{3} = \frac{3}{3} = 1$$


$$\frac{7}{15} + \frac{8}{15} = \frac{7+8}{15} = \frac{15}{15} = 1$$



Các bước cộng hai phân số khác mẫu số:



Bước 1: Quy đồng mẫu số hai phân số



Bước 2: Cộng hai phân số cùng mẫu số

Bài 6

Rút gọn rồi tính:

$$a. \frac{6}{14} + \frac{5}{6} = \frac{3}{7} + \frac{5}{6} = \frac{18}{42} + \frac{35}{42} = \frac{53}{42}$$

$$b. \frac{8}{12} + \frac{10}{22} = \frac{2}{3} + \frac{5}{11} = \frac{22}{33} + \frac{15}{33} = \frac{37}{33}$$



Bài 7: Khoanh vào chữ đặt trước câu trả lời đúng:

Một vòi nước chảy vào một bể. Giờ đầu vòi nước chảy được $\frac{1}{3}$ bể, giờ thứ hai vòi chảy tiếp được $\frac{1}{4}$ bể. Hỏi sau hai giờ vòi đó chảy được bao nhiêu phần của bể ?

A. $\frac{2}{7}$

B. $\frac{1}{4}$

C. $\frac{1}{3}$

D. $\frac{7}{12}$

Vì: $\frac{1}{3} + \frac{1}{4} = \frac{4}{12} + \frac{3}{12} = \frac{4+3}{12} = \frac{7}{12}$

Bài 8: Tính nhẩm rồi viết số vào chỗ chấm

$$\frac{4}{7} + \frac{3}{7} = 1$$

$$\frac{2}{5} + \frac{3}{5} = 1$$

$$\frac{1}{3} + \frac{2}{3} = 1$$

$$\frac{6}{11} + \frac{5}{11} = 1$$

$$\frac{5}{9} + \frac{4}{9} = 1$$

$$\frac{1}{6} + \frac{5}{6} = 1$$

Bài vui học:
Viết tiếp vào chỗ chấm để được câu trả lời đúng:

Mẹ mua cho cả nhà 6 que kem như nhau, chỉ khác nhau vị của kem. Có 1 que kem vani, 2 que kem sô-cô-la, 2 que kem đậu xanh và 1 que kem dâu tây.

Phân số chỉ phần que kem vani trong tổng số các que kem mà mẹ mua là $\frac{1}{6}$.


Phân số chỉ phần que kem đậu xanh trong tổng số các que kem mà mẹ mua là $\frac{2}{6}$.

Phân số chỉ phần que kem vani và sô-cô-la trong tổng số các que kem mà mẹ mua là $\frac{3}{6}$.



CÙNG EM HỌC TIẾNG VIỆT (TUẦN 23)

Cùng em học Tiếng Việt



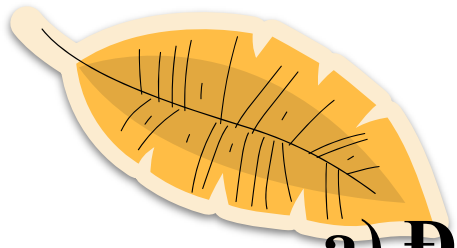
Bài 2
(trang 20)

Bài 3
(trang 20)


Bài 4
(trang 20)

Bài 5
(trang 20)

Bài 6
(trang 21)



Bài 2:



a) Đọc đoạn văn sau:

- Bao nhiêu ạ? Cậu bé hỏi.
- Không có giá tiền cho tình yêu cậu bé ạ!

Nói xong ông cúi xuống, bế chú chó nhỏ lên và cẩn thận đưa cho cậu bé.

b) Đánh dấu vào câu trả lời đúng cho câu hỏi: Dấu gạch ngang trong đoạn văn được dùng với tác dụng gì?




Dùng để đánh dấu chỗ bắt đầu lời nói của nhân vật trong đối thoại.



Dùng để đánh dấu phần chú thích trong câu.



Dùng để đánh dấu các ý trong một đoạn liệt kê.



Bài 3

Khoanh vào chữ cái trước đoạn văn dùng sai dấu gạch ngang:

a) Bà lão bước tới ôm chầm lấy cô gái và bảo:

- Con gái à! Con hãy ở lại với mẹ đi!

Kể từ đó về sau thì bà lão cùng với cô gái xinh đẹp sống cùng nhau vui vẻ, hạnh phúc.

b) Hà thầm nghĩ:

- Mình sẽ cố gắng học thật giỏi.

c) Đèn lồng – nét đặc trưng của phố cổ Hội An.

d) Xiển Tóc nghiên răng ken két, chỗ cả hai cái sừng dài xuống, quát:

- A được, nói lời phải không nghe, rồi sẽ biết tay.

Tôi còn trêu tức, ngược răng lên:

- Có giỏi thì xuống đây chọi nhau.



Bài 4



Gạch dưới những từ ngữ chỉ vẻ đẹp tâm hồn của người phụ nữ trong bài ca dao sau:

Dịu hiền vốn có, đằm đằm

Chịu thương chịu khó, mọi bề khôn ngoan

Ra ngoài giúp nước, giúp non

Về nhà tận tụy chồng con một lòng.





Bài 5



Chọn một từ em tìm được ở câu 4. Đặt câu với từ đó.

Ví dụ: - Mẹ em là một người phụ nữ **dịu hiền** nên ai ai cũng yêu quý.


- Phụ nữ Việt Nam rất **chịu thương chịu khó**.



Bài 6

Hãy viết một đoạn văn tả một loài cây mà em yêu thích (dựa vào dàn ý mà em đã lập ở tuần 23)

Trong sân trường em có rất nhiều loài cây nhưng em thích nhất là cây bàng trước cửa lớp 4A. Nhìn từ xa, tán bàng xòe rộng như một chiếc ô khổng lồ. Thân cây cao vút, vươn thẳng lên trời. Quanh năm bàng khoác chiếc áo màu nâu đen xù xì, cũ kĩ. Rễ bàng mọc lan nổi trên mặt đất ngoằn ngoèo như những con rắn khổng lồ. Hè tới, bàng ra hoa trắng xóa, nhỏ li ti như hoa lộc vừng. Chẳng mấy chốc, những chùm hoa ấy kết thành trái. Trái bàng chín là món ăn yêu thích của tụi học trò chúng em. Dưới bóng bàng mát rượi chúng em chơi bắn bi, nhảy dây và cả học bài. Em rất yêu cây bàng này. Em coi nó như người bạn thân thiết của mình vậy.



Dặn dò

* Xem lại bài học

- Làm các bài 5, 6, 7, 8 vào vở CEHT
- Làm bài 2, 3, 4, 5, 6 vào vở CEHTV

CHÀO TẠM BIỆT CÁC EM!
TÍCH CỰC LUYỆN TẬP TDTT
CÙNG THỰC HIỆN TỐT THÔNG ĐIỆP 5K NHÉ!

