

A green dragonfly with transparent wings is the central focus, positioned diagonally. Below it, several bright red cherries with green stems are scattered. The background is dark, making the green and red elements stand out. The text is overlaid on the dragonfly's wings.

**Nhiệt liệt chào mừng các thầy cô giáo
về dự giờ Toán
Lớp 4**

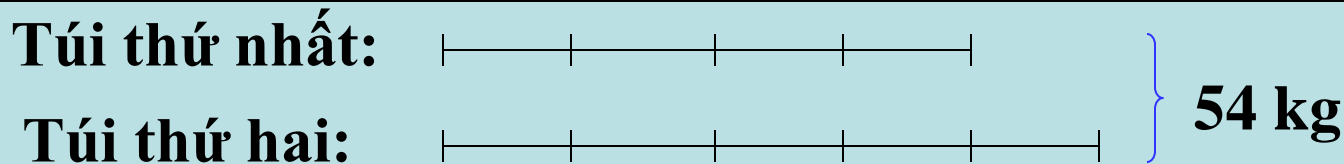
360photos.com
Designed by kira_sakura1988



Ôn bài cũ

Bài toán: Hai túi gạo cân nặng 54 kg, túi thứ nhất cân nặng bằng $\frac{4}{5}$ túi thứ hai. Hỏi mỗi túi nặng bao nhiêu kg ?

Tóm tắt:



Bài giải

Tổng số phần bằng nhau:

$$4 + 5 = 9 \text{ (phần)}$$

Túi thứ nhất cân nặng:

$$54 : 9 \times 4 = 24 \text{ (kg)}$$

Túi thứ hai cân nặng:

$$54 : 9 \times 5 = 30 \text{ (kg)}$$

Đáp số: 24kg, 30kg

TOÁN 4

LUYỆN TẬP CHUNG

1. Viết tỉ số của a và b, biết:

$$\begin{aligned} \text{a) } a &= 3 \\ b &= 4 \end{aligned}$$

$$3 : 4 = \frac{3}{4}$$

$$\begin{aligned} \text{b) } a &= 5\text{cm} \\ b &= 7\text{cm} \end{aligned}$$

$$5 : 7 = \frac{5}{7}$$

$$\begin{aligned} \text{c) } a &= 12\text{kg} \\ b &= 3\text{kg} \end{aligned}$$

$$12 : 3 = 4$$

$$\begin{aligned} \text{d) } a &= 6\text{l} \\ b &= 8\text{l} \end{aligned}$$

$$6 : 8 = \frac{3}{4}$$

2. Viết số thích hợp vào ô trống:

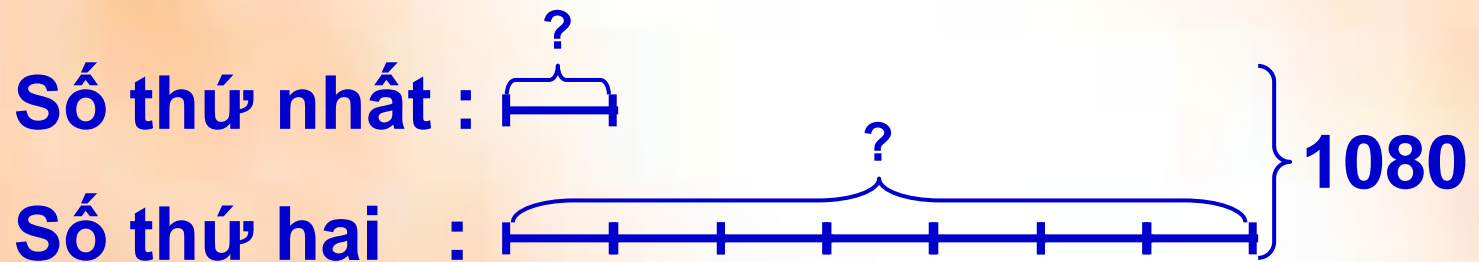
Tổng hai số	72	120	45
Tỉ số của hai số	$\frac{1}{5}$	$\frac{1}{7}$	$\frac{2}{3}$
Số bé	12	15	18
Số lớn	60	105	27

Bài mới

Luyện tập chung

3. Hai số có tổng bằng 1080. Tìm hai số đó, biết rằng gấp 7 lần số thứ nhất thì được số thứ hai.

Tóm tắt:



Bài giải

Tổng số phần bằng nhau:

$$1 + 7 = 8 \text{ (phần)}$$

Số bé là:

$$1080 : 8 = 135$$

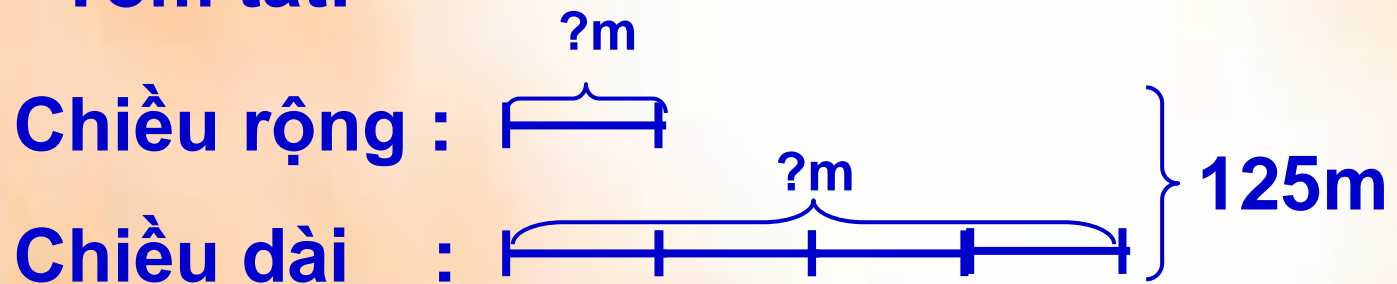
Số lớn là:

$$135 \times 7 = 945$$

Đáp số: 945, 135

4. Một hình chữ nhật có nửa chu vi là 125m, chiều rộng bằng $\frac{2}{3}$ chiều dài. Tìm chiều dài, chiều rộng hình đó.

Tóm tắt:



Bài giải

Tổng số phần bằng nhau:

$$2 + 3 = 5 \text{ (phần)}$$

Chiều rộng hình chữ nhật là:

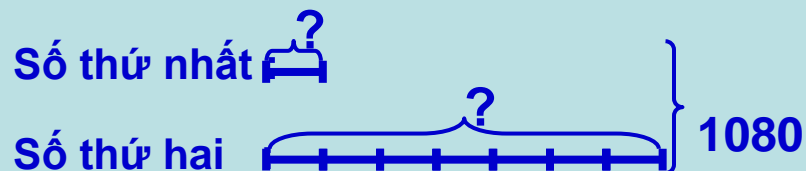
$$125 : 5 \times 2 = 50 \text{ (m)}$$

Chiều dài hình chữ nhật là:

$$125 : 5 \times 3 = 75 \text{ (m)}$$

Đáp số: 50m; 75m

3. Tóm tắt:



Bài giải

Tổng số phần bằng nhau:
 $1 + 7 = 8$ (phần)

Số bé là:

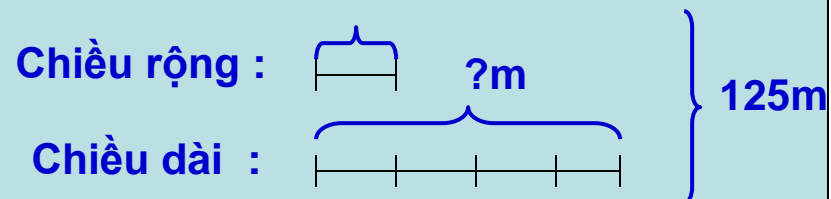
$$1080 : 8 = 135$$

Số lớn là:

$$135 \times 7 = 945$$

Đáp số: 945, 135

4. Tóm tắt:



Bài giải

Tổng số phần bằng nhau:
 $2 + 3 = 5$ (phần)

Chiều rộng hình chữ nhật
là:

$$125 : 5 \times 2 = 50 \text{ (m)}$$

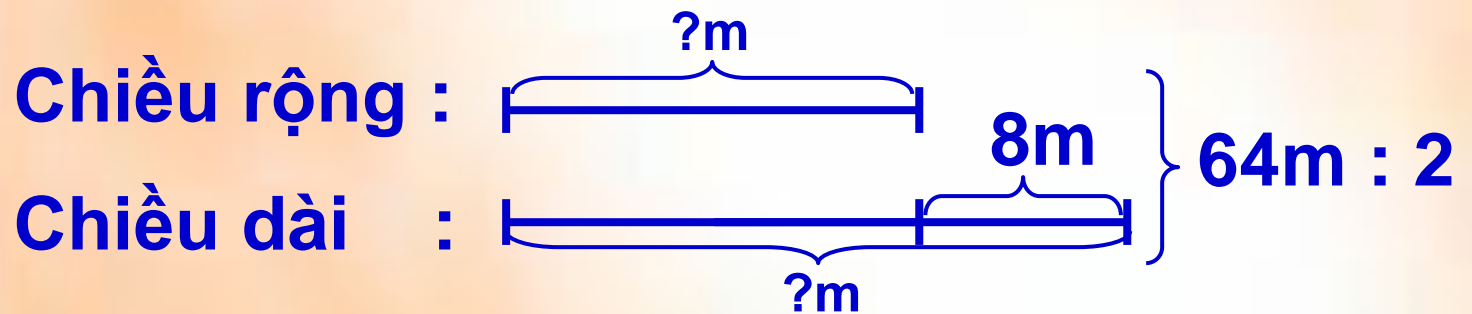
Chiều dài hình chữ nhật
là:

$$125 : 5 \times 3 = 75 \text{ (m)}$$

Đáp số: 50m; 75m

5. Một hình chữ nhật có chu vi là 64m, chiều rộng ngắn hơn chiều dài 8m. Tìm chiều dài, chiều rộng hình đó.

Tóm tắt:



Bài giải:

Nửa chu vi hình chữ nhật:

$$64 : 2 = 32 \text{ (m)}$$

Chiều rộng hình chữ nhật:

$$(32 - 8) : 2 = 12 \text{ (m)}$$

Chiều dài hình chữ nhật:

$$(32 + 8) : 2 = 20 \text{ (m)}$$

Đáp số: 12m; 20m

Củng cố, dặn dò