





TRƯỜNG TIỂU HỌC LONG BIÊN



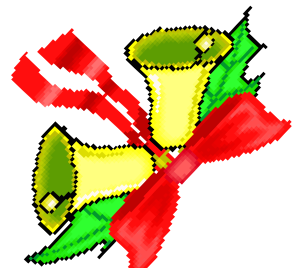
Toán



MI-LI-MÉT VUÔNG.



BẢNG ĐƠN VỊ ĐO DIỆN TÍCH.



# **KHỞI ĐỘNG**



**\* Nói tên các đơn vị đo diện tích đã học?**

**- Tên các đơn vị đo diện tích đã học:**

**km<sup>2</sup>    hm<sup>2</sup>    dam<sup>2</sup>    m<sup>2</sup>    dm<sup>2</sup>    cm<sup>2</sup>**

# KHỞI ĐỘNG



- **Đọc các số đo diện tích sau:  
660 dam<sup>2</sup>; 399 250 hm<sup>2</sup>**

**\* 660 dam<sup>2</sup> : Sáu trăm sáu mươi đề -ca- mét vuông**

**\* 399 250hm<sup>2</sup> : Ba trăm chín mươi chín nghìn hai trăm năm mươi héc-tô-mét vuông.**

# KHỞI ĐỘNG



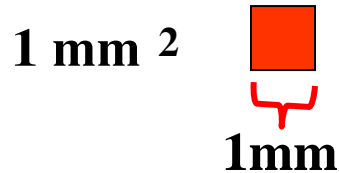
\* **Viết số đo diện tích thích hợp vào chỗ chấm:**

$$5 \text{ dam}^2 = \dots\dots\dots 500 \dots\dots \text{ m}^2$$

$$300 \text{ dam}^2 = \dots\dots 3 \dots\dots \text{ hm}^2$$

# Mi-li-mét vuông. Bảng đơn vị đo diện tích

## a. Mi-li-mét vuông:



- Mi-li-mét vuông là diện tích của hình vuông có cạnh dài 1mm.
- Mi-li-mét vuông viết tắt là: mm<sup>2</sup>

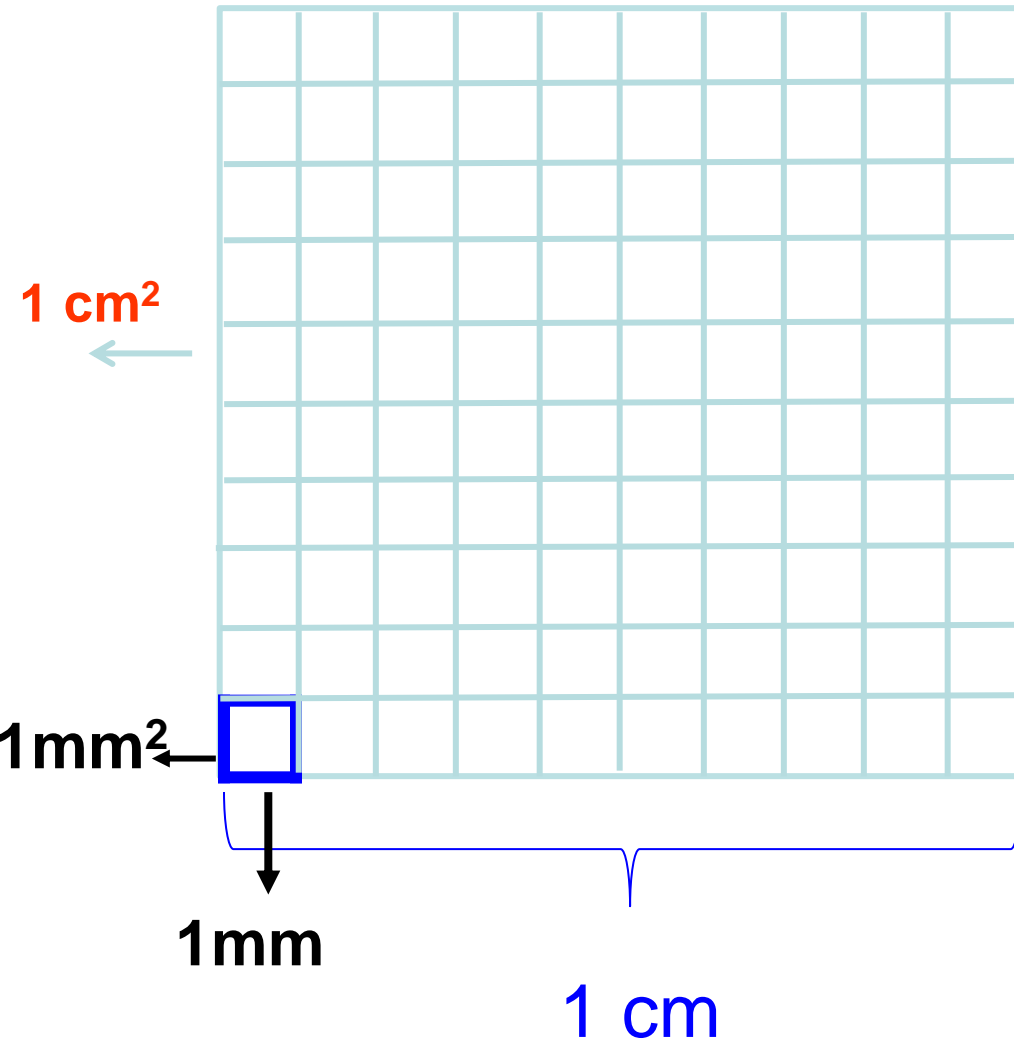
Đọc số đo sau:

**123 mm<sup>2</sup>**

# Toán

## Mi-li-mét vuông . Bảng đơn vị đo diện tích.

### a.Mi-li-mét vuông



\*Ta thấy hình vuông 1 cm<sup>2</sup> gồm 100 hình vuông 1 mm<sup>2</sup>.

$$1 \text{ cm}^2 = 100 \text{ mm}^2$$

$$1 \text{ mm}^2 = \frac{1}{100} \text{ cm}^2$$

# Mi-li-mét vuông. Bảng đơn vị đo diện tích

## a. Mi-li-mét vuông:

- Mi-li-mét vuông là diện tích của hình vuông có cạnh dài 1mm.
- Mi-li-mét vuông viết tắt là: mm<sup>2</sup>

$$1 \text{ cm}^2 = 100 \text{ mm}^2$$

$$1 \text{ mm}^2 = \frac{1}{100} \text{ cm}^2$$



# Bảng đơn vị đo diện tích

Lớn hơn mét vuông			Mét vuông	Bé hơn mét vuông		
km <sup>2</sup>	hm <sup>2</sup>	dam <sup>2</sup>	m <sup>2</sup>	dm <sup>2</sup>	cm <sup>2</sup>	mm <sup>2</sup>
1km <sup>2</sup>	1 hm <sup>2</sup>	1 dam <sup>2</sup>	1 m <sup>2</sup>	1 dm <sup>2</sup>	1 cm <sup>2</sup>	1 mm <sup>2</sup>
= 100 hm <sup>2</sup>	= 100 dam <sup>2</sup> = $\frac{1}{100}$ km <sup>2</sup>	= 100 m <sup>2</sup> = $\frac{1}{100}$ hm <sup>2</sup>	= 100 dm <sup>2</sup> = $\frac{1}{100}$ dam <sup>2</sup>	= 100 cm <sup>2</sup> = $\frac{1}{100}$ m <sup>2</sup>	= 100 mm <sup>2</sup> = $\frac{1}{100}$ dm <sup>2</sup>	= $\frac{1}{100}$ cm <sup>2</sup>

## Nhận xét:

- Mỗi đơn vị đo diện tích gấp **100** lần đơn vị đo diện tích bé **tiếp liền** nó ?
- Mỗi đơn vị đo diện tích bằng  $\frac{1}{100}$  đơn vị **lớn hơn** đơn vị đo diện tích bé **tiếp liền** nó ?



**THỰC HÀNH**

## 1. a. Đọc các số đo diện tích:

**29 mm<sup>2</sup>; 305 mm<sup>2</sup>; 1200 mm<sup>2</sup>**

**29 mm<sup>2</sup>: Hai mươi chín mi-li-mét vuông.**

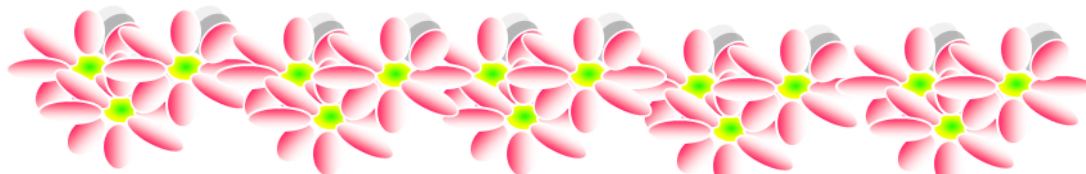
**305 mm<sup>2</sup> : Ba trăm linh năm mi-li-mét vuông.**

**1200 mm<sup>2</sup>: Một nghìn hai trăm mi-li-mét vuông.**

## b)Viết các số đo diện tích:

**Một trăm sáu mươi tám mi-li-mét vuông: 168mm<sup>2</sup>**

**Hai nghìn ba trăm mười mi-li-mét vuông: 2310mm<sup>2</sup>**



## 2. Viết số thích hợp vào chỗ chấm:

a)

$$5 \text{ cm}^2 = \mathbf{.500} \text{ mm}^2$$

$$1 \text{ m}^2 = \mathbf{1.0000} \text{ cm}^2$$

$$12 \text{ km}^2 = \mathbf{.1200} \text{ hm}^2$$

$$5 \text{ m}^2 = \mathbf{50000} \text{ cm}^2$$

$$1 \text{ hm}^2 = \mathbf{10.000} \text{ m}^2$$

$$12 \text{ m}^2 \ 9 \text{ dm}^2 = \mathbf{.1209} \text{ dm}^2$$

$$7 \text{ hm}^2 = \mathbf{70.000} \text{ m}^2$$

$$37 \text{ dam}^2 \ 24 \text{ m}^2 = \mathbf{.3724} \text{ m}^2$$

b)

$$800 \text{ mm}^2 = \mathbf{8...} \text{ cm}^2$$

$$3400 \text{ dm}^2 = \mathbf{.34} \text{ m}^2$$

$$12 \ 000 \text{ hm}^2 = \mathbf{120} \text{ km}^2$$

$$90 \ 000 \text{ m}^2 = \mathbf{9....} \text{ hm}^2$$

$$150 \text{ cm}^2 = \mathbf{.1..} \text{ dm}^2 \ \mathbf{50.} \text{ cm}^2$$

$$2010 \text{ m}^2 = \mathbf{.20.} \text{ dam}^2 \ \mathbf{10..} \text{ m}^2$$



# Ai nhanh – Ai đúng




$$18\text{cm}^2 = \dots \text{dm}^2$$



A.  $\frac{18}{100} \text{dm}^2$

B.  $1800 \text{dm}^2$

C.  $\frac{18}{10} \text{dm}^2$



Hoan hô bạn!



$$1208\text{hm}^2 = \dots \text{km}^2 \dots \text{hm}^2$$

**A**  $1 \text{ km}^2 208\text{hm}^2$

**B**  $12\text{km}^2 8\text{hm}^2$

**C**  $120\text{km}^2 8\text{hm}^2$



Chúc mừng  
bạn! Bạn trả  
lời đúng rồi.



$$5\text{dm}^2\ 4\text{cm}^2 = \dots \text{cm}^2$$

**A**  $54\text{cm}^2$

**B**  $50\ 400\text{cm}^2$

**C**  $504\text{cm}^2$



Tuyệt vời! Bạn  
nhANH thật.





**CHÀO CÁC EM !**

