

Bài 30

**PHÉP CỘNG SỐ CÓ HAI CHỮ SỐ
VỚI SỐ CÓ HAI CHỮ SỐ**

Tiết 1


SGK trang 48, 49




Thứ tư, ngày 16 tháng 3 năm 2022.

Toán

Phép cộng số có hai chữ số với số có hai chữ số.



Chục	Đơn vị



Chục	Đơn vị



THỰC HIỆN PHÉP TÍNH CỘNG CÁC SỐ CÓ HAI CHỮ SỐ VỚI SỐ CÓ HAI CHỮ SỐ

Bước 1: Đặt tính

- + Số đơn vị thẳng số đơn vị, số chục thẳng số chục.
- + Dấu cộng đặt giữa hai số, dấu gạch ngang thay cho dấu bằng.

Bước 2: Tính

- + Cộng từ phải sang trái, bắt đầu từ hàng đơn vị.
- 

NGHỈ GIẢI LAO





1 Tính:

$$\begin{array}{r} + 41 \\ + 11 \\ \hline 52 \end{array}$$

$$\begin{array}{r} + 15 \\ + 30 \\ \hline 45 \end{array}$$

$$\begin{array}{r} + 56 \\ + 31 \\ \hline 87 \end{array}$$

$$\begin{array}{r} + 60 \\ + 29 \\ \hline 89 \end{array}$$



hoạt động

2 Đặt tính rồi tính.

$$13 + 21$$

$$15 + 64$$

$$34 + 40$$

$$83 + 15$$



Thứ tư, ngày 16 tháng 3 năm 2022.
Toán

Phép cộng số có hai chữ số với số có hai chữ số.

Bài 2: Đặt tính rồi tính:

$$\begin{array}{r} 13 \\ + 21 \\ \hline \end{array}$$

$$\begin{array}{r} 15 \\ + 64 \\ \hline \end{array}$$

$$\begin{array}{r} 34 \\ + 40 \\ \hline \end{array}$$

$$\begin{array}{r} 83 \\ + 15 \\ \hline \end{array}$$

Thứ tư, ngày 16 tháng 3 năm 2022.

Toán

Phép cộng số có hai chữ số với số có hai chữ số.

Bài 2: Đặt tính rồi tính:

$$\begin{array}{r} 13 \\ + 21 \\ \hline 34 \end{array}$$

$$\begin{array}{r} 15 \\ + 64 \\ \hline 79 \end{array}$$

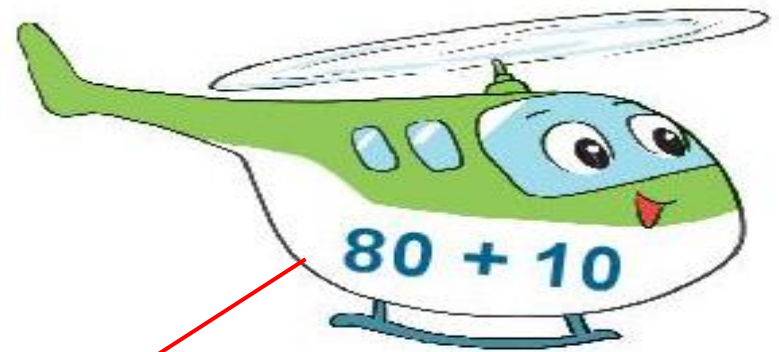
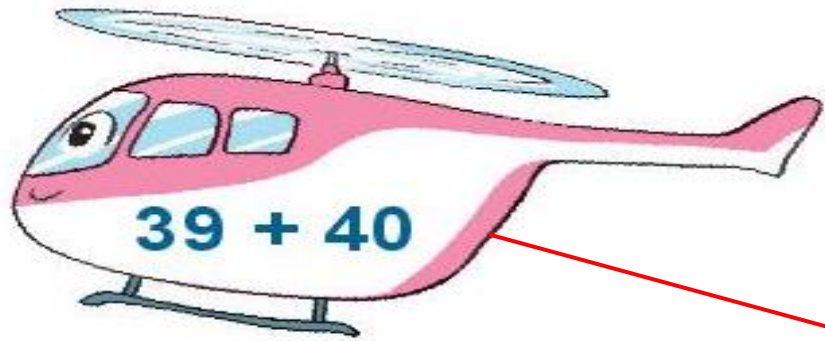
$$\begin{array}{r} 34 \\ + 40 \\ \hline 74 \end{array}$$

$$\begin{array}{r} 83 \\ + 15 \\ \hline 98 \end{array}$$



hoạt động

3 Tìm chỗ đỗ cho trực thăng.






hoạt động



- 4 Có hai cây cà chua trong vườn. Một cây có 10 quả, một cây có 26 quả.
Hỏi cả hai cây có bao nhiêu quả cà chua?



Thứ tư, ngày 16 tháng 3 năm 2022.
Toán

Phép cộng số có hai chữ số với số có hai chữ số.

Bài 2: Đặt tính rồi tính:

$$\begin{array}{r} 13 \\ + 21 \\ \hline 34 \end{array}$$

$$\begin{array}{r} 15 \\ + 64 \\ \hline 79 \end{array}$$

$$\begin{array}{r} 34 \\ + 40 \\ \hline 74 \end{array}$$

$$\begin{array}{r} 83 \\ + 15 \\ \hline 98 \end{array}$$

Bài 4:

$$10 + 26 = 36$$



Thứ tư, ngày 16 tháng 3 năm 2022.

Toán

Phép cộng số có hai chữ số với số có hai chữ số.

Bài 2: Đặt tính rồi tính:

$$\begin{array}{r} 13 \\ + 21 \\ \hline 34 \end{array}$$

$$\begin{array}{r} 15 \\ + 64 \\ \hline 79 \end{array}$$

$$\begin{array}{r} 34 \\ + 40 \\ \hline 74 \end{array}$$

$$\begin{array}{r} 83 \\ + 15 \\ \hline 98 \end{array}$$

Bài 4:

$$10 + 26 = 36$$

Thứ sáu, ngày 18 tháng 3 năm 2022

Toán

Luyện tập



Củng cố - Dặn dò



Thứ tư, ngày 16 tháng 3 năm 2022

DẶN DÒ

1. Tiếng Việt

- Hoàn thành vở ô li bài thứ tư
- Hoàn thành vở tập viết bài **Đền giao thông** (Bài 1, 2, 3 trang 24, 25)
- Hoàn thành **Vở bài tập Tiếng Việt** bài **Đền giao thông** trang 35
- Rèn đọc 5 lần bài tập đọc **Đền giao thông** (SGK Tiếng Việt)

2. Toán

- Hoàn thành **Vở bài tập Toán** trang 49, 50 (**NỘP QUA AZOTA**)
- Hoàn thành bài 2, 4 trong SGK (trang 49) vào vở ô li Toán (**NỘP QUA AZOTA**)
- Xem trước bài 30: Luyện tập (trang 50, 51)



Lin chào và hẹn gặp lại
các con!

