

TRƯỜNG TIỂU HỌC PHÚC LỢI

Họ tên: .....

Lớp: 5....

Thứ..... ngày ..... tháng ..... năm 2022


**BÀI KIỂM TRA ĐỊNH KÌ CUỐI HỌC KÌ II**

**MÔN TIN HỌC - LỚP 5**

**Năm học: 2021- 2022**

*Thời gian: 40 phút (không kể thời gian phát đề)*

<i>Điểm</i>		<i>Nhận xét của giáo viên</i> ..... ..... .....
LT:		
TH:		



**A. TRẮC NGHIỆM: (4 điểm)** Em hãy khoanh vào chữ cái trước câu trả lời đúng nhất hoặc làm theo yêu cầu đề bài.

**Câu 1:** Nút lệnh nào sau đây để chèn video vào trang trình chiếu?



A. Table



B. Video



C. Picture



D. WordArt

**Câu 2:** Rùa thực hiện công việc nào dưới đây khi nhận được các lệnh sau:

**Repeat 6[ repeat 4[ fd 100 rt 90] rt 60]**

- A. Vẽ hình đa giác sáu cạnh
- B. Vẽ hình đa giác 4 cạnh, vẽ xong quay 1 góc 60 độ
- C. Lặp lại 6 lần, mỗi lần vẽ một hình vuông, vẽ xong quay một góc 60 độ
- D. Vẽ 1 hình vuông, lặp lại 6 lần hình vuông đó.

**Câu 3:** Trong Logo, cách để thay đổi màu vẽ:

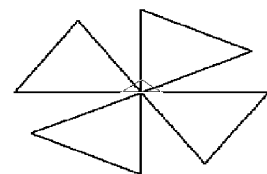
- A. Set → PenColor
- B. SETPENSIZE [n m]
- C. SETPENCOLOR n
- D. Cả ý A và C

**Câu 4:** Trong phần mềm trình chiếu, để định dạng thông số chung cho các trang trình chiếu, em chọn lệnh nào sau đây?

- A. Insert → Picture
- B. Insert → Header and Footer
- C. View → Slide Master
- D. View → Slide Sorter

**Câu 5:** Câu lệnh nào điều khiển chú rùa vẽ hình sau:

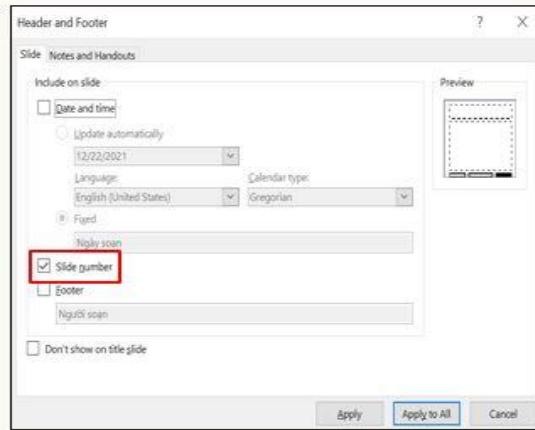
- A. Repeat 4 [repeat 3[fd 50 rt 360/3] rt 90]
- B. Repeat 4 [repeat 3 [fd 50 rt 360/3] rt 120]
- C. Repeat 4 [repeat 3 [fd 50 rt 360/3] rt 150]
- D. Repeat 4 [repeat 3 [fd 50 rt 360/3] rt 180]



**Câu 6:** Đang trình chiếu 1 bài trình diễn, muốn dừng trình diễn em nhấn phím?

- A. Tab
- B. Esc
- C. Home
- D. End

**Câu 7: Em hãy sắp xếp các bước thực hiện dưới đây để đánh số trang cho bài trình chiếu.**



**Bước 1:**

Nháy vào ô  Slide number sau đó chọn Apply to All.

**Bước 2:**

Nháy vào thẻ Insert, chọn Slide Number. Cửa sổ Header and Footer xuất hiện như hình bên.

**Bước 3:**

Trên trang mẫu gõ, ở khung cuối trang, gõ vào

A. 1 - 2 - 3

B. 2 - 1 - 3

C. 3 - 2 - 1

D. 2 - 3 - 1

**Câu 8: Hoàn thành thủ tục vẽ “Hình tam giác” sau đây:**

\_\_\_ tamgiac

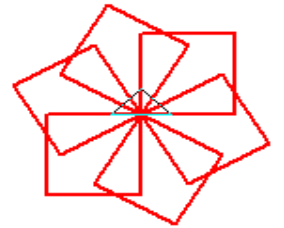
Repeat 3 [fd 100 \_\_\_ 120]

end

**B. THỰC HÀNH (6 điểm)**

**Câu 1. (3 điểm)** Mở phần mềm Logo và thực hiện các yêu cầu sau:

- Viết thủ tục vẽ hình vuông có cạnh 50
- Sử dụng thủ tục hình vuông em vẽ bông hoa như hình bên, với màu vẽ là **màu đỏ, nét vẽ** là [6 6]
- Lưu thủ tục và câu lệnh em thực hiện được vào word với tên:

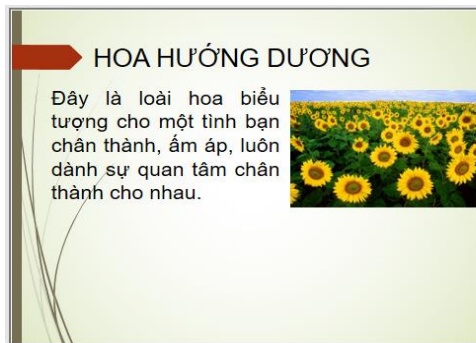


**TÊN EM\_TÊN LỚP.doc**

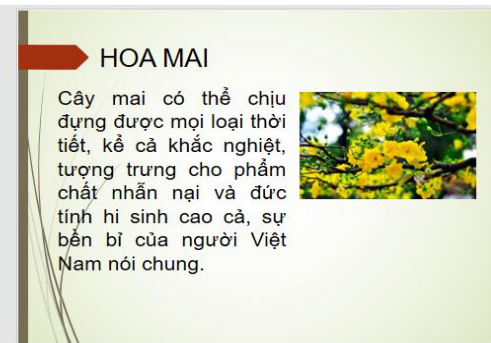
**Câu 2. (3 điểm)** Mở phần mềm Powerpoint, soạn bài thuyết trình với yêu cầu:



Trang 1



Trang 2



Trang 3

**Yêu cầu:** - Em hãy chọn màu nền cho các trang trình chiếu.

- Phong chữ tất cả trang là Arial.
- Tiêu đề cỡ chữ là 40, nội dung cỡ chữ là 32.
- Tạo hiệu ứng cho các trang trình chiếu sau cho phù hợp.
- Căn lề, trình bày văn bản, chèn hình như mẫu (tự chọn).
- Lưu văn bản với tên: **TÊN EM\_TÊN LỚP.pptx**