

Họ và tên:

Lớp: 4

<u>Điểm</u>	<u>Nhận xét của giáo viên</u>	<u>GV chấm</u>
	
	
	

Phần I (4,5 điểm)

Bài 1: Viết số hoặc chữ vào chỗ chấm cho thích hợp.

Viết số	Đọc số
14 575 218
.....	Chín triệu không trăm ba mươi tám nghìn sáu trăm năm mươi.

Bài 2: Khoanh vào chữ cái đặt trước đáp án đúng.

1. Chữ số 9 trong số 398 567 thuộc hàng, lớp:

A. Hàng chục, lớp nghìn

B. Hàng nghìn, lớp chục

C. Hàng trăm, lớp nghìn

D. Hàng chục nghìn, lớp nghìn

2. Giá trị của biểu thức $a + b : c$ với $a = 15$, $b = 12$, $c = 3$ là:

A. 9

B. 17

C. 24

D. 19

3. Cho biểu thức: $72 + 49 + 28 = \dots$

Cách tính thuận tiện nhất là:

A. $72 + 49 + 28 = (72 + 49) + 28 = 121 + 28 = 149$

B. $72 + 49 + 28 = (72 + 28) + 49 = 100 + 49 = 149$

C. $72 + 49 + 28 = 72 + (49 + 28) = 72 + 77 = 149$

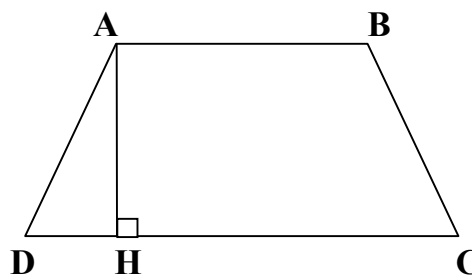
4. Hình bên có:

A. 2 góc nhọn, 2 góc tù, 2 góc vuông

B. 1 góc tù, 3 góc nhọn, 2 góc vuông

C. 2 góc tù, 3 góc nhọn, 3 góc vuông

D. 1 góc tù, 3 góc nhọn, 3 góc vuông



Bài 3: Đúng ghi Đ, sai ghi S.

a) 5 giờ 45 phút = 545 phút

b) 6 phút 6 giây = 366 giây

c) 7465kg < 75 tạ

d) 3 tấn 3 yến > 3003kg

Bài 4: Viết đáp số bài toán vào chỗ chấm.

Hai bạn Cường và Dũng rủ nhau đi mua quà sinh nhật. Cường nói: “Chúng mình có tất cả là 64000 đồng. Nếu tớ cho cậu 8000 đồng thì số tiền của chúng mình sẽ bằng nhau”. Em hãy tính xem bạn Cường đã mang đi bao nhiêu tiền?

Trả lời: Bạn Cường đã mang đi số tiền là:

Phần II (5,5 điểm)

Bài 1: Đặt tính rồi tính.

a) 276 394 + 317 485

b) 185 976 – 58 694

.....
.....
.....

Bài 2:

a) Tìm x.

$$407\,312 - x = 75\,618$$

.....
.....

b) Tính bằng cách hợp lí.

$$2375 + 427 + 1625 + 573 = \dots\dots\dots$$

.....
.....

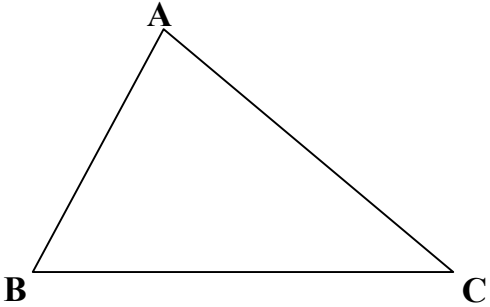
Bài 3: Trung bình cộng số thóc của hai kho là 115 tấn. Biết số thóc của kho thóc thứ nhất nhiều hơn số thóc của kho thứ hai là 20 tấn. Hỏi mỗi kho có bao nhiêu tấn thóc?

Bài giải

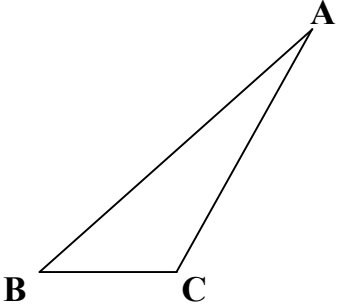
.....
.....
.....

.....
.....
.....
.....
.....

Bài 4: Hãy vẽ đường cao AH của hình tam giác ABC trong mỗi trường hợp sau.



(a)



(b)

Bài 5: Cho số A = 1 357 902 468

Không thay đổi thứ tự các chữ số của A, hãy xóa đi một nửa số các chữ số của A để được:

a) Số B là số bé nhất.

.....

b) Số C là số lớn nhất.

.....