

UBND QUẬN LONG BIÊN
TRƯỜNG MẦM NON HOA MỘC LAN



GIÁO DỤC PHÁT TRIỂN NHẬN THỨC

LQVT: So sánh số lượng 2 nhóm trong phạm vi 4

Lứa tuổi: Mẫu giáo bé (3 – 4 tuổi)

Ôn đếm số lượng trong phạm vi 4



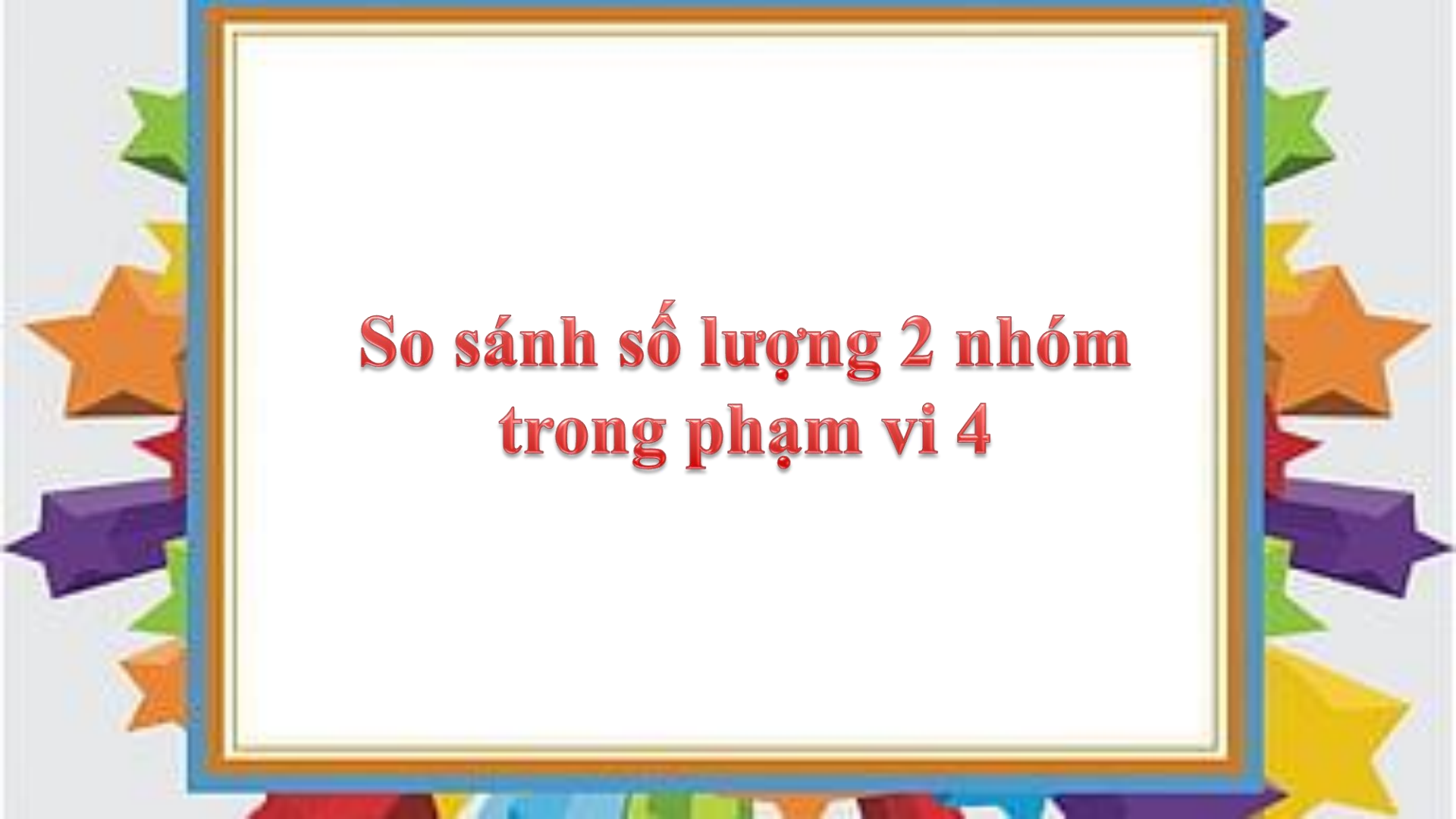
3



4

4



A decorative border surrounds the central text, featuring a blue outer frame and a gold inner frame. The border is adorned with various colorful stars and ribbons in shades of green, orange, purple, and yellow.

**So sánh số lượng 2 nhóm
trong phạm vi 4**

Nhóm áo và nhóm quần có số lượng như thế nào với nhau? Có bằng nhau không?
Nhóm nào có số lượng nhiều hơn? Nhóm nào có số lượng ít hơn?
Muốn số áo và số quần bằng nhau phải làm như thế nào?



4



3

Muốn số áo và số quần bằng nhau phải làm như thế nào?



4

2

Trò chơi

Ai nhanh nhất?



Câu 1: Bé hãy tìm nhóm có số lượng là 4



1



2




3



4



Câu 2: Con mèo màu vàng ở vị trí thứ mấy trong dãy mèo?



1




2

3

4



Câu 3: Bé hãy tìm con đường thứ mấy giúp bạn thỏ về đến nhà?



1

2

3

4



XIN CHÀO VÀ HẸN GẶP LẠI

