

UBND QUẬN LONG BIÊN  
TRƯỜNG THCS ĐÔ THỊ VIỆT HÙNG

**NỘI DUNG ÔN TẬP GIỮA HỌC KỲ I  
CÁC BỘ MÔN KHỐI 6**

Họ tên học sinh:.....

Lớp:.....

**Chúc các con học sinh chăm chỉ rèn luyện, ôn tập hiệu quả.  
Kính mong các thầy cô giáo, các bậc phụ huynh động viên,  
giúp đỡ để các con học sinh đạt kết quả tốt  
trong bài kiểm tra giữa học kỳ I**

**Giáo viên chủ nhiệm**

**Phụ huynh học sinh**

.....

.....

***NĂM HỌC 2024-2025***

## 1. MÔN TOÁN

### A. CÁC KIẾN THỨC TRỌNG TÂM

#### I. Phần Đại số

- Tập hợp. Tập hợp các số tự nhiên.
- Phép cộng, trừ, nhân, chia các số tự nhiên.
- Phép tính lũy thừa với số mũ tự nhiên. Thứ tự thực hiện phép tính.
- Dấu hiệu chia hết cho 2; 3; 5; 9.
- Số nguyên tố. Hợp số.
- Phân tích một số ra thừa số nguyên tố.
- Ước chung và ước chung lớn nhất.

#### II. Phần Hình học

- Tam giác. Hình vuông. Lục giác đều.
- Hình chữ nhật. Hình thoi. Hình bình hành. Hình thang cân.
- Chu vi, diện tích của hình chữ nhật, hình vuông, hình thang.

### B. BÀI TẬP THAM KHẢO

#### PHẦN I: TRẮC NGHIỆM

**Câu 1.** Cho tập hợp  $A = \{2; 4; 6\}$  và  $B = \{1; 2; 3; 4; 5; 6\}$ . Chọn phương án đúng trong các phương án dưới đây:

- A.  $5 \in A$                       B.  $3 \in A$                       C.  $6 \notin B$                       D.  $1 \notin A$

**Câu 2.** Viết tập hợp  $A$  các số tự nhiên lớn hơn 5 và nhỏ hơn 10

- A.  $A = \{6; 7; 8; 9\}$ .              B.  $A = \{5; 6; 7; 8; 9\}$ .              C.  $A = \{6; 7; 8; 9; 10\}$ .              D.  $A = \{6; 7; 8\}$ .

**Câu 3.** Số nào sau đây là bội của 17?

- A. 51                      B. 54                      C. 56                      D. 63

**Câu 4.** Giá trị  $x$  thỏa mãn  $65 - 4^x = 2020^0$  là:

- A. 2                      B. 3                      C. 4                      D. 5

**Câu 5.** Kết quả của phép tính  $5^{10} : 5^7$  là:

- A.  $5^0$                       B.  $5^1$                       C.  $5^2$                       D.  $5^3$

**Câu 6.** Kết quả của phép tính  $3^5 \cdot 3$  là:

- A.  $3^6$                       B.  $3^4$                       C.  $3^2$                       D. 1

**Câu 7.** Giá trị của  $3^4$  bằng:

- A. 9                      B. 12                      C. 64                      D. 81

**Câu 8.** Chọn đáp án đúng: Số  $\overline{a7}$

- A. Chia cho 5 dư 2                      B. Chia cho 5 dư 1  
C. Chia cho 5 dư 7                      D. Chia hết cho 5

**Câu 9.** Ba số tự nhiên lẻ liên tiếp đều là số nguyên tố là:

- A. 1 ; 3 ; 5                      B. 5 ; 7 ; 9  
C. 3 ; 5 ; 7                      D. 7 ; 9 ; 11

**Câu 10.** Ngày 20-10-2010 rơi vào thứ tư. Ngày 20-10-2020 rơi vào ngày thứ mấy?

- A. Thứ bảy                      B. Chủ nhật  
C. Thứ hai                      D. Thứ ba

**Câu 11.** Kết quả của phép tính  $66 + 21 + 34$

- A. 121                      B. 122  
C. 123                      D. 124



**Bài 6:** Cô giáo muốn mua 30 quyển vở, 30 chiếc bút bi, hai hộp bút chì mỗi hộp có 12 chiếc. Tổng số tiền cô phải thanh toán là 396 000 đồng. Cô chỉ nhớ giá của một quyển vở là 7 500 đồng, giá của một chiếc bút bi là 2 500 đồng. Hãy tính giúp cô giáo xem một chiếc bút chì giá bao nhiêu tiền.

**Bài 7:** An có 42 viên bi màu đỏ và 30 viên bi màu xanh. An có thể chia được nhiều nhất vào bao nhiêu túi sao cho số bi đỏ và bi xanh được chia đều vào các túi?

### Dạng 5: Hình học

**Bài 8:** Cho đoạn thẳng  $BC = 6\text{cm}$ . Hãy vẽ tam giác đều  $ABC$ .

**Bài 9:** Một khu vườn hình vuông có cạnh là  $45\text{m}$ .

a) Tính chu vi và diện tích của khu vườn.

b) Người ta xây nhà có diện tích mặt sàn  $125\text{m}^2$  trên bề mặt của khu vườn. Hỏi diện tích phần còn lại của khu vườn là bao nhiêu?

**Bài 10:** Một mảnh vườn hình chữ nhật được trồng hoa hồng, có chiều dài là  $45\text{m}$ , chiều rộng là  $30\text{m}$ .

a) Tính chu vi và diện tích mảnh vườn trên.

b) Nếu người ta để lại làm đường đi xung quanh và đường rộng  $2\text{m}$  thì diện tích phần còn lại để trồng hoa là bao nhiêu?

### C. BÀI TẬP NÂNG CAO

**Bài 1:** Tìm số tự nhiên  $n$ , biết:

a)  $n + 6 : n + 1$

b)  $4n + 9 : 2n + 1$

**Bài 2:** Tìm cặp số nguyên  $x, y$  biết:

a)  $(x + 5)(y - 3) = 15$

b)  $xy + x + y = 30$

**Bài 3:** Cho  $A = 5 + 5^2 + 5^3 + \dots + 5^{100}$ .

a)  $A$  là số nguyên tố hay hợp số?

$A$  có là số chính phương không?

## 2. MÔN NGỮ VĂN

### I. PHẦN VĂN BẢN:

#### 1. Văn bản truyện:

\* Yêu cầu:

- Nắm được khái niệm truyện truyền thuyết, truyện cổ tích.
- Tóm tắt truyện.
- Nhận biết được một số yếu tố hình thức (chi tiết, cốt truyện, nhân vật, yếu tố hoang đường, kì ảo,...), nội dung (đề tài, chủ đề, ý nghĩa, thái độ người kể...)
- Cảm nhận: chi tiết đặc sắc; nhân vật trong truyện.

#### 2. Văn bản thơ:

\* Yêu cầu:

- Nắm được đặc điểm thể thơ lục bát.
- Nắm được khái niệm ca dao.
- Tác giả.
- Tác phẩm: nhận biết được một số yếu tố hình thức (vần, nhịp, dòng và khổ thơ,...), nội dung (đề tài, chủ đề, cảm xúc, ý nghĩa,...) của bài thơ lục bát.
- Thuộc lòng thơ.
- Nội dung, nghệ thuật chính của văn bản.
- Cảm nhận, phân tích được những câu thơ, đoạn thơ hay; chi tiết đặc sắc.

### II. PHẦN TIẾNG VIỆT:

- Từ đơn và từ phức (từ ghép, từ láy); Biện pháp tu từ; Biện pháp tu từ ẩn dụ.
  - Nắm chắc khái niệm, phân loại, tác dụng...
  - Xem lại các bài tập trong SGK.
  - Vận dụng kiến thức vào việc đặt câu, viết đoạn, bài Tập làm văn.

### III. PHẦN TẬP LÀM VĂN:

Văn tự sự.

\* Yêu cầu chung:

- Nắm được phương pháp làm bài.
- Kể lại được một truyện truyền thuyết hoặc cổ tích đã học (hoặc đã đọc, đã nghe) bằng các hình thức nói và viết.

## ĐỀ MINH HOA

### ĐỀ KIỂM TRA GIỮA HỌC KÌ I

Môn Ngữ văn lớp 6

Thời gian làm bài: 90 phút, không kể thời gian giao đề

#### I. ĐỌC HIỂU (6.0 điểm)

Đọc văn bản sau:

#### BÁNH CHUNG BÁNH GIÀY

Ngày đó, vua Hùng trị vì đất nước. Thấy mình đã già, sức khỏe ngày một suy yếu, vua có ý định chọn người nối ngôi. Vua có cả thảy hai mươi hai người con trai, người nào cũng đã khôn lớn và tài trí hơn người. Vua bèn quyết định mở một cuộc thi để kén chọn.

Vua Hùng cho hội họp tất cả các hoàng tử lại. Vua truyền bảo:

- Cha biết mình gần đất xa trời. Cha muốn truyền ngôi cho một trong số anh em các con. Bây giờ mỗi con hãy làm một món ăn lạ để cúng tổ tiên. Ai có món ăn quý vừa ý ta thì sẽ được ta chọn.

Nghe vua cha phán truyền thế, các hoàng tử thi nhau cho người đi khắp mọi nơi lùng kiếm thức ăn quý. Họ lặn lội lên ngàn, xuống biển không sót chỗ nào.

Trong số hai mươi hai hoàng tử, có chàng Liêu là hoàng tử thứ mười tám. Mẹ côì mẹ từ nhỏ, chàng Liêu từng sống nhiều ngày cô đơn. Chẳng có ai giúp đỡ chàng trong việc lo toan tìm kiếm món ăn lạ. Chỉ còn ba ngày nữa là đến kỳ thi mà Liêu vẫn chưa có gì. Đêm hôm đó, Liêu nằm gác tay lên trán lo lắng, suy nghĩ rồi ngủ quên lúc nào không biết. Liêu mơ mơ màng màng thấy có một vị nữ thần từ trên trời bay xuống giúp chàng. Nữ thần bảo:

- To lớn trong thiên hạ không gì bằng trời đất, của báu nhất trần gian không gì bằng gạo. Hãy đem vo cho tôi chỗ nếp này, rồi kiếm cho tôi một ít đậu xanh.

Rồi Liêu thấy thần lần lượt bày ra những tàu lá rộng và xanh. Thần vừa gói vừa giảng giải:

- Bánh này giống hình mặt đất. Đất có cây cỏ, đồng ruộng thì màu phải xanh xanh, hình phải vuông vắn. Trong bánh phải cho thịt, cho đỗ để lấy ý nghĩa đất chở cày cấy, cỏ cây... Rồi đem thứ nếp trắng đồ lên cho dẻo, giã ra làm thứ bánh giống hình trời: màu phải trắng, hình phải tròn và khum khum như vòm trời... Tỉnh dậy, Liêu bắt đầu làm bánh y như trong giấc mộng.

Ngày các hoàng tử đem các món ăn đến dự thi là một ngày náo nhiệt nhất ở Phong Châu. Người đông nghìn nghịt. Nhân dân các nơi náo nức về dự một cái Tết tưng bừng hiếm có.

Đúng vào lúc mặt trời mọc, vua Hùng đi kiệu đến làm lễ tổ tiên. Chiêng trống cờ quạt thật là rộn rã. Tất cả trông chờ kết quả cuộc chám thi.

Nhưng tất cả các món “nem công chả phượng” của các hoàng tử đều không thể bằng thứ bánh que mùa của Liêu.



**Câu 9:** Trình bày ý nghĩa của một chi tiết tưởng tượng, kì ảo mà em thích.(10)

**Câu 10:** Suy nghĩ của em về tục kể truyền ngôi vị của các thời vua Hùng. (9)

## II. VIẾT (4.0 điểm)

Hãy kể lại một truyện truyền thuyết hoặc cổ tích bằng lời văn của em.

### 3. MÔN TIẾNG ANH

#### PART I: LANGUAGE FOCUS.

##### From Unit 1 to Unit 3

##### 1. Topic:

- School things and school activities.
- Types of house, rooms and furniture.
- Friends and things to do with friends; body parts and appearance; personality adjectives .

##### 2. Phonetics:

- Sounds: /ɑ:/ and /ʌ/; /s/ and /z/; /b/ and /p/

##### 3. Grammar:

- The present simple
- Adverbs of frequency
- Possesive case
- Prepositions of place
- The present continuous
- There is/ There are
- Verbs *be* and *have* for description

##### 4. Vocabulary:

- Words to describe school things and school activities
- Verb + noun (*play, do, have, study + noun*)
- Words to describe types of house
- Words to describe rooms and furniture
- Words to talk about body parts, appearance and personality
- Adjectives for personality

#### PART II: PRACTICE TEST

##### A. Phonetics

##### I. Choose the word whose underline part is pronounced differently from the others.

- |                           |                      |                      |                        |
|---------------------------|----------------------|----------------------|------------------------|
| 1. A. cupboards <u>̄</u>  | B. flats <u>̄</u>    | C. lamps <u>̄</u>    | D. sinks <u>̄</u>      |
| 2. A. comb <u>̄</u>       | B. climb <u>̄</u>    | C. club <u>̄</u>     | D. bomb <u>̄</u>       |
| 3. A. department          | B. dishwasher        | C. classmate         | D. smart               |
| 4. A. lov <u>̄</u> ing    | B. bro <u>̄</u> ther | C. co <u>̄</u> mpass | D. co <u>̄</u> nfident |
| 5. A. comput <u>̄</u> ers | B. windo <u>̄</u> ws | C. to <u>̄</u> ilets | D. wardro <u>̄</u> bes |

##### II. Choose the word that has the main stress placed differently from that of the others.

- |                    |              |              |               |
|--------------------|--------------|--------------|---------------|
| 1. A. homework     | B. window    | C. between   | D. kitchen    |
| 2. A. appearance   | B. apartment | C. furniture | D. department |
| 3. A. active       | B. careful   | C. funny     | D. creative   |
| 4. A. hard-working | B. clever    | C. caring    | D. friendly   |
| 5. A. behind       | B. cousin    | C. bedroom   | D. science    |

##### B. Vocabulary and grammar:

##### Choose the suitable words or phrases to complete the blanks.

1. My best friend is kind and \_\_\_\_\_. He often makes me laugh.





A. b-a-c                      B. c-b-a                      C. a-c-b                      D. b-c-a

**Choose the sentence that you can end the text most appropriately.**

- A. I live with my parents, and we have a lot of visitors.  
 B. We still have play football three times a week.  
 C. I love my house for many reasons: the garden, the flowers in summer, the fire in winter, but the best thing is the view from my bedroom window.  
 D. My city friends often stay with me.

**II/ Read the following advertisement/ announcement and mark the letter A, B, C, or D on your answer sheet to indicate the correct option that best fits each of the numbered blanks from 1 to 3.**




<b>WANT A SUMMER JOB?</b>	
Are you (1)_____ high school student looking for a summer job?	
Apply (2)_____ ABC Farming Company. We need some employees to collect soft fruit during the holiday.	
<i>Requirements:</i>	
<ul style="list-style-type: none"> <li>• Hard-working</li> <li>• Strong</li> <li>• (3)_____</li> </ul>	
<b>Contact number:</b> 0341206745 (Mr. John)	
<b>Address:</b> 15 Black Street, Scotland	

**Question 1:** A. an                      B. a                      C. the                      D. □

**Question 2:** A. for                      B. with                      C. to                      D. in

**Question 3:** A. careless                      B. careful                      C. care                      D. carefully

**III/ Look at the signs. Choose the best answer for the question.**

<p>1. What does this sign mean?</p> <p>A. Keeping away the cheating is unnecessary.          B. There is a sign of cheating standing near here.          C. It's important to say no to cheating after class.          D. Cheating in the classroom is prohibited</p>	
<p>2. What does this sign mean?</p> <p>A. You are not allowed to make noise here.          B. Why don't we use a book here?          C. Keeping the books quiet is required.          D. Reading a book is to keep quiet</p>	
<p>3. What does this sign mean?</p> <p>A. Anybody can park here.          B. You can park here if you are not visitors.          C. Only the visitor living in this country can park here.          D. Parking in this space for visitor only</p>	

**IV/ Read the text and answer questions.**

From: <a href="mailto:an@fastmail.com">an@fastmail.com</a> To: <a href="mailto:nick@fastmail.com">nick@fastmail.com</a> Subject: My best friend
---



**II/ Rewrite the second sentences with the words given.**

1. We have a sink, a fridge and a cooker in our kitchen.  
There .....
2. Does your class have forty students?  
Are .....?
3. My sister goes to school on foot.  
My sister.....
4. There are many flowers in our garden.  
Our garden.....
5. There is a beautiful piano in my sister's room.  
My sister's room.....
6. I have a plan to visit my grandparents next weekend.  
I am .....
7. Mary's hair is short and her face is round.  
Mary has.....
8. My school is far from my house.  
My school is not.....

**4. MÔN TIN HỌC****A- Lý thuyết: Nội dung từ bài 1 đến bài 4 trong SGK Tin học 6.****B- Một số câu hỏi tham khảo****I. TRẮC NGHIỆM (một số câu hỏi trắc nghiệm tham khảo)**

Ghi lại chữ cái đứng trước câu trả lời đúng.

**Câu 1: Phát biểu nào sau đây là đúng?**

- A. Dữ liệu chỉ có ở trong máy tính.
- B. Dữ liệu là những giá trị số do con người nghĩ ra.
- C. Dữ liệu được thể hiện dưới dạng con số, văn bản, hình ảnh, âm thanh.
- D. Dữ liệu chỉ có thể được hiểu bởi những người có trình độ cao.

**Câu 2: Phương án nào sau đây là thông tin?**

- A. Tập lưu trữ tài liệu về điều tra dân số.
- B. Phiếu điều tra dân số.
- C. Kiến thức về phân bố dân cư.
- D. Các con số thu thập được thông qua cuộc điều tra dân số.

**Câu 3: Công cụ nào sau đây là vật mang tin?**

- A. Bát đĩa.
- B. Thẻ nhớ.
- C. Xô chậu.
- D. Cây hoa

**Câu 4: Câu nói “Diện tích trường THCS Đô Thị Việt Hưng là lớn nhất quận Long Biên” là:**

- A. Vật mang tin.
- B. Dữ liệu.
- C. Thông tin.
- D. Văn bản, hình ảnh

**Câu 5: Thiết bị cho em thấy kết quả hoạt động của máy tính bằng âm thanh là**

- A. Loa.
- B. Chuột.
- C. Micro.
- D. CPU.

**Câu 6: Thiết bị nào giúp cho máy tính thu nhận thông tin bằng hình ảnh?**

- A. Máy quét.
- B. Máy in.
- C. Màn hình.
- D. Bộ nhớ

**Câu 7: Khả năng lưu trữ của một thiết bị nhớ được gọi là gì?**

- A. Khả năng nhớ.
- B. Khối lượng nhớ.
- C. Thể tích nhớ.
- D. Dung lượng nhớ.

**Câu 8: Trong các đơn vị đo dung lượng nhớ dưới đây, đơn vị nào nhỏ nhất?**

- A. MB.
- B. GB.
- C. KB.
- D. Byte.

**Câu 9: Thiết bị nào sau đây *không phải* là thiết bị đầu cuối?**

- A. Máy tính.                      B. Bộ định tuyến.                      C. Máy in.                      D. Máy quét.

**Câu 10: Trong các nhận định sau, nhận định nào *không phải* là lợi ích của việc sử dụng mạng máy tính?**

- A. Giảm chi phí khi dùng chung phần cứng.  
 B. Giảm chi phí khi dùng chung phần mềm.  
 C. Cho phép chia sẻ dữ liệu, tăng hiệu quả sử dụng.  
 D. Người sử dụng có quyền kiểm soát độc quyền đối với dữ liệu và ứng dụng của riêng họ.

## II. Phần tự luận

**Bài 1:** Mạng máy tính là gì? Nêu các lợi ích của mạng máy tính?

**Bài 2:** Cho các thiết bị sau: Bàn phím, micro, loa, chuột, máy in, USB, màn hình, thẻ nhớ, đĩa CD.

Em hãy phân loại chúng thành:

- Thiết bị vào
- Thiết bị ra
- Bộ nhớ

**Bài 3:** Quá trình xử lý thông tin trong máy tính gồm vào những hoạt động nào? Vật mang tin xuất hiện trong hoạt động nào của quá trình xử lý thông tin?

**Bài 4:** Nhà bạn Mai có điện thoại di động của bố, của mẹ và một máy tính xách tay đang truy cập mạng internet qua đầu thu phát wifi. Theo em các thiết bị đó có đang được kết nối thành một mạng máy tính không? Nếu có, em hãy chỉ ra các thiết bị đầu cuối và thiết bị kết nối.

**Bài 5:** Giả sử một bức ảnh chụp bằng máy ảnh chuyên nghiệp có dung lượng 15MB. Vậy một thẻ nhớ có dung lượng 256MB có thể chứa được bao nhiêu bức ảnh như vậy?

## 5. MÔN CÔNG NGHỆ

### I. LÝ THUYẾT

Học sinh ôn tập kiến thức đã học về:

Bài 1: Khái quát về nhà ở

Bài 2: Xây dựng nhà ở

Bài 3: Ngôi nhà thông minh

### II. MỘT SỐ CÂU HỎI THAM KHẢO

#### A. Trắc nghiệm

**Em hãy chọn đáp án đúng nhất trong mỗi câu sau:**

**Câu 1:** Khu vực nào sau đây thuộc khu vực của nhà ở?

- A. Nơi cất giữ đồ dùng dạy học                      B. Nơi đóng phí  
 C. Nơi ngủ nghỉ của các thành viên trong gia đình                      D. Nơi làm thủ tục, hồ sơ

**Câu 2:** Nhà ở của Việt Nam có bao nhiêu dạng?

- A. 2                      B. 3                      C. 5                      D. 7

**Câu 3:** Vai trò của nhà ở đối với con người là gì?

- A. Để ở, bảo vệ con người trước những tác động xấu của thiên nhiên và xã hội, phục vụ các nhu cầu sinh hoạt của cá nhân hoặc hộ gia đình.  
 B. Bảo vệ con người trước những tác động xấu của thiên nhiên và xã hội, không để ở.  
 C. Bảo vệ con người trước những tác động xấu của thiên nhiên và xã hội, không phục vụ các nhu cầu sinh hoạt của cá nhân hoặc hộ gia đình.  
 D. Tất cả các đáp án trên.

**Câu 4:** Mô hình nhà nào dưới đây được xây dựng để giảm bớt những tác hại của biến đổi khí hậu?

- A. Nhà container                      B. Nhà liền kề

C. Nhà chống lũ

D. Biệt thự, villa

**Câu 5:** Nhóm vật liệu xây dựng tự nhiên là

A. Bùn đất, cát, đá, thạch anh, gỗ, tre

B. Bùn đất, cát, đá hoa, sỏi, gỗ, tre

C. Cát, đá, sỏi, gạch nung, gỗ tre

D. Bùn đất, cát, đá, sỏi, gỗ, tre

**Câu 6:** Nhận định nào sai về vật liệu làm nhà?

A. Vật liệu ảnh hưởng đến tuổi thọ, chất lượng và tính thẩm mỹ của công trình

B. Gạch nung, thép, kính, thạch cao... là những vật liệu xây dựng tự nhiên

C. Vật liệu tự nhiên và vật liệu nhân tạo có thể kết hợp với nhau để xây dựng lên những ngôi nhà vừa bền vững vừa thẩm mỹ

D. Các loại vật liệu như tre, nứa, lá ... thường được sử dụng để xây dựng những ngôi nhà nhỏ, có cấu trúc đơn giản.

**Câu 7:** Nội thất là gì?

A. Đồ đạc, các loại tiện nghi, bài trí, làm thành phía bên ngoài của ngôi nhà.

B. Đồ đạc, các loại tiện nghi, bài trí, làm thành phía bên trong của ngôi nhà

C. Là những đồ đạc trang trí bên trong ngôi nhà

D. Là những vật thể còn thô sơ

**Câu 8:** Máy thu hình tự động mở kênh truyền hình yêu thích mô tả hệ thống nào trong ngôi nhà thông minh?

A. Hệ thống camera giám sát

B. Hệ thống giải trí thông minh

C. Hệ thống chiếu sáng thông minh

D. Hệ thống kiểm soát nhiệt độ

**Câu 9:** Ý nào sau đây sai khi nói về đặc điểm của ngôi nhà thông minh?

A. Các thiết bị lắp đặt, sử dụng trong ngôi nhà có công suất tiêu thụ điện năng thấp nhất

B. Có hệ thống điều khiển cho phép truy cập từ xa

C. Sử dụng cảm biến để giám sát các trạng thái của ngôi nhà như kiểm soát nhiệt độ, ánh sáng.

D. Các thiết bị trong ngôi nhà có thể ghi nhớ thói quen của người sử dụng, tự thay đổi và cập nhật cài đặt sẵn cho phù hợp.

**Câu 10:** Các thiết bị trong ngôi nhà thông minh được điều khiển từ xa bởi các thiết bị như

A. Điện thoại đời cũ, máy tính bảng có kết nối internet

B. Điện thoại, máy tính bảng không có kết nối internet

C. Điều khiển, máy tính không có kết nối internet

D. Điện thoại thông minh, máy tính bảng có kết nối internet

**Câu 11:** Trong các loại vật liệu xây dựng, gỗ có tác dụng gì? Khẳng định nào dưới đây là đúng, khẳng định nào là sai?

1. Làm khung nhà, mái nhà, sàn nhà

2. Làm vữa xây dựng

3. Làm giá đỡ, các đồ nội thất

4. Dùng để kết hợp với các loại vật liệu khác tạo thành bê tông.

**Câu 12:** Để sử dụng tiết kiệm năng lượng trong gia đình thì cần lưu ý những điểm nào? Biện pháp nào là đúng, biện pháp nào sai?

1. Lựa chọn các thiết bị, đồ dùng tiết kiệm năng lượng.

2. Sử dụng các thiết bị, đồ dùng đúng cách, tiết kiệm năng lượng.

3. Lựa chọn và sử dụng các loại đồ dùng tiêu hao nhiều năng lượng.

4. Sử dụng các nguồn năng lượng thân thiện với môi trường.

## B. Tự luận

**Câu 1:** Nêu vai trò của nhà ở? Nêu kiến trúc đặc trưng của nhà ở Việt Nam?

**Câu 2:** Nếu được lắp đặt các hệ thống thông minh trong ngôi nhà của mình thì em sẽ lắp đặt những hệ thống gì? Giải thích về sự lựa chọn của em.

**Câu 3:** Chỉ ra những biểu hiện sử dụng năng lượng chưa tiết kiệm trong gia đình em. Đề xuất những việc làm cụ thể để sử dụng năng lượng trong gia đình em sao cho tiết kiệm?

## 6. MÔN KHOA HỌC TỰ NHIÊN

### I. NỘI DUNG ÔN TẬP

1. Giới thiệu về khoa học tự nhiên: an toàn trong phòng thực hành; sử dụng kính lúp, kính hiển vi; đo chiều dài, khối lượng, thời gian, nhiệt độ.

2. Chất quanh ta: Sử đa dạng của chất; các thể của chất và sự chuyển thể; oxygen và không khí

### II. BÀI TẬP THAM KHẢO

**Phần I: Câu trắc nghiệm nhiều phương án lựa chọn. Học sinh trả lời từ câu 1 đến câu 10.**

**Mỗi câu hỏi học sinh chỉ chọn một phương án**

**Câu 1.** Hoạt động nào sau đây **không** được xem là nghiên cứu khoa học tự nhiên?

- A. Nghiên cứu quá trình hình thành và phát triển của động vật.
- B. Nghiên cứu sự lên xuống của thủy triều.
- C. Nghiên cứu sự khác nhau giữa văn hoá Việt Nam và văn hoá Trung Quốc.
- D. Nghiên cứu cách thức sản xuất phân bón hoá học.

**Câu 2.** Khi quan sát tế bào động vật nên chọn loại kính nào?

- A. Kính có độ.
- B. Kính lúp.
- C. Kính hiển vi.
- D. Kính hiển vi hoặc kính lúp đều được.

**Câu 3.** Đơn vị đo độ dài trong hệ thống đo lường chính thức của nước ta là:

- A. m
- B. J
- C. Kg
- D. Tấn

**Câu 4.** Hình ảnh sau  cảnh báo điều gì?

- A. Chất ăn mòn
- B. Chất độc sinh học
- C. Chất độc
- D. Điện cao thế

**Câu 5.** Tính chất nào sau đây là tính chất hoá học của khí carbon dioxide?

- A. Chất khí, không màu.
- B. Không mùi, không vị.
- C. Tan rất ít trong nước.
- D. Làm đục dung dịch nước vôi trong (dung dịch calcium hydroxide).

**Câu 6.** Quá trình nào sau đây thể hiện tính chất hoá học?

- A. Hoà tan đường vào nước.
- B. Cô cạn nước đường thành đường.
- C. Đun nóng đường tới lúc xuất hiện chất màu đen.
- D. Đun nóng đường ở thể rắn để chuyển sang đường ở thể lỏng.

**Câu 7.** Nhiệt kế thủy ngân không thể đo nhiệt độ nào trong các nhiệt độ sau?

- A. Nhiệt độ của nước đá.
- B. Nhiệt độ cơ thể người.
- C. Nhiệt độ khí quyển.
- D. Nhiệt độ của một lò luyện kim.

**Câu 8.** Khi mở lọ nước hoa, một lát sau có thể ngửi thấy mùi thơm. Điều này thể hiện tính chất gì ở ở thể khí?

- A. Có hình dạng của vật chứa nó
- B. Dễ dàng lan tỏa trong không gian theo mọi hướng

- C. Dễ bị nén  
D. Ít tan trong nước

**Câu 9.** Khi để cục nước đá trong cốc ở nhiệt độ phòng thấy hiện tượng nước đọng ở mặt ngoài cốc, chứng tỏ:

- A. Trong không khí có bụi và vi khuẩn  
B. Trong không khí có hơi nước  
C. Trong không khí có nitrogen  
D. Trong không khí có oxygen

**Câu 10.** Người ta phải bơm sục khí oxygen vào bể nuôi cá cảnh vì:

- A. Oxygen nặng hơn không khí.  
B. Oxygen không màu, không mùi, không vị.  
C. Oxygen tan ít trong nước.  
D. Oxygen duy trì sự cháy

**Phần II. Câu trắc nghiệm đúng, sai. Học sinh trả lời từ câu 1 đến câu 2. Trong mỗi ý a, b, c, d học sinh chọn đúng hoặc sai**

**Câu 1.**

- a. Không khí chiếm đầy khoảng không gian xung quanh ta vì chất khí lan truyền trong không gian theo mọi hướng.  
b. Ta có thể rót nước lỏng vào bình chứa vì nước có nhiệt độ sôi xác định.  
c. Gõ nhẹ thước kẻ vào mặt bàn, cả hai đều không biến dạng vì chất rắn có hình dạng cố định.  
d. Ta có thể bơm không khí vào quả bóng bay cho tới khi quả bóng căng lên vì chất khí khó nén.

**Câu 2.**

- a. Để xác định thời gian luộc chín một quả trứng, ta sử dụng cân điện tử.  
b. Nitrogen trong không khí có vai trò cung cấp đạm tự nhiên cho cây trồng.  
c. Quan sát tế bào biểu bì vảy hành cần phải sử dụng kính hiển vi.  
d. Trên vỏ một hộp bánh có ghi 500g, con số này có ý nghĩa là khối lượng cả bánh trong hộp và vỏ hộp.

**Phần III. Trắc nghiệm trả lời ngắn. Học sinh trả lời từ câu 1 đến câu 2.**

**Câu 1.**

- a. GHĐ của cân hình dưới đây là bao nhiêu kg?



- b. Trên một cái thước học sinh có số lớn nhất là 30cm. Từ vạch số 0 đến vạch số 1 được chia làm 5 khoảng bằng nhau. Vậy ĐCNN của thước là bao nhiêu cm?  
c. Một bạn học sinh đi học, bắt đầu đạp xe từ nhà đi lúc 6 giờ 55 phút và tới trường lúc 7 giờ 10 phút. Thời gian từ nhà đến trường là bao nhiêu phút?  
d. Cho dãy sau: oxygen, cây xanh, cây cầu, nitrogen, nước cất, calcium carbonate. Số vật thể trong dãy là bao nhiêu?

**Câu 2.**

- a. Cho các khí sau đây: (1) Oxygen, (2) Nitrogen, (3) Khí hiếm, (4) Carbon dioxide. Khí nào tham gia vào quá trình quang hợp của cây xanh?

b. Cho các quá trình sau đây: (1) Hô hấp, (2) Quang hợp, (3) Hòa tan, (4) Nóng chảy. Quá trình nào cần oxy?

c. Cho các chất sau: (1) Khí oxygen, (2) Khí nitrogen, (3) Khí Carbon dioxide, (4) Nước lỏng, (5) Dầu, (6) Xăng. Có bao nhiêu chất có nhiệt độ sôi cao hơn nhiệt độ phòng?

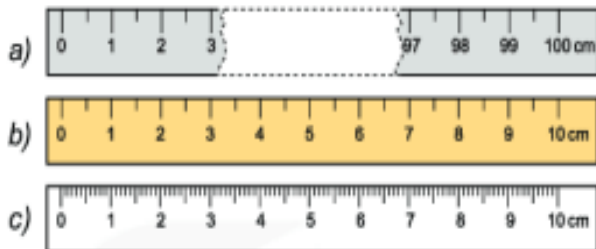
d. Một trường học có 12 lớp, trung bình mỗi lớp trong ngày tiêu thụ 120 lít nước. Biết giá nước hiện nay là 10 000 đồng/m<sup>3</sup>. Số tiền nước mà trường này phải trả trong 30 ngày là bao nhiêu?

#### Phần IV. Tự luận

Câu 1. Tìm số thích hợp điền vào các chỗ trống dưới đây:

5,8 m = ..... dm	45 phút = .....giây
0,5 m = ..... cm	20 phút = .....giờ
15 cm = .....mm	4 mg = .....g
4 km = .....m	0°C = .....°F
5 kg = .....g	102,2°F = .....°C

Câu 2. Xác định GHĐ và ĐCNN trong trường hợp sau:



## 7. MÔN GDCD

### I. Kiến thức trọng tâm

**Bài 1:** Tự hào về truyền thống gia đình, dòng họ.

**Bài 2:** Yêu thương con người.

### II. Câu hỏi ôn tập

#### 1. Câu hỏi trắc nghiệm.

Câu 1: Câu tục ngữ: **“Luyện mãi thành tài, miệt mài tất giỏi”** nói về truyền thống nào?

- A. Yêu nước.                      B. Hiếu thảo.                      C. Hiếu học.                      D. Đoàn kết.

Câu 2: Truyền thống là gì?

- A. Là những giá trị tốt đẹp của gia đình, dòng họ được truyền từ đời này sang đời khác.  
 B. Là những giá trị tốt đẹp của gia đình, dòng họ được mua bán, trao đổi trên thị trường.  
 C. Là những giá trị tốt đẹp của gia đình, dòng họ được nhà nước ban hành và thực hiện.  
 D. Là những giá trị tốt đẹp của gia đình, dòng họ được đời sau bảo vệ nguyên trạng.

Câu 3: **Yêu thương con người là quan tâm, giúp đỡ và làm những điều tốt đẹp nhất cho người khác, nhất là những lúc như thế nào?**

- A. Khi cần đánh bóng tên tuổi.  
 B. Khi vì mục đích vụ lợi  
 C. Khi gặp khó khăn và hoạn nạn.  
 D. Khi mưu cầu lợi ích cá nhân.

Câu 4: Hành vi nào sau đây **không** thể hiện việc tự hào và giữ gìn truyền thống gia đình dòng họ?

- A. Tìm hiểu về truyền thống gia đình, dòng họ mình.  
 B. Có những việc làm phù hợp để phát huy truyền thống gia đình dòng họ.  
 C. Không làm điều gì tổn hại đến thanh danh của gia đình, dòng họ.





## 2. Câu hỏi tự luận

Câu 1. Em hãy kể tên 5 truyền thống tốt đẹp của gia đình, dòng họ mà em biết? Là học sinh, chúng ta cần làm gì để giữ gìn và phát huy truyền thống gia đình dòng họ?

Câu 2. Thế nào là yêu thương con người? Em hãy nêu 2 ví dụ cụ thể về sự yêu thương con người mà em biết?

Câu 3. Cho tình huống:

Bình rất tự hào về nghề làm lồng đèn trung thu truyền thống do ông nội là “nghệ nhân làm lồng đèn” đã truyền lại cho con cháu trong gia đình. Bình kể với các bạn rằng, để làm được một chiếc lồng đèn đòi hỏi nhiều công đoạn rất công phu, tỉ mỉ và sự khéo léo của đôi bàn tay. Nghe kể, một số bạn tỏ vẻ coi thường nói: Nghề làm lồng đèn thì có gì cao siêu mà tự hào, phải học giỏi, đỗ đạt cao hay phát minh ra cái gì đó thì mới đáng kể chứ!

Câu hỏi

a) Theo em, suy nghĩ của các bạn Bình là đúng hay sai? Vì sao?

b) Nếu em là Bình, em sẽ nói gì với các bạn?

Câu 4. Cho tình huống:

Trong giờ kiểm tra thi môn Toán, thấy bạn A không làm được bài nên B liền đưa bài cho A chép. B bảo là bạn bè trong lớp thì nên giúp đỡ nhau.

Câu hỏi:

a. Em có tán thành với ý kiến của bạn B không? Vì sao?

b. Nếu em là B thì em sẽ làm như thế nào?

## 8. MÔN LỊCH SỬ & ĐỊA LÍ

### I. PHÂN MÔN LỊCH SỬ

#### 1. Kiến thức trọng tâm

- Học sinh ôn tập:

Bài 1. Lịch sử và cuộc sống

Bài 2. Thời gian trong lịch sử

Bài 3. Nguồn gốc loài người

Bài 4. Xã hội nguyên thủy

Bài 5. Chuyển biến về kinh tế - xã hội của người nguyên thủy

Bài 6. Ai Cập và Lưỡng Hà cổ đại

Bài 7. Ấn Độ cổ đại

#### 2. Câu hỏi ôn tập

##### a. Câu hỏi trắc nghiệm minh họa

\* *Dạng 1: Câu trắc nghiệm nhiều phương án lựa chọn*

**Câu 1. Lịch sử là gì?**

- A. Những gì đã diễn ra trong quá khứ.
- B. Sự hiểu biết về những gì đã diễn ra.
- C. Ghi lại những gì đã diễn ra theo trật tự thời gian.
- D. Sự bái vọng đối với tổ tiên.

**Câu 2. Khi tìm hiểu lịch sử, loại tư liệu nào là nguồn đáng tin cậy nhất?**

- A. Tư liệu gốc.
- B. Tư liệu chữ viết.
- C. Tư liệu hiện vật.
- D. Tư liệu truyền miệng.

**Câu 3. Ưu điểm nổi bật của tư liệu hiện vật là:**

- A. mang ý thức chủ quan của tác giả tư liệu.
- B. cho biết toàn cảnh các sự kiện đã xảy ra.

- C. không cho biết thời gian xảy ra sự kiện.  
D. phản ánh khá cụ thể và trung thực về đời sống của người xưa.

**Câu 4. Những tấm bia ghi tên người đỗ tiến sĩ thời xưa ở Văn Miếu (Hà Nội) thuộc loại tư liệu nào?**

- A. Tư liệu chữ viết. C. Tư liệu truyền miệng.  
B. Tư liệu hiện vật. D. Cả tư liệu hiện vật và chữ viết.

**Câu 5. Kim loại đầu tiên mà người Tây Á và Ai Cập phát hiện ra là gì?**

- A. Đồng thau. B. Đồng đỏ. C. Sắt. D. Nhôm.

**Câu 6. Loài người là kết quả của quá trình tiến hóa từ đâu?**

- A. Người tối cổ. B. Vượn.  
C. Vượn người. D. Người tinh khôn.

**Câu 7. Tư liệu chữ viết là gì?**

- A. Những hình khắc trên bia đá.  
B. Những bản ghi; sách được in, khắc bằng chữ viết, vở chép tay, ... từ quá khứ còn được lưu lại đến ngày nay.  
C. Những hình vẽ trên vách hang đá của người nguyên thủy.  
D. Những câu chuyện cổ tích.

**Câu 8. Thành tựu nào dưới đây là phát minh của cư dân Ấn Độ cổ đại?**

- A. Hệ thống 10 chữ số. B. Hệ chữ cái La-tinh.  
C. Hệ đếm lấy số 60 làm cơ sở. D. Hệ đếm lấy số 10 làm cơ sở.

**Câu 9. Ai Cập cổ đại được hình thành và phát triển ở lưu vực con sông nào?**

- A. Sông Nin. B. Sông Hằng. C. Sông Ấn. D. Sông Dương Tử.

**Câu 10. Đứng đầu giai cấp thống trị Ai Cập cổ đại là ai?**

- A. Chủ ruộng đất. B. Đông đảo quý tộc quan lại.  
C. Vua chuyên chế (Pha-ra-ông) D. Tầng lớp tăng lữ.

**\* Dạng 2: Câu trắc nghiệm đúng sai.**

Từ câu 1 đến câu 2, trong mỗi ý a,b,c,d chọn đúng hoặc sai

**Câu 1. Hãy xác định các câu sau đây đúng hay sai về nội dung lịch sử:**

- A. Học lịch sử để hiểu được cội nguồn dân tộc, biết được công lao, sự hi sinh to lớn của ông cha ta trong suốt lịch sử dựng nước và giữ nước.  
B. Lịch Sử tìm hiểu về quá khứ nhưng không có nhiều giá trị đối với hiện tại.  
C. Học lịch sử để hiểu về quá khứ và xây dựng xã hội hiện tại văn minh.  
D. Học lịch sử để biết sự tiến hoá của sinh vật trên Trái Đất.

**Câu 2. Việc sử dụng công cụ bằng kim loại đã có tác dụng như thế nào?**

- A. Giúp con người khai phá đất hoang, mở rộng diện tích trồng trọt.  
B. Giúp thúc đẩy năng suất lao động, tạo ra sản phẩm ngày càng nhiều cho xã hội.  
C. Làm xuất hiện của cải dư thừa, dẫn đến sự phân hoá giàu nghèo trong xã hội.  
D. Dẫn tới sự tan rã của xã hội nguyên thủy và hình thành công xã thị tộc.

**b. Tự luận**

**Câu 1.** Em hãy giải thích vì sao bác hồ lại nói: “*Hôm nay gặp các chú ở đền Hùng có ý nghĩa to lớn vì vua Hùng là vị vua khai quốc... các vua Hùng đã có công dựng nước .Bác cháu ta phải cùng nhau giữ lấy nước*”. Lời căn dặn này của bác nói lên điều gì về vai trò của lịch sử đối với cuộc sống hiện nay?

**Câu 2.**

- a. Trình bày những thành tựu chủ yếu về văn hóa ở Ai Cập cổ đại?

- b. Hãy kể tên một số vật dụng hay lĩnh vực mà ngày nay chúng ta đang thừa hưởng từ chính phát minh của người Ai Cập và Lưỡng Hà cổ đại?

### Câu 3

- a. Kể tên một số vật dụng bằng kim loại hiện nay mà em biết?  
b. Từ đó, phát biểu suy nghĩa của em về ý nghĩa của việc phát hiện ra kim loại vào cuối thời nguyên thủy?

## II. PHÂN MÔN ĐỊA LÍ

### 1. Kiến thức trọng tâm:

- Học sinh ôn tập các nội dung sau:

- + Bài 1: Hệ thống kinh, vĩ tuyến. Tọa độ địa lí
- + Bài 2: Bản đồ. Một số lưới kinh, vĩ tuyến. Phương hướng trên bản đồ
- + Tỉ lệ bản đồ. Tính khoảng cách thực tế dựa vào tỉ lệ bản đồ

### 2. Câu hỏi ôn tập

#### a. Trắc nghiệm minh họa:

*\* Dạng 1: Câu trắc nghiệm nhiều phương án lựa chọn*

**Câu 1. Theo quy ước đầu bên phải của vĩ tuyến chỉ hướng nào sau đây?**

- A. Tây                      B. Đông                      C. Bắc                      D. Nam

**Câu 2. Theo quy ước đầu phía dưới của kinh tuyến gốc chỉ hướng nào sau đây?**

- A. Tây                      B. Đông                      C. Bắc                      D. Nam

**Câu 3. Vĩ tuyến gốc chính là**

- A. chí tuyến Bắc.                      B. Xích đạo.  
C. chí tuyến Nam.                      D. hai vòng cực.

**Câu 4. Trên Địa Cầu, nước ta nằm ở**

- A. nửa cầu Bắc và nửa cầu Tây.                      B. nửa cầu Nam và nửa cầu Đông.  
C. nửa cầu Nam và nửa cầu Tây.                      D. nửa cầu Bắc và nửa cầu Đông.

**Câu 5. Cho điểm X ( $60^{\circ}\text{B}$ ,  $35^{\circ}\text{T}$ ), điểm này nằm ở**

- A. bán cầu Bắc và nửa cầu Đông.                      B. bán cầu Nam và nửa cầu Đông.  
C. bán cầu Bắc và nửa cầu Tây.                      D. bán cầu Bắc và nửa cầu Đông.

**Câu 6. Một điểm Y nằm trên kinh tuyến  $100^{\circ}$  thuộc nửa cầu Đông và vĩ tuyến  $10^{\circ}$  ở phía trên đường xích đạo, cách viết tọa độ của điểm đó là**

- A.  $100^{\circ}\text{B}$  và  $10^{\circ}\text{T}$ .                      B.  $10^{\circ}\text{N}$  và  $100^{\circ}\text{Đ}$ .  
C.  $100^{\circ}\text{T}$  và  $10^{\circ}\text{N}$ .                      D.  $10^{\circ}\text{B}$  và  $100^{\circ}\text{Đ}$ .

**Câu 7. Kí hiệu bản đồ có mấy loại?**

- A. 4                      B. 3                      C. 1                      D. 2

**Câu 8. Để thể hiện ranh giới quốc gia, người ta dùng kí hiệu nào sau đây?**

- A. Điểm                      B. Đường                      C. Diện tích                      D. Hình học

**Câu 9. Khi biểu hiện các vùng trồng trọt và chăn nuôi thường dùng loại ký hiệu nào sau đây?**

- A. Hình học                      B. Tượng hình  
C. Điểm                      D. Diện tích

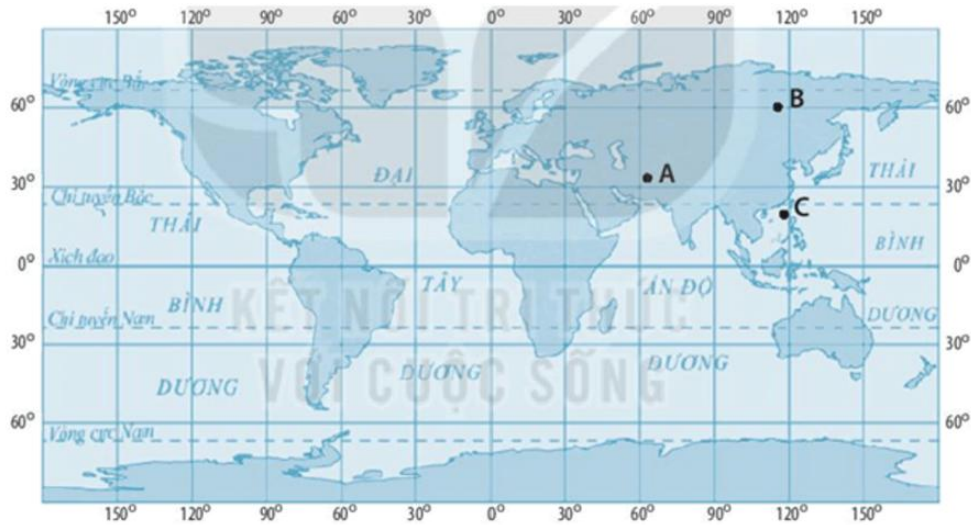
**Câu 10. Nước ta nằm ở phía nào của châu Á?**

- A. Tây Nam.                      B. Đông Nam.  
C. Tây Bắc.                      D. Đông Bắc.

*\* Dạng 2: Câu trắc nghiệm đúng sai.*

Từ câu 1 đến câu 2, trong mỗi ý a,b,c,d chọn đúng hoặc sai

Quan sát hình dưới đây:



**Câu 1:**

- Từ điểm B đến điểm A đi theo hướng Đông Bắc.
- Từ điểm B đến điểm C đi theo hướng Nam.
- Đường vĩ tuyến  $60^{\circ}$  đi qua điểm A.
- Điểm A nằm ở bán cầu Bắc.

**Câu 2:**

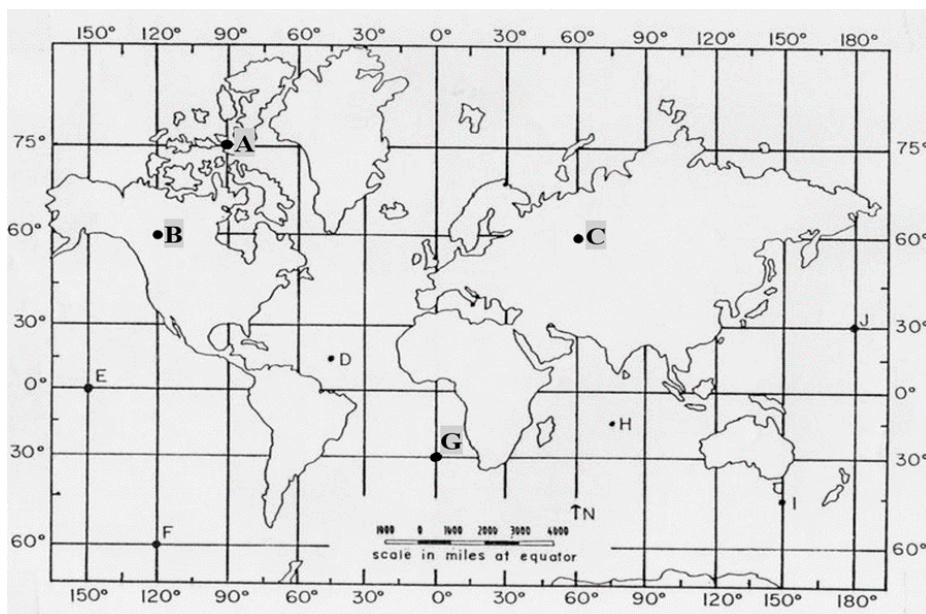
- Vĩ tuyến  $0^{\circ}$  là đường Xích đạo.
- Vĩ tuyến  $66^{\circ}33'$  gọi là chí tuyến.
- Lưới kinh vĩ, tuyến của phép chiếu hình nón.
- Hệ thống kinh, vĩ tuyến là những đường thẳng song song và vuông góc với nhau.

**b. Tự luận:**

**Câu 1.** Em hãy cho biết quả Địa Cầu và bản đồ có điểm gì khác nhau.

**Câu 2:** Trên bản đồ có mấy hướng? Em hãy vẽ hình thể hiện các hướng trên bản đồ?

**Câu 3:** Tìm tọa độ địa lí của các điểm A, B, C và G trong hình sau:



**Câu 4:** Bản đồ có tỉ lệ 1 : 1 500 000. Để đi từ Sài Gòn đến Vĩnh Long phải đi qua Mỹ Tho. Khoảng cách trên bản đồ lần lượt từ Sài Gòn đến Mỹ Tho là 4,1 cm; từ Mỹ Tho đến Vĩnh Long là 4,4 cm. Tính khoảng cách thực tế từ Sài Gòn đến Vĩnh Long.

## 9. MÔN NỘI DUNG GIÁO DỤC CỦA ĐỊA PHƯƠNG

### I. Kiến thức trọng tâm

#### - Lịch sử Hà Nội từ thời nguyên thủy đến thế kỉ X

- + Vùng đất Hà Nội thời tiền sử
- + Hà Nội thời kì Văn Lang – Âu Lạc
- + Hà Nội thời kì đấu tranh giành độc lập dân tộc trước thế kỉ X

#### - Di sản văn hóa vật thể tiêu biểu ở Hà Nội từ thời nguyên thủy đến thế kỉ X

- + Di tích lịch sử, kiến trúc nghệ thuật và khảo cổ Cổ Loa
- + Những bảo vật quốc gia ở Hà Nội thời kì văn hóa Đông Sơn

### II. Câu hỏi ôn tập

#### 1. Câu hỏi trắc nghiệm minh họa:

**Câu 1.** Kinh đô của nhà nước Văn Lang ở đâu?

- A. Cổ Loa, Đông Anh.
- B. Phong Châu, Phú Thọ.
- C. Mê Linh, Sóc Sơn.
- D. Tống Bình.

**Câu 2.** Vào thời Văn Lang, người đứng đầu nhà nước được gọi là gì?

- A. An Dương Vương.
- B. Hùng Vương.
- B. Lạc hầu.
- D. Lạc tướng.

**Câu 3.** Truyền thuyết nào gắn liền với sự ra đời của con cháu vua Hùng?

- A. Bánh chưng, bánh giầy.
- B. Sơn Tinh, Thủy Tinh.
- C. Con rồng cháu tiên.
- D. Thánh Gióng.

**Câu 4.** Kinh đô của nhà nước Âu Lạc nằm ở đâu?

- A. Mê Linh, Sóc Sơn.
- B. Cổ Loa, Đông Anh.
- C. Phong Châu, Phú Thọ.
- D. Thăng Long.

**Câu 5.** Ai là người đem quân đánh Âu Lạc?

- A. Triệu Đà.
- B. Tô Định.
- C. Hoàn Tháo.
- D. Nhà Đường.

**Câu 6.** Năm 938, Ngô Quyền đánh tan quân nào trên sông Bạch Đằng?

- A. Quân nhà Đường.
- B. Quân nhà Tần.
- C. Quân Nam Hán.
- D. Quân nhà Triệu.

**Câu 7.** Sau khi chiến thắng Hoàn Tháo, Ngô Quyền đóng đô ở đâu?

- A. Sơn Tây, Hà Nội.
- B. Phong Châu, Phú Thọ.
- C. Mê Linh, Hà Nội.
- D. Cổ Loa, Đông Anh.

**Câu 8.** Chiến thắng Bạch Đằng năm 938 có ý nghĩa gì?

- A. Bảo vệ nền tự chủ dân tộc sau khi giành khởi nghĩa Khúc Thừa Dụ.
- B. Để lại chiến thuật quân sự cho các cuộc đấu tranh sau.
- C. Kết thúc hơn 1000 năm Bắc thuộc, mở ra thời kì độc lập dân tộc lâu dài cho dân tộc.
- D. Đánh tan quân xâm lược quân Nam Hán.

**Câu 9.** Thành Cổ Loa được xây dựng khoảng thời gian nào?

- A. Từ thế kỉ I – III.
- B. Từ thế kỉ III - I TCN.
- C. Từ thế kỉ II – III.
- D. Từ thế kỉ III – II TCN.

**Câu 10.** Tổng chiều dài của thành Cổ Loa là bao nhiêu?

- A. 15 km.
- B. 16 km.
- C. 17 km.
- D. 18 km.

**Câu 11.** Thành Cổ Loa có mấy vòng khép kín?

- A. 3 vòng.                      B. 5 vòng.                      C. 6 vòng.                      D. 9 vòng.

**Câu 12.** Trống đồng Hoàng Hạ có niên đại cách đây bao nhiêu năm?

- A. 2000 năm.                      B. 3000 năm.  
C. 2000 – 2500 năm.                      D. 2000 – 3000 năm.

**Câu 13.** Trống đồng Cổ Loa có niên đại cách đây bao nhiêu năm?

- A. 2000 năm.                      B. 3000 năm.  
C. 2000 – 2500 năm.                      D. 2000 – 3000 năm.

**Câu 14.** Mặt trống đồng Hoàng Hạ khắc hình ngôi sao bao nhiêu cánh?

- A. 12 cánh.                      B. 14 cánh.                      C. 16 cánh.                      D. 18 cánh.

**Câu 15.** Mặt trống đồng Cổ Loa khắc hình ngôi sao bao nhiêu cánh?

- A. 12 cánh.                      B. 14 cánh.                      C. 16 cánh.                      D. 18 cánh.

## 2. Câu hỏi tự luận

**Câu 1:** Nước Âu Lạc bị Triệu Đà xâm lược năm bao nhiêu? Sau đó chúng chia nước ta ra thành những quận nào? Thành phố Hà Nội ngày xưa thuộc quận nào?

**Câu 2:** Việc An Dương Vương đặt kinh đô ở Cổ Loa, Đông Anh có ý nghĩa gì với Hà Nội?

**Câu 3:** Trống đồng Đông Sơn có ý nghĩa như thế nào đối với lịch sử nước ta?

## 10. MÔN GIÁO DỤC THỂ CHẤT

- Biết cách thực hiện kỹ thuật chạy cự ly ngắn 60m.

## 11. MÔN NGHỆ THUẬT

### A. Phân môn Âm nhạc

I. Xem lại nội dung các bài học:

- Bài hát: Con đường học trò.
- Bài đọc nhạc số 1.
- Lí thuyết âm nhạc: Các thuộc tính cơ bản của âm thanh có tính nhạc.

II. Yêu cầu:

- Hát thuộc lời ca, to rõ ràng, vận động biểu diễn sinh động.
- Đọc nhạc thuộc tên nốt nhạc, lời ca và vỗ tay theo phách

### B. Phân môn Mĩ thuật

I. Xem lại nội dung các bài học:

- Tranh tĩnh vật màu
- Tranh in hoa lá
- Thiệp chúc mừng

II. Suu tầm các tranh ảnh đẹp về phong cảnh, tĩnh vật, trang trí của học sinh và họa sĩ