

ỦY BAN NHÂN DÂN QUẬN LONG BIÊN
TRƯỜNG THCS GIA THỤY



**ĐỀ CƯƠNG ÔN TẬP CUỐI KÌ II
KHỐI 6**

Họ và tên học sinh:

Lớp :

Năm học 2023-2024

Chúc các em học sinh trường THCS Gia Thụy ôn tập và làm bài thật tốt!

Phụ lục 1: LỊCH THI CUỐI HỌC KÌ II NĂM HỌC 2023-2024

(Kèm theo Kế hoạch số ngày tháng năm 2024
của Hiệu trưởng trường THCS Gia Thụy)

Tuần	Thứ/ ngày	Môn	Khối/Lớp	Tiết	TG làm bài	Ghi chú
31	Hai (15/4)	GDCD	9	3	45 phút	* Môn: - Thể dục khối 9 - GDTC 6,7,8 - Mỹ thuật khối 9 - Nghệ thuật 6,7,8 - HĐTNHN 6,7,8 - GDDP 6,7,8 - Ngoại ngữ 2 (Nhật; Đức, Hàn: Có lịch riêng) Giáo viên dạy sắp xếp kiểm tra theo TKB tuần 30,31,32; GV lưu minh chứng kiểm tra phù hợp với đặc trưng bộ môn. * Môn Ngữ văn, Toán, Tiếng Anh 9 theo đề của PGD (chia phòng)
	Ba (16/4)	Địa lý	9	2	45 phút	
	Tư (17/4)	Công nghệ	6,7,8,9	1	45 phút	
		Tin	6,7,8	3	45 phút	
	Sáu (19/4)	Sinh học	9	1	45 phút	
		GDCD	6,7,8	1	45 phút	
	Bảy (20/4)	Hóa học	9	2	45 phút	
Lịch sử 9		9	4	45 phút		
32	Hai (22/4)	Vật lý	9	3	45 phút	
		Ngữ văn	6,7,8	3,4	90 phút	
	Ba (23/4)	Ngữ văn	9	1,2	90 phút	
		Tiếng Anh	6,7,8,9	3,4	60 phút	
	Tư (24/4)	Toán	6,7,8,9	1,2	90 phút	
	Năm (25/4)	KHTN	6,7,8	1,2	90 phút	
Sáu (26/4)	Lịch sử và Địa lý	6,7,8	1,2	60 phút		

Ghi chú: GVCN và GVBM lưu tâm mục (*).

Chúc các em học sinh trường THCS Gia Thụy ôn tập và làm bài thật tốt!

MỤC LỤC

Môn	Trang
Toán	4
Ngữ văn	9
Tiếng Anh	11
Khoa học tự nhiên	15
Lịch sử	18
Địa lí	20
Giáo dục công dân	22
Tin học	25
Công nghệ	26
Giáo dục địa phương	28
Giáo dục thể chất	29
Âm nhạc	30
Mĩ thuật	31

Chúc các em học sinh trường THCS Gia Thụy ôn tập và làm bài thật tốt!

I. NỘI DUNG KIẾN THỨC

1. Số học:

- Cộng, trừ, nhân, chia phân số.
- Cộng, trừ, nhân, chia số thập phân.
- Ước lượng và làm tròn số.
- Tỉ số, tỉ số phần trăm.
- Hai bài toán về phân số.
- Một số yếu tố thống kê và xác suất.

2. Hình học:

- Đoạn thẳng.
- Tia.
- Góc.

II. MỘT SỐ DẠNG BÀI TẬP THAM KHẢO

1. Trắc nghiệm

Câu 1: Phân số $\frac{11}{4}$ được viết dưới dạng hỗn số là:

- A. $1\frac{1}{4}$ B. $2\frac{3}{4}$ C. $\frac{4}{11}$ D. $2\frac{2}{4}$

Câu 2: Số phân số $\frac{-9}{4}$ viết dưới dạng số thập phân là:

- A. 2,25 B. -2,25 C. -2,5 D. 2,5

Câu 3: Làm tròn số 125 376 đến hàng nghìn:

- A. 124 000 B. 125 000 C. 126 000 D. 127 000

Câu 4: Tỉ số của 10kg và 10 tạ bằng:

- A. $\frac{1}{10}$ B. $\frac{1}{100}$ C. 1 D. $\frac{1}{1000}$

Câu 5: Thống kê số lượng học sinh yêu thích một số loại quả ở biểu đồ dưới đây:

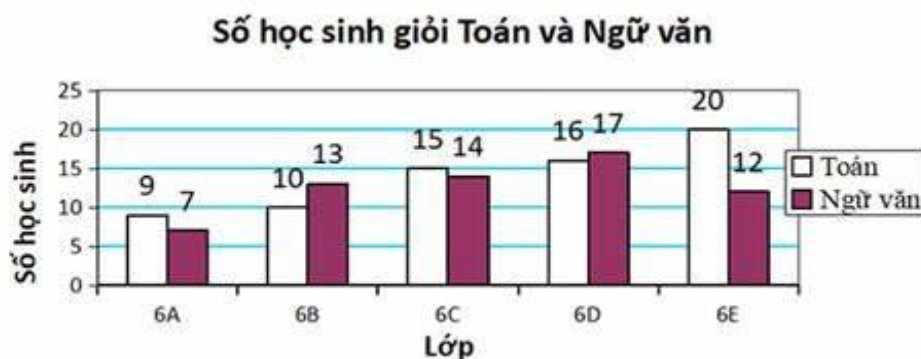


Loại quả nào được nhiều học sinh yêu thích nhất?

- A. Chuối B. Dưa hấu C. Bưởi D. Cam

Chúc các em học sinh trường THCS Gia Thuy ôn tập và làm bài thật tốt!

Câu 6: Cho biểu đồ sau:



Số học sinh giỏi Toán của lớp 6E hơn số học sinh giỏi Toán của lớp 6A là bao nhiêu bạn?

- A. 5 B. 10 C. 4 D. 11

Câu 7: Nếu tung một đồng xu 40 lần liên tiếp, có 16 lần xuất hiện mặt S thì xác suất thực nghiệm xuất hiện mặt N là:

- A. $\frac{2}{5}$ B. $\frac{3}{5}$ C. $\frac{1}{16}$ D. $\frac{1}{40}$

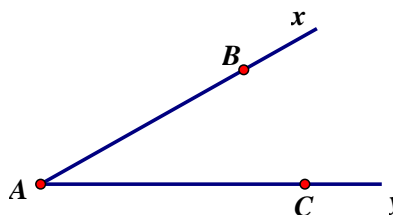
Câu 8: Một hộp có 10 chiếc thẻ được đánh số từ 1 đến 10. Rút ngẫu nhiên một chiếc thẻ từ trong hộp, ghi lại số của thẻ rút được và bỏ lại thẻ đó vào hộp. Sau 25 lần rút thẻ liên tiếp, nhận thấy có 4 lần lấy được thẻ đánh số 6. Xác suất thực nghiệm xuất hiện thẻ đánh số 6 là:

- A. $\frac{1}{10}$ B. $\frac{4}{25}$ C. $\frac{6}{25}$ D. $\frac{1}{25}$

Câu 9: Cho hình vẽ:

Khẳng định nào sau đây là đúng?

- A. Hai tia Ax và Bx trùng nhau.
 B. Hai tia AC và Cy đối nhau.
 C. Hai tia Ax và AB trùng nhau.
 D. Hai tia AC và Ay đối nhau.



Câu 10: Trong hình vẽ sau, điểm nào **không** thuộc tia EF?



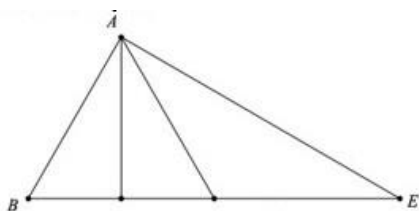
- A. Điểm F B. Điểm D C. Điểm G D. Điểm H

Câu 11: Góc 123° là:

- A. Góc nhọn B. Góc vuông C. Góc tù D. Góc bẹt

Chúc các em học sinh trường THCS Gia Thụy ôn tập và làm bài thật tốt!

Câu 12: Số góc nhọn trong hình dưới đây là:



A.4.

B.7.

C.9.

D. 8.

2. Tự luận

Dạng 1: Thực hiện phép tính

Bài 1: Thực hiện phép tính

$$1) \frac{7}{5} - 1\frac{1}{20} + \frac{3}{4}$$

$$4) 70,2 : 3 - (25,6 - 12,2)$$

$$2) \frac{7}{3} + \frac{5}{7} \cdot \frac{-1}{10}$$

$$5) 30\% - \left(2\frac{3}{4} - 3,25 \right) : \frac{5}{2}$$

$$3) \frac{-5}{2} : \left(\frac{3}{4} - \frac{1}{2} \right)$$

$$6) \left(0,6 - \frac{4}{9} \cdot 75\% \right) : \frac{8}{15}$$

Bài 2: Tính hợp lý

$$1) (-12,5) + 17,55 + (-3,5) - (-2,45)$$

$$4) \frac{22}{5} \cdot \frac{4}{13} + \frac{22}{5} \cdot \frac{9}{13} - 2,4$$

$$2) \frac{3}{5} - \frac{5}{20} + \frac{30}{75} + \frac{-7}{4}$$

$$5) 7,35 : \frac{11}{4} - 5,35 : \frac{11}{4} - \frac{8}{55}$$

$$3) \frac{3}{7} + \frac{2}{5} - \left(\frac{9}{16} + 0,4 \right) + \frac{4}{7}$$

$$6) (-3,58) \cdot 24,45 + (-3,58) \cdot 75,55$$

Dạng 2: Tìm x

Bài 3: Tìm x

$$1) x - \frac{5}{3} = \frac{25}{3} \cdot \frac{9}{5}$$

$$4) \left(x + \frac{2}{3} \right) : \frac{3}{4} - \frac{1}{4} = 40\%$$

$$2) \frac{1}{5} + \frac{5}{3} \cdot x = 50\%$$

$$5) \left(\frac{1}{2} + 2x \right) (2x - 3) = 0$$

$$3) 2\frac{1}{3}x - 12,4 = 1,6$$

$$6) x + 30\%x = -1,3$$

Dạng 3: Toán có lời văn

Bài 4: Chị Mai đi siêu thị mua hoa quả, sữa, bánh kẹo và rau hết tất cả 600 nghìn đồng.

a) Biết số tiền mua hoa quả chiếm $\frac{1}{5}$ tổng số tiền. Tính số tiền mua hoa quả.

b) Tính số tiền mua sữa, biết số tiền mua hoa quả và sữa bằng 0,6 tổng số tiền.

c) Biết số tiền mua sữa bằng 120% số tiền mua bánh kẹo. Tính tỉ số của số tiền mua bánh kẹo và số tiền mua rau.

Chúc các em học sinh trường THCS Gia Thụy ôn tập và làm bài thật tốt!

Bài 5: Bác Hoa thu hoạch được 120kg Thanh long. Ngày thứ nhất bác Hoa đã bán được $\frac{3}{5}$ số Thanh long mà bác đã thu hoạch được, ngày thứ hai bán được 25% số Thanh long mà bác đã bán được trong ngày đầu.

- Tính khối lượng Thanh long bác Hoa bán trong ngày thứ nhất, ngày thứ hai.
- Biết $\frac{6}{5}$ số Thanh long bán được trong ngày thứ ba là 18kg. Hỏi sau ba ngày đầu đi bán, bác Hoa còn lại bao nhiêu kilogam Thanh long?
- Hỏi số tiền bác Hoa đã thu được sau khi bán Thanh long trong ba ngày đầu, biết giá mỗi kg Thanh long là 15 000 đồng?

Bài 6: Biểu đồ tranh dưới đây thống kê số tivi bán được trong 5 năm: 2016, 2017, 2018, 2019, 2020 của siêu thị điện máy A.



- Năm nào siêu thị bán được nhiều tivi nhất? Năm nào siêu thị bán được ít tivi nhất?
- Tính tỉ số phần trăm số lượng tivi bán được trong năm 2019 và tổng số tivi bán được trong cả 5 năm (làm tròn kết quả đến hàng đơn vị).

Bài 7: Một hộp đựng 1 quả bóng xanh, 1 quả bóng đỏ, 1 quả bóng vàng (các quả bóng có kích thước và khối lượng như nhau). Mỗi lần bạn Hiếu lấy ngẫu nhiên một quả bóng trong hộp và ghi lại màu của quả bóng, sau đó lại bỏ bóng vào hộp. Sau 20 lần liên tiếp lấy bóng, có 5 lần xuất hiện màu đỏ, 7 lần xuất hiện màu vàng. Tính xác suất thực nghiệm xuất hiện màu xanh.

Bài 8: Gieo 1 con xúc xắc cân đối đồng chất 30 lần được kết quả thu ở bảng sau:

Mặt	1 chấm	2 chấm	3 chấm	4 chấm	5 chấm	6 chấm
Số chấm xuất hiện	5	6	4	8	3	4

- Tính xác suất thực nghiệm xuất hiện mặt 1 chấm.
- Tính xác suất thực nghiệm xuất hiện mặt có số chấm là số lẻ.
- Tính xác suất thực nghiệm xuất hiện mặt có số chấm lớn hơn 4.

Dạng 4: Hình học

Bài 9: Vẽ hình theo yêu cầu sau:

- Vẽ $xOy = 70^\circ$

Chúc các em học sinh trường THCS Gia Thụy ôn tập và làm bài thật tốt!

- Trên tia Ox lấy điểm A sao cho $OA = 3\text{cm}$, trên tia Oy lấy điểm B sao cho $OB = 5\text{cm}$. Vẽ đoạn thẳng AB.

- Lấy M là trung điểm của đoạn thẳng OB. Trên tia đối của tia Ox lấy điểm C sao cho O là trung điểm của đoạn thẳng AC.

- Xác định vị trí của điểm H trên đoạn thẳng AB sao cho C, M, H thẳng hàng.

Bài 10: Vẽ $mOn = 120^\circ$. Trên tia Om lấy hai điểm A và B sao cho $OA = 2\text{cm}$, $OB = 4\text{cm}$.

a) Tính độ dài đoạn thẳng AB.

b) Chứng tỏ rằng A là trung điểm của đoạn thẳng OB.

Dạng 5: Nâng cao

Bài 11: Cho $C = \frac{4}{3.5} + \frac{4}{5.7} + \dots + \frac{4}{97.99}$ và $D = \frac{18}{2.5} + \frac{18}{5.8} + \dots + \frac{18}{203.206}$. Tính $\frac{C}{D}$.

Bài 12: Tính tỉ số $\frac{A}{B}$ biết: $A = \frac{1}{1.300} + \frac{1}{2.301} + \frac{1}{3.302} + \dots + \frac{1}{101.400}$ và

$$B = \frac{1}{1.102} + \frac{1}{2.103} + \frac{1}{3.104} + \dots + \frac{1}{299.400}$$

Bài 13: Cho $S = \frac{1}{3} - \frac{2}{3^2} + \frac{3}{3^3} - \frac{4}{3^4} + \dots + \frac{99}{3^{99}} - \frac{100}{3^{100}}$. So sánh S và $\frac{1}{5}$.

Bài 14: Chứng tỏ rằng: $\frac{1}{2^2} + \frac{1}{3^2} + \frac{1}{4^2} + \dots + \frac{1}{100^2} < \frac{3}{4}$

Bài 15: Các nan quạt giấy cho ta hình ảnh về các tia chung gốc O. Với chiếc quạt giấy có 25 nan thì số các góc đỉnh O là bao nhiêu?



----- Chúc con ôn tập tốt! -----

Chúc các em học sinh trường THCS Gia Thụy ôn tập và làm bài thật tốt!

TRƯỜNG THCS GIA THUY
TỔ XÃ HỘI

ĐỀ CƯƠNG ÔN TẬP KIỂM TRA HỌC KÌ II
Môn: Ngữ văn – Khối 6
Năm học: 2023 – 2024

I. NỘI DUNG ÔN TẬP:

1. Phần văn bản:

- Truyện truyền thuyết: Thánh Gióng, Sơn Tinh, Thủy Tinh...
- Truyện cổ tích: Cây khế, Thạch Sanh...
- Văn bản nghị luận: Xem người ta kìa; Hai loại khác biệt...
- Văn bản thông tin: Trái đất - Cái nôi của sự sống; Các loài sống chung với nhau như thế nào?

*** Yêu cầu chung:**

- Nêu được kiến thức cơ bản: thể loại, phương thức biểu đạt, ngôi kể....
- Cảm thụ một số chi tiết hay và đặc sắc.

2. Phần Tiếng Việt:

- Từ ghép, từ láy
- Nghĩa của từ
- Cụm từ
- Các biện pháp tu từ: so sánh, nhân hoá, ẩn dụ, điệp ngữ, hoán dụ.
- Trạng ngữ
- Lựa chọn từ ngữ, lựa chọn cấu trúc câu

*** Yêu cầu chung:**

- Nắm được khái niệm.
- Tìm và nêu được tác dụng của biện pháp tu từ.
- Giải nghĩa từ, đặt câu

3. Phần Tập làm văn:

- Văn tự sự
- Văn nghị luận

*** Yêu cầu chung:**

- Nắm được dạng bài và có kỹ năng làm bài.
- Vận dụng các kỹ năng để viết đoạn văn.

II. MỘT SỐ DẠNG BÀI TẬP:

DẠNG 1.

Đọc văn bản sau:

Công nghệ càng trở nên ưu việt sau khi đón tiếp sự ra đời của những chiếc điện thoại thông minh, hay còn gọi là smartphone. Vậy nên điện thoại thì thông minh nhưng người dùng nó, đặc biệt là người trẻ đã thực sự “thông minh”?

Theo một bài báo đưa tin về báo cáo mới nhất từ công ty chuyên nghiên cứu thị trường SuperAwesome (Anh), trẻ em từ 6-14 tuổi ở khu vực Đông Nam Á đang dẫn đầu thế giới về tỉ lệ sử dụng smartphone, cao hơn 20% so với một cường quốc công nghệ như Mỹ.

Trong thời đại công nghệ lên ngôi như hiện nay, smartphone mang tính cá nhân hóa rất lớn, kết nối internet dễ dàng, linh động và có thể sử dụng liên tục mọi lúc mọi nơi. Chúng ta dễ bắt gặp những hình ảnh giới trẻ cặm cụi vào chiếc smartphone, từ đi học đến đi chơi, vào quán cà phê, siêu thị... và thậm chí là chờ đèn đỏ hay đi bộ qua đường.

Cũng vì smartphone quá vượt trội nên chính nó cũng gây ra không ít “tác dụng phụ”. Nghiện selfie, nghiện đăng status, nghiện trở thành “anh hùng bàn phím”... khiến giới trẻ mất dần sự tương tác giữa người với người. Thật đáng buồn khi nhìn thấy trẻ em không còn thích thú với những món đồ chơi siêu nhân, búp bê, những trò chơi ngoài trời

Chúc các em học sinh trường THCS Gia Thuy ôn tập và làm bài thật tốt!

I. CONTENTS

1. Phonetics:

a. **Pronunciation:** sounds /θ/, /ð/, /æ/, /e/, /ɑʊ/, /əʊ/

b. **Stress:** 2-syllable words

2. **Vocabulary:** related to the topics: television, sports and games, cities of the world, our houses in the future.

3. Grammar

a. **Tenses:** the present simple, the present continuous, the past simple, the future simple

b. Structures:

- Wh-question words

-conjunctions: and, but, so

-imperatives

-possessive pronouns, possessive adjectives

-prepositions

-modal verb: might (not)

II. EXERCISES

WRITTEN TEST

A. Listening

Listen and choose the correct answer

B. Phonetics

I. Choose the word whose underlined part is pronounced differently

II. Choose the word which has the different stress pattern from the others

C. Vocabulary and grammar

I. Choose the best answer

II. Find out the mistake

III. Choose the word which has the CLOSEST meaning to the underlined part

IV. Choose the word which has the OPPOSITE meaning to the underlined part

D. Reading

I. Read the passage and choose the best answer

II. Read the passage and answer the following questions

E. Writing

I. Rewrite the sentences without changing the meaning

II. Reorder the words/ phrases to make meaningful sentences

SPEAKING TEST

Topic 1: Talk about your favorite TV programme

-name of programme

-the channel and time it is on

-the content of it

-the reason(s) you like it

Topic 2: Talk about your favorite sport

-name of the sport

-is it individual or team sport?

-who do you often play with?

Chúc các em học sinh trường THCS Gia Thụy ôn tập và làm bài thật tốt!

-equipment to play it

-reason(s) you like it

Topic 3: Talk about the city you want to visit

-name of the city

-location

-its features (weather, food, people)

-activities you can do there

-reason(s) you like it

Topic 4: Talk about your dream house

-type of house

-location

-surroundings

-number of rooms

-appliances

-your feeling

EXERCISES

A. Phonetics

I. Choose the word whose underlined part is pronounced differently

- | | | | |
|-------------------------|----------------------|-------------------|---------------------|
| 1. A. <u>th</u> ink | B. <u>th</u> an | C. <u>th</u> is | D. <u>th</u> ese |
| 2. A. mara <u>th</u> on | B. any <u>th</u> ing | C. <u>th</u> ere | D. ear <u>th</u> |
| 3. A. <u>h</u> at | B. <u>m</u> ap | C. <u>f</u> ather | D. <u>r</u> acket |
| 4. A. <u>p</u> ost | B. <u>c</u> lose | C. <u>h</u> ome | D. <u>d</u> o |
| 5. A. <u>c</u> lever | B. <u>t</u> ent | C. <u>s</u> end | D. <u>e</u> lectric |

II. Choose the word which has the different stress pattern from the others

- | | | | |
|----------------|--------------|-------------|------------|
| 6. A. teacher | B. mother | C. happen | D. alone |
| 7. A. prepare | B. picture | C. mountain | D. solar |
| 8. A. robot | B. village | C. guitar | D. palace |
| 9. A. police | B. housework | C. polite | D. tonight |
| 10. A. raining | B. weather | C. landmark | D. around |

B. Vocabulary and grammar

I. Choose the best answer

11. She usually.....karate.
A. do B. does C. go D. goes
12.draw on the wall.
A. Not B. No C. Don't D. Doesn't
13. This is her book, and that is.....
A. my B. him C. he D. mine
14. Mary likes watching films,she often goes to the movie.
A. but B. and C. so D. or
15. Last week, my father.....a beautiful present.
A. give B. gives C. given D. gave
16. In the future, robots.....us to clean our houses.
A. help B. will help C. helped D. helps
17. I'm not sure where I visit this summer. I.....to Da Lat.
A. will go B. might go C. goes D. went
18. I to music now.
A. am listening B. listen C. listened D. listens

Chúc các em học sinh trường THCS Gia Thụy ôn tập và làm bài thật tốt!

19. He will have a beautiful villa.....the city.
 A. at B. by C. in D. on
20. Theynow.
 A. is singing B. am singing C. are singing D. sing
- 21.....to bed early, son.
 A. Goes B. Go C. Went D. Going
22.does she do? – She is a teacher.
 A. When B. What C. How D. Why

II. Find out the mistake

23. When do you live? – in Ha Noi.
 A B C D
24. My father and I eated a lot of seafood when we were in Quang Ninh.
 A B C D
25. This house belongs to hers, and that is ours.
 A B C D
26. She might goes to the zoo next week.
 A B C D

III. Choose the word which has the CLOSEST meaning to the underlined part

27. Jerry mouse is very clever.
 A. smart B. clumsy C. stupid D. careful
28. Ha Noi is a nice city.
 A. ancient B. old C. busy D. beautiful

IV. Choose the word which has the OPPOSITE meaning to the underlined part

29. She likes outdoor activities.
 A. in house B. indoor C. under water D. at home
30. The street food is cheap.
 A. expensive B. good C. tasty D. delicious

C. Reading

I. Read the passage and choose the best answer

Hoi An is one of the oldest towns (31)..... Viet Nam. It (32) on the lower section of the Thu Bon river. It is a very beautiful town with a lot of colour lanterns, which are hung around the town. Hoi An is famous for one- (33) tailoring. Customers order clothes in the morning and get them in the evening . The price is not really (34) If you want to find the place of the old time, Hoi An is a (35) choice.

31. A. in B. on C. at D. by
32. A. was B. is C. be D. will be
33. A. week B. month C. day D. year
34. A. cheap B. expensive C. cheaper D. more expensive
35. A. bad B. best C. good D. worst

II. Read the passage and answer the following questions

Tokyo is the capital of Japan. In Tokyo, there are always too many people in the place where you want to come.

People are very polite even when they often spend a long time on traffic jams. Tokyo is different from London when you want to walk to a place.

During the day, most people travel to work by train. Tokyo people buy six million train tickets every day. Although they are usually crowded, Japanese trains are very good. They

Chúc các em học sinh trường THCS Gia Thụy ôn tập và làm bài thật tốt!

TRƯỜNG THCS GIA THUY
TỔ TỰ NHIÊN 2

ĐỀ CƯƠNG ÔN TẬP KIỂM TRA HỌC KÌ II
Môn: KHTN – Khối 6
Năm học: 2023 – 2024

I. NỘI DUNG ÔN TẬP.

- Bài 40: Lực là gì?
- Bài 41: Biểu diễn lực.
- Bài 42: Biến dạng của lò xo.
- Bài 43: Trọng lượng, lực hấp dẫn.
- Bài 44: Lực ma sát.
- Bài 45: Lực cản của nước.
- Bài 46: Năng lượng và sự truyền năng lượng.
- Bài 47: Một số dạng năng lượng.

II. MỘT SỐ BÀI TẬP THAM KHẢO.

1. Trắc nghiệm:

a. Tham khảo các bài tập trắc nghiệm trong sách bài tập KHTN6 bài: 40, 41, 42, 43, 44, 45, 46, 47.

b. Tham khảo thêm các bài minh họa sau:

Câu 1: Dụng cụ nào dùng để đo lực?

- A. Cân. B. Lực kế. C. Bình chia độ. D. Thước thẳng.

Câu 2: Khi có một lực tác dụng lên quả bóng đang chuyển động trên sân thì quả bóng sẽ

- A. biến đổi chuyển động.
B. biến dạng.
C. vừa biến đổi chuyển động vừa biến dạng.
D. không có sự thay đổi.

Câu 3: Trường hợp nào vật **không** bị biến dạng khi chịu tác dụng của lực?

- A. Cửa kính bị vỡ khi bị va đập mạnh.
B. Đất xốp khi được cày xới cẩn thận.
C. Cành cây đu đưa khi có gió thổi.
D. Tờ giấy bị nhàu khi ta vò nó lại.

Câu 4: Buộc một khối gỗ lên giá đỡ bằng một sợi dây cao su. Dấu hiệu nào chứng tỏ khối gỗ đã tác dụng đã tác dụng lên sợi dây cao su một lực?

- A. Khối gỗ không rơi.
B. Khối gỗ không bị biến dạng.
C. Dây cao su dãn ra.
D. Khối gỗ bị biến dạng.

Câu 5: Chuyển động nào đã bị biến đổi?

- A. Ô tô khách đang vào bến xe.
B. Máy bay đang bay thẳng với vận tốc không đổi 800 km/h.
C. Chuyển động của đầu kim đồng hồ.
D. Quả bóng đang nằm yên trên mặt đất.

Câu 6: Khi bắn cung, mũi tên nhận được năng lượng và bay đi. Mũi tên có năng lượng ở dạng nào sau đây?

- A. Mũi tên có động năng.
B. Mũi tên có thế năng hấp dẫn.
C. Mũi tên có thế năng đàn hồi.
D. Mũi tên vừa có động năng vừa có thế năng hấp dẫn.

Chúc các em học sinh trường THCS Gia Thuy ôn tập và làm bài thật tốt!

Câu 7: Hoạt động nào xuất hiện lực không tiếp xúc?

- A. Đóng đinh vào tường.
- B. Trái táo rơi xuống đất.
- C. Dùng tay bẻ viên phấn.
- D. Nhân viên đẩy thùng hàng vào kho.

Câu 8: Vật nào có tính chất đàn hồi?

- A. Thỏi đất sét.
- B. Viên gạch.
- C. Sợi dây nhôm.
- D. Sợi dây cao su.

Câu 9: Vì sao mũi tàu, thuyền thường làm nhọn?

- A. Để cho đẹp.
- B. Tăng lực tiếp xúc của nước vào tàu, thuyền.
- C. Để tránh tàu, thuyền bị lật.
- D. Giảm lực cản của nước khiến tàu, thuyền đi nhanh hơn.

Câu 10: Vì sao các vận động viên đua xe đạp thường cúi khom thân người xuống gần như song song với mặt đường?

- A. Tăng lực cản của không khí .
- B. Giảm lực cản của không khí.
- C. Tăng lực ma sát giữa bánh xe và mặt đường.
- D. Giảm lực ma sát giữa bánh xe và mặt đường.

Câu 11: Một khối gỗ có khối lượng là 5kg thì trọng lượng của khối gỗ là

- A. 5N.
- B. 10N.
- C. 50N.
- D. 0,5N.

Câu 12: Hiện tượng nào là kết quả tác dụng của lực hấp dẫn?

- A. Quả bưởi rụng trên cây xuống.
- B. Đầu tàu kéo các toa tàu chuyển động.
- C. Đẩy chiếc tủ gỗ chuyển động trên sàn nhà.
- D. Căng buồm để thuyền chạy trên mặt nước nhanh hơn.

Câu 13: Nước trong ấm được đun sôi là nhờ.

- A. năng lượng từ bếp truyền cho ấm nước làm cho nhiệt độ của ấm nước tăng lên.
- B. năng lượng từ bếp truyền cho môi trường bên ngoài nóng lên.
- C. năng lượng từ không khí truyền cho ấm nước.
- D. tác dụng lực của ấm đặt trên mặt bếp.

Câu 14: Khi xe đang chuyển động, muốn dừng xe lại, người ta dùng phanh để

- A. Tạo ra ma sát trượt giữa má phanh và vành bánh xe để cản trở chuyển động của xe.
- B. Tạo ra ma sát lăn giữa má phanh và vành bánh xe để cản trở chuyển động của xe.
- C. Tạo ra ma sát nghỉ giữa má phanh và vành bánh xe để cản trở chuyển động của xe.
- D. Tăng mức quán tính của xe làm xe dừng lại nhanh hơn.

Câu 15: Kết luận nào sai khi nói về trọng lượng của vật?

- A. Trọng lượng là độ lớn lực hút của Trái Đất tác dụng lên một vật.
- B. Trọng lượng của vật tỉ lệ với khối lượng của vật.
- C. Có thể xác định trọng lượng của vật bằng lực kế.
- D. Trọng lượng của vật tỉ lệ với thể tích vật.

Chúc các em học sinh trường THCS Gia Thụy ôn tập và làm bài thật tốt!

2. Tự luận:**a. Tham khảo các bài tập trong sách bài tập KHTN6 bài: 40, 41, 42, 43, 44, 45, 46, 47.****b. Tham khảo thêm các bài minh họa sau:****Câu 1:** Gọi tên dạng năng lượng chính được sử dụng trong mỗi tình huống sau đây:

- Bạn học sinh đang đọc sách dưới sân trường.
- Em bé đang chơi cầu trượt trong công viên.
- Bật máy vi tính để thực hành trong giờ Tin học.

Câu 2: Biểu diễn các lực sau (tỉ xích tùy chọn):

- Lực kéo tác dụng lên khối gỗ có phương nằm ngang, chiều từ trái sang phải, độ lớn 20N.
- Lực hấp dẫn 10N tác dụng lên viên gạch đặt trên mặt đất.
- Trọng lực tác dụng lên cái tủ nặng 25kg.

Câu 3: Dựa vào kiến thức về lực ma sát đã học để giải thích các trường hợp sau:

- Lốp ô tô có khía rãnh.
- Sàn đá hoa mới lau dễ bị ngã.
- Đệm thêm lớp vải vào nút chai khi mở.
- Ô tô đi vào bùn lầy, bác tài xế càng nhấn ga bánh xe càng quay tít.
- Đế giày thể thao của cầu thủ đá bóng thường có nhiều đinh nhọn.
- Bác thợ sửa xe bôi thêm dầu mỡ vào xích xe đạp.
- Đế giày đi lâu bị mòn.
- Lắp thêm bánh xe vào thùng hàng nặng.

Câu 4: Treo một quả nặng có khối lượng 50g vào một lò xo thì thấy lò xo giãn thêm 1,5cm. Hỏi nếu treo quả nặng 150g vào lò xo thì lò xo giãn thêm bao nhiêu cm?

----- HẾT -----

TRƯỜNG THCS GIA THUY
TỔ XÃ HỘI

ĐỀ CƯƠNG ÔN TẬP KIỂM TRA HỌC KÌ II
Môn: Lịch sử & Địa lí (Phân môn Lịch sử) – Khối 6
Năm học: 2023 – 2024

I. NỘI DUNG ÔN TẬP:

Bài 14: Nhà nước Văn Lang – Âu Lạc.

Bài 15: Chính sách cai trị của các triều đại phong kiến phương Bắc và sự chuyển biến của xã hội Âu Lạc.

Bài 16: Các cuộc khởi nghĩa tiêu biểu giành độc lập trước thế kỉ X.

Bài 17: Cuộc đấu tranh bảo tồn và phát triển văn hóa dân tộc của người Việt.

Bài 18: Bước ngoặt lịch sử đầu thế X.

Bài 19: Vương quốc Chăm – pa từ thế kỉ II đến thế kỉ X.

II. MỘT SỐ DẠNG BÀI TẬP (CÂU HỎI) THAM KHẢO:

A. Bài tập trắc nghiệm

Câu 1: Lãnh thổ chủ yếu của nước Văn Lang, Âu Lạc thuộc khu vực nào của Việt Nam hiện nay?

A. Bắc Bộ và Nam Trung Bộ.

B. Bắc Bộ và Bắc Trung Bộ.

C. Bắc Trung Bộ và Nam Bộ.

D. Nam Bộ và Nam Trung Bộ.

Câu 2: Từ đầu Công nguyên, các triều đại phong kiến phương Bắc mở trường dạy chữ Hán tại các

A. quận.

B. huyện.

C. làng.

D. xã.

Câu 3: Sự ra đời nhà nước Vạn Xuân gắn với thắng lợi cuộc khởi nghĩa nào?

A. Khởi nghĩa Lý Bí.

B. Khởi nghĩa Hai Bà Trưng.

C. Khởi nghĩa Bà Triệu.

D. Khởi nghĩa Phùng Hưng.

Câu 4: Cuộc khởi nghĩa Mai Thúc Loan (713 – 722) đã

A. mở ra thời kì độc lập, tự chủ lâu dài trong lịch sử dân tộc Việt Nam.

B. mở ra thời kì đấu tranh giành độc lập, tự chủ của người Việt.

C. làm rung chuyển chính quyền đô hộ của nhà Ngô.

D. giành và giữ được chính quyền độc lập trong khoảng gần 10 năm.

Câu 5: Địa danh gắn liền với cuộc kháng chiến theo chiến thuật du kích của Triệu Quang Phục chống quân Lương là

A. động Khuất Lão.

B. thành Long Biên.

C. đầm Dạ Trạch.

D. cửa sông Tô Lịch.

Câu 6: Khi du nhập vào Việt Nam, tết Trung thu (rằm tháng 8 hằng năm) mang ý nghĩa là

A. tết báo hiếu.

B. tết diệt sâu bọ.

C. tết đoàn viên.

D. tết thiếu nhi.

Câu 7: Điểm nổi bật của tình hình văn hóa nước thời Bắc thuộc là gì?

A. Văn hóa Hán không ảnh hưởng nhiều đến nước ta.

B. Nhân dân ta tiếp thu văn hóa Trung Quốc một cách triệt để.

C. Tiếp thu có chọn lọc văn hóa Trung Hoa để phát triển văn hóa dân tộc.

D. Bảo tồn phong tục, tập quán của dân tộc.

Câu 8: Tôn giáo nào **không** được các triều đại phong kiến phương Bắc truyền vào nước ta?

A. Phật giáo.

B. Thiên chúa giáo.

C. Nho giáo.

D. Đạo giáo.

Câu 9: Ngô Quyền đã chủ động lên kế hoạch chống quân Nam Hán ở

A. thành Đại La.

B. vùng đầm Dạ Trạch.

C. cửa sông Bạch Đằng.

D. cửa sông Tô Lịch.

Chúc các em học sinh trường THCS Gia Thụy ôn tập và làm bài thật tốt!

Câu 10: Năm 938, tướng nào của phương Bắc đã đem quân sang xâm lược nước ta?

A. Tần Thủy Hoàng. B. Hoàng Tháo. C. Lý Uyên. D. Lưu Bang.

Câu 11: Ai là người tự xưng là Tiết độ sứ năm 905?

A. Khúc Hạo. B. Dương Đình Nghệ. C. Khúc Thừa Dụ. D. Ngô Quyền.

Câu 12: Chiến thắng Bạch Đằng năm 938 đã chấm dứt thời kì Bắc thuộc, mở ra thời kì

A. tự do, tự chủ lâu dài của dân tộc. B. độc lập, tự chủ trong thời gian ngắn.

C. đấu tranh giành quyền độc lập tự chủ. D. độc lập, tự chủ lâu dài của dân tộc.

Câu 13: Vương quốc Chăm-pa được hình thành vào thời gian nào?

A. Năm 190. B. Năm 191. C. Năm 192. D. Năm 193.

Câu 14: Vương quốc Chăm-pa hình thành trên cơ sở của nền Văn hóa

A. Óc Eo. B. Đông Sơn. C. Sa Huỳnh. D. Hòa Bình.

Câu 15: Từ thế kỉ IV, người Chăm đã cải biến chữ viết của người Ấn Độ để tạo thành hệ thống chữ

A. Mã-lai cổ. B. Khơ-me cổ. C. Chăm cổ. D. Môn cổ.

B. Bài tập tự luận

Câu 1: Trình bày nguyên nhân, kết quả, ý nghĩa cuộc khởi nghĩa Mai Thúc Loan và khởi nghĩa Phùng Hưng.

Câu 2: Theo em, những phong tục tập quán nào của người Việt từ thời Bắc thuộc còn được giữ gìn, bảo lưu đến ngày nay?

Câu 3:

a, Tại sao Ngô Quyền chọn sông Bạch Đằng làm trận địa chống quân Nam Hán?

b, Đánh giá công lao của Ngô Quyền đối với lịch sử dân tộc?

TRƯỜNG THCS GIA THUY
TỔ XÃ HỘI

ĐỀ CƯƠNG ÔN TẬP KIỂM TRA HỌC KÌ II
Môn: Lịch sử & Địa lí (Phân môn Địa lí) – Khối 6
Năm học: 2023 – 2024

I. NỘI DUNG ÔN TẬP

Bài 20: Sông và hồ. Nước ngầm và băng hà.

Bài 21: Biển và đại dương.

Bài 22: Lớp đất trên Trái Đất.

Bài 23: Sự sống trên Trái Đất.

II. MỘT SỐ CÂU HỎI THAM KHẢO

A. Trắc nghiệm

Chọn ý đúng nhất trong mỗi câu sau:

Câu 1. Thủy chế của một con sông là

- A. nhịp điệu thay đổi lưu lượng của con sông trong một năm.
- B. sự lên xuống của nước sông do sức hút Trái Đất - Mặt Trời.
- C. khả năng chứa nước của con sông đó trong cùng một năm.
- D. lượng nước chảy qua mặt cắt dọc lòng sông ở một địa điểm.

Câu 2. Hồ và sông ngòi **không** có giá trị nào sau đây?

- A. Thủy sản.
- B. Giao thông.
- C. Du lịch.
- D. Khoáng sản.

Câu 3. Ở miền ôn đới nguồn cung cấp nước cho sông chủ yếu là do

- A. nước mưa.
- B. nước ngầm.
- C. băng tuyết.
- D. nước ao, hồ.

Câu 4. Ở vùng ôn đới, sông thường có lũ lụt vào mùa nào sau đây?

- A. Mùa hạ.
- B. Mùa xuân.
- C. Mùa thu.
- D. Mùa đông.

Câu 5. Các hồ có nguồn gốc từ băng hà có đặc điểm nào sau đây?

- A. Mặt nước đóng băng quanh năm, nhiều hình thù, rất sâu.
- B. Thường sâu, có nhiều hình thù và thủy hải sản phong phú.
- C. Chỉ xuất hiện ở những vùng vĩ độ cao hoặc vùng núi cao.
- D. Nguồn cung cấp nước đa dạng, chảy trực tiếp ra đại dương.

Câu 6. Động vật nào sau đây thường ngủ vào mùa đông?

- A. Cá voi.
- B. Gấu trắng.
- C. Cá tra.
- D. Chó sói.

Câu 7. Dòng biển nào sau đây là dòng biển lạnh?

- A. Dòng biển Bra-xin.
- B. Dòng biển Gon-xtrim.
- C. Dòng biển Pê – ru.
- D. Dòng biển Bắc Đại Tây Dương.

Chúc các em học sinh trường THCS Gia Thuy ôn tập và làm bài thật tốt!

Câu 8. Hình thức dao động tại chỗ của nước biển và đại dương gọi là

- A. sóng biển.
- B. dòng biển.
- C. thủy triều.
- D. triều cường.

Câu 9. Sức hút của Mặt Trời và Mặt Trăng là nguyên nhân chủ yếu hình thành hiện tượng tự nhiên nào sau đây?

- A. Dòng biển.
- B. Sóng ngầm.
- C. Sóng biển.
- D. Thủy triều.

Câu 10. Nguyên nhân chủ yếu gây ra sóng thần là do

- A. bão, lốc xoáy trên các đại dương.
- B. chuyển động của dòng khí xoáy.
- C. sự thay đổi áp suất của khí quyển.
- D. động đất ngầm dưới đáy biển.

Câu 11. Nguồn gốc sinh ra thành phần khoáng trong đất là

- A. khí hậu.
- B. địa hình.
- C. đá mẹ.
- D. sinh vật.

Câu 12. Các thành phần chính của lớp đất là

- A. không khí, nước, chất hữu cơ và vô cơ.
- B. cơ giới, không khí, chất vô cơ và mùn.
- C. chất hữu cơ, nước, không khí và sinh vật.
- D. nước, không khí, chất hữu cơ và độ phì.

Câu 13. Nguồn gốc sinh ra thành phần hữu cơ trong đất là

- A. sinh vật.
- B. đá mẹ.
- C. địa hình.
- D. khí hậu.

Câu 14. Ở nước ta, các loài cây sù, vẹt, được phát triển và phân bố trên loại đất nào sau đây?

- A. Đất phù sa ngọt.
- B. Đất feralit đồi núi.
- C. Đất chua phèn.
- D. Đất mặn.

Câu 15. Loại đất nào sau đây thường được dùng để trồng cây lúa nước?

- A. Đất phù sa.
- B. Đất đỏ badan.
- C. Đất feralit.
- D. Đất đen, xám.

B. Tự luận:

Câu 1: Trình bày sự đa dạng của sinh vật trên lục địa và dưới đại dương?

Câu 2: Nêu một số ví dụ cho thấy thủy triều, sóng, dòng biển có ảnh hưởng lớn đến hoạt động sản xuất kinh tế của người dân ven biển?

Câu 3: Có nhiều loài sinh vật đang đứng trước nguy cơ tuyệt chủng. Hãy nêu một số biện pháp bảo vệ các loài đó.

Chúc các em học sinh trường THCS Gia Thụy ôn tập và làm bài thật tốt!

- Câu 7:** Quyền nào dưới đây thuộc nhóm quyền tham gia của trẻ em?
- Trẻ em được bảo vệ, chống lại việc bóc lột, xâm hại.
 - Trẻ em có năng khiếu múa hát được học ở các trường nghệ thuật.
 - Trẻ em được có quyền được bày tỏ ý kiến, quan điểm cá nhân.
 - Trẻ em được tiêm phòng vacvin theo qui định của Nhà nước.
- Câu 8:** Bố mẹ D rất quan tâm đến chuyện học hành của bạn. Ngoài những giờ học trên lớp, bố mẹ thường thuê gia sư để củng cố kiến thức cho D. Nhưng D không muốn học, em thường trốn học để đi lang thang ở những quán điện tử... Nếu là bạn của D thì em khuyên bạn như thế nào?
- Không nói gì cả, vì mỗi người có suy nghĩ, lựa chọn riêng
 - Đây là việc của gia đình bạn, nên mình không nên xen vào.
 - Đồng ý với việc làm của bạn, vì bố mẹ bắt học quá nhiều.
 - Bạn nên cố gắng hơn trong học tập để phát triển bản thân.
- Câu 9:** Loại giấy tờ nào đủ chứng minh em là công dân nước CHXHCN Việt Nam?
- Căn cước công dân
 - Giấy sử dụng đất
 - Giấy nhập học
 - Giấy báo điểm
- Câu 10:** Khi M học hết tiểu học, thì bố quyết định cho M nghỉ học để phụ giúp mẹ bán hàng vì nhà M rất nghèo. Khi các cô bác ở hội phụ nữ phường đến động viên cho M được đi học, thì bố M cho rằng: bố mẹ có quyền quyết định việc học của con cái. Em có suy nghĩ gì về hành động của bố M trong tình huống này?
- Có thể thông cảm cho hành động của bố M.
 - Đồng ý, vì bố mẹ có quyền quyết định mọi việc.
 - Hành động của bố M là sai, vi phạm quyền trẻ em.
 - M nên nghe theo lời bố mẹ mới là đứa con có hiếu.
- Câu 11:** Những quyền được sống và đáp ứng các nhu cầu cơ bản để tồn tại thuộc nhóm quyền
- sống còn của trẻ em.
 - bảo vệ của trẻ em.
 - phát triển của trẻ em.
 - tham gia của trẻ em.
- Câu 12:** Biểu hiện nào sau đây trái với tiết kiệm?
- Lãng phí của công
 - Chặt chẽ chi tiêu
 - Làm việc khoa học
 - Bảo quản của công
- Câu 13:** Trường hợp nào là không phải là công dân Việt Nam?
- Trẻ em bị bỏ rơi ở Việt Nam.
 - Trẻ em mồ côi cha mẹ ở Việt Nam.
 - Trẻ là con nuôi có bố mẹ nuôi là công dân Việt Nam.
 - Trẻ em theo cha mẹ đến Việt Nam du lịch
- Câu 14:** Hành động nào sau đây **không** thể hiện sự tiết kiệm:
- Tiết kiệm tiền để mua sách.
 - Tận dụng nước đã sử dụng để tưới cây.
 - Dùng thời gian rảnh để đọc sách
 - Bật đèn sáng khắp nhà cho đẹp.
- Câu 15:** Khi đang trên đường đi học về, hai bạn T và H gặp cơn mưa dông lớn, sấm sét ầm ầm. H giục T mặc áo mưa và chạy thật nhanh về nhà. Trong trường hợp này, nếu là T em sẽ làm như thế nào?
- Rủ H cùng mình tìm nơi trú ẩn an toàn.
 - Mặc áo mưa và chạy thật nhanh về nhà.
 - Tìm gốc cây to có tán rộng trú tạm đã.
 - Không mặc áo mưa nữa để chạy cho nhanh.

Chúc các em học sinh trường THCS Gia Thụy ôn tập và làm bài thật tốt!

- Câu 16:** Trường hợp nào dưới đây là công dân nước cộng hòa xã hội chủ nghĩa Việt Nam?
A. Bố mẹ H là người Nga đến Việt Nam làm ăn sinh sống.
B. Trẻ sơ sinh bị bỏ rơi ở Việt Nam mà không rõ cha mẹ là ai.
C. Con của bà Z có quốc tịch Mỹ sống ở Việt Nam, bố chưa rõ là ai.
D. Ông X là chuyên gia nước ngoài làm việc lâu năm tại Việt Nam.
- Câu 17:** Trường THCS X, tổ chức các hoạt động thể dục thể thao, văn hóa, văn nghệ thu hút đông đảo các bạn học sinh tham gia vào những dịp chào mừng kỉ niệm các ngày lễ lớn. Các hoạt động học sinh được tham gia đó nói đến nhóm quyền nào?
A. Nhóm quyền sống còn. **B.** Nhóm quyền phát triển.
C. Nhóm quyền tham gia. **D.** Nhóm quyền bảo vệ.
- Câu 18:** Căn cứ để xác định công dân của một nước là dựa vào
A. chức vụ. **B.** Quốc tịch. **C.** tiền bạc. **D.** địa vị
- Câu 19:** Những quyền nhằm bảo vệ trẻ em khỏi mọi hình thức phân biệt đối xử, bị bỏ rơi, bị bóc lột, xâm hại thuộc nhóm quyền
A. bảo vệ của trẻ em. **B.** sống còn của trẻ em.
C. phát triển của trẻ em. **D.** tham gia của trẻ em.
- Câu 20:** Trách nhiệm của nhà trường khi thực hiện quyền trẻ em là
A. từ chối trẻ em chậm tiến. **B.** khai sinh cho trẻ em.
C. tạo môi trường học tập an toàn. **D.** nhận đỡ đầu trẻ em.

Dạng 2: Tự luận

Câu 1: Andy có bố là người Việt Nam, mẹ là người Mỹ. Andy mang quốc tịch Mỹ như mẹ. Nghỉ hè năm Andy 20 tuổi, Andy cùng bố mẹ về Việt Nam thăm ông bà nội. Đúng dịp ở quê nội đang chuẩn bị bầu cử đại biểu Quốc hội và đại biểu Hội đồng nhân dân. Andy băn khoăn không biết mình có được tham gia bầu cử hay không.

? Theo em, Andy có quyền tham gia bầu cử đại biểu Hội đồng nhân dân ở quê nội không? Vì sao?

Câu 2: A là học sinh khá, ngoài giờ học ở trường, A thường tự học và dành thời gian làm việc nhà giúp bố mẹ. Theo em, A đã thực hiện tốt những quyền và nghĩa vụ nào của một người công dân? Nêu 3 việc làm em đã thực hiện tốt những quyền và nghĩa vụ của một người công dân?

Câu 3: Công dân là gì? Căn cứ vào đâu để xác định công dân của một nước? Hãy nêu 2 điều kiện để trở thành công dân Việt Nam?

Câu 4: Em hãy nêu nội dung 2 nhóm quyền mà em đã học trong bài quyền trẻ em đã được học và lấy ví dụ của bản thân mình đã được hưởng 2 nhóm quyền đó?

Câu 5: Trong giờ ra chơi, bạn N nhặt được quyền sổ lưu bút của một bạn nào đó đánh rơi. N rất tò mò nên đã mở ra xem trong đó viết những gì. Việc làm của N đã vi phạm quyền cơ bản nào của công dân? Vì sao?

Câu 6: Bố mẹ lo sợ bị bạn xấu lôi kéo rủ rê nên đã kiểm soát bạn H rất chặt chẽ. Hàng ngày, bố mẹ luôn tự đưa đón H đi học dù nhà gần trường. Bố mẹ còn không cho H tham gia bất cứ hoạt động ngoại khoá nào do lớp hoặc trường tổ chức. Thậm chí có lần, H còn bắt gặp mẹ đang đọc nhật kí của mình. H rất buồn nhưng chỉ im lặng không dám nói gì.

- a. Em có nhận xét gì về suy nghĩ và hành động im lặng của H trong trường hợp trên?
b. Nếu em là H, em sẽ làm gì để bảo vệ các quyền cơ bản của mình?

Chúc các em học sinh trường THCS Gia Thụy ôn tập và làm bài thật tốt!

TRƯỜNG THCS GIA THUY
TỔ TỰ NHIÊN 1

ĐỀ CƯƠNG ÔN TẬP KIỂM TRA HỌC KÌ II
Môn: Tin học – Khối 6
Năm học: 2023 – 2024

I. PHẠM VI ÔN TẬP:

- Bài 11: Định dạng văn bản
- Bài 12: Trình bày thông tin dưới dạng bảng
- Bài 13: Tìm kiếm và thay thế

II. NỘI DUNG ÔN TẬP

A. Lý thuyết:

Câu 1: Trình bày các bước chọn hướng trang và in văn bản trong Word.

Câu 2: Nêu ưu điểm của việc trình bày dữ liệu dưới dạng bảng? Trình bày 2 cách tạo bảng trong Word.

Câu 3: Trình bày các bước thêm hàng và cột trong bảng.

Câu 4: Trình bày các bước tìm kiếm và thay thế văn bản trong Word.

B. Bài tập:

1. Bài tập trắc nghiệm:

- Xem lại các bài tập trắc nghiệm trong sách bài tập Tin 6 (từ bài 11 đến bài 13).

2. Tham khảo thêm một số bài tập sau:

- Bài 12.6, 12.8, 13.4, 13.8 (SBT)

Chúc các em học sinh trường THCS Gia Thuy ôn tập và làm bài thật tốt!

- C. Không dùng tay che van thoát hơi của nồi cơm điện khi đang nấu.
- D. Không mở nắp nồi để kiểm tra cơm khi đang nấu.

Câu 10. Khi hoạt động, bộ phận nào của đèn LED phát ra ánh sáng?

- A. Vỏ bóng.
- B. Đuôi đèn.
- C. Bảng mạch LED.
- D. Vỏ bóng và đuôi đèn.

2. TỰ LUẬN:

Câu 1. Đồ dùng điện trong gia đình là gì? Kể tên một số đồ dùng điện trong gia đình và nêu công dụng của chúng.

Câu 2. Em hiểu thế nào là điện áp định mức, công suất định mức? Cho biết ý nghĩa của thông số kỹ thuật trên đồ dùng điện.

Câu 3. Làm thế nào để sử dụng đồ dùng điện trong gia đình an toàn, hiệu quả?

Câu 4. Nêu cấu tạo, nguyên lí làm việc của bóng đèn sợi đốt, bóng đèn huỳnh quang, bóng đèn compact và bóng đèn LED búp.

Câu 5. Trình bày cấu tạo và mô tả nguyên lí hoạt động của nồi cơm điện.

----- *HẾT* -----

TRƯỜNG THCS GIA THUY
TỔ XÃ HỘI

ĐỀ CƯƠNG ÔN TẬP KIỂM TRA HỌC KÌ II
Môn: Giáo dục địa phương – Khối 6
Năm học: 2023 – 2024

I. NỘI DUNG ÔN TẬP:

Chủ đề 5: Sản vật Hà Nội.

Chủ đề 6: Các nghề truyền thống góp phần phát triển kinh tế thành phố Hà Nội.

Chủ đề 7: Phong trào “Tương thân tương ái” ở thành phố Hà Nội.

II. MỘT SỐ DẠNG BÀI TẬP (CÂU HỎI) THAM KHẢO:

Câu 1: Em hãy viết một đoạn văn ngắn về cách chế biến hoặc cách ăn, gia vị đi kèm khi thưởng thức một sản vật Hà Nội.

Câu 2: Em hãy vẽ một bức tranh (trên giấy A4) giới thiệu về một làng nghề truyền thống mà em yêu thích.

Câu 3: Em hãy viết một đoạn văn ngắn để vận động bạn bè, người thân cùng tham gia một số phong trào “Tương thân tương ái” ở trường học hoặc nơi em sống.

Chúc các em học sinh trường THCS Gia Thuy ôn tập và làm bài thật tốt!

TRƯỜNG THCS GIA THUY
TỔ NĂNG KHIẾU

ĐỀ CƯƠNG ÔN TẬP KIỂM TRA HỌC KÌ II
Môn: Giáo dục thể chất – Khối 6
Năm học: 2023 – 2024

I. Mục đích

1. Kiến thức:

- Đánh giá quá trình rèn luyện của học sinh về kỹ thuật chạy cự li trung bình.

2. Phát triển năng lực:

- HS phát huy được tính chủ động, tích cực, phát triển năng lực vận động, tư duy động tác và biết vận dụng vào thực tế để tập luyện trên lớp cũng như ở nhà.

3. Phẩm chất:

- Tác phong nhanh nhẹn, có ý thức nghiêm túc trong giờ kiểm tra, biết vận dụng những điều đã học vào thực tế, đảm bảo an toàn trong khi kiểm tra.

II. Đề kiểm tra: Thực hiện kỹ thuật chạy cự li trung bình.

III. Thang điểm:

- **Đạt:** Học sinh thực hiện tốt kỹ thuật chạy cự li trung bình.
- **Chưa đạt:** Học sinh có thái độ kiểm tra chưa nghiêm túc và không thực hiện hiện được kỹ thuật chạy cự li trung bình.

Chúc các em học sinh trường THCS Gia Thuy ôn tập và làm bài thật tốt!

TRƯỜNG THCS GIA THUY
TỔ NĂNG KHIẾU

ĐỀ CƯƠNG ÔN TẬP KIỂM TRA HỌC KÌ II
Môn: Âm nhạc – Khối 6
Năm học: 2023 – 2024

I. Mục tiêu cần đạt

1. Kiến thức:

- Ôn tập toàn bộ các nội dung Hát và Tập đọc nhạc đã học trong học kì I.

2. Kỹ năng:

- Hát đúng lời ca, giai điệu, tiết tấu, thể hiện tốt sắc thái, tình cảm.
- Đọc đúng cao độ, trường độ, gõ đúng phách, thể hiện đúng tính chất nhịp.

3. Thái độ:

- HS có ý thức, nghiêm túc học tập đối với các phân môn của môn học.

4. Phát triển năng lực:

- Hoạt động, hiểu biết, cảm thụ, sáng tạo và ứng dụng âm nhạc.

II. Hình thức ôn tập:

- Thực hiện ôn tập theo PPCT đối với từng phần môn
- Học sinh tự ôn tập tại nhà.

III. Nội dung ôn tập:

1. Bài hát:

- Mùa xuân em tới trường.
- Lá thuyền ước mơ.
- Ước mơ xanh.
- Đi cấy lúa

2. Bài đọc nhạc số 5-6-7-8.

Chúc các em học sinh trường THCS Gia Thuy ôn tập và làm bài thật tốt!

TRƯỜNG THCS GIA THỤY
TỔ NĂNG KHIẾU

ĐỀ CƯƠNG ÔN TẬP KIỂM TRA HỌC KÌ II
Môn: Mĩ thuật – Khối 6
Năm học: 2023 – 2024

I. Mục đích

1. Kiến thức:

Ôn tập toàn bộ các nội dung đã học từ tiết 27 đến tiết 33.

2. Phát triển năng lực:

Năng lực tư duy, năng lực thực hành, năng lực sáng tạo.

3. Phẩm chất:

Biết yêu thương những người thân trong gia đình, thể hiện được tình cảm đối với thầy cô, bạn bè. Biết giữ gìn và phát huy giá trị văn hóa truyền thống.

II. Hình thức ôn tập

Ôn tập tại lớp, tại nhà.

III. Nội dung ôn tập

- Khu nhà tương lai
- Ai Cập cổ đại trong mắt em
- Họa tiết trống đồng
- Thảm trang trí với họa tiết trống đồng.

Tổ Tự nhiên 1

Tổ Tự nhiên 2

Tổ Xã hội

Tổ Năng khiếu

Trần Thị Hải

Nguyễn T Phương Thảo

Trương T Thanh Xuân

Nguyễn T Thu Hương

BAN GIÁM HIỆU

Chúc các em học sinh trường THCS Gia Thụy ôn tập và làm bài thật tốt!