

Họ và tên: Lớp:

I. PHẦN TRẮC NGHIỆM (Tô vào phiếu trả lời chữ cái đứng trước câu trả lời đúng).

Câu 1. Phát biểu nào **sai** về việc tạo được sơ đồ tư duy tốt?

- A. Nên bố trí thông tin đều quanh hình ảnh trung tâm.
- B. Nên dùng các đường kẻ cong thay vì các đường thẳng.
- C. Không nên sử dụng màu sắc trong sơ đồ tư duy vì màu sắc làm người xem mất tập trung vào vấn đề chính.
- D. Các đường kẻ càng ở gần hình ảnh trung tâm thì càng nên tô màu đậm hơn và kích thước dày hơn.

Câu 2. Ta có thể chọn hướng trang đứng hoặc hướng trang ... cho một trang văn bản

- A. dưới.
- B. trên.
- C. ngang
- D. dọc.

Câu 3. Để định dạng trang văn bản, ta dùng lệnh nào sau đây?

- A. Layout => Page setup.
- B. Page Layout => Paragraph.
- C. Home => Paragraph.
- D. Home => Page Setup.

Câu 4. Thao tác sau đây **không** thực hiện được sau khi dùng lệnh File/Print để in văn bản là

- A. nhập số trang cần in.
- B. chọn máy in để in nếu máy tính được cài đặt nhiều máy in.
- C. thay đổi lề của đoạn văn bản.
- D. chọn khổ giấy.

Câu 5. Nội dung của các ô trong bảng có thể chứa

- A. kí tự (chữ, số, kí hiệu,...).
- B. bảng.
- C. bảng, hình ảnh, ký tự.
- D. hình ảnh.

Câu 6. Khi gõ nội dung văn bản, nếu muốn xuống dòng em phải

- A. nhấn phím Enter.
- B. nhấn phím Home.
- C. nhấn phím End.
- D. gõ dấu chấm câu.

Câu 7. Các phần văn bản được phân cách nhau bởi dấu ngắt đoạn gọi là

- A. trang.
- B. đoạn.
- C. dòng.
- D. câu.

Câu 8. Để chèn một bảng có 30 hàng và 10 cột, em sử dụng thao tác nào?

- A. Chọn lệnh Table Tools/Layout, nhập 30 hàng, 10 cột.
- B. Chọn lệnh Insert/Table, kéo thả chuột chọn 30 hàng, 10 cột.
- C. Chọn lệnh Insert/Table/Table Tools, nhập 30 hàng, 10 cột.
- D. Chọn lệnh Insert/Table/Insert Table, nhập 30 hàng, 10 cột.

Câu 9. Phát biểu nào trong các phát biểu sau là **sai**?

- A. Bảng chỉ có thể biểu diễn dữ liệu là những con số.
- B. Bảng giúp trình bày thông tin một cách cô đọng.
- C. Bảng có thể được dùng để ghi lại dữ liệu của công việc thống kê, điều tra, khảo sát,...
- D. Bảng giúp tìm kiếm, so sánh và tổng hợp thông tin một cách dễ dàng hơn.

Câu 10. Tại sao **không** sử dụng màu sắc khi tạo sơ đồ tư duy?

- A. Đẹp.
- B. Không có tác dụng gì.
- C. Để chỉnh sửa dễ hơn.
- D. Kích thích não bộ.

Câu 11. Việc phải làm đầu tiên khi muốn thiết lập định dạng cho một đoạn văn bản là

- A. vào thẻ Home, chọn nhóm lệnh Paragraph.
- B. nhấn phím Enter.
- C. đưa con trỏ soạn thảo vào vị trí bất kì trong đoạn văn bản.
- D. cần phải chọn toàn bộ đoạn văn bản.

Câu 12. Điều **không phải** là chức năng của phần mềm soạn thảo văn bản?

- A. Biên tập và chỉnh sửa nội dung.
- B. Tạo và định dạng văn bản.
- C. Tạo sơ đồ tư duy.
- D. Lưu trữ và in văn bản.

Câu 13. Trong phần mềm soạn thảo văn bản Word, lệnh Portrait dùng để?

- A. Chọn hướng trang đứng.
- B. Chọn lề đoạn văn bản.
- C. Chọn hướng trang ngang.
- D. Chọn lề trang.

Câu 14. Sử dụng lệnh Insert/Table rồi dùng chuột kéo thả để chọn số cột và số hàng thì số cột, số hàng tối đa có thể tạo được là

- A. 8 cột, 10 hàng.
- B. 10 cột, 10 hàng.
- C. 10 cột, 8 hàng.
- D. 8 cột, 8 hàng.

Câu 15. Nút lệnh dùng để lưu văn bản là

- A. Nút .
- B. Nút .
- C. Nút .
- D. Nút .

Câu 16. Một trang văn bản gồm có: Lề trên, ..., lề trái, lề phải

- A. lề trang.
- B. lề ngang.
- C. lề dưới.
- D. lề dọc.

Câu 17. Để in văn bản ta dùng lệnh nào sau đây?

- A. File => Open.
- B. File => Print.
- C. File => Save.
- D. File => New.

Câu 18. Chức năng chính của Microsoft Word là gì?

- A. Soạn thảo văn bản.
- B. Tạo các tệp tin đồ họa.
- C. Tính toán và lập bảng biểu.
- D. Tạo các tệp tin thực thi.

Câu 19. Để sử dụng hộp thoại Font trong Word em chọn lệnh





- A. Insert → Font.
- B. Home → Font.
- C. Page Layout → Font.
- D. File → Font.

Câu 20. Hộp thoại Paragraph nằm trong thẻ nào?





- A. Home.
- B. File.
- C. Insert.
- D. Layout.

II. PHẦN TỰ LUẬN

Câu 21. Hãy điền tác dụng vào cột bên phải tương ứng với nút lệnh ở cột bên trái cho phù hợp
(Điền đáp án vào bảng)

Câu 22. Hãy nối lệnh ở cột bên trái tương ứng với chức năng ở cột bên phải

1. 	a. Khoảng cách giữa các đoạn, các dòng trong đoạn.
2. 	b. Tăng mức thụt lề trái.
3. 	c. Giảm mức thụt lề trái.
4. 	d. In văn bản.

Đáp án:.....1-.....2-.....3-.....4-.....

Câu 23. Vẽ sơ đồ tư duy với chủ đề chính là “động vật”, và 2 chủ đề nhánh: Động vật hoang dã, động vật nuôi. Em hãy bổ sung chi tiết cho chủ đề nhánh cho phù hợp.