





**I. PHẦN TRẮC NGHIỆM (3,0 điểm).**

*Ghi chữ cái đứng trước phương án đúng vào bài làm.*

**Câu 1.** Biểu đồ tranh dưới đây cho biết số lượng sách giáo khoa được bán tại một hiệu sách sau một tuần. (Mỗi  ứng với 10 cuốn sách).

Toán	
Ngữ văn	
Tiếng Anh	

Tổng số sách Tiếng Anh bán được trong tuần là bao nhiêu cuốn?

- A. 7.                                      B. 70                                      C. 50.                                      D. 15.

**Câu 2.** Trong các cách viết sau đây, cách viết nào cho ta phân số?

- A.  $\frac{0,09}{0}$ .                                      B.  $\frac{3}{0}$ .                                      C.  $\frac{2024}{-2,8}$ .                                      D.  $\frac{10}{18}$ .

**Câu 3.** Giá trị của x để  $\frac{x}{21} = \frac{-3}{9}$  là:

- A. -7.                                      B. -9                                      C. 9.                                      D. 7.

**Câu 4.** Viết hỗn số  $5\frac{2}{9}$  về dạng phân số là

- A.  $\frac{7}{9}$                                       B.  $\frac{47}{9}$                                       C.  $\frac{16}{9}$                                       D.  $\frac{52}{9}$

**Câu 5.** Số đối của 24,08 là

- A. 24,08.                                      B. -24,08.                                      C. 24,8.                                      D. -24.

**Câu 6.** Số 123,6571 được làm tròn đến hàng phần mười là

- A. 123,6.                                      B. 123,66.                                      C. 123,7.                                      D. 123,658.

**Câu 7.** Kết quả của phép tính  $\frac{2}{5} \cdot \frac{-15}{3}$  bằng

- A. 2                                      B. -2                                      C. 1                                      D. -1

**Câu 8.** Phân số nào sau đây bằng phân số  $\frac{-1}{3}$

- A.  $\frac{-2}{-6}$                                       B.  $\frac{4}{-15}$                                       C.  $\frac{1}{-3}$                                       D.  $\frac{1}{3}$

**Câu 9.** Cho đoạn thẳng AB= 9cm. O là trung điểm của đoạn thẳng AB. Độ dài đoạn thẳng OB là

- A. 9cm                                      B. 18 cm                                      C. 3cm                                      D. 4,5 cm

**Câu 10:** Trong hình vẽ. Chọn khẳng định sai

