







BẠN THÍCH ĂN GÌ?

Một bạn học sinh thống kê số lượng các bạn trong lớp thích snack, khoai chiên, gà rán, coca-cola, trà sữa. Kết quả như dưới đây.



Hãy đếm số lượng mỗi loại đồ ăn nhanh có trong ảnh và hoàn thành bảng dữ liệu sau.

Đồ ăn nhanh					
Số HS thích					

Trả lời các câu hỏi sau

1. Đối tượng thống kê trong bảng
2. Tiêu chí thống kê là
3. Đồ ăn nhanh được nhiều học sinh thích nhất
4. Đồ ăn nhanh được ít học sinh thích nhất
5. Số học sinh thích ăn khoai tây chiên
6. Mỗi học sinh chỉ được chọn một loại đồ ăn nhanh mình thích. Số học sinh của lớp
7. Số các bạn thích snack, khoai tây chiên, gà rán nhiều hơn các bạn thích trà sữa và coca-cola là:

Xem đoạn video và điều em rút ra được là gì?