



**Câu 8.** Một hộp có 10 chiếc thẻ cùng loại, mỗi thẻ được ghi một trong các số  $1; 2; 3; \dots; 10$ . Hai thẻ khác nhau thì ghi hai số khác nhau. Rút ngẫu nhiên 1 thẻ trong hộp, xét biến cố “Số xuất hiện trên thẻ được rút ra là số chia hết cho 3”. Kết quả thuận lợi là thẻ có số

- A. 0; 3; 6                      B. 1; 3; 6; 9                      C. 6; 9                      D. 3; 6; 9

**Câu 9.** Cho tam giác ABC có  $B=C$ . Khẳng định nào sau đây là đúng?

- A. Tam giác ABC vuông cân tại A                      B. Tam giác ABC cân tại B.  
 C. Tam giác ABC cân tại A                      D. Tam giác ABC vuông cân tại B.

**Câu 10.** Cho  $\Delta ABC = \Delta DEF$  biết  $A = 60^\circ$ . Khi đó

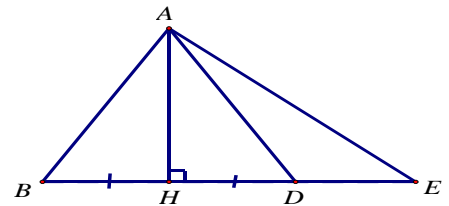
- A.  $D = 60^\circ$                       B.  $F = 60^\circ$                       C.  $E = 60^\circ$                       D.  $C = 60^\circ$ .

**Câu 11.** Cho  $\Delta ABC$  và  $\Delta DEF$  có  $AB = DE; B=E$ . Cần thêm một điều kiện gì để tam giác ABC và tam giác DEF bằng nhau theo trường hợp góc - cạnh - góc?

- A.  $A=D$                       B.  $B=D$                       C.  $C=F$                       D.  $C=D$

**Câu 12.** Cho hình vẽ sau, khẳng định nào sai?

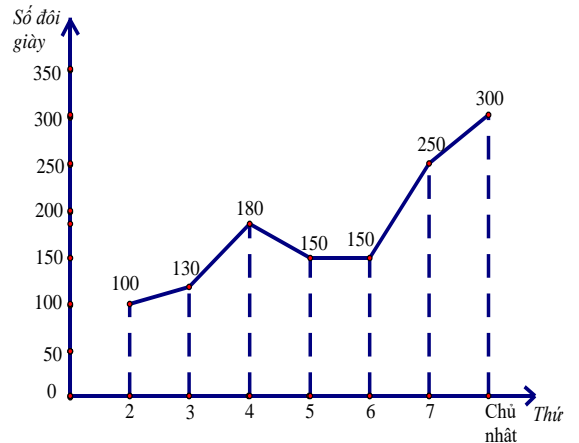
- A.  $AD > AH$                       B.  $AH < AE$ .  
 C.  $HB = HD$ .                      D.  $AH > AB$



**PHẦN 2. TỰ LUẬN (7,0 điểm)**

**Bài 1. (2đ)** Biểu đồ ở hình vẽ bên biểu diễn số đôi giày một cửa hàng đã bán trong một tuần.

- a) Biểu đồ trên là loại biểu đồ nào?  
 b) Tính tổng số đôi giày cửa hàng đã bán trong một tuần?  
 c) Số đôi giày cửa hàng bán trong ngày chủ nhật tăng bao nhiêu phần trăm so với số đôi giày cửa hàng đã bán trong ngày thứ 4? (làm tròn đến hàng đơn vị)



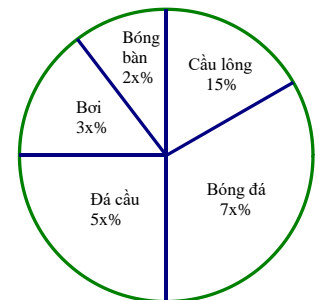
**Bài 2. (2đ)** Một hộp có 20 chiếc thẻ cùng loại, mỗi thẻ được ghi một trong các số  $11; 12; 13; \dots; 29; 30$ ; hai thẻ khác nhau thì ghi hai số khác nhau. Rút ngẫu nhiên một thẻ trong hộp.

- a) Viết tập hợp A gồm các kết quả có thể xảy ra với số xuất hiện trên thẻ.  
 b) Tính xác suất của biến cố “Số xuất hiện trên thẻ được rút ra là số lẻ”.

**Bài 3. ( 2,5đ)** Cho  $\Delta ABC$  có  $AB = AC$  và điểm H là trung điểm của cạnh BC.

- a) Chứng minh  $\Delta AHB = \Delta AHC$   
 b) Chứng minh  $AH \perp BC$   
 c) Trên tia đối của các tia BA lấy điểm D, trên tia đối của tia CA lấy điểm E sao cho  $BD = CE$ .  
 Chứng minh: BC song song DE.

**Bài 4. (0,5đ)** Biểu đồ sau đây thống kê (theo tỉ lệ phần trăm) số học sinh tham gia các câu lạc bộ thể thao của lớp 7A, biết mỗi học sinh chỉ tham gia một câu lạc bộ thể thao. Cho số học sinh tham gia bóng đá là 14 học sinh. Tính tổng số học sinh của lớp 7A?



.....HẾT.....

**PHẦN 1. TRẮC NGHIỆM (3,0 điểm)**

*Ghi lại chữ cái đứng trước câu trả lời đúng nhất cho các câu hỏi sau vào giấy kiểm tra.*

**Câu 1.** Trong các dữ liệu sau, dữ liệu nào *không* phải là số liệu ?

- A. Cân nặng của trẻ sơ sinh (đơn vị tính là gam).
- B. Số học sinh đạt loại giỏi môn Toán (đơn vị tính là học sinh).
- C. Chiều cao của các bạn trong lớp 7A (đơn vị tính là mét).
- D. Quốc tịch của các học sinh trong một trường quốc tế.

**Câu 2.** Bảng thống kê sau cho biết nhiệt độ trung bình của Hà Nội trong bốn tháng đầu năm 2022.

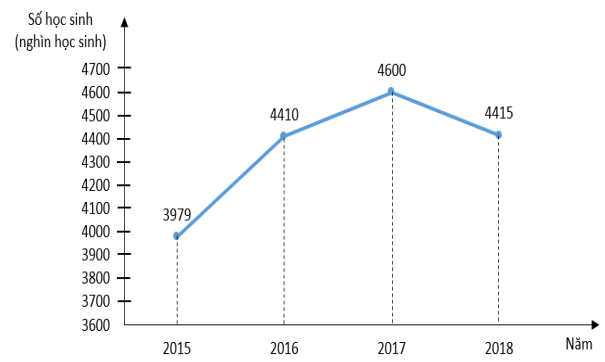
Tháng	1	2	3	4
Nhiệt độ TB ( $^{\circ}\text{C}$ )	10	17	19	26

Hà Nội có nhiệt độ trung bình thấp nhất vào tháng nào ?

- A. Tháng 1
- B. Tháng 2
- C. Tháng 3
- D. Tháng 4

**Câu 3.** Cho biểu đồ biểu diễn số học sinh mẫu giáo ở nước ta trong giai đoạn từ năm 2015 đến năm 2018. Năm nào có tỉ lệ học sinh mẫu giáo là nhiều nhất?

- A. 2015
- B. 2016
- C. 2017
- D. 2018



(Theo Tổng cục Thống kê)

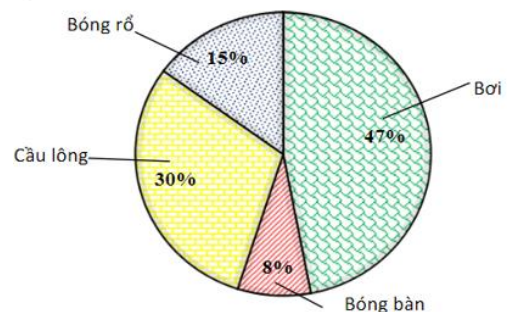
**Câu 4.** Cho bảng số liệu tỉ lệ phần trăm xếp loại học lực học sinh lớp 7A. Biểu đồ nào thích hợp để biểu diễn bảng số liệu đó?

Loại	Tốt	Khá	Đạt	Chưa đạt	Tổng
Tỉ lệ	10%	55%	30%	5%	100%

- A. Biểu đồ tranh.
- B. Biểu đồ cột.
- C. Biểu đồ đoạn thẳng.
- D. Biểu đồ hình quạt tròn.

**Câu 5.** Biểu đồ sau đây biểu diễn tỉ số phần trăm học sinh tham gia các môn thể thao của HS khối 7 của một trường THCS (mỗi học sinh chỉ tham gia một môn). Có bao nhiêu phần trăm số lượng HS tham gia môn thể thao bóng rổ và cầu lông?

- A. 62%.
- B. 45%.
- C. 77%.
- D. 23%.



**Câu 6.** Cân nặng của 6 bạn trong nhóm được An ghi lại vào bảng sau:

Tên học sinh	Bình	Cường	Dũng	Lan	Hoa	An
Cân nặng (kg)	36,5	32,4	536	45,2	29,5	34,8

Cân nặng của bạn nào được ghi nhầm trong bảng trên?

- A. Hoa
- B. An
- C. Dũng
- D. Lan

**Câu 7.** Xét biến cố “Mặt xuất hiện của xúc xắc có số chấm là số nguyên tố”. Các kết quả thuận lợi cho biến cố là

- A. mặt 2 chấm, mặt 3 chấm, mặt 5 chấm.
- B. mặt 1 chấm, mặt 2 chấm.

C. mặt 3 chấm, mặt 6 chấm.

D. mặt 5 chấm, mặt 6 chấm.

**Câu 8.** Một hộp có 10 chiếc thẻ cùng loại, mỗi thẻ được ghi một trong các số 1;2;3;4;...;10. Hai thẻ khác nhau thì ghi hai số khác nhau. Rút ngẫu nhiên 1 thẻ trong hộp, xét biến cố “Số xuất hiện trên thẻ được rút ra là số chia hết cho 3”. Kết quả thuận lợi là thẻ có số:

A. 0;3;6;9.

B. 1;6;9.

C. 3;6;9

D. 0;3;6.

**Câu 9.** Cho tam giác ABC cân tại A, cạnh AB = 5cm thì độ dài cạnh AC là

A. 5cm.

B. 2,5cm

C. 7,5cm

D. 10cm

**Câu 10.** Cho  $\Delta ABC = \Delta MNP$ . Khẳng định nào dưới đây là sai?

A. AC = NP.

B. AB = MN.

C. A = M.

D. P = C.

**Câu 11.** Cho tam giác ABC và tam giác DEF có AB = DE; B=E. Cần thêm một điều kiện gì để tam giác ABC và tam giác DEF bằng nhau theo trường hợp góc - cạnh - góc?

A. A=E.

B. A=D.

C. C=E.

D. C=D.

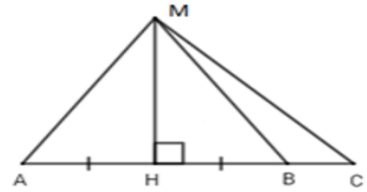
**Câu 12.** Cho hình vẽ sau, trong các khẳng định sau, khẳng định nào sai?

A. MA > MH.

B. HB < HC.

C. MA = MB.

D. MC < MH



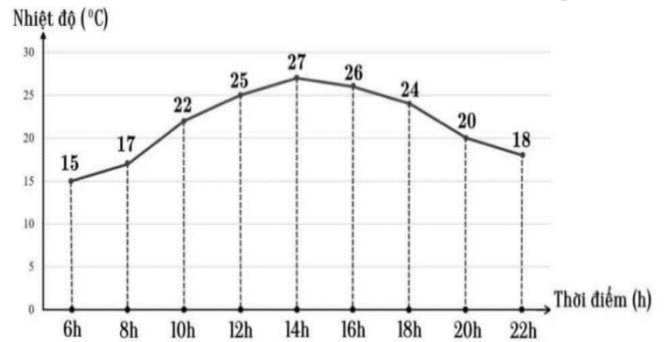
## PHẦN 2. TỰ LUẬN (7,0 điểm)

**Bài 1. (2 điểm)** Biểu đồ dưới đây biểu diễn nhiệt độ dự đoán ở Hà Nội trong ngày 17/3/2023 tại một số thời điểm.

a) Biểu đồ trên là biểu đồ loại nào?

b) Thời điểm nào nhiệt độ dự đoán thấp nhất? Thời điểm nào nhiệt độ dự đoán cao nhất?

c) Nhiệt độ dự đoán lúc 14h đã tăng bao nhiêu phần trăm so với nhiệt độ dự đoán lúc 12h?



**Bài 2. (2 điểm)** Một hộp có 30 chiếc thẻ cùng loại, mỗi thẻ được ghi một trong các số 1; 2; 3; ...;29;30; hai thẻ khác nhau thì ghi hai số khác nhau. Rút ngẫu nhiên một thẻ trong hộp.

c) Viết tập hợp A gồm các kết quả có thể xảy ra với số xuất hiện trên thẻ.

d) Tính xác suất của biến cố “Số xuất hiện trên thẻ được rút ra là ước của 20”.

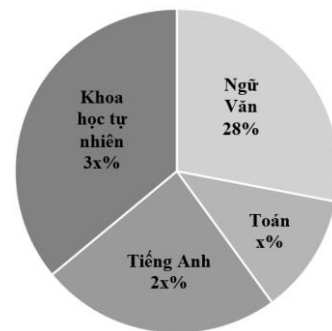
**Bài 3. (2,5 điểm)** Cho  $\Delta MNP$  cân tại M; E là trung điểm của cạnh NP. Chứng minh rằng:

a)  $\Delta MNE = \Delta MPE$

b)  $ME \perp NP$

c) Trên tia đối của các tia NM, PM lần lượt lấy các điểm G và H sao cho  $NG = PH$ . Chứng minh  $NP \parallel GH$ .

**Bài 4. (0,5 điểm)** Biểu đồ hình quạt tròn biểu diễn số lượng học sinh đăng ký học bổ trợ các câu lạc bộ Toán, Ngữ Văn, Tiếng anh, KHTN của khối 7 ở một trường THCS (tính theo tỉ số phần trăm). Mỗi học sinh đăng ký một câu lạc bộ. Biết có 12 học sinh đăng ký học bổ trợ môn Tiếng anh. Hỏi có tất cả bao nhiêu học sinh khối 7 đăng ký học bổ trợ các câu lạc bộ?



PHÒNG GD&ĐT QUẬN LONG BIÊN  
TRƯỜNG THCS THANH AM  
Năm học 2023 – 2024

MÃ ĐỀ V7-GKII-01

ĐỀ KIỂM TRA GIỮA HỌC KÌ II  
MÔN NGỮ VĂN  
KHỐI 7

Thời gian: 90 phút  
Ngày thi: 20/03/2024

**I. ĐỌC – HIỂU (6 ĐIỂM): Đọc văn bản sau và thực hiện các yêu cầu:**

**VIẾNG LĂNG BÁC**

*Con ở miền Nam ra thăm lăng Bác  
Đã thấy trong sương hàng tre bát ngát  
Ôi! Hàng tre xanh xanh Việt Nam  
Bão táp mưa sa, đứng thẳng hàng.*

*Ngày ngày mặt trời đi qua trên lăng  
Thấy một mặt trời trong lăng rất đỏ  
Ngày ngày dòng người đi trong thương nhớ  
Kết tràng hoa dâng bảy mươi chín mùa xuân...*

*Bác nằm trong giấc ngủ bình yên  
Giữa một vầng trăng sáng dịu hiền  
Vẫn biết trời xanh là mãi mãi  
Mà sao nghe nhói ở trong tim.*

*Mai về miền Nam thương trào nước mắt  
Muốn làm con chim hát quanh lăng Bác  
Muốn làm đoá hoa toả hương đâu đây  
Muốn làm cây tre trung hiếu chốn này.*

(Như mây mùa xuân, 1976, Viễn Phương)

**Ghi lại đáp án chứa câu trả lời đúng vào giấy kiểm tra.**

**Câu 1.** Bài thơ “Viếng lăng Bác” thuộc thể thơ nào?

- A. Thơ lục bát    B. Thơ tự do    C. Thơ bảy chữ    D. Thơ sáu chữ

**Câu 2.** Đối tượng trữ tình trong bài thơ là ai?

- A. Người con    B. Người lính    C. Bác Hồ    D. Tác giả

**Câu 3.** Trong bài thơ, yếu tố miêu tả được thể hiện qua những chi tiết nào?

- A. Hình ảnh hàng tre, dòng người vào lăng, Bác Hồ.  
B. Kể về hành trình vào lăng viếng Bác và ra về của nhà thơ.  
C. Bộc lộ những cảm xúc chân thành, xúc động của nhà thơ.  
D. Giới thiệu về cuộc đời và sự nghiệp vĩ đại của Bác Hồ.

**Câu 4.** Câu nào sau đây thể hiện rõ niềm xúc động trào dâng khi tác giả rời lăng Bác?

- A. Đã thấy trong sương hàng tre bát ngát.  
B. Kết tràng hoa dâng bảy mươi chín mùa xuân.  
C. Mai về miền Nam thương trào nước mắt.  
D. Muốn làm cây tre trung hiếu chốn này.

**Câu 5.** Hiệu quả của phép tu từ trong câu thơ “Bác nằm trong giấc ngủ bình yên” là gì?

- A. Thể hiện sự cao quý của hình ảnh Bác.  
B. Tự hào trước sự nghiệp vĩ đại của Bác.  
C. Làm cảm giác đau buồn trước sự ra đi của Bác.  
D. Ngợi ca những phẩm chất tốt đẹp của Bác.

**Câu 6.** Trong đoạn (2) của bài thơ, dòng người vào lăng viếng Bác có cảm xúc như thế nào?

- A. Vui vẻ, phấn khởi khi sắp được gặp Bác.
- B. Tự hào, tiếc thương khi nghĩ về Bác.
- C. Lo lắng, bồn chồn trước khi vào lăng.
- D. Bao dung, vị tha, yêu thương Bác.

**Câu 7.** Thông điệp mà tác giả muốn gửi gắm qua bài thơ là gì?

- A. Yêu thiên nhiên, cảnh vật quanh lăng Bác.
- B. Cần thể hiện tinh thần đoàn kết của dân tộc.
- C. Yêu thương, kính trọng, tự hào về Bác.
- D. Cần phát huy truyền thống đánh giặc, yêu nước.

**Câu 8.** Tác dụng của dấu chấm lửng trong câu thơ “Kết tràng hoa dâng bảy mươi chín mùa xuân...” là gì?

- A. Biểu thị lời nói ngập ngừng, ngắt quãng.
- B. Làm giãn nhịp điệu câu thơ, chuẩn bị cho sự xuất hiện của từ ngữ đặc biệt.
- C. Biểu thị vẫn còn nhiều sự vật, sự việc chưa liệt kê hết.
- D. Thể hiện cảm xúc nghẹn ngào, ngưng đọng.

**Thực hiện yêu cầu sau:**

**Câu 9.** Xác định và nêu tác dụng của biện pháp tu từ trong câu thơ:

*Ngày ngày mặt trời đi qua trên lăng  
Thấy một mặt trời trong lăng rất đỏ*

**Câu 10.** Em thích nhất đoạn thơ hay hình ảnh thơ nào trong bài? Từ bài thơ, em có cảm xúc gì khi nghĩ về vị lãnh tụ vĩ đại của dân tộc? (Trình bày bằng đoạn văn khoảng 3-5 câu)

## **II. VIẾT (4 ĐIỂM)**

Viết bài văn phân tích đặc điểm nhân vật trong truyện ngụ ngôn mà em yêu thích.

-----*Hết*-----

MÃ ĐỀ V7-GKII-02

**I. ĐỌC – HIỂU (6 ĐIỂM)** *Đọc văn bản sau và thực hiện các yêu cầu*

Lặn đạn đời bà biết mấy nắng mưa  
Mấy chục năm rồi, đến tận bây giờ  
Bà vẫn giữ thói quen dậy sớm  
Nhóm bếp lửa ấp iu nồng đượm  
Nhóm niềm yêu thương, khoai sắn ngọt bùi  
Nhóm nồi xôi gạo mới xẻ chung vui  
Nhóm dậy cả những tâm tình tuổi nhỏ  
Ôi kì lạ và thiêng liêng - bếp lửa!  
(1963 – *Bếp lửa* – Bằng Việt)

*Ghi lại đáp án chứa câu trả lời đúng ra giấy kiểm tra*

**Câu 1.** Đoạn thơ trên trong bài thơ “Bếp lửa” thuộc thể thơ nào?

A. Thơ lục bát. B. Thơ tự do. C. Thơ bảy chữ. D. Thơ sáu chữ.

**Câu 2.** Phương thức biểu đạt chính trong đoạn thơ là gì?

A. Miêu tả. B. Tự sự. C. Thuyết minh. D. Biểu cảm.

**Câu 3.** Trong đoạn thơ, người bà **không** nhóm dậy điều gì sau đây?

A. Niềm yêu thương. B. Nồi xôi gạo.  
C. Những tâm tình. D. Tuổi học trò.

**Câu 4.** Biện pháp tu từ nào được tác giả sử dụng trong đoạn thơ?

A. Điệp ngữ. B. So sánh. C. Nhân hóa. D. Nói giảm, nói tránh.

**Câu 5.** Câu thơ “Lặn đạn đời bà biết mấy nắng mưa” gợi cho em cảm nhận gì về hình ảnh người bà?

A. Bà phải đi lại nhiều dưới trời nắng, trời mưa.  
B. Cuộc đời bà đầy truân chuyên, vất vả, nhiều gian khổ, chênh vênh.  
C. Cuộc đời bà nhiều nhiều vui, nhàn hạ, may mắn, hạnh phúc.  
D. Dáng đi lập cập, hồi hả, vội vàng, tất bật của bà khi mưa, nắng.

**Câu 6.** Trong đoạn thơ, hình ảnh người bà hiện lên với phẩm chất gì?

A. Bà là người truyền hơi ấm, tình yêu thương, khơi dậy những điều tốt đẹp về tình cảm gia đình, niềm lạc quan với cuộc sống.  
B. Bà luôn muốn giấu đi những vất vả, nhọc nhằn của bản thân, bà gồng mình gánh vác mọi lo toan để con cái yên tâm công tác, chiến đấu.  
C. Bà không chỉ là chỗ dựa cho con cháu mà bà còn là hậu phương vững chắc cho tiền tuyến, góp phần vào cuộc kháng chiến chung của dân tộc.  
D. Dáng vẻ lam lũ, vất vả, cơ cực, âm thầm, lặng lẽ của bà, của người dân trong những năm tháng chiến tranh gian khổ.

**Câu 7.** Theo em, nghĩa của từ “ **nhóm**” trong câu thơ “Nhóm bếp lửa ấp iu nồng đượm” là gì?

- A. Nhóm là thắp lên, khơi dậy những điều tốt đẹp.
- B. Ý nghĩa lan tỏa lớn lao trong công việc nhóm lửa của bà.
- C. Chỉ hành động làm cho lửa bén vào chất đốt.
- D. Nhen nhóm lên từ ngọn lửa của tình yêu thương.

**Câu 8.** Nội dung chính trong đoạn thơ trên là gì?

- A. Ca ngợi tình mẫu tử thiêng liêng cao quý thông qua hình ảnh bếp lửa.
- B. Sự hòa quyện của tình cảm yêu thương con cháu, tình yêu đất nước của người bà.
- C. Ca ngợi tinh thần yêu nước của hai bà cháu trong thời kì kháng chiến chống Mỹ.
- D. Ngợi ca tình bà cháu giản dị, thiêng liêng, tình cảm gia đình, tình yêu quê hương, đất nước.

**Thực hiện yêu cầu sau**

**Câu 9.** Xác định và nêu tác dụng của biện pháp tu từ trong câu thơ:

“Nhóm nồi xôi gạo mới xẻ chung vui  
Nhóm dậy cả những tâm tình tuổi nhỏ.”

**Câu 10.** Trong đoạn thơ trên, em thích nhất hình ảnh thơ nào? Qua đó em có cảm nhận như thế nào về tình cảm của bà dành cho con cháu? (Trình bày bằng một đoạn văn khoảng 3-5 câu).

**II. VIẾT (4 ĐIỂM)**

Viết bài văn phân tích đặc điểm nhân vật trong truyện ngụ ngôn mà em yêu thích.

.....**Hết**.....



Student's name: .....

Class: .....

0,25 points /question

**A. MULTIPLE CHOICE.**

**Listen to the recording and choose the best answer to complete the sentences.**

**Question 1.** Mumbai is one of the most congested \_\_\_\_\_ in the world.

- A. countries            B. cities                            C. towns                            D. villages

**Question 2.** \_\_\_\_\_ have to spend a lot of time on the road.

- A. Drivers                    B. Pedestrians                    C. Passengers                    D. Cyclists

**Question 3.** One reason for the traffic \_\_\_\_\_ is the increase in the population.

- A. accidents            B. condition                    C. jams                            D. rules

**Question 4.** Many \_\_\_\_\_ in Mumbai are not in good condition.

- A. vehicles            B. traffic lights                    C. roads                            D. houses

**Listen again and choose the best answer to answer the following questions.**

**Question 5.** What happen nearly every day in Mumbai?

- A. traffic jams            B. traffic accidents                    C. traffic injuries                    D. traffic lights

**Question 6.** How many people does Mumbai have?

- A. nearly 10 million                    B. about 10 million  
C. over 20 million                    D. nearly 20 million

**Question 7.** What are the roads in Mumbai like?

- A. wide                    B. narrow                            C. short                            D. clean

**Question 8.** What do road users disobey?

- A. traffic jams            B. traffic rules                    C. policemen                    D. rush hours

**Mark the letter A, B, C, or D to indicate the word whose underlined part differs from the other three in pronunciation in each of the following questions.**

**Question 9.** A. pear                    B. nightmare                    C. aeroplane                    D. fearful

**Question 10.** A. tonight                    B. sign                            C. favourite                    D. time

**Mark the letter A, B, C, or D to indicate the word that differs from the other three in the position of primary stress in each of the following questions.**

**Question 11.** A. healthy                    B. perform                            C. prepare                            D. cartoon

**Question 12.** A. enjoy                    B. allow                            C. polite                            D. careful

**Mark the letter A, B, C or D to indicate the correct answer to each of the following questions.**

**Question 13.** A \_\_\_\_\_ is a film that tries to make audiences laugh.

- A. horror                    B. sci-fi                            C. comedy                            D. documentary

**Question 14.** \_\_\_\_\_ is it from here to the nearest post office? – About 2 kilometers.

- A. How                    B. How long                            C. How far                            D. How high

**Question 15.** \_\_\_\_\_ the film was gripping, Tom slept from beginning to end.

- A. Because                    B. But                            C. However                            D. Although

**Question 16.** He shouldn't \_\_\_\_\_ so fast to avoid accidents.

- A. drives                    B. to drive                            C. driving                            D. drive

**Question 17.** \_\_\_\_\_ the Giong Temple Festival take place in the North of Viet Nam?

- A. Does                    B. Do                            C. Are                            D. Is

**Question 18.** - Susan: "Did you enjoy the concert last weekend?"

- Linda: “ \_\_\_\_\_ The music was boring and the singers’ costumes were not beautiful.”

- A. Yes, it was interesting. B. Yes, I did.  
C. No, it was disappointing. D. I think it was enjoyable.

**Mark the letter A, B, C or D to indicate the word CLOSEST in meaning to the underlined word in the following question.**

**Question 19.** The Mid –Autumn Festival takes place in the middle of the eight lunar month.

- A. appears B. occurs C. brings D. holds

**Mark the letter A, B, C or D to indicate the word OPPOSITE in meaning to the underlined word(s) in the following question.**

**Question 20.** Tet is one of the traditional festivals in Viet Nam.

- A. modern B. colourful C. historic D. economical

**Mark the letter A, B, C, or D to indicate the underlined part that needs correction in each of the following questions.**

**Question 21.** Yesterday the weather was cold, although she went out with her friends.

- A. was B. although C. went D. with

**Question 22.** Do you ready to have an unforgettable time in Halloween music class?

- A. Do B. to have C. unforgettable D. in

**Read the following passage and mark the letter A, B, C, or D to indicate the correct answer to each of the questions.**

“Maika: the girl from another galaxy” is a family sci-fi film. It is directed by Ham Tran, a Vietnamese-American film director. Lai Truong Phu (as Hung), Chu Diep Anh (as Maika) and Tin Tin (as Bi Fat) are the child actors and actresses who star in the film. The film is an adventure fantasy with a touching plot about friendship and family. It tells the story of Hung, an 8-year-old boy who has lost his mother. He meets Maika, an alien, while she is searching for her lost friend. Maika helps Hung make new friends and find the joy he should have at his age. The film received a lot of good reviews. Most people say it is a simple but emotional story. It is also fascinating to both adults and children because of the adorable young cast. Although it lasts for nearly two hours, the music and acting in the film can keep the audience seated until its ending.

**Question 23. What kind of film is it?**

- A. A horror film. B. A science fiction film.  
C. An action film. D. A cartoon.

**Question 24. Who stars in the film?**

- A. Adults. B. Boys. C. Girls. D. Children.

**Question 25. Which of the following statements is NOT correct?**

- A. Hung lives with his mother. B. Maika is an alien from another galaxy.  
C. Hung is eight years old. D. Maika is trying to find her lost friend.

**Question 26. What does the word “fascinating” in this passage mean?**

- A. violent B. shocking C. gripping D. confusing

**Question 27. What are the reviews like?**

- A. The film is not attractive. B. The ending of the film is surprising.  
C. Most people have strong feelings about the film. D. Only children are excited about the film.

**Read the following passage and mark the letter A, B, C, or D to indicate the correct word that best fits each of the numbered blanks.**

Brazil’s most popular and festive holiday is Carnival. In fact, many people (28) \_\_\_\_\_ Carnival one of the world’s biggest celebrations. Each spring, on the Saturday before Ash Wednesday, the streets of Brazil’s largest city, Rio de Janeiro, come alive (29) \_\_\_\_\_ parties, festivals and glamorous dances.

The Samba School Parade is the highlight of the (30) \_\_\_\_\_ event. About 3000 performers, in colourful costumes embellished with feathers, beads and thousands of sequin dance

down the parade route into the Sambadrome - a dance stadium (31)\_\_\_\_\_ for the event. Judges award a (32)\_\_\_\_\_ to the most spectacular group of dancers.

- |                                  |             |               |              |
|----------------------------------|-------------|---------------|--------------|
| <b>Question 28.</b> A. believe   | B. regard   | C. consider   | D. hope      |
| <b>Question 29.</b> A. with      | B. in       | C. of         | D. at        |
| <b>Question 30.</b> A. four days | B. four-day | C. fourth day | D. four-days |
| <b>Question 31.</b> A. built     | B. build    | C. to build   | D. building  |
| <b>Question 32.</b> A. result    | B. price    | C. respect    | D. prize     |

**B. WRITING.**

**Rewrite the sentences without changing their meaning.**

**Question 33.** What is the distance between Hai Phong and Ha Noi?

→ **How far** .....

**Question 34.** It's good for you to drink lots of water during the day.

→ **You should** .....

**Question 35.** Phong was sick, so he didn't go to school yesterday.

→ **Phong didn't** .....

**Question 36.** My friend doesn't have enough money. However, she wants to buy that new car.

→ **Although** .....

**Write complete sentences from cue words below.**

**Question 37.** You/ play/chess/ at/festival/yesterday?

→ .....

**Question 38.** *The Godfather*/ be/ American crime film/ although/ its/ main characters/ come/ Italy.

→ .....

**Question 39.** It/ about/ 2 kilometers/ here/ the nearest post office.

→ .....

**Question 40.** Jane/ often/ have/ English/ Maths/ Monday?

→ .....

--- THE END ---

Student's name: .....  
Class: .....

0,25 points /question

**A. MULTIPLE CHOICE.**

**Listen to the recording and choose the best answer to complete the sentences.**

**Question 1.** Mumbai is one of the most congested \_\_\_\_\_ in the world.

- A. countries            B. towns            C. cities            D. villages

**Question 2.** \_\_\_\_\_ have to spend a lot of time on the road.

- A. Pedestrians        B. Drivers            C. Passengers        D. Cyclists

**Question 3.** One reason for the traffic \_\_\_\_\_ is the increase in the population.

- A. accidents            B. condition            C. rules            D. jams

**Question 4.** Many \_\_\_\_\_ in Mumbai are not in good condition.

- A. roads            B. traffic lights            C. vehicles            D. houses

**Listen again and choose the best answer to answer the following questions.**

**Question 5.** What happen nearly every day in Mumbai?

- A. traffic injuries    B. traffic jams            C. traffic accidents    D. traffic lights

**Question 6.** How many people does Mumbai have?

- A. nearly 20 million            B. about 10 million  
C. over 20 million            D. nearly 10 million

**Question 7.** What are the roads in Mumbai like?

- A. wide            B. clean            C. short            D. narrow

**Question 8.** What do road users disobey?

- A. traffic jams        B. policemen            C. traffic rules            D. rush hours

**Mark the letter A, B, C, or D to indicate the word whose underlined part differs from the other three in pronunciation in each of the following questions.**

**Question 9.** A. ear            B. dear            C. pear            D. clear

**Question 10.** A. tonight            B. favourite            C. sign            D. time

**Mark the letter A, B, C, or D to indicate the word that differs from the other three in the position of primary stress in each of the following questions.**

**Question 11.** A. happy            B. ahead            C. alive            D. cartoon

**Question 12.** A. famous            B. pretty            C. careful            D. asleep

**Mark the letter A, B, C or D to indicate the correct answer to each of the following questions.**

**Question 13.** A \_\_\_\_\_ is a film that shows real life events or stories.

- A.action            B.documentary            C.thriller            D.comedy

**Question 14.** \_\_\_\_\_ is it from your house to the nearest supermarket? – About 4 kilometers.

- A. How            B. How long            C. How far            D. How high

**Question 15.** \_\_\_\_\_ the film was gripping, Peter slept from beginning to end.

- A. Although            B. But            C. However            D. Because

**Question 16.** He shouldn't \_\_\_\_\_ so fast to avoid accidents.

- A. drives            B. to drive            C. driving            D. drive

**Question 17.** \_\_\_\_\_ the Perfume Pagoda Festival take place in the North of Viet Nam?

- A. Do            B. Does            C. Are            D. Is

**Question 18.** - Susan: "Did you enjoy the concert last weekend?"

- Linda: “ \_\_\_\_\_ . The music was boring and the singers’ costumes were not beautiful.”

- A. Yes, it was interesting.                      B. Yes, I did.  
C. No, it was disappointing.                  D. I think it was enjoyable.

**Mark the letter A, B, C or D to indicate the word CLOSEST in meaning to the underlined word in the following question.**

**Question 19.** The Mid –Autumn Festival takes place in the middle of the eight lunar month.  
A. appears                      B. occurs                      C. brings                      D. holds

**Mark the letter A, B, C or D to indicate the word OPPOSITE in meaning to the underlined word(s) in the following question.**

**Question 20.** Don’t forget to lock the door when you go out.  
A. play                      B. buy                      C. remember                      D. leave

**Mark the letter A, B, C, or D to indicate the underlined part that needs correction in each of the following questions.**

**Question 21.** Yesterday the weather was cold, although she went out with her friends.  
A. was                      B. although                      C. went                      D. with

**Question 22.** Did you stayed in a resort during your vacation in Thailand?  
A. stayed                      B. a                      C. during                      D. in

**Read the following passage and mark the letter A, B, C, or D to indicate the correct answer to each of the questions.**

### *My favourite actors*

I like a lot of different actors, but my real favourites are Daniel Craig and Halle Berry. Daniel Craig is British and he’s a really talented actor. He’s been in a lot of different kinds of films including action adventure, science fiction, and romantic drama, but he always gives an excellent performance. He was brilliant in *Tomb Raider* as *Alex West*, but my favourite film is *Casino Royale*. I think Daniel Craig is a fantastic James Bond.

Halle Berry is American. She was a model, but then decided to become an actress. I like her because she’s beautiful. She’s a good actress and I think she has a great sense of humour. I’m not keen on some of her films, such as *Catwoman*, but her other films are excellent. My favourite is *X-Men* which is a science fiction film. She plays the main character *Storm*, who has the ability to change the weather.

Daniel Craig and Halle Berry are both entertaining and talented actors. I love watching their films.

**Question 23. Where does Daniel Craig come from?**

- A. France.                      B. Britain.                      C. The USA.                      D. Italy.

**Question 24. Which Daniel Craig’s film does the writer like best?**

- A. *Catwoman*.                      B. *Alex West*.                      C. *Tomb Raider*.                      D. *Casino Royale*.

**Question 25. Which of the following statements is NOT correct?**

- A. Daniel Craig is a talented actor.                      B. Daniel Craig always give an excellen performance.  
C. Halle Berry is English.                      D. Halle Berry decided to become an actress.

**Question 26. What does the word “fantastic” in the first passage mean?**

- A. brilliant                      B. shocking                      C. boring                      D. confusing

**Question 27. What kind of film is “X-men”?**

- A. an action film.                      B. a romantic drama.  
C. a science fiction film.                      D. a comedy.

**Read the following passage and mark the letter A, B, C, or D to indicate the correct word that best fits each of the numbered blanks.**

Brazil's most popular and festive holiday is Carnival. In fact, many people (28)\_\_\_\_\_ Carnival one of the world's biggest celebrations. Each spring, on the Saturday before Ash Wednesday, the streets of Brazil's largest city, Rio de Janeiro, come alive (29)\_\_\_\_\_ parties, festivals and glamorous dances.

The Samba School Parade is the highlight of the (30)\_\_\_\_\_ event. About 3000 performers, in colourful costumes embellished with feathers, beads and thousands of sequin dance down the parade route into the Sambadrome - a dance stadium (31)\_\_\_\_\_ for the event. Judges award a (32)\_\_\_\_\_ to the most spectacular group of dancers.

- Question 28.** A. believe                      B. consider                      C. regard                      D. hope  
**Question 29.** A. of                              B. in                              C. with                      D. at  
**Question 30.** A. four-day                      B. four days                      C. fourth day                      D. four-days  
**Question 31.** A. build                      B. built                      C. to build                      D. building  
**Question 32.** A. result                      B. price                      C. respect                      D. prize

**B. WRITING.**

**Rewrite the sentences without changing their meaning.**

**Question 33.** What is the distance between Hue and Da Nang?

→ **How far** .....

**Question 34.** It's good for you to do exercise every day.

→ **You should**.....

**Question 35.** Hoa was sick, so she didn't go to school yesterday.

→ **Hoa didn't** .....

**Question 36.** My brother doesn't have enough money. However, he wants to buy that new car.

→ **Although** .....

**Write complete sentences from cue words below.**

**Question 37.** You/ play/badminton/ at/festival/ last week?

→ .....

**Question 38.** *The Godfather*/ be/ American crime film/ although/ its/ main characters/ come/ Italy.

→ .....

**Question 39.** It/ about/ 4 kilometers/ here/ the nearest cinema.

→ .....

**Question 40.** Lan/ often/ have/ History/ Maths/ Friday?

→ .....

--- THE END ---

Student's name: .....  
Class: .....

0,25 points /question

**A. MULTIPLE CHOICE.**

**Listen to the recording and choose the best answer to complete the sentences.**

**Question 1.** Mumbai is one of the most congested \_\_\_\_\_ in the world.

- A. countries            B. towns            C. cities            D. villages

**Question 2.** \_\_\_\_\_ have to spend a lot of time on the road.

- A. Pedestrians        B. Drivers            C. Passengers        D. Cyclists

**Question 3.** One reason for the traffic \_\_\_\_\_ is the increase in the population.

- A. accidents            B. condition            C. rules            D. jams

**Question 4.** Many \_\_\_\_\_ in Mumbai are not in good condition.

- A. roads            B. traffic lights            C. vehicles            D. houses

**Listen again and choose the best answer to answer the following questions.**

**Question 5.** What happen nearly every day in Mumbai?

- A. traffic injuries    B. traffic jams            C. traffic accidents    D. traffic lights

**Question 6.** How many people does Mumbai have?

- A. nearly 20 million            B. about 10 million  
C. over 20 million            D. nearly 10 million

**Question 7.** What are the roads in Mumbai like?

- A. wide            B. clean            C. short            D. narrow

**Question 8.** What do road users disobey?

- A. traffic jams        B. policemen            C. traffic rules            D. rush hours

**Mark the letter A, B, C, or D to indicate the word whose underlined part differs from the other three in pronunciation in each of the following questions.**

**Question 9.** A. ear            B. dear            C. pear            D. clear

**Question 10.** A. tonight            B. favourite            C. sign            D. time

**Mark the letter A, B, C, or D to indicate the word that differs from the other three in the position of primary stress in each of the following questions.**

**Question 11.** A. happy            B. ahead            C. alive            D. cartoon

**Question 12.** A. famous            B. pretty            C. careful            D. asleep

**Mark the letter A, B, C or D to indicate the correct answer to each of the following questions.**

**Question 13.** A \_\_\_\_\_ is a film that shows real life events or stories.

- A.action            B.documentary            C.thriller            D.comedy

**Question 14.** \_\_\_\_\_ is it from your house to the nearest supermarket? – About 4 kilometers.

- A. How            B. How long            C. How far            D. How high

**Question 15.** \_\_\_\_\_ the film was gripping, Peter slept from beginning to end.

- A. Although            B. But            C. However            D. Because

**Question 16.** He shouldn't \_\_\_\_\_ so fast to avoid accidents.

- A. drives            B. to drive            C. driving            D. drive

**Question 17.** \_\_\_\_\_ the Perfume Pagoda Festival take place in the North of Viet Nam?

- A. Do            B. Does            C. Are            D. Is

**Question 18.** - Susan: "Did you enjoy the concert last weekend?"

- Linda: “ \_\_\_\_\_ The music was boring and the singers’ costumes were not beautiful.”

- A. Yes, it was interesting.                      B. Yes, I did.  
C. No, it was disappointing.                 D. I think it was enjoyable.

**Mark the letter A, B, C or D to indicate the word CLOSEST in meaning to the underlined word in the following question.**

**Question 19.** The Mid –Autumn Festival takes place in the middle of the eight lunar month.

- A. appears                      B. occurs                      C. brings                      D. holds

**Mark the letter A, B, C or D to indicate the word OPPOSITE in meaning to the underlined word(s) in the following question.**

**Question 20.** Don’t forget to lock the door when you go out.

- A. play                      B. buy                      C. remember                      D. leave

**Mark the letter A, B, C, or D to indicate the underlined part that needs correction in each of the following questions.**

**Question 21.** Yesterday the weather was cold, although she went out with her friends.

- A. was                      B. although                      C. went                      D. with

**Question 22.** Do you ready to have an unforgettable time in Halloween music class?

- A. Do                      B. to have                      C. unforgettable                      D. in

**Read the following passage and mark the letter A, B, C, or D to indicate the correct answer to each of the questions.**

“Maika: the girl from another galaxy” is a family sci-fi film. It is directed by Ham Tran, a Vietnamese-American film director. Lai Truong Phu (as Hung), Chu Diep Anh (as Maika) and Tin Tin (as Bi Fat) are the child actors and actresses who star in the film. The film is an adventure fantasy with a touching plot about friendship and family. It tells the story of Hung, an 8-year-old boy who has lost his mother. He meets Maika, an alien, while she is searching for her lost friend. Maika helps Hung make new friends and find the joy he should have at his age. The film received a lot of good reviews. Most people say it is a simple but emotional story. It is also fascinating to both adults and children because of the adorable young cast. Although it lasts for nearly two hours, the music and acting in the film can keep the audience seated until its ending.

**Question 23. What kind of film is it?**

- A. A horror film.                      B. A science fiction film.  
C. An action film.                      D. A cartoon.

**Question 24. Who stars in the film?**

- A. Adults.                      B. Boys.                      C. Girls.                      D. Children.

**Question 25. Which of the following statements is NOT correct?**

- A. Hung lives with his mother.                      B. Maika is an alien from another galaxy.  
C. Hung is eight years old.                      D. Maika is trying to find her lost friend.

**Question 26. What does the word “fascinating” in this passage mean?**

- A. violent                      B. shocking                      C. gripping                      D. confusing

**Question 27. What are the reviews like?**

- A. The film is not attractive.                      B. The ending of the film is surprising.  
C. Most people have strong feelings about the film.                      D. Only children are excited about the film.

**Read the following passage and mark the letter A, B, C, or D to indicate the correct word that best fits each of the numbered blanks.**

Brazil’s most popular and festive holiday is Carnival. In fact, many people (28) \_\_\_\_\_ Carnival one of the world’s biggest celebrations. Each spring, on the Saturday before Ash Wednesday, the streets of Brazil’s largest city, Rio de Janeiro, come alive (29) \_\_\_\_\_ parties, festivals and glamorous dances.

The Samba School Parade is the highlight of the (30) \_\_\_\_\_ event. About 3000 performers, in colourful costumes embellished with feathers, beads and thousands of sequin dance



down the parade route into the Sambadrome - a dance stadium (31)\_\_\_\_\_ for the event. Judges award a (32)\_\_\_\_\_ to the most spectacular group of dancers.

- Question 28.** A. believe                      B. regard                      C. consider                      D. hope  
**Question 29.** A. with                      B. in                      C. of                      D. at  
**Question 30.** A. four days                      B. four-day                      C. fourth day                      D. four-days  
**Question 31.** A. built                      B. build                      C. to build                      D. building  
**Question 32.** A. result                      B. price                      C. respect                      D. prize

**B. WRITING.**

**Rewrite the sentences without changing their meaning.**

**Question 33.** What is the distance between Hai Phong and Ha Noi?

→ **How far** .....

**Question 34.** It's good for you to drink lots of water during the day.

→ **You should** .....

**Question 35.** Phong was sick, so he didn't go to school yesterday.

→ **Phong didn't** .....

**Question 36.** My friend doesn't have enough money. However, she wants to buy that new car.

→ **Although** .....

**Write complete sentences from cue words below.**

**Question 37.** You/ play/ chess/ at/ festival/ yesterday?

→ .....

**Question 38.** *The Godfather*/ be/ American crime film/ although/ its/ main characters/ come/ Italy.

→ .....

**Question 39.** It/ about/ 2 kilometers/ here/ the nearest post office.

→ .....

**Question 40.** Jane/ often/ have/ English/ Maths/ Monday?

→ .....

--- THE END ---

I. TRẮC NGHIỆM: (7 điểm) Học sinh tô kín đáp án đúng nhất bằng bút chì cho các câu hỏi sau vào giấy kiểm tra được phát.

Câu 1. Vật liệu bị nam châm hút gọi là vật liệu

- A. bị hút.                      B. có tính từ.                      C. có tính điện.                      D. bằng kim loại.

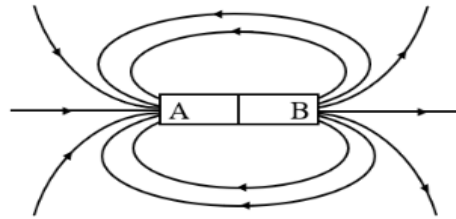
Câu 2. Không gian xung quanh nam châm, xung quanh dòng điện tồn tại

- A. từ trường.                      B. trọng trường.                      C. điện trường.                      D. điện từ trường.

Câu 3. Hai thanh nam châm được đặt gần nhau mà hút nhau thì

- A. hai cực Bắc để gần nhau.                      B. hai cực cùng tên gần nhau.  
C. hai cực Nam để gần nhau.                      D. hai cực khác tên gần nhau.

Câu 4. Hình dưới đây cho biết một số đường sức từ của nam châm thẳng. Hãy xác định tên hai cực của nam châm dưới đây?



- A. A là cực Bắc, B là cực Nam.  
B. A là cực Nam, B là cực Bắc.  
C. A và B đều là cực Bắc.  
D. A và B đều là cực Nam

Câu 5. Từ trường mạnh có thể ảnh hưởng đến sức khỏe của con người như gây chóng mặt, buồn nôn. Vì vậy ở nơi có từ trường mạnh thường có biển cảnh báo nào?



A.



B.



C.



D.

Câu 6. Những yếu tố nào ảnh hưởng đến quang hợp của thực vật?

- A. Khí oxygen, nước, khí carbon dioxide, nhiệt độ.  
B. Ánh sáng, khí carbon dioxide, nhiệt độ, khí oxygen.  
C. Nhiệt độ, nước, khí carbon dioxide, chất diệp lục.  
D. Ánh sáng, nước, nhiệt độ, khí carbon dioxide.

Câu 7. Chất nào là sản phẩm của quá trình trao đổi chất được động vật thải ra môi trường?

- A. Oxygen.                      B. Carbon dioxide.                      C. Chất dinh dưỡng.                      D. Vitamin.

Câu 8. Chuyển hóa vật chất là sự biến đổi từ dạng năng lượng này sang năng lượng

- A. lớn hơn.                      B. nhỏ hơn.                      C. như nhau.                      D. khác.

Câu 9. Nguyên liệu của quá trình quang hợp gồm

- A. glucose và khí carbon dioxide.                      B. nước và khí oxygen.  
C. nước và glucose.                      D. nước và khí carbon dioxide.

Câu 10. Nguyên liệu của quá hô hấp được tạo ra từ quá trình

- A. phân giải chất hữu cơ.                      B. phân giải ATP.  
C. tổng hợp ATP.                      D. tổng hợp chất hữu cơ.

Câu 11. Cơ sở khoa học của các phương pháp bảo quản lương thực, thực phẩm là

- A. không chế hô hấp ở mức tối thiểu.                      B. làm lương thực, thực phẩm nhanh chín hơn.  
C. kích thích hô hấp ở mức tối đa.                      D. không chế tế bào ngừng hô hấp.

**Câu 12. Quang hợp phụ thuộc vào hàm lượng nước vì nước là**

- A. nguyên liệu và ảnh hưởng tới sự đóng mở khí khổng.
- B. dung môi và môi trường cho phản ứng quang hợp xảy ra.
- C. chất xúc tác của quá trình quang hợp.
- D. hòa tan oxygen cung cấp cho quá trình quang hợp.

**Câu 13. Cơ quan trao đổi khí của con mèo là**

- A. da.
- B. hệ thống ống khí.
- C. mang.
- D. phổi.

**Câu 14. Phát biểu nào đúng về cấu trúc và tính chất của nước?**

- A. Nước là chất lỏng có hình dạng nhất định.
- B. Nước không màu, không mùi vị.
- C. Nước có tính lưỡng cực.
- D. Nước có nhiều mùi vị.

**Câu 15. Trao đổi chất và chuyển hoá năng lượng có vai trò quan trọng đối với**

- A. sự chuyển hoá của sinh vật.
- B. sự biến đổi các chất.
- C. sự trao đổi năng lượng.
- D. sự sống của sinh vật.

**Câu 16. Trong quá trình quang hợp, ánh sáng mặt trời là năng lượng dạng**

- A. cơ năng.
- B. hóa năng.
- C. quang năng.
- D. nhiệt năng.

**Câu 17. Yếu tố nào ảnh hưởng đến quá trình quang hợp?**

- A. Gió.
- B. Chất dinh dưỡng.
- C. Khí oxygen.
- D. Nước.

**Câu 18. Khi nói về hô hấp tế bào, điều nào không đúng?**

- A. Quá trình hô hấp tế bào chủ yếu diễn ra trong nhân tế bào.
- B. Đó là quá trình biến đổi các chất hữu cơ thành carbon dioxide, nước và giải phóng năng lượng.
- C. Nguyên liệu cho quá trình hô hấp là chất hữu cơ và oxygen.
- D. Đó là quá trình chuyển hoá năng lượng rất quan trọng của tế bào.

**Câu 19. Khi hàm lượng nước tăng cường độ hô hấp sẽ**

- A. tăng.
- B. giảm.
- C. có thể tăng hoặc giảm.
- D. không thay đổi.

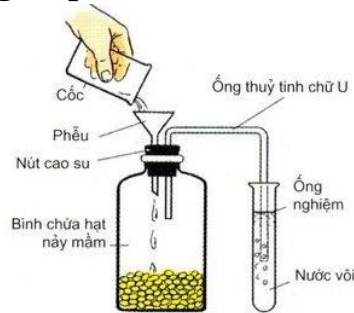
**Câu 20. Mô tả chính xác về cấu tạo của khí khổng ở lá cây là**

- A. thành ngoài mỏng, thành trong dày.
- B. thành trong dày, thành ngoài dày.
- C. thành trong mỏng, thành ngoài mỏng.
- D. thành ngoài dày, thành trong mỏng.

**Câu 21. Trong ngày, khí khổng có độ mở như thế nào?**

- A. Giảm từ sáng đến trưa rồi tăng dần và lớn nhất vào chiều tối.
- B. Tăng từ sáng đến trưa rồi giảm dần và nhỏ nhất vào chiều tối.
- C. Giảm dần từ sáng đến tối tăng dần và lớn nhất vào chiều tối.
- D. Tăng dần từ sáng đến tối giảm dần và nhỏ nhất vào chiều tối.

**Câu 22. Quan sát thí nghiệm ở hình sau (chú ý: ống nghiệm đựng nước vôi trong bị vẩn đục). Đây là một thí nghiệm chứng tỏ quá trình**



- A. quang hợp ở hạt đang nảy mầm có sự thải ra oxygen.
  - B. hô hấp ở hạt đang nảy mầm có sự thải ra carbon dioxide.
  - C. quang hợp ở hạt đang nảy mầm có sự thải ra carbon dioxide.
  - D. hô hấp ở hạt đang nảy mầm có sự tạo ra calcium carbonate
- Câu 23. Phát biểu không đúng khi nói về vai trò của thực vật?**

- A. Cân bằng khí carbon dioxide và oxygen trong không khí.
- B. Tán lá cây làm tăng nhiệt độ môi trường trong khu vực trời nắng gắt.
- C. Một số cây tiết ra chất có tác dụng tiêu diệt một số vi khuẩn gây bệnh.
- D. Lá cây ngăn bụi và khí độc làm giảm ô nhiễm môi trường.

**Câu 24. Tại sao trước khi trồng cây, nông dân thường làm tơi xốp đất?**

- A. Hạ nhiệt độ cho đất.
- B. Giúp đất màu mỡ hơn.
- C. Tăng lượng khí oxygen trong đất.
- D. Giúp đất không bị xói mòn.

**Câu 25. Sắp xếp các bộ phận sau theo đúng thứ tự của cơ quan hô hấp ở người: phổi, khí quản, khoang mũi, thanh quản, phế quản.**

- A. Khoang mũi, khí quản, thanh quản, phế quản, phổi.
- B. Khoang mũi, thanh quản, khí quản, phế quản, phổi.
- C. Khoang mũi, phế quản, khí quản, thanh quản, phổi.
- D. Khoang mũi, phổi, khí quản, thanh quản, phế quản.

**Câu 26. Ở người, nước chiếm khoảng bao nhiêu phần trăm khối lượng cơ thể?**

- A. 90%.
- B. 60%.
- C. 70%.
- D. 80%.

**Câu 27. Vào những ngày nắng nóng, người ta thường tưới nhiều nước cho cây vì khi tưới nhiều nước sẽ giúp cây**

- A. hạn chế tình trạng mất nước.
- B. kích thích quá trình hô hấp.
- C. tăng cường vận chuyển các chất dinh dưỡng.
- D. kích thích quá trình thoát hơi nước.

**Câu 28. Khi cá còn tươi, mở nắp mang cá mang cá sẽ có màu**

- A. đỏ tươi.
- B. đỏ sẫm.
- C. thâm đen.
- D. xanh lục.

**II. TỰ LUẬN (3 điểm): Học sinh viết đáp án vào phiếu kiểm tra được phát**

**Câu 29 (1 điểm):** Trình bày ảnh hưởng của yếu tố ánh sáng, carbon dioxide tới quá trình quang hợp ở thực vật.

**Câu 30 (1 điểm):**

- a) So sánh sự trao đổi khí ở thực vật và động vật
- b) Tại sao trước khi gieo hạt nên ngâm hạt trong nước ấm có nhiệt độ từ 35 – 40°C

**Câu 31 (1 điểm):** Khi bị nôn, sốt cao, tiêu chảy hoặc cơ thể bị mất rất nhiều nước em cần làm gì?

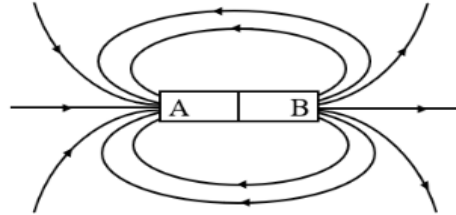
**I. TRẮC NGHIỆM: (7 điểm)** Học sinh tô kín đáp án đúng nhất bằng bút chì cho các câu hỏi sau vào giấy kiểm tra được phát.

**Câu 1. Vật liệu bị nam châm hút gọi là vật liệu**

- A. có tính từ.                      B. bị hút.                      C. có tính điện.                      D. bằng kim loại.

**Câu 2. Hình dưới đây cho biết một số đường sức từ của nam châm thẳng. Hãy xác định tên hai cực của nam châm dưới đây?**

- A. A là cực Nam, B là cực Bắc.  
B. A và B đều là cực Nam.  
C. A và B đều là cực Bắc.  
D. A là cực Bắc, B là cực Nam.



**Câu 3. Ở người, nước chiếm khoảng bao nhiêu phần trăm khối lượng cơ thể?**

- A. 60%.                      B. 80%.                      C. 70%.                      D. 90%.

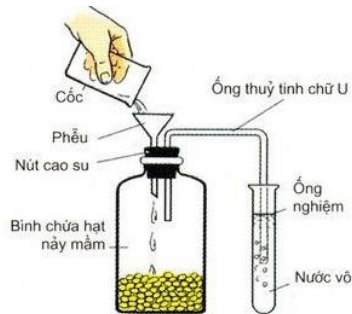
**Câu 4. Vào những ngày nắng nóng, người ta thường tưới nhiều nước cho cây vì khi tưới nhiều nước sẽ giúp cây**

- A. tăng cường vận chuyển các chất dinh dưỡng.  
B. kích thích quá trình hô hấp.  
C. hạn chế tình trạng mất nước.  
D. kích thích quá trình thoát hơi nước.

**Câu 5. Phát biểu nào đúng về cấu trúc và tính chất của nước?**

- A. Nước không màu, không mùi vị.  
B. Nước là chất lỏng có hình dạng nhất định.  
C. Nước có nhiều mùi vị.  
D. Nước có tính lưỡng cực.

**Câu 6. Quan sát thí nghiệm ở hình sau (chú ý: ống nghiệm đựng nước vôi trong bị vẩn đục). Đây là một thí nghiệm chứng tỏ quá trình**



- A. quang hợp ở hạt đang nảy mầm có sự thải ra oxygen.  
B. hô hấp ở hạt đang nảy mầm có sự thải ra carbon dioxide.  
C. quang hợp ở hạt đang nảy mầm có sự thải ra carbon dioxide.  
D. hô hấp ở hạt đang nảy mầm có sự tạo ra calcium carbonate

**Câu 7. Cơ sở khoa học của các phương pháp bảo quản lương thực, thực phẩm là**

- A. làm lương thực, thực phẩm nhanh chín hơn.  
B. kích thích hô hấp ở mức tối đa.  
C. khống chế hô hấp ở mức tối thiểu.

D. không chế tế bào ngừng hô hấp.

**Câu 8. Khi hàm lượng nước tăng cường độ hô hấp sẽ**

- A. có thể tăng hoặc giảm. B. không thay đổi.  
C. tăng. D. giảm.

**Câu 9. Không gian xung quanh nam châm, xung quanh dòng điện tồn tại**

- A. điện từ trường. B. từ trường. C. trọng trường. D. điện trường.

**Câu 10. Trong ngày, khí không có độ mở như thế nào?**

- A. Giảm dần từ sáng đến tối tăng dần và lớn nhất vào chiều tối.  
B. Tăng từ sáng đến trưa rồi giảm dần và nhỏ nhất vào chiều tối.  
C. Giảm từ sáng đến trưa rồi tăng dần và lớn nhất vào chiều tối.  
D. Tăng dần từ sáng đến tối giảm dần và nhỏ nhất vào chiều tối.

**Câu 11. Tại sao trước khi trồng cây, nông dân thường làm tơi xốp đất?**

- A. Giúp đất không bị xói mòn. B. Giúp đất màu mỡ hơn.  
C. Hạ nhiệt độ cho đất. D. Tăng lượng khí oxygen trong đất.

**Câu 12. Trao đổi chất và chuyển hoá năng lượng có vai trò quan trọng đối với**

- A. sự biến đổi các chất. B. sự sống của sinh vật.  
C. sự trao đổi năng lượng. D. sự chuyển hoá của sinh vật.

**Câu 13. Yếu tố nào ảnh hưởng đến quá trình quang hợp?**

- A. Nước. B. Khí oxygen. C. Gió. D. Chất dinh dưỡng.

**Câu 14. Khi nói về hô hấp tế bào, điều nào không đúng?**

- A. Đó là quá trình chuyển hoá năng lượng rất quan trọng của tế bào.  
B. Nguyên liệu cho quá trình hô hấp là chất hữu cơ và oxygen.  
C. Quá trình hô hấp tế bào chủ yếu diễn ra trong nhân tế bào.  
D. Đó là quá trình biến đổi các chất hữu cơ thành carbon dioxide, nước và giải phóng năng lượng.

**Câu 15. Cơ quan trao đổi khí của con mèo là**

- A. da. B. hệ thống ống khí. C. mang. D. phổi.

**Câu 16. Mô tả chính xác về cấu tạo của khí khổng ở lá cây?**

- A. thành ngoài dày, thành trong mỏng. B. thành trong dày, thành ngoài dày.  
C. thành ngoài mỏng, thành trong dày. D. thành trong mỏng, thành ngoài mỏng.

**Câu 17. Chuyển hóa vật chất là sự biến đổi từ dạng năng lượng này sang năng lượng**

- A. khác. B. như nhau. C. nhỏ hơn. D. lớn hơn.

**Câu 18. Những yếu tố nào ảnh hưởng đến quang hợp của thực vật?**

- A. Nhiệt độ, nước, khí carbon dioxide, chất diệp lục.  
B. Ánh sáng, khí carbon dioxide, nhiệt độ, khí oxygen.  
C. Khí oxygen, nước, khí carbon dioxide, nhiệt độ.  
D. Ánh sáng, nước, nhiệt độ, khí carbon dioxide.

**Câu 19. Phát biểu không đúng khi nói về vai trò của thực vật?**

- A. Lá cây ngăn bụi và khí độc làm giảm ô nhiễm môi trường.  
B. Một số cây tiết ra chất có tác dụng tiêu diệt một số vi khuẩn gây bệnh.  
C. Cân bằng khí carbon dioxide và oxygen trong không khí.  
D. Tán lá cây làm tăng nhiệt độ môi trường trong khu vực trời nắng gắt.

**Câu 20. Từ trường mạnh có thể ảnh hưởng đến sức khỏe của con người như gây chóng mặt, buồn nôn. Vì vậy ở nơi có từ trường mạnh thường có biển cảnh báo nào?**



A.

B.

C.

D.

**Câu 21. Khi cá còn tươi, mở nắp mang cá mang cá sẽ có màu**

- A. thâm đen.                      B. xanh lục.                      C. đỏ tươi.                      D. đỏ sẫm.

**Câu 22. Trong quá trình quang hợp, ánh sáng mặt trời là năng lượng dạng**

- A. nhiệt năng.                      B. quang năng.                      C. hóa năng.                      D. cơ năng.

**Câu 23. Sắp xếp các bộ phận sau theo đúng thứ tự của cơ quan hô hấp ở người: phổi, khí quản, khoang mũi, thanh quản, phế quản.**

- A. Khoang mũi, khí quản, thanh quản, phế quản, phổi.  
 B. Khoang mũi, phế quản, khí quản, thanh quản, phổi.  
 C. Khoang mũi, phổi, khí quản, thanh quản, phế quản.  
 D. Khoang mũi, thanh quản, khí quản, phế quản, phổi.

**Câu 24. Quang hợp phụ thuộc vào hàm lượng nước vì nước là**

- A. dung môi và môi trường cho phản ứng quang hợp xảy ra.  
 B. nguyên liệu và ảnh hưởng tới sự đóng mở khí khổng.  
 C. hòa tan oxygen cung cấp cho quá trình quang hợp.  
 D. chất xúc tác của quá trình quang hợp.

**Câu 25. Chất nào là sản phẩm của quá trình trao đổi chất được động vật thải ra môi trường?**

- A. Chất dinh dưỡng.                      B. Carbon dioxide.                      C. Vitamin.                      D. Oxygen.

**Câu 26. Nguyên liệu của quá hô hấp được tạo ra từ quá trình**

- A. phân giải chất hữu cơ.                      B. tổng hợp chất hữu cơ.  
 C. tổng hợp ATP.                      D. phân giải ATP.

**Câu 27. Nguyên liệu của quá trình quang hợp gồm**

- A. nước và khí carbon dioxide.                      B. nước và khí oxygen.  
 C. nước và glucose.                      D. glucose và khí carbon dioxide.

**Câu 28. Hai thanh nam châm được đặt gần nhau mà hút nhau thì**

- A. hai cực khác tên gần nhau.                      B. hai cực cùng tên gần nhau.  
 C. hai cực Bắc để gần nhau.                      D. hai cực Nam để gần nhau.

**II. TỰ LUẬN 3 điểm): Học sinh viết đáp án vào phiếu kiểm tra được phát**

**Câu 29 (1 điểm):** Trình bày ảnh hưởng của yếu tố ánh sáng, carbon dioxide tới quá trình quang hợp ở thực vật.

**Câu 30 (1 điểm):**

- a) So sánh sự trao đổi khí ở thực vật và động vật  
 b) Tại sao trước khi gieo hạt nên ngâm hạt trong nước ấm có nhiệt độ từ 35 – 40°C

**Câu 31 (1 điểm):** Khi bị nôn, sốt cao, tiêu chảy hoặc cơ thể bị mất rất nhiều nước em cần làm gì?

**I. TRẮC NGHIỆM: (7 điểm)** Học sinh tô kín đáp án đúng nhất bằng bút chì cho các câu hỏi sau vào giấy kiểm tra được phát.

**Câu 1. Nguyên liệu của quá trình quang hợp gồm**

- A. glucose và khí carbon dioxide.                      B. nước và glucose.  
C. nước và khí carbon dioxide.                      D. nước và khí oxygen.

**Câu 2. Khi hàm lượng nước tăng cường độ hô hấp sẽ**

- A. tăng.                      B. giảm.  
C. có thể tăng hoặc giảm.                      D. không thay đổi.

**Câu 3. Khi nói về hô hấp tế bào, điều nào không đúng?**

- A. Quá trình hô hấp tế bào chủ yếu diễn ra trong nhân tế bào.  
B. Đó là quá trình biến đổi các chất hữu cơ thành carbon dioxide, nước và giải phóng năng lượng.  
C. Nguyên liệu cho quá trình hô hấp là chất hữu cơ và oxygen.  
D. Đó là quá trình chuyển hoá năng lượng rất quan trọng của tế bào.

**Câu 4. Trong quá trình quang hợp, ánh sáng mặt trời là năng lượng dạng**

- A. quang năng.                      B. hóa năng.                      C. cơ năng.                      D. nhiệt năng.

**Câu 5. Sắp xếp các bộ phận sau theo đúng thứ tự của cơ quan hô hấp ở người: phổi, khí quản, khoang mũi, thanh quản, phế quản.**

- A. Khoang mũi, thanh quản, khí quản, phế quản, phổi.  
B. Khoang mũi, phế quản, khí quản, thanh quản, phổi.  
C. Khoang mũi, phổi, khí quản, thanh quản, phế quản.  
D. Khoang mũi, khí quản, thanh quản, phế quản, phổi.

**Câu 6. Những yếu tố nào ảnh hưởng đến quang hợp của thực vật?**

- A. Ánh sáng, nước, nhiệt độ, khí carbon dioxide.  
B. Nhiệt độ, nước, khí carbon dioxide, chất diệp lục.  
C. Khí oxygen, nước, khí carbon dioxide, nhiệt độ.  
D. Ánh sáng, khí carbon dioxide, nhiệt độ, khí oxygen.

**Câu 7. Không gian xung quanh nam châm, xung quanh dòng điện tồn tại**

- A. từ trường.                      B. điện trường.                      C. trọng trường.                      D. điện từ trường.

**Câu 8. Khi cá còn tươi, mở nắp mang cá mang cá sẽ có màu**

- A. thâm đen.                      B. đỏ sẫm.                      C. xanh lục.                      D. đỏ tươi.

**Câu 9. Cơ quan trao đổi khí của con mèo là**

- A. da.                      B. mang.                      C. phổi.                      D. hệ thống ống khí.

**Câu 10. Trao đổi chất và chuyển hoá năng lượng có vai trò quan trọng đối với**

- A. sự chuyển hoá của sinh vật.                      B. sự trao đổi năng lượng.  
C. sự sống của sinh vật.                      D. sự biến đổi các chất.

**Câu 11. Nguyên liệu của quá hô hấp được tạo ra từ quá trình**

- A. phân giải ATP.                      B. phân giải chất hữu cơ.  
C. tổng hợp chất hữu cơ.                      D. tổng hợp ATP.

**Câu 12. Phát biểu nào đúng về cấu trúc và tính chất của nước?**

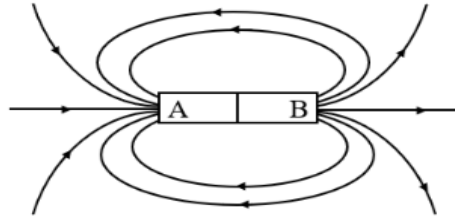
- A. Nước là chất lỏng có hình dạng nhất định.  
B. Nước không màu, không mùi vị.



- C. Nước có nhiều mùi vị.
- D. Nước có tính lưỡng cực.

**Câu 13. Hình dưới đây cho biết một số đường sức từ của nam châm thẳng. Hãy xác định tên hai cực của nam châm dưới đây?**

- A. A và B đều là cực Nam
- B. A là cực Bắc, B là cực Nam.
- C. A và B đều là cực Bắc.
- D. A là cực Nam, B là cực Bắc.



**Câu 14. Hai thanh nam châm được đặt gần nhau mà hút nhau thì**

- A. hai cực Nam để gần nhau.
- B. hai cực cùng tên gần nhau.
- C. hai cực khác tên gần nhau.
- D. hai cực Bắc để gần nhau.

**Câu 15. Vật liệu bị nam châm hút gọi là vật liệu**

- A. có tính từ.
- B. bị hút.
- C. bằng kim loại.
- D. có tính điện.

**Câu 16. Yếu tố nào ảnh hưởng đến quá trình quang hợp?**

- A. Khí oxygen.
- B. Chất dinh dưỡng.
- C. Nước.
- D. Gió.

**Câu 17. Quang hợp phụ thuộc vào hàm lượng nước vì nước là**

- A. nguyên liệu và ảnh hưởng tới sự đóng mở khí khổng.
- B. chất xúc tác của quá trình quang hợp.
- C. dung môi và môi trường cho phản ứng quang hợp xảy ra.
- D. hòa tan oxygen cung cấp cho quá trình quang hợp.

**Câu 18. Phát biểu không đúng khi nói về vai trò của thực vật?**

- A. Tán lá cây làm tăng nhiệt độ môi trường trong khu vực trời nắng gắt.
- B. Lá cây ngăn bụi và khí độc làm giảm ô nhiễm môi trường.
- C. Cân bằng khí carbon dioxide và oxygen trong không khí.
- D. Một số cây tiết ra chất có tác dụng tiêu diệt một số vi khuẩn gây bệnh.

**Câu 19. Chất nào là sản phẩm của quá trình trao đổi chất được động vật thải ra môi trường?**

- A. Chất dinh dưỡng.
- B. Vitamin.
- C. Oxygen.
- D. Carbon dioxide.

**Câu 20. Tại sao trước khi trồng cây, nông dân thường làm tơi xốp đất?**

- A. Hạ nhiệt độ cho đất.
- B. Giúp đất màu mỡ hơn.
- C. Tăng lượng khí oxygen trong đất.
- D. Giúp đất không bị xói mòn.

**Câu 21. Vào những ngày nắng nóng, người ta thường tưới nhiều nước cho cây vì khi tưới nhiều nước sẽ giúp cây**

- A. kích thích quá trình thoát hơi nước.
- B. tăng cường vận chuyển các chất dinh dưỡng.
- C. kích thích quá trình hô hấp.
- D. hạn chế tình trạng mất nước.

**Câu 22. Cơ sở khoa học của các phương pháp bảo quản lương thực, thực phẩm là**

- A. làm lương thực, thực phẩm nhanh chín hơn.
- B. kích thích hô hấp ở mức tối đa.
- C. khống chế hô hấp ở mức tối thiểu.
- D. khống chế tế bào ngừng hô hấp.

**Câu 23. Chuyển hóa vật chất là sự biến đổi từ dạng năng lượng này sang năng lượng**

- A. lớn hơn.
- B. nhỏ hơn.
- C. như nhau.
- D. khác.

**Câu 24. Từ trường mạnh có thể ảnh hưởng đến sức khỏe của con người như gây chóng mặt, buồn nôn. Vì vậy ở nơi có từ trường mạnh thường có biển cảnh báo nào?**



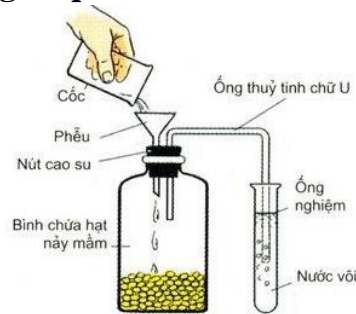
A.

B.

C.

D.

**Câu 25. Quan sát thí nghiệm ở hình sau (chú ý: ống nghiệm đựng nước vôi trong bị vẩn đục). Đây là một thí nghiệm chứng tỏ quá trình**



- A. hô hấp ở hạt đang nảy mầm có sự thải ra carbon dioxide.
- B. quang hợp ở hạt đang nảy mầm có sự thải ra oxygen.
- C. hô hấp ở hạt đang nảy mầm có sự tạo ra calcium carbonate
- D. quang hợp ở hạt đang nảy mầm có sự thải ra carbon dioxide.

**Câu 26. Trong ngày, khí khổng có độ mở như thế nào?**

- A. Giảm dần từ sáng đến tối tăng dần và lớn nhất vào chiều tối.
- B. Tăng dần từ sáng đến tối giảm dần và nhỏ nhất vào chiều tối.
- C. Tăng từ sáng đến trưa rồi giảm dần và nhỏ nhất vào chiều tối.
- D. Giảm từ sáng đến trưa rồi tăng dần và lớn nhất vào chiều tối.

**Câu 27. Ở người, nước chiếm khoảng bao nhiêu phần trăm khối lượng cơ thể?**

- A. 90%.
- B. 80%.
- C. 60%.
- D. 70%.

**Câu 28. Mô tả chính xác về cấu tạo của khí khổng ở lá cây?**

- A. thành trong mỏng, thành ngoài mỏng.
- B. thành trong dày, thành ngoài dày.
- C. thành ngoài dày, thành trong mỏng.
- D. thành ngoài mỏng, thành trong dày.

**II. TỰ LUẬN (3 điểm): Học sinh viết đáp án vào phiếu kiểm tra được phát**

**Câu 29 (1 điểm):** Trình bày ảnh hưởng của yếu tố ánh sáng, carbon dioxide tới quá trình quang hợp ở thực vật.

**Câu 30 (1 điểm):**

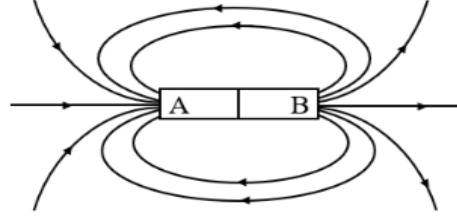
- a) So sánh sự trao đổi khí ở thực vật và động vật
- b) Tại sao trước khi gieo hạt nên ngâm hạt trong nước ấm có nhiệt độ từ 35 – 40°C

**Câu 31 (1 điểm):** Khi bị nôn, sốt cao, tiêu chảy hoặc cơ thể bị mất rất nhiều nước em cần làm gì?

**I. TRẮC NGHIỆM: (7 điểm)** Học sinh tô kín đáp án đúng nhất bằng bút chì cho các câu hỏi sau vào giấy kiểm tra được phát.

**Câu 1.** Hình dưới đây cho biết một số đường sức từ của nam châm thẳng. Hãy xác định tên hai cực của nam châm dưới đây?

- A. A là cực Bắc, B là cực Nam.
- B. A và B đều là cực Nam.
- C. A và B đều là cực Bắc.
- D. A là cực Nam, B là cực Bắc.



**Câu 2.** Chất nào là sản phẩm của quá trình trao đổi chất được động vật thải ra môi trường?

- A. Carbon dioxide.
- B. Vitamin.
- C. Chất dinh dưỡng.
- D. Oxygen.

**Câu 3.** Khi cá còn tươi, mở nắp mang cá mang cá sẽ có màu

- A. đỏ sẫm.
- B. thâm đen.
- C. đỏ tươi.
- D. xanh lục.

**Câu 4.** Khi hàm lượng nước tăng cường độ hô hấp sẽ

- A. tăng.
- B. có thể tăng hoặc giảm.
- C. không thay đổi.
- D. giảm.

**Câu 5.** Phát biểu nào đúng về cấu trúc và tính chất của nước?

- A. Nước có tính lưỡng cực.
- B. Nước là chất lỏng có hình dạng nhất định.
- C. Nước không màu, không mùi vị.
- D. Nước có nhiều mùi vị.

**Câu 6.** Trong ngày, khí khổng có độ mở như thế nào?

- A. Giảm dần từ sáng đến tối tăng dần và lớn nhất vào chiều tối.
- B. Giảm từ sáng đến trưa rồi tăng dần và lớn nhất vào chiều tối.
- C. Tăng dần từ sáng đến tối giảm dần và nhỏ nhất vào chiều tối.
- D. Tăng từ sáng đến trưa rồi giảm dần và nhỏ nhất vào chiều tối.

**Câu 7.** Không gian xung quanh nam châm, xung quanh dòng điện tồn tại

- A. điện trường.
- B. trọng trường.
- C. điện từ trường.
- D. từ trường.

**Câu 8.** Hai thanh nam châm được đặt gần nhau mà hút nhau thì

- A. hai cực Bắc để gần nhau.
- B. hai cực cùng tên gần nhau.
- C. hai cực khác tên gần nhau.
- D. hai cực Nam để gần nhau.

**Câu 9.** Quang hợp phụ thuộc vào hàm lượng nước vì nước là

- A. chất xúc tác của quá trình quang hợp.
- B. dung môi và môi trường cho phản ứng quang hợp xảy ra.
- C. hòa tan oxygen cung cấp cho quá trình quang hợp.
- D. nguyên liệu và ảnh hưởng tới sự đóng mở khí khổng.

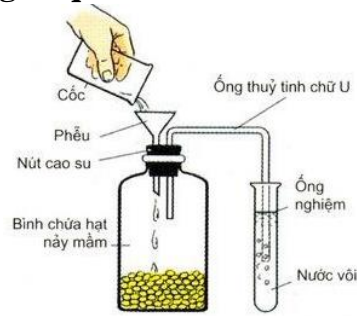
**Câu 10.** Cơ quan trao đổi khí của con mèo là

- A. phổi.
- B. da.
- C. hệ thống ống khí.
- D. mang.

**Câu 11.** Khi nói về hô hấp tế bào, điều nào không đúng?

- A. Đó là quá trình biến đổi các chất hữu cơ thành carbon dioxide, nước và giải phóng năng lượng.
- B. Nguyên liệu cho quá trình hô hấp là chất hữu cơ và oxygen.
- C. Quá trình hô hấp tế bào chủ yếu diễn ra trong nhân tế bào.
- D. Đó là quá trình chuyển hoá năng lượng rất quan trọng của tế bào.

**Câu 12. Quan sát thí nghiệm ở hình sau (chú ý: ống nghiệm đựng nước vôi trong bị vẩn đục). Đây là một thí nghiệm chứng tỏ quá trình**



- A. quang hợp ở hạt đang nảy mầm có sự thải ra oxygen.
- B. hô hấp ở hạt đang nảy mầm có sự tạo ra calcium carbonate
- C. hô hấp ở hạt đang nảy mầm có sự thải ra carbon dioxide.
- D. quang hợp ở hạt đang nảy mầm có sự thải ra carbon dioxide.

**Câu 13. Vào những ngày nắng nóng, người ta thường tưới nhiều nước cho cây vì khi tưới nhiều nước sẽ giúp cây**

- A. kích thích quá trình thoát hơi nước.
- B. kích thích quá trình hô hấp.
- C. tăng cường vận chuyển các chất dinh dưỡng.
- D. hạn chế tình trạng mất nước.

**Câu 14. Yếu tố nào ảnh hưởng đến quá trình quang hợp?**

- A. Gió.
- B. Chất dinh dưỡng.
- C. Khí oxygen.
- D. Nước.

**Câu 15. Trao đổi chất và chuyển hoá năng lượng có vai trò quan trọng đối với**

- A. sự trao đổi năng lượng.
- B. sự biến đổi các chất.
- C. sự sống của sinh vật.
- D. sự chuyển hoá của sinh vật.

**Câu 16. Nguyên liệu của quá trình quang hợp gồm**

- A. nước và glucose.
- B. nước và khí oxygen.
- C. nước và khí carbon dioxide.
- D. glucose và khí carbon dioxide.

**Câu 17. Vật liệu bị nam châm hút gọi là vật liệu**

- A. bằng kim loại.
- B. bị hút.
- C. có tính từ.
- D. có tính điện.

**Câu 18. Những yếu tố nào ảnh hưởng đến quang hợp của thực vật?**

- A. Nhiệt độ, nước, khí carbon dioxide, chất diệp lục.
- B. Ánh sáng, nước, nhiệt độ, khí carbon dioxide.
- C. Khí oxygen, nước, khí carbon dioxide, nhiệt độ.
- D. Ánh sáng, khí carbon dioxide, nhiệt độ, khí oxygen.

**Câu 19. Phát biểu không đúng khi nói về vai trò của thực vật?**

- A. Tán lá cây làm tăng nhiệt độ môi trường trong khu vực trời nắng gắt.
- B. Lá cây ngăn bụi và khí độc làm giảm ô nhiễm môi trường.
- C. Một số cây tiết ra chất có tác dụng tiêu diệt một số vi khuẩn gây bệnh.
- D. Cân bằng khí carbon dioxide và oxygen trong không khí.

**Câu 20. Mô tả chính xác về cấu tạo của khí khổng ở lá cây là**

- A. thành ngoài mỏng, thành trong dày.
- B. thành trong dày, thành ngoài dày.
- C. thành ngoài dày, thành trong mỏng.
- D. thành trong mỏng, thành ngoài mỏng.

**Câu 21. Từ trường mạnh có thể ảnh hưởng đến sức khỏe của con người như gây chóng mặt, buồn nôn. Vì vậy ở nơi có từ trường mạnh thường có biển cảnh báo nào?**



A.

B.

C.

D.

**Câu 22. Ở người, nước chiếm khoảng bao nhiêu phần trăm khối lượng cơ thể?**

A. 70%.

B. 60%.

C. 90%.

D. 80%.

**Câu 23. Sắp xếp các bộ phận sau theo đúng thứ tự của cơ quan hô hấp ở người: phổi, khí quản, khoang mũi, thanh quản, phế quản.**

A. Khoang mũi, phổi, khí quản, thanh quản, phế quản.

B. Khoang mũi, thanh quản, khí quản, phế quản, phổi.

C. Khoang mũi, phế quản, khí quản, thanh quản, phổi.

D. Khoang mũi, khí quản, thanh quản, phế quản, phổi.

**Câu 24. Cơ sở khoa học của các phương pháp bảo quản lương thực, thực phẩm là**

A. không chế tể bào ngừng hô hấp.

B. không chế hô hấp ở mức tối thiểu.

C. kích thích hô hấp ở mức tối đa.

D. làm lương thực, thực phẩm nhanh chín hơn.

**Câu 25. Tại sao trước khi trồng cây, nông dân thường làm tơi xốp đất?**

A. Tăng lượng khí oxygen trong đất.

B. Giúp đất không bị xói mòn.

C. Giúp đất màu mỡ hơn.

D. Hạ nhiệt độ cho đất.

**Câu 26. Chuyển hóa vật chất là sự biến đổi từ dạng năng lượng này sang năng lượng**

A. như nhau.

B. khác.

C. nhỏ hơn.

D. lớn hơn.

**Câu 27. Trong quá trình quang hợp, ánh sáng mặt trời là năng lượng dạng**

A. nhiệt năng.

B. cơ năng.

C. quang năng.

D. hóa năng.

**Câu 28. Nguyên liệu của quá hô hấp được tạo ra từ quá trình**

A. tổng hợp chất hữu cơ.

B. phân giải ATP.

C. phân giải chất hữu cơ.

D. tổng hợp ATP.

**II. TỰ LUẬN (3 điểm): Học sinh viết đáp án vào phiếu kiểm tra được phát**

**Câu 29 (1 điểm):** Trình bày ảnh hưởng của yếu tố ánh sáng, carbon dioxide tới quá trình quang hợp ở thực vật.

**Câu 30 (1 điểm):**

a) So sánh sự trao đổi khí ở thực vật và động vật

b) Tại sao trước khi gieo hạt nên ngâm hạt trong nước ấm có nhiệt độ từ 35 – 40°C

**Câu 31 (1 điểm):** Khi bị nôn, sốt cao, tiêu chảy hoặc cơ thể bị mất rất nhiều nước em cần làm gì?

**I. Trắc nghiệm (5 điểm): Hãy chọn và ghi đáp án đúng vào phiếu làm bài**

**Câu 1: Để tính tổng ta dùng hàm gì?**

- A. Average                      B. Count                      C. Sum                      D. Add

**Câu 2: Cho C3=12; C5=10; Ô E11 có công thức = Sum(C3,C5) thì hiển thị kết quả là**

- A. 29                      B. 22                      C. 21                      D. 28

**Câu 3: Cho C3=12; C4=15; C5=10; C6=8; C7=20; Để tính tổng các ô từ C3 đến C7, phương án nào sau đây đúng?**

- A. =SUM(C3-C7)                      C. = COUNT(C3:C7)  
B. =SUM(C3:C7)                      D. = COUNT(C3-C7)

**Câu 4: Cho C3=12; C4=15; C5=10; C6=8; C7=20; Công thức =AVERAGE(C3:C7) cho kết quả là**

- A. 10                      B. 65                      C. 12                      D. 13

**Câu 5: Giả sử trong ô tính có công thức =4/5 và em chọn nút lệnh % để định dạng cho ô đó, theo em kết quả nào sau đây là đúng?**

- A. số phân trăm                      C. số thập phân  
B. không thay đổi gì                      D. phân số

**Câu 6: Để định dạng dữ liệu kiểu ngày tháng cần chọn mục nào?**

- A. Format Cells/ Number                      C. Format Cells/ Percentage  
B. Format Cells/ Date                      D. Format Cells/ Time

**Câu 7: Trình bày bảng để**

- A. số liệu trong bảng tính chính xác hơn                      C. giúp tiết kiệm được bộ nhớ  
B. giúp tiết kiệm được thời gian                      D. giúp người dùng dễ so sánh, nhận xét

**Câu 8: Để gộp nhiều ô thành 1 ô thì làm như thế nào?**

- A. Vào Home/Wrap text                      C. Vào Insert/Wrap text  
B. Vào Home/ Merge & Center                      D. Vào Insert/ Merge & Center

**Câu 9: Định dạng đường viền trong ô dữ liệu bằng cách chọn các ô dữ liệu đó, chuột phải chọn Format Cells và chọn tiếp thẻ nào?**

- A. Number                      B. Alignment                      C. Font                      D. Border

**Câu 10: Để xóa cột (hàng) nháy chuột chọn cột (hàng) muốn xóa và**

- A. nháy chọn nút lệnh Delete trên bàn phím                      C. nháy phải chuột chọn Delete  
B. nháy chọn nút lệnh Cut trên thẻ Home                      D. nháy phải chuột chọn Cut

**Câu 11: Có mấy bước để in trang tính**

- A. 3                      B. 4                      C. 5                      D. 2

**Câu 12: Thao tác để in trang tính là**

- A. File/Print                      C. Home/Print  
B. Insert/Print                      D. Layout/Print

**Câu 13: Thao tác chèn thêm trang tính mới**

A. Insert/New sheet

B. File/New sheet

C. nhấn chuột phải chọn New sheet

D. nhấn chuột vào nút New sheet

**Câu 14: Thao tác đổi tên trang tính là**

A. nhấn chuột phải vào tên trang tính chọn Rename

B. vào File chọn Rename

C. vào Insert chọn Rename

D. nhấn chuột trái vào tên trang tính chọn Rename

**Câu 15: Đâu là phần mềm trình chiếu?**

A. Microsoft Word

B. Mozilla Firefox

C. Microsoft Excel

D. Microsoft PowerPoint

**Câu 16: Trang chiếu được sử dụng để giới thiệu một chủ đề và định hướng cho bài trình bày được gọi là**

A. trang tiêu đề

B. trang nội dung

C. trang trình bày bảng

D. trang trình bày đồ họa

**Câu 17: Trình bày bảng tính nhằm mục đích**

A. số liệu trong bảng tính chính xác hơn

B. giúp bảng tính dễ đọc

C. giúp tiết kiệm bộ nhớ

D. giúp người dùng dễ so sánh, nhận xét

**Câu 18: Đâu không phải là lợi ích của việc trình bày bảng tính?**

A. Xử lý dữ liệu kiểu số

B. Khả năng tính toán và sử dụng hàm

C. Sắp xếp và lọc dữ liệu

D. Căn chỉnh hình ảnh đẹp mắt

**Câu 19: Để tô màu cho văn bản trong ô tính em chọn nút lệnh nào trong thẻ Home?**

A. Font Color trong nhóm lệnh Font

B. Fill Color trong nhóm lệnh Font

C. Font Color trong nhóm lệnh Paragraph

D. Fill Color trong nhóm lệnh Paragraph

**Câu 20: Để tô màu nền cho ô tính em chọn nút lệnh nào trong thẻ Home?**

A. Font Color trong nhóm lệnh Font

B. Fill Color trong nhóm lệnh Font

C. Font Color trong nhóm lệnh Paragraph

D. Fill Color trong nhóm lệnh Paragraph

**II. Tự luận (5 điểm)**

**Câu 21 (2 điểm):** Em hãy nêu ưu điểm của việc sử dụng cấu trúc phân cấp trong bài trình chiếu?

**Câu 22 (2 điểm):** Viết kết quả cho mỗi công thức sau:

a. SUM(1,3,"Hà Nội", "0",5)

b. COUNT(1,3,5,7)

**Câu 23 (1 điểm):** Phần mềm bảng tính có thể gộp các ô trong một vùng không là hình chữ nhật được không? Vì sao?

\*\*\*\*\*

**I. Trắc nghiệm (5 điểm): Hãy ghi đáp án đúng vào phiếu bài làm**

**Câu 1. Trình bày bảng tính nhằm mục đích**

- A. số liệu trong bảng tính chính xác hơn  
B. giúp bảng tính dễ đọc  
C. giúp người dùng dễ so sánh, nhận xét  
D. giúp tiết kiệm bộ nhớ

**Câu 2. Để tô màu nền cho ô tính em chọn nút lệnh nào trong thẻ Home?**

- A. Fill Color trong nhóm lệnh Paragraph  
B. Font Color trong nhóm lệnh Font  
C. Font Color trong nhóm lệnh Paragraph  
D. Fill Color trong nhóm lệnh Font

**Câu 3. Định dạng đường viền trong ô dữ liệu bằng cách chọn các ô dữ liệu đó, chuột phải chọn Format Cells và chọn tiếp thẻ nào?**

- A. Alignment  
B. Border  
C. Font  
D. Number

**Câu 4. Đây là phần mềm trình chiếu?**

- A. Mozilla Firefox  
B. Microsoft Excel  
C. Microsoft Word  
D. Microsoft PowerPoint

**Câu 5. Có mấy bước để in trang tính**

- A. 3  
B. 2  
C. 5  
D. 4

**Câu 6. Cho C3=12; C4=15; C5=10; C6=8; C7=20; Công thức =AVERAGE(C3:C7) cho kết quả là**

- A. 13  
B. 12  
C. 65  
D. 10

**Câu 7. Để định dạng dữ liệu kiểu ngày tháng cần chọn mục nào?**

- A. Format Cells/ Percentage  
B. Format Cells/ Time  
C. Format Cells/ Number  
D. Format Cells/ Date

**Câu 8. Để tính tổng ta dùng hàm gì?**

- A. Count  
B. Average  
C. Sum  
D. Add

**Câu 9. Trình bày bảng để**

- A. số liệu trong bảng tính chính xác hơn  
B. giúp tiết kiệm được bộ nhớ  
C. giúp tiết kiệm được thời gian  
D. giúp người dùng dễ so sánh, nhận xét

**Câu 10. Thao tác đổi tên trang tính là**

- A. vào Insert chọn Rename  
B. vào File chọn Rename  
C. nhấn chuột trái vào tên trang tính chọn Rename  
D. nhấn chuột phải vào tên trang tính chọn Rename

**Câu 11. Để tô màu cho văn bản trong ô tính em chọn nút lệnh nào trong thẻ Home?**

- A. Fill Color trong nhóm lệnh Paragraph  
B. Fill Color trong nhóm lệnh Font  
C. Font Color trong nhóm lệnh Font  
D. Font Color trong nhóm lệnh Paragraph

**Câu 12. Cho C3=12; C5=10; Ô E11 có công thức = Sum(C3,C5) thì hiển thị kết quả là**

- A. 22  
B. 21  
C. 29  
D. 28



**Câu 13. Trang chiếu được sử dụng để giới thiệu một chủ đề và định hướng cho bài trình bày được gọi là**

- A. trang nội dung
- B. trang trình bày bảng
- C. trang tiêu đề
- D. trang trình bày đồ họa

**Câu 14. Thao tác chèn thêm trang tính mới**

- A. Insert/New sheet
- B. nhấn chuột vào nút New sheet
- C. nhấn chuột phải chọn New sheet
- D. File/New sheet

**Câu 15. Cho C3=12; C4=15; C5=10; C6=8; C7=20; Để tính tổng các ô từ C3 đến C7, phương án nào sau đây đúng?**

- A. = COUNT(C3:C7)
- B. = COUNT(C3-C7)
- C. =SUM(C3-C7)
- D. =SUM(C3:C7)

**Câu 16. Giả sử trong ô tính có công thức =4/5 và em chọn nút lệnh % để định dạng cho ô đó, theo em kết quả nào sau đây là đúng?**

- A. không thay đổi gì
- B. số thập phân
- C. số phần trăm
- D. phân số

**Câu 17. Điều nào không phải là lợi ích của việc trình bày bảng tính?**

- A. Sắp xếp và lọc dữ liệu
- B. Căn chỉnh hình ảnh đẹp mắt
- C. Khả năng tính toán và sử dụng hàm
- D. Xử lý dữ liệu kiểu số

**Câu 18. Để gộp nhiều ô thành 1 ô thì làm như thế nào?**

- A. Vào Insert/Wrap text
- B. Vào Home/ Merge & Center
- C. Vào Home/Wrap text
- D. Vào Insert/ Merge & Center

**Câu 19. Để tô màu nền cho ô tính em chọn nút lệnh nào trong thẻ Home?**

- A. Fill Color trong nhóm lệnh Font
- B. Font Color trong nhóm lệnh Paragraph
- C. Fill Color trong nhóm lệnh Paragraph
- D. Font Color trong nhóm lệnh Font

**Câu 20. Thao tác để in trang tính là**

**A. File/Print**

**B. Layout/Print**

**C. Insert/Print**

**D. Home/Print**

## **II. Tự luận**

**Câu 21 (2 điểm):** Em hãy nêu ưu điểm của việc sử dụng cấu trúc phân cấp trong bài trình chiếu?

**Câu 22 (2 điểm):** Viết kết quả cho mỗi công thức sau:

a. SUM(1,3,"Hà Nội", "0",5)

b. COUNT(1,3,5,7)

**Câu 23 (1 điểm):** Phần mềm bảng tính có thể gộp các ô trong một vùng không là hình chữ nhật được không? Vì sao?

\*\*\*\*\*

**PHẦN I. TRẮC NGHIỆM (5,0 điểm)**

*Học sinh tô kín đáp án đúng nhất bằng bút chì cho các câu hỏi sau vào giấy kiểm tra được phát.*

**Câu 1.** Chuồng nuôi gà thịt phải đảm bảo các điều kiện nào sau đây?

- A. Thông thoáng, ẩm về mùa đông, mát về mùa hè.
- B. Có độ ẩm cao, ẩm về mùa đông, mát về mùa hè.
- C. Càng kín càng tốt, mát về mùa đông, ẩm về mùa hè.
- D. Có độ ẩm thấp, mát về mùa đông, ẩm về mùa hè.

**Câu 2.** Bệnh nào sau đây có nguyên nhân do môi trường sống không thuận lợi?

- A. Bệnh ghẻ ở chó
- B. Bệnh cúm gia cầm
- C. Bệnh cảm nóng ở gà
- D. Bệnh còi xương ở lợn

**Câu 3.** Ở Việt Nam có mấy phương thức chăn nuôi phổ biến?

- A. 2
- B. 3
- C. 1
- D. 4

**Câu 4.** Thức ăn của gà được chia làm mấy loại cơ bản?

- A. 2
- B. 4
- C. 3
- D. 1

**Câu 5.** Đặc điểm của chăn nuôi nông hộ là

- A. năng suất cao.
- B. chi phí đầu tư cao.
- C. chăn nuôi tại hộ gia đình.
- D. số lượng vật nuôi lớn.

**Câu 6.** Đặc điểm nào sau đây **không** phải là của vật nuôi đặc trưng vùng miền ở nước ta?

- A. Sản phẩm thơm ngon, được nhiều người yêu thích.
- B. Được nuôi tại một số địa phương nhất định.
- C. Sản phẩm dễ bán, giá cao, góp phần đem lại thu nhập cao cho người lao động.
- D. Được nuôi ở hầu hết các địa phương.

**Câu 7.** Trong chăn nuôi có ngành nghề nào phổ biến?

- A. Kỹ sư chăn nuôi, kỹ sư bảo vệ thực vật
- B. Bác sĩ thú y, kỹ sư trồng trọt
- C. Kỹ sư bảo vệ thực vật, bác sĩ thú y
- D. Bác sĩ thú y, kỹ sư chăn nuôi

**Câu 8.** Yêu cầu nào dưới đây là **không** chính xác khi chăn nuôi đực giống?

- A. Càng to béo càng tốt.
- B. Cân nặng vừa đủ.
- C. Sức khỏe tốt nhất.
- D. Cho tinh dịch tốt về số lượng và chất lượng.

**Câu 9.** Hoạt động nào trong chăn nuôi dưới đây có thể gây ô nhiễm môi trường?

- A. Thường xuyên vệ sinh chuồng nuôi sạch sẽ.
- B. Thả rông vật nuôi, nuôi vật nuôi dưới gầm nhà sàn.
- C. Thu chất thải để ủ làm phân hữu cơ.
- D. Xây hầm biogas để xử lý chất thải cho các trang trại chăn nuôi.

**Câu 10.** Điều nào không phải là đặc điểm của chăn nuôi trang trại?

- A. Đầu tư lớn về chuồng trại
- B. Có biện pháp xử lý chất thải tốt
- C. Năng suất cao
- D. Dịch bệnh nhiều

**Câu 11.** Trong những vật nuôi sau, vật nuôi nào là gia súc?

- A. Lợn
- B. Gà
- C. Ngan
- D. Vịt

**Câu 12.** Có mấy nguyên nhân gây bệnh ở vật nuôi?

- A. 1
- B. 4
- C. 3
- D. 2

**Câu 13.** Ba giai đoạn của lợn cái sinh sản lần lượt là

- A. giai đoạn mang thai → giai đoạn hậu bị → giai đoạn đẻ và nuôi con.
- B. giai đoạn hậu bị → giai đoạn mang thai → giai đoạn đẻ và nuôi con.
- C. giai đoạn hậu bị → giai đoạn đẻ và nuôi con → giai đoạn mang thai.
- D. giai đoạn mang thai → giai đoạn đẻ và nuôi con → giai đoạn hậu bị.

**Câu 14.** Bệnh nào sau đây có nguyên nhân do động vật kí sinh?

- A. Bệnh cúm gia cầm
- B. Bệnh di truyền
- C. Bệnh do vi khuẩn.
- D. Bệnh giun ở chó

**Câu 15.** Vai trò nào sau đây **không** phải của chăn nuôi?

- A. Cung cấp thực phẩm
- B. Cung cấp sức kéo.
- C. Cung cấp phân bón hữu cơ trong trồng trọt.
- D. Cung cấp rau xanh cho con người.

**Câu 16.** Bệnh dịch tả lợn Châu Phi thuộc loại bệnh gì?

- A. Bệnh do kí sinh trùng
- B. Bệnh di truyền
- C. Bệnh không truyền nhiễm
- D. Bệnh truyền nhiễm

**Câu 17.** Mục đích của nuôi dưỡng và chăm sóc vật nuôi đực giống là

- A. nhiều nạc, khỏe mạnh.
- B. nhanh lớn, nhiều nạc.
- C. càng béo càng tốt.
- D. khả năng phối giống tốt.

**Câu 18.** Phát biểu nào là **sai** khi nói về tác dụng của việc phòng, trị bệnh cho vật nuôi?

- A. Tăng cường sức khỏe, sức đề kháng cho vật nuôi giúp giảm khả năng nhiễm bệnh.
- B. Tiêm vắc xin giúp vật nuôi mau lớn.
- C. Giảm tác hại của bệnh và giúp vật nuôi nhanh phục hồi.
- D. Tiêu diệt mầm bệnh, hạn chế tiếp xúc với nguồn bệnh, ngăn ngừa lây lan dịch bệnh.

**Câu 19.** Quá trình nuôi dưỡng và chăm sóc gia súc cái sinh sản trải qua mấy giai đoạn?

- A. 2 giai đoạn.
- B. 4 giai đoạn.
- C. 5 giai đoạn
- D. 3 giai đoạn.

**Câu 20.** Cần cho vật nuôi non bú sữa đầu càng sớm càng tốt vì

- A. sữa đầu có chứa kháng thể giúp cho cơ thể con chống lại bệnh tật.
- B. sữa đầu đặc giúp cho cơ thể con chống lại bệnh tật.
- C. sữa đầu có chứa vaccine giúp cho cơ thể con chống lại bệnh tật.
- D. sữa đầu chứa nhiều calcium giúp cho cơ thể con chống lại bệnh tật.

## PHẦN II. TỰ LUẬN (5,0 điểm)

**Câu 21(2điểm).** Em hãy nêu các biện pháp nuôi dưỡng và chăm sóc vật nuôi đực giống?

**Câu 22(2điểm).** Em hãy đề xuất một số biện pháp bảo vệ môi trường trong chăn nuôi?

**Câu 23(1điểm).** Kể tên 3 loại vật nuôi thuộc nhóm gia cầm và trình bày vai trò của vật nuôi đó?

----- HẾT -----

PHÒNG GD&ĐT QUẬN LONG BIÊN  
TRƯỜNG THCS THANH AM  
Năm học: 2023 – 2024  
CN7-GKII-102

ĐỀ KIỂM TRA GIỮA KÌ II  
MÔN CÔNG NGHỆ 7  
Thời gian làm bài: 45 phút.  
Ngày thi: 12/03/2024

**PHẦN I. TRẮC NGHIỆM (5,0 điểm)**

*Học sinh tô kín đáp án đúng nhất bằng bút chì cho các câu hỏi sau vào giấy kiểm tra được phát.*

**Câu 1.** Bệnh nào sau đây có nguyên nhân do động vật kí sinh?

- A. Bệnh cúm gia cầm    B. Bệnh giun ở chó    C. Bệnh do vi khuẩn.    D. Bệnh di truyền

**Câu 2.** Trong những vật nuôi sau, vật nuôi nào là gia súc?

- A. Lợn    B. Gà    C. Ngan    D. Vịt

**Câu 3.** Cần cho vật nuôi non bú sữa đầu càng sớm càng tốt vì

- A. sữa đầu chứa nhiều calcium giúp cho cơ thể con chống lại bệnh tật.  
B. sữa đầu đặc giúp cho cơ thể con chống lại bệnh tật.  
C. sữa đầu có chứa kháng thể giúp cho cơ thể con chống lại bệnh tật.  
D. sữa đầu có chứa vaccine giúp cho cơ thể con chống lại bệnh tật.

**Câu 4.** Phát biểu nào là **sai** khi nói về tác dụng của việc phòng, trị bệnh cho vật nuôi?

- A. Giảm tác hại của bệnh và giúp vật nuôi nhanh phục hồi.  
B. Tăng cường sức khỏe, sức đề kháng cho vật nuôi giúp giảm khả năng nhiễm bệnh.  
C. Tiêu diệt mầm bệnh, hạn chế tiếp xúc với nguồn bệnh, ngăn ngừa lây lan dịch bệnh.  
D. Tiêm vắc xin giúp vật nuôi mau lớn.

**Câu 5.** Bệnh dịch tả lợn Châu Phi thuộc loại bệnh gì?

- A. Bệnh do kí sinh trùng    B. Bệnh di truyền  
C. Bệnh truyền nhiễm    D. Bệnh không truyền nhiễm

**Câu 6.** Yêu cầu nào dưới đây là **không** chính xác khi chăn nuôi đực giống?

- A. Sức khỏe tốt nhất.  
B. Cân nặng vừa đủ.  
C. Càng to béo càng tốt.  
D. Cho tinh dịch tốt về số lượng và chất lượng.

**Câu 7.** Mục đích của nuôi dưỡng và chăm sóc vật nuôi đực giống là

- A. khả năng phối giống tốt.    B. nhanh lớn, nhiều nạc.  
C. càng béo càng tốt.    D. nhiều nạc, khỏe mạnh.

**Câu 8.** Đặc điểm của chăn nuôi nông hộ là

- A. số lượng vật nuôi lớn.    B. chi phí đầu tư cao.  
C. năng suất cao.    D. chăn nuôi tại hộ gia đình.

**Câu 9.** Chuồng nuôi gà thịt phải đảm bảo các điều kiện nào sau đây?

- A. Càng kín càng tốt, mát về mùa đông, ấm về mùa hè.  
B. Thông thoáng, ấm về mùa đông, mát về mùa hè.  
C. Có độ ẩm thấp, mát về mùa đông, ấm về mùa hè.  
D. Có độ ẩm cao, ấm về mùa đông, mát về mùa hè.

**Câu 10.** Vai trò nào sau đây **không** phải của chăn nuôi?

- A. Cung cấp sức kéo.  
B. Cung cấp thực phẩm

C. Cung cấp phân bón hữu cơ trong trồng trọt.

D. Cung cấp rau xanh cho con người.

**Câu 11.** Trong chăn nuôi có ngành nghề nào phổ biến?

A. Kỹ sư chăn nuôi, kỹ sư bảo vệ thực vật

B. Bác sĩ thú y, kỹ sư trồng trọt

C. Bác sĩ thú y, kỹ sư chăn nuôi

D. Kỹ sư bảo vệ thực vật, bác sĩ thú y

**Câu 12.** Ba giai đoạn của lợn cái sinh sản lần lượt là

A. giai đoạn mang thai → giai đoạn hậu bị → giai đoạn đẻ và nuôi con.

B. giai đoạn mang thai → giai đoạn đẻ và nuôi con → giai đoạn hậu bị.

C. giai đoạn hậu bị → giai đoạn mang thai → giai đoạn đẻ và nuôi con.

D. giai đoạn hậu bị → giai đoạn đẻ và nuôi con → giai đoạn mang thai.

**Câu 13.** Ở Việt Nam có mấy phương thức chăn nuôi phổ biến?

A. 2

B. 3

C. 4

D. 1

**Câu 14.** Điều không phải là đặc điểm của chăn nuôi trang trại?

A. Đầu tư lớn về chuồng trại

B. Năng suất cao

C. Dịch bệnh nhiều

D. Có biện pháp xử lý chất thải tốt

**Câu 15.** Quá trình nuôi dưỡng và chăm sóc gia súc cái sinh sản trải qua mấy giai đoạn?

A. 5 giai đoạn

B. 2 giai đoạn.

C. 4 giai đoạn.

D. 3 giai đoạn.

**Câu 16.** Hoạt động nào trong chăn nuôi dưới đây có thể gây ô nhiễm môi trường?

A. Thu chất thải để ủ làm phân hữu cơ.

B. Xây hầm biogas để xử lý chất thải cho các trang trại chăn nuôi.

C. Thường xuyên vệ sinh chuồng nuôi sạch sẽ.

D. Thả rông vật nuôi, nuôi vật nuôi dưới gầm nhà sàn.

**Câu 17.** Có mấy nguyên nhân gây bệnh ở vật nuôi?

A. 1

B. 2

C. 4

D. 3

**Câu 18.** Thức ăn của gà được chia làm mấy loại cơ bản?

A. 4

B. 3

C. 2

D. 1

**Câu 19.** Bệnh nào sau đây có nguyên nhân do môi trường sống không thuận lợi?

A. Bệnh cúm gia cầm

B. Bệnh ghê ở chó

C. Bệnh còi xương ở lợn

D. Bệnh cảm nóng ở gà

**Câu 20.** Đặc điểm nào sau đây **không** phải là của vật nuôi đặc trưng vùng miền ở nước ta?

A. Sản phẩm thơm ngon, được nhiều người yêu thích.

B. Sản phẩm dễ bán, giá cao, góp phần đem lại thu nhập cao cho người lao động.

C. Được nuôi ở hầu hết các địa phương.

D. Được nuôi tại một số địa phương nhất định.

## PHẦN II. TỰ LUẬN (5,0 điểm)

**Câu 21(2điểm).** Em hãy nêu các biện pháp nuôi dưỡng và chăm sóc vật nuôi đực giống?

**Câu 22(2điểm).** Em hãy đề xuất một số biện pháp bảo vệ môi trường trong chăn nuôi?

**Câu 23(1điểm).** Kể tên 3 loại vật nuôi thuộc nhóm gia cầm và trình bày vai trò của vật nuôi đó?

----- HẾT -----

**I. TRẮC NGHIỆM KHÁCH QUAN (5.0 điểm):** Đọc câu hỏi và tô vào phiếu chữ cái đầu đáp án em cho là đúng.

**Câu 1.** M muốn mua một quả bóng đá giá 100.000 đồng nhưng bạn chỉ có 40.000 đồng. M hỏi vay bạn Q thêm 60.000 đồng và hứa sẽ trả khi được mẹ cho tiền và sẽ cho Q cùng chơi. Nếu là Q, em nên lựa chọn các ứng xử nào sau đây để thể hiện mình là người biết quản lý tiền?

- A. Khuyến M nên tiết kiệm tiền, sẽ mua sau.                      B. Nói dối M là: mình không có tiền.  
C. Cho M vay, để bạn cho mình chơi cùng.                      D. Không cho M vay, vì sợ bạn không trả

**Câu 2.** Q và V đang đứng nói chuyện thì N trông thấy và buông lời trêu chọc. Nghĩ N cố tình làm mình xấu mặt, Q đã đánh N để lấy lại thể diện. V ra sức can ngăn Q nhưng Q không nghe theo, ngược lại còn mắng nhiếc V. Theo em, trong trường hợp trên, bạn học sinh nào có hành vi bạo lực học đường?

- A. Bạn V và Q.                      B. Bạn Q và N.                      C. Không có bạn nào.                      D. Bạn V và N.

**Câu 3.** Thời gian rảnh H thường bán hàng online để kiếm thêm thu nhập cho gia đình. Việc làm của H thể hiện điều gì?

- A. Biết tiết kiệm thời gian và tiền bạc.                      B. Biết học tập tự giác, tích cực.  
C. Không chịu tập trung học tập.                      D. H quá rảnh rồi

**Câu 4.** Ý kiến nào sau đây **đúng** khi nói về quản lý tiền?

- A. Quản lý tiền hiệu quả giúp mỗi người chủ động trong chi tiêu.  
B. Học sinh không cần quản lý tiền, vì nhiều cha mẹ học sinh không muốn.  
C. Quản lý tiền là việc không cần thiết, tốn thời gian của học sinh.  
D. Quản lý tiền là việc của người trưởng thành, không phải của học sinh.

**Câu 5.** Cách kiếm tiền nào sau đây **không** phù hợp đối với học sinh?

- A. Làm đồ thủ công để bán                      B. Làm phụ giúp bố mẹ (dọn dẹp nhà cửa...)  
C. Kiếm tiền bằng cách tái chế.                      D. Nhờ bố mẹ cho vay nặng lãi.

**Câu 6.** Trong những ý kiến dưới đây nội dung nào là **đúng** khi nói về bạo lực học đường?

- A. Bạo lực học đường chỉ có một biểu hiện là đánh nhau.  
B. Bạo lực học đường do nhiều nguyên nhân gây ra.  
C. Bạo lực học đường chỉ gây ra tác hại về sức khỏe, thể chất.  
D. Việc phòng, chống bạo lực học đường là trách nhiệm riêng của ngành Giáo dục.

**Câu 7.** Mẹ cho em 150.000 đồng để tổ chức sinh nhật cùng ba người bạn thân. Em nên lựa chọn phương án nào dưới đây chứng tỏ biết sử dụng số tiền đó hiệu quả để có buổi sinh nhật thật vui vẻ và tiết kiệm?

- A. Không lấy tiền nữa vì mẹ cho ít quá.                      B. Nói các bạn góp tiền thêm để tổ chức  
C. Rủ các bạn mua đồ về làm bánh, nước ép trái cây.                      D. Không tổ chức, lấy tiền đó chơi điện tử.

**Câu 8.** Hành vi nào sau đây thể hiện biết quản lý tiền?

- A. Được tiền học bổng K mang đi khao bạn ăn hết và còn mượn thêm bạn 200.000 đồng.  
B. Q hứa mua truyện tranh cho em nhưng khi có tiền Q lại mang đi chơi điện tử hết.  
C. Mẹ cho M 100.000 đồng tiêu vặt M chỉ mua thứ cần thiết còn lại M tiết kiệm.  
D. Trên đường về H nhặt được 100.000 đồng H đã nhanh chóng mua đồ ăn vặt cho mình.

**Câu 9.** K thường xuyên dọa nạt H nếu không đưa tiền cho K thì K sẽ chặn đánh H. Hành vi của K thể hiện điều gì?

- A. Tính cách nông nổi, bông bột.                      B. Bạo lực gia đình.  
C. Bị lệch lạc nhân cách.                      D. Bạo lực học đường.

**Câu 10.** Bức tranh dưới đây phản ánh về nguyên nhân nào dẫn đến bạo lực học đường?



- A. Tác động từ các game có tính bạo lực.
- B. Bản thân thiếu sự trải nghiệm, kỹ năng sống.
- C. Thiếu sự quan tâm, giáo dục từ gia đình.
- D. Tác động tiêu cực từ môi trường sống.

**Câu 11. Để phòng tránh bạo lực học đường, chúng ta nên lựa chọn cách ứng xử nào dưới đây?**

- A. Kết bạn với những người bạn tốt.
- B. Ở lại nơi có nguy cơ xảy ra bạo lực.
- C. Giữ im lặng khi bị bạo lực học đường.
- D. Tỏ thái độ tiêu cực với bạn bè.

**Câu 12. T là nữ sinh lớp 7A, bạn nổi tiếng ngoan ngoãn, xinh xắn và học giỏi. Khi tham gia hoạt động ngoại khóa, T bị K (một bạn nam lớp 9C) trêu ghẹo và có những hành vi đụng chạm vào cơ thể. Sự việc khiến T vô cùng xấu hổ và sợ hãi. Theo em, trong trường hợp trên, bạn học sinh nào có hành vi bạo lực học đường?**

- A. Bạn K.
- B. Bạn T.
- C. Không có bạn nào.
- D. Cả hai bạn T và K.

**Câu 13. Học sinh tranh thủ thời gian rảnh rỗi làm các sản phẩm thủ công để bán lấy tiền phụ giúp thêm bố mẹ và là từ thiện. Việc làm đó thể hiện nội dung nào dưới đây?**

- A. Tiết kiệm thời gian và tiền bạc.
- B. Sống có kế hoạch.
- C. Giữ gìn truyền thống quê hương.
- D. Học tập tự giác, tích cực.

**Câu 14. Hành vi hành hạ, ngược đãi, đánh đập; xâm hại thân thể, sức khỏe; lăng mạ, xúc phạm danh dự, nhân phẩm; cô lập, xua đuổi và các hành vi cố ý khác gây tổn hại về thể chất, tinh thần của người học xảy ra trong cơ sở giáo dục hoặc lớp độc lập là nội dung khái niệm nào sau đây?**

- A. Bạo lực học đường.
- B. Bạo lực xã hội.
- C. Bạo lực gia đình.
- D. Đấu tranh tầng lớp.

**Câu 15. Nguyên nhân chủ quan dẫn đến bạo lực học đường là gì?**

- A. Đặc điểm tâm sinh lý lứa tuổi học sinh.
- B. Tác động từ các game có tính bạo lực.
- C. Tác động tiêu cực từ môi trường xã hội.
- D. Thiếu sự quan tâm, giáo dục từ gia đình.

**Câu 16. Để quản lý tiền có hiệu quả chúng ta cần làm gì?**

- A. Đòi mẹ mua những thứ mình thích.
- B. Bật tất cả đèn trong nhà khi ở nhà một mình.
- C. Đặt mục tiêu và thực hiện tiết kiệm tiền.
- D. Không tắt các thiết bị điện khi ra khỏi lớp.

**Câu 17. Hành vi nào dưới đây không phải là bạo lực học đường?**

- A. Chụp trộm hình ảnh của bạn và gửi vào nhóm bàn tán, chế giễu.
- B. Gửi tin nhắn, hình ảnh gây tổn thương bạn khác.
- C. Nhại giọng, bắt chước một cách thiếu tôn trọng.
- D. Mượn đồ dùng của bạn quên không trả lại.

**Câu 18. Em không đồng ý với ý kiến nào dưới đây về quản lý tiền?**

- A. Học sinh có thể tăng thêm thu nhập bằng cách làm đồ thủ công để bán.
- B. Biết quản lý tiền sẽ có một cuộc sống đầy đủ.
- C. Tiết kiệm tiền chỉ dành cho người thường chi tiêu quá nhiều.
- D. Làm ra tiền đã khó nhưng quản lý chi tiêu, thực hành tiết kiệm còn khó hơn.

**Câu 19. Việc làm của bạn nào dưới đây thể hiện nguyên tắc quản lý tiền hiệu quả?**

- A. Trong giờ thể dục, không có ai nhưng lớp vẫn bật điều hòa.
- B. Bạn K thường vay tiền bạn để mua đồ ăn vặt mỗi khi đi học về.
- C. Nhận được tiền thưởng học sinh xuất sắc của nhà trường, bạn M tiêu sài hết.
- D. Bố mẹ cho K tiền ăn sáng, nhưng K không ăn để tiết kiệm tiền.

**Câu 20. Ý kiến nào không thể hiện việc ngăn chặn tình trạng bạo lực học đường?**

- A. Tuyên truyền về tác hại, hậu quả của bạo lực học đường.
- B. Xây dựng mối quan hệ gắn bó, giúp đỡ lẫn nhau giữa bạn học.



C. Đấu tranh chống bạo lực học đường bằng các biện pháp phù hợp.

D. Sử dụng bạo lực để đáp trả lại hành vi bạo lực học đường.

## II. CÂU HỎI TỰ LUẬN (5.0 điểm).

**Câu 21. (3 điểm):** Thế nào là quản lý tiền? Em hãy nêu bốn cách tạo thu nhập cho bản thân một cách chính đáng, hợp lý?

**Câu 22. Tình huống (2 điểm):** Tình huống: Biết tin M bị T bạn học cùng lớp bắt nạt nhiều lần, bạn thân của M là A vô cùng tức giận. A có ý định sẽ rù thêm bạn chặn đường dạy cho T một bài học.

a. Em hãy nhận xét về hành vi của A, T trong tình huống trên?

b. Nếu biết sự việc đó, em sẽ làm gì?

----HẾT---

**PHÒNG GD&ĐT QUẬN LONG BIÊN**  
**TRƯỜNG THCS THANH AM**  
Năm học: 2023- 2024  
MÃ ĐỀ: GDCD7 - GKII - 102

**ĐỀ KIỂM TRA GIỮA HỌC KÌ II**  
**MÔN: GIÁO DỤC CÔNG DÂN LỚP 7**  
Ngày kiểm tra: 19/03/2024  
Thời gian: 45 phút

**I. TRẮC NGHIỆM KHÁCH QUAN (5.0 điểm):** Đọc câu hỏi và tô vào phiếu chữ cái đầu đáp án em cho là đúng.

**Câu 1.** Q và V đang đứng nói chuyện thì N trông thấy và buông lời trêu chọc. Nghĩ N cố tình làm mình xấu mặt, Q đã đánh N để lấy lại thể diện. V ra sức can ngăn Q nhưng Q không nghe theo, ngược lại còn mắng nhiếc V. Theo em, trong trường hợp trên, bạn học sinh nào có hành vi bạo lực học đường?

A. Không có bạn nào.

B. Bạn V và N.

C. Bạn V và Q.

D. Bạn Q và N.

**Câu 2.** Nguyên nhân chủ quan dẫn đến bạo lực học đường là gì?

A. Tác động tiêu cực từ môi trường xã hội.

B. Tác động từ các game có tính bạo lực.

C. Thiếu sự quan tâm, giáo dục từ gia đình.

D. Đặc điểm tâm sinh lý lứa tuổi học sinh.

**Câu 3.**

Bức tranh dưới đây phản ánh về nguyên nhân nào dẫn đến bạo lực học đường?



A. Tác động từ các game có tính bạo lực.

B. Bản thân thiếu sự trải nghiệm, kỹ năng sống.

C. Tác động tiêu cực từ môi trường sống.

D. Thiếu sự quan tâm, giáo dục từ gia đình.

**Câu 4.** Hành vi nào dưới đây *không phải* là bạo lực học đường?

A. Gửi tin nhắn, hình ảnh gây tổn thương bạn khác.

B. Mượn đồ dùng của bạn quên không trả lại.

C. Chụp trộm hình ảnh của bạn và gửi vào nhóm bàn tán, chế giễu.

D. Nhại giọng, bắt chước một cách thiếu tôn trọng.

**Câu 5.** Ý kiến nào sau đây *đúng* khi nói về quản lý tiền?

A. Quản lý tiền là việc không cần thiết, tốn thời gian của học sinh.

B. Quản lý tiền là việc của người trưởng thành, không phải của học sinh.

C. Quản lý tiền hiệu quả giúp mỗi người chủ động trong chi tiêu.

D. Học sinh không cần quản lý tiền, vì nhiều cha mẹ học sinh không muốn.

**Câu 6.** Cách kiếm tiền nào sau đây *không* phù hợp đối với học sinh?

A. Nhờ bố mẹ cho vay nặng lãi.

B. Làm phụ giúp bố mẹ (dọn dẹp nhà cửa...)

C. Làm đồ thủ công để bán

D. Kiếm tiền bằng cách tái chế.

**Câu 7.** T là nữ sinh lớp 7A, bạn nổi tiếng ngoan ngoãn, xinh xắn và học giỏi. Khi tham gia hoạt động ngoại khóa, T bị K (một bạn nam lớp 9C) trêu ghẹo và có những hành vi đụng chạm vào cơ thể. Sự việc khiến T vô cùng xấu hổ và sợ hãi. Theo em, trong trường hợp trên, bạn học sinh nào có hành vi bạo lực học đường?

- A. Cả hai bạn T và K.                      B. Bạn K.                      C. Không có bạn nào.                      D. Bạn T.

**Câu 8. Hành vi hành hạ, ngược đãi, đánh đập; xâm hại thân thể, sức khỏe; lăng mạ, xúc phạm danh dự, nhân phẩm; cô lập, xua đuổi và các hành vi cố ý khác gây tổn hại về thể chất, tinh thần của người học xảy ra trong cơ sở giáo dục hoặc lớp học là nội dung khái niệm nào sau đây?**

- A. Bạo lực xã hội.                      B. Bạo lực học đường.  
C. Đấu tranh tầng lớp.                      D. Bạo lực gia đình.

**Câu 9. Mẹ cho em 150.000 đồng để tổ chức sinh nhật cùng ba người bạn thân. Em nên lựa chọn phương án nào dưới đây chứng tỏ biết sử dụng số tiền đó hiệu quả để có buổi sinh nhật thật vui vẻ và tiết kiệm?**

- A. Không tổ chức, lấy tiền đó chơi điện tử.                      B. Rủ các bạn mua đồ về làm bánh, nước ép trái cây.  
C. Không lấy tiền nữa vì mẹ cho ít quá.                      D. Nói các bạn góp tiền thêm để tổ chức

**Câu 10. Trong những ý kiến dưới đây nội dung nào là đúng khi nói về bạo lực học đường?**

- A. Việc phòng, chống bạo lực học đường là trách nhiệm riêng của ngành Giáo dục.  
B. Bạo lực học đường chỉ gây ra tác hại về sức khỏe, thể chất.  
C. Bạo lực học đường do nhiều nguyên nhân gây ra.  
D. Bạo lực học đường chỉ có một biểu hiện là đánh nhau.

**Câu 11. Hành vi nào sau đây thể hiện biết quản lý tiền?**

- A. Trên đường về H nhận được 100.000 đồng H đã nhanh chóng mua đồ ăn vặt cho mình.  
B. Mẹ cho M 100.000 đồng tiêu vặt M chỉ mua thứ cần thiết còn lại M tiết kiệm.  
C. Q hứa mua truyện tranh cho em nhưng khi có tiền Q lại mang đi chơi điện tử hết.  
D. Được tiền học bổng K mang đi khao bạn ăn hết và còn mượn thêm bạn 200.000 đồng.

**Câu 12. Để phòng tránh bạo lực học đường, chúng ta nên lựa chọn cách ứng xử nào dưới đây?**

- A. Kết bạn với những người bạn tốt.                      B. Ở lại nơi có nguy cơ xảy ra bạo lực.  
C. Giữ im lặng khi bị bạo lực học đường.                      D. Tỏ thái độ tiêu cực với bạn bè.

**Câu 13. Thời gian rảnh H thường bán hàng online để kiếm thêm thu nhập cho gia đình. Việc làm của H thể hiện điều gì?**

- A. H quá rảnh rồi                      B. Biết học tập tự giác, tích cực.  
C. Không chịu tập trung học tập.                      D. Biết tiết kiệm thời gian và tiền bạc.

**Câu 14. Em không đồng ý với ý kiến nào dưới đây về quản lý tiền?**

- A. Biết quản lý tiền sẽ có một cuộc sống đầy đủ.  
B. Học sinh có thể tăng thêm thu nhập bằng cách làm đồ thủ công để bán.  
C. Làm ra tiền đã khó nhưng quản lý chi tiêu, thực hành tiết kiệm còn khó hơn.  
D. Tiết kiệm tiền chỉ dành cho người thường chi tiêu quá nhiều.

**Câu 15. Việc làm của bạn nào dưới đây thể hiện nguyên tắc quản lý tiền hiệu quả?**

- A. Nhận được tiền thưởng học sinh xuất sắc của nhà trường, bạn M tiêu sài hết.  
B. Trong giờ thể dục, không có ai nhưng lớp vẫn bật điều hòa.  
C. Bố mẹ cho K tiền ăn sáng, nhưng K không ăn để tiết kiệm tiền.  
D. Bạn K thường vay tiền bạn để mua đồ ăn vặt mỗi khi đi học về.

**Câu 16. Học sinh tranh thủ thời gian rảnh tự làm các sản phẩm thủ công để bán lấy tiền phụ giúp thêm bố mẹ và là từ thiện. Việc làm đó thể hiện nội dung nào dưới đây?**

- A. Học tập tự giác, tích cực.                      B. Giữ gìn truyền thống quê hương.  
C. Sống có kế hoạch.                      D. Tiết kiệm thời gian và tiền bạc.

**Câu 17. K thường xuyên dọa nạt H nếu không đưa tiền cho K thì K sẽ chặn đánh H. Hành vi của K thể hiện điều gì?**

- A. Bạo lực gia đình.                      B. Bị lệch lạc nhân cách.  
C. Bạo lực học đường.                      D. Tính cách nông nổi, bồng bột.

**Câu 18. M muốn mua một quả bóng đá giá 100.000 đồng nhưng bạn chỉ có 40.000 đồng. M hỏi vay bạn Q thêm 60.000 đồng và hứa sẽ trả khi được mẹ cho tiền và sẽ cho Q cùng chơi. Nếu là Q, em nên lựa chọn các ứng xử nào sau đây để thể hiện mình là người biết quản lý tiền?**

- A. Khuyến M nên tiết kiệm tiền, sẽ mua sau.                      B. Cho M vay, để bạn cho mình chơi cùng.  
C. Không cho M vay, vì sợ bạn không trả                      D. Nói dối M là: mình không có tiền.

**Câu 19. Để quản lý tiền có hiệu quả chúng ta cần làm gì?**

- A. Đặt mục tiêu và thực hiện tiết kiệm tiền.                      B. Bật tất cả đèn trong nhà khi ở nhà một mình.

C. Đòi mẹ mua những thứ mình thích.

D. Không tắt các thiết bị điện khi ra khỏi lớp.

**Câu 20. Ý kiến nào không thể hiện việc ngăn chặn tình trạng bạo lực học đường?**

A. Tuyên truyền về tác hại, hậu quả của bạo lực học đường.

B. Sử dụng bạo lực để đáp trả lại hành vi bạo lực học đường.

C. Đấu tranh chống bạo lực học đường bằng các biện pháp phù hợp.

D. Xây dựng mối quan hệ gắn bó, giúp đỡ lẫn nhau giữa bạn học.

**II. CÂU HỎI TỰ LUẬN (5.0 điểm).**

**Câu 21. (3 điểm):** Thế nào là quản lý tiền? Em hãy nêu bốn cách tạo thu nhập cho bản thân một cách chính đáng, hợp lí?

**Câu 22. Tình huống (2 điểm):** Tình huống: Biết tin M bị T bạn học cùng lớp bắt nạt nhiều lần, bạn thân của M là A vô cùng tức giận. A có ý định sẽ rủ thêm bạn chặn đường dạy cho T một bài học.

a. Em hãy nhận xét về hành vi của A, T trong tình huống trên?

b. Nếu biết sự việc đó, em sẽ làm gì?

----HẾT---

PHÒNG GD&ĐT QUẬN LONG BIÊN  
TRƯỜNG THCS THANH AM  
Năm học: 2023- 2024  
MÃ ĐỀ: GDCD7 - GKII - 103

ĐỀ KIỂM TRA GIỮA HỌC KÌ II  
MÔN: GIÁO DỤC CÔNG DÂN LỚP 7  
Ngày kiểm tra: 19/03/2024  
Thời gian: 45 phút

**I. TRẮC NGHIỆM KHÁCH QUAN (5.0 điểm):** Đọc câu hỏi và tô vào phiếu chữ cái đầu đáp án em cho là đúng.

**Câu 1. Hành vi hành hạ, ngược đãi, đánh đập; xâm hại thân thể, sức khỏe; lăng mạ, xúc phạm danh dự, nhân phẩm; cô lập, xua đuổi và các hành vi cố ý khác gây tổn hại về thể chất, tinh thần của người học xảy ra trong cơ sở giáo dục hoặc lớp học là nội dung khái niệm nào sau đây?**

A. Bạo lực xã hội. B. Bạo lực gia đình. C. Đấu tranh tầng lớp. D. Bạo lực học đường.

**Câu 2. Học sinh tranh thủ thời gian rảnh tự làm các sản phẩm thủ công để bán lấy tiền phụ giúp thêm bố mẹ và là từ thiện. Việc làm đó thể hiện nội dung nào dưới đây?**

A. Sống có kế hoạch.

B. Học tập tự giác, tích cực.

C. Tiết kiệm thời gian và tiền bạc.

D. Giữ gìn truyền thống quê hương.

**Câu 3. Hành vi nào sau đây thể hiện biết quản lý tiền?**

A. Mẹ cho M 100.000 đồng tiêu vặt M chỉ mua thứ cần thiết còn lại M tiết kiệm.

B. Trên đường về H nhặt được 100.000 đồng H đã nhanh chóng mua đồ ăn vặt cho mình.

C. Được tiền học bổng K mang đi khao bạn ăn hết và còn mượn thêm bạn 200.000 đồng.

D. Q hứa mua truyện tranh cho em nhưng khi có tiền Q lại mang đi chơi điện tử hết.

**Câu 4. Q và V đang đứng nói chuyện thì N trông thấy và buông lời trêu chọc. Nghĩ N cố tình làm mình xấu mặt, Q đã đánh N để lấy lại thể diện. V ra sức can ngăn Q nhưng Q không nghe theo, ngược lại còn mắng nhiếc V. Theo em, trong trường hợp trên, bạn học sinh nào có hành vi bạo lực học đường?**

A. Bạn V và N.

B. Bạn Q và N.

C. Bạn V và Q.

D. Không có bạn nào.

**Câu 5. K thường xuyên dọa nạt H nếu không đưa tiền cho K thì K sẽ chặn đánh H. Hành vi của K thể hiện điều gì?**

A. Tính cách nông nổi, bông bột.

B. Bạo lực gia đình.

C. Bạo lực học đường.

D. Bị lệch lạc nhân cách.

**Câu 6. Để phòng tránh bạo lực học đường, chúng ta nên lựa chọn cách ứng xử nào dưới đây?**

A. Kết bạn với những người bạn tốt.

B. Ở lại nơi có nguy cơ xảy ra bạo lực.

C. Giữ im lặng khi bị bạo lực học đường.

D. Tố thái độ tiêu cực với bạn bè.

**Câu 7. Cách kiếm tiền nào sau đây không phù hợp đối với học sinh?**

A. Làm đồ thủ công để bán

B. Nhờ bố mẹ cho vay nặng lãi.

C. Kiếm tiền bằng cách tái chế.

D. Làm phụ giúp bố mẹ (dọn dẹp nhà cửa...)

**Câu 8. M muốn mua một quả bóng đá giá 100.000 đồng nhưng bạn chỉ có 40.000 đồng. M hỏi vay bạn Q thêm 60.000 đồng và hứa sẽ trả khi được mẹ cho tiền và sẽ cho Q cùng chơi. Nếu là Q, em nên lựa chọn các ứng xử nào sau đây để thể hiện mình là người biết quản lý tiền?**

A. Không cho M vay, vì sợ bạn không trả

B. Khuyên M nên tiết kiệm tiền, sẽ mua sau.

C. Nói dối M là: mình không có tiền.

D. Cho M vay, để bạn cho mình chơi cùng.

**Câu 9. Em không đồng ý với ý kiến nào dưới đây về quản lý tiền?**

A. Biết quản lý tiền sẽ có một cuộc sống đầy đủ.

B. Tiết kiệm tiền chỉ dành cho người thường chi tiêu quá nhiều.

C. Làm ra tiền đã khó nhưng quản lý chi tiêu, thực hành tiết kiệm còn khó hơn.

D. Học sinh có thể tăng thêm thu nhập bằng cách làm đồ thủ công để bán.

**Câu 10. Nguyên nhân chủ quan dẫn đến bạo lực học đường là gì?**

A. Đặc điểm tâm sinh lý lứa tuổi học sinh.

B. Tác động từ các game có tính bạo lực.

C. Thiếu sự quan tâm, giáo dục từ gia đình.

D. Tác động tiêu cực từ môi trường xã hội.

**Câu 11. Bức tranh dưới đây phản ánh về nguyên nhân nào dẫn đến bạo lực học đường?**



A. Thiếu sự quan tâm, giáo dục từ gia đình.

B. Tác động tiêu cực từ môi trường sống.

C. Tác động từ các game có tính bạo lực.

D. Bản thân thiếu sự trải nghiệm, kỹ năng sống.

**Câu 12. Ý kiến nào không thể hiện việc ngăn chặn tình trạng bạo lực học đường?**

A. Xây dựng mối quan hệ gắn bó, giúp đỡ lẫn nhau giữa bạn học.

B. Đấu tranh chống bạo lực học đường bằng các biện pháp phù hợp.

C. Sử dụng bạo lực để đáp trả lại hành vi bạo lực học đường.

D. Tuyên truyền về tác hại, hậu quả của bạo lực học đường.

**Câu 13. Thời gian rảnh H thường bán hàng online để kiếm thêm thu nhập cho gia đình. Việc làm của H thể hiện điều gì?**

A. Không chịu tập trung học tập.

B. Biết tiết kiệm thời gian và tiền bạc.

C. H quá rảnh rỗi

D. Biết học tập tự giác, tích cực.

**Câu 14. Trong những ý kiến dưới đây nội dung nào là đúng khi nói về bạo lực học đường?**

A. Bạo lực học đường do nhiều nguyên nhân gây ra.

B. Bạo lực học đường chỉ gây ra tác hại về sức khỏe, thể chất.

C. Bạo lực học đường chỉ có một biểu hiện là đánh nhau.

D. Việc phòng, chống bạo lực học đường là trách nhiệm riêng của ngành Giáo dục.

**Câu 15. Mẹ cho em 150.000 đồng để tổ chức sinh nhật cùng ba người bạn thân. Em nên lựa chọn phương án nào dưới đây chứng tỏ biết sử dụng số tiền đó hiệu quả để có buổi sinh nhật thật vui vẻ và tiết kiệm?**

A. Không tổ chức, lấy tiền đó chơi điện tử.

B. Rủ các bạn mua đồ về làm bánh, nước ép trái cây.

C. Không lấy tiền nữa vì mẹ cho ít quá.

D. Nói các bạn góp tiền thêm để tổ chức

**Câu 16. Ý kiến nào sau đây đúng khi nói về quản lý tiền?**

A. Quản lý tiền hiệu quả giúp mỗi người chủ động trong chi tiêu.

B. Học sinh không cần quản lý tiền, vì nhiều cha mẹ học sinh không muốn.

C. Quản lý tiền là việc không cần thiết, tốn thời gian của học sinh.

D. Quản lý tiền là việc của người trưởng thành, không phải của học sinh.

**Câu 17. Hành vi nào dưới đây không phải là bạo lực học đường?**

A. Mượn đồ dùng của bạn quên không trả lại.

B. Gửi tin nhắn, hình ảnh gây tổn thương bạn khác.

C. Nhại giọng, bắt chước một cách thiếu tôn trọng.

D. Chụp trộm hình ảnh của bạn và gửi vào nhóm bàn tán, chế giễu.

**Câu 18. T là nữ sinh lớp 7A, bạn nổi tiếng ngoan ngoãn, xinh xắn và học giỏi. Khi tham gia hoạt động ngoại khóa, T bị K (một bạn nam lớp 9C) trêu ghẹo và có những hành vi đụng chạm vào cơ thể. Sự**

việc khiến T vô cùng xấu hổ và sợ hãi. Theo em, trong trường hợp trên, bạn học sinh nào có hành vi bạo lực học đường?

- A. Cả hai bạn T và K.
- B. Không có bạn nào.
- C. Bạn K.
- D. Bạn T.

**Câu 19. Việc làm của bạn nào dưới đây thể hiện nguyên tắc quản lý tiền hiệu quả?**

- A. Nhận được tiền thưởng học sinh xuất sắc của nhà trường, bạn M tiêu sài hết.
- B. Bạn K thường vay tiền bạn để mua đồ ăn vặt mỗi khi đi học về.
- C. Bố mẹ cho K tiền ăn sáng, nhưng K không ăn để tiết kiệm tiền.
- D. Trong giờ thể dục, không có ai nhưng lớp vẫn bật điều hòa.

**Câu 20. Để quản lý tiền có hiệu quả chúng ta cần làm gì?**

- A. Không tắt các thiết bị điện khi ra khỏi lớp.
- B. Bật tất cả đèn trong nhà khi ở nhà một mình.
- C. Đòi mẹ mua những thứ mình thích.
- D. Đặt mục tiêu và thực hiện tiết kiệm tiền.

## II. CÂU HỎI TỰ LUẬN (5.0 điểm).

**Câu 21. (3 điểm):** Thế nào là quản lý tiền? Em hãy nêu bốn cách tạo thu nhập cho bản thân một cách chính đáng, hợp lí?

**Câu 22. Tình huống (2 điểm):** Tình huống: Biết tin M bị T bạn học cùng lớp bắt nạt nhiều lần, bạn thân của M là A vô cùng tức giận. A có ý định sẽ rù thêm bạn chặn đường dạy cho T một bài học.

- a. Em hãy nhận xét về hành vi của A, T trong tình huống trên?
- b. Nếu biết sự việc đó, em sẽ làm gì?

----HẾT---

PHÒNG GD&ĐT QUẬN LONG BIÊN  
TRƯỜNG THCS THANH AM  
Năm học: 2023- 2024  
MÃ ĐỀ: GDCD7 - GKII - 104

ĐỀ KIỂM TRA GIỮA HỌC KÌ II  
MÔN: GIÁO DỤC CÔNG DÂN LỚP 7  
Ngày kiểm tra: 19/03/2024  
Thời gian: 45 phút

**I. TRẮC NGHIỆM KHÁCH QUAN (5.0 điểm):** Đọc câu hỏi và tô vào phiếu chữ cái đầu đáp án em cho là đúng.

**Câu 1. Trong những ý kiến dưới đây nội dung nào là *đúng* khi nói về bạo lực học đường?**

- A. Việc phòng, chống bạo lực học đường là trách nhiệm riêng của ngành Giáo dục.
- B. Bạo lực học đường do nhiều nguyên nhân gây ra.
- C. Bạo lực học đường chỉ gây ra tác hại về sức khỏe, thể chất.
- D. Bạo lực học đường chỉ có một biểu hiện là đánh nhau.

**Câu 2. K thường xuyên dọa nạt H nếu không đưa tiền cho K thì K sẽ chặn đánh H. Hành vi của K thể hiện điều gì?**

- A. Tính cách nông nổi, bông bột.
- B. Bị lệch lạc nhân cách.
- C. Bạo lực gia đình.
- D. Bạo lực học đường. .

**Câu 3. Ý kiến nào sau đây *đúng* khi nói về quản lý tiền?**

- A. Quản lý tiền hiệu quả giúp mỗi người chủ động trong chi tiêu.
- B. Học sinh không cần quản lý tiền, vì nhiều cha mẹ học sinh không muốn.
- C. Quản lý tiền là việc không cần thiết, tốn thời gian của học sinh.
- D. Quản lý tiền là việc của người trưởng thành, không phải của học sinh.

**Câu 4. Hành vi nào sau đây thể hiện biết quản lý tiền?**

- A. Được tiền học bổng K mang đi khao bạn ăn hết và còn mượn thêm bạn 200.000 đồng.
- B. Q hứa mua truyện tranh cho em nhưng khi có tiền Q lại mang đi chơi điện tử hết.
- C. Mẹ cho M 100.000 đồng tiêu vặt M chỉ mua thứ cần thiết còn lại M tiết kiệm.
- D. Trên đường về H nhặt được 100.000 đồng H đã nhanh chóng mua đồ ăn vặt cho mình.

**Câu 5. Nguyên nhân chủ quan dẫn đến bạo lực học đường là gì?**

- A. Thiêu sự quan tâm, giáo dục từ gia đình.
- B. Tác động tiêu cực từ môi trường xã hội.
- C. Tác động từ các game có tính bạo lực.
- D. Đặc điểm tâm sinh lí lứa tuổi học sinh.

**Câu 6. Bức tranh dưới đây phản ánh về nguyên nhân nào dẫn đến bạo lực học đường?**



A. Thiếu sự quan tâm, giáo dục từ gia đình.

B. Tác động tiêu cực từ môi trường sống.

C. Tác động từ các game có tính bạo lực.

D. Bản thân thiếu sự trải nghiệm, kĩ năng sống.

**Câu 7. T là nữ sinh lớp 7A, bạn nổi tiếng ngoan ngoãn, xinh xắn và học giỏi. Khi tham gia hoạt động ngoại khóa, T bị K (một bạn nam lớp 9C) trêu ghẹo và có những hành vi đụng chạm vào cơ thể. Sự việc khiến T vô cùng xấu hổ và sợ hãi. Theo em, trong trường hợp trên, bạn học sinh nào có hành vi bạo lực học đường?**

A. Cả hai bạn T và K.

B. Bạn T.

C. Bạn K.

D. Không có bạn nào.

**Câu 8. Cách kiếm tiền nào sau đây không phù hợp đối với học sinh?**

A. Kiếm tiền bằng cách tái chế.

B. Làm phụ giúp bố mẹ (dọn dẹp nhà cửa...)

C. Làm đồ thủ công để bán

D. Nhờ bố mẹ cho vay nặng lãi.

**Câu 9. Để phòng tránh bạo lực học đường, chúng ta nên lựa chọn cách ứng xử nào dưới đây?**

A. Tò thái độ tiêu cực với bạn bè.

B. Kết bạn với những người bạn tốt.

C. Giữ im lặng khi bị bạo lực học đường.

D. Ở lại nơi có nguy cơ xảy ra bạo lực.

**Câu 10. Mẹ cho em 150.000 đồng để tổ chức sinh nhật cùng ba người bạn thân. Em nên lựa chọn phương án nào dưới đây chứng tỏ biết sử dụng số tiền đó hiệu quả để có buổi sinh nhật thật vui vẻ và tiết kiệm?**

A. Không lấy tiền nữa vì mẹ cho ít quá.

B. Rủ các bạn mua đồ về làm bánh, nước ép trái cây.

C. Không tổ chức, lấy tiền đó chơi điện tử.

D. Nói các bạn góp tiền thêm để tổ chức

**Câu 11. Để quản lí tiền có hiệu quả chúng ta cần làm gì?**

A. Bật tất cả đèn trong nhà khi ở nhà một mình.

B. Đòi mẹ mua những thứ mình thích

C. Đặt mục tiêu và thực hiện tiết kiệm tiền.

D. Không tắt các thiết bị điện khi ra khỏi lớp.

**Câu 12. Q và V đang đứng nói chuyện thì N trông thấy và buông lời trêu chọc. Nghĩ N cố tình làm mình xấu mặt, Q đã đánh N để lấy lại thể diện. V ra sức can ngăn Q nhưng Q không nghe theo, ngược lại còn mắng nhiếc V. Theo em, trong trường hợp trên, bạn học sinh nào có hành vi bạo lực học đường?**

A. Bạn Q và N.

B. Không có bạn nào.

C. Bạn V và Q.

D. Bạn V và N.

**Câu 13. Việc làm của bạn nào dưới đây thể hiện nguyên tắc quản lí tiền hiệu quả?**

A. Trong giờ thể dục, không có ai nhưng lớp vẫn bật điều hòa.

B. Bạn K thường vay tiền bạn để mua đồ ăn vặt mỗi khi đi học về.

C. Bố mẹ cho K tiền ăn sáng, nhưng K không ăn để tiết kiệm tiền.

D. Nhận được tiền thưởng học sinh xuất sắc của nhà trường, bạn M tiêu sài hết.

**Câu 14. Hành vi nào dưới đây không phải là bạo lực học đường?**

A. Nhại giọng, bắt chước một cách thiếu tôn trọng.

B. Mượn đồ dùng của bạn quên không trả lại.

C. Chụp trộm hình ảnh của bạn và gửi vào nhóm bàn tán, chế giễu.

D. Gửi tin nhắn, hình ảnh gây tổn thương bạn khác.

**Câu 15. Ý kiến nào không thể hiện việc ngăn chặn tình trạng bạo lực học đường?**

A. Tuyên truyền về tác hại, hậu quả của bạo lực học đường.

B. Đấu tranh chống bạo lực học đường bằng các biện pháp phù hợp.

C. Xây dựng mối quan hệ gắn bó, giúp đỡ lẫn nhau giữa bạn học.

D. Sử dụng bạo lực để đáp trả lại hành vi bạo lực học đường.

**Câu 16. Thời gian rảnh H thường bán hàng online để kiếm thêm thu nhập cho gia đình. Việc làm của H thể hiện điều gì?**

A. H quá rảnh rỗi

B. Biết học tập tự giác, tích cực.

C. Không chịu tập trung học tập.

D. Biết tiết kiệm thời gian và tiền bạc.

**Câu 17.** M muốn mua một quả bóng đá giá 100.000 đồng nhưng bạn chỉ có 40.000 đồng. M hỏi vay bạn Q thêm 60.000 đồng và hứa sẽ trả khi được mẹ cho tiền và sẽ cho Q cùng chơi. Nếu là Q, em nên lựa chọn các ứng xử nào sau đây để thể hiện mình là người biết quản lí tiền?

- A. Không cho M vay, vì sợ bạn không trả
- B. Nói dối M là: mình không có tiền.
- C. Khuyên M nên tiết kiệm tiền, sẽ mua sau.
- D. Cho M vay, để bạn cho mình chơi cùng.

**Câu 18.** Hành vi hành hạ, ngược đãi, đánh đập; xâm hại thân thể, sức khỏe; lăng mạ, xúc phạm danh dự, nhân phẩm; cô lập, xua đuổi và các hành vi cố ý khác gây tổn hại về thể chất, tinh thần của người học xảy ra trong cơ sở giáo dục hoặc lớp độc lập là nội dung khái niệm nào sau đây?

- A. Bao lực xã hội.
- B. Bao lực học đường.
- C. Bao lực gia đình.
- D. Đấu tranh tầng lớp.

**Câu 19.** Học sinh tranh thủ thời gian rảnh tự làm các sản phẩm thủ công để bán lấy tiền phụ giúp thêm bố mẹ và là từ thiện. Việc làm đó thể hiện nội dung nào dưới đây?

- A. Học tập tự giác, tích cực.
- B. Sống có kế hoạch.
- C. Giữ gìn truyền thống quê hương.
- D. Tiết kiệm thời gian và tiền bạc.

**Câu 20.** Em *không* đồng ý với ý kiến nào dưới đây về quản lí tiền?

- A. Học sinh có thể tăng thêm thu nhập bằng cách làm đồ thủ công để bán.
- B. Biết quản lí tiền sẽ có một cuộc sống đầy đủ.
- C. Tiết kiệm tiền chỉ dành cho người thường chi tiêu quá nhiều.
- D. Làm ra tiền đã khó nhưng quản lí chi tiêu, thực hành tiết kiệm còn khó hơn.

## **II. CÂU HỎI TỰ LUẬN (5.0 điểm).**

**Câu 21. (3 điểm):** Thế nào là quản lí tiền? Em hãy nêu bốn cách tạo thu nhập cho bản thân một cách chính đáng, hợp lí?

**Câu 22. Tình huống (2 điểm):** Tình huống: Biết tin M bị T bạn học cùng lớp bắt nạt nhiều lần, bạn thân của M là A vô cùng tức giận. A có ý định sẽ rù thêm bạn chặn đường dạy cho T một bài học.

- a. Em hãy nhận xét về hành vi của A, T trong tình huống trên?
- b. Nếu biết sự việc đó, em sẽ làm gì?

----HẾT---





**I. Trắc nghiệm: (5 điểm)**

*Tô kín vào chữ cái trước câu trả lời đúng nhất vào phiếu trả lời.*

**Câu 1:** Ở Hà Nội, làng nào nổi tiếng với nghề làm Cốm?

- A. Làng Bát Tràng. B. Làng Nhị Khê.  
C. Làng Giáp Nhị D. Làng Vòng.

**Câu 2:** Đậu **không phải** là sản vật Hà Nội?

- A. Đậu phụ Mơ B. Bưởi Diễn C. Bánh pía D. Cốm làng Vòng

**Câu 3:** Nguyên liệu chính để làm món bánh tôm hồ Tây là gì?

- A. Gà Đông Tảo B. Tôm hồ Tây C. Bò tơ D. Cá hồi

**Câu 4:** Văn hoá ẩm thực của người Hà Nội thể hiện điều gì?

- A. Sự sang trọng, thanh lịch, tinh tế.  
B. Sự sang trọng, đắt đỏ, tốn kém.  
C. Sự đơn giản, bình dân, kém sang.  
D. Sự tinh tế, cầu kì, tốn kém.

**Câu 5:** Xã Ba Trại, huyện Ba Vì nổi tiếng với sản phẩm nông nghiệp gì?

- A. Chè. B. Mật ong. C. Thuốc Nam. D. Miếng dong.

**Câu 6:** “Dù ai đi ngược về xuôi, nhớ ngày giỗ Tổ mùng mười tháng ba” câu nói đề cập đến truyền thống nào của dân tộc ta?

- A. Truyền thống tôn sư trọng đạo B. Truyền thống uống nước nhớ nguồn.  
C. Truyền thống yêu nước. D. Truyền thống văn hóa.

**Câu 7:** Các hành vi vi phạm các chuẩn mực về truyền thống đạo đức là?

- A. Giúp đỡ bạn khi gặp khó khăn. B. Con cháu kính trọng ông bà.  
C. Thăm hỏi thầy cô lúc ốm đau. D. Con cái đánh mắng cha mẹ.

**Câu 8:** Hoạt động nào dưới đây **không** thể hiện phong trào hiếu học?

- A. Dâng hương tại đài tưởng niệm nghĩa trang liệt sĩ.  
B. Tham gia hoạt động thi đua hoa điểm tốt.  
C. Giúp đỡ các học sinh có hoàn cảnh khó khăn.  
D. Xây dựng và thực hiện phong trào đôi bạn cùng tiến.

**Câu 9:** Vào ngày 27/7 – Ngày Thương binh – Liệt sỹ các cơ quan chính quyền, tổ chức tình nguyện thường đến thăm hỏi gia đình thương binh liệt sỹ, bà mẹ việt nam anh hùng. Điều đó thể hiện truyền thống tốt đẹp gì?

- A. Truyền thống đoàn kết của dân tộc.  
B. Truyền thống đền ơn đáp nghĩa.  
C. Truyền thống tôn sư trọng đạo.  
D. Truyền thống nhân ái.

**Câu 10:** Câu tục ngữ: Một chữ cũng là thầy, nửa chữ cũng là thầy nói về truyền thống nào?

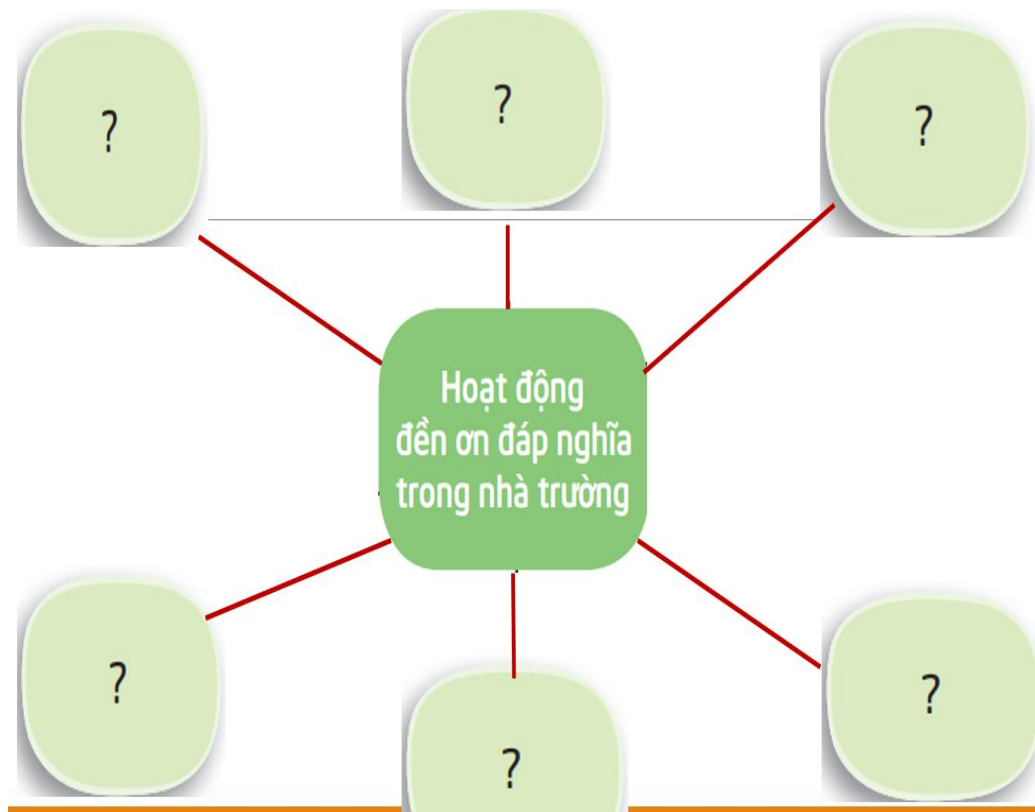
- A. Truyền thống tôn sư trọng đạo. B. Truyền thống đoàn kết.  
C. Truyền thống yêu nước. D. Truyền thống văn hóa.

**II. Tự luận: (5 điểm) Học sinh viết câu trả lời vào giấy kiểm tra.**

**Câu 11 (2 điểm):** Nêu một số nét đặc trưng của sản vật Hà Nội?

**Câu 12 (2 điểm):** Nêu ý nghĩa của phong trào “Đền ơn đáp nghĩa” ?

**Câu 13 (1 điểm):** Điền tên một số hoạt động thể hiện phong trào “Đền ơn đáp nghĩa” mà em đã từng tham gia theo sơ đồ dưới đây?



-----Hết-----

**I. Trắc nghiệm: (5 điểm)**

**Đọc câu hỏi và ghi vào giấy chữ cái đầu đáp án em cho là đúng.**

**Câu 1:** Ở Hà Nội, làng nào nổi tiếng với nghề làm Cốm?

- A. Làng Bát Tràng  
B. Làng Nhị Khê  
C. Làng Giáp Nhị  
D. Làng Vòng

**Câu 2:** Đâu **không phải** là sản vật Hà Nội?

- A. Gà mía  
B. Chả cá Lã Vọng  
C. Cốm làng Vòng  
D. Bánh đậu xanh

**Câu 3:** Nguyên liệu chính để làm món chả cá Lã Vọng là gì?

- A. Cá lăng  
B. Tôm hồ Tây  
C. Bò tơ  
D. Gà mía

**Câu 4:** Văn hoá ẩm thực của người Hà Nội thể hiện điều gì?

- A. Sự sang trọng, thanh lịch và tinh tế.  
B. Sự sang trọng, đắt đỏ, tốn kém.  
C. Sự đơn giản, bình dân, kém sang.  
D. Sự tinh tế, cầu kì, tốn kém.

**Câu 5:** Xã Ba Trại, huyện Ba Vì nổi tiếng với sản phẩm nông nghiệp gì?

- A. Mật ong.  
B. Chè.  
C. Thuốc Nam.  
D. Miếng dong.

**Câu 6:** “Dù ai đi ngược về xuôi, nhớ ngày giỗ Tổ mùng mười tháng ba” câu nói đề cập đến truyền thống nào của dân tộc ta?

- A. Truyền thống tôn sư trọng đạo  
B. Truyền thống uống nước nhớ nguồn.  
C. Truyền thống yêu nước.  
D. Truyền thống văn hóa.

**Câu 7:** Các hành vi vi phạm các chuẩn mực về truyền thống đạo đức là?

- A. Con cái đánh mắng cha mẹ.  
B. Con cháu kính trọng ông bà.  
C. Thăm hỏi thầy cô lúc ốm đau.  
D. Giúp đỡ bạn khi gặp khó khăn.

**Câu 8:** Hoạt động nào dưới đây **không** thể hiện phong trào đền ơn đáp nghĩa?

- A. Dâng hương tại đài tưởng niệm nghĩa trang liệt sĩ.  
B. Giúp đỡ những gia đình thương binh liệt sĩ.  
C. Tư vấn sức khỏe, tặng quà, cấp thuốc miễn phí cho đối tượng chính sách, bà mẹ Việt Nam anh hùng.  
D. Tham gia quyên góp tiền, ủng hộ đồng bào miền Trung.

**Câu 9:** Vào ngày 27/7 – Ngày Thương binh – Liệt sỹ các cơ quan chính quyền, tổ chức tình nguyện thường đến thăm hỏi gia đình thương binh liệt sỹ, bà mẹ việt nam anh hùng. Điều đó thể hiện truyền thống tốt đẹp gì?

- A. Truyền thống đoàn kết của dân tộc.  
B. Truyền thống tôn sư trọng đạo.  
C. Truyền thống đền ơn đáp nghĩa.  
D. Truyền thống nhân ái.

**Câu 10:** Câu tục ngữ: Một chữ cũng là thầy, nửa chữ cũng là thầy nói về truyền thống nào?

- A. Truyền thống tôn sư trọng đạo.  
B. Truyền thống đoàn kết.  
C. Truyền thống yêu nước.  
D. Truyền thống văn hóa.

**II. Tự luận: (5 điểm) Học sinh viết câu trả lời vào giấy kiểm tra.**

**Câu 11 (2 điểm):** Nêu một số nét đặc trưng của sản vật Hà Nội?

**Câu 12 (2 điểm):** Thế nào là truyền thống “Hiếu học” ?

**Câu 13 (1 điểm):** Điền tên một số hoạt động thể hiện phong trào “Đền ơn đáp nghĩa” mà em đã từng tham gia theo sơ đồ dưới đây?



-----Hết-----