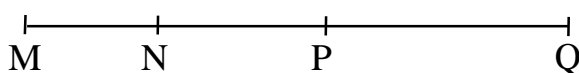


Điểm	Lời phê của cô giáo

PHẦN 1: TRẮC NGHIỆM : (4 Điểm) Khoanh vào chữ cái đặt trước câu trả lời đúng:

- Số 85 đọc là:
A. Tám lăm B. Tám mươi năm C. Tám mươi lăm D. Tám năm
- Số tròn chục liền sau số 70 là số
A. 60 B. 80 C. 69 D. 71
- Kết quả của phép cộng $26 + 7$ là:
A. 96 B. 23 C. 43 D. 33
- Tổng của 3dm và 5cm là
A. 35cm B. 35dm C. 8dm D. 8cm
- Hình vẽ dưới đây có mấy đoạn thẳng:



- Có 3 đoạn thẳng
- Có 4 đoạn thẳng
- Có 5 đoạn thẳng
- Có 6 đoạn thẳng

PHẦN II: TỰ LUẬN(5 Điểm)


Bài 6: Đặt tính rồi tính :

$34 + 18$

$41 - 19$

$62 - 16$

$53 + 29$



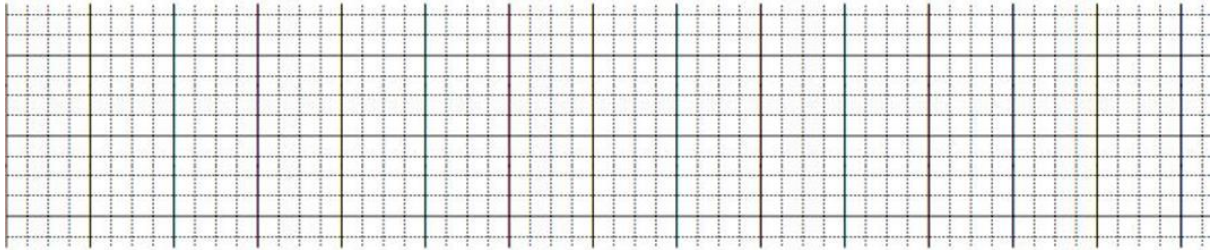
Bài 7 Tính

$$40 - 10 + 13 = \dots\dots\dots$$
$$= \dots\dots\dots$$

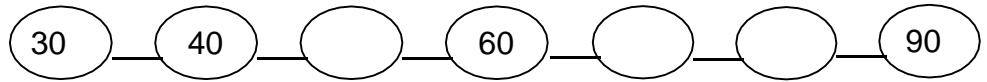
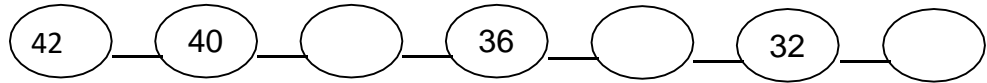
$$52 \text{ cm} + 19 \text{ cm} - 11 \text{ cm} = \dots\dots\dots$$
$$= \dots\dots\dots$$

Bài 8 Bao gạo thứ nhất cân nặng 41kg, bao gạo thứ hai nhẹ hơn bao gạo thứ nhất 15kg. Hỏi bao gạo thứ hai cân nặng bao nhiêu ki- lô-gam ?

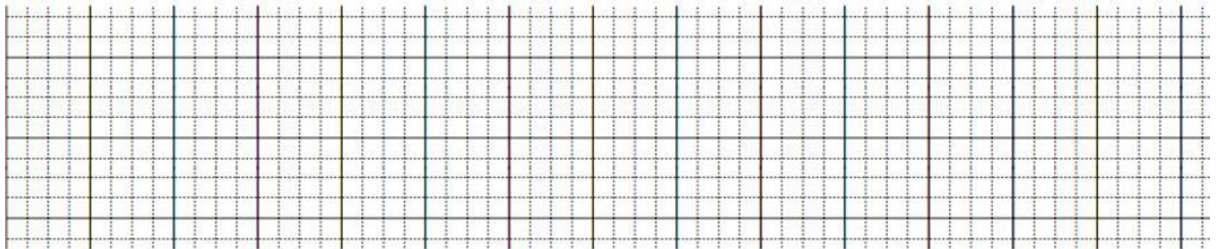
Bài giải



Bài 9 Điền số đúng với quy luật ?



Bài 10 Em hãy viết 2 phép tính có hiệu bằng số trừ?



ĐÁP ÁN TOÁN 2 – KTĐK CUỐI HỌC KÌ 1 / NH : 2021- 2022

PHẦN A : Khoanh tròn chữ cái trước câu trả lời đúng (5 đ) : 1đ/ câu đúng

1. C 2 .B 3 .D 4.A 5. D

PHẦN B : Tự luận (5 đ)

Bài 6 : (1 đ)

Kết quả lần lượt của các phép tính là: 52, 22, 46, 82

Bài 7: (1 đ). Mỗi câu 0,5 đ

$$40 - 10 + 13 = 50 + 13 = 63$$
$$52 \text{ cm} + 19 \text{ cm} - 11 \text{ cm} = 71 \text{ cm} - 11 \text{ cm} = 60 \text{ cm}$$

Bài 8: (1,5 đ)

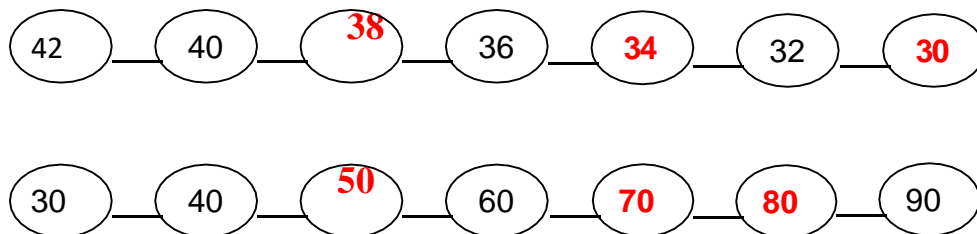
Bài giải :

Bao gạo thứ hai cân nặng bao nhiêu ki- lô-gam là.

$$41 - 15 = 26 \text{ (kg)}$$

Đáp số : 26 kg

Bài 9: (1 đ)



Bài 10: (0,5 đ)

Ví dụ: $10 - 5 = 5$; $20 - 10 = 10$