

| Điểm | Nhận xét của giáo viên | GV coi và chấm |
|-------|------------------------|----------------|
| | | |

PHẦN I: TRẮC NGHIỆM (4 điểm)

Bài 1: (2,5 điểm) Khoanh vào chữ cái đặt trước đáp án đúng:

a, Số “Năm trăm hai mươi tám nghìn sáu trăm bốn mươi một” được viết là:

- A. 528 641 B. 5 028 641 C. 528 640 D. 52 861

b, Giá trị của chữ số 8 trong số 18 076 239 là:

- A. 80 0000 B. 8 000 000 C. 8 076 239 D. 18 000 000

c, Từ các chữ số 9; 5; 7; 2; 1; 8; ta lập được số chẵn lớn nhất có 6 chữ số khác nhau là:

- A. 975 128 B. 975 218 C. 987 512 D. 987 521

d, Dân số Hà Nội năm 2023 là: 8 499 038 người. Làm tròn con số đó đến hàng trăm nghìn ta được:

- A. 8 499 000 B. 8 490 000 C. 8 400 000 D. 8 500 000

e, Điền số vào chỗ chấm cho đúng:

6 tạ 8 yến = kg

5 dm² 5 cm² = cm²

Bài 2: (1,5 điểm)

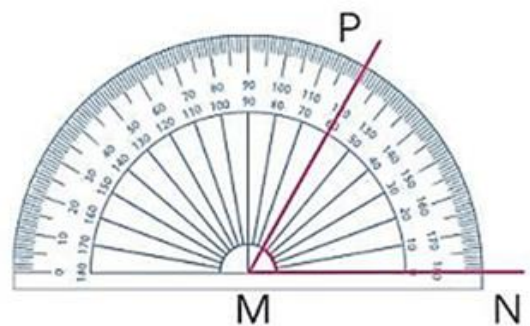
a, Góc đỉnh M cạnh MN, MP có số đo là:

- A. 180° B. 120°
 C. 60° D. 50°

b, Điền vào chỗ chấm cho đúng:

- Để đo góc người ta thường dùng

- Góc là góc có số đo bằng 180°



c, Hình bên có:

- góc vuông; góc nhọn
- góc tù; góc bẹt



PHẦN II: TỰ LUẬN (6 điểm)

Bài 1: (2 điểm) Đặt tính rồi tính:

- a. $65\ 489 + 234\ 786$ b. $967\ 832 - 79\ 826$ c. $1\ 362 \times 8$ d. $96\ 824 : 4$

.....

.....

.....

.....

.....

Bài 2: (1 điểm) Cho biểu thức: $m + 115 \times n$, với $m = 75$ và $n = 9$. Tính giá trị của biểu thức.

.....

.....

.....

Bài 3: (2 điểm) Trong một gia đình voi, voi bố nặng 3 tấn, voi mẹ nhẹ hơn voi bố 6 tạ, voi con nhẹ hơn voi mẹ 8 tạ. Hỏi cả gia đình voi nặng bao nhiêu ki-lô-gam?

.....




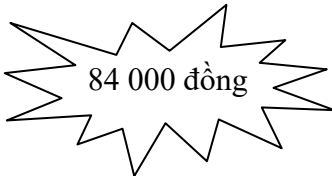


.....

.....

.....

.....

Bài 4: (1 điểm) Tìm giá tiền của 1 chiếc ê ke, 1 chiếc thước đo độ.

| | |
|---|---|
|  |  |
|  |  |
|  |  |

GVCN
(Kí, ghi rõ họ tên)

