

TRƯỜNG TIỂU HỌC LONG BIÊN

Họ và tên:

Lớp: 1A

Thứ Sáu ngày 29 tháng 12 năm 2023

BÀI KIỂM TRA ĐỊNH KÌ CUỐI HỌC KÌ I**MÔN TOÁN - LỚP 1**

Năm học 2023-2024

(Thời gian làm bài: 35 phút)

Điểm	Nhận xét của giáo viên	GV chấm kí
	

I. TRẮC NGHIỆM (4 điểm) Khoanh vào chữ cái đặt trước câu trả lời đúng:**Câu 1 (0,5 điểm): Số 5 đọc là:**

A. năm

B. lăm

C. nă

Câu 2 (1 điểm): Các số 8, 9, 2, 0, 5 được viết theo thứ tự từ lớn đến bé là:

A. 0, 2, 5, 7, 8

B. 9, 8, 5, 2, 0

C. 0, 2, 5, 8, 9

Câu 3 (0,5 điểm): $10 - 6 + 3 = \square$ Số cần điền vào ô trống là:

A. 1

B. 4

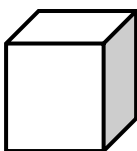
C. 7

Câu 4 (1 điểm): Dấu thích hợp điền vào ô trống $9 - 4 \square 5 - 0$ là:


A. <

B. >

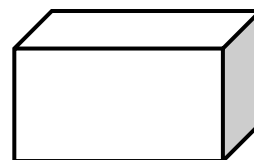
C. =

Câu 5 (0,5 điểm): Phép tính có kết quả lớn nhất là:A. $6 + 3 - 1$ B. $3 + 3 + 3$ C. $4 + 3 + 1$ **Câu 6 (0,5 điểm): Đâu là khối lập phương?**

A






B



C

II. TỰ LUẬN (6 điểm)

Bài 1 (1 điểm): Điền số



Bài 2 (2 điểm): Tính

$7 - 1 + 4 = \dots\dots\dots$


$6 - 3 + 5 = \dots\dots\dots$

$10 - 2 - 3 = \dots\dots\dots$

$9 + 0 - 6 = \dots\dots\dots$


Bài 3 (1 điểm): Viết phép tính thích hợp:

a)



--	--	--	--	--

b)



--	--	--	--	--

Bài 4 (2 điểm):

a, Điền số thích hợp vào chỗ chấm:


Hình bên có:

..... hình tam giác

..... hình vuông

..... hình chữ nhật

..... hình tròn



b, Điền số thích hợp vào mỗi hình dưới đây sao cho hình giống nhau điền số giống nhau:

$$\bigcirc \quad + \quad \triangle \quad + \quad \bigcirc \quad = \quad 10$$

PHỤ HUYNH HỌC SINH

(Ký, ghi rõ họ tên)

