

**TRƯỜNG TIỂU HỌC LONG BIÊN**

*Thứ Ba ngày 25 tháng 4 năm 2023*

Họ và tên:.....

**BÀI KIỂM TRA ĐỊNH KÌ CUỐI HỌC KÌ II**

Lớp: 3A .....

**MÔN CÔNG NGHỆ - LỚP 3**


**Năm học 2022-2023**

*(Thời gian làm bài 35 phút)*

Điểm	Nhận xét của giáo viên	GVchấm kí
	..... ..... .....	

**A. Trắc nghiệm: (8 điểm)** Khoanh vào chữ cái trước câu trả đúng cho mỗi câu hỏi hoặc thực hiện các yêu cầu dưới đây:

**Câu 1. (1 điểm)** *Nối các biển báo dưới đây với ý nghĩa tương ứng:*



Đường dành cho xe thô sơ

Giao nhau với đường sắt có rào chắn

Giao nhau với đường ưu tiên

Cấm người đi bộ

**Câu 2. (1 điểm)** *Đánh dấu X vào ô trống chỉ những yêu cầu khi làm xong mô hình biển báo giao thông:*

	Có kích thước phù hợp
	Đúng màu sắc của từng loại biển báo
	Được đặt ở ngoài cổng trường
	Cân đối, chắc chắn

**Câu 3. (1 điểm)** *Chọn từ thích hợp để điền vào chỗ chấm*


*(vuông, chữ nhật, tròn, xanh, trắng, đỏ)*

Biển báo chỉ dẫn có dạng hình ..... hoặc hình ....., hình vẽ màu ..... trên nền .....

**Câu 4. (1 điểm) Đánh dấu X vào ô trống chỉ những việc nên làm khi tham gia giao thông:**

<input type="checkbox"/>	Đội mũ bảo hiểm khi ngồi trên xe máy
<input type="checkbox"/>	Lái xe bằng 1 tay
<input type="checkbox"/>	Tuân thủ đèn tín hiệu giao thông
<input type="checkbox"/>	Không uống rượu, bia


**Câu 5. (1 điểm) Đánh dấu X vào ô trống chỉ các loại đồ chơi phù hợp với lứa tuổi học sinh tiểu học.**



A.



B.



C.



**Câu 6. (0,5 điểm) Khi lựa chọn vật liệu làm đồ dùng thủ công, chúng ta cần chọn loại vật liệu nào?**

- A. có tính chất phù hợp
- B. an toàn, không độc hại
- C. cả 2 đáp án trên

**Câu 7. (0,5 điểm) Khi cắt hình tròn, chúng ta cần:**

- A. dùng dao để cắt.
- B. cắt theo đường tròn đã vẽ.
- C. cắt thật xa đường tròn đã vẽ.



