

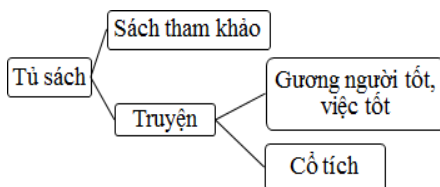
Điểm	Nhận xét của giáo viên

A. LÝ THUYẾT: (8 điểm)

Câu 1. (1 điểm) Đánh dấu X vào các ô để chỉ ra đặc điểm của mỗi loại máy dưới đây:

Đặc điểm	Máy tính để bàn	Máy tính xách tay	Máy tính bảng	Điện thoại di động
1. Có 4 thành phần cơ bản: Bàn phím, chuột, thân máy và màn hình.				
2. Có màn hình cảm ứng gắn liền với thân máy				
3. Có bàn phím và vùng cảm ứng chuột gắn liền với thân máy				
4. Nhỏ, gọn có thể dễ dàng mang theo khi di chuyển				

Câu 2: (0,5 điểm) Sơ đồ hình cây trong hình bên biểu diễn cách sắp xếp sách trong tủ sách của lớp em.



Bạn Bình mới tặng lớp cuốn sách “*Hướng dẫn học vẽ trên máy tính với phần mềm Paint*”. Theo em cuốn sách này sẽ được sắp xếp vào ngăn sách nào là hợp lí? Khoanh vào chữ đặt trước phương án em lựa chọn:

- A. Sách tham khảo
- B. Truyện
- C. Gương người tốt, việc tốt
- D. Cổ tích

Câu 3. (0,5 điểm) Ngón trỏ trái và ngón trỏ phải đặt trên các phím

- A. Phím “G, H”
- B. Phím “F, J”
- C. Phím “F, G”
- D. Phím “J, H”

Câu 4. (1điểm) Đúng ghi **Đ**, sai ghi **S** vào các ô trống trước mỗi dòng:

	Em có thể xem thông tin dự báo thời tiết trên Internet
	Em có thể nghe ca nhạc thiếu nhi trên Internet
	Internet là kho thông tin khổng lồ, mọi thông tin trên Internet đều phù hợp với trẻ em.
	Trong máy tính của em có đủ tất cả những thông tin trên Internet

Câu 5: (0,5 điểm) Phim hoạt hình có phụ đề cho thiếu nhi phát trên kênh HTV3 cho em biết thông tin dạng gì?

- A. Văn bản và hình ảnh B. Văn bản, âm thanh và hình ảnh
 B. Âm thanh và hình ảnh D. Âm thanh


Câu 6: (0,5 điểm) Một người dùng thủ ngữ (ngôn ngữ sử dụng những ngón tay) để diễn đạt nội dung một bài phát biểu cho người khiếm thính, người ấy đã sử dụng thông tin nào để truyền đạt thông tin? *Hãy khoanh vào đáp án đúng:*

- A. Văn bản B. Hình ảnh
 C. Âm thanh D. Nhiều dạng âm thanh.

Câu 7: (1 điểm) Hãy nối mỗi mục ở **cột A** với **cột B** cho thích hợp:

A	B
Di chuyển chuột	Dùng ngón tay trở nhấn nút trái chuột một lần
Nháy chuột	Thay đổi vị trí của chuột đến vị trí khác
Nháy nút phải chuột	Nhấn giữ nút trái chuột, di chuyển con trỏ chuột đến vị trí mới thì thả ngón tay
Nháy đúp chuột	Dùng ngón tay trở nhấn nút trái chuột nhanh hai lần liên tiếp
Kéo thả chuột	Dùng ngón tay giữa nhấn nút phải chuột một lần

Câu 8: (1,5 điểm) Hãy điền nội dung thích hợp vào chỗ chấm để được tư thế ngồi đúng khi sử dụng máy tính:



Câu 9: (1 điểm) Hãy điền các cụm từ: “*Nháy đúp chuột*”, “*Kéo thả chuột*” vào chỗ chấm cho thích hợp.

a. Di chuyển một biểu tượng từ vị trí này sang vị trí khác trên màn hình em sử dụng thao tác:.....

b. Để mở một phần mềm em sử dụng thao tác:.....

Câu 10: (0,5 điểm) Hai phím có gai (F, J) trên hàng phím cơ sở dùng ngón tay nào đặt vào phím đó?

- A. Ngón tay giữa B. Ngón áp út C. Ngón tay út D. Ngón tay trỏ

B. THỰC HÀNH: (2 điểm)

Em hãy khởi động phần mềm *Word* luyện gõ đoạn thơ sau:

Mười quả trứng tròn

Mẹ gà ấp ủ

Hôm nay ra đủ

Mười chú gà con.

HƯỚNG DẪN CHẤM

Câu 1. Đánh dấu X vào các ô để chỉ ra đặc điểm của mỗi loại máy tính dưới đây: (1 điểm)

Đặc điểm	Máy tính để bàn	Máy tính xách tay	Máy tính bảng	Điện thoại di động
1. Có 4 thành phần cơ bản: Bàn phím, chuột, thân máy và màn hình.	X	X	X	X
2. Có màn hình cảm ứng gắn liền với thân máy		X	X	X
3. Có bàn phím và vùng cảm ứng chuột gắn liền với thân máy.		X	X	X
4. Nhỏ, gọn có thể dễ dàng mang theo khi di chuyển			X	X

Câu 2: - A

Câu 3. - B

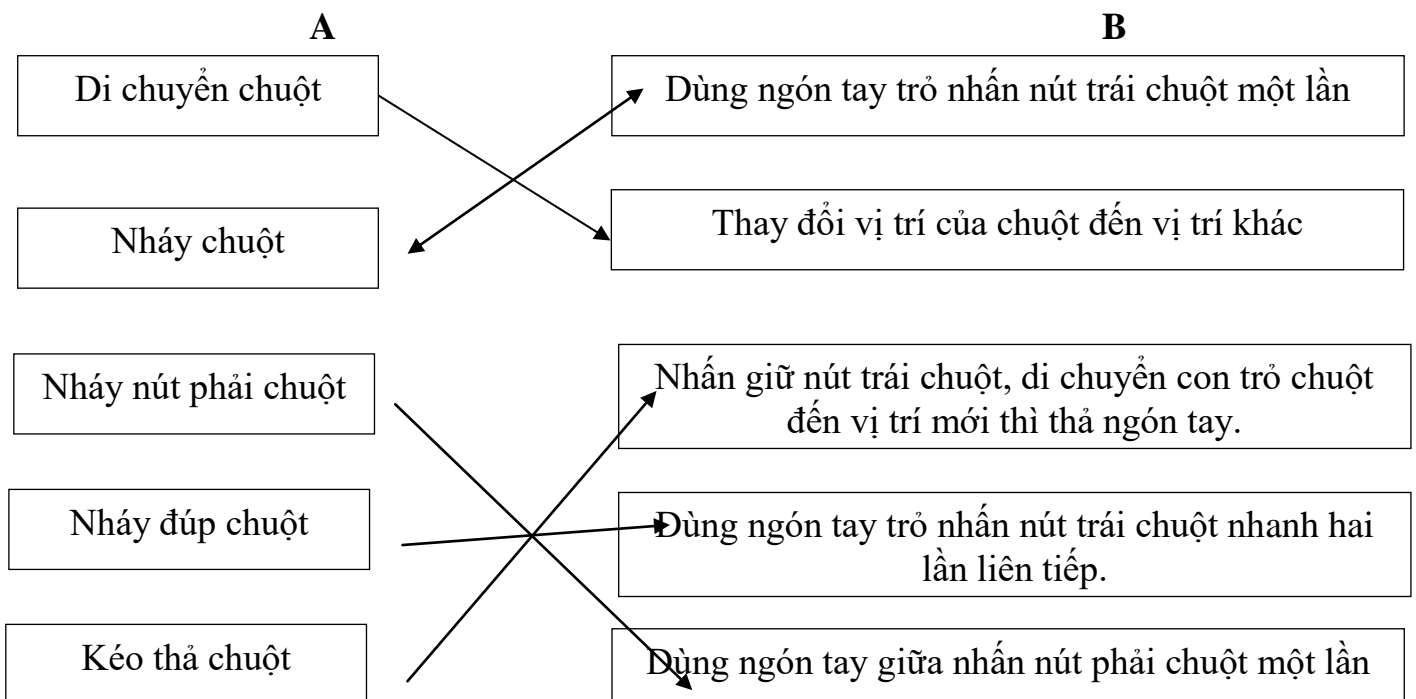
Câu 4. Đúng ghi **Đ**, sai ghi **S**: (1 điểm)

Đ	Em có thể xem thông tin dự báo thời tiết trên Internet
Đ	Em có thể nghe ca nhạc thiếu nhi trên Internet
S	Internet là kho thông tin khổng lồ, mọi thông tin trên Internet đều phù hợp với trẻ em.
S	Trong máy tính của em có đủ tất cả những thông tin trên Internet

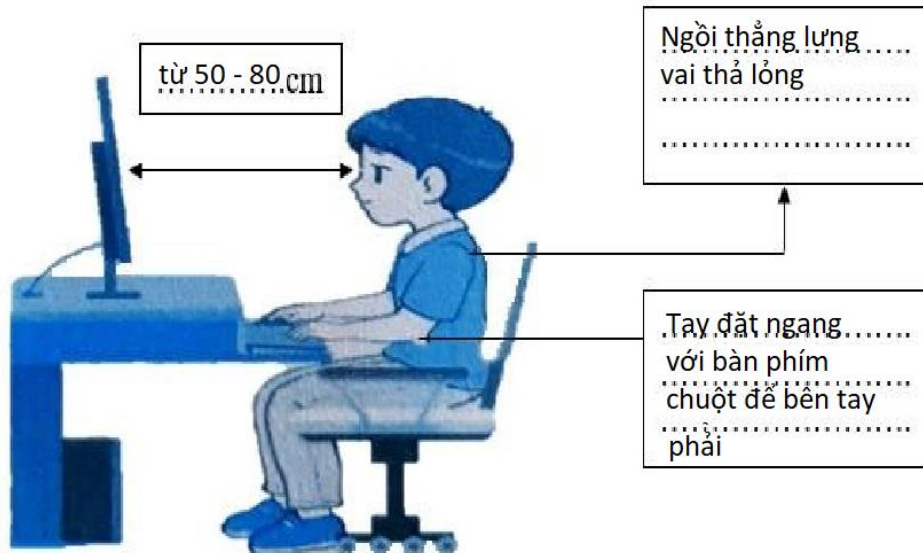
Câu 5 : B

Câu 6 : B

Câu 7:



Câu 8 :



Câu 9: 0,5 điểm

a – kéo thả chuột

b – nháy đúp chuột

Câu 10: (0,5 điểm) -D