

# Khởi động



# THU HOẠCH DÂU TÂY

PLAY



Tiếp tục bài học



A vibrant, cartoon-style illustration of a strawberry garden. In the center, a large, red strawberry-shaped sign with a white scalloped border contains the math problem  $2288 + 99 = 237$ . The sign is set against a background of green foliage, pink flowers, and a path of pink stepping stones. A small, smiling strawberry character with arms and legs is in the upper left, and a large red arrow points towards the bottom left corner.
$$2288 + 99 = 237$$



$$200 + 500 = ?$$





2003188281





$$5500 - 2500 = 3000$$







Thứ ... ngày ... tháng ... năm 2022

# Toán

Ôn tập phép cộng, phép trừ  
trong phạm vi 1 000



# Luyện

# tập



# 1. Số

Số bị trừ	1 000	563	210	100	216
Số trừ	200	137	60	26	132
Hiệu	800	<b>426</b>	<b>150</b>	<b>74</b>	<b>84</b>

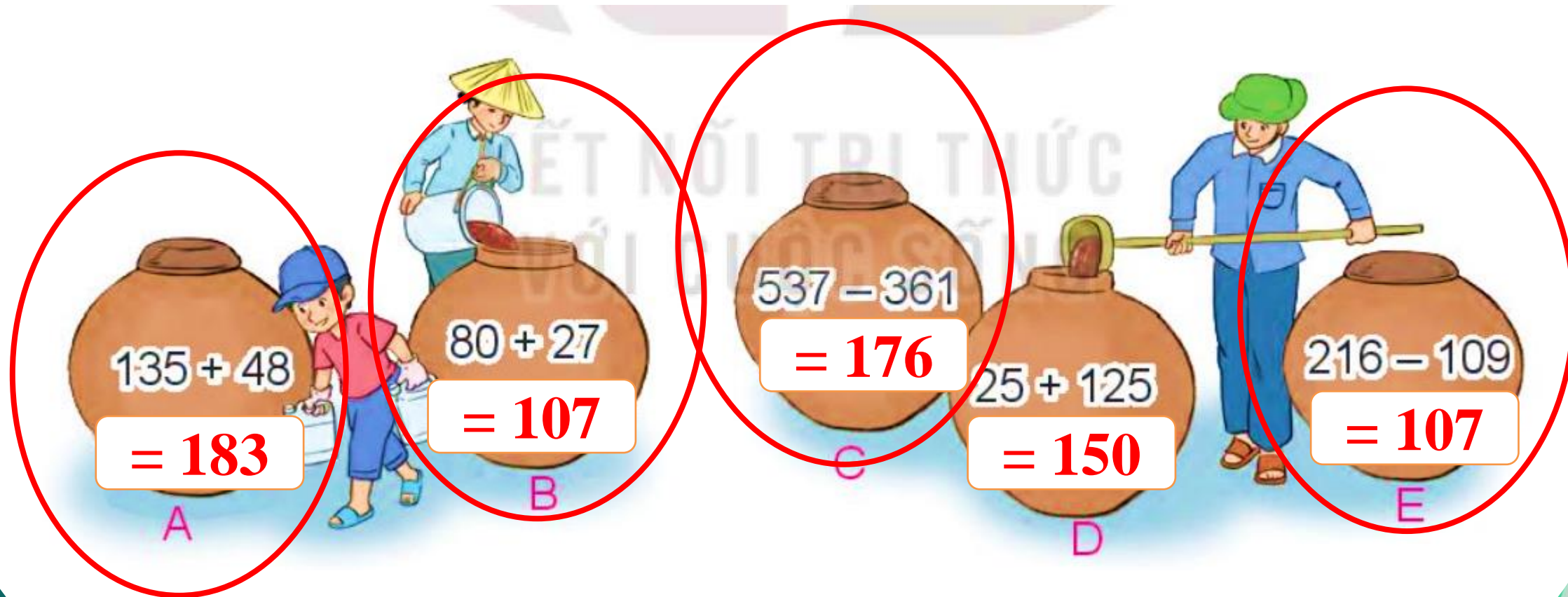
## 2. Số



3

a. Những chum nào ghi phép tính có kết quả lớn hơn 150?

b. Những chum nào ghi phép tính có kết quả bằng nhau?



4

Ở một trường học, khối lớp Ba có 142 học sinh, khối lớp Bốn có ít hơn khối lớp Ba 18 học sinh. Hỏi:

- a) Khối lớp Bốn có bao nhiêu học sinh?
- b) Cả hai khối lớp có bao nhiêu học sinh?



### Tóm tắt (Cách 1)

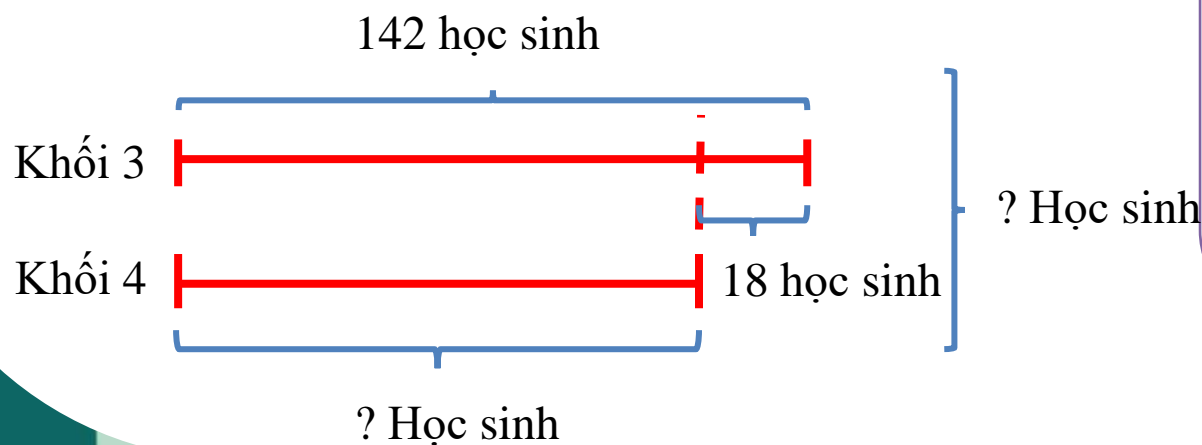
Khối 3: 142 học sinh

Khối 4 **ít hơn** Khối 3: 18 học sinh

Khối 4: ... học sinh

Cả hai khối: .... học sinh

### Tóm tắt (Cách 2)



a

### Bài giải

Khối lớp bốn có số học sinh là?

$$142 - 18 = 124 \text{ (học sinh)}$$

Đáp số: 124 học sinh

b

### Bài giải

Cả hai khối có số học sinh là?

$$142 + 124 = 266 \text{ (học sinh)}$$

Đáp số: 266 học sinh

Trò chơi: Tìm nhà cho  
thỏ con






Chào các cậu tớ là Thỏ  
A! Chào Lợn Con, tớ bị  
lạc đường rồi cậu có thể

Chính xác chúc  
Được thôi nhưng tớ được không?  
mừng cậu đã trả lời Cảm ơn cậu nhé!  
cậu phải trả lời cậu về nhà nhé!  
đúng. Giờ thì cậu  
hỏi của tớ trước (An  
hãy đi ra sông ở đó  
vào chú lợn đề xuất  
sẽ có người giúp  
hiện cậu hỏi)  
cậu





Chính xác chúc  
mừng cậu đã trả lời  
đúng. Giờ thì cậu có  
chạy đi thẳng là vừa  
được nhà rồi!

Chào Rùa Con! Cậu có  
thể giúp tớ tìm đường về  
nhà không cậu nhé!  
Cảm ơn cậu nhé!



Cảm ơn các cậu đã  
giúp tớ tìm được nhà



EXIT

Hãy tìm ra chiếc bình đựng số đậu lớn nhất giúp tớ nhé!



$$34 + 567$$



601



$$456 - 12$$



444



$$1000 - 455$$



545



$$322 + 345$$



667



Đáp án là bình số  
4

BACK

**Lời giải:**

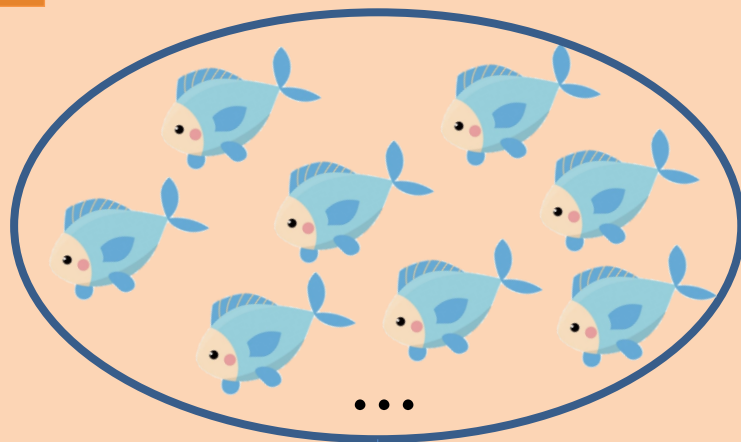
Tổng số cá của hai bác ngư dân A và B đánh được là:

$$398 + 57 = 455 \text{ (con cá)}$$

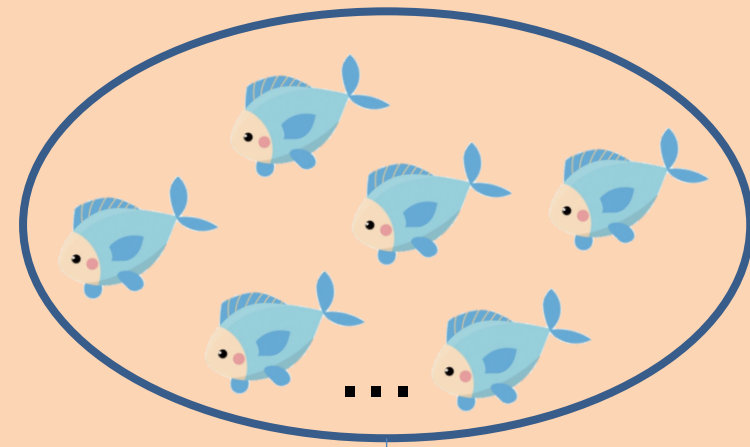
**Đáp số: 455 con cá**

Một bác ngư dân A đánh được 398 con cá. Bác ngư dân B đánh được 57 con cá. Hỏi tổng số cá 2 bác ngư dân A và B đánh được là bao nhiêu con?

Tóm tắt:



Bác A: 398 con cá



Bác B: 57 con cá

Tổng số cá?

Đáp án là 455 con cá



BACK

# Dặn dò



TẠM BIỆT  
VÀ  
HẸN GẶP LẠI

