

**CHỦ ĐỀ 4: PHÉP NHÂN, PHÉP CHIA TRONG
PHẠM VI 100**

**Bài 24: GẤP MỘT SỐ LÊN
MỘT SỐ LẦN (Tiết 1)**



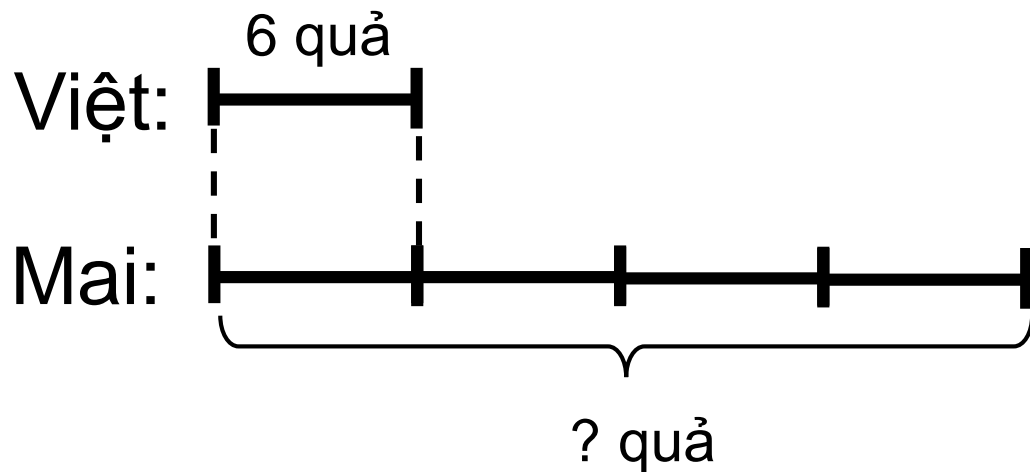


KHÁM PHÁ

Khám phá

Việt có 6 quả táo. Số táo của Mai gấp 4 lần số táo của Việt. Hỏi Mai có mấy quả táo?

Tóm tắt



Bài giải

Mai có số quả táo là:

$$6 \times 4 = 24 \text{ (quả)}$$

Đáp số: 24 quả táo

Muốn gấp một số lên một số lần ta lấy số đó nhân với số lần.




A vibrant, cartoon-style illustration of a young boy with brown hair, wearing a green t-shirt with a white star and red shorts, standing on a beach with his arms raised in joy. The background is a bright blue sky with a large white sun. Various sea creatures and objects are scattered around: a blue whale, a hot air balloon, a white cloud, a blue fish, a blue crab, a yellow and white striped seahorse, a sailboat, and a lifebuoy. The foreground shows blue and white wavy lines representing the ocean.

Hoạt động


1. Số

Số đã cho	4	7	11	8	9
Thêm vào số đã cho 8 đơn vị	12	15	19	16	17
Gấp 8 lần số đã cho	32	56	88	64	72

Bảng con



2. Số



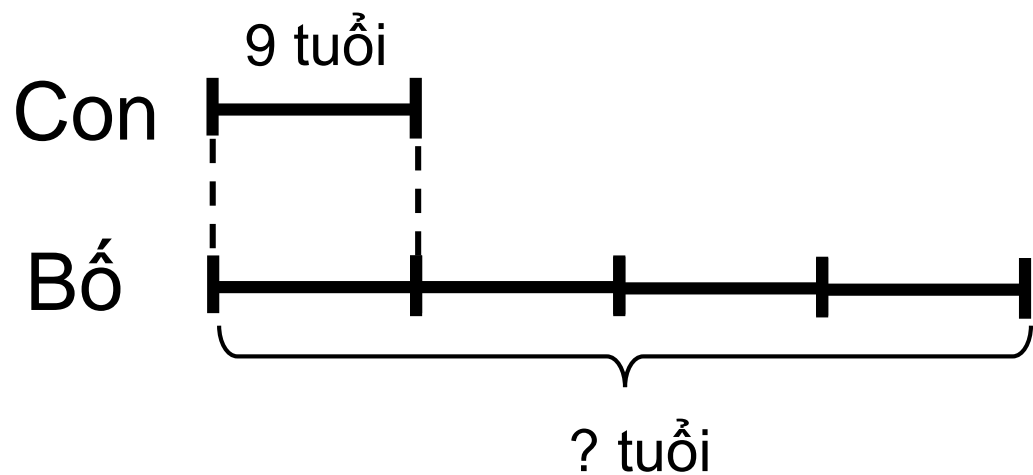
Nhóm
đôi



3

Năm nay con 9 tuổi, tuổi bố gấp 4 lần tuổi con. Hỏi năm nay bố bao nhiêu tuổi?

Tóm tắt



Bài giải

Tuổi bố hiện nay là:

$$9 \times 4 = 36 \text{ (tuổi)}$$

Đáp số: 36 tuổi





CHÀO TẠM BIỆT
VÀ HẸN GẶP LẠI