



# TOÁN

**Bài 19: Hình tam giác, hình tứ  
giác. Hình chữ nhật, hình vuông**

# Tiết 1



# KHỞI ĐỘNG



\* HÁI HOA  
DÂN CHỦ \*

$$0 \times 1 = ?$$

Đáp án: 0



**Khám phá**





# HÌNH TAM GIÁC, HÌNH TỨ GIÁC

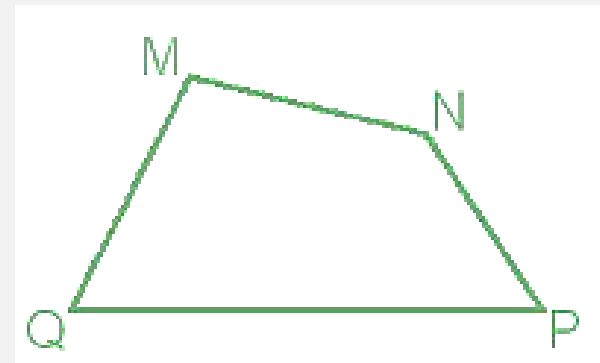
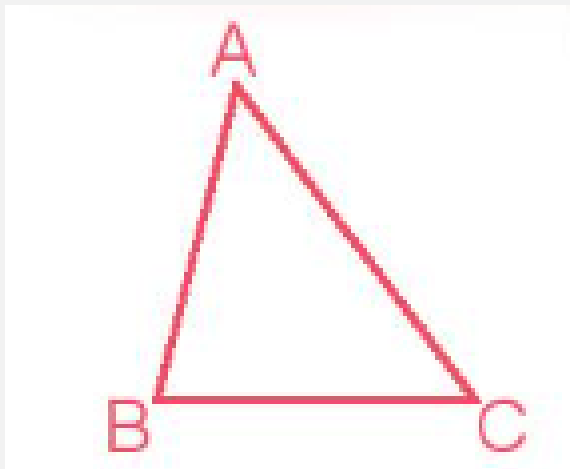


Khi nói điểm A và điểm B ta được đoạn thẳng nào?

Khi nói điểm A và điểm C ta được đoạn thẳng nào?

Khi nói điểm B và điểm C ta được đoạn thẳng nào?

**Vậy hình thu được là hình gì?**



**Hình tam giác ABC có:**

3 đỉnh là: A, B, C

3 cạnh là: AB, BC, CA


3 góc là góc đỉnh A, góc đỉnh B, góc đỉnh C

**Hình tứ giác MNPQ có:**


4 đỉnh là M, N, P, Q

4 cạnh là: MN, NP, PQ, QM

4 góc là góc đỉnh M, góc đỉnh N, góc đỉnh P, góc đỉnh Q.




- Hình tam giác có 3 đỉnh, 3 cạnh và 3 góc
- Hình tứ giác có 4 đỉnh, 4 cạnh và 4 góc



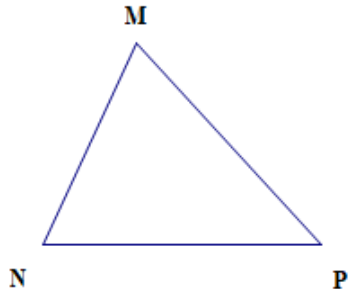
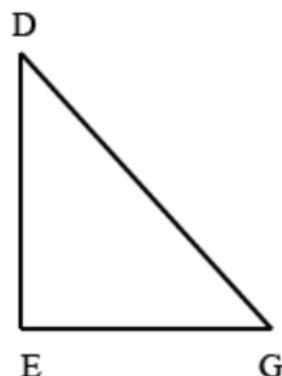
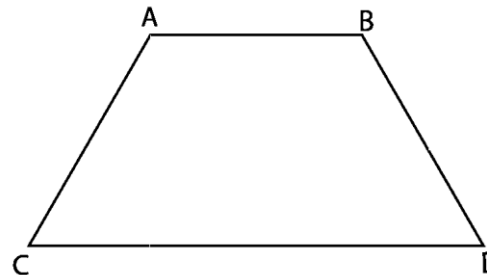



# Hoạt động



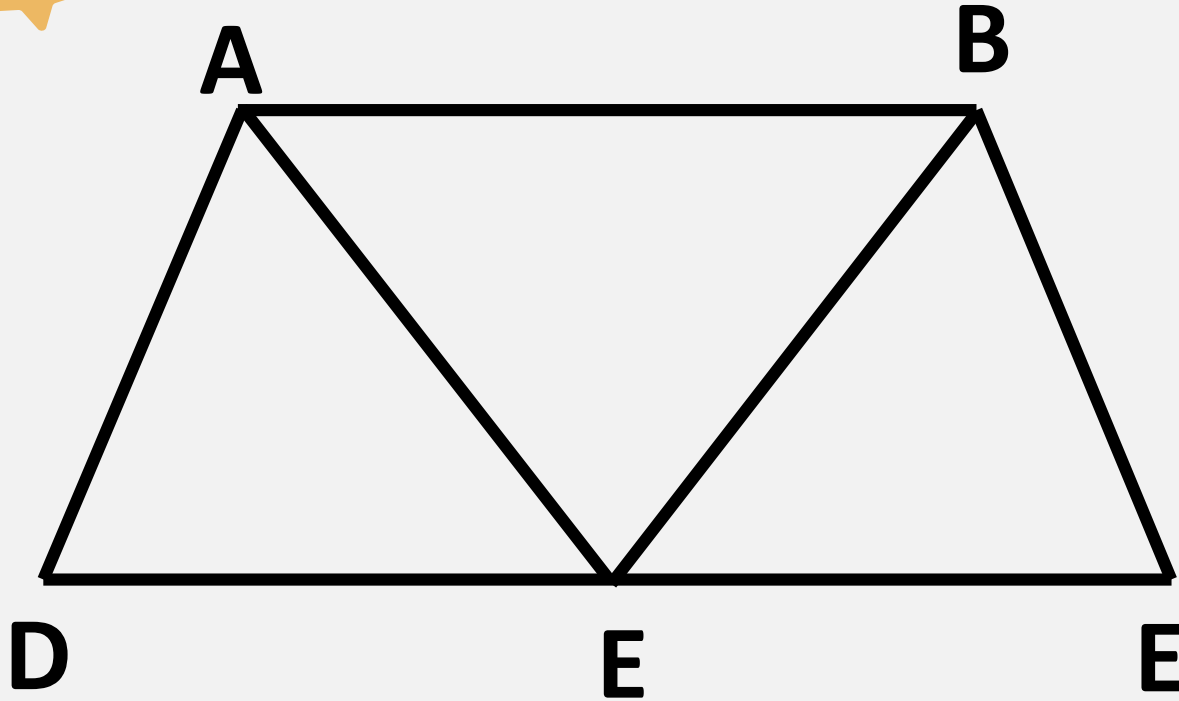


# 1 Nói tên các đỉnh và các cạnh của mỗi hình (theo mẫu)

	 <p>Hình tam giác MNP</p>	 <p>Hình tam giác DEG</p>	 <p>Hình tứ giác ABCD</p>
Các đỉnh	M, N, P	D, E, G	A, B, C, D
Các cạnh	MN, NP, PM	DE, EG, GD	AB, BC, CD, D



**2** Nói tên các hình tam giác và các hình tứ giác có trong hình dưới đây:



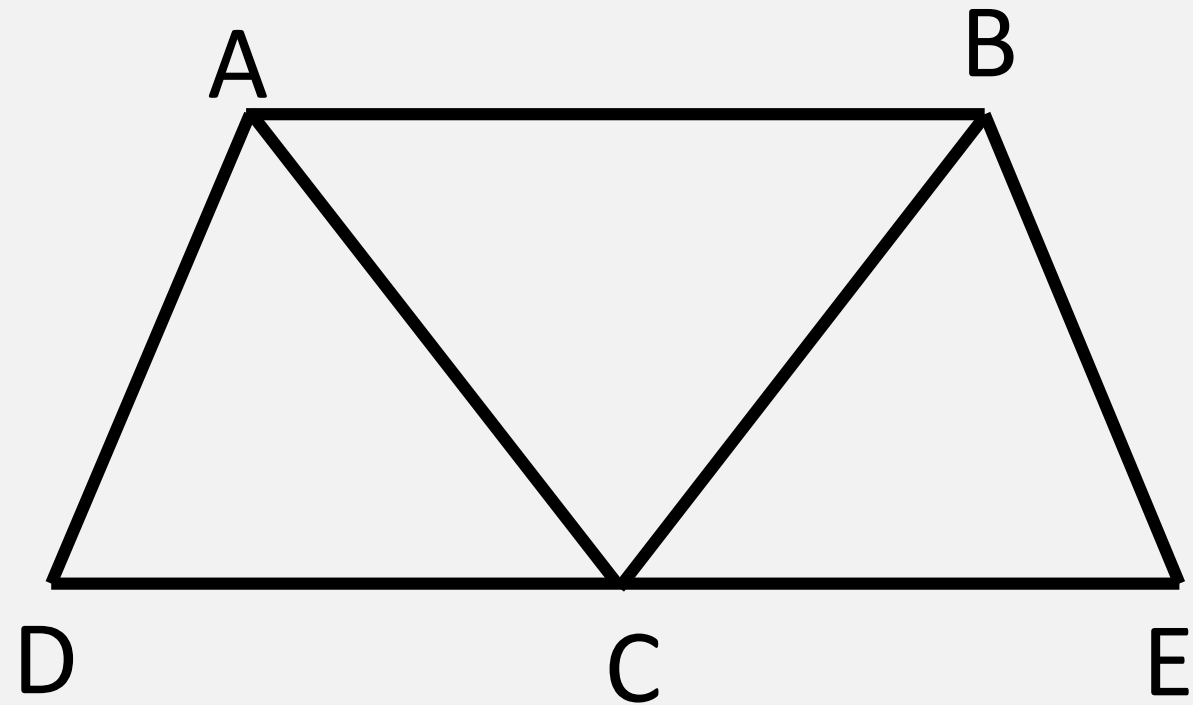
### Trò chơi: Ai nhanh hơn

Luật chơi: Chia lớp thành 3 đội, các đội lên bảng viết tên các hình tam giác và tứ giác có trong hình. Đội nào hoàn thành nhanh và chính xác là đội chiến thắng.

Thảo luận nhóm

4





Các hình tam giác:

1. Hình tam giác ADC
2. Hình tam giác ABC
3. Hình tam giác BCE

Các hình tứ giác:

1. Hình tứ giác ABCD
2. Hình tứ giác ABEC
3. Hình tứ giác ABED

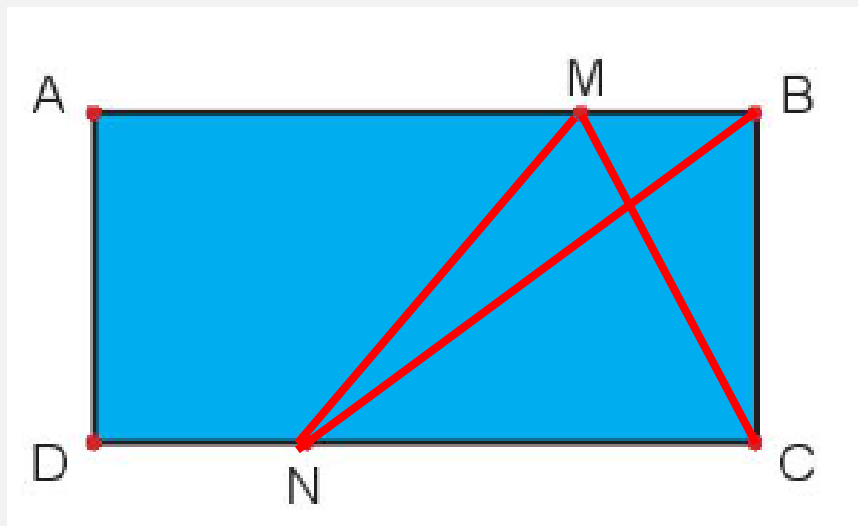
3

Mai đánh dấu một số điểm trên tờ giấy màu (như hình vẽ). Qua hai điểm trong các điểm đã đánh dấu, Mai có thể cắt tờ giấy theo đoạn thẳng nào để được:



a) 2 hình tứ giác?

b) 1 hình tam giác và 1 hình tứ giác?




A

B

C

CỦNG CỐ



# AI TINH MẮT HƠN




A

B

C




# Hãy chọn hình bóng tương ứng với đồ vật





# ĐÁP ÁN ĐÚNG!!



# TẠM BIỆT VÀ HẸN GẶP LẠI

